



# مذكرات المجد



## الدراسات الإجتماعية



الترم الثاني



الصف الخامس الإبتدائي ٢٠٢٤

إعداد

مستر / إبراهيم منصور

٠١٠٧٠٦٥٣٣٨٢


### الوحدة الأولى

### سكان بلدنا وحياتهم الإجتماعية والدينية

#### الدرس الأول

#### نمو السكان وتوزيعهم في بلدنا

#### تعلم



أن مصر من أقدم الدول التي أجرت تعدادات سكانية، ومنها :

١ | تعداد عام ١٨٨٢م

◀ وفيه بلغ عدد سكان مصر  
٦,٧ مليون نسمة

٢ |

◀ تضاعف عدد سكان مصر  
حوالى ١٤ ضعفاً

٣ | تعداد عام ٢٠١٧م

◀ وفيه بلغ عدد سكان مصر  
نحو ٩٤,٨ مليون نسمة

#### لذلك تأتى مصر فى

الـ ١٤ عالمياً

من حيث عدد السكان.

١٤

المرتبة الثالثة إفريقيا

من حيث عدد السكان.

٣

• يقوم الجهاز المركزى للتعبئة العامة والإحصاء بعمل التعدادات السكانية.  
تستنتج من ذلك أن عدد سكان مصر فى نمو مستمر.

#### أسباب النمو السكاني!

- ◀ الزيادة الطبيعية :-
- الفرق بين المواليد والوفيات فى فترة معينة.
- ◀ الهجرة :-
- انتقال الأفراد من مكان إلى آخر.

#### المقصود بالنمو السكاني!

- ◀ هو زيادة عدد السكان خلال فترة زمنية معينة .

ما النمو  
السكاني  
فى مصر

#### أولاً :- الزيادة الطبيعية!

انخفاض عدد الوفيات فى مصر نتيجة

- ◀ التقدم الطبى.
- ◀ الرعاية الصحية .

انخفاض عدد المواليد فى مصر نتيجة

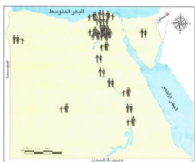
- ◀ زيادة الوعي لدى الشباب بتنظيم الأسرة.
- ◀ الحد من ظاهرة الزواج المبكر.



ثانياً : - الهجرة !

نتائجها	أسبابها	أنواعها
<p><b>تؤدى الهجرة إلى :</b></p> <ul style="list-style-type: none"> <li>- زيادة الكثافة السكانية في المناطق المستقبلية للسكان.</li> <li>- زيادة الضغط على الخدمات العامة.</li> <li>- ظهور العشوائيات .</li> </ul>	<ul style="list-style-type: none"> <li>١- البحث عن فرص عمل أفضل.</li> <li>٢- تحسين مستوى المعيشة.</li> <li>٣- من أجل التعليم.</li> </ul>	<ul style="list-style-type: none"> <li>● هجرة داخلية بين المحافظات</li> <li>● هجرة خارجية بين مصر ودول العالم</li> </ul>

● القاهرة والإسكندرية من المحافظات الجاذبة للسكان في مصر حيث يهاجر إليها السكان من معظم المحافظات.



س ما الكثافة السكانية في مصر ؟

◀ هي النسبة بين عدد السكان ومساحة الأرض التي يعيشون عليها.

خريطة توزيع سكان مصر

● من الخريطة التالية تلاحظ الآتى :

● أن اختلاف الألوان في خريطة توزيع سكان مصر يشير إلى اختلاف الكثافة السكانية بين محافظات مصر حيث توجد :

محافظات يقل فيها تركيز السكان

◀ محافظات الحدود الصحراوية

**يسببها**

- ندرة المياه العذبة.
- عدم استواء السطح.
- نقص الخدمات.

محافظات تزداد فيها الكثافة السكانية

◀ الوادي والدلتا

**يسببها**

- توفر المياه العذبة.
- استواء السطح.
- سهولة المواصلات .
- خصوبة التربة.
- توفر الخدمات .

◀ تعد مدينتا القاهرة والجيزة أكثر مدن مصر ازدحاماً بالسكان.

◀ يعيش معظم سكان مصر على ضفاف نهر النيل، وتزداد الكثافة السكانية بزيادة عدد السكان؛ ففي عام ٢٠٠٥م بلغت الكثافة السكانية في مصر ٧٠ نسمة لكل كيلو متر، بينما ارتفعت في عام ٢٠٢٢م إلى ١٠٣ نسمة لكل كيلو متر مربع .

● جهود الدولة لحل مشكلة الكثافة السكانية المرتفعة في الوادي والدلتا :-

● بناء مدن جديدة

● توفير الخدمات ( الصحية والتعليمية والأمنية ...) في المحافظات الصحراوية.



خريطة توزيع السكان في مصر

منصور

## تدريبات الدرس الأول

## (١) أكمل العبارات الآتية بما يناسبها من كلمات

- ١- تعد مصر من أوائل الدول التي أجرت ..... سكانيا.
- ٢ - يوجد نوعان من الهجرة هما ..... و .....
- ٣ - من المحافظات الجاذبة للسكان في مصر محافظتنا ..... و .....
- ٤- تتمثل الزيادة الطبيعية للسكان في الفرق بين عدد ..... و .....
- ٥ - انتقال الأفراد من مكان لآخر بسبب زيادة ..... السكانية.
- ٦ - تزداد الكثافة السكانية في مصر في ..... و .....
- ٧ - أكثر المدن المصرية ازدهاما بالسكان مدينة .....
- ٨ - تواجه الدولة مشكلة الكثافة المرتفعة بالوادي والدلتا عن طريق إنشاء ..... و .....

## (٢) اكتب كلمة (صواب) أمام العبارة الصحيحة وكلمة (خطأ) أمام العبارة غير الصحيحة :

- ١ - تعد مصر من أحدث الدول في إجراء التعدادات السكانية.
- ٢ - تأتي مصر في المرتبة الـ ١٥ عالمياً من حيث عدد السكان.
- ٣ - تم عمل تعداد سكاني في مصر عام ٢٠١٧م.
- ٤ - تعد محافظة الإسكندرية من المحافظات الطاردة للسكان.
- ٥ - تزداد الكثافة السكانية في مصر في محافظات الحدود الصحراوية.
- ٦ - تعمل الدولة المصرية على جذب السكان للسكن في المدن الجديدة.

## (٣) صوب ما تحته خط

- ١ - نستطيع الحصول على الإحصاءات السكانية في مصر من البنك المركزي.
- ٢ - تأتي مصر في المرتبة الثانية إفريقياً من حيث عدد السكان.
- ٣ - من المحافظات التي يقل فيها السكان في مصر محافظات الوجه القبلي.
- ٤- أكثر مدن مصر ازدهاماً بالسكان هي مدينة الوادي الجديد.
- ٥ - انتقال السكان من محافظة المنيا إلى محافظة القاهرة تعد هجرة خارجية.

## (٤) ما المقصود ب...؟

- ١ - الكثافة السكانية.....
- ٢ - الهجرة .....

(٥) اكتب ما تشير إليه العبارات الآتية :

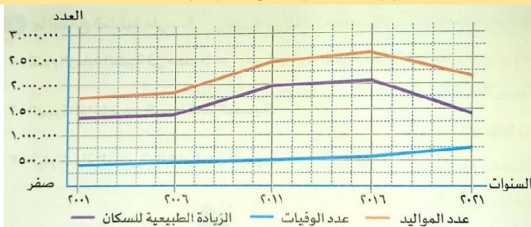
- ١ - الفرق بين المواليد والوفيات في فترة معينة . ( )
- ٢ - انتقال السكان بين المحافظات. ( )
- ٣ - انتقال السكان بين مصر ودول العالم. ( )
- ٤ - النسبة بين عدد السكان ومساحة الأرض التي يعيشون عليها. ( )

(٦) أمامك خريطة صماء لمصر ، اكتب مدلول الأرقام عليها :



- ١ - أعلى مدن مصر كثافة سكانية .....
- ٢ - محافظة يندر فيها السكان .....
- ٣ - من المحافظات الجاذبة للسكان .....
- ٤ - البحر .....

(٧) حلل الرسم البياني التالي، ثم أجب :



١- في أي عام تم تسجيل أكبر عدد للمواليد؟ وفي أي عام تم تسجيل أقل عدد للمواليد؟

.....

٢ - في أي عام تم تسجيل أكبر عدد للوفيات؟ وفي أي عام تم تسجيل أقل عدد للوفيات؟

.....

٣ - أي عام شهد أعلى زيادة طبيعية لعدد السكان؟ وأي عام شهد أدنى زيادة طبيعية لعدد السكان؟

.....

(٨) بم تفسر ...؟

١- ارتفاع النمو السكاني في مصر.

٢ - انخفاض عدد المواليد في مصر في السنوات الأخيرة.

٣ - انخفاض عدد الوفيات في مصر في السنوات الأخيرة.

٤- هجرة السكان في مصر من مكان لآخر.

٥- ظهور العشوائيات في مصر.

٦ - ارتفاع الكثافة السكانية في محافظات الوادي والدلتا.

٧ - انخفاض الكثافة السكانية في المحافظات الصحراوية.

٨ - تسعى الدولة المصرية لإعادة توزيع السكان بين المحافظات.

(٩) ما النتائج المترتبة على ...؟

١ - تقدم الرعاية الطبية في مصر.

٢ - الهجرة الداخلية بين المحافظات المصرية.

٣ - قيام الدولة المصرية بإنشاء المدن الجديدة.

## الدرس الثاني الهرم السكاني لمصر

### أولا : التعداد السكاني

#### ١ أهمية التعداد السكاني !

- التخطيط الجيد للتنمية وتقدم المجتمع.
- توفير معلومات دقيقة حول عدد السكان وتوزيعهم والتركيب النوعي والعمرى ، والأنشطة الاقتصادية.

#### ! التركيب السكاني

#### التركيب الاقتصادي

#### التركيب العمري

#### التركيب النوعي

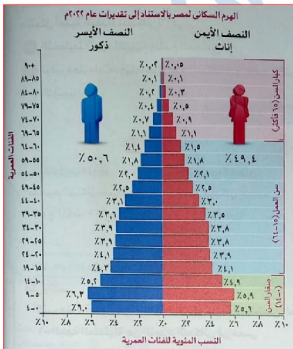
- يقصد به تصنيف السكان النشاط الاقتصادي حسب الذي يمارسونه.

- تقسيم السكان حسب الفئة العمرية .

- تقسيم السكان حسب النوع (إناث - ذكور).

### ثانيا : الهرم السكاني لمصر

عند دراسة الهرم السكاني في مصر استنادا لتقديرات عام ٢٠٢٢م نستنتج أنه يتكون من :



**القمة**

- فئة كبار السن (٦٥) سنة فأكثر.
- تمثل ٥,٤% من السكان
- وهذه الفئة غير منتجة وتحتاج إلى رعاية صحية واجتماعية.

**الوسط**

- فئة سن العمل (١٥ : ٦٤ سنة)
- تمثل حوالي ٦٠,٧%
- هي فئة منتجة وتعمل صغار السن وكبار السن.

**القاعدة**

- فئة صغار السن (٠ : ١٤ سنة) تمثل ثلث السكان .
- هذه الفئة غير منتجة وتحتاج إلى رعاية.

### النصف الأيسر

◀ يختص بالذكور وتبلغ نسبتهم حوالي ٥٠,٦% .

### النصف الأيمن

◀ يختص بالإناث وتبلغ نسبتهن حوالي ٤٩,٤% .

• مثل الفئة العمرية (٤٠٠ سنوات) : يمثل الذكور نحو ٦% ، بينما تبلغ الإناث نحو ٥,٦% ، وعليها نستنتج أن الفئة العمرية تمثل ١١,٦% من إجمالي سكان مصر.

### ◀ نستنتج من دراسة الهرم السكاني لمصر:

- أن القاعدة العريضة له تمثل الفئة العمرية من ٠ - ١٤ سنة وهي أصغر فئة عمرية وتقع أسفل الهرم، وهذا يدل على ارتفاع معدل المواليد نتيجة الرعاية الصحية.
- أن أكبر فئة عمرية تقع في أعلى الهرم.
- من المتوقع أن تزداد نسبة كبار السن في مصر في المستقبل، نتيجة زيادة مستوى الرعاية الصحية والاجتماعية.

### س ما أهمية دراسة الهرم السكاني لمصر؟

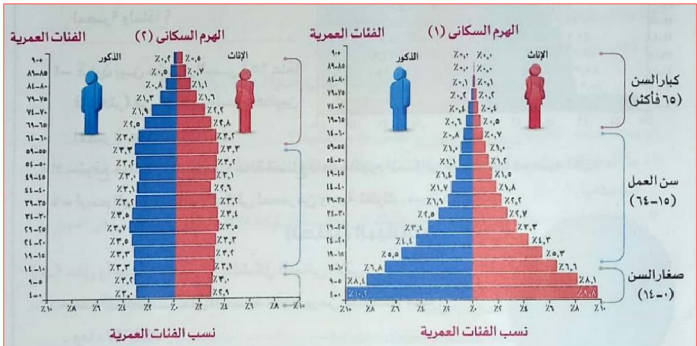
◀ تفيدنا دراسة الهرم السكاني في:

تقدير الاحتياجات المختلفة لكل فئة عمرية في الحاضر والمستقبل من تعليم وصحة ومرافق وفرص عمل.

### س ما أشكال الهرم السكاني؟

◀ يختلف شكل الهرم السكاني من دولة إلى أخرى تبعاً للنمو السكاني بها.

شكل الهرم	الهرم ذو القاعدة العريضة	الهرم ذو القاعدة الضيقة
السبب	زيادة معدل المواليد	انخفاض معدل المواليد



• الهيم السكاني لمصريتمم بالقاعدة العريضة.

**س** ما دور الحكومة المصرية في دعم فئات الهيم

**قامت الحكومة المصرية بإصدار :**

- قوانين بحظر تشغيل الأطفال في جميع الأعمال قبل تجاوزهم سن إتمام التعليم الأساسي أو قبل بلوغهم سن خمس عشرة سنة ميلادية.
- قرار بمد سن التقاعد عن العمل (سن المعاش) إلى ٦٥ عاما .

**٣** التركيب الاقتصادي !

**• أهم الأنشطة الاقتصادية التي يمارسها السكان :**

- الزراعة ٢٥% (ربع القوة العاملة).
- التجارة ٢٣% .
- الصناعة ١٣% .
- مجالات الخدمات التعليم والصحة والسياحة والأمن والاتصالات .... وغيرها ) .





(١) أكمل العبارات الآتية بما يناسبها من كلمات

- ١ - يقصد بالتركيب النوعي للسكان تقسيم فئات المجتمع إلى ..... و .....
- ٢ - فئة كبار السن في الهرم السكاني لمصر توجد في الجزء ..... منه .
- ٣ - عند توفير الرعاية الصحية لصغار السن ، تكون قاعدة الهرم .....
- ٤- تضيق قاعدة الهرم السكاني نتيجة انخفاض معدل .....
- ٥ - ينقسم الهرم السكاني إلى قسمين هما ..... و .....
- ٦ - الهرم السكاني يساعدنا في تقدير احتياجات السكان من ..... و .....

(٢) اكتب كلمة (صواب) أمام العبارة الصحيحة وكلمة (خطأ) أمام العبارة غير الصحيحة :

- ١ - يقسم الهرم السكاني إلى نصفين (ذكور وإناث). ( )
- ٢ - الفئة المنتجة في الهرم المصري توجد في قمة الهرم. ( )
- ٣ - الفئة التي تعول كبار السن وصغار السن هي فئة سن العمل. ( )
- ٤ - أصدرت الدولة قوانين بحظر عمالة الأطفال قبل سن الخامسة عشرة. ( )
- ٥ - يمثل العاملون بحرفة الصناعة ربع قوة العمل في مصر. ( )
- ٦ - تساعدنا بيانات الهرم السكاني في تحديد احتياجات السكان. ( )
- ٧- يؤدي ارتفاع مستوى الرعاية الصحية في مصر إلى زيادة عدد الوفيات. ( )
- ٨ - تتساوى قاعدة الهرم السكاني مع قمته في مصر. ( )

(٣) اختر الإجابة الصحيحة مما بين الأقواس :

- ١ - الفئة العمرية الأكثر عدداً في الهرم السكاني لمصر تحتل .....  
( قاعدة - قمة - منتصف - أعلى )
- ٢ - تمثل فئة صغار السن في مصر نحو ..... من السكان  
( النصف - الثلث - الربع - الخمس )
- ٣ - اتساع قاعدة الهرم السكاني في مصر يدل على ارتفاع معدل .....  
( الوفيات - المواليد - البطالة - الأمية )
- ٤ - الفئة العمرية التي تحتل قمة الهرم السكاني لمصر هي فئة .....  
( كبار السن - صغار السن - الأطفال - الشباب )
- ٥ - أهم الأنشطة الاقتصادية التي يمارسها السكان في مصر هي .....  
( الزراعة - الصناعة - التجارة - السياحة )

- ٦ - الفئة العمرية التي تمثل ثلث سكان مصر هي فئة .....
- ( صغار السن - كبار السن - سن العمل - الشباب )
- ٧ - الهرم السكاني يأخذ الشكل الهرمى بسبب أن عدد المواليد ..... عن عدد الوفيات.
- ( يزيد - يقل - يتساوى - يتعادل )
- ٨ - الفئة التي تصنف على أنها غير منتجة في الهرم السكاني هي .....
- ( صغار السن - سن العمل - متوسطو السن - الشباب )
- ٩- يرجع اختلاف شكل الهرم السكاني من دولة إلى أخرى إلى .....
- ( النمو السكاني - التركيب النسبى - التركيب الوصفى - الأنشطة الاقتصادية )

### (٤) ما المقصود ب...؟

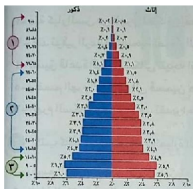
- ١ - الهرم السكاني.
- ٢ - التركيب العمرى.
- ٣ - التركيب النوعى.
- ٤ - التركيب الإقتصادى.

### (٥) الشكل الذي أمامك يمثل الهرم السكاني لمصر ، ادرسه ثم أجب :

- ١ - الفئة العمرية التي ينتمى إليها طالب الصف الخامس الإبتدائي تمثل رقم .....
- ٢ - تمثل الفئة المنتجة رقم .....
- ٣- توجد فئة صغار السن في ..... الهرم.

( يمين - يسار - قمة - قاعدة )

٤- يمثل الرقمان ( ١ و ٣ ) الفئات غير المنتجة في المجتمع. ( صواب - خطأ )



### (٦) فسر مع ذكر السبب:

- ١ - أهمية دراسة الهرم السكاني لمصر.
- ٢ - اتساع قاعدة الهرم السكاني لمصر.

٣ - أهمية التعداد السكاني بالنسبة للمجتمع المصري.

(٧) صوب ما تحته خط :

- ١- تساعدنا بيانات الهرم السكاني في تحديد احتياجات السكان في الماضي.
- ٢ - تتميز قاعدة الهرم السكاني في مصر بأنها ضيقة نظرًا لانخفاض نسبة المواليد.
- ٣ - أصدرت الدولة المصرية قوانين تسمح بعمل الأطفال قبل إتمام التعليم الأساسي.

(٨) عبر عن رأيك في الموقفين التاليين :

- ١- الأفراد الذين يدلون ببيانات غير صحيحة لمندوب التعداد. (أوافق - لا أوافق)
- ٢ - شخص ينحتل شخصية مسئول التعداد ويطلب معلومات من أسرته. (أوافق - لا أوافق)

(٩) أجب عما يلي :

- ١ - اذكر جهود الدولة لحماية فئة صغار السن في مصر .
- ٢ - ما العلاقة بين الأفراد في سن ( ١٥ - ٦٤ سنة ) واقتصاد الدولة ؟

(١٠) قارن بين كل من :

١ - الفئة المنتجة والفئة غير المنتجة في مصر من حيث : العمر - النسبة.

وجه المقارنة	العمر	النسبة
الفئة المنتجة	.....	.....
الفئة غير المنتجة	.....	.....

٢ - قارن بين التركيب العمري والتركيب النوعي من حيث التعريف.

وجه المقارنة	التركيب العمري	التركيب النوعي
التعريف	.....	.....

أولاً : مشكلة الزيادة السكانية

مشكلة الزيادة السكانية ◀ تتمثل في زيادة عدد السكان بنسبة أكبر من الموارد والخدمات المتاحة.



١ ارتفاع معدل النمو السكاني

◀ بسبب الزواج المبكر وكثرة الإنجاب خاصة في الريف.

٢ تفضيل الذكور على الإناث

• مما دفع بعض الأسر إلى الاستمرار في الإنجاب حتى تنجب ولدا ذكراً.

٣ تحسين الرعاية الصحية

• أدى إلى:

- ◀ تراجع معدل وفيات الأطفال الرضع.
- ◀ زيادة متوسط عمر الفرد.

أسباب  
مشكلة  
الزيادة  
السكانية  
المرتفع



س ماذا ترتب على مشكلة الزيادة السكانية

ترتب على الزيادة السكانية في مصر الآتي:

- 1 - زيادة استهلاك الموارد المائية والغذائية وغيرها).
- نقص نصيب الفرد منها.
- الضغط على الخدمات ( تعليم وصحة ) وتدنى مستوياتها.
- 2 - زيادة النفايات وتلوث البيئة.
- 3 - الحاجة إلى المزيد من فرص العمل، وهذا يسبب
- عبئاً كبيراً على الدولة.
- تعيق مشروعات التنمية في الدولة.



## ثانيا : الجهود المبذولة لمواجهة مشكلة الزيادة السكانية

## جهود الدولة

- ◀ التوعية بمشكلة الزيادة السكانية .
- ◀ توفير وسائل تنظيم الأسرة ونشر الوعي بأهميتها.
- ◀ أصدرت العديد من القوانين التي تجرم الزواج المبكر وعمالة الأطفال.
- ◀ توسع الدولة في مشروعات التنمية وبناء المدن الجديدة واستصلاح الصحراء لإعادة توزيع السكان وتقليل الكثافة السكانية في الوادي والدلتا

## دور الفرد

- ◀ ترشيد استهلاك كافة الموارد.
- ◀ تنظيم الأسرة



## ما تأثير الزواج المبكر وعمالة الأطفال

س

◀ يؤثر الزواج المبكر وعمالة الأطفال تأثيرا سلبيا على اقتصاد الدولة وصحة الأطفال.

ذلك

- أصدرت الحكومة المصرية قوانين صارمة .

- طبقت عقوبات رادعة على كل من يساعد في الزواج المبكر أو عمالة الأطفال.



## صحة الأم والطفل

• إن صحة الأمهات وأطفالهن هي أمر مهم لصحة المجتمع ككل :

١ ◀ تحسن الرعاية الصحية والاهتمام بصحة الطفل المصرى .

٢ ◀ زيادة الفاصل الزمني بين الولادة والأخرى .

٣ ◀ تنظيم الأسرة .

تحسن صحة  
الأطفال  
وانخفاض  
وفيات  
الأمهات



• النساء اللاتي ينجبن في سن صغيرة وينجبن الكثير من الأطفال يكن عرضة للوفاة في سن مبكرة .

## تدريبات الدرس الثالث

## (١) أكمل العبارات الآتية بما يناسبها من كلمات

- ١- زيادة عدد السكان عن الموارد المتاحة يتسبب في ظهور مشكلة .....
- ٢ - ارتفاع معدل النمو السكاني يحدث بسبب .....
- ٣ - أصدرت الدولة قوانين تحظر عمالة .....
- ٤- الزيادة السكانية تؤدي إلى زيادة استهلاك .....
- ٥ - أصدرت الدولة ..... التي تجرم الزواج المبكر.
- ٦ - الاهتمام بصحة الطفل في مصر أدى إلى تراجع معدلات .....
- ٧ - تقوم الحكومة بتوفير وسائل تنظيم .....
- ٨ - بذلت الدولة جهودًا لحل المشكلة السكانية منها تنظيم .....
- ٩ - الزيادة السكانية تؤثر ..... على الموارد والبيئة.
- ١٠ - أحد أسباب تحسن صحة الطفل الاهتمام ب .....
- ١١ - قامت ..... بالتوعية بمشكلة الزيادة السكانية.

## (٢) اكتب كلمة (صواب) أمام العبارة الصحيحة وكلمة (خطأ) أمام العبارة غير الصحيحة :

- ١ - تساوى عدد السكان مع الموارد المتاحة يسبب المشكلة السكانية. ( )
- ٢ - الزيادة السكانية تؤدي إلى الضغط على الخدمات. ( )
- ٣ - استهلاك الموارد يساهم في حل المشكلة السكانية. ( )
- ٤ - تنظيم الأسرة يساعد على انخفاض النمو السكاني في مصر. ( )
- ٥ - يرتفع النمو السكاني للحضر عن الريف في مصر. ( )
- ٦ - تفضيل الذكور على الإناث من العادات الإيجابية لسكان الريف. ( )
- ٧ - الرعاية الصحية تعد من الأسباب الرئيسية للمشكلة السكانية. ( )
- ٨ - الزيادة السكانية لا تسبب عبئًا على الحكومة المصرية ولا تعيق مشروعات التنمية. ( )
- ٩ - ارتفاع النمو السكاني يؤثر إيجابيًا على اقتصاد الدولة. ( )
- ١٠ - زيادة عدد السكان عن الموارد والخدمات المتاحة تسبب مشكلة سكانية. ( )

## (٣) اختر الإجابة الصحيحة مما بين الأقواس :

- ١ - أصدرت الدولة قوانين تجرم عمالة .....

(الشيوخ - الأطفال - المراهقين - الرجال)

- ٢ - تظهر المشكلة السكانية عندما يزيد عدد السكان على .....
- (الأفراد - الأنشطة - الموارد - التجارة)
- ٣ - زيادة متوسط عمر الفرد وانخفاض الوفيات في مصر نتيجة الاهتمام بالرعاية .....
- (الاجتماعية - الثقافية - الصحية - السياحية)
- ٤ - أى من العناصر الآتية يعد حلاً مناسباً لمشكلة الزيادة السكانية ؟ .....
- (ارتفاع النمو السكاني - عدم الزواج المبكر - تفضيل الذكور عن الإناث - إنجاب الكثير من الأطفال)
- ٥ - نقص الخدمات وقلة الموارد يكون بسبب مشكلة الزيادة .....
- (السياسية - الثقافية - العلاجية - السكانية)
- ٦ - قامت الدولة ببذل الكثير من الجهود لمواجهة مشكلة الزيادة السكانية منها .....
- (التشجيع على الإنجاب - التشجيع على الزواج المبكر - تنظيم الأسرة - إهمال الرعاية الصحية)
- ٧ - زيادة السكان بنسبة تفوق الموارد والخدمات المتاحة تسبب المشكلة .....
- (السكانية - العلاجية - السلوكية - الإدارية)
- ٨ - من أسباب زيادة متوسط عمر الفرد في مصر .....
- (الزواج المبكر - تنظيم الأسرة - تحسين الرعاية الصحية - انخفاض مستوى المعيشة)

#### (٤) ما النتائج المترتبة على ...؟

١ - الزيادة السكانية في مصر.

٢ - تفضيل إنجاب الذكور على الإناث في الريف.

٣ - الاهتمام بالرعاية الصحية للأم والطفل.

٤ - الزواج في سن مبكرة .

#### (٥) بم تفسر ...؟

١ - ارتفاع الكثافة السكانية في الريف المصرى.

٢ - وضع الحكومة المصرية قوانين ضد عمالة الأطفال.

٣ - أهمية نشر الوعي لتنظيم الأسرة.

(٦) صوب ما تحته خط :

- ١ - الزيادة السكانية تساعد على إقامة مشروعات التنمية.
- ٢ - الاستهلاك الزائد للموارد يؤثر إيجابيًا على البيئة.
- ٣- نتيجة لتحسين الرعاية الصحية يزيد معدل الوفيات .

(٧) ماذا يحدث إذا ...؟

١ - اهتم المجتمع المصرى بتنظيم الأسرة.

٢ - أهملت الرعاية الصحية.

(٨) أجب عن الأسئلة الآتية:

١ - اذكر الإجراءات التي قامت بها الدولة لمواجهة المشكلة السكانية.

٢ - حدد أسباب الزيادة السكانية في مصر.

٣ - حدد دور الفرد في مواجهة مشكلة الزيادة السكانية.

٤- اقترح وسيلة لمواجهة الدولة لمشكلة الزيادة السكانية.

٥ - اذكر أحد الأسباب التي ساعدت على تضخم المشكلة السكانية.

٦ - حدد أحد الأضرار الناتجة عن الزواج المبكر.



الدرس الرابع حياة الإجتماعية في بلدنا بين الماضي والحاضر

كيف كان المجتمع في مصر القديمة؟

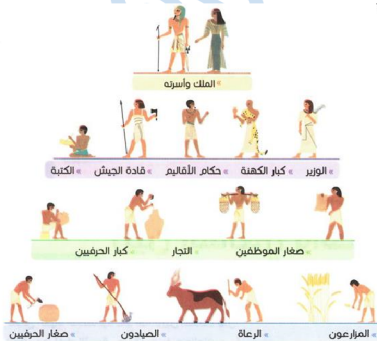
كان المجتمع المصرى القديم منقسماً إلى أربع طبقات

الطبقة الأولى ◀ الملك وأسرته.

الطبقة الثانية ◀ الوزير وكبار الكهنة وحكام الأقاليم وقادة الجيش والكتبة.

الطبقة الثالثة ◀ صغار الموظفين والتجار وكبار الحرفيين.

الطبقة الرابعة ◀ العاملون بالزراعة والرعى والصيد وصغار الحرفيين.



كان لكل طبقة دور مهم في بناء الحضارة المصرية القديمة بكل جد واجتهاد وتعاون بين كل طبقات المجتمع دون تمييز، مما ساعد على استقرار المجتمع وتقدمه.

## كيف كانت الحياة الأسرية في مصر

ازدهرت الحضارة المصرية القديمة نتيجة تماسك الأسرة المصرية واهتمامها بغرس القيم الأخلاقية لدى الأبناء كما قامت على المشاركة والتعاون بين جميع أفراد الأسرة.

### الأبناء

- ◀ يساعد الأبناء والديهما في العديد من الأعمال.
- ◀ يذهب الأبناء إلى بيت الحياة ( المدرسة ) لتعلم القراءة والكتابة ودراسة العلوم المختلفة.
- ◀ كانت تربية الأبناء وتعليمهم القيم مثل الحب والتعاون والصدق واحترام الآخر وإتقان العمل من مسؤوليات الأب والأم معا.



### الأم

- ◀ تقوم برعاية الأبناء، وتشرف على أعمال المنزل،
- ◀ كما تعمل خارج المنزل في مجالات متعددة، مثل: الزراعة والتجارة والطب.

### الأب

- ◀ يراعى أفراد الأسرة، ويعمل من أجل توفير احتياجاتهم.

## ما دور المرأة في المجتمع قديما وحديثا؟

### حديثا

◀ تولت العديد من المناصب كوزيرة وقاضية كما تشارك في مجلس النواب ومجلس الشيوخ والعديد من الأحزاب السياسية.

◀ منح الدستور المصري عام ٢٠١٤م العديد من الحقوق للمرأة حيث تنص المادة (١١) على أن الدولة:

«تكفل تحقيق المساواة بين المرأة والرجل في جميع الحقوق المدنية والسياسية والاقتصادية والاجتماعية والثقافية وفقا لأحكام الدستور. كما تكفل للمرأة حقها في تولى الوظائف العامة، ووظائف الإدارة العليا في الدولة، والتعيين في الجهات والهيئات القضائية، دون تمسك ضدها».

### قديما

◀ تولت المرأة المناصب العليا في الدولة مثل ( ملكة وقاضية ووزيرة وكتابة وكاهنة ) وغيرها من المناصب.

◀ كان لها الحق في الميراث والبيع والشراء.

◀ كانت دائما محل احترام وتقدير من المجتمع.



## ما هي مظاهر الحياة في مصر القديمة؟

بالإضافة إلى اهتمام المصريين القدماء بالعمل كان لديهم العديد من وسائل التسلية والترفيه بجانب الاحتفالات والأعياد.

- ◀ الغناء والعزف على الآلات الموسيقية
- ◀ ممارسة الألعاب الرياضية كالسباحة والتحطيب والمصارعة وألعاب التفكير مثل : لعبة السنن تشبه ( الشطرنج حاليا).

### • وسائل التسلية والترفيه



- ◀ عيد ميلاد الملك وتولية العرش
- ◀ أعياد الفيضان والحصاد وشم النسيم

### • الاحتفالات والأعياد

## الملابس في مصر القديمة



١ - ملابس عامة الشعب تُصنع من الكتان.

٢ - ملابس الملك والأغنياء تُصنع من الكتان على الجودة أو الحرير وتطرز بالذهب والفضة والأحجار الكريمة.

٣ - استخدام أدوات الزينة كالأساور والقلاند، والعمود والشعر المستعار.



## (١) أكمل العبارات الآتية بما يناسبها من كلمات

- ١- تم تقسيم المجتمع المصرى القديم الى ..... طبقات.
- ٢- تمثلت الطبقة الأولى في مصر الفرعونية فى .....
- ٣- كان صغار الموظفين فى مصر الفرعونية ينتمون الى الطبقة .....
- ٤- تقلدت المرأة فى مصر الفرعونية المناصب العليا فى الدولة مثل .....
- ٥- احتفل المصريون القدماء بكثير من المناسبات والأعياد مثل عيد ..... و عيد .....
- ٦- مارس المصريون القدماء الألعاب الرياضية مثل ..... و .....
- ٧- كانت ملابس الملك والأغنياء فى مصر الفرعونية تصنع من ..... أو .....
- ٨- اعتاد المصري القديم على استخدام أدوات الزينة مثل ..... و .....
- ٩- عملت المرأة فى مجالات متعددة فى مصر القديمة مثل ..... و .....
- ١٠- اهتم المصري القديم بممارسة الألعاب الرياضية مثل ..... و .....
- ١١- من الأعياد المصرية القديمة والتي نحتفل بها حتى الآن عيد .....

## (٢) اكتب كلمة ( صواب ) أمام العبارة الصحيحة وكلمة ( خطأ ) أمام العبارة غير الصحيحة :


- ١- كانت ملابس الأغنياء تصنع من الحرير فى مصر القديمة. ( )
- ٢- كان الوزير والكهنة فى مصر الفرعونية ينتمون الى الطبقة الثالثة فى المجتمع. ( )
- ٣- لعبت الأسرة دورًا هامًا فى نشأة الحضارة المصرية القديمة. ( )
- ٤- كان لكل طبقة دور مهم فى بناء الحضارة المصرية القديمة. ( )
- ٥- حرص المصري القديم على تربية أولاده وتعليمهم القيم الحميدة. ( )
- ٦- اقتصر دور المرأة فى مصر الفرعونية على أعمال المنزل ورعاية الأبناء. ( )
- ٧- لم يمارس المصري القديم أى نوع من أنواع الرياضة. ( )
- ٨- تمتعت المرأة بمكانة عالية فى المجتمع المصرى القديم. ( )
- ٩- سعت الدولة لتحقيق المساواة بين المرأة والرجل فى جميع الحقوق وفقًا للدستور. ( )
- ١٠- اعتاد المصريون القدماء على استخدام أدوات الزينة كالأساور والقلائد. ( )
- ١١- قامت الحضارة المصرية القديمة على عدم التعاون بين كل فئات المجتمع. ( )
- ١٢- كان للمرأة فى مصر الفرعونية الحق فى الميراث والبيع والشراء. ( )
- ١٣- حرص المصري القديم على تربية أولاده وتعليمهم القيم الحميدة. ( )

١٤ - كان صغار الحرفيين في مصر القديمة يصنفون في الطبقة الاجتماعية الثالثة . ( )

(٣) اختر الإجابة الصحيحة مما بين الأقواس :

- ١ - استقر المصري القديم وأنشأ مجتمعه في .....
- ( الهضبة - الوادي - الجبل - المنخفض )
- ٢ - كانوا ينتمون إلى الطبقة الرابعة في مصر الفرعونية هم .....
- ( حكام الأقاليم - صغار الموظفين - صغار الحرفيين - قادة الجيش )
- ٣ - كبار الحرفيين في مصر الفرعونية كانوا ينتمون إلى الطبقة .....
- ( الأولى - الثانية - الثالثة - الرابعة )
- ٤ - اهتم المصري القديم بالألعاب الرياضية ومنها ألعاب التفكير مثل .....
- ( السباحة - التحطيب - المصارعة - السنت )
- ٥ - كان عيد ميلاده من الأعياد التي احتفل بها المصري القديم .....
- ( الملك - الوزير - حاكم الإقليم - كبير الكهنة )
- ٦ - صنعت ملابس عامة الشعب في مصر الفرعونية من .....
- ( الكتان - القطن - الحرير - الصوف )
- ٧ - كانت ملابس الملك تصنع من الحرير وتطرز بـ .....
- ( النحاس - الذهب - الحديد - الخشب )
- ٨ - صنعت ملابس الأغنياء في مصر الفرعونية من .....
- ( الجلود - القطن - الحرير - الصوف )
- ٩ - أحد ألعاب التفكير عند قدماء المصريين .....
- ( السباحة - التحطيب - السنت - المصارعة )
- ١٠ - حكام الأقاليم في مصر الفرعونية كانوا ينتمون إلى الطبقة .....
- ( الأولى - الثانية - الثالثة - الرابعة )

(٤) يمثل الشكل التالي طبقات المجتمع المصري القديم بالاستعانة به أكمل العبارات التالية :



- ١- طبقة .....
- ٢ - طبقة .....
- ٣ - طبقة .....
- ٤- طبقة .....

## (٥) فسر مع ذكر السبب:

١ - استقرار المجتمع وتقدمه في مصر القديمة.

٢ - إرسال المصريين القدماء أبناءهم إلى بيت الحياة.

٣ - وصول المرأة لوظائف الإدارة العليا في الدولة دون تمييز ضدها.

## (٦) ما النتائج المترتبة على...؟

١- كان لكل طبقة دور مهم في بناء الحضارة المصرية.

٢ - اهتمام الدولة المصرية بكفالة حقوق المرأة.

## (٧) برهن على صحة العبارات الآتية:

١- حصلت المرأة على كافة حقوقها وفقاً لأحكام الدستور.

٢ - كانت الحياة الأسرية في مصر القديمة قائمة على المشاركة والتعاون.

٣ - لعبت المرأة في مصر الفرعونية دوراً هاماً في داخل وخارج المنزل.

٤ - اهتم المصري القديم بوجود وسائل التسلية والترفيه.

٥ - اختلفت ملابس المصريين القدماء باختلاف طبقات المجتمع .

٦ - قامت الحضارة المصرية القديمة على التعاون بين الرجل والمرأة.

٧ - احترام المرأة وتقديرها عند المصريين القدماء.

(٨) قارن بين كل من :

١ - دور المرأة قديماً وحديثاً .

حديثاً	قديمًا
.....	.....
.....	.....
.....	.....

٢ - الطبقة الثانية والثالثة الاجتماعية في مصر الفرعونية .

الطبقة الثانية الاجتماعية في مصر الفرعونية	الطبقة الثالثة الاجتماعية في مصر الفرعونية
.....	.....
.....	.....
.....	.....

٣ - الملابس في مصر القديمة عند طبقة الأغنياء وطبقة العامة .

ملابس طبقة الأغنياء	ملابس طبقة العامة
.....	.....
.....	.....
.....	.....

## الدرس الخامس

## الحياة الدينية في بلدنا بين الماضي والحاضر

## تعلم

. الشعب المصرى دائما يتمسك بالقيم الدينية والإنسانية التى تدعو إليها الديانات السماوية.

## ما خصائص الحياة الدينية فى مصر القديمة؟

◀ اتسمت الحياة الدينية عند المصريين القدماء بعدة خصائص وهى  
(تعدد الآلهة - السمو للوحدانية - الاعتقاد فى البعث والخلود - الاعتقاد فى الثواب والعقاب).

## أولا : تعدد الآلهة

## ١ - اتخذ المصريون القدماء معبوداتهم من الطبيعة ك:

## البقرة



## النسر



## الصقر



المعابدات فى مملكتى الشمال والجنوب



## ٢ - كانت البلاد مقسمة إلى ٢ ؛ إقليما

◀ كان لكل إقليم معبود خاص به.

◀ عندما اتحدت أقاليم مصر فى مملكتين اتخذت كل مملكة معبودا خاصا بها .

مملكة الجنوب :- أنثى النسر

مملكة الشمال :- ثعبان الكوبرا

## ٣ - أقام المصريون القدماء المعابد لعبادتها.


## ثانيا: السمو إلى الوحدانية:

◀ تولى الملك أمنحتب الرابع حكم مصر.

◀ دعا إلى عبادة إله واحد وهو (أتون) ، وكان يرمز له بقرص الشمس .

◀ أطلق على نفسه اسم إخناتون ؛ أى المخلص لآتون.

◀ شيد مدينة أخيتاتون كعاصمة للبلاد، ومركزا لعبادة الإله أتون .





◀ اعتقد المصري القديم في :

الخلود العيش حياة أبدية لا موت بعدها .		البعث هو الحياة مرة أخرى بعد الموت.
---	---	--

◀ أدى ذلك إلى ظهور فكرة التحنيط :- وهو حفظ جسم المتوفى بعد الموت.

١ ◀ تضم عملية التحنيط العديد من الخطوات المعقدة التي كانت تستغرق نحو ٧٠ يوما.

٢ ◀ يتم إزالة أعضاء المتوفى بعناية من خلال شق صغير في جسمه وتحفظ في أوان تعرف باسم الأواني الكانوبية.

٣ ◀ يجفف الجسم باستخدام ملح النطرون ويلف بلفائف من الكتان.

٤ ◀ يتم نقل المتوفى بعد التحنيط إلى المعبد لإقامة الشعائر الجنائزية.

٥ ◀ تحمل أسرة المتوفى المومياء في التابوت لدفنها.

كيفية التحنيط



رابعا: الاعتقاد في الحساب بعد الموت :

◀ ينتقل المتوفى إلى العالم الآخر بعد الموت ليحاسب على أعماله التي قام بها.

◀ يقف المتوفى أمام محكمة مكونة من ٤ قاضيا يمثلون أقاليم مصر، و ، ويتراأسهم أوزيريس إله الموتى.

إذا كان القلب أثقل من الريشة  
يكون الشخص سيئاً ومصيره  
العذاب.



إذا كان القلب أخف من الريشة  
يكون الشخص صالحاً وسيعيش  
حياة أبدية في نعيم.



يحضر ميزان العدالة  
يوضع قلب الميت في كفة وفي  
الكفة الثانية توضع ريشة الإلهة  
(ماعت) إلهة الحق والعدل.



## س كيف أثرت الحضارة المصرية فى الحضارات الأخرى



- تأثر العديد من الحضارات القديمة مثل حضارة بلاد العراق القديم وفينيقيا بفكرة البعث والخلود التي كانت سائدة عند المصريين القدماء.
- انتشرت عبادة بعض الآلهة المصرية القديمة بين شعوب الحضارات الأخرى مثل :
  - ١ - عبادة الإله أمون فى مملكة كوش فى السودان.
  - ٢ - عبادة المعبودة إيزيس فى الحضارة اليونانية والرومانية القديمة.
  - ٣ - أخذ منها المصريون القدماء عبادة المعبودة عشتار من حضارة العراق القديم.

ولا تزال مصر حريصة على التواصل الدينى مع الدول الأخرى من خلال مؤسساتها الدينية المختلفة.

## (١) أكمل العبارات الآتية بما يناسبها من كلمات

- ١ - اتسمت الحياة الدينية في مصر الفرعونية بعدة خصائص منها .....
- ٢ - الحضارة التي تأثرت بفكرة البعث والخلود عند قدماء المصريين هي الحضارة .....
- ٣ - كانت الشعائر الدينية في مصر القديمة تقام على المتوفى في .....
- ٤ - الرمز الذي يعبر عن الإلهة ماعت إلهة الحق والصدق في مصر القديمة هو .....
- ٥ - انتشرت عبادة آمون في مملكة ..... في السودان.
- ٦ - اتخذ المصري القديم معبوداتهم من الطبيعة مثل ..... و .....
- ٧ - تعددت الآلهة في مصر القديمة مثل الإله ..... والإله .....
- ٨ - أنشأ أمنحتب الرابع مدينة ..... لتكون عاصمة للبلاد.
- ٩ - يقف المتوفى في مصر الفرعونية أمام محكمة مكونة من ٢٤ قاضيًا يمثلون .....
- ١٠ - كانت الشعائر الدينية تقام على المتوفى في .....
- ١١ - اتخذ المصريون القدماء معبوداتهم من .....
- ١٢ - أثناء محاكمة الميت في مصر القديمة توضع الريشة في كفة وفي الكفة الأخرى يوضع .....

## (٢) اكتب كلمة (صواب) أمام العبارة الصحيحة وكلمة (خطأ) أمام العبارة غير الصحيحة :

- ١- الشعب المصري دأبما يتمسك بالقيم الدينية والإنسانية. ( )
- ٢ - اتخذت مملكة الشمال معبودًا مختلفًا عن معبود مملكة الجنوب. ( )
- ٣ - انضمت أقاليم مصري مملكتين اتخذت كل مملكة معبودا خاصا بها. ( )
- ٤ - عرف المصريون القدماء كثيرًا من المعبودات التي اتخذوها من الطبيعة. ( )
- ٥ - كان لكل إقليم في مصر القديمة معبودا خاصًا به. ( )
- ٦ - انتشرت عبادة بعض الآلهة المصرية القديمة بين شعوب الحضارات الأخرى. ( )
- ٧ - اعتقد المصري القديم أن المتوفى سيقف أمام محكمة مكونة من ٢٤ قاضيًا. ( )

- ٨ - تأثر العديد من الحضارات القديمة مثل حضارة العراق و فينيقيا بفكرة البعث والخلود. ( )
- ٩ - أطلق الملك أمنحتب الثالث على نفسه اسم إخناتون. ( )
- ١٠ - البعث هو الحياة مرة أخرى بعد الموت. ( )
- ١١ - أثناء التحنيط يجفف الجسم ويلف بلفائف من القطن. ( )
- ١٢ - لا تزال مصر حريصة على التواصل الديني مع الدول الأخرى من خلال مؤسساتها الدينية المختلفة. ( )

### (٣) اختر الإجابة الصحيحة مما بين الأقواس :

- ١ - المحكمة التي كان يقف أمامها المتوفى بعد الموت كانت مكونة من ..... قاضيًا. ( )
- ٢ - الريشة التي توضع على ميزان العدالة لحساب المتوفى تمثل الإلهة ..... ( )
- ٣ - أول من دعا إلى عبادة إله واحد في مصر القديمة الملك ..... ( )
- ٤ - (أمنحات الأول - سنوسرت الثالث - أمنحتب الرابع - بيبي)

### صوب ما تحته خط

- ١- يرمز للإله أتون في مصر الفرعونية بضوء القمر.
- ٢ - دعا الملك أمنحات الأول إلى عبادة إله واحد.
- ٣ - الخلود هو الحياة مرة أخرى بعد الموت .
- ٤- كان يلف المتوفى في مصر القديمة أثناء التحنيط بلفائف من القطن.
- ٥ - انتشرت عبادة الإله رع في مملكة كوش .
- ٦ - انتشرت عبادة المعبودة أمون في الحضارة اليونانية والرومانية القديمة.
- ٧ - يوضع في ميزان العدالة في محكمة الموتى بمصر القديمة ريشة الإلهة آمون.

### (٥) فسر مع ذكر السبب:

- ١ - إنشاء الملك أمنحتب الرابع مدينة أخيتاتون.

٢ - انتشرت عبادة بعض الآلهة المصرية القديمة بين شعوب الحضارات الأخرى.

٣ - اهتمام المصرى القديم بالحفاظ على جسم الميت بعد وفاته.

٤ - نقل المتوفى بعد التحنيط إلى المعبد.

٥ - ظهور فكرة التحنيط عند المصريين القدماء.

### (٦) ما النتائج المترتبة على ...؟

١- اعتقاد المصريين القدماء بالبعث والخلود.

٢ - وجود الحضارة المصرية وسط حضارات العالم القديم.

### اكتب ما تشير إليه العبارات

١ - تولى حكم مصر ودعا لعبادة إله واحد وهو (أتون).

٢ - إلهة الحق والصدق عند المصريين القدماء.

٣ - إله الموتى عند المصريين القدماء ويترأس محكمة الموتى.

٤ - معبودة اتخذها المصريون القدماء عن حضارة العراق القديم.

٥ - أحد الآلهة المصرية القديمة اتخذته مملكة كوش معبودا رسميًا للدولة.

٦ - أحد الآلهة المصرية القديمة انتشرت عبادتها فى الحضارة اليونانية والرومانية ...

٧ - حفظ جسم المتوفى بعد وفاته عند المصريين القدماء.

٨ - اعتقاد دينى عند المصريين القدماء أن المتوفى سوف يحيا مرة أخرى بعد موته ليعيش حياة أبدية.

برهن على صحة العبارات الآتية:

١ - تأثرت مملكة كوش بالحضارة المصرية القديمة.

٢ - اتخذ المصريون القدماء معبوداتهم من قوى الطبيعة.

٣ - حرصت مصر قديماً على التواصل الدينى مع الدول الأخرى.

ما العلاقة بين

١ - البعث والخلود وعملية التحنيط.

٢ - الطبيعة والحياة الدينية فى مصر القديمة.

٣ - قلب المتوفى ومحكمة الموتى عند المصريين القدماء.

حدد دور كل من:

١ - الإله أوزوريس .

٢ - الإله ماعت.

٣ - الملك أمنحتب الرابع .

## لمحات من تاريخ وحضارة بلدنا

## الوحدة الثانية

### انتصارات بلدنا عبر العصور

### الدرس الأول

#### تعلم

### س ما أهم انتصارات الجيش المصري عبر العصور ؟

- الجيش المصري من أقدم الجيوش في العالم، وقد حقق العديد من الانتصارات على مر العصور.
- فقد تعرضت مصر منذ عصر المصريين القدماء وحتى القرن العشرين للعديد من هجمات الأعداء للاستيلاء على ثرواتها ، وكان للجيش المصري دور هام في صد هذه الهجمات على مر العصور كالتالي :

#### أولاً : عصر الدولة القديمة

◀ في بداية الأسرة الثالثة تعرضت مصر لهجوم بعض القبائل على حدودها الشمالية الشرقية.

◀ فسارع الملك زوسر إلى :

- توحيد جيوش أقاليم مصر وتنظيمها وتسليحها.
- ونجح في صد هذه الهجمات وحماية أرض شبه جزيرة سيناء.

#### ثانياً : - عصر الدولة الوسطى



#### تحرير مصر من الهكسوس

- ◀ تم تحرير مصر في نهاية عصر الأسرة السابعة عشرة على يد الملك **أحمس** بتشجيع من والدته الملكة **اياح حتب** .
- بذلك بعد الملك **أحمس** :-
- بطل التحرير .
- طارد الهكسوس .
- مؤسس عصر الدولة الحديثة .



#### غزو الهكسوس لمصر

- ◀ تعرضت مصر لغزو الهكسوس في نهاية عصر الدولة الوسطى في (عصر الضعف الثاني).
- يسبب**
- كثرة الصراعات بين الحكام .
- عمته الفوضى في البلاد .
- وظلوا يحكمون البلاد نحو قرن ونصف القرن .

## دور الملكة إياح حتب في تحرير مصر

- شجعت ابنها الملك أحمس على تحرير البلاد من الهكسوس ، وذلك بعد مقتل كل من والده ( سقتن رع ) وأخيه الأكبر ( كامس ) أثناء كفاحهما ضد الهكسوس.

## ثالثا : عصر الدولة الحديثة

١ قاد (١٦) حملة عسكرية لتأمين حدود مصر.

١  
الملك  
تحتمس  
الثالث

٢ لم يهزم خلالها الجيش المصرى، ومن أشهر هذه المعارك معركة « مجدو » .

## معركة مجدو

◀ قرر الملك تحتمس الثالث مفاجأة العدو بتخطيط غير متوقع ؛ حيث اختار دخول مدينة «مجدو» في فلسطين،

**أقصر الطرق وأكثرها خطورة وصعوبة ، عن طريق:**

- ممرضيق لا يسمح إلا بمرور شخص واحد، و ، فأمر الجنود بحمل الأسلحة وفك العربات وحملها.

- قاد الجنود الأحصنة فى خط واحد وراء الملك ، وقد أدى هذا الهجوم المفاجئ إلى :

تفرق صفوف أمراء آسيا بقيادة أمير قادش وهروبهم داخل مدينة مجدو ، فأمر الملك بحفر خندق حولها، وحاصرها حتى استسلم العدو وانتصر الجيش المصرى ؛ وبذلك برهن الجيش المصرى على قدرته على الإبداع والتخطيط الجيد للحرب.

◀ خاض الكثير من المعارك ضد الحيثيين الذين استولوا على مناطق من الإمبراطورية المصرية، وكان أشهر تلك المعارك معركة قادش

٢  
الملك  
رمسيس  
الثانى

◀ أشهر المعارك التي خاضها الملك رمسيس الثانى ضد الحيثيين في سوريا، انتهت بتوقيع الملك رمسيس الثانى أول معاهدة سلام فى التاريخ مع ملك الحيثيين .

١  
معركة  
قادش

◀ نتائج معاهدة السلام : ساعدت هذه المعاهدة على تحقيق الأمن والاستقرار للطرفين.

٢



◀ من أهم الحروب التي خاضتها مصر في القرن العشرين حرب السادس من أكتوبر عام ١٩٧٣ م :

◀ كانت بقيادة الرئيس الراحل ( محمد أنور السادات ) لتحرير أرض سيناء من الاحتلال الإسرائيلي.

◀ روج الإسرائيليون قبل حرب أكتوبر ١٩٧٣م للعالم أسطورة أن جيشهم لا يقهر.

◀ وضعا خططهم لتأمين خط بارليف .

◀ ولكن استطاع الجيش المصرى بالإيمان والتخطيط الجيد والعمل الجاد أن يقاوى العالم أجمع بعبور قناة السويس وتدمير

خط بارليف فى ٦ ساعات فقط.

◀ وفى عام ١٩٧٩م وقع الرئيس الراحل محمد أنور السادات معاهدة السلام مع إسرائيل، واستعادت مصر بموجبها أرض سيناء.

### ● استخدم الجيش المصرى :-

- اللغة النووية كشفرة فى الاتصالات اللاسلكية.

- ونجح فى تدمير خط بارليف ؛ ذلك الحصن المنيع باستخدام خراطيم المياه.

- وبذلك برهن الجيش المصرى على قدرته على الإبداع والتخطيط الجيد للحرب .

### س كيف حققت مصر السلام عبر العصور

● تحرص مصر على مشاركة دول العالم فى الاحتفال باليوم الدولى للسلام الذى يوافق يوم ٢١ سبتمبر من كل عام.

● فمصرنا الحبيبة كانت وما زالت حريصة على تحقيق السلام، ولا تلجأ إلى الحرب إلا دفاعاً عن أراضيها وأمنها القومى، والدليل على ذلك هو عقدها العديد من معاهدات السلام مع غيرها من الدول، التى

١ ◀ عقدها الملك رمسيس الثاني (مصر والحيتيين)

٢ ◀ عقدها الرئيس الراحل محمد أنور السادات ( مصر وإسرائيل)

ومن أشهر  
هذه المعاهدات  
التي

ويفضل السلام استطاعت مصر التركيز على مشروعات التنمية وتحسين حياة المصريين ؛ بدلاً من إنفاق موارد الدولة على

الحروب.

س ما أخلاق الجيش المصري عبر العصور

يتميز الجيش المصري عبر تاريخه الطويل بالعديد من القيم والأخلاق الحميدة التي ميزته عن أي جيش بالعالم، وفي

مقدمتها أنه :



- ١ - لم يكن أبدا جيشا يحارب بهدف العدوان أو الاحتلال أو الاعتداء على حقوق الغير
  - ٢ - بل كان دائما قوة داعمة للول العالم.
- كما يتميز الجندي المصري بـ (الشجاعة - الصبر والثبات عند الخطر - الإقدام) .

س كيف يتم تخليد انتصارات الجيش المصري



- تم إنشاء متحف بانوراما حرب أكتوبر في مدينة القاهرة؛ تخليدا لذكرى انتصار مصر في حرب السادس من أكتوبر عام ١٩٧٣م.
- يضم : العديد من اللوحات الجدارية التي تحكى بطولات الجيش والشعب المصري العظيم عبر التاريخ دفاعا عن أرض الوطن.

مذكرات جاهزة  
موسم  
منصور

## تدريبات الدرس الأول

## (١) أكمل العبارات الآتية بما يناسبها من كلمات

- ١ - اتسمت الحياة الدينية في مصر الفرعونية بعدة خصائص منها .....
- ٢ - الحضارة التي تأثرت بفكرة البعث والخلود عند قدماء المصريين هي الحضارة .....
- ٣ - كانت الشعائر الدينية في مصر القديمة تقام على المتوفى في .....
- ٤ - الرمز الذي يعبر عن الإلهة ماعت إلهة الحق والصدق في مصر القديمة هو .....
- ٥ - انتشرت عبادة آمون في مملكة ..... في السودان.
- ٦ - اتخذ المصري القديم معبوداتهم من الطبيعة مثل ..... و .....
- ٧ - تعددت الآلهة في مصر القديمة مثل الإله ..... والإله .....
- ٨ - أنشأ أمنحتب الرابع مدينة ..... لتكون عاصمة للبلاد.
- ٩ - يقف المتوفى في مصر الفرعونية أمام محكمة مكونة من ٢٤ قاضياً يمثلون .....
- ١٠ - كانت الشعائر الدينية تقام على المتوفى في .....
- ١١ - اتخذ المصريون القدماء معبوداتهم من .....
- ١٢ - أثناء محاكمة الميت في مصر القديمة توضع الريشة في كفة وفي الكفة الأخرى يوضع .....

## (٢) اكتب كلمة (صواب) أمام العبارة الصحيحة وكلمة (خطأ) أمام العبارة غير الصحيحة :

- ( ) ١) تصدى الملك زوسر لهجمات الأعداء وقام بحماية أرض سيناء.
- ( ) ٢) تم تحرير مصر من غزو الهكسوس على يد الملك تحتمس الثالث.
- ( ) ٣) خاض الملك رمسيس الثاني معارك كثيرة ضد الفرس.
- ( ) ٤) لم يستطع الجيش المصري تدمير خط بارليف المنيع.
- ( ) ٥) انهزم الملك رمسيس الثاني في معركة قادش .
- ( ) ٦) استطاع الرئيس أنور السادات الانتصار على العدو في حرب السادس من أكتوبر.
- ( ) ٧) شجعت إياح حتب أحمس على محاربة الهكسوس وتحرير مصر.
- ( ) ٨) دمر الجيش المصري خط بارليف في ٦ ساعات.

- ( ) ٩) استطاع الرئيس أنور السادات الانتصار على العدو في حرب السادس من أكتوبر.
- ( ) ١٠) شجعت إياح حتب أحسن في الانتصار على الهكسوس وتحرير مصر.
- ( ) ١١) عبر الجيش المصرى قناة السويس ودمر خط بارليف في ٦ ساعات.

### (٣) اختر الإجابة الصحيحة مما بين الأقواس :

- (١) في عصر الدولة ..... تعرضت مصر لهجوم قبائلى على حدودها الشمالية الشرقية.  
( الحديثة - الوسطى - القديمة - المعاصرة )
- (٢) مؤسس الدولة الحديثة وطارد الهكسوس هو الملك .....  
( خوفو - كامس - سقن رع - أحسن )
- (٣) أشهر معارك الملك تحتمس الثالث معركة .....  
( اليرموك - التل الكبير - مجدو - قادش )
- (٤) أول معاهدة سلام فى التاريخ وقعتها الملك .....  
( رمسيس الأول - رمسيس الثانى - رمسيس الثالث - تحتمس الثالث )
- (٥) معركة قادها رمسيس الثانى وانتهت باتفاقية السلام .....  
( مجدو - قادش - عين جالوت - اليرموك )
- (٦) تعرضت مصر لهجوم بعض القبائل على حدودها الشمالية الشرقية فى بداية الأسرة .....  
( الثانية - الثالثة - الرابعة - الخامسة )

### (٤) صوب ما تحته خط

- (١) تم إنشاء متحف باتوراما حرب أكتوبر في مدينة مطروح.
- (٢) في عصر الدولة القديمة تم توحيد صفوف الجيش على يد الملك خفرع.
- (٣) قاد الملك منكاورع ١٦ حملة عسكرية لتأمين حدود مصر.
- (٤) قاد الرئيس جمال عبد الناصر حرب السادس من أكتوبر ١٩٧٣م.
- (٥) وقع الرئيس أنور السادات اتفاقية السلام مع إنجلترا.
- (٦) انتصر الملك زوسر على الحيثيين في معركة قادش .

## (٥) فسر مع ذكر السبب:

(١) يعد الملك رمسيس الثاني أول من دعا للسلام في التاريخ.

(٢) إنشاء متحف بانوراما حرب أكتوبر.

(٣) قيادة الملك تحتمس الثالث لـ (١٦) حملة عسكرية.

(٤) قيام مصر بحرب أكتوبر ١٩٧٣ م.

## (٦) ما النتائج المترتبة على...؟

(١) كثرة الصراعات بين الحكام في نهاية الدولة الوسطى.

(٢) انتصار مصر في حرب السادس من أكتوبر.

(٣) معركة قادش بقيادة رمسيس الثاني.

(٤) معركة مجدو بقيادة تحتمس الثالث.

## (٧) لمن تنسب الأعمال الآتية...؟

(١) قام بحماية أرض سيناء من القبائل التي هجمت على حدود مصر الشمالية الشرقية.

(٢) قاموا بغزو مصر في عصر الضعف الثاني نحو قرن ونصف القرن .

(٣) قامت بتشجيع ابنها على تحرير مصر من الهكسوس .

(٤) مؤسس عصر الدولة الحديثة

- ٥) ملك من عصر الدولة الحديثه قام بقيادة ١٦ حملة عسكرية لتأمين حدود مصر .
- ٦) وقع أول معاهدة سلام في التاريخ.
- ٧) انتصر على أمراء آسيا في معركة مجدو.
- ٨) انتصر على الحيثيين في معركة قادش .
- ٩) استطاع صد الهجمات على شبه جزيرة سيناء في عصر الدولة القديمة.
- ١٠) وقع اتفاقية السلام مع الإسرائيليين بعد انتصاره عليهم في حرب أكتوبر.

### (٨) برهن على صحة العبارات الآتية:

١- وقعت مصر أول معاهدة سلام في التاريخ.

٢ - امتلك الجيش المصري قدرة على الإبداع والتخطيط الجيد للحرب.

٣ - لعبت المرأة دورًا هامًا في تحرير البلاد من الهكسوس

### (٩) أذكر

١- سبب تعرض مصر للعديد من الهجمات العسكرية.

٢ - دور إياح حنط في تحرير مصر من الهكسوس.

١ - معركتي مجدو وقادش من حيث قائد المعركة ونتائجها.

وجه المقارنة	معركة مجدو	معركة قادش
قائد المعركة	.....	.....
نتائجها	.....	.....

٢ - معركة قادش وحرب أكتوبر ١٩٧٣م من حيث القائد والنتائج.

وجه المقارنة	حرب أكتوبر	معركة قادش
قائد المعركة	.....	.....
نتائجها	.....	.....

إبراهيم منصور

## الدرس الثاني

## مصر في عصرى البطالمة والرومان

## تعلم

في نهاية العصور الفرعونية تعرضت مصر الأخطار عديدة انتهت بدخول الإسكندر الأكبر.

س من هو الإسكندر الأكبر؟

الإسكندر الأكبر قائد يوناني حكم مصر هو وخلفاؤه حوالى ثلاثة قرون من ٣٢٢ ق. م حتى ٣٠ ق.م.

لكي يتقبل المصريون حكمه :-

- ١ - أظهر احترامه للديانة المصرية.
- ٢ - زار معبد الإله آمون في واحة سيوة.

قرر الإسكندر الأكبر السيطرة على مصر :-

- ١ - توسيع إمبراطوريته.
- ٢ - تأمين الغذاء لجيشه باعتبار مصر أكبر مصدر لإنتاج القمح في العالم القديم.
- ٣ - شرع في التخطيط لبناء مدينة الإسكندرية؛ لتكون عاصمة للبلاد.

توفى الإسكندر عام ٣٢٣ ق.م.



س من هم البطالمة؟ وكيف حكموا مصر؟

البطالمة هم خلفاء الإسكندر الأكبر، وكان نظام الحكم في مصر في عصر البطالمة نظامًا ملكيًا مطلقًا، حيث كان :

- ١ - الملك البطلمي هو المسئول عن إدارة كافة شئون البلاد سياسيا واجتماعيا ودينيا .
- ٢ - ولم يكن للمصريين دور في حكم بلادهم .



تولى بطلميوس الأول بعد وفاة الإسكندر وأسس لحكم دولة البطالمة.  
استكمل بناء مدينة الإسكندرية.

١ بطلميوس الأول

آخر ملوك البطالمة في مصر.

تحولت مصر بعد هزيمتها في معركة أكتيوم البحرية لولاية رومانية عام ٣٠ ق.م.

٢ كليوباترا السابعة

من أشهر  
حكام  
البطالمة





## س ما أهم أعمال البطالمة في مصر

تعددت أعمال البطالمة في مصر وشملت مجالات عديدة :

## ٢ التعليم والثقافة

- ◀ بنوا جامعة الإسكندرية التي ازدهرت فيها العلوم التي كانت معروفة في ذلك العصر مثل ( الرياضيات، الطب، الأدب، التاريخ، الجغرافيا الفلك).
- ◀ أسسوا مكتبة الإسكندرية التي ضمت الكثير من الكتب في مختلف فروع المعرفة ، وكانت أكثر المكتبات شهرة في العالم قديما.

## ١ الجيش

- اهتم البطالمة في بداية حكمهم بإنشاء جيش وأسطول قويين.

## ٤ الصناعة

- ◀ ازدهرت بعض الصناعات مثل صناعة (الزيوت ، المنسوجات، الزجاج، العطور).

## ٣ الزراعة

- ◀ قاموا بحفر الترغ والفتوات.
- ◀ أدخلوا إلى مصر محاصيل زراعية جديدة مثل العنب والزيتون، وآلات زراعية جديدة مثل الساقية.
- ◀ تم استيراد سلالات جديدة من الحيوانات.

## ٤ التجارة

- ◀ أنشئوا منارة الإسكندرية لإرشاد السفن في البحر.
- ◀ فرضوا رسوما على التجارة الخارجية.

## س ما أسباب سقوط دولة البطالمة في مصر؟

٢ ضعف الملوك بعد بطلميوس الثالث

١ ثورات الشعب ضدهم

٣ تدخل روما في شئون مصر الداخلية

تعرضت دولة البطالمة للضعف بسبب

٤ هزيمة كليوباترا السابعة آخر ملوك البطالمة في مصر على يد الرومان في معركة أكتيوم البحرية ٣١ ق.م

◀ تحولت مصر من دولة البطالمة إلى ولاية رومانية عام ٣٠ ق.م

س ما أهم الآثار البطلمية في مصر ؟



منارة الإسكندرية



معبد إدفو

س كيف حكم الرومان مصر ؟

◀ حرم الرومان المصريين من الاشتراك في حكم بلادهم.

◀ خضعت مصر لإشراف الإمبراطور الروماني الذي كان يتحكم في كافة شئونها .

س ما أهم أعمال الرومان في مصر ؟

◀ استغل الرومان موارد مصر الاقتصادية لصالح روما، حيث :

٢ التجارة

- اهتموا بالتجارة؛ حيث أصبحت الإسكندرية أهم مركز تجارى في شرق البحر المتوسط.

٢ الصناعة

- اهتموا ببعض الصناعات، مثل صناعة ( ورق البردى ، الزيوت ، الأدوية، الزجاج ) .

١ الزراعة

- اعتبر الرومان مصر مزرعة للقمح ؛ لذلك اهتموا بزيادة زراعته لتزويد روما به.

٢ الثقافة

- احتلت الإسكندرية المركز الثاني ثقافياً بعد روما، وأنشأ الرومان فيها :  
- المسارح مثل المسرح الروماني.  
- والمعابد مثل معبد رأس السوداء في الإسكندرية.

س كيف كان اضطهاد الرومان للمسيحيين في مصر؟



- زاد الاضطهاد الروماني للمصريين بعد دخول المسيحية مصر.
- دخلت المسيحية مصر على يد القديس مرقس في منتصف القرن الأول الميلادي.
- وصل الاضطهاد الأقصى درجاته في عهد الإمبراطور الروماني دقلديانوس ؛ حيث :
  - قتل الكثير من المسيحيين.
  - أحرق كتبهم المقدسة ودمر كنائسهم.
  - سُمي عصره بعصر الشهداء .
- نشأت الرهبنة في العصر الروماني ، وهي تقوم على العبادة والتأمل والزهد والتعشف.
- يقيم الرهبان داخل الأديرة في الصحراء، ومن أقدم الأديرة في مصر دير الأنبا أنطونيوس بمحافظة البحر الأحمر.

س ما أسباب سقوط دولة الرومان في مصر؟

- ◀ عانى المصريون من ظلم الحكم الروماني .
  - ◀ بعد ظهور المسيحية أقبل المصريون على اعتناق هذا الدين الجديد لتعاليمه السمحة ودعوته للمحبة والإخاء.
- مما أدى إلى**
- زيادة الاضطهاد الروماني لهم؛ لذلك رحب المصريون بالفتح العربي الإسلامي لمصر عام ٦٤١م للتخلص من حكم الرومان.

س ما أهم الآثار الرومانية في مصر؟



حصن بابليون



معبد رأس السوداء بالإسكندرية



المسرح الروماني

## تدريبات الدرس الثاني

## (١) أكمل العبارات الآتية بما يناسبها من كلمات

- (١) كانت مصر أثناء الحكم الروماني أكبر مصدر لإنتاج ..... في العالم.
- (٢) زار الإسكندر الأكبر معبد الإله ..... بمصر.
- (٣) قام الإسكندر الأكبر بالتخطيط لبناء مدينة ..... لتكون عاصمة للبلاد.
- (٤) اهتم الرومان في مصر بصناعة ..... و .....
- (٥) قام باستكمال بناء مدينة الإسكندرية بعد وفاة الإسكندر القائد .....
- (٦) سُمي عصر الإمبراطور دقلديانوس بعصر .....
- (٧) رحب المصريون بالفتح ..... للتخلص من اضطهاد الرومان لهم.
- (٨) هزمت كليوباترا السابعة في معركة .....
- (٩) اهتم البطالمة في بداية حكمهم بإنشاء .....
- (١٠) تحولت مصر إلى ولاية رومانية بعد هزيمة الملكة .....
- (١١) كان نظام الحكم الروماني خاضعاً لإشراف .....
- (١٢) دخلت المسيحية مصر على يد القديس .....

## (٢) اكتب كلمة (صواب) أمام العبارة الصحيحة وكلمة (خطأ) أمام العبارة غير الصحيحة :

- ( ) (١) حكم خلفاء الإسكندر الأكبر مصر حوالي ٣٠٠ عام.
- ( ) (٢) كان المصريون يشاركون في حكم بلادهم أثناء حكم البطالمة.
- ( ) (٣) تدهورت الزراعة أثناء حكم البطالمة لمصر.
- ( ) (٤) ازدهرت الأنشطة الاقتصادية في مصر أثناء الحكم البطلمي.
- ( ) (٥) خضعت مصر لإشراف الإمبراطور الروماني بشكل مباشر.
- ( ) (٦) سيطر الإمبراطور الروماني على جميع جوانب الحكم في مصر.
- ( ) (٧) انهارت الدولة البطلمية نتيجة ضعف الملوك بعد بطلميوس الثالث.
- ( ) (٨) أصبحت الإسكندرية أهم مركز تجارى في شرق البحر المتوسط في عهد الرومان.

(٣) اختر الإجابة الصحيحة مما بين الأقواس :

- ١) استكمل بطلميوس الأول بناء مدينة ..... بمصر.  
(القاهرة - الإسكندرية - الجيزة - الفيوم)
- ٢) زار الإسكندر معبد آمون الموجود فى واحة .....  
(الداخلة - سيوة - الغرافرة - الخارجة)
- ٣) كان حكم بطلميوس الأول لمصر بداية للعصر .....  
(الفرعونى - البطلمى - الرومانى - الأيوبي)
- ٤) كان البطالمة يحكمون مصر حكماً .....  
(مطلقاً - برلمانيا - قبلياً - انتخابياً)
- ٥) الملكة كليوباترا السابعة هي آخر ملوك .....  
(الرومان - البطالمة - الفراعنة - الإخشيد)
- ٦) دخلت المسيحية مصر على يد القديس ..... فى منتصف القرن الأول الميلادى.  
(يوليوس - بولس - مرقس - أنطونيوس)
- ٧) يرجع معبد رأس السوءاء فى مصر إلى العصر .....  
(الرومانى - البطلمى - الفرعونى - الطولونى)
- ٨) قام البطالمة بإتشاء .....  
(المسرح الرومانى - معبد حتشبسوت - منارة الإسكندرية - معبد رأس السوءاء)
- ٩) أدخل البطالمة أدوات زراعية جديدة مثل .....  
(الشادوف - الطنبور - الساقية - المحراث)
- ١٠) ترتب على هزيمة البطالمة عام ٣١ ق.م تحول مصر إلى ولاية .....  
(يونانية - رومانية - فارسية - فرعونية)
- ١١) أول دير تم بناؤه فى مصر هو دير الأتبا .....  
(بيشوى - أنطونيوس - سمعان - بخوم)

(٤) صوب ما تحته خط

- ١) ضعفت دولة البطالمة بعد حكم بطلميوس الأول.
- ٢) الملكة حتشبسوت كانت آخر ملوك دولة البطالمة.
- ٣) نظام الحكم البتلمى فى مصر كان خاضعاً لإشراف الإمبراطور الرومانى.
- ٤) زار الإسكندر الأكبر معبد الإله رع بواحة سيوة.

٥) احتلت **القاهرة** المركز الثاني ثقافياً في العصر الروماني.

٦) دخلت المسيحية مصر في منتصف القرن **الثاني** الميلادي.

### (٥) فسر مع ذكر السبب:

١) رغبة الإسكندر في السيطرة على مصر.

٢) تسمية عصر الإمبراطور دقلديانوس بعصر الشهداء.

٣) ضعف دولة البطالمة.

٤) تخطيط الإسكندر الأكبر لبناء مدينة الإسكندرية.

٥) سقوط دولة البطالمة في مصر.

٦) احتلال الإسكندرية مركزاً ثقافياً متقدماً في ظل الحكم الروماني.

٧) إقبال المصريين على اعتناق الديانة المسيحية.

٨) سقوط دولة الرومان في مصر.

٩) ترحيب المصريين بالفتح العربي الإسلامي لمصر.

١٠) تقدم الزراعة أثناء حكم البطالمة.

(٦) ما النتائج المترتبة على ...؟

(١) تولى الإمبراطور الروماني دقلديانوس الحكم.

(٢) هزيمة الملكة كليوباترا السابعة عام ٣١ ق.م.

(٣) وفاة الإسكندر الأكبر عام ٣٢٣ ق.م.

(٤) إقبال المصريين على اعتناق الديانة المسيحية.

(٧) لمن تنسب الأعمال الآتية ...؟

(١) قام بزيارة معبد الإله آمون .

(٢) مؤسس الدولة البطلمية.

(٣) قام باستكمال بناء مدينة الإسكندرية.

(٤) آخر ملوك دولة البطالمة في مصر.

(٥) أدخل المسيحية إلى مصر.

(٦) إمبراطور أطلق على عهده عصر الشهداء.

رتب الأحداث التاريخية التالية من الأقدم إلى الأحدث

١ - ( تولية كليوباترا السابعة الحكم - وفاة الإسكندر الأكبر - بناء مدينة الإسكندرية - معركة أكتيوم البحرية )

٢ - ( الفتح العربي الإسلامي لمصر - بناء دير الأنبا أنطونيوس - تحول مصر إلى ولاية رومانية - سيطرة الإسكندر الأكبر على مصر )

## ١٠ ددل على صحة العبارات الآتية:

(١) اهتمام البطالمة بالزراعة في مصر.

(٢) اهتمام البطالمة بالتجارة في مصر.

(٣) حاول الإسكندر الأكبر التقرب من المصريين.

(٤) زاد اهتمام البطالمة بالعلوم الثقافية في مصر.

(٥) وجود آثار بظلمية في مصر.

## ١١ أجب عن الأسئلة الآتية:

(١) ماذا يحدث إذا لم يقدم الإسكندر الأكبر الاحترام للديانة المصرية.

(٢) وضع مظاهر استغلال الرومان لمصر من الناحية الاقتصادية.

(٣) أذكر اثنين من الآثار الرومانية الموجودة في مصر.



(١٠) قارن بين كل من :

١ - أعمال البطالمة والرومان في مصر في مجالى الزراعة والصناعة:

الرومان	البطالمة	وجه المقارنة
.....	.....	الزراعة
.....	.....	الصناعة

٢ - قارن بين نظام الحكم فى عهد كل من البطالمة والرومان :

الرومان	البطالمة	وجه المقارنة
.....	.....	نظام الحكم

٣ - الآثار الباقية فى مصر من عصرى البطالمة والرومان.

عصر الرومان	عصر البطالمة	وجه المقارنة
.....	.....	الآثار

العمارة والفنون في بلدنا

الدرس الثالث

تعلم

س كيف برع المصريون القدماء في العمارة ؟

برع المصريون القدماء في فنون العمارة والرسم والنحت مستمدين أفكارهم من البيئة المصرية.

أولاً العمارة

- اعتمد المصريون القدماء في العمارة بجميع أشكالها على الموارد الطبيعية في مصر مثل ( الطوب اللبن - الجرانيت - الحجر الجيري والرمل).



أ المنازل

- كان المصريون القدماء يبنون منازلهم في الوادي من الطوب اللبن.
- اختلفت مساحة المنزل وعدد حجراته وزخارفه باختلاف طبقات المجتمع ، كما يلي :

١ الملك ◀ كان يعيش في القصر الذي يتميز باتساعه وجمال زينته وزخارفه

٢ الوزراء وكبار الكهنة وحكام الأقاليم ◀ كانت كبيرة ومتعددة الحجرات وفيها مخازن للحبوب.



٣ العمال ◀ كانت تتميز بالبساطة، وتتكون من طابق واحد أو طابقين .

◀ تم بناؤها من الطوب اللبن والحجر.

ب المباني العسكرية

من أشهرها - حصن بوهين على الحدود الجنوبية لمصر.

الهدف منها - حماية البلاد والدفاع عنها.  
- تأمين السكن للجنود مثل الحصون.

◀ هناك مبان أنشئت لأغراض دينية مثل :

ج المباني الدينية

معابد الآلهة

الهدف منها :

كانت تقام فيها الطقوس اليومية للإله .  
مثل : معبد الأقصر.

المعابد الجنائزية

الهدف منها :

كانت تقام فيها طقوس الجنائزة للملك .  
مثل : معبد حتشبسوت (الدير البحرى).



## د المقابر

- اهتم المصريون القدماء ببناء المقابر.
- موقعها في الصحراء غرب نهر النيل لتكون بعيدة عن مخاطر الفيضان.
- بنيت من الحجر حفاظاً على جسد المتوفى وضمان تأمينها من اللصوص.



## مراحل تطور شكل المقابر

## ٣ أهرامات كاملة

مثل أهرامات الجيزة التي برع المصريون القدماء في تصميمها

## ٢ عدة مصاطب

هرم مكون من عدة مصاطب كهرم زوسر

## ١ مصطبة واحدة

كانت المقابر تبنى من مصطبة واحدة.

• يقف العقل البشري حائزاً في كيفية بناء أهرامات الجيزة.

## ثانياً الفنون



## أ الرسم والنقش

يعتبر فن الرسم والنقش من الفنون التي تميزت بها الحضارة المصرية القديمة :

- ◀ تأثر فن الرسم بالبيئة المصرية الطبيعية القديمة.
- ◀ تميزت رسوماته بدقتها وألوانها الزاهية.
- ◀ عبر المصري القديم من خلال رسوماته عن :
  - الأحداث السياسية والاجتماعية والعسكرية والدينية.
  - بعض الأنشطة الاقتصادية كالزراعة والتجارة.
- ◀ كان المصري القديم يرسم وينقش على : ( جدران - المعابد - المقابر - الفخار - الأقمشة - العاج )
- ◀ ساعد مناخ مصر على حفظ الرسوم والنقوش حتى وقتنا الحالي .

◀ كان المصري القديم يقوم برسم تجريبي لما يرغب في رسمه مرة واثنين حتى يصل إلى مستوى متقدم ودقيق.

◀ كما استخدم شبكة مربعات ذات خطوط أفقية وعمودية متساوية الأبعاد بهدف :

- تحديد نسب الأجزاء التي يتكون منها الشكل المراد رسمه .
- استخدامها كدليل أو نموذج للتكبير عند تنفيذ الرسم على مساحة أكبر.

خطوات  
الرسم  
عند

المصريين  
القدماء

٢

## النحت

ب



٢

من أشهر التماثيل المنحوتة

تماثال الكاتب المصرى



تماثال أبو الهول

١

ظهرت براعة المصريين القدماء فى فن النحت ،  
مثل : نحت التماثيل من الطين أو الحجر أو النحاس.

## س ما الدليل على عبقرية المصرى القديم فى الفلك

س



• النخيل

## الأعمدة

١

تصميم أعمدة بعض المعابد على شكل :



• زهرة اللوتس



• نبات البردى

## الهرم الأكبر

٢

• إن كلمة ( هرم ) مشتقة من الكلمة المصرية القديمة ( بر - إم - أوس ) ، وتعنى مبنى منحدر الجوانب، ومنها أخذت الكلمة باللغات الأجنبية ( pyramid ).

• يعد الهرم الأكبر دليلاً قاطعاً على عبقرية المصريين القدماء فى الفلك والعمارة، والدليل على ذلك :

## ٢ - العمارة

- ارتفاع الهرم الأكبر الذي كان يصل إلى ١٤٨ متراً تقريباً وهو ما يوازى ارتفاع ناطحة سحاب نحو ٥٠ طابقاً.
- استخدام الأحجار الضخمة فى بنائه والتي يتراوح وزن الواحد منها بين ٢ طن و ١٥ طناً، وحتى الآن لم يتوصل العلماء إلى حقيقة كيفية رفع هذه الأحجار وبناء الهرم الأكبر.

## ١ - الفلك

أن جوانب الهرم الأكبر الأربعة تقابل الاتجاهات الأصلية الأربعة للبوصله .

مراحل بناء الأهرامات

٢ إعداد الموقع

تجهيز الطرق وإزالة الحصى والرمال وتسوية الأرض في منطقة الهرم.

٤ تجهيز المواد الخام

قطع وتجهيز الحجارة من المحاجر وتعديل شكلها.

١ مرحلة التخطيط

اختيار الموقع والمهندس الذي يصمم الهرم ويشرف على بنائه.

٣ توفير مستلزمات ومساكن للعمال

بناء منازل صغيرة للعمال في الموقع وتوفير الطعام لهم وتنظيم عملهم بالتناوب.

٥ نقل الحجارة

نقل الحجارة إلى الموقع ؛ حيث يقوم البناءون بتسويتها ووضعها في أماكنها في البناء .

ج المسلات المصرية

تحت المصري القديم المسلات، وتعد علامة بارزة في الفن المعماري المصري القديم، هي :

الغرض منها:

- تزيين مداخل المعابد
- تخليد ذكرى الملك.

- ◀ عبارة عن برج أو عمود من الحجر له أربعة جوانب .
- ◀ تنقش جوانبها الأربعة برسوم ونصوص تسجل أهم أعمال الملك.
- ◀ تنتهي بشكل هرمي صغير.

• من أشهر المسلات المصرية مسلة حتشبسوت في معابد الكرنك بمحافظة الأقصر.



(١) أكمل العبارات الآتية بما يناسبها من كلمات

- ١) اعتمدت فنون العمارة عند المصريين القدماء على الموارد الطبيعية مثل .....
- ٢) كان المصري القديم يقوم بالرسم والنقش على جدران .....
- ٣) برع المصري القديم فى تصميم أعمدة المعابد على شكل زهرة .....
- ٤) اشتهر المصري القديم بنحت التماثيل ومن أشهرها تماثال .....
- ٥) تعد المسلات علامة بارزة فى الفن المعماري المصري القديم ومن أشهرها .....
- ٦) يعد الهرم الأكبر دليلاً قاطعاً على عبقرية المصري القديم فى علوم .....
- ٧) معبد أنشئ للالهة المصرية القديمة معبد .....
- ٨) بنيت المعابد الجنائزية لأغراض .....
- ٩) أشهر تماثيل المصريين القدماء تماثال .....
- ١٠) بناء تميز بأنه عمود حجرى له أربعة جوانب ويعد علامة بارزة فى فن العمارة هو .....
- ١١) حصن أنشئ لحماية حدود مصر الجنوبية فى مصر القديمة حصن .....

(٢) اكتب كلمة (صواب) أمام العبارة الصحيحة وكلمة (خطأ) أمام العبارة غير الصحيحة :

- ( ) ١) توجد مسلة حتشبسوت فى معبد الأقصر.
- ( ) ٢) بنى المصريون القدماء مقابرهم من الطوب اللبن حفاظاً على جسد المتوفى.
- ( ) ٣) كانت منازل العمال فى مصر القديمة ملحقة بمخازن الحبوب.
- ( ) ٤) اعتمدت فنون العمارة فى مصر الفرعونية على الموارد الطبيعية لمصر.
- ( ) ٥) يعتبر فن الرسم والنقش من الفنون التى تميزت بها الحضارة المصرية القديمة.
- ( ) ٦) بنى المصري القديم معابد الآلهة ومنها معبد حتشبسوت.
- ( ) ٧) تأثر فن الرسم عند المصريين القدماء بالبيئة المصرية الطبيعية.
- ( ) ٨) استطاع العلماء فى العصر الحديث التوصل لحقيقة كيفية بناء الأهرامات.
- ( ) ٩) برع المصريون القدماء فى جميع الفنون المعمارية والهندسية.
- ( ) ١٠) المصريون القدماء لم يهتموا ببناء المقابر.
- ( ) ١١) أشهر الحصون لدى المصريين القدماء كان حصن بوهين على الحدود الشرقية.

- ( ) ١٢) مسلة حتشيسوت من أشهر المسلات الموجودة في معبد أمون.  
 ( ) ١٣) توصل العلماء إلى معرفة كيف تم بناء الهرم الأكبر.

### (٣) اختر الإجابة الصحيحة مما بين الأقواس :

- بنى المصريون القدماء منازلهم من .....  
 (الطوب الأحمر - الطوب اللبن - الحجارة - البوص)  
 بنى المصرى القديم ..... لأغراض دينية.  
 (الحصون - المعابد - الأهرامات - القصور)  
 ساعد على حفظ رسوم ونقوش المصريين القدماء حتى وقتنا الحالى .....  
 (موقع م مصر - موارد مصر - مناخ مصر - تضاريس مصر)  
 بنى المصرى القديم معابد جنائزية منها معبد .....  
 (حتشيسوت - الأقصر - الكرنك - إدفو)  
 يدل بناء الأهرامات على براعة المصرى القديم فى علم .....  
 (الكيمياء - التاريخ - الأحياء - الفلك)  
 كانت مخازن الحبوب فى مصر القديمة توجد فى منازل .....  
 (الملك - حكام الأقاليم - عمال الزراعة - عمال الصناعة)  
 قام المصريون القدماء ببناء منازلهم باستخدام الطوب .....  
 (الأسمنتى - الحرارى - اللين - الزجاجي)  
 الطبقة التي كانت تتميز منازلها بالبساطة وتكونت من طابق أو طابقين طبقة .....  
 (الوزراء - كبار الكهنة - حكام الأقاليم - العمال)  
 استخدم المصرى القديم شبكة ..... لرسم الأجزاء بدقة .  
 (المثلثات - المربعات - الدوائر - المخروطات)  
 يعد الهرم الأكبر دليلاً على عبقرية المصرى القديم فى مجال .....  
 (الزراعة - العمارة - الطب - الصناعة)

### (٤) فسر مع ذكر السبب:

١) بناء المصريين القدماء المقابر من الحجر.

٢) بناء المصريين القدماء للحصون.

٣) قيام المصريين القدماء بإنشاء المسلات.

٤) أهمية شبكة المربعات التي استخدمها المصري القديم في رسم لوحاته.

٥) يعد الهرم الأكبر دليلاً قاطعاً على عبقرية المصري القديم في الفلك.

٦) سبب بقاء الرسوم والنقوش المصرية القديمة حتى وقتنا الحالي.

٧) اختلفت بيوت المصريين القدماء من حيث مساحتها وعدد حجراتها .

**(٥) اكتب ما تشير إليه العبارات الآتية:**

١) أشهر الحصون عند المصريين القدماء على الحدود الجنوبية لمصر.

٢) عبارة عن برج أو عمود من الحجر له أربعة جوانب وينتهي بشكل هرمي صغير.

٣) مبانٍ بنيت ليقيم فيها طقوس الجنائز للملك في مصر القديمة.

٤) مبانٍ بنيت ليقيم فيها الطقوس اليومية للإله في مصر القديمة.

٥) يعتبر المرحلة الثانية من مراحل تطور بناء المقابر في مصر الفرعونية.



(٦) ددل على صحة العبارات الآتية:

(١) تطور بناء المقابر عند المصريين القدماء.

(٢) اهتمام المصريين القدماء بالمباني العسكرية.

(٣) اختلفت منازل المصريين القدماء باختلاف طبقات المجتمع.

(٤) أهمية الرسوم والنقوش التي خلفتها الحضارة المصرية القديمة.

(٥) تعد المسلات علامة بارزة فى الفن المعمارى المصرى القديم.

(٦) أهمية إنشاء المصرى القديم للمعابد الجنائزية.

(٧) أجب عن الأسئلة الآتية:

(أ) أمامك أحد أشكال فنون العمارة القديمة ، ادرسه ثم أجب:

١ - يشير الشكل المقابل إلى إحدى علامات الفن المعمارى المصرى القديم، فما هي؟

٢ - مم صنع المصرى القديم تلك الأشكال ؟

٣ - اذكر أشهر هذه الأشكال التى ما زالت موجودة حتى الآن ؟

(ب) أمامك صورة لأحد الآثار المصرية القديمة:

١ - ما أسم الأثر الموجود فى الصورة المقابلة ؟

٢ - ما سبب بناء المصريين القدماء لهذا الأثر ؟ وإلى أى نوع من المباني ينتمى ؟

٣ - اذكر مراحل تطور بناء هذا الأثر ليصل إلى هذا الشكل ؟



تعلم

• برع المصريون القدماء في العديد من العلوم والآداب، وعرفوا الكتابة بكل أنواعها.

س ما هي الكتابة المصرية؟ وما أدواتها ؟

. اخترع المصري القديم الكتابة ليعبر بها عن أفكاره ويتواصل بها مع الآخرين:



أنواع الكتابة عند المصريين القدماء

- اختار في البداية مجموعة من الصور والرسوم.  
- كانت تستخدم في تسجيل أحداث حياته على جدران المعابد.  
- كانت تعد الخط الرسمي للدولة.

١ الكتابة الهيروغليفية

٣ الكتابة الديموطيقية

- استخدمها : أفراد الشعب في جميع نواحي الحياة العامة.

٢ الكتابة الهيروغليفية

- استخدمها رجال الدين (الكهنة) للكتابة على ورق البردي وقطع الخشب.

الأدوات المستخدمة في الكتابة

. استخدم المصري القديم في الكتابة أقلامًا من البوص وحبًا أسود وأحمر وأوراق البردي.

وظيفة الكاتب في الحضارة المصرية القديمة

٢ الأهمية

◀ كانت مهنة الكاتب من أهم المهن في الحضارة المصرية.  
◀ كانت تساعد صاحبها في الوصول للمناصب العليا في الدولة.

١ الأعمال

كان يقوم بتسجيل كل نواحي الحياة المصرية على جدران المعابد والمقابر وعلى ورق البردي.



## س ما أنواع الأدب عند المصريين القدماء ؟

• أبدع المصريون القدماء فى الأدب وتركوا لنا كتابات متنوعة منها :

## الأدب التهذيبي

يتناول الحكم والنصائح التي كان يوجهها الملك لابنه أو أحد الحكماء لتلاميذه.

من أشهر الحكماء :

حيتاح حناب. - أني.

## الأدب القصصي

يتضمن القصص الحقيقية والخيالية التي تعكس حياة المصريين القدماء السياسية والاجتماعية.

مثل:

- قصة الملاح الفريق.  
- قصة سنوحى.

## الأدب الديني

يتناول الحياة بعد الموت وعقيدة البعث والخلود

مثل: -

نصوص الأهرام: سجلت على جدران الأهرامات من الداخل لمساعدة الميت فى الحياة الأخرى.

## أدب المديح

ركز على تمجيد أعمال الملك (الفرعون).

. بفضل هذه الكتابات استطعنا معرفة الكثير عن الثقافة المصرية القديمة.

## س ما أهم العلوم عند المصريين القدماء ؟

## أولا: الطب


١ استخدموا بعض النباتات فى العلاج، وسجلوا ذلك على ورق البردى .

٢ عرفوا الكثير من التخصصات الطبية ؛ كالعيون والأسنان والجراحة.

٣ اكتشفوا الكثير من الأمراض والوصفات الطبية لعلاجها.

٤ برعوا فى تشريح جثث موتاهم أثناء تجهيزها للتحنيط، مما ساعدهم على معرفة أجهزة جسم الإنسان الداخلية والأمراض التي تصيبها.

٥ استخدموا أدوات طبية شبيهة بما نستخدمها الآن كالمشرط والملقاط .



## ثانيا: الفلك

برع المصريون القدماء في علم الفلك ؛ حيث عرفوا :

- ١ - مواقع الكثير من النجوم والكواكب.
- ٢ - التقويم الشمسي وقاموا ب:
  - قسموا السنة إلى ٣٦٥ يوماً مقسمة إلى ١٢ شهراً متساوياً .
  - كل شهر منها ٣٠ يوماً
  - الخمسة أيام الأخيرة أيام أعياد وبعدها يبدأ العام الجديد

## حساب الزمن عند القدماء المصريين

- ◀ قسموا اليوم إلى ٢٤ ساعة متساوية ١٢ ساعة نهاراً ، ١٢ ساعة ليلاً).
- ◀ ابتكر المصريون العديد من ( الاختراعات - الابتكارات ) التي تساعدهم في حساب الوقت.

### أثناء الليل

استخدموا ساعات مائية على شكل مزهريات.

### أثناء النهار

استخدموا المسلات كساعات شمسية لمعرفة الوقت من خلال مراقبة الظل.



### الساعة المائية

- حددت الساعة المائية الوقت بدقة :
- ◀ كانت على شكل مزهريات .
- ◀ كانت الساعة تملأ بالماء.
- ◀ وكان يتم تصريف الماء من خلال ثقب في القاع، وتستغرق هذه العملية ١٢ ساعة بالضبط.



## ثالثا: الهندسة والحساب

◀ برع المصريون القدماء فى علوم الهندسة والحساب عرفوا ( الجمع والطرح والضرب والقسمة والكسور)

وساعدهم ذلك على :

## الحساب

- ◀ حساب مساحة الأرض الزراعية
- ◀ تسجيل رواتب الجنود تحديد قيمة الضرائب بناء على فيضان النيل

## الهندسة

- ◀ تخطيط المدن
- ◀ عرفوا الأشكال الهندسية كالمربع والمستطيل
- ◀ حفر الترع وبناء الأهرامات

## براعة المصريين القدماء فى العلوم

• كان لبراعة المصريين وتقدمهم فى علوم الفلك والهندسة والحساب الأثر العظيم فى بناء المعابد والأهرامات،

والدليل على ذلك

- ◀ أنهم قاموا ببناء معبد الملك رمسيس الثانى ( معبد أبو سمبل ) فى أسوان ، بشكل يتيح لأشعة الشمس إضاءة وجه الملك رمسيس الثانى ووجه أمون رع لمدة تصل إلى عشرين دقيقة مرتين فى العام
- يوم مولد الملك
- ويوم تتويجه على العرش.

ويحرص عدد كبير من السياح على زيارة مصر سنويا للمشاركة فى الاحتفال بهذا الحدث الفريد.

## تدريبات الدرس الرابع

## (١) أكمل العبارات الآتية بما يناسبها من كلمات

- (١) كان الكاتب المصرى القديم يقوم بتسجيل كل نواحي الحياة المصرية على ..... و .....
- (٢) استخدم المصريون القدماء أدوات طبية شبيهة بما نستخدمه الآن مثل .....
- (٣) الخط الرسمى للدولة فى مصر الفرعونية هو.....
- (٤) تتعامد الشمس على وجه رمسيس الثاني فى معبد ..... يوم مولده .
- (٥) عرف المصريون القدماء الأشكال الهندسية مثل ..... و .....
- (٦) الكتابة التى استخدمها عامة الشعب هى الكتابة.....
- (٧) تعددت الأدوات التى استخدمها المصرى القديم فى الكتابة ومنها ..... و .....
- (٨) استخدم رجال الدين فى مصر الفرعونية الكتابة..... بينما أفراد الشعب استخدموا الكتابة.....
- (٩) أشهر الحكماء فى مصر القديمة.....
- (١٠) أشهر القصص عند المصريين القدماء قصة..... وقصة.....
- (١١) استخدم..... فى مصر القديمة الكتابة الهيروغليفية
- (١٢) استخدم المصريون القدماء لحساب الوقت بدقة.....
- (١٣) يزور السياح معبدى أبو سمبل كل عام لمشاهدة تعامد الشمس على وجه الملك.....

## (٢) اكتب كلمة (صواب) أمام العبارة الصحيحة وكلمة (خطأ) أمام العبارة غير الصحيحة :

- ( ) لعب العلم والعلماء دورًا مهمًا فى بناء الحضارة المصرية قديمًا وحديثًا.
- ( ) ترك لنا المصريون القدماء كتابات متنوعة فى الأدب.
- ( ) قسّم المصرى القديم السنة إلى ٣٦٥ يومًا مقسمة إلى ١٢ شهرًا متساويًا.
- ( ) اكتشف المصريون القدماء الكثير من الأمراض والوصفات الطبية.

- ( ) عرف المصريون القدماء التخصصات الطبية المختلفة مثل العيون والأسنان والجراحة )
- ( ) كان لبراعة المصريين القدماء في علم الكتابة أثره العظيم في بناء المعابد.
- ( ) استخدام الكهنة في مصر الفرعونية الكتابة الهيروغليفية
- ( ) كان أفراد الشعب في مصر القديمة يستخدمون الكتابة الديموطيقية.
- ( ) تعتبر قصة الملاح الغريق وقصة سنوحى من الأدب الدينى عند المصريين القدماء )
- ( ) يعكس الأدب التهذيبى حياة المصريين القدماء السياسية والاقتصادية.
- ( ) يتضمن الأدب القصصى قصصاً حقيقية وخيالية تعكس حياة المصريين القدماء.
- ( ) كانت وظيفة الكاتب المصرى القديم تساعد على الوصول للمناصب العليا بالدولة.
- ( ) اكتشف المصريون القدماء الكثير من الأمراض والوصفات الطبية المناسبة لعلاجها.
- ( ) استفاد المصريون القدماء من علم الهندسة فى حساب مساحة الأرض الزراعية.
- ( ) ركز أدب التهذيب على تمجيد أعمال الملك (الفرعون).

### (٣) اختر الإجابة الصحيحة مما بين الأقواس :

- (١) تتعامد الشمس فى معبدى أبو سمبل كل عام مرتين على وجه الملك .....
- (أ)منتخب الرابع - رمسيس الثانى - منتوحتب الثانى - أمنمحات الثالث
- (٢) كانت تعد الخط الرسمى للدولة فى مصر القديمة الكتابة .....
- (أ)الهيروغليفية - الديموطيقية - الهيروغليفية - القبطية
- (٣) عرف المصريون القدماء تسجيل رواتب الجنود نتيجة براعتهم فى علم .....
- (أ)الطب - الهندسة - الفلك - الحساب
- (٤) تعد قصة «الملاح الغريق» وقصة «سنوحى» من أشكال الأدب .....
- (أ)الدينى - القصصى - التهذيبى - المديح

### (٤) فسر مع ذكر السبب:

(١) اختراع المصرى القديم الكتابة.

(٢) معرفة المصرى القديم مواقع الكثير من النجوم والكواكب.

٣) يحرص السياح على زيارة معبد الملك رمسيس الثاني سنوياً.

٤) سجلت نصوص الأهرام على جدران الأهرامات من الداخل.

٥) استطاع المصريون القدماء تحديد قيمة الضرائب.

٦) تعامد الشمس على وجه الملك رمسيس الثاني مرتين في العام.

### (٥) ما النتائج المترتبة على...؟

١) تقدم المصري القديم في فن الكتابة.

٢) براعة المصريين القدماء في تشريح جثث موتاهم.

٣) تقدم المصريين القدماء في علم الحساب.

٤) براعة المصريين القدماء في علم الهندسة.

### (٦) اكتب ما تشير إليه العبارات الآتية:

١) تقويم مصرى قديم قسم السنة إلى ٣٦٥ يوماً مقسمة على ١٢ شهراً.

٢) سجلت على جدران الأهرامات من الداخل لمساعدة الميت في الحياة الأخرى.

٣) أدب يعكس حياة المصريين القدماء السياسية والاجتماعية.



٤) أدب يتناول الحياة بعد الموت وعقيدة البعث والخلود

٥) أدب يتناول الحكم والنصائح التي يوجهها الملك لابنه أو أحد الحكماء.

٦) أدب ركز على تمجيد أعمال الملك (الفرعون).

### (٧) برهن على صحة العبارات الآتية:

١) أدرك المصريون منذ القدم أهمية العلم في بناء الحضارة.

٢) كانت مهنة الكاتب من أهم المهن في الحضارة المصرية القديمة.

٣) عرف المصريون القداماء الكثير من التخصصات الطبية.

٤) برع المصريون القداماء في علم الفلك .

٥) برع المصريون القداماء في علم الحساب.

٦) ابتكر المصريون القداماء العديد من الأشياء التي تساعدهم على حساب الوقت.

٧) تعددت أشكال الأدب عند المصريين القداماء. ( كانت الآداب عند المصريين القداماء متنوعة).

(٨) ما العلاقة بين ...؟

(١) المسلات الفرعونية وحساب الوقت.

(٢) تقدم المصريين في علوم الفلك والهندسة وبناء المعابد والأهرامات .

(٣) السياحة وظاهرة تعامد الشمس على وجه الملك رمسيس الثاني.

(٤) حساب الوقت وتقدم الحضارة المصرية القديمة.

(٩) قارن بين كل من :

١ - الكتابة الهيروغليفية والكتابة الهيرواطيقية.

الكتابة الهيرواطيقية	الكتابة الهيروغليفية
.....	.....
.....	.....
.....	.....

٢ - الأدب التهذيبي وأدب المديح.

أدب المديح	الأدب التهذيبي
.....	.....
.....	.....
.....	.....

٣ - الأدب الديني والأدب القصصي.

الأدب القصصي	الأدب الديني
.....	.....
.....	.....
.....	.....

شخصيات مصربة مؤثرة

محمد أنور السادات

مولده :

ولد محمد أنور السادات في الخامس والعشرين من ديسمبر الرئيس الراحل عام ١٩١٨م في محافظة المنوفية.

أهم أعماله :

التحق بالكلية الحربية.

شارك في ثورة ٢٣ يوليو ١٩٥٢م

وألقي بيانها .

أصبح رئيساً للجمهورية عام ١٩٧٠م.

اتخذ قرار الحرب ضد العدو الإسرائيلي في أكتوبر عام

١٩٧٣م ، والتي انتهت بانتصار الجيش المصري بعد

النصر العظيم.

نادى بالسلام، ودعا العالم كله إلى دعم السلام الدائم في

الشرق الأوسط بعد حروب استنزفت دماء وأموال وجهود

شعوب المنطقة .

معاهدة السلام عام ١٩٧٩م :

تم توقيع معاهدة السلام بين مصر وإسرائيل عام ١٩٧٩م

واستعادت مصر أراضي سيناء كاملة عام ١٩٨٩م.

بطل الحرب والسلام

نال الرئيس الراحل أنور السادات جائزة نوبل للسلام عام

١٩٧٨م ، ولذلك استحق لقب بطل الحرب والسلام بفضل

جهوده المستمرة لإحلال السلام.

ومن أقواله : إن الأمة العربية كلها تقف اليوم للدفاع عن

مقدساتها، وإن من حقها أن تشترك في صنع سلام

حقيقي لا يفرض عليها بقوة السلاح .

املك رمسيس الثاني

يُعد الملك رمسيس الثاني هو ابن الملك سيتي الأول ، تولى الحكم وهو في العشرين من عمره ، وكانت شهرته واسعة بين ملوك مصر والعالم قديماً .



أهم أعماله :

خاض الملك رمسيس الثاني

معركة قادش ضد الحيثيين في العام الخامس

من حكمه وحقق نصراً عليهم؛ لذلك اضطر ملك الحيثيين

إلى إرسال خطاب للملك رمسيس الثاني يطلب فيه الصلح ،

فوافق على هذا الطلب.

عقد معاهدة صلح مع ملك الحيثيين سنة ١٢٨٠ ق.م،

وتعد هذه المعاهدة أقدم معاهدة في التاريخ.

شيد في عهده العديد من المنشآت الضخمة في مناطق

عديدة مثل معبدى «أبو سمبل» في أسوان.

معبد « أبو سمبل »

على مدخل المعبد الكبير من اليمين تمثالان هائلان

لرمسيس الثاني جالسان، يبلغ ارتفاع كل منهما عشرين

متراً.

أما المعبد الصغير يُعرف بمعبد نفررتارى، ويقع على مسافة

نحو ١٥٠ متراً من شمال المعبد الكبير.

يزين واجهة هذا المعبد ستة تماثيل ؛ أربعة منها لرمسيس

الثاني ، والاثنان الآخران لزوجته الملكة نفررتارى.

علاقات مصر مع العامل في الماضي والحاضر

الوحدة الثالثة

التواصل السياسي والعسكري بين مصر والعالم

الدرس الأول

ما علاقات مصر السياسية والعسكرية مع الدول عبر التاريخ؟

• كان لمصر علاقات سياسية وعسكرية مع دول العالم عبر تاريخها الطويل تمثلت في :

الاتفاقيات

عقد المعاهدات



◀ إمداد بعض الدول بالمساعدات العسكرية في حالة الحرب وتبادل الخبرات الحربية والعسكرية مع الدول الأخرى.

◀ لحماية حدودها وحفظ الأمن ونشر السلام وتحقيق رفاهية الشعوب.

حديثا

◀ من أشكال التواصل المصرى السياسي والعسكري :

١ - على مستوى دول القارة الإفريقية

- مشاركة مصر في بعثة للأمم المتحدة لحفظ السلام لدول إفريقيا لدعم الأمن والاستقرار داخلها.



٢ - على مستوى دول العالم

- تحرص مصر على دعم جهود السلام والأمن في كافة أنحاء العالم من خلال المشاركة بقوات مؤهلة تأهلا عاليا في بعثات حفظ السلام التابعة للأمم المتحدة.

- تعد مصر من ضمن الدول العشر الأولى الأكثر إسهاما في بعثات الأمم المتحدة لحفظ السلام على مستوى العالم، وقد أشادت الأمم المتحدة بالمشاركة المصرية في قوات حفظ الأمن.

قديما

◀ كانت علاقات مصر السياسية والعسكرية قديما تتمثل في :

• مشاركة في الحروب

أشترك الفينيقيين مع الملك تحتمس الثالث في معركة مجدو والتي تم من خلالها :

- تأمين حدود مصر الشمالية الشرقية .  
- تدعيم النفوذ المصرى في آسيا .



• معاهدات

كما وقعت مصر قديما مثل معاهدات مع غيرها من الدول مثل توقيع الملك رمسيس الثاني معاهدة السلام مع الحيثيين.

• دفاعات حربية

أنشأ المصريون القدماء العديد من القلاع والحصون في بلاد فينيقيا (سوريا ولبنان) حاليًا لحماية حدود الإمبراطورية المصرية.

. أخذ المصريون عن الهكسوس العربات الحربية.

س ما العلاقات بين مصر والدول العربية ؟



. هناك علاقات سياسية وعسكرية بين مصر و الدول العربية ، مثل :

- ١ - مساندة الدول العربية لمصر وسوريا في حرب أكتوبر ١٩٧٣م.
- ٢ - قيام مصر بإجراء تدريبات عسكرية مشتركة مع العديد من الدول.

◀ العلاقات بين مصر والسودان

• حققت مصر توأصلاً ناجحاً مع جمهورية السودان ؛ فقد وقعت الدولتان :

▶ اتفاقيات للدفاع المشترك

تم توقيعها في مارس ٢٠٢١م. تعد اتفاقاً في مجال التعاون العسكري. تدل على التعاون العسكري بين الدولتين.

- ترسيخ الروابط والعلاقات مع جمهورية السودان في كافة المجالات خاصة العسكرية والأمنية.
- بناء قوات خاصة مسلحة لديها الخبرة العلمية والميدانية وتحقيق الأمن القومي للبلدين.

هدفها

س كيف تتواصل مصر سياسياً مع الدول الأخرى في وقتنا الحالى ؟

◀ تتواصل مصر حالياً من خلال وزارة الخارجية المسنولة عن:

- . تطوير وتعميق علاقات مصرمع غيرها من الدول.
- . حماية مصالح المواطنين في الخارج.

◀ سفارات مصر بالخارج

- يوجد لكل دولة سفارة في الدول الأخرى لتعميق العلاقات بين الدول.
- يوجد لدى مصر سفارات في معظم بلدان العالم حيث :
- تساعد على التواصل الحضارى مع جميع دول العالم.
- يوجد في السفارات العديد من الموظفين الذين يعملون من أجل مصر، مثل:



▶ الملحق السياسي

- يهتم بعلاقات التعاون لحل المشكلات.
- يقوم بدعم تحقيق السلام.

▶ الملحق العسكري

- مسنول عن الشئون العسكرية.
- يقوم بتبادل الخبرات في مجال التدريب والأسلحة.

▶ الملحق الثقافي

- يروج للثقافة المصرية.
- مسنول عن ملف التعليم والبعثات

▶ السفير

- يمثل الدولة المصرية.

## س ما مهارات التواصل السياسي

يوجد العديد من المهارات التي يجب أن تتوافر في وزراء الخارجية والسفراء وغيرهم ممن يعمل في الوظائف الخاصة بمجال العلاقات السياسية والعسكرية بين الدول، منها:



١. حسن الاستماع والإنصات وعدم مقاطعة الطرف الآخر.
٢. احترام المفاوض الآخر والإقناع.
٣. التحلي بالهدوء وضبط النفس.

## تدريبات الدرس الأول

## (١) أكمل العبارات الآتية بما يناسبها من كلمات

- ١) سعى الملك تحتمس الثالث لتدعيم النفوذ المصري في قارة آسيا بعد تأمين الحدود ..... لمصر.
- ٢) شاركت مصر في بعثة الأمم المتحدة لحفظ السلام في دول إفريقيا لدعم .....
- ٣) أخذ المصريون القدامى عن الهكسوس .....
- ٤) المسنول في السفارة عن تبادل الخبرات في مجال التدريب والأسلحة هو الملحق .....

## (٢) اكتب كلمة (صواب) أمام العبارة الصحيحة وكلمة (خطأ) أمام العبارة غير الصحيحة :

- ١) كان لمصر دور مهم في دعم الأمن والاستقرار داخل قارة أوروبا. ( )
- ٢) لمصر علاقات سياسية وعسكرية مع دول العالم عبر تاريخها الطويل. ( )
- ٣) وقعت مصر مع جمهورية السودان اتفاقاً في مجال التعاون العسكري في مارس ٢٠٢١م. ( )
- ٤) أنشأ المصريون القدامى العديد من القلاع والحصون في بونت. ( )
- ٥) سعت مصر لتأمين حدودها الشمالية الغربية بعد معركة مجدو. ( )
- ٦) يهتم الملحق السياسي بالسفارة بملف التعليم والبعثات. ( )
- ٧) يتمتع وزراء الخارجية والسفراء ببعض المهارات مثل الإقناع وضبط النفس. ( )
- ٨) استطاعت مصر إقامة علاقات سياسية قوية مع غيرها من الدول عبر العصور. ( )
- ٩) قدمت بعض الدول العربية الدعم السياسي والعسكري لمصر في حرب أكتوبر ١٩٧٣م. ( )
- ١٠) وقع تحتمس الثالث معاهدة سلام مع الحيثيين في أعقاب معركة مجدو. ( )
- ١١) مصر لديها سفارات في القليل من دول العالم يعمل بها العديد من الموظفين. ( )
- ١٢) تحرص مصر على دعم جهود السلام والأمن في كافة أنحاء العالم. ( )

## (٣) اختر الإجابة الصحيحة مما بين الأقواس :

- (١) نجح الملك تحتمس الثالث في تأمين حدود مصر الشمالية الشرقية بعد معركة .....  
(مجدو - قادش - أكتيوم - رفح)
- (٢) سعى الملك تحتمس الثالث بعد تأمين حدود مصر الشمالية الشرقية لتدعيم النفوذ المصري في قارة .....  
(إفريقيا - آسيا - أوروبا - أستراليا)
- (٣) أخذ المصريون القدماء العربات الحربية عن .....  
(الحيثيين - الهكسوس - الفينيقيين - الأشوريين)
- (٤) وقعت مصرا اتفاقية الدفاع المشترك مع دولة .....  
(المغرب - الجزائر - تونس - السودان)
- (٥) تعمل مصر على التواصل السياسي مع الدول الأخرى من خلال وزارة .....  
(الداخلية - الخارجية - الاستثمار - العدل)
- (٦) عقد الملك رمسيس الثاني معاهدة سلام مع ..... بعد معركة قادش .  
(الأشوريين - الحيثيين - الفينيقيين - اليونانيين)
- (٧) يوجد لمصر في كل سفارة مسنول عن ملف التعليم والبعثات وهو الملحق .....  
(العسكري - السياسي - الثقافي - الاقتصادي)
- (٨) يعد الملحق ..... هو المسنول عن الاهتمام بعلاقات التعاون لحل المشكلات داخل كل سفارة .  
(السياسي - العسكري - الثقافي - الاقتصادي)
- (٩) وقعت مصر اتفاق تعاون عسكري مع دولة ..... في مارس ٢٠٢١م .  
(المغرب - الجزائر - السودان - اليمن)
- (١٠) تعد مصر من ضمن الدول العشر الأولى الأكثر إسهاما في بعثات الأمم المتحدة لـ .....  
(حفظ السلام - توصيل الغذاء - حفظ الصحة - تطوير التعليم)
- (١١) عقد الملك رمسيس الثاني معاهدة سلام مع ..... بعد معركة قادش .  
(الأشوريين - الحيثيين - الفينيقيين - اليونانيين)
- (١٢) ساندت الدول العربية كلاً من ..... في حرب أكتوبر عام ١٩٧٣م .  
(مصر والمغرب - مصر والسودان - مصر والعراق - مصر وسوريا)



## (٤) صوب ما تحته خط

- ١) أخذ المصريون القدمات عن الحيثيين العربات الحربية.
- ٢) يعد المسنول عن الاهتمام بعلاقات التعاون لحل المشكلات داخل كل سفارة هو الملحق العسكري.
- ٣) ساندت الدول العربية مصر والسودان في حرب أكتوبر عام ١٩٧٣م.
- ٤) الموظف المسنول عن تمثيل مصر في سفاراتها المختلفة في العالم هو الوزير.
- ٥) تعد مصر من ضمن الدول العشر الأولى الأكثر إسهاما في بعثات الأمم المتحدة للحفاظ على الصحة.

## (٥) بم تفسر:

- ١ - أهمية التواصل السياسي والعسكري بين مصر ودول العالم.
- ٢ - عقد مصر المعاهدات والاتفاقيات مع الدول الأخرى.
- ٣ - مشاركة مصر في بعثة الأمم المتحدة في إفريقيا.
- ٤ - إنشاء المصريين القدمات العديد من القلاع والحصون.
- ٥ - إقامة مصر علاقات سياسية قوية مع غيرها من الدول عبر العصور.
- ٦ - أهمية التعاون العسكري والسياسي بين كل من مصر والسودان.
- ٧ - أهمية وجود سفارات لدى مصر في معظم بلدان العالم.

## (٦) ما النتائج المترتبة على ...؟

١- سعى مصر للتواصل السياسي مع الدول الأخرى.

٢ - وجود سفارة لمصر فى كل دولة من دول العالم.

٣ - نجاح الاتفاقيات بين مصر والسودان.

## (٧) اكتب ما تشير إليه العبارات الآتية:

١) تقويم مصرى قديم قسم السنة إلى ٣٦٥ يوماً مقسمة على ١٢ شهراً.

٢) سجلت على جدران الأهرامات من الداخل لمساعدة الميت فى الحياة الأخرى.

٣) أدب يعكس حياة المصريين القدماء السياسية والاجتماعية.

٤) أدب يتناول الحياة بعد الموت وعقيدة البعث والخلود

٥) أدب يتناول الحكم والنصائح التي يوجهها الملك لابنه أو أحد الحكماء.

٦) أدب ركز على تمجيد أعمال الملك (الفرعون).

## (٨) ددل على صحة العبارات الآتية:

١ - تسعى مصر لتحقيق التواصل السياسي والعسكري مع دول القارة الإفريقية.

٢ - نجاح علاقات التواصل المصري العسكري والسياسي مع الدول الأخرى عبر التاريخ.

٣ - حققت مصر التواصل السياسي والعسكري مع الدول الأخرى قديما.

٤ - قدمت بعض الدول الدعم السياسي والعسكري لمصر عام ١٩٧٣م.

٥ - تحرص مصر على دعم جهود السلام والأمن في كافة أنحاء العالم.

## (٩) حدد دور كل من :

١ - السفارة.

٢ - السفير .

٣ - الملحق الثقافي.

٤ - الملحق العسكري.

٥ - الملحق السياسي.

## الدرس الثاني

## التواصل العلمي والثقافي بين مصر والعالم

س ما أشكال التواصل العلمي والثقافي بين مصر ودول العالم عبر العصور ؟

حرصت مصر منذ القدم على التواصل العلمي والثقافي مع غيرها من الحضارات، والدليل على ذلك :

## ◀ أولا : تواصل مصر والدول الأخرى فى عهد المصريين القدماء

. استقدم الملك تحتمس الثالث أبناء أمراء البلاد الآسيوية للدراسة في مصر. (بم تفسر)  
ليشربوا على حبها والولاء لها ؛ حتى إذا ما عادوا وحكموا بلادهم ظلت علاقتهم بمصر طيبة.  
. كان كثير من العلماء وطلاب العلم يقدون إلى مصر من دول العالم لطلب العلم. (بم تفسر)  
وذلك لبراعة المصريين القدماء في العلوم المختلفة مثل : الفلك والطب والهندسة والعمارة و الفنون.

## تأثير وتأثر

تأثير الحضارة المصرية على الحضارات الأخرى		تأثر الحضارة المصرية بالحضارات الأخرى
بلاد العراق القديم	اليونان والرومان	أخذت مصر عن بلاد العراق القديم
أخذت عن مصر شكل الهرم المدرج في بناء المعابد.	تأثر كل منهما بالطراز المصرى فى بناء المعابد وخاصة فى بناء الأعمدة بواجهة المعبد.	- رسم الحيوانات الأسطورية المجنحة. - استخدام الأختام.

◀ اخترع المصريون القدماء الكثير من الأدوات التي أخذتها عنهم كل دول العالم، ولا تزال موجودة حتى اليوم، مثل:

◀ الساعة لتحديد الوقت.

◀ الحبر الأسود.

◀ الأطراف الصناعية.



## ثانياً في عصر البطالمة

◀ كان لبناء مكتبة الإسكندرية وجامعة الإسكندرية في عصر البطالمة دور كبير في تحقيق التواصل العلمي والثقافي بين مصر ودول العالم، خاصة بلاد اليونان ، حيث :



- تخرج في جامعة الإسكندرية عدد كبير من طلاب العلم، كما ضمت عدداً من العلماء مثل:
  - إقليدس في الهندسة
  - ماثيتون في التاريخ

## ثالثاً في عصر الرومان

◀ قام الإمبراطور الروماني يوليوس قيصر بـ:

٢ إلا أنه أعطى أسماءً رومانية لشهور السنة.

١ اعتماد التقويم الشمسي المصري.

٤ ولا يزال هذا التقويم يستخدم حتى الآن في كل دول العالم.

٣ إضافة السنة الكبيسة ( ٣٦٦ يوماً ) كل أربع سنوات.

## رابعاً في العصر الحالي

◀ يوجد حالياً تواصل علمي وثقافي بين مصر ودول العالم، ويأخذ أشكالاً متعددة، مثل:

## • المعارض الدولية :- المراكز الثقافية •

- ١ يقوم العديد من الدول بإنشاء مراكز تابعة لها في دول أخرى.
- ٢ تعد المراكز الثقافية وسيلة للتواصل العلمي والثقافي بين دول العالم .
- ٣ من خلال الأنشطة التي تقدمها مثل : الندوات والمؤتمرات ومعارض الفنون ودورات تعلم اللغة.

## • المهرجانات الفنية والثقافية :

## ◀ المؤتمرات العلمية

تعد المؤتمرات العلمية إحدى وسائل التواصل العلمي والثقافي بين شعوب العالم؛ (بم تفسر) حيث تتيح الفرص لمناقش بعض المشكلات وتبادل الأفكار.

## ◀ البعثات العلمية والمنح الدراسية

- تساعد المنح الدراسية الطلاب في الاطلاع على كل ما هو جديد في مجال دراستهم.
- بالإضافة إلى تعرف ثقافات الشعوب الأخرى.

### ◀ جهود الدولة في تشجيع التواصل

تشجع الحكومة المصرية أبناءها على اكتساب المعرفة من خلال:

- تقديم البعثات والمنح الدراسية للطلاب داخل مصر وخارجها، مما يساهم في تبادل الأفكار العلمية والثقافية
- العمل والاجتهاد من أجل إفادة بلدهم.
- تستقبل مصر العديد من الطلاب الوافدين من إفريقيا ودول شرق آسيا لدراسة اللغة العربية والفلسفة وعلوم الدين.

س ما هو اليوم العالمي للعلوم من أجل السلام؟

- يحتفل العالم باليوم العالمي للعلوم من أجل السلام والتنمية في ١٠ نوفمبر من كل عام، وذلك لـ: توعية الشعوب بأهمية العلم ودوره في بناء المجتمعات وتميمتها.

تدريبات الدرس الثاني

(١) أكمل العبارات الآتية بما يناسبها من كلمات

- ١) استقدم الملك تحتتمس الثالث أبناء أمراء البلاد ..... للدراسة في مصر.
- ٢) من الاختراعات المصرية القديمة التي ما زالت تستخدم حتى الآن .....
- ٣) التواصل الحضاري بين الدول يساعد على .....
- ٤) نتيجته لبراعة المصريين القدماء في العلوم المختلفة وقد إليها الكثير من طلاب العلم و .....
- ٥) تأثر الفن في عهد المصريين القدماء ببلاد .....
- ٦) تقديم الدولة البعثات والمنح الدراسية يساهم في..... الأفكار العلمية.
- ٧) أخذ المصريون القدماء من الحضارة العراقية رسم .....
- ٨) من طرق التواصل العلمي والثقافي بين مصر ودول العالم في العصر الحالي .....
- ٩) أول من اخترع الساعة لتحديد الوقت هم .....
- ١٠) تحرص الدول على نشر ثقافتها في الدول الأخرى عن طريق إنشاء .....
- ١١) زاد تأثير مصر ثقافيًا على العالم في العصر البطلمي بعد بناء .....
- ١٢) من أشكال التواصل العلمي بين دول العالم اليوم .....
- ١٣) ظل ولاء الأمراء الآسيويين لمصر قديمًا بسبب .....

(٢) اكتب كلمة (صواب) أمام العبارة الصحيحة وكلمة (خطأ) أمام العبارة غير الصحيحة :

- ١) ظهرت براعة المصريين القدماء في علم الطب والعمارة. ( )
- ٢) التواصل العلمي بين الدول يساعد على تأخرها. ( )
- ٣) لا تزال دول العالم إلى الآن تستخدم نفس التقويم الذي اعتمده الإمبراطور نيولوس قيصر. ( )
- ٤) أحضر الملك رمسيس الثاني أبناء أمراء البلاد الإفريقية إلى مصر. ( )
- ٥) لم تؤثر مصر في ثقافيًا وعلميًا على حضارات البلاد الأخرى. ( )
- ٦) واجهة المعابد المصرية القديمة مأخوذة من الطراز اليوناني والروماني. ( )
- ٧) السنة الكبيسة في الحسابات الفلكية للرومان كانت تأتي كل أربع سنوات. ( )

## (٣) اختر الإجابة الصحيحة مما بين الأقواس :

- ١) أحضر الملك ..... أبناء أمراء البلاد الآسيوية للدراسة في مصر.  
(أمنمحات الأول - رمسيس الثاني - تحتمس الثالث - أحمس الأول)
- ٢) من أشكال التواصل العلمي والثقافي بين الدول .....  
(الصراعات - المعاهدات - الحروب - المؤتمرات)
- ٣) استخدمت مصر الأختام نتيجة لتأثرها بالحضارة في بلاد .....  
(اليونان - فارس - العراق - كوش)
- ٤) تأثر شكل بناء المعابد في بلاد العراق القديم بالفنون المصرية، مثل .....  
( الهرم الأكبر - معبد حتشبسوت - معبد الكرنك - الهرم المدرج )
- ٥) من أشهر مؤرخي العصر البطلمي .....  
( إقليدس - مانيثون - أرشميدس - أرسطو )
- ٦) تستقبل مصر العديد من الطلاب لدراسة علوم الدين من شرق .....  
( آسيا - أوروبا - أمريكا - أستراليا )
- ٧) اعتمد الإمبراطور الروماني ..... على التقويم الشمسي المصري.  
(قسطنطين - يوليوس - هادريان - جستينيان)
- ٨) الحضارات التي تأثرت بالفنون المصرية القديمة .....  
( العراق واليونان - اليونان والصين - العراق والصين - اليونان وبيرو )
- ٩) يحتفل العالم باليوم العالمي للعلوم من أجل السلام والتنمية في ١٠ ..... من كل عام.  
( يوليو - أكتوبر - ديسمبر - نوفمبر )
- ١٠) أخذت مصر عن الحضارة العراقية .....  
(الأهرامات المدرجة - أعمدة المعابد - الحيوانات المنحثة - الحبر الأسود)
- ١١) تساعد ..... الطلاب في الاطلاع على كل ما هو جديد في مجال دراستهم.  
( المعاهدات - الصراعات - الحروب - المنح الدراسية )
- ١٢) ليعتاد أمراء البلاد الآسيوية على الحب والولاء لمصر قام الملك ..... بدعوتهم للدراسة بها.  
(أحمس - تحتمس الثالث - رمسيس الثاني - منتوحتب الرابع)



## (٤) صوب ما تحته خط

- ١) اشتهر مانيتون ببراعته في علم الهندسة.
- ٢) ترحب مصر بالطلاب من شرق أوروبا لدراسة اللغة والفلسفة.
- ٣) أعطى الإمبراطور دقلديانوس لشهور السنة أسماء رومانية.

## (٥) بم تفسر:

- ١) حرص الملك تحتمس الثالث على دراسة أبناء أمراء الجلال الآسيوية في مصر.
- ٢) تعد المؤتمرات العلمية وسيلة للتواصل بين شعوب العالم.
- ٣) احتفال العالم باليوم العالمي للعلوم من أجل السلام والتنمية.
- ٤) مجيء الكثير من طلاب العلم إلى مصر في عهد المصريين القدماء.
- ٥) تعتبر المراكز الثقافية وسيلة مهمة للتواصل الثقافي بين دول العالم.

## (٦) ما النتائج المترتبة على...؟

- ١) تأثر بلاد اليونان والرومان بالعمارة المصرية.
- ٢) حرص الحكومة المصرية على اكتساب أبنائها للمعرفة وتبادل الأفكار الثقافية.

(٧) صنف وسائل التواصل الآتية إلى العصور التي تنتمي إليها :

- ( دراسة أبناء أمراء البلاد الآسيوية في مصر - إرسال البعثات العلمية - دراسة الطلاب في جامعة الإسكندرية القديمة - إقامة المؤتمرات العلمية - إنشاء مكتبة الإسكندرية القديمة - استخدام الأختام )

في العصر الحالي	في عصر البطالمة	في عصر المصريين القدماء
.....	.....	.....
.....	.....	.....
.....	.....	.....

(٨) دلل على صحة العبارات الآتية:

- (١) كان لبناء مكتبة الإسكندرية دور في تحقيق التواصل العلمي والثقافي بين مصر واليونان.

.....

- (٢) حرصت مصر منذ عصر المصريين القدماء على التواصل العلمي والثقافي بين الحضارات.

.....

(٩) حدد دور كل من :

- (١) المراكز الثقافية.

.....

- (٢) المؤتمرات العلمية.

.....

- (٣) المنح الدراسية.

.....

التواصل الاقتصادي بين مصر والعالم

الدرس الثالث

س ما العلاقات الاقتصادية بين مصر والدول الأخرى قديما

◀ بدأت العلاقات التجارية بين مصر ودول العالم منذ القدم:



١ عصر الدولة القديمة

قام الملك سنفرو بإرسال :-

- بعثت تجارية إلى النوبة (شمال السودان) وليبيا
- محملة بالحبوب والكتان والعسل وعادت محملة بالماشية.
- أسطول بحرى يضم أربعين سفينة إلى فينيقيا لإحضار خشب الأرز الذي يستخدم في صناعة السفن والأثاث.

٤ عصر الدولة الحديثة

- أرسلت الملكة حتشبسوت رحلتها التجارية المكونة من خمس سفن كبيرة إلى بلاد بونت لجلب العاج والأخشاب والبخور والقطران والحيوانات النادرة والطيور .
- قام الملك نخاو الثاني برحلته الاستكشافية حول إفريقيا التي استمرت ثلاث سنوات بمساعدة البحارة الفينيقيين لاكتشاف طريق تجاري جديد يمر بأغلب الشواطئ الغربية لإفريقيا.

٢ عصر الدولة الوسطى



زاد النشاط التجاري بين مصر وجيرانها خاصة بعد حفر قناة سيوزستريس في عهد الملك سنوسرت الثالث لتوصيل البحر المتوسط بالبحر الأحمر عن طريق نهر النيل.

٣ عصر دولة البطالمة

اهتموا في بداية حكمهم لمصر بزيادة النشاط التجاري :

- أنشئوا العديد من الموانئ على سواحل البحرين الأحمر والمتوسط.
- صدروا المحاصيل الزراعية والمصنوعات المصرية إلى الدول الإفريقية
- استوردوا المعادن والفيثلة التي استخدموها في تسليح الجيش المصري.

- في نهاية عصر الدولة الحديثة ازدهرت العلاقات التجارية بين مصر وبلاد الإغريق (اليونان)؛ حيث أقام ملوك الأسرة الـ ٢٦ ( مدينة نقراتيس ) بالقرب من إيتاى البارود في البحيرة حاليا ( للتجارة والرعيا اليونانيين).
- أصبحت مدينة نقراتيس مركزا صناعيا وتجاريا ؛ حيث انتشرت بها صناعة الخزف .

## س ما العلاقات الاقتصادية بين مصر والدول الأخرى حديثا

### ◀ تعمل مصر حاليا على:

- دعم تواصلها الاقتصادي مع دول العالم من خلال المشاركة في العديد من المنظمات الاقتصادية مثل : منظمة التجارة العالمية والكميسا (السوق المشتركة لشرق وجنوب إفريقيا).
- وذلك لاستفادة من التجارب الناجحة لتطوير الأنشطة الاقتصادية وزيادة الإنتاج.

### علاقات مصر بإفريقيا

- حرصت مصر خلال تاريخها الطويل على توطيد علاقتها الاقتصادية بقارتنا الإفريقية، وامتدت هذه العلاقات للعصر الحديث حيث أقامت الكثير من المشروعات التنموية في العديد من دول القارة.

◀ وقد قامت مصر بالبدء في تنفيذ مشروع الربط الملاحي بين بحيرة فيكتوريا والبحر المتوسط عن طريق نهر النيل .



### • هدف المشروع:

توصيل البضائع الإفريقية عبر نهر النيل إلى البحر المتوسط ومنها إلى الدول الأوروبية.

### • أهمية المشروع:

• المساهمة في زيادة التبادل التجاري بين مصر ودول إفريقيا.

## س ما دور مصر الريادي في أوقات الأزمات قديما وحديثا

### ◀ قدمت مصر العديد من المساعدات إلى العالم عبر التاريخ، حيث :

#### في العصر الحالي :

#### حديثا

- عندما اجتاح فيروس كورونا العالم بادرت مصر بإرسال المستلزمات الطبية والأدوية اللازمة لكل من الصين وإيطاليا والولايات المتحدة الأمريكية واليمن والأردن والعراق.
- كما أرسلت المستلزمات الطبية والأغذية للشعب السوداني أثناء تعرضه لكارثة السيول عام ٢٠٢٢م.
- أرسلت الكثير من المستلزمات الطبية والأدوية إلى لبنان عام ٢٠٢٢م لمواجهة وباء الكوليرا .
- كما تقدم العديد من المساعدات الغذائية إلى الشعب الفلسطيني .

#### عصر المصريين القدماء :

#### قديما

- فسّر سيدنا يوسف رؤية ملك مصر، وقال إن مصر سوف تصاب بالجفاف الشديد لمدة سبع سنوات، لذلك وضع خطة لمواجهة هذه الأزمة.
- وعندما حل الجفاف عانت كثير من شعوب الدول المجاورة من الجوع ، ولكن مصر كان لديها ما يكفيها من الغذاء لفترة طويلة، فقدمت المساعدات الغذائية لتلك الدول.

## تدريبات الدرس الثالث

## (١) أكمل العبارات الآتية بما يناسبها من كلمات

- ١) أرسل الملك سنفرو بعثات تجارية إلى شمال السودان عادت محملة .....
- ٢) مشروع الربط بين بحيرة فيكتوريا والبحر المتوسط سوف يساعد على التبادل التجارى بين مصر ودول قارة .....
- ٣) زاد النشاط التجارى فى عصر الدولة الوسطى بعد حفر قناة .....
- ٤) أرسل الملك سنفرو أسطولاً يضم ٤٠ سفينة إلى .....
- ٥) قناة سيزوستريس تم حفرها لربط البحر الأحمر بالمتوسط عن طريق نهر .....
- ٦) أرسلت الملكة حتشبسوت رحلتها التجارية لبلاد .....
- ٧) فسر سيدنا يوسف رؤيا ملك مصر بأن مصر ستصاب بالجفاف لمدة .....
- ٨) ساعدت مصر الشعب السودانى أثناء تعرضه لكارثة .....
- ٩) من المشروعات التنموية التى تقوم بها مصر الربط بين البحر المتوسط وبحيرة .....
- ١٠) أصبحت مصر مركزاً صناعياً وتجارياً فى نهاية عصر الدولة .....
- ١١) أرسل الملك سنفرو بعثات تجارية إلى شمال .....

## (٢) اكتب كلمة (صواب) أمام العبارة الصحيحة وكلمة (خطأ) أمام العبارة غير الصحيحة :

- ١) بدأت مصر بمشروع يربط بين بحيرة فيكتوريا والبحر الأحمر. ( )
- ٢) أقامت مصر علاقات تجارية مع الحضارات القديمة في آسيا. ( )
- ٣) زاد النشاط التجارى بين مصر وجيرانها خاصة بعد حفر قناة سيزوستريس في عهد الملك سنوسرت الثالث. ( )
- ٤) قامت مصر بإرسال المساعدات الطبية للصين وإيطاليا فى وقت اجتياح فيروس كورونا العالم. ( )
- ٥) أهمل البطالمة النشاط التجارى فى بداية حكمهم. ( )
- ٦) تشارك مصر فى المنظمات الاقتصادية مثل الكوميسا. ( )

- ( ) ٧ استمرت رحلة الملك نخاو الثاني للدوران حول إفريقيا لمدة أربع سنوات.
- ( ) ٨ منظمة التجارة العالمية من المنظمات الاقتصادية التي تشترك فيها مصر .
- ( ) ٩ أهمل البطالمة النشاط التجاري في بداية حكمهم.
- ( ) ١٠ قل النشاط التجارى بين مصر وجيرانها بعد حفر قناة سيزوستريس.
- ( ) ١١ ساندت مصر شعوب الدول المجاورة عندما حل الجفاف فى عصر المصريين القدماء .
- ( ) ١٢ قدمت مصر العديد من المساعدات الغذائية لشعب فلسطين.

### (٣) اختر الإجابة الصحيحة مما بين الأقواس :

- (١) بدأت مصر فى تنفيذ مشروع الربط الملاحي بين بحيرة فيكتوريا والبحر المتوسط عن طريق نهر.....  
( عطرة - شيبيلي - جوبا - النيل )
- (٢) قامت مصر بعلاقات تجارية مع الحضارات القديمة لقارة آسيا مثل بلاد .....  
(اليونان - فينيقيا - النوبة - الصومال )
- (٣) ازدهرت علاقة مصر التجارية مع بلاد الإغريق فى نهاية عصر الدولة .....  
(الوسطى - القديمة - الحديثة - ما قبل الأسرات )
- (٤) اتحاد اقتصادى يضم دول شرق وجنوب إفريقيا، هو .....  
(اليونيسكو - الفاو - الكوميسا - اليونيسيف )
- (٥) أرسل الملك ..... أسطولاً بحرياً إلى بلاد فينيقيا لإحضار خشب الأرز.  
( سنفرو - زوسر - خفرع - سنوسرت )
- (٦) أحضر الملك سنفرو خشب الأرز الذى يستخدم فى صناعة .....  
( السفن - الورق - العطور - الحلوى )
- (٧) فى عام ٢٠٢٢م أرسلت مصر المستلزمات الطبية للشعب ..... لتعرضه لكارثة السيول.  
( العراقى - الليبيى - السودانى - الأردنى )
- (٨) قام الملك نخاو الثانى بمساعدة البحارة الفينيقيين بالدوران حول قارة .....  
( آسيا - إفريقيا - أستراليا - أوروبا )
- (٩) ازدهرت العلاقات التجارية بين مصر وبلاد الإغريق حيث أقاموا مدينة .....  
( أحياتون - أون - بوتو - نقراطيس )
- (١٠) أرسلت الملكة ..... رحلتها التجارية لبلاد بونت.  
( إياح حتب - حتشبسوت - نفرتيتى - توسرت )

## (٤) صوب ما تحته خط

- ١ بدأت تونس في تنفيذ مشروع الربط الملاحي بين بحيرة فيكتوريا والبحر المتوسط.
- ٢ قلّ التبادل التجارى بين مصر ودول إفريقيا بسبب موقعها الجغرافي.
- ٣ ازدهرت العلاقات التجارية بين مصر وبلاد الإغريق فى الدولة القديمة.
- ٤ فى عام ٢٠٢٢م أرسلت مصر إلى لبنان المساعدات الطبية لمواجهة وباء كورونا.
- ٥ استمر المطرفى مصر سبع سنوات فى عصر المصريين القدماء.
- ٦ منظمة اليونسكو هى اتحاد اقتصادى يضم دول شرق وجنوب إفريقيا.
- ٧ استورد الرومان المعادن والفيلة لتسليح الجيش المصرى.
- ٨ أرسل سنوسرت الثالث رحلة استكشافية حول إفريقيا.

## (٥) فسر مع ذكر السبب:

أهمية تنفيذ مشروع الربط الملاحي بين بحيرة فيكتوريا والبحر المتوسط.

## (٦) ما النتائج المترتبة على ...؟

١ حفر قناة سيزوستريس.

٢ اهتمام مصر بالنشاط التجارى فى عصر البطالمة.

## (٧) رتب الأحداث التاريخية التالية من الأقدم إلى الأحدث

١ - إرسال مصر بعثات إلى السودان فى كارثة السيول - إرسال الملك سنفرو بعثات تجارية لشمال السودان - إرسال الملكة حتشبسوت رحلتها لبلاد بونت

٢ - استيراد مصر المعادن والفيلة فى العصر البطلمى - إرسال مصر المستلزمات الطبية إلى لبنان لمواجهة وباء الكوليرا - قيام الملك «نخاو» برحلة استكشافية حول إفريقيا.

## (٨) ددل على صحة العبارات الآتية:

(١) وجود علاقات تجارية بين مصر ودول العالم القديم.

.....

(٢) دور مصر الريادى فى أوقات الأزمات حديثاً.

.....

(٣) زياده النشاط التجارى فى عصر الدولة الوسطى.

.....

(٤) تعمل مصر على دعم تواصلها الاقصادى مع دول العالم.

.....

(٥) استمرار نمو العلاقات التجارية بين مصر ودول العالم فى عصر الدولة الحديثة.

.....

## (٩) قارن بين كل من :

١ - قناة سيزوستريس وقناة السويس من حيث الوصف والعصر.

وجه المقارنة	قناة سيزوستريس	قناة السويس
الوصف	.....	.....
العصر الذى تم حفرها فيه	.....	.....

٢ - العلاقات التجارية فى عصر الدولة القديمة وعصر الدولة الوسطى.

العلاقات التجارية فى عصر الدولة القديمة	العلاقات التجارية فى عصر الدولة الوسطى
.....	.....
.....	.....
.....	.....
.....	.....



تتيح البورصة المصرية للمواطنين الاستثمار في أى مجال .

### س ما المقصود بالبورصة

◀ سوق منظمة لبيع وشراء الأسهم والسندات.

### تاريخ البورصة المصرية



البورصة المصرية  
The Egyptian Exchange

- أنشئت أول بورصة في مصر بمحافظة الإسكندرية عام ١٨٨٣م.
- بعدها تم إنشاء بورصة في محافظة القاهرة عام ١٩٠٣م.
- ثم أصبحت بورصتا القاهرة والإسكندرية تحت مسمى واحد وهو البورصة المصرية.

### س ما الفرق بين الأسهم والسندات

◀ إذا أردنا الاستثمار في البورصة يمكننا شراء الأسهم أو السندات المطروحة بالبورصة لصالح الشركات أو المصانع .

#### السندات



- هي أوراق مالية تثبت أن مالكيها قدم قرضاً لصاحب المشروع لمدة محددة تمتد من سنة إلى عشر سنوات أو أكثر.
- **صاحب المشروع** يكون مديناً لأصحاب السندات ويدفع لهم فائدة ثابتة ( عائدًا ماديًا ) محددة مسبقًا طوال مدة السند سواء حقق المشروع مكاسب أم لا.
- كما تُرد **قيمة السندات** إلى أصحابها بعد المدة المتفق عليها، وهي أقل مخاطرة من الأسهم.

#### الأسهم



- هي أوراق مالية تجعل صاحبها شريكاً في المشروع ( الشركة / المصنع ) وفق عدد الأسهم التي يشتريها من البورصة.
- **أصحاب الأسهم** يكون لهم الحق في أرباح المشروع حسب عدد الأسهم.
- **الأرباح ليست ثابتة** من عام إلى آخر فقد يحدث خسائر للمشروع، وفي هذه الحالة يتحمل أصحاب الأسهم جميع الخسائر.



إذا كنت ترغب في الاستثمار، يمكنك :

- البدء بالبحث عن شركات مختلفة.
- راقب ما إذا كانت قيمة أسهمهم ترتفع خلال فترة زمنية محددة، ثم اختر الشركة التي تود الاستثمار فيها.



◀ شراء الأسهم والسندات يحقق أرباحًا وفوائد، ولكن نحتاج إلى متخصصين.

◀ مسامرة البورصة هم أشخاص

في شرا



ما أهمية البورصة بالنسبة إلى الاقتصاد المصري

◀ توفر البورصة التمويل اللازم لأصحاب المشروعات ؛ مما يؤدي إلى :



- ✓ زيادة الإنتاج
- ✓ زيادة الاستثمارات
- ✓ تشغيل العمالة
- ✓ ازدهار الاقتصاد المصري

## (١) أكمل العبارات الآتية بما يناسبها من كلمات

- ١) تسمح البورصة للمواطنين بـ .....
- ٢) تم إنشاء أول بورصة مصرية في محافظة .....
- ٣) تم دمج بورصة الإسكندرية وبورصة القاهرة وأطلق عليهما .....
- ٤) الاستثمار في البورصة يتم عن طريق شراء .....
- ٥) أنشأت مصر ثاني بورصة في محافظة .....
- ٦) يعتبر صاحب الأسهم شريكا في المشروع حسب عدد الأسهم التي ..... من البورصة.
- ٧) تتميز السندات عن الأسهم بأن لها ..... محددة.
- ٨) صاحب السندات يمكن أن يمتلكها لمدة تتراوح بين ..... إلى ..... سنوات أو أكثر.
- ٩) تعتبر السندات قرصاً على .....
- ١٠) تساهم البورصة في ..... الاقتصاد المصري.
- ١١) الأشخاص الذين لهم الحق في أرباح المشروع حسب عدد الأسهم .....
- ١٢) تسمح البورصة المصرية لـ ..... الاستثمار في أي مجال.
- ١٣) يحصل صاحب السندات على عائد ..... ثابت.
- ١٤) يقدم سماسرة البورصة مشورة للأشخاص في ..... و ..... الأسهم.
- ١٥) أولى خطوات الاستثمار في البورصة البحث عن ..... مختلفة.

## (٢) اكتب كلمة (صواب) أمام العبارة الصحيحة وكلمة (خطأ) أمام العبارة غير الصحيحة :

- ١) أرباح الأسهم تكون ثابتة من عام لآخر. ( )
- ٢) يجب البحث عن الشركات التي تريد الاستثمار بها في البورصة. ( )
- ٣) يدفع صاحب المشروع لأصحاب السندات فائدة ثابتة في المكسب والخسارة. ( )

- ( ) ٤ لا ترد قيمة السندات إلى أصحابها بعد المدة المتفق عليها.
- ( ) ٥ للاستثمار في شركة ما في البورصة علينا مراقبة أسهمها .
- ( ) ٦ تقوم البورصة المصرية بتمويل أصحاب المشروعات.
- ( ) ٧ تجعل الأسهم صاحبها المالك الوحيد للمشروع.
- ( ) ٨ أقصى مدة زمنية لامتلاك السندات هي خمس سنوات.
- ( ) ٩ تم إنشاء البورصة في محافظة القاهرة قبل إنشاء البورصة في محافظة الإسكندرية.

### (٣) اختر الإجابة الصحيحة مما بين الأقواس :

- ١) المكان المسئول عن شراء الأسهم والسندات .....  
( المكاتب المالية - البورصة - البنوك - مكاتب البريد )
- ٢) تم دمج كل من بورصة الإسكندرية وبورصة ..... تحت مسمى البورصة المصرية .  
( الشرقية - السويس - القاهرة - الجيزة )
- ٣) الأوراق المالية التي يكون صاحبها شريكا في المشروع .....  
( الأسهم - الصادرات - السندات - الواردات )
- ٤) أول بورصة مصرية كانت في محافظة .....  
( السويس - الإسكندرية - القاهرة - الغربية )
- ٥) أوراق مالية يقدم صاحبها قرضاً لصاحب المشروع وهي محددة بمدة زمنية .....  
( الأسهم - الصادرات - السندات - الواردات )
- ٦) صاحب ..... يكون مديناً لأصحاب السندات.  
( الأسهم - المنزل - المشروع - البيت )
- ٧) يتحمل أصحاب ..... حجم الخسائر للمشروع .  
( السندات - المشروعات - الأسهم - المنازل )
- ٨) يدفع صاحب المشروع عائداً..... لأصحاب السندات.  
( مادياً - معنوياً - حسيّاً - روحياً )
- ٩) نتج عن توفير البورصة التمويل لأصحاب المشروعات زيادة .....  
( الاستثمارات - الصادرات - الواردات - النفقات )
- ١٠) يتحمل أصحاب ..... الخسائر الخاصة بالمشروع.  
( الودائع - الأسهم - القروض - السندات )
- ١١) تختلف كل من الأسهم والسندات في تحمل أصحابها .....  
( المكسب - الأرباح - الفائدة - الخسارة )

## (٤) صوب ما تحته خط

- ١) سوق منظمة لبيع وشراء الأسهم والسندات هي البنوك.
- ٢) أنشأت مصر ثانى بورصة فى محافظة الإسكندرية.
- ٣) الأسهم أوراق مالية تثبت أن مالكةا قدم قرضاً لصاحب المشروع لمدة محددة.

## (٥) فسر مع ذكر السبب:

- ١) عدم حصول أصحاب الأسهم على أرباح ثابتة من عام لآخر.
- ٢) أهمية البورصة المصرية للاقتصاد المصرى .
- ٣) أهمية سماسة البورصة للمواطنين .

## ٤ اكتب ما تشير إليه العبارات الآتية:

- ١) متخصصون يقدمون المشورة للمواطنين لشراء وبيع الأسهم فى البورصة .
- ٢) توفر التمويل اللازم لأصحاب المشروعات.
- ٣) أوراق مالية تجعل صاحبها شريكا فى المشروع.
- ٤) تتيح للمواطنين الاستثمار فى أى مجال.
- ٥) أشخاص لهم الحق فى أرباح المشروع.
- ٦) أوراق مالية تثبت أن مالكةا قدم قرضاً لصاحب المشروع لمدة محددة.
- ٧) سوق منظمة لبيع وشراء الأسهم والسندات.

(٦) ما النتائج المترتبة على ...؟

(١) توفير البورصة التمويل اللازم لأصحاب المشروعات.

(٢) عدم ثبات أرباح الأسهم من عام إلى آخر.

(٣) إصدار البورصة للأسهم والسندات.

(٧) رتب الأحداث التاريخية التالية من الأقدم إلى الأحدث

١ - إطلاق مسمى البورصة المصرية على بورصتى القاهرة والإسكندرية.

٢ - إنشاء بورصة لمصر فى محافظة الإسكندرية.

٣ - إنشاء بورصة فى محافظة القاهرة.

ما العلاقة بين ...

(١) البورصة وتشغيل العمالة.

(٢) صاحب المشروع وصاحب السند .

(٣) البورصة المصرية والاقتصاد المصرى.

(٤) البورصة المصرية والمواطنين.

(٩) قارن بين كل من :

الأسهم والسندات من حيث التعريف

السندات	الأسهم	وجه المقارنة
.....	.....	التعريف
.....	.....	

## هينات مؤثرة في المجتمع المصري

## دار الأوبرا المصرية ( المركز الثقافي القومي )

- يقع المركز الثقافي القومي المتعارف عليه باسم (دار الأوبرا المصرية) في القاهرة، وقد افتتح في عام ١٩٨٨ م ، ويعد هذا الصرح الثقافي الكبير هو البديل عن دار الأوبرا التي بنيت في عهد الخديو إسماعيل في حي الأزبكية بوسط القاهرة عام ١٨٦٩م.



## ◀ وأصبح المركز الثقافي القومي أحد

## أهم المنارات الثقافية في مصر، حيث:

- يقدم الفنون والأنشطة الإبداعية مثل العروض والمهرجانات الموسيقية والمعارض الفنية .
- يعمل على استمرار التواصل الثقافي القومي والعالمي، فيجمع بين العروض العالمية وبين الفن الشعبي والتراثي
- يضم المركز الثقافي القومي عدداً من المسارح، بالإضافة إلى مكتبة تحتوي على كتب عربية وأجنبية في مجالات مختلفة والعديد من الأعمال والمؤلفات الموسيقية المصرية والأجنبية.
- كما أقيم متحف للمركز الثقافي القومي ليضم الأعمال الفنية منذ إنشائه حتى الآن .
- واستمرارا لاهتمام مصر بالثقافة والإبداع تم إنشاء دار الأوبرا في مدينة الفنون بالعاصمة الإدارية الجديدة، والتي تعد من أكبر المشاريع الثقافية في مصر والشرق الأوسط.

## مكتبة الإسكندرية

- شيدت مكتبة الإسكندرية في عصر البطالمة ، واعتبرت منارة العلم والمعرفة في العالم القديم، وكانت تحتوي على حوالى نصف مليون مخطوطة لأشهر العلماء في ذلك الوقت ، منهم أفلاطون وأرسطو وهيرودوت، وشهدت المكتبة نهضة وازدهارا ثقافيا كبيرا، ولكنها احترقت.



- وقد تم إنشاء مكتبة الإسكندرية الجديدة في نفس المكان الذى كانت تشغله المكتبة القديمة إحياء لذكراها ، وافتتحت عام ٢٠٠٢ م ، وهى ليست مجرد مكتبة ، وإنما مجمع ثقافي يضم الآلاف من الكتب والخرائط النادرة
- ◀ وتحتوى المكتبة على ست مكتبات متخصصة، منها:
- ١ - مكتبة الطفل، ومكتبة المواد السمعية والبصرية، ومكتبة طه حسين للمكفوفين وضعاف البصر.
- ٢ - كما تضم عدة متاحف منها متحف تاريخ العلوم ومتحف الآثار، بالإضافة إلى العديد من المراكز البحثية.
- تنظم المكتبة أنشطة كثيرة للأطفال والشباب، وذوى الاحتياجات مثل ورش العمل والبرامج الصيفية ومشاهدة الأفلام العالمية والمسرحيات والمعارض والندوات.

السؤال الأول (أ) أمامك خريطة صماء لمصر , اكتب مدلول الأرقام عليها :



- ١ - أكثر المدن المصرية ازدهاماً .....
- ٢ - محافظة يقل فيها تركيز السكان .....
- ٣ - من المحافظات الجاذبة للسكان .....
- ٤ - البحر .....
- ٥ - الصحراء .....

(ب) بم تفسر : ارتفاع الكثافة السكانية في الريف المصرى ؟

.....

السؤال الثاني: (أ) اكتب كلمة (صواب) أمام العبارة الصحيحة وكلمة (خطأ) أمام العبارة غير الصحيحة:

- ١- تعمل الدولة المصرية على جذب السكان للسكن في المدن الجديدة ( )
- ٢ - يهتم الملحق السياسى بالسفارة بملف التعليم والبعثات. ( )
- ٣ - بنى المصريون القدماء منازلهم من الطوب اللبن. ( )
- ٤- دمر الجيش المصرى خط بارليف فى ٦ ساعات فى حرب أكتوبر ١٩٧٣م. ( )
- ٥ - تشارك مصر فى المنظمات الاقتصادية مثل الكوميسا. ( )

(ب) الصورة التى أمامك تعبر عن أحد فنون العمارة فى مصر القديمة، ادرسها ثم أجب :



- ١ - يشير هذا الشكل إلى : .....
- ٢ - الغرض منها : .....

السؤال الثالث : (أ) اختر الإجابة الصحيحة مما بين القوسين :

- ١ - نفذت مصر الكثير من المشروعات التنموية فى قارة ..... (آسيا - أوروبا - أمريكا - إفريقيا)
- ٢ - يدفع صاحب المشروع عائدًا ..... لأصحاب السندات. (ماديًا - معنويًا - حسيًا - روحيًا)



- ٣ - الفئة التي تصنف على أنها غير منتجة وتقع في قمة الهرم السكاني .....
- ( صغار السن - كبار السن - متوسطى السن - الشباب )
- ٤ - يعد الهرم الأكبر دليلاً على عبقريّة المصري القديم في مجال .....
- ( الزراعة - العمارة - الطب - الصناعة )
- ٥ - عرف المصريون القدماء تسجيل رواتب الجنود نتيجة براعتهم في علم .....
- ( الطب - الهندسة - الفلك - الحساب )
- ٦ - أول من دعا إلى عبادة إله واحد في مصر القديمة الملك .....
- ( أمنمحات الأول - سنوسرت الثالث - أمنحتب الرابع - بيبى الثاني )

(ب) قارن بين التركيب العمري والتركيب النوعي من حيث التعريف:

التركيب العمري .....

التركيب النوعي .....

### السؤال الرابع: (أ) لمن تنسب الأعمال الآتية...؟

- ١ - قام باستكمال بناء مدينة الإسكندرية.
- ٢ - حرر مصر من غزو الهكسوس .
- ٣ - أوراق مالية تجعل صاحبها شريكا في المشروع.
- ٤ - انتصر على الحيثيين في معركة قادش .
- (ب) اكتب نتيجة واحدة لـ: - اعتقاد المصريين القدماء في البعث والخلود.

### اختبار ٢

السؤال الأول ( أ ) أمامك خريطة صماء لمصر , اكتب مدلول الأرقام عليها :



- ١ - يشير رقم (١) إلى محافظة جاذبة للسكان .....
- ٢ - يشير رقم (٢) إلى محافظة نادرة السكان .....
- ٣ - يشير رقم (٣) لأحد أكبر المناطق كثافة سكانية .....
- ٤ - يشير رقم (٤) إلى البحر .....
- ٥ - يشير رقم (٥) إلى الصحراء .....

(ب) ما العلاقة بين المسلات في مصر القديمة وحساب الوقت ؟

.....

السؤال الثاني: (أ) اكتب كلمة (صواب) أمام العبارة الصحيحة وكلمة (خطأ) أمام العبارة غير الصحيحة:

- ١ - الأشخاص الذين تتراوح أعمارهم من ١٥ - ٦٤ سنة ( يمثلون قمة الهرم السكاني في مصر. ) ( )
- ٢ - تأثر فن الرسم عند المصريين القدماء بالطبيعة المصرية. ( )
- ٣ - السنة الكبيسة في الحسابات الفلكية للرومان كانت تأتي كل خمس سنوات. ( )
- ٤ - العنب والزيتون من المحاصيل الزراعية التي أدخلها الرومان إلى مصر. ( )

(ب) قارن بين مصر في عصرى البطلمة والرومان من حيث الزراعة والصناعة.

وجه المقارنة	مصر في عصر البطلمة	مصر في عصر الرومان
الزراعة	.....	.....
الصناعة	.....	.....

السؤال الثالث: (أ) اختر الإجابة الصحيحة مما بين القوسين :

- ١ - يتحمل أصحاب ..... حجم الخسائر الخاصة بالمشروع.  
( الودائع - الأسهم - القروض - السندات )
- ٢ - الفئنة التي تصنف على أنها غير منتجة وتمثل قاعدة الهرم السكاني هي .....  
( صغار السن - كبار السن - متوسطو السن - الشباب )
- ٣ - أى من العناصر الآتية يعد . . . حلاً مناسباً لمشكلة الزيادة السكانية ؟  
( ارتفاع معدل النمو السكاني - تنظيم الأسرة - تفضيل الذكور على الإناث - إنجاب الكثير من الأطفال )
- ٤ - تعرضت مصر في عصر الدولة القديمة لهجوم بعض القبائل على حدودها .....  
( الشمالية الشرقية - الجنوبية الغربية - الجنوبية الشرقية - الشمالية الغربية )

(ب) ما النتائج المترتبة على ... ؟

- ١ - براعة المصريين القدماء فى تشريح جثث موتاهم.

.....

٢ - هزيمة الملكة كليوباترا السابعة معركة أكتيوم عام ٣١ ق.م.

### السؤال الرابع: (أ) صوب ما تحته خط

- ١ - أصدرت الدولة المصرية قوانين **تسمح** بعمل الأطفال قبل إتمام التعليم الأساسي.
- ٢ - زار الإسكندر الأكبر معبد الإله **رع** بواحة سيوة.
- ٣ - منظمة **اليونسكو** هي اتحاد اقتصادى يضم دول شرق وجنوب إفريقيا.
- ٤ - سوق منظمة لشراء الأسهم والسندات هي **البنوك**.
- ٥ - الموظف المسنول عن تمثيل مصر في سفاراتها المختلفة فى العالم هو **الوزير**.

(ب) بم تفسر ؟.. - حرص الملك تحتمس الثالث على دراسة أبناء أمراء البلاد الآسيوية فى مصر.

### اختبار ٣

### السؤال الأول (أ) أكمل الجمل الآتية :

- ١ - الهرم السكاني يساعدنا فى تقدير احتياجات السكان من .....
- ٢ - قام الإسكندر الأكبر بالشروع فى بناء مدينة ..... لتكون عاصمة للبلاد.
- ٣ - أكثر المدن المصرية ازدحاما بالسكان مدينتا ..... و .....
- ٤ - وقعت مصر اتفاقية الدفاع المشترك مع دولة .....
- ٥ - أشهر معارك رمسيس الثانى ضد الحيثيين معركة .....

(ب) ما النتائج المترتبة على ؟... - حفر الملك سنوسرت الثالث قناة سيزوستريس .

السؤال الثاني: (أ) اكتب كلمة (صواب) أمام العبارة الصحيحة وكلمة (خطأ) أمام العبارة غير الصحيحة:

- ١ - أقصى مدة زمنية لامتلاك السندات هي عشر سنوات فأكثر. ( )
- ٢ - تعتبر قصة الملاح الغريق من الأدب الدينى عند المصريين القدماء. ( )
- ٣ - تحتل مصر المرتبة الثالثة إفريقياً من حيث عدد السكان. ( )
- ٤ - استمرت رحلة الملك نخاو الثانى للدوران حول إفريقيا لمدة أربع سنوات. ( )

(ب) ما المقصود بـ ...؟

- ١ - التركيب النوعى : .....
- ٢ - الهجرة : .....

السؤال الثالث: (أ) اختر الإجابة الصحيحة مما بين القوسين :

- ١ - كان ينتمى ..... إلى الطبقة الرابعة في مصر الفرعونية. (حكام الأقاليم - صغار الموظفين - صغار الحرفيين - قادة الجيش)
- ٢ - زيادة متوسط عمر الفرد وانخفاض الوفيات في مصر نتيجة الاهتمام بالرعاية ..... (الاجتماعية - الثقافية - الصحية - السياحية)
- ٣ - بنى المصرى القديم معابد جنائزية منها معبد ..... (حتشبسوت - الأقصر - الكرنك - إدفو)
- ٤ - المكان المنسول عن شراء الأسهم والسندات ..... (مكاتب مالية - البورصة - البنوك - مكاتب البريد)

(ب) يم تفسر ...؟

- ١ - اهتمام المصرى القديم بالحفاظ على جسم الميت بعد وفاته.

- ٢ - استطاع المصريون القدماء تحديد قيمة الضرائب.

السؤال الرابع: (أ) اكتب ما تشير إليه العبارات الآتية:

- ١ - إلهة الحق والعدل عند المصريين القدماء.
- ٢ - سجلت على جدران الأهرامات من الداخل لمساعدة الميت فى الحياة الأخرى.
- ٣ - متخصصون يقدمون المشورة للمواطنين لشراء وبيع الأسهم فى البورصة.

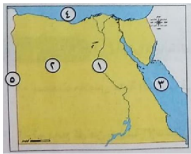
٤ - أدب يعكس حياة المصريين القدماء السياسية والاجتماعية.

٥ - أوراق مالية تثبت أن مالكاها قدم قرضاً لصاحب المشروع لمدة محددة.

(ب) ما العلاقة بين ... ؟ الأفراد في سن ( ١٥ - ٦٤ سنة ) واقتصاد الدولة.

### اختبار ٤

السؤال الأول ( أ ) أمامك خريطة صماء لمصر , اكتب مدلول الأرقام عليها :



١ - نهر .....

٢ - الصحراء .....

٣- البحر .....

٤- البحر .....

٥ - دولة .....

(ب) ماذا يحدث إذا لم ..؟ يتم حفر قناة سيزوستريس.

السؤال الثاني: (أ) صوب ما تحته خط

١ - اشتهر **ماتيتون** ببراعته في علم الهندسة.

٢ - ضعفت دولة البطالمة بعد بطلميوس **الأول**.

٣ - استورد **الرومان** المعادن والفيطة لتسليح الجيش المصرى.

٤ - **الخلود** هو الحياة مرة أخرى بعد الموت.

٥ - **الأسهم** أوراق مالية تثبت أن مالكاها قدم قرضاً لصاحب المشروع لمدة محددة.

(ب) حدد أسباب الزيادة السكانية في مصر.

السؤال الثالث : (أ) اختر الإجابة الصحيحة مما بين القوسين :

- ١ - صنعت ملابس عامة الشعب في مصر الفرعونية من .....  
( الكتان - القطن - الحرير - الصوف )
- ٢ - تم دمج كل من بورصة الإسكندرية وبورصة ..... تحت مسمى البورصة المصرية.  
( الشرقية - السويس - القاهرة - الجيزة )
- ٣ - من أهم الآثار البطلمية في مصر معبد .....  
( حتشبوت - آمون - إدفو - الأقصر )
- ٤ - تحولت مصر إلى ولاية رومانية بعد هزيمة كليوباترا في معركة ..... البحرية.  
( أبى قير - أكتيوم - قادش - مجدو )

(ب) الصورة التي أمامك تعبر عن أحد الآثار البطلمية في مصر، وضح:

١ - اسم هذا الأثر.

٢ - الهدف من إنشائه :



السؤال الرابع: (أ) أكمل العبارات الآتية

- ١ - تحرص الدول على نشر ثقافتها في الدول الأخرى عن طريق إنشاء .....
- ٢ - انتصرت مصر في حرب أكتوبر عام ١٩٧٣م على الجيش .....
- ٣ - أكثر المحافظات المصرية جذباً للسكان .....
- ٤ - أرسل الملك سنفرو أسطولاً يضم ٤٠ سفينة إلى .....

(ب) صنف وسائل التواصل الآتية إلى العصور التي تنتمي إليها في الجدول الآتي:

(دراسة أبناء أمراء البلاد الآسيوية في مصر - إرسال البعثات العلمية - إقامة المؤتمرات العلمية - استخدام الأختام).

في العصر الحالي

في عصر المصريين القدماء

السؤال الأول (أ) أملك خريطة صماء لمصر , اكتب مدلول الأرقام عليها :



- ١ - يشير الرقم (١) إلى محافظة يقل فيها تركيز السكان .....
- ٢ - يشير الرقم (٢) إلى منطقة تزداد بها الكثافة السكانية .....
- ٣ - يشير الرقم (٣) إلى البحر .....
- ٤ - يشير الرقم (٤) إلى بحيرة .....
- ٥ - يشير الرقم (٥) إلى دولة .....

(ب) برهن على صحة العبارة الآتية: ابتكر المصريون القدماء العديد من الأشياء التي تساعدهم على حساب الوقت.

السؤال الثاني: (أ) اكتب كلمة ( صواب ) أمام العبارة الصحيحة , وكلمة ( خطأ ) أمام العبارة غير الصحيحة

- ١ - ظهر اختراع الأطراف الصناعية في عصرنا الحالي.
- ٢ - أقامت مصر علاقات تجارية مع الحضارات القديمة في آسيا.
- ٣ - لم تتأثر مصر بالحضارات الأخرى.
- ٤ - تزداد الكثافة السكانية في مصر في محافظات الحدود الصحراوية.
- ٥ - تتساوى قاعدة الهرم السكاني مع قمته في مصر.

(ب) بم تفسر ... ؟ ارتفاع الكثافة السكانية في الريف المصري.

السؤال الثالث : (أ) اكتب ما تشير إليه كل عبارة من العبارات التالية :

- ١ - أشهر الحصون عند المصريين القدماء على الحدود الجنوبية لمصر.
- ٢ - الفرق بين المواليد والوفيات في فترة معينة .
- ٣ - أدب يتناول الحياة بعد الموت وعقيدة البعث والخلود.
- ٤ - مبانٍ بنيت لتقام فيها طقوس الجنازة للملك في مصر القديمة.

(ب) رتب الأحداث التاريخية من القديم إلى الحديث:

( رحلات نخاو الثاني للدوران حول إفريقيا - إرسال الملك سنفرو بعثات تجارية إلى شمال السودان - إرسال الملكة حتشبسوت رحلتها لبلاد بونت - إدخال مصر محاصيل زراعية جديدة مثل العنب).

.....  
.....

### السؤال الرابع: (أ) أكمل العبارات الآتية

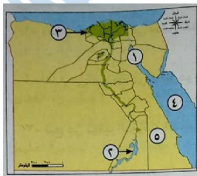
- ١ - تساهم البورصة في ..... الاقتصاد المصري.
- ٢ - اشتهر المصري القديم بنحت التماثيل ومن أشهرها تمثال .....
- ٣ - الفنة العمرية التي تحتل قمة الهرم السكاني لمصر هي فنة .....
- ٤ - استخدم رجال الدين في مصر الفرعونية الكتابة .....

(ب) حدد أوجه التشابه والاختلاف بين قناة سيزوستريس وقناة السويس.

قناة السويس	قناة سيزوستريس	أوجه المقارنة
..... .....	..... .....	أوجه الشبه
..... .....	..... .....	أوجه الاختلاف

### اختبار ٦

السؤال الأول ( أ ) أمامك خريطة صماء لمصر , اكتب مدلول الأرقام عليها :



- ١ - خليج .....
- ٢ - بحيرة .....
- ٣ - من المحافظات التي يهاجر إليها السكان .....
- ٤ - البحر .....
- ٥ - الصحراء .....



(ب) بم تفسر ...؟ - ارتفاع النمو السكاني في مصر.

السؤال الثاني: (أ) اكتب كلمة ( صواب ) أمام العبارة الصحيحة , وكلمة ( خطأ ) أمام العبارة غير الصحيحة

- ١ - وحد الملك خفرع جيوش أقاليم مصر وقام بتنظيمها لصد هجمات القبائل . ( )
- ٢ - ازدهرت الزراعة أثناء حكم البطالمة لمصر . ( )
- ٣ - بنى المصريون القدماء مقابرهم لدفن موتاهم . ( )
- ٤ - تنظيم الأسرة يساعد على زيادة معدل النمو السكاني . ( )
- ٥ - تربية الأبناء وتعليمهم القيم الحميدة من مسئوليات الأب فقط . ( )

(ب) دلل على صحة العبارة الآتية: براعة الملك تحتمس الثالث في معركة «مجدو».

السؤال الثالث : (أ) لمن تنسب الأعمال الآتية ...؟

- ١ - أحد الآلهة المصرية القديمة اتخذته مملكة كوش معبوداً رسمياً للدولة.
- ٢ - قامت بتشجيع ابنها لتحرير مصر من الهكسوس .
- ٣ - صد هجمات القبائل على الحدود الشمالية الشرقية لمصر في عصر الدولة القديمة.
- ٤ - وقع أول معاهدة سلام في التاريخ.

(ب) قارن بين معركتي مجدو وقادش من حيث : قائد المعركة ونتائجها.

معركة قادش	معركة مجدو	أوجه المقارنة
.....	.....	قائد المعركة
.....	.....	نتائجها

السؤال الرابع: (أ) اختر الإجابة الصحيحة مما بين الأقواس

- ١ - صغار الموظفين في مصر القديمة كانوا ينتمون إلى الطبقة .....
- ( الأولى - الثانية - الثالثة - الرابعة )

- ٢ - أقدم دير تم بناؤه في مصر هو دير الأنبا .....
- ( بيشوى - أنطونيوس - سمعان - بخوم )
- ٣ - نتج عن توفير البورصة المصرية التمويل لأصحاب المشروعات زيادة .....
- ( الاستثمارات - الصادرات - الواردات - النفقات )
- ٤ - كانت الريشة رمزًا للإلهة ..... في مصر القديمة.
- ( ماعت - حورس - أوزوريس - رع )
- ٥ - أحضر الملك سنفرو خشب الأرز الذي يستخدم في صناعة .....
- ( السفن - الورق - العطور - الحلى )
- ٦ - « استطاع المصري القديم تحديد قيمة الضرائب بناء على فيضان النيل ». هذه العبارة تدل على تقدم المصري القديم في علم .....
- ( الطب - الهندسة - الفلك - الحساب )

(ب) اكتب نتيجة واحدة ل: نجاح الاتفاقيات بين مصر والسودان.

### اختبار ٧

السؤال الأول ( أ ) أمامك خريطة صماء لمصر ، اكتب مدلول الأرقام عليها :



- ١ - يشير رقم ( ١ ) إلى محافظة .....
- ٢ - يشير رقم ( ٢ ) إلى الصحراء .....
- ٣ - يشير رقم ( ٣ ) لإحدى أكبر المناطق كثافة سكانية .....
- ٤ - يشير رقم ( ٤ ) إلى البحر .....
- ٥ - يشير رقم ( ٥ ) إلى شبه جزيرة .....

(ب) ما العلاقة بين ؟.. المعابد في بلاد العراق والحضارة المصرية القديمة.

السؤال الثاني: (أ) اكتب كلمة ( صواب ) أمام العبارة الصحيحة ، وكلمة ( خطأ ) أمام العبارة غير الصحيحة

- ( ) ١ - كان المصريون يشاركون في حكم بلادهم أثناء حكم البطالمة.

- ٢ - غزا الهكسوس مصر فى نهاية الدولة الوسطى.  
 ٣ - البطالمة هم خلفاء الإسكندر الأكبر.  
 ٤ - قل النشاط التجارى بين مصر وجيرانها بعد حفر قناة سيزوستريس .

(ب) ما المقصود بكل من ...؟

- ١- المعابد الجنائزية.....  
 ٢ - البورصة :

### السؤال الثالث : (أ) صوب ما تحته خط

- ١ - تأتى مصر فى المرتبة **الثانية** إفريقيا من حيث عدد السكان.  
 ٢ - تساعدنا بيانات الهرم السكانى فى تحديد احتياجات السكان فى **الماضى**.  
 ٣ - تحب مصر بالطلاب من شرق **أوروبا** لدراسة اللغة والفلسفة.  
 ٤ - قل التبادل التجارى بين مصر ودول إفريقيا بسبب موقعها الجغرافى.  
 ٥ - يتناول الأدب **القصصى** الحكم والنصائح التى يوجهها الملك لابنه.

(ب) يم تفسر ...؟ - حرص العديد من السياح على زيارة معبد أبو سمبل سنويًا.

### السؤال الرابع: (أ) اختر الإجابة الصحيحة مما بين الأقواس

- ١ - ضمت الطبقة الثانية فى مصر القديمة.....  
 ( الملك وأسرته - حكام الأقاليم - صغار الموظفين - العاملين بالزراعة )  
 ٢ - شرع الإسكندر الأكبر فى بناء مدينة.....  
 ( القاهرة - الإسكندرية - نقرطيس - أون )  
 - تعمل مصر على التواصل السياسى مع الدول الأخرى من خلال وزارة.....  
 ( الداخلية - الخارجية - الاستثمار - العدل )  
 ٤ - تعد مصر من ضمن الدول العشر الأولى الأكثر إسهاماً فى بعثات الأمم المتحدة لـ.....  
 (حفظ السلام - توصيل الغذاء - حفظ الصحة - تطوير التعليم)

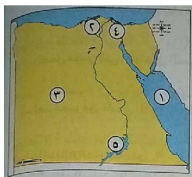
(ب) ما النتائج المترتبة على ..؟

١ - تأثر بلاد اليونان والرومان بالعمارة المصرية.

٢ - الهجرة الداخلية بين المحافظات المصرية.

اختبار ٨

السؤال الأول ( أ ) أمامك خريطة صماء لمصر , اكتب مدلول الأرقام عليها :



١ - البحر .....

٢ - منطقة تزداد بها الكثافة السكانية .....

٣ - الصحراء .....

٤ - قناة .....

٥ - بحيرة .....

(ب) بم تفسر ..؟ - ظهور العشوائيات في مصر.

السؤال الثاني: (أ) اكتب كلمة ( صواب ) أمام العبارة الصحيحة , وكلمة ( خطأ ) أمام العبارة غير الصحيحة

- ١ - يتم عمل تعداد سكاني لتوفير معلومات دقيقة حول السكان. ( )
- ٢ - حرص المصري القديم على تربية أولاده وتعليمهم القيم الحميدة. ( )
- ٣ - كان لكل إقليم في مصر القديمة معبود خاص بها. ( )
- ٤ - انهزم الملك رمسيس الثاني في معركة قادش. ( )
- ٥ - من أسباب الزيادة السكانية تنظيم الأسرة. ( )
- ٦ - اهتم البطالمة بالنشاط التجاري في بداية حكمهم. ( )

(ب) قارن بين التركيب العمرى والتركيب النوعى من حيث التعريف من خلال الجدول التالى:

التركيب النوعي	التركيب العمرى	أوجه المقارنة
.....	.....	التعريف

## السؤال الثالث : (أ) صوب ما تحته خط

١ - الاستهلاك الزائد للموارد يؤثر إيجابيا على البيئة.٢ - تاتى مصر فى المرتبة الثانية إفريقياً من حيث عدد السكان.٣ - اشتهر إقليدس ببراءته فى علم التاريخ.٤ - سوق منظمة لشراء الأسهم والسندات هى البنوك.٥ - تم تقسيم المجتمع المصرى القديم إلى خمس طبقات.

(ب) ما العلاقة بين ...؟ - تحنيط المصريين القدماء لجثث موتاهم ومعتقداتهم الدينية.

## السؤال الرابع: (أ) اختر الإجابة الصحيحة مما بين الأقواس

١ - الفئة التى تحتل قاعدة الهرم السكائى المصرى تصنف على أنها غير منتجة هي .....

( صغار السن - كبار السن - متوسطو السن - الشباب )

٢ - فى عصر الدولة القديمة تعرضت مصر لهجوم قبائلى على حدودها .....

( الشمالية الشرقية - الشمالية الغربية - الجنوبية الشرقية - الجنوبية الغربية )

٣ - يضم اتحاد الكوميسا دول شرق وجنوب .....

( آسيا - أوروبا - إفريقيا - أستراليا )

٤ - دعا أمنتحتب الرابع إلى عبادة الإله .....

( رع - أمون - إيزيس - أتون )

(ب) ددل على صحة العبارتين التاليتين:

١ - ندرة السكان فى المحافظات الحدودية الصحراوية.

٢ - كانت المرأة فى مصر القديمة محل تقدير و احترام.

اختبار ٩

السؤال الأول ( أ ) أمامك خريطة صماء لمصر , اكتب مدلول الأرقام عليها :



١ - يشير رقم (١) إلى محافظة ترتفع فيها الكثافة السكانية .....

٢ - يشير رقم (٢) إلى بحيرة .....

٣ - يشير رقم (٣) إلى البحر .....

٤ - يشير رقم (٤) إلى الصحراء .....

(ب) بم تفسر ... ؟ عقد مصر المعاهدات والاتفاقيات مع الدول الأخرى.

السؤال الثاني: (أ) اكتب كلمة ( صواب ) أمام العبارة الصحيحة , وكلمة ( خطأ ) أمام العبارة غير الصحيحة

- ١ - تفضيل الذكور على الإناث دفع الأسر إلى الاستمرار فى الإنجاب. ( )
- ٢ - كان صغار الموظفين فى مصر القديمة ينتمون إلى الطبقة الثانية فى المجتمع المصرى ( )
- ٣ - تمسك المصرى القديم بالقيم الدينية والإنسانية. ( )
- ٤ - يمتلك وزراء الخارجية والسفراء بعض المهارات مثل الإقناع وضبط النفس. ( )
- ٥ - تحررت مصر من غزو الهكسوس على يد الملك سنفرؤ . ( )
- ٦ - ازدادت الكثافة السكانية فى مصر فى المحافظات الحدودية. ( )

(ب) قارن بين الزيادة الطبيعية والهجرة من حيث التعريف.

الهجرة	الزيادة الطبيعية	أوجه المقارنة
.....	.....	التعريف

## السؤال الثالث : (أ) أكمل العبارات الآتية

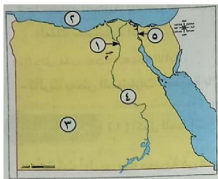
- ١ - التركيب النوعي للسكان يقصد به تقسيم فئات المجتمع إلى .....
  - ٢ - كانت مصر في العصر الروماني تعد أكبر مصدر لإنتاج ..... في العالم.
  - ٣ - تأثر الفن عند المصريين القدماء ب .....
  - ٤ - قلة الموارد المتاحة عن عدد السكان تتسبب في ظهور مشكلة .....
  - ٥ - استكمل بناء مدينة الإسكندرية بعد وفاة الإسكندر الأكبر .....
- (ب) اكتب نتيجة واحدة ترتبت على:- حفر قناة سيزوستريس في عصر الدولة الوسطى.

## السؤال الرابع: (أ) اختر الإجابة الصحيحة مما بين الأقواس

- ١ - أحضر الملك سنفرو خشب الأرز من .....
- ( بونت - السودان - ليبيا - فينيقيا )
- ٢ - أظهر الإسكندر الأكبر احترامه للديانة المصرية القديمة فزار معبد الإله .....
- ( حورس - آمون - إيزيس - أوزوريس )
- ٣ - بنى المصريون القدماء منازلهم من .....
- (الطوب الأحمر - الطوب اللين - الحجارة - البوص )
- ٤ - المكان المسنول عن شراء الأسهم والسندات .....
- ( المكاتب المالية - البورصة - البنوك - مكاتب البريد )
- ٥ -عبادة الإله آمون من العبادات المصرية التي انتشرت في الحضارات الأخرى في دولة .....
- (تونس - الجزائر - السودان - المغرب )

(ب) ما العلاقة بين ...؟ - عملية التحنيط والبعث والخلود .

السؤال الأول ( أ ) أملك خريطة صماء لمصر , اكتب مدلول الأرقام عليها :



- ١ - مدينة مزدحمة سكانيا .....
- ٢ - البحر .....
- ٣ - محافظة يقل بها السكان .....
- ٤ - نهر .....
- ٥ - قناة .....

(ب) ما النتائج المترتبة على ...؟ - مشكلة الزيادة السكانية في مصر.

السؤال الثاني: (أ) اكتب كلمة ( صواب ) أمام العبارة الصحيحة , وكلمة (خطأ) أمام العبارة غير الصحيحة

- ١ - قامت الدولة بوضع قوانين تجرم تشغيل الأطفال قبل إتمام سن التعليم الأساسي . ( )
- ٢ - كانت المرأة في المجتمع المصرى القديم لا تتولى مناصب في الدولة. ( )
- ٣ - مسلة الملكة حتشبسوت توجد في معبد الكرنك . ( )
- ٤ - لم تتأثر مصر القديمة بالحضارات الأخرى. ( )
- ٥ - النشاط التجارى زاد بين مصر وجيرانها خاصة بعد حفر قناة سيزوستريس في عهد الملك سنوسرت الثالث. ( )

(ب) دلل على صحة العبارة الآتية : - تأثرت بعض الحضارات القديمة بالحضارة المصرية.

السؤال الثالث : (أ) أكمل العبارات الآتية

- ١ - أنشئت أول بورصة مصرية في محافظة .....
- ٢ - كانت تتم محاكمة المتوفى في مصر الفرعونية أمام محكمة مكونة من ٢ ٤ قاضيًا يمثلون .....
- ٣ - ملابس الأغنياء في مصر الفرعونية كانت تصنع من أو .....



- ٤- من أشهر المسلات فى مصر القديمة مسلة .....
- ٥ - المصرى القديم اعتاد على استخدام أدوات الزينة مثل .....
- ٦ - فسر سيدنا يوسف رؤية ملك مصر بأن مصر ستصاب بالجفاف لمدة ..... سنوات.

(ب) اكتب نتيجة واحدة ترتبت على :- توفير البورصة المصرية التمويل اللازم لأصحاب المشروعات .

### السؤال الرابع: (أ) اختر الإجابة الصحيحة مما بين الأقواس

- ١ - أقدم الدول العربية التى قامت بإجراء تعداد لسكانها .....
- (فرنسا - ألمانيا - مصر - النمسا)
- ٢ - من أشهر معارك الملك تحتمس الثالث .....
- (اليرموك - التل الكبير - مجدو - قادش)
- ٣ - زار الإسكندر معبد آمون الموجود فى واحدة ..... بمصر.
- (الداخلة - سيوة - الفرافرة - الخارجة)
- ٤ - قامت مصر بتوقيع اتفاقية الدفاع المشترك مع دولة ..... قديما .
- (المغرب - الجزائر - تونس - السودان)
- ٥ - بنيت الأعمدة فى واجهة المعابد فى كل من مصر و .....
- (العراق - بونت - اليونان - مصر)
- ٦ - الإمبراطور الروماني ..... اعتمد على التقويم الشمسى المصرى.
- (قسطنطين - يوليوس - هارديان - جستنيان)

(ب) ما رأيك فى : قيام البطالمة ببناء جامعة ومكتبة الإسكندرية.

السؤال الأول ( أ ) أمامك خريطة صماء لمصر , اكتب مدلول الأرقام عليها :



- ١ - يشير رقم (١) إلى .....
- ٢ - يشير رقم (٢) إلى .....
- ٣ - يشير رقم (٣) إلى .....
- ٤ - يشير رقم (٤) إلى .....

(ب) ماذا يحدث إذا لم ...؟

١ - يتوصل المصري القديم للكتابة.

٢ - تنهزم كليوباترا في معركة أكتيوم البحرية.

السؤال الثاني: (أ) اكتب كلمة ( صواب ) أمام العبارة الصحيحة , وكلمة ( خطأ ) أمام العبارة غير الصحيحة

- ١ - أظهر الإسكندر الأكبر احترامه للديانة المصرية القديمة فزار معبد الإله «رع».
- ٢ - ترحب مصر بالطلاب من شرق أوروبا لدراسة اللغة والفلسفة.
- ٣ - العلم والعلماء كان لهم دور مهم في بناء الحضارة المصرية قديماً وحديثاً.
- ٤ - العلماء في العصر الحديث استطاعوا التوصل لحقيقة كيفية بناء الأهرامات .
- ٥ - تفضيل الذكور على الإناث من أسباب مشكلة الزيادة السكانية.
- ٦ - يساعد التعداد السكاني على التخطيط الجيد لمستقبل الدول.

(ب) قارن بين : - التركيب النوعي والتركيب العمري من حيث التعريف.

أوجه المقارنة	التركيب النوعي	التركيب العمري
التعريف	.....	.....

## السؤال الثالث : (أ) أكمل العبارات الآتية

- ١ - أشخاص لهم الحق فى أرباح المشروع حسب عدد د الأسهم .....
- ٢ - تاتى مصر فى المرتبة الـ ١٤ عالمياً من حيث عدد .....
- ٣ - أولى خطوات الاستثمار فى البورصة البحث عن ..... مختلفة.
- ٤ - استطاع المصريون تدمير خط بارليف باستخدام .....
- ٥ - الهرم السكاني ذو القاعدة العريضة يدل على زيادة معدل .....

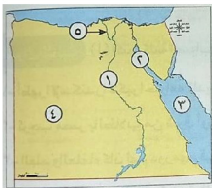
(ب) برهن على صحة العبارة الآتية: - حرصت مصر قديماً على التواصل الدينى مع الدول الأخرى.

## السؤال الرابع: (أ) اكتب ما تشير إليه العبارات الآتية بالكلمات المناسبة :

- ١ - النسبة بين عدد السكان ومساحة الأرض التي يعيشون عليها.
- ٢ - سوق منظمة لشراء الأسهم والسندات.
- ٣ - منظمة اقتصادية تعد السوق المشتركة بين شرق وجنوب إفريقيا.
- ٤ - الفرق بين المواليذ والوفيات فى فترة زمنية معينة.
- ٥ - تعد علامة بارزة فى الفن المعماري المصرى القديم وهى عبارة عن برج أو عمود .

(ب) اذكر اثنين من :- الآثار الرومانية الموجودة فى مصر.

السؤال الأول ( أ ) أمامك خريطة صماء لمصر , اكتب مدلول الأرقام عليها :



١- يشير رقم (١) إلى وادى .....

٢ - يشير رقم (٢) إلى خليج .....

٣ - يشير رقم (٣) إلى البحر .....

٤- يشير رقم (٤) إلى الصحراء .....

٥- يشير رقم (٥) إلى فرع .....

(ب) بم تفسر ...؟ - أهمية وجود سفارات لدى مصر في معظم بلدان العالم.

السؤال الثاني: (أ) اكتب كلمة ( صواب ) أمام العبارة الصحيحة , وكلمة ( خطأ ) أمام العبارة غير الصحيحة

- ١- كان لمصر دور مهم في دعم الأمن والاستقرار داخل قارة أوروبا. ( )
- ٢ - لم يستطع الجيش المصرى تدمير خط بارليف المنيع . ( )
- ٣ - تم عمل تعداد سكاني في مصر عام ٢٠١٧ م. ( )
- ٤ - العالم إقليدس برع في علم الجغرافيا. ( )
- ٥ - الفنة المنتجة في الهرم المصرى توجد في وسط الهرم. ( )

(ب) قارن بين - قناة السويس وقناة سيزوستريس من حيث العصر الذى ينتمى إليه كل منهما.

أوجه المقارنة	قناة السويس	قناة سيزوستريس
العصر	.....	.....

السؤال الثالث : (أ) ضع خطًا تحت الإجابة الصحيحة فيما بين الأقواس:

- ١ - الفئة العمرية التي تمثل ثلث سكان مصر هي فئة .....  
( صغار السن - كبار السن - سن العمل - الشباب )
- ٢ - الملكة كليوباترا السابعة هي آخر ملوك .....  
( الرومان - البطالمة - الفراعنة - الإخشيد )
- ٣ - يحتفل العالم باليوم العالمي للعلوم من أجل السلام والتنمية في ١٠ ..... من كل عام.  
( يوليو - أكتوبر - -- ديسمبر - نوفمبر )
- ٤ - زيادة متوسط عمر الفرد وانخفاض الوفيات في مصر نتيجة الاهتمام بالرعاية.....  
( الاجتماعية - الثقافية - الصحية - السياحية )
- ٥ - ساعد على حفظ رسوم ونقوش المصريين القدماء حتى وقتنا الحالي .....  
( موقع مصر - موارد مصر - مناخ مصر - تضاريس مصر )
- ٦ - ازدهرت علاقة مصر التجارية مع بلاد الإغريق في نهاية عصر الدولة .....  
( الوسطى - القديمة - الحديثة - ما قبل الأسرات )

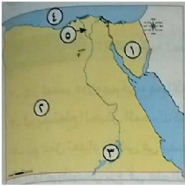
(ب) اكتب نتيجة واحدة ترتب على هجرة السكان من محافظة إلى أخرى.

السؤال الرابع: (أ) اكتب ما تشير إليه العبارات الآتية بالكلمات المناسبة :

- ١ - تولى حكم مصر ودعا لعبادة إله واحد وهو «أتون» .
- ٢ - مؤسس عصر الدولة الحديثة .
- ٣ - إله الموتى عند المصريين القدماء ويترأس محكمة الموتى.
- ٤ - قام بحماية أرض سيناء من القبائل التي هجمت على حدود مصر الشمالية الشرقية.
- ٥ - أدخل المسيحية إلى مصر.
- ٦ - إمبراطور أطلق على عهده عصر الشهداء.

(ب) اذكر : جهود الدولة لحماية فئة صغار السن في مصر.

السؤال الأول ( أ ) أمامك خريطة صماء لمصر , اكتب مدلول الأرقام عليها :



- ١ - يشير رقم (١) إلى شبه جزيرة .....
- ٢ - يشير رقم (٢) إلى الصحراء .....
- ٣ - يشير رقم (٣) إلى بحيرة .....
- ٤ - يشير رقم (٤) إلى البحر .....
- ٥ - يشير رقم (٥) إلى منطقة مزدحمة بالسكان .....

(ب) ما العلاقة بين ...؟ - صاحب المشروع وصاحب السند.

السؤال الثاني: (أ) اكتب كلمة ( صواب ) أمام العبارة الصحيحة , وكلمة ( خطأ ) أمام العبارة غير الصحيحة

- ١ - تعد محافظة القاهرة من المحافظات الطاردة للسكان. ( )
- ٢ - العاملون بحرفة الصناعة يمثلون ربع قوة العمل في مصر. ( )
- ٣ - كانت وظيفة الكاتب المصرى القديم تساعد على الوصول للمناصب العليا بالدولة. ( )
- ٤ - الأسهم أوراق مالية تثبت أن مالكها قدم قرضاً لصاحب المشروع لمدة محددة. ( )

(ب) ما المقصود ب ...؟

- ١ - الهجرة. ....
- ٢ - السندات. ....

السؤال الثالث : (أ) ضع خطأ تحت الإجابة الصحيحة فيما بين الأقواس:

- ١ - زيادة السكان بنسبة تفوق الموارد والخدمات المتاحة تسبب المشكلة .....  
( السكانية - العلاجية - السلوكية - الإدارية )
- ٢ - كانوا ينتمون إلى الطبقة الرابعة في مصر الفرعونية هم .....  
( حكام الأقاليم - صغار الموظفين - صغار الحرفيين - قادة الجيش )

- ٣ - يعد الهرم الأكبر دليلاً على عبقرية المصري القديم في مجال .....
- ( الزراعة - العمارة - الطب - الصناعة )
- كانت ملابس الملك تصنع من الحرير وتطرز به .....
- ( النحاس - الذهب - الحديد - الخشب )

(ب) بم تفسر ...؟

١ - وصول المرأة لوظائف الإدارة العليا في الدولة دون تمييز ضدها.

٢ - يحرص السياح على زيارة معبد الملك رمسيس الثاني سنوياً.

السؤال الرابع: (أ) اكتب ما تشير إليه العبارات الآتية بالكلمات المناسبة :

- ١ - أدب يعكس حياة المصريين القدماء السياسية والاجتماعية.
- ٢ - أوراق مالية تثبت أن مالكةا قدم قرضاً لصاحب المشروع لمدة محددة .
- ٣ - سجلت على جدران الأهرامات من الداخل لمساعدة الميت في الحياة الأخرى .
- ٤ - الفرق بين المواليد والوفيات في فترة معينة .
- ٥ - انتقال السكان بين المحافظات.

(ب) ما النتائج المترتبة على ...؟ الهجرة الداخلية بين المحافظات المصرية.

السؤال الأول ( أ ) أملك خريطة صماء لمصر , اكتب مدلول الأرقام عليها :



- ١ - يشير رقم (١) إلى شبه جزيرة .....
- ٢ - يشير رقم (٢) إلى الصحراء .....
- ٣ - يشير رقم (٣) إلى بحيرة .....
- ٤ - يشير رقم (٤) إلى البحر .....

(ب) أجب عن السؤالين الآتيين:

- ١ - حدد سببًا واحدًا لـ: أهمية البورصة بالنسبة للاقتصاد المصري.
- ٢ - وضح الفرق بين الأسهم والسندات.

السؤال الثاني: (أ) أكمل العبارات الآتية بالكلمات المناسبة :

- ١ - استخدم المصريون القدماء أدوات طبية شبيهة بما نستخدمه الآن مثل .....
- ٢ - الهرم السكاني يساعدنا في تقدير احتياجات السكان من .....
- ٣ - بنيت المعابد الجنائزية لأغراض .....
- ٤ - أدخل البطالمة إلى مصر محاصيل جديدة مثل .....

(ب) رتب الأحداث التاريخية الآتية من الحديث إلى القديم

( ازدهار العلاقات التجارية بين مصر وبلاد الإغريق - إرسال الملك سنفرو بعثات تجارية إلى ليبيا - إرسال الملكة حتشبسوت رحلتها لبلاد بونت - إدخال مصر محاصيل زراعية جديدة مثل العنب )



## السؤال الثالث: (أ) صوب ما تحته خط

- ١ - أخذ المصريون القدماء عن الحثيين العربات الحربية.
- ٢ - الملكة حتشبسوت كانت آخر ملوك دولة البطالمة.
- ٣ - تقل الكثافة السكانية في مصر في محافظات الوادي والدلتا.
- ٤ - أعطى الإمبراطور دقلديانوس لشهور السنة أسماء رومانية.
- ٥ - الخلود هو الحياة مرة أخرى بعد الموت.

## (ب) حدد دورًا واحدًا لكل من:

- ١ - المراكز الثقافية.....
- ٢ - الرئيس الراحل محمد أنور السادات.....

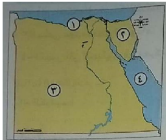
## السؤال الرابع: (أ) اختر الإجابة الصحيحة مما بين الأقواس :

- ١ - صنعت ملابس عامة الشعب في مصر القديمة من .....
- ( الصوف - الكتان - القطن - الحرير )
- ٢ - ترتب على هزيمة البطالمة عام ٣١ ق.م تحول مصر إلى ولاية .....
- ( عثمانية - رومانية - فارسية - فرعونية )
- ٣ - كانت مخازن الحبوب في مصر القديمة توجد في منازل .....
- ( الفرعون وأسرتة - حكام الأقاليم - عمال الزراعة - عمال الصناعة )
- ٤ - بدأت مصر بتنفيذ مشروع الربط الملاحي بين بحيرة فيكتوريا والبحر المتوسط عن طريق نهر .....
- ( عطبرة - شبيلي - جوبا - النيل )
- ٥ - يرجع اختلاف شكل الهرم السكاتي من دولة إلى أخرى إلى .....
- ( النمو السكاني - التركيب الوصفي - التركيب النسبي - الأنشطة الاقتصادية )
- ٦ - قام المصريون القدماء ببناء منازلهم باستخدام الطوب .....
- ( الأسمنتي - الحراري - اللبن - الزجاجي )

## (ب) ما العلاقة بين ...؟ البورصة وتشغيل العمالة.

.....

السؤال الأول (أ) أمامك خريطة صماء لمصر , اكتب مدلول الأرقام عليها :



١ - يشير رقم (١) إلى محافظة .....

٢ - يشير رقم (٢) إلى شبه جزيرة .....

٣ - يشير رقم (٣) إلى الصحراء .....

٤ - يشير رقم (٤) إلى البحر .....

(ب) ما العلاقة بين ...؟

١- البورصة المصرية ومحافظة القاهرة والإسكندرية.

٢ - قلب المتوفى ومحكمة الموتى عند المصريين القدماء.

السؤال الثاني: (أ) أخلل العبارات الآتية بالكلمات المناسبة :

١- كان صغار الموظفين في مصر الفرعونية ينتمون إلى الطبقة .....

٢ - اشتهر المصري القديم بنحت التماثيل ومن أشهرها تمثال .....

٣ - يهدف المشروع الملاحي المصري للربط بين البحر المتوسط وبحيرة .....

٤ - أول من اخترع الساعة لتحديد الوقت هم .....

٥ - شاركت مصر في بعثة الأمم المتحدة لحفظ السلام في .....

(ب) وضع: تأثير الفن المصري على الحضارات الأخرى.

السؤال الثالث: (أ) اكتب كلمة ( صواب ) أمام العبارة الصحيحة , وكلمة ( خطأ ) أمام العبارة غير الصحيحة

- ١ - قامت الحضارة المصرية القديمة على عدم التعاون بين كل فئات المجتمع. ( )
- ٢ - توصل العلماء إلى معرفة كيف تم بناء الهرم الأكبر. ( )
- ٣ - استطاعت مصر إقامة علاقات سياسية قوية مع غيرها من الدول عبر العصور. ( )
- ٤ - ظهر اختراع الأطراف الصناعية في عصرنا الحالي. ( )
- ٥ - اكتشف المصريون القدماء الكثير من الأمراض والوصفات الطبية. ( )

(ب) بم تفسر ...؟ - تعتبر المراكز الثقافية وسيلة مهمة للتواصل الثقافي بين دول العالم.

السؤال الرابع: (أ) لمن تنسب العبارات الآتية...؟

- ١ - قام بطرد الهكسوس من مصر.
- ٢ - قام باستكمال مدينة الإسكندرية.
- ٣ - سمي عهده بعصر الشهداء.
- ٤ - انتصر على الحيثيين في معركة قادش

(ب) ما المقصود بـ...؟

- ١ - الكوميسا .
- ٢ - الأسهم.