

المهام الأدائية

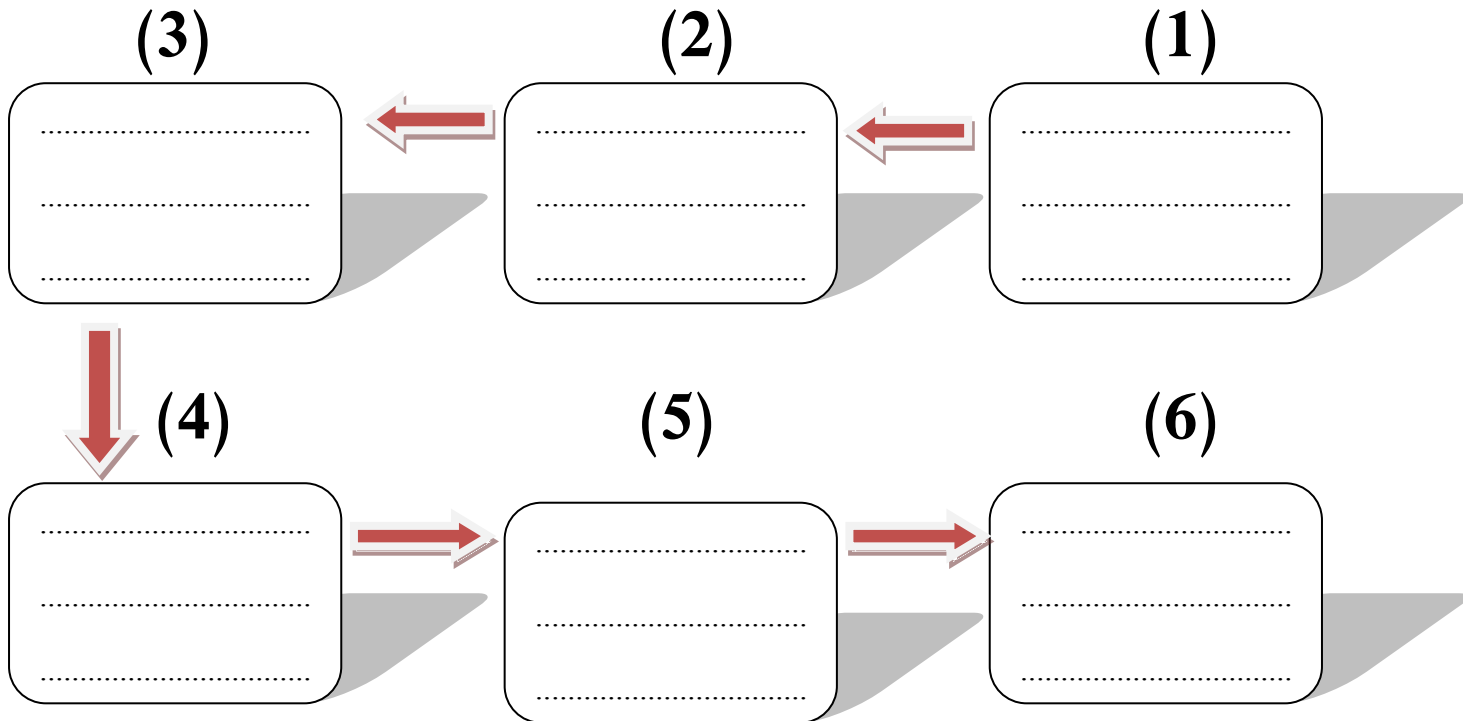
المهمة الأولى (مخطط زمني للأحداث)

الاسم: الفصل:

مرت مصر بأحداث تاريخية متعددة على مر العصور...

ضع كل حدث تاريخي مما يأتي في خطه الزمني المناسب من الأقدم إلى الأحدث.

- (1) انتصار أحمس على الهكسوس. (2) بناء المسرح الروماني.
- (3) بناء الملك زوسر للهرم المدرج. (4) بناء منارة الإسكندرية.
- (5) انتصار مصر على إسرائيل. (6) انتصار رمسيس الثاني في قادش.



المهام الأدائية

المهمة الثانية (مصر القديمة)

الاسم: الفصل:

ساعدت معاهدات السلام التي قامت بها مصر مع جيرانها على مر العصور على تحقيق الأمن والاستقرار لمصر.



(2) محمد أنور السادات



(1) رمسيس الثاني

أكمل الجدول الآتي:

محمد أنور السادات	رمسيس الثاني	حاكم مصر
..... - -	اسم العدو
..... - -	اسم المعركة
..... - -	نتيجة المعركة

المهام الأدائية

المهمة الثالثة (آثار مصر الخالدة)


الاسم: الفصل:

1- تأمل الصورتين، ثم أجب:



اسم المكان: اسم المكان:
بناه الملك: بناه الملك:
أهميته: أهميته:
.....

2- صمم ملصقا دعائياً للترويج لزيارة أحد المناطق الأثرية والسياحية.



المهام الأدائية

المهمة الرابعة (مصر القديمة)

الاسم: الفصل:

كان المجتمع المصري مقسماً إلى عدة طبقات لكل طبقة منهم

دور كبير في بناء الحضارة المصرية القديمة، واختلفت الملابس

والمنازل في مصر القديمة باختلاف طبقات المجتمع.

في ضوء فهمك لعبارة السابقة، ضع الكلمات الآتية في مكانها

الصحيح من الجدول التالي:

- يسكن القصور. - مصنوعة من الكتان.

- يتميز المنزل بالبساطة - مصنوعة من الحرير.

وجه المقارنة	الملك	العاملون بالزراعة والرعي
نوع الطبقة	-	-
الملابس	-	-
المنزل	-	-

المهام الأدائية

المهمة الخامسة (السكان في مصر)

استعن بالخريطة المقابلة أو خريطة

كتاب المدرسة، ثم أجب:

– ما أكثر مدن مصر ازدحامًا بالسكان؟

(1)

(2)

– حدد محافظتين يقل فيهما عدد السكان.

(1)

(2)



– حدد من وجهة نظرك أسباب مشكلة الزيادة السكانية في مصر:

.....

.....

.....

5- صمم لوحة إرشادية للدعوة إلى تنظيم الأسرة.

إجابة المهام الأدائية

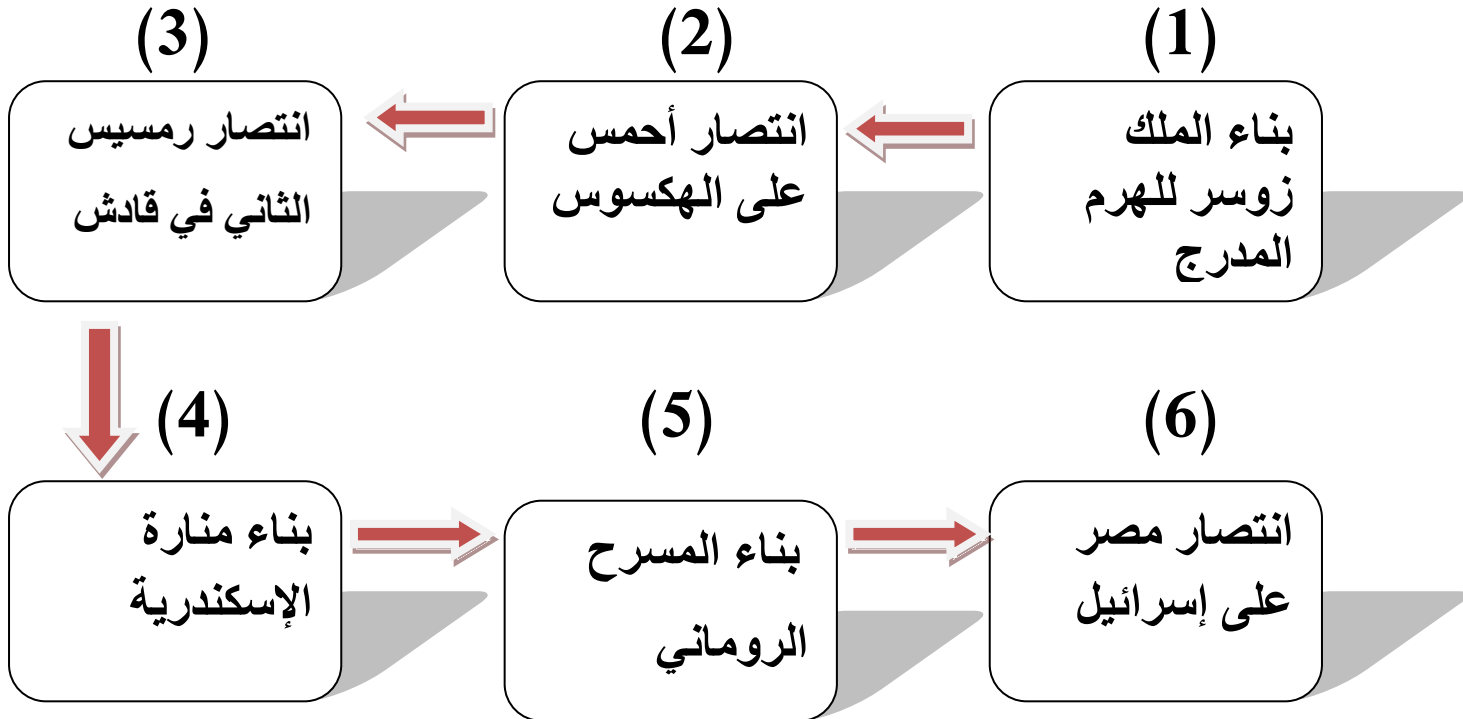
المهمة الأولى (مخطط زمني للأحداث)

الاسم: الفصل:

مرت مصر بأحداث تاريخية متعددة على مر العصور...

ضع كل حدث تاريخي مما يأتي في خطه الزمني المناسب من الأقدم إلى الأحدث.

- (1) انتصار أحمس على الهكسوس. (2) بناء المسرح الروماني.
- (3) بناء الملك زوسر للهرم المدرج. (4) بناء منارة الإسكندرية.
- (5) انتصار مصر على إسرائيل. (6) انتصار رمسيس الثاني في قادش.



المهام الأدائية

المهمة الثانية (مصر القديمة)

الاسم: الفصل:

ساعدت معاهدات السلام التي قامت بها مصر مع جيرانها على مر العصور على تحقيق الأمن والاستقرار لمصر.



(2) محمد أنور السادات



(1) رمسيس الثاني

أكمل الجدول الآتي:

محمد أنور السادات	رمسيس الثاني	حاكم مصر
- إسرائيل	- الحيثيون	اسم العدو
- حرب أكتوبر	- معركة قادش	اسم المعركة
- تحرير سيناء	- انتصر على الحيثيين	نتيجة المعركة

المهام الأدائية

المهمة الثالثة (آثار مصر الخالدة)

الاسم: الفصل:

1- تأمل الصورتين، ثم أجب:



اسم المكان: معبد (أبوسمبل)
بناه الملك: رمسيس الثاني
أهميته: يُزيد عدد السياح

اسم المكان: الهرم المدرج
بناه الملك: زوسر
أهميته: يُزيد عدد السياح

2- صمم ملصقا دعائياً للترويج لزيارة أحد المناطق الأثرية والسياحية.



المهام الأدائية

المهمة الرابعة (مصر القديمة)

الاسم: الفصل:

كان المجتمع المصري مقسماً إلى عدة طبقات لكل طبقة منهم دور كبير في بناء الحضارة المصرية القديمة، واختلفت الملابس والمنازل في مصر القديمة باختلاف طبقات المجتمع. في ضوء فهمك لعبارة السابقة، ضع الكلمات الآتية في مكانها الصحيح من الجدول التالي:

- يسكن القصور
- الطبقة الرابعة
- مصنوعة من الكتان
- الطبقة الأولى.
- يتميز المنزل بالبساطة
- مصنوعة من الحرير

وجه المقارنة	المك	العاملون بالزراعة والرعي
نوع الطبقة	- الطبقة الأولى	- الطبقة الرابعة
الملابس	- مصنوعة من الحرير	- مصنوعة من الكتان
المنزل	- يسكن القصور.	- يتميز المنزل بالبساطة

المهام الأدائية

المهمة الخامسة (السكان في مصر)

استعن بالخريطة المقابلة أو خريطة

كتاب المدرسة، ثم أجب:

- ما أكثر مدن مصر ازدحامًا بالسكان؟

(1) القاهرة

(2) الجيزة

- حدد محافظتين يقل فيهما عدد السكان.

(1) جنوب سيناء

(2) الوادي الجديد



- حدد من وجهة نظرك أسباب مشكلة الزيادة السكانية في مصر:

- الزواج المبكر.

- كثرة الإنجاب.

- تفضيل الذكور على الإناث.

5- صمم لوحة إرشادية للدعوة إلى تنظيم الأسرة.

