



سلسلة المؤرخ العالمي

في

لن ندرس التاريخ بل سكتب التاريخ

الدراسات الاجتماعية

للمف الثاني الاعدادي

امتحانات علي كل درس

01069117382 / 01143694956

الفصل الدراسي الاول

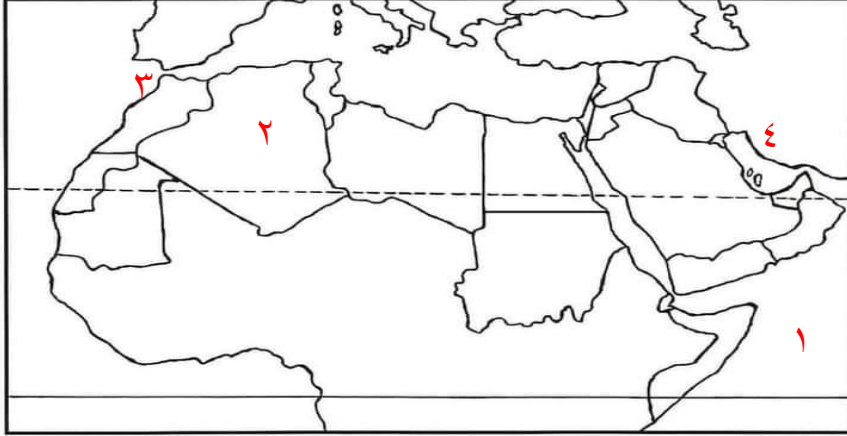
اعداداً. محمد ربيع

للتواصل واتس ٠١١٤٣٦٩٤٩٥٦

امتحان الصف الثاني الإعدادي (الدراسات الاجتماعية)

الوطن العربي (الموقع والمساحة)

السؤال الأول : أمامك خريطة صماء للوطن العربي



وضح مدلول الأرقام التي عليها

- ١- المحيط
- ٢- دولة
- ٣- مضيق
- ٤- الخليج

السؤال الثاني : اختر الإجابة الصحيحة

- ١) يمر في جنوب الوطن العربي
- (دائرة الاستواء - مدار السرطان - مدار الجدى - الدائرة القطبية الجنوبية)
- ٢) من دول الجناح الإفريقي بالوطن العربي
- (السعودية - الكويت - قطر - ليبيا)
- ٣) الدولة العربية التي تقع بالكامل في نصف الكرة الأرضية الجنوبية دولة
- (السودان - الصومال - جزر القمر - موريتانيا)
- ٤) مضيق يصل بين خليجين مضيق والثاني الثانية
- (جبل طارق - باب المندب - هرمز - قناة السويس)

السؤال الثالث : أ- بم تفسر

١) للوطن العربي مكانة دينية مهمة .

.....

٢) تقسيم الوطن العربي إلى دول مختلفة المساحة

.....

ب - ما النتائج المترتبة علي؟

١- امتداد حدود الوطن العربي مع ظواهر طبيعية ؟

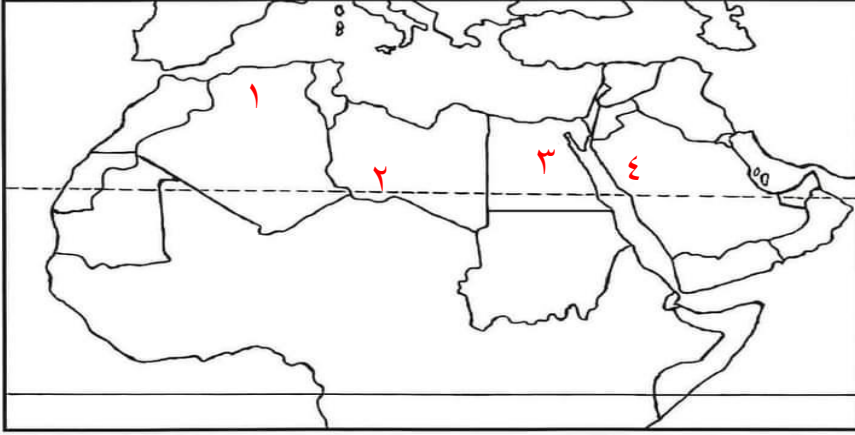
.....

امتحان الصف الثاني الاعدادي (الدراسات الاجتماعية)

(تضاريس الوطن العربى)

السؤال الأول : أمامك خريطة صماء للوطن العربى

وضح مدلول الأرقام التى عليها



(١) جبال

(٢) هضبة

(٣) نهر

(٤) جبال

السؤال الثانى : أكمل ما يأتى

(١) من الأودية الجافة فى مصر

(٢) جبال زاغروس وكرديستان من الجبال

(٣) تكون الشواطئ و دلت الأنهار بالوطن العربى بفعل

(٤) تقع هضبة حضرموت شبه الجزيرة العربية

السؤال الثالث : بم تفسر

١- أهمية سهول البحر المتوسط بالوطن العربى

.....

٢- الأودية الجافة يسهل الحصول منها على المياه الجوفية .

.....

ب- صنف الجبال الاتية الي جبال التوائية وجبال انكسارية؟

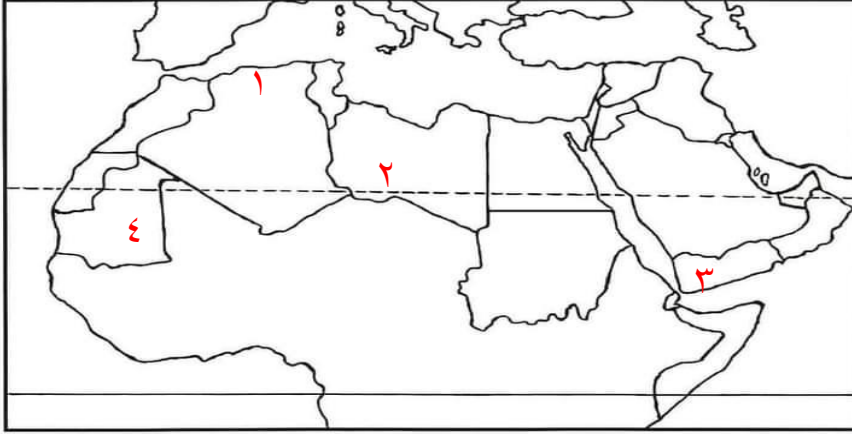
(اطلس – الحجاز – عسير – كردستان – زاغراوس – جبال البحر الاحمر)

جبال انكسارية	جبال التوائية

امتحان الصف الثاني الاعدادي (الدراسات الاجتماعية)

(المناخ والنبات الطبيعي في الوطن العربي)

السؤال الأول : أمامك خريطة صماء للوطن العربي



وضح مدلول الأرقام التي عليها

(١) اقليم مناخى

(٢) اقليم مناخى

(٣) اقليم مناخى

(٤) اقليم مناخى

السؤال الثاني (ضع (صح) أو (خطأ) مع التصويب

- () (١) تنمو الغابات المدارية في شمال الوطن العربي .
- () (٢) أكبر الأقاليم المناخية بالوطن العربي مساحة الإقليم المدارى .
- () (٣) تنتمي معظم سواحل دول المغرب العربي لمناخ الصحراوي
- () (٤) يتشابه اقليم المناخ المداري و اقليم مناخ البحر المتوسط في ارتفاع الحرارة صيفا

السؤال الثالث : (أ) بم تفسر

١- الأهمية الاقتصادية لأشجار السنط والتاريخ للمرحلة الثانوية
في الدراسات الاجتماعية للمرحلة الاعدادية

01069117382 / 01143694956

٢- تعد حشائش السافانا حديقة حيوان طبيعية

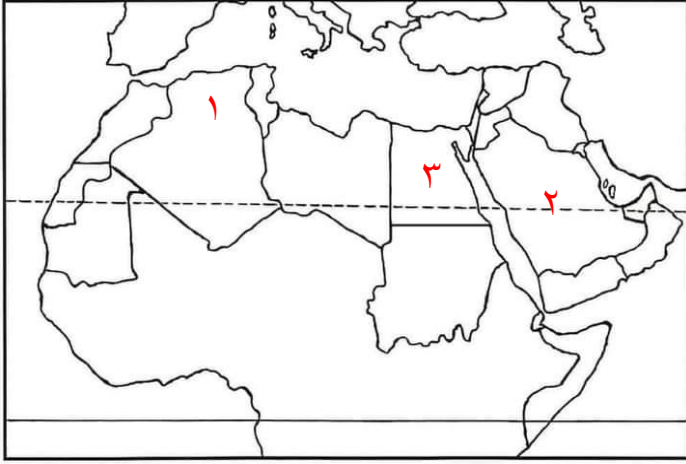
.....

ب- حدد وجه الشبه بين دولة الصومال واليمن من حيث الاقاليم المناخية ؟

.....

امتحان الصف الثاني الاعدادي (الدراسات الاجتماعية)

(توزيع سكان وطننا العربي)



السؤال الأول : أمامك خريطة صماء للوطن العربي

وضح مدلول الأرقام التي عليها

- (١) منطقة منخفضة الكثافة السكانية
- (٢) دولة عربية لديها زيادة موارد
- (٣) دولة عربية ترتفع بها الكثافة السكانية جدا

السؤال الثاني : اكتب ما تشير إليه العبارة

- ١- زيادة عدد السكان خلال فترة زمنية معينة (.....)
- ٢- العلاقة الغير متوازنة بين عدد السكان والموارد المتاحة (.....)
- ٣- الفرق بين معدل المواليد ومعدل الوفيات (.....)
- ٤- انتقال الأفراد من منطقة لأخرى بغرض الإقامة أو العمل (.....)

السؤال الثالث بم تفسر

١- انخفاض معدل الوفيات في معظم الدول العربية ؟

.....

٢- يفضل سكان لبنان واليمن سكني الجبال ؟ المرحلة الثانوية

.....

ب- :ما العلاقة بين التضاريس وتوزيع السكان

.....

ج- ماذا يحدث اذا حدث توازن بين عدد السكان والموارد المتاحة ؟

.....

امتحان الصف الثاني الإعدادي (الدراسات الاجتماعية)

(خصائص سكان وطننا العربي)

السؤال الأول : أكمل ما يأتي

- ١) تناقصت أعداد البدو الرحل لتحول أعداد كبيرة منهم للعمل فى
- ٢) تمثل نسبة التحاق الإناث بالتعليم فى الوطن العربى ٧٧%
- ٣) من مشكلات المدن فى الدول العربية ظهور.....
- ٤) يعيش سكان فى تنقل وترحال بحثا عن العشب والماء

السؤال الثانى : اختر الإجابة الصحيحة مما بين القوسين

- ١) يمثل سكان ٥٥% من سكان الوطن العربى
(الريف-البدو الرحل- المدن- المناطق العشوائية)
- ٢) يعمل أغلبية سكان الريف بحرفة
(الزراعة- التعدين – الرعى- صيد الأسماك)
- ٣) تمثل نسبة العربية ٦٣.٥% من عدد سكان الوطن العربى.
(المتعلمين-الريفيين-الحضر-قوة العمل)

السؤال الثالث : بم تفسر

- ١- تناقص نسبة سكان الريف فى الوطن العربى
.....
.....
.....
- ٢- ارتفاع نسبة الاعالة فى الوطن العربى .
.....
.....

السؤال الرابع : ما النتائج المترتبة

- ١- على استمرار الهجرة من الريف إلى المدن
.....
.....
- ب- ما مقترحاتك للحد من هجرة أهل الريف الي المدن ؟
.....
.....



امتحان الصف الثانى الاعدادى (الدراسات الاجتماعية)

(أحوال شبه الجزيرة العربية قبل ظهور الإسلام)

السؤال الاول اختر الاجابة الصحيحة مما بين الاقواس :

١) احتل الروم بعض البلاد العربية مثل

(العراق - اليمن - الشام - المغرب)

٢) قامت فى شبه الجزيرة العربية عدة ممالك فى الشمال منها.....

(معين - الغساسنة - سبأ - يثرب)

٣) كانت الحرفة السائدة فى البادية هى

(الزراعة - الصناعة - التجارة - الرعي)

٤) اتجهت الرحلات التجارية التى كانت تنظمها مكة نحو جهتي

(الشمال والجنوب - الشرق والغرب - الشمال والشرق - الشرق والجنوب)

السؤال الثانى: ضع (صح) أو (خطأ) مع التصويب

١) انتشرت الديانة المسيحية بدولة الفرس . ()

٢) دخلت عبادة الأصنام شبه الجزيرة العربية قبل دين ابراهيم عليه السلام . ()

٣) انتشرت الديانة اليهودية فى أجزاء قليلة من شبه الجزيرة العربية قبل الإسلام . ()

٤) عادة واد البنات من العادات الحسنة للعرب قبل الإسلام . ()

السؤال الثالث : بم تفسر

١) المكانة التجارية المتميزة بمكة

.....

٢) لم تكن أسواق شبه الجزيرة العربية للتجارة فقط.

.....

ب) دلت تعددت حضارات وممالك شبه الجزيرة العربية قبل ظهور الاسلام ؟

.....

امتحان الصف الثاني الاعدادي (الدراسات الاجتماعية)

محمد صلى الله عليه وسلم "المولد والنشأة"السؤال الاول : أكمل ما يأتى

- (١) ولد الرسول صلى الله عليه وسلم عام ٥٧٠م وعرف بعام
- (٢) حاول هدم الكعبة .
- (٣) أقام النبي صلى الله عليه وسلم أربعة أعوام عند مرضعته
- (٤) عمل النبي صلى الله عليه وسلم بحرفة في طفولته .

السؤال الثاني أ- ضع (صح) أو (خطأ)

- (١) عُرف العام الذى وُلد فيه الرسول صلى الله عليه وسلم بعام الحزن . ()
- (٢) عُرف الرسول صلى الله عليه وسلم بالصادق الأمين ()
- (٣) يمتد نسب النبي صلى الله عليه وسلم إلى اسماعيل بن ابراهيم عليهما السلام ()
- (٤) تعرضت مكة لغزو خارجي عام ٥٧٠م من جهة الشمال . ()

ب- بم تفسر

١- إرسال الرسول صلى الله عليه وسلم إلى ديار بنى سعد

.....

٢) حرص السيدة خديجة على أن يتاجر النبي صلى الله عليه وسلم بماله

.....

ج- ما العلاقة بين مكة قبل الاسلام وبلاد اليمن ؟

.....

امتحان الصف الثاني الاعدادي (الدراسات الاجتماعية)

(بعثة النبي صلى الله عليه وسلم)

السؤال الأول: اختر الاجابة الصحيحة مما بين الاقواس :

- (١) كان الرسول صلى الله يخرج إلى غار ليعتبد فيه .
 (حراء - ثور - سنور - المدينة)
- (٢) كانت أول هجرة للمسلمين إلى.....
 (يثرب - الحبشة - الطائف - تبوك)
- (٣) تشابه موقف قبيلة قريش من دعوة الرسول (ص) مع موقف
 (أهل يثرب - قبيلة ثقيف - بني هاشم - قبيلة بني سعد)

السؤال الثاني :

أ- من هو

- (١) أول من أسلم من الرجال

- (٢) أول من أسلم من الموالى

- (٣) ظمأن النبي صلى الله عليه وسلم وأخبره أنه نبي آخر الزمان

ب- أكمل :

١ - تعد اول مدرسة في الاسلام هي دار

السؤال الثالث : بم تفسر

١- رفض قريش لدعوة الإسلام. 01143694956 / 01069117382

.....

(٢) تسمية عام الحزن بهذا الاسم

.....

السؤال الرابع : ماذا يحدث إذا

قبلت قريش دعوة الرسول (ص) منذ البداية ؟

.....

امتحان الصف الثاني الاعدادي (الدراسات الاجتماعية)

(هجرة النبي محمد صلى الله عليه وسلم وبناء الدولة)

السؤال الاول : إلى من تنسب الأعمال

- ١- صاحب الرسول صلى الله عليه وسلم فى الهجرة . (.....)
- ٢- نام فى فراش النبي صلى الله عليه وسلم ليلة الهجرة (.....)
- ٣- كانت تحضر الطعام إلى الرسول صلى الله عليه وسلم وأبى بكر فى الغار (.....)
- ٤- كلفه الرسول صلى الله عليه وسلم برعى الأغنام حول غار ثور (.....)

السؤال الثانى ضع (صح) أو (خطأ) مع التصويب

- ١- يعتبر عمر بن الخطاب أول سفير فى الإسلام . ()
- ٢- أعلن الرسول صلى الله عليه وسلم قيام الدولة الإسلامية بمكة ()
- ٣- وضع الرسول صلى الله عليه وسلم مبادئ التعيش مع الآخر فى كتاب عُرف بالرضوان ()
- ٤- استأجر النبي صلى الله عليه وسلم عبد الله بن أريقط ليكون دليلا للطريق إلى يثرب ()

السؤال الثالث : بم تفسر

- ١- نجاح خطة هجرة الرسول صلى الله عليه وسلم إلى يثرب .

السؤال الرابع : ما النتائج المترتبة على بيعة العقبة الأولى.

ب- رتب الاحداث التاريخية الاتية :

- تأسيس دولة الاسلام فى المدينة
- الهجرة الي الحبشة
- بيعة العقبة الثانية
- الهجرة الي يثرب



امتحان الصف الثاني الاعدادي (الدراسات الاجتماعية)

(غزوات الرسول صلى الله عليه وسلم)

السؤال الأول : أكمل ما ياتى

- ١- أعد النبي صلى الله عليه وسلم جيشا كبيرا لقتال فى غزوة تبوك ٩ هـ
 - ٢- تحول موقف المسلمين من الهزيمة إلى النصر فى غزوة
 - ٣- انتهى الوجود اليهودى من شبه الجزيرة العربية فى عهد الخليفة.....
 - ٤- عقد النبي صلى الله عليه وسلم صلح بينه وبين قريش .
- السؤال الثانى : إلى من تنسب الأعمال

١. أشار على الرسول صلى الله عليه وسلم ان يعسكر المسلمون عند ادنى بئر من آبار بدر

[.....]

٢. عاد بثلاث جيش المسلمين إلى المدينة ولم يشارك فى غزوة احد .

[.....]

٣. استدار خلف الجبل بجيش المشركين وانقض على جيش المسلمين فى غزوة احد

[.....]

٤. أشار على الرسول صلى الله عليه وسلم بحفر خندق حول المدينة

[.....]

السؤال الثالث : حدد الاثر الناتج عن ؟

١- نقض قريش عهدا مع الرسول صلى الله عليه وسلم ٨ هـ .؟

.....

٢. تحريض يهود بني النضير مشركي مكة لمحاربة المسلمين ؟

.....

ب- دلل : كان صلح الحديبية فتحا مبينا علي المسلمين ؟

.....

امتحان الصف الثاني الاعدادي (الدراسات الاجتماعية)

(خلافة أبى بكر الصديق رضى الله عنه)

السؤال الاول : اختر الاجابة الصحيحة مما الاقواس :

- ١- اول عمل قام به أبو بكر الصديق بعد وفاة الرسول (ص)
(محاربة المرتدين – الاتجاه لقتال الروم – جمع القران – ارساء قواعد الحكم)
- ٢- أشارعلى أبى الصديق بجمع القرآن .
(زيد بن ثابت – عمر بن الخطاب – عثمان بن عفان – علي بن ابي طالب)
- ٣- اي من المناطق الاتية تم فتحها خلال عهد ابي بكر الصديق
(جده – تبوك – الاردن – خيبر)
- ٤- اتجه جيش المسلمين في عهد الخليفة ابي بكر الصديق رضى الله عنه لمحاربة الفرس في
(دمشق – العراق – اليمن – الاردن)

السؤال الثاني: أكتب ما تشير إليه العبارة

- ١- شكل من أشكال الحكم أقره المسلمون بعد وفاة الرسول صلى الله عليه وسلم
(.....)
- ٢- نظام اتبعه المسلمون فى اختيار الخلفاء الراشدين يقوم على الترشيح والانتخاب
(.....)
- ٣- قبائل عربية خرجت عن الإسلام بعد وفاة الرسول صلى الله عليه وسلم .
(.....)
- ٤- المكان الذى اجتمع فيه الأنصار والمهاجرون لاختيار خليفة للمسلمين
(.....)

ب- ما النتائج المترتبة على

١. وفاة الرسول صلى الله عليه وسلم دون أن يحدد من يخلفه.

.....

٢. حروب المرتدين

.....

ج - ماذا يحدث اذا لم يتخذ ابي بكر موقفا حازما من المرتدين ؟

امتحان الصف الثانى الاعدادى (الدراسات الاجتماعية)

(خلافة عمر بن الخطاب رضى الله عنه)

السؤال الأول :أكمل مايتى

١. أول من أنشأ الدواوين فى الدولة الإسلامية الخليفة.....
٢. من المدن التى أنشئت فى عهد عمر بن الخطاب
٣. دخل المسلمون مدينة المدائن عاصمة الفرس بعد معركة.....
٤. نجحفى فتح مصر عام ٢١ هـ .

السؤال الثانى : ضع (صح) أو (خطأ) مع التصويب

- ١- كانت مدينة الإسكندرية عاصمة مصر تحت الحكم الرومانى . ()
- ٢- استشهد الخليفة عمر بن الخطاب على يد لؤلؤة المجوسى ()
- ٣- وافق عمر بن الخطاب على فتح مصر دون تردد ()
- ٤- قاد خالد بن الوليد جيوش المسلمين فى معركة اليرموك ()
- ٥- تغيرت تبعية مصر السياسية بعد فتح المسلمين العريش ()

السؤال الثالث : بم تفسر

١- تسمية معركة نهاوند بفتح الفتوح .

٢- اهتمام الخليفة عمر بن الخطاب بإنشاء المدن

ب- دلل نجح الخليفة عمر بن الخطاب رضى الله عنه فى تنظيم الدولة الاسلامية ؟

امتحان الصف الثاني الاعدادي (الدراسات الاجتماعية)

(خلافة عثمان بن عفان رضى الله عنه)السؤال الاول : أكمل ما يأتى

- ١- انتصر المسلمون على الروم فى معركةأولى المعارك البحرية الإسلامية
- ٢- استشهد الخليفةوهو يرتل الرقرآن عام ٣٥ هـ
- ٣- لم يشارك عثمان بن عفان رضى الله عنه فى غزوة.....
- ٤- تم فتح جزيرةفى عهد الخليفة عثمان بن عفان

السؤال الثانى : ضع (صح) أو (خطأ) مع التصويب

١. أرسل معاوية القائد حبيب بن مسيلمة لفتح أرمينيا ()
٢. تم تأمين الحدود الإسلامية فى عهد عثمان بن عفان رضى الله عنه جنوبا إلى بلاد النوبة . ()
٣. شارك عثمان بن عفان فى كل الغزوات ما عدا غزوة حنين ()
٤. أثار اليهودى عبد الله بن سبا الفتنة أواخر عهد عثمان بن عفان ()

السؤال الثالث : ما النتائج المترتبة على :

١. دخول الكثير من غير العرب فى الإسلام فى عهد عثمان بن عفان

.....

٢-موقعة ذات الصوارى البحرية

.....

ب- اختر الاجابة الصحيحة مما بين الاقواس : للمرحلة الثانوية

- ١- ظهرت القوة البحرية العسكرية الإسلامية لأول مرة فى

(البحر الاحمر - البحر المتوسط - البحر العربي - الخليج العربي)

- ٢- كانت اخر الغزوات التي شارك فيها عثمان بن عفان غزوة

(الخدق - تبوك - حنين - خيبر)

امتحان الصف الثانى الاعدادى (الدراسات الاجتماعية)

(خلافة على بن أبى طالب رضى الله عنه)

السؤال الأول : أكمل ما يأتى

١. وُلد على بن أبى طالب رضى الله عنه فى مدينة.....
٢. تزوج على بن أبى طالب رضى الله عنه من السيدة..... بنت النبى صلى الله عليه وسلم .
٣. اختار على بن أبى طالب رضى الله عنه مدينة لتكون مقرا للخلافة
٤. استشهد على بن أبى طالب رضى الله عنه على يد

السؤال الثانى : أكتب ما تشير إليه العبارة :

- ١- غزوة لم يشارك فيها على بن أبى طالب (.....)
- ٢- نظام أقامه الخليفة على بن أبى طالب رضى الله عنه للحفاظ على أمن وسلامة المواطنين (.....)
- ٣- فئة من جيش على بن أبى طالب رضى الله عنه خرجوا عليه ورفضوا التحكيم (.....)
- ٤- عاصمة الخلافة فى عصر على بن أبى طالب رضى الله عنه (.....)

السؤال الثالث : ما النتائج المترتبة على

- ١- استشهاد على بن أبى طالب رضى الله عنه .

دلل على صحة العبارة : كان على بن أبى طالب رضى الله عنه نموذجا فى الزهد والتواضع