

الدراسات الاجتماعية

المفح الخامس الابتدائي



إعداد / مذكرات جاهزة للطباعة

www.mozkratgahza.com

الوحدة الأولى: تدريبات الدرس الأول

(1) أكمل العبارات التالية بما يناسبها من بنك الكلمات:

- (الزيادة الطبيعية – مصر – العشوائيات – وعورة السطح – الطبيعية – الهجرة – داخلية – الكثافة السكانية – التقدم الطبي)
- 1- أحد العوامل الطبيعية التي أدت إلى عدم تركيز السكان في محافظات الحدود الصحراوية هو
 - 2- الفرق بين أعداد المواليد وأعداد الوفيات يسمى
 - 3- ثالث الدول الإفريقية من حيث عدد السكان هي
 - 4- يزيد عدد السكان بسبب الزيادة الطبيعية و
 - 5- تسببت هجرة سكان الريف إلى القاهرة في ظهور
 - 6- انتقال أسرتك من القاهرة للاستقرار في الإسكندرية يعد هجرة
 - 7- انخفض عدد الوفيات في مصر بسبب
 - 8- النسبة بين عدد سكان مصر، ومساحتها يسمى

(2) اكتب كلمة (صواب) أمام العبارة الصحيحة، وكلمة (خطأ) أمام العبارة غير الصحيحة:

- 1- تنقسم الهجرة إلى هجرة داخلية وهجرة خارجية. ()
- 2- يزداد السكان بشكل طبيعي في حالة زيادة عدد المواليد عن عدد الوفيات. ()
- 3- تعد محافظة القاهرة من المحافظات الطاردة للسكان. ()
- 4- يتركز معظم سكان مصر في محافظات الحدود الصحراوية. ()
- 5- تحتل مصر المركز الرابع عشر إفريقيا من حيث عدد السكان. ()
- 6- الهجرة من مصر إلى ألمانيا تسمى هجرة خارجية. ()
- 7- تظهر العشوائيات نتيجة الهجرة الخارجية. ()
- 8- تحتل مصر المرتبة الثالثة إفريقيا من حيث عدد السكان. ()
- 9- تضاعف عدد سكان مصر 14 مرة في الفترة بين تعدادي 1882م و 2017م. ()
- 10- انخفض عدد المواليد في مصر بسبب تنظيم الأسرة. ()
- 11- يهاجر بعض الأفراد للبحث عن فرص عمل أفضل. ()
- 12- توافر الخدمات والمواصلات من أسباب زيادة السكان في محافظات الوادي والدلتا. ()
- 13- توافر المياه العذبة أحد أسباب تركيز السكان في محافظات الحدود الصحراوية. ()
- 14- تعد خصوبة التربة من العوامل البشرية التي تؤثر في توزيع السكان. ()
- 15- يتساوى توزيع السكان على أرض مصر. ()

(3) اختر الإجابة الصحيحة مما بين القوسين:

- 1- أحد العوامل الطبيعية التي أدت لزيادة تركيز السكان في الوادي والدلتا.....
(توافر الخدمات – خصوبة التربة – سهولة المواصلات – وعورة السطح)
- 2- إحدى المحافظات الجاذبة للسكان..... (البحر الأحمر – مطروح – الإسكندرية – الوادي الجديد)

- 3- انخفض عدد المواليد في مصر نتيجة
- (تنظيم الأسرة - التقدم الطبي - الزواج المبكر - الرعاية الصحية)
- 4- انخفض عدد الوفيات في مصر نتيجة.....
- (زيادة الإنجاب - التقدم الطبي - الزواج المبكر - انتشار الأمراض)
- 5- النسبة بين عدد السكان ومساحة الأرض التي يعيشون عليها تعرف ب.....
- (النمو السكاني - الكثافة السكانية - الزيادة السكانية - الندرة السكانية)
- 6- إحدي المحافظات التي تتوافر بها الخدمات وتجذب السكان
- (الوادي الجديد - جنوب سيناء - المنيا - القاهرة)
- 7- تغير أعداد السكان بسبب الزيادة الطبيعية والهجرة تسمى
- (التعداد السكاني - الكثافة السكانية - النمو السكاني - الندرة السكانية)
- 8- أحد العوامل البشرية التي أدت لندرة السكان في محافظات الحدود الصحراوية.....
- (نقص الخدمات - سهولة المواصلات - وفرة الخدمات - إنشاء الطرق)

(4) صوب ما تحته خط:

- 1- الدولة التي تحتل المرتبة الثالثة إفريقيا من حيث عدد السكان هي أثيوبيا.
- 2- الفرق بين عدد المواليد وعدد الوفيات في فترة معينة يقصد به الكثافة السكانية.
- 3- الحد من ظاهرة الزواج المبكر ساعد على انخفاض عدد الوفيات.
- 4- أدى التقدم الطبي والرعاية الصحية إلى انخفاض عدد المواليد.
- 5- انتقال الفرد من دولة لدولة أخرى يسمى هجرة داخلية.
- 6- يتركز معظم سكان مصر في محافظات الحدود الصحراوية.

(5) فسر ما يلي:

- 1- انخفاض عدد الوفيات في مصر.
- 2- انخفاض عدد المواليد في مصر.
- 3- تركيز السكان بمحافظات الوادي والدلتا.
- 4- هجرة السكان من مكان إلى آخر.
- 5- ندرة السكان في محافظات الحدود الصحراوية.

(6) اكتب نتيجة واحدة ترتبت على ما يلي:

- 1- هجرة السكان من مكان لآخر.
- 2- الفرق بين عدد المواليد وعدد الوفيات في مصر.
- 3- توافر المياه العذبة والتربة الخصبة في بعض محافظات مصر.

(7) اكتب دليلاً واحداً لكل عبارة:

- 1- مصر من أكبر دول العالم سكاناً.
- 2- للهجرة الداخلية في مصر نتائج سلبية.

(8) ما العلاقة بين كل من؟

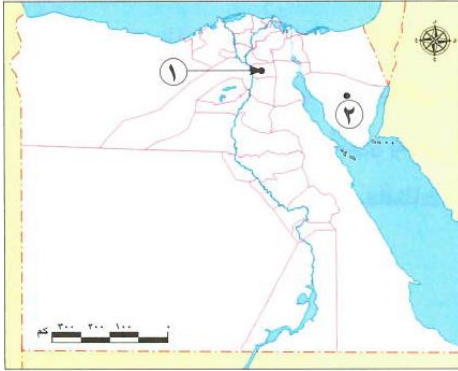
- 1- النمو السكاني والزيادة الطبيعية.
- 2- الرعاية الطبية وعدد الوفيات.
- 3- عدد المواليد وتنظيم الأسرة

(9) قارن بين:

- 1- الزيادة الطبيعية – الهجرة من حيث التعريف.
- 2- أسباب انخفاض عدد كل من: المواليد والوفيات.
- 3- العوامل الطبيعية المؤثرة في توزيع سكان كل من: محافظات الوادي والدلتا – محافظات الحدود الصحراوية.
- 4- الهجرة الداخلية – الهجرة الخارجية.

(10) لاحظ الخريطة، ثم أجب:

- 1- مدينة يتركز بها السكان هي
- 2- محافظة يقل بها تركيز السكان هي
- 3- وضح: سبب تركيز السكان في المنطقة رقم (1).
- 4- حدد: اثنين من العوامل التي أدت إلى ندرة السكان في المنطقة رقم (2)



تدريبات الدرس الثاني:

(1) أكمل العبارات التالية بما يناسبها من بنك الكلمات:

- (العمري – الذكور – الإناث – الوردي – العريضة – النوعي – كبار السن – الأشخاص في سن العمل)
- 1- تصنيف السكان إلى ذكور وإناث يعرف باسم التركيب.....
 - 2- تصنيف السكان إلى أطفال وكبار سن يسمى التركيب.....
 - 3- تتمثل إحصاءات الإناث في الهرم السكاني باللون.....
 - 4- الفئة المنتجة في مصر هي فئة.....
 - 5- تتمثل قمة الهرم السكاني المصري في فئة.....
 - 6- الهرم السكاني المصري يتسم بالقاعدة.....
 - 7- يمثل اللون الأزرق في الهرم السكاني المصري إحصاءات.....

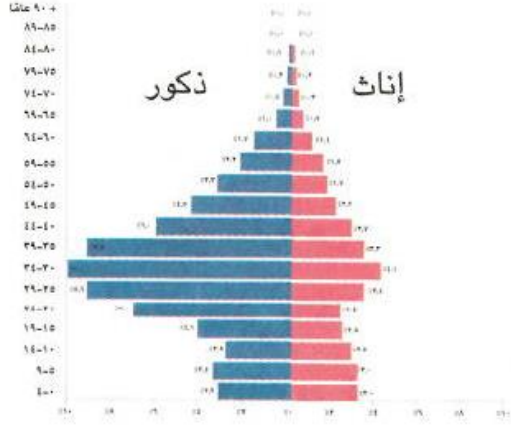
(2) اكتب كلمة (صواب) أمام العبارة الصحيحة، وكلمة (خطأ) أمام العبارة غير الصحيحة:

- 1- الهرم السكاني عبارة عن رسم بياني يوضح توزيع السكان من حيث النوع والعمر. ()
- 2- نسبة الذكور في مصر أكبر من نسبة الإناث. ()
- 3- التركيب العمري عبارة عن تصنيف السكان حسب الفئة العمرية. ()
- 4- يتسم الهرم السكاني بالقاعدة العريضة إذا زاد عدد المواليد. ()
- 5- تلون إحصاءات الإناث في الهرم السكاني باللون الأزرق. ()
- 6- تضم الفئات العاملة كلاً من الأطفال وكبار السن. ()
- 7- يتسم الهرم السكاني لمصر بالقاعدة العريضة. ()
- 8- يساعد الهرم السكاني في تحديد احتياجات الدولة من تعليم وصحة ومرافق وفرص عمل. ()
- 9- يعد صغار السن أقل نسبة للفئات العمرية في الهرم السكاني المصري. ()
- 10- تعد فئة كبار السن من الفئات المعالة. ()
- 11- يتسم الهرم السكاني بالقاعدة الضيقة إذا انخفض عدد المواليد. ()
- 12- يشير اللون الوردي في الهرم السكاني إلى إحصاءات الذكور. ()
- 13- توجد فئة كبار السن أسفل الهرم السكاني المصري. ()

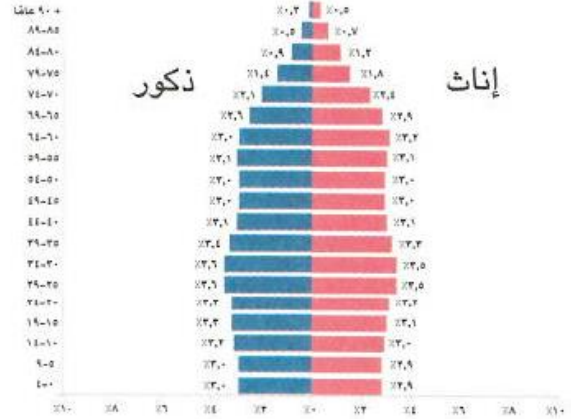
(3) اختر الإجابة الصحيحة مما بين القوسين:

- 1- تصنيف السكان إلى أطفال وكبار وشباب يسمى التركيب.....
(النوعي – العمري – الاقتصادي – اللغوي)
- 2- يظهر الهرم السكاني الذي يتسم بالقاعدة العريضة زيادة أعداد.....
(صغار السن – الوفيات – الشباب – كبار السن)
- 3- كلما انخفض عدد المواليد يتسم الهرم السكاني بالقاعدة.....
(العريضة – الضيقة – المدببة – الواسعة)
- 4- تظهر إحصاءات الذكور على الهرم السكاني باللون.....
(الوردي – الأزرق – الأخضر – الأصفر)
- 5- يتسم الهرم السكاني لمصر بالقاعدة.....
(الضيقة – المدببة – العريضة – الصغيرة)
- 6- تصنيف السكان إلى ذكور وإناث يعرف باسم التركيب.....
(النوعي – الاقتصادي – اللغوي – العمري)

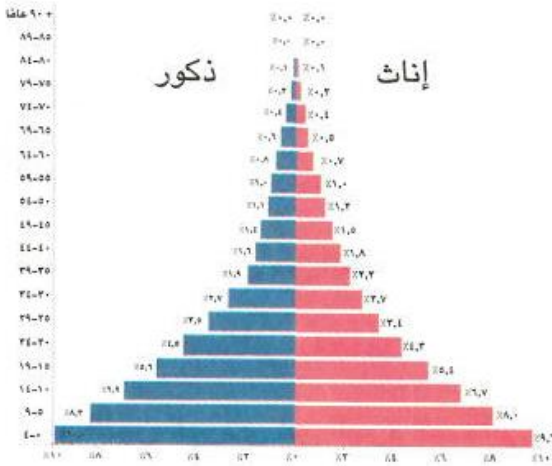
- 7- أهم الفئات العمرية لزيادة الإنتاج والعمل..... (0: 4- 5- 9: 15- 64 - 65 فأكثر)
- 8- تتمثل الفئة العمرية (صفر - 14 سنة) داخل الهرم السكاني المصري في
(قاعدته - وسطه - أطرافه - قمته)
- 9- الشكل الذي يعبر عن الهرم السكاني لمصر عام 2022م هو



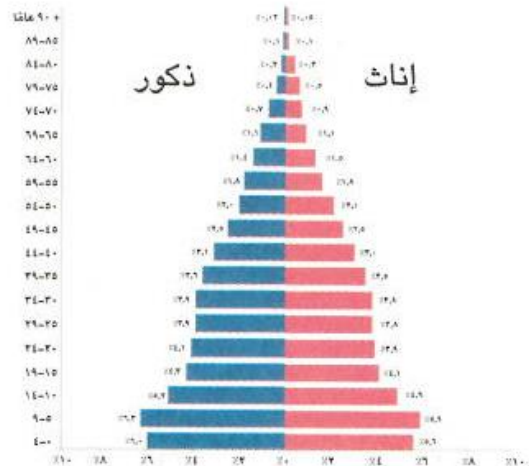
ب



أ



د



ج

(4) صوب ما تحته خط:

- 1- الرسم البياني الذي يوضح عمر ونوع السكان يسمى رسمًا بيانيًا خطيًا.
- 2- تصنيف السكان إلى ذكور وإناث يعرف باسم التركيب العمري.
- 3- الهرم السكاني لمصر يتسم بالقاعدة الضيقة.
- 4- السكان في عمر (15-64 سنة) يمثلون فئة كبار السن.
- 5- إذا انخفض عدد المواليد فيتسم الهرم السكاني بالقاعدة العريضة.
- 6- قاعدة الهرم السكاني المصري تحتلها فئة كبار السن.

(5) فسر ما يلي:

- 1- أهمية الهرم السكاني.
- 2- اختلاف شكل قاعدة الهرم السكاني من دولة لأخرى.
- 3- يتوقع زيادة نسبة كبار السن في مصر مستقبلاً.
- 4- الهرم السكاني لمصر يتسم بالقاعدة العريضة.
- 5- أهمية الفئة العمرية (15-64 سنة) في مصر.

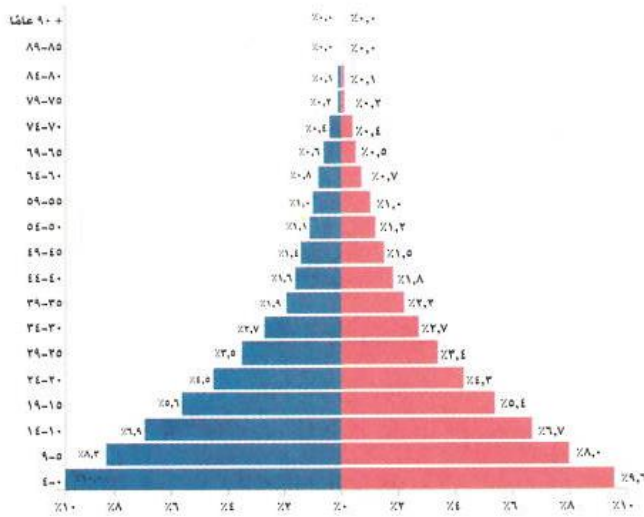
(6) أجب عما يلي:

(أ) اكتب نتيجة واحدة ترتبت على ما يلي:

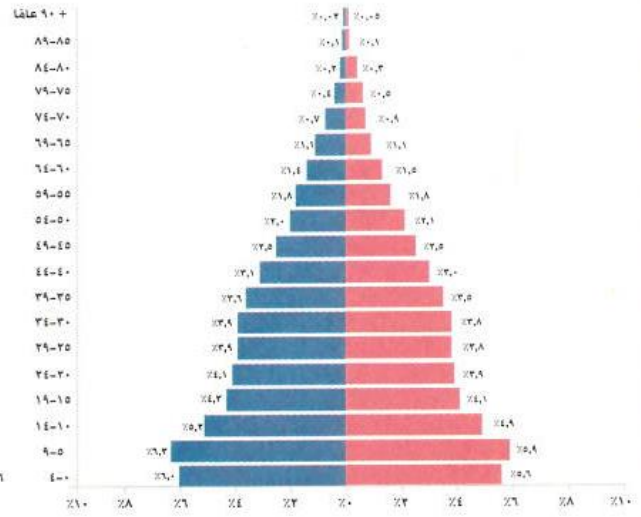
- ارتفاع نسبة صغار السن في مصر.

(ب) قارن بين:

- 1- فئة صغار السن وفئة كبار السن في مصر.
- 2- التركيب العمري والتركيب النوعي.
- 3- الأهرامات السكانية التالية من حيث أوجه التشابه والاختلاف.



الهرم (٢)



الهرم (١)

تدريبات الدرس الثالث

(1) أكمل العبارات التالية بما يناسبها من بنك الكلمات:

- (مشروعات التنمية – الموارد المتاحة – وفيات الأطفال الرضع – الزواج المبكر – تنظيم الأسرة – زيادة الموارد)
- 1- تظهر مشكلة الزيادة السكانية عندما يتجاوز عدد السكان
 - 2- أحد أهم أسباب مشكلة الزيادة السكانية.....
 - 3- تؤدي مشكلة الزيادة السكانية إلى إعاقة.....
 - 4- يواجه المواطنون مشكلة الزيادة السكانية عن طريق
 - 5- أدي تحسين الرعاية الصحية إلى تراجع

(2) اكتب كلمة (صواب) أمام العبارة الصحيحة، وكلمة (خطأ) أمام العبارة غير الصحيحة:

- 1- تظهر مشكلة الزيادة السكانية نتيجة تجاوز عدد السكان للموارد والخدمات المتاحة. ()
- 2- إنجاب العديد من الأطفال يؤدي إلى النمو السكاني. ()
- 3- يؤدي الزواج المبكر إلى ظهور مشكلة الزيادة السكانية. ()
- 4- مشكلة الزيادة السكانية تؤدي لتنمية الدولة. ()
- 5- تفضيل الذكور على الإناث يدفع بعض الأسر إلى الاستمرار في الإنجاب. ()
- 6- تؤدي الزيادة السكانية على زيادة نصيب الفرد من الموارد. ()
- 7- تؤثر الزيادة السكانية إيجاباً على الموارد والبيئة. ()
- 8- يزداد إنجاب الأطفال في الحضر عن الريف. ()
- 9- تواجه الدولة مشكلة الزيادة السكانية بتوفير وسائل تنظيم الأسرة. ()
- 10- إذا قمت باستهلاك الموارد فإنك تساعد في مواجهة مشكلة الزيادة السكانية. ()
- 11- أصدرت الدولة العديد من القوانين للحد من الزواج المبكر. ()
- 12- تؤدي مشكلة الزيادة السكانية إلى ضرورة قيام الدولة بتوفير المزيد من فرص العمل. ()
- 13- يزداد متوسط عمر الفرد بسبب تحسين الرعاية الصحية. ()
- 14- تؤدي مشكلة الزيادة السكانية إلى تقليل الأعباء على الدولة المصرية. ()

(3) اختر الإجابة الصحيحة مما بين القوسين:

- 1- تجاوز عدد السكان للموارد المتاحة يسمى
(كثافة سكانية – مشكلة الزيادة السكانية – زيادة الهجرة الداخلية – هجرة خارجية)
- 2- إحدى طرق حل مشكلة الزيادة السكانية
(تنظيم الأسرة – الزواج المبكر – تفضيل الذكور على الإناث – إيقاف مشروعات التنمية)
- 3- أحد أسباب مشكلة الزيادة السكانية
(تناقص نصيب الفرد من الموارد – ضرورة توفير فرص عمل – إعاقة مشروعات التنمية – تفضيل الذكور على الإناث)
- 4- يؤدي تحسين الرعاية الصحية إلى
(تقلص فئة صغار السن – ارتفاع عدد الوفيات – تناقص متوسط عمر الفرد – انخفاض عدد وفيات الرضع)

5- تقوم الدولة المصرية بجهود لمواجهة مشكلة الزيادة السكانية منها
(زيادة استهلاك الموارد المتاحة - إعاقة مشروعات التنمية - التوسع في مشروعات التنمية - ترشيد استهلاك الموارد).

(4) صوب ما تحته خط:

- 1- يزداد إنجاب الأطفال خاصة في الحضر.
- 2- تناقص نصيب الفرد من الخدمات والموارد سببه أن النمو السكاني منخفض.

(5) فسر ما يلي:

- 1- تراجع وفيات الأطفال الرضع وزيادة متوسط عمر الفرد.
- 2- مشكلة الزيادة السكانية تزيد الأعباء على الدولة المصرية.
- 3- تؤدي مشكلة الزيادة السكانية إلى زيادة التلوث.
- 4- تؤثر مشكلة الزيادة السكانية على نصيب الفرد من المياه.
- 5- التوسع في بناء المدن الجديدة واستصلاح الأراضي.

(6) ما النتائج المترتبة على:

- 1- كثرة إنجاب الأطفال خاصة في الريف.
- 2- تفضيل الذكور على الإناث.
- 3- تحسن الرعاية الصحية.
- 4- مشكلة الزيادة السكانية.

(7) ما العلاقة بين الزيادة السكانية في مصر وكل من؟ :

- 1- فرص العمل.
- 2- تلوث البيئة.
- 3- ندرة الموارد.

(8) قارن بين: دور الدولة ودور المواطنين في مواجهة مشكلة الزيادة السكانية.

دور المواطنين	دور الدولة

(9) حدد المختلف فى العبارات التالية مع ذكر السبب:

- | | |
|--------------------------------|------------------------------|
| (ب) إعاقه مشروعات التنمية | 1- (أ) الزواج المبكر |
| (د) تفضيل الذكور على الإناث | (ج) كثرة إنجاب الأطفال |
| (ب) التوسع فى مشروعات التنمية. | 2- (أ) بناء المدن الجديدة |
| (د) ترشيد استهلاك الموارد | (ج) توفير وسائل تنظيم الأسرة |

(10) اقترح حلولاً لمشكلة الزيادة السكانية.



(11) لاحظ الصورة ثم أجب:

- 1- تعبر الصورة عن أحد حلول مشكلة الزيادة السكانية وهي
- 2- ما رأيك فى هذا الحل؟
- 3- هل تنصح السكان بالإلتزام به؟
- 4- ماذا يحدث إذا لم يهتم السكان بالإلتزام به؟

تدريبات الدرس الرابع

(1) أكمل العبارات التالية بما يناسبها من بنك الكلمات:

- (شم النسيم - الكتان - الملك وأسرته - العزف - السنت - الشيوخ - الحرير)
- 1- تكونت الطبقة العليا في المجتمع المصري من
 - 2- أصبحت المرأة تشارك حاليًا في مجلسي النواب و.....
 - 3- أحد الأعياد التي كان يحتفل بها المصريون القدماء هو عيد
 - 4- أحد ألعاب التفكير عند المصريين القدماء هي لعبة
 - 5- صنعت ملابس عامة الشعب في مصر القديمة من
 - 6- تدل الصورة المقابلة على اهتمام المصريين القدماء ب.....

(2) اكتب كلمة (صواب) أمام العبارة الصحيحة، وكلمة (خطأ) أمام العبارة غير الصحيحة:

- 1- احتفل المصريون القدماء بعيد الفيضان والحصاد. ()
- 2- صنعت ملابس الملك قديمًا من الحرير والكتان على الجودة. ()
- 3- تشابهت ملابس الملوك مع ملابس عامة الشعب في مصر القديمة. ()
- 4- تعد العطور من أدوات الزينة عند المصريين القدماء. ()
- 5- اهتم المصريون القدماء بتربية أبنائهم على قيم احترام الآخر وإتقان العمل. ()
- 6- مارس المصريون القدماء رياضة كرة القدم. ()
- 7- احتفل المصريون القدماء بأعياد خاصة بالملك. ()
- 8- ظهرت رياضة التحطيب في مصر حديثًا. ()
- 9- اهتم المصريون القدماء بالعزف والغناء. ()
- 10- تكونت الطبقة الثانية في المجتمع المصري القديم من صغار الموظفين. ()
- 11- يعد أصحاب الحرف الصغيرة من أعلى الطبقات في مصر القديمة. ()
- 12- اقتصر اهتمام الأبناء في الأسرة المصرية القديمة على اللعب واللهو. ()
- 13- تولت المرأة حكم البلاد في مصر قديمًا. ()
- 14- اهتم المصريون القدماء بأدوات الزينة فارتدوا الشعر المستعار. ()
- 15- يتشابه دور الأب في مصر القديمة مع دور الأب حاليًا. ()
- 16- للمرأة المصرية دور سلبي في المشاركة بالحياة السياسية قديمًا وحديثًا. ()
- 17- اهتم المصريون القدماء بارتداء الأساور والقلائد. ()

(3) اختر الإجابة الصحيحة مما بين القوسين:

- 1- صنعت ملابس الملك والأغنياء قديمًا من
- 2- تكونت قاعدة هرم طبقات المجتمع المصري القديم من
- (الفلاحين والرعاة - الملك وأسرته - صغار الموظفين - كبار الكهنة)
- 3- صنعت ملابس عامة الشعب عند المصريين القدماء من
- (الحرير - الكتان - القطن - الصوف)
- 4- أحد الألعاب الرياضية التي مارسها المصري القديم
- (السنت - الجمباز - المصارعة - الباليه)
- 5- ارتبطت بعض أعياد المصري القديم بالزراعة منها عيد... (شم النسيم - الفطر - ميلاد الملك - الحصاد)

- 6- أحد أفراد الأسرة ومن مهامه الإشراف على أعمال المنزل (الأب - الأبن - الأبنة - الأم)
- 7- تدل الصورة المقابلة على اهتمام المصريين ب..... (الرياضة - العزف - الاحتفالات - الزينة)
- 8- المسئول عن رعاية أفراد الأسرة وتوفير الحاجات الأساسية (الأم - الأب - الابن - الأبنة)
- 9- يأتي على قمة هرم طبقات المجتمع المصري قديمًا..... (الوزير - الكاتب - الملك - الكاهن)

(4) صوب ما تحته خط:

- 1- صنعت ملابس عامة الشعب قديمًا من القطن.
- 2- صنعت ملابس الملك والأغنياء قديمًا من الكتان على الجودة والصوف.
- 3- الإشراف على الأعمال المتعلقة بالمنزل أحد أدوار الأب.
- 4- اهتم المصريون القدماء بألعاب التفكير مثل الصيد.

(5) فسر ما يلي:

- 1- استقرار وتقدم المجتمع المصري القديم.
- 2- أهمية دور الأب في الأسرة المصرية القديمة.
- 3- أهمية دور الأم في الأسرة المصرية القديمة.
- 4- اختلاف الملابس في مصر القديمة.

(6) اكتب نتيجة واحدة ترتبت على ما يلي:

- 1- احترام المصري القديم للحياة الأسرية.
- 2- تطبيق المجتمع المصري للعدالة بين أفراد المجتمع.

(7) قارن بين:

- 1- دور المرأة في المجتمع المصري قديمًا وحديثًا.
- 2- ألعاب التفكير والألعاب الرياضية عند المصريين القدماء.
- 3- ملابس عامة الشعب وملابس الملوك والأغنياء في مصر القدماء.

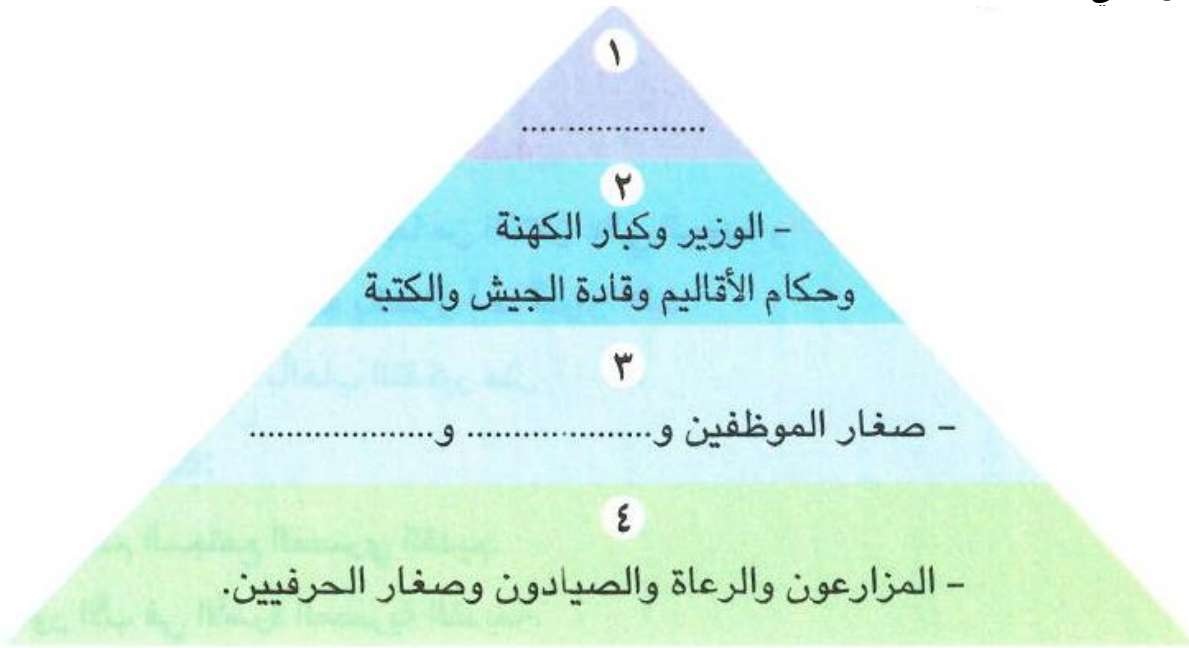
(8) دلل على صحة العبارات التالية:

- 1- تكون المجتمع المصري قديمًا من عدة طبقات.
- 2- اختلفت الملابس في مصر القديمة باختلاف طبقات المجتمع.
- 3- احتفل المصريون القدماء بالعديد من المناسبات والأعياد.

(9) أجب عما يلي:

- 1- ما العلاقة بين : طبقات المجتمع - الملابس عند المصريين القدماء.
- 2- حدد ثلاث من وسائل الترفيه عند المصريين القدماء.
- 3- وضح مظاهر اهتمام المصريين القدماء بأدوات الزينة.
- 4- حدد الأسباب التي أدت لازدهار الحضارة المصرية القديمة في ضوء ما درست.

5- أكمل الشكل التالي:



تدريبات الدرس الخامس

(1) أكمل العبارات التالية بما يناسبها من بنك الكلمات:

- 1- أختياتون - المقابر - آتون - أمنحتب الرابع - البعث - الخلود - أوزوريس - التحنيط - الحق والعدل
- 1- اعتقد المصريون القدماء أن (ماعت) هي إلهة.....
- 2- الدعوة إلى توحيد الآلهة عند المصريين القدماء كانت في عهد الملك.....
- 3- دعا الملك أمنحتب الرابع إلى عبادة الإله.....
- 4- شيد الملك أمنحتب الرابع مدينة.....
- 5- تكونت محكمة الموتى من 42 قاضيًا على رأسهم الإله.....
- 6- اعتقد المصريون القدماء في البعث والخلود لذلك قاموا ببناء.....
- 7- العودة إلى الحياة بعد الموت تسمى.....
- 8- حفظ جسد الإنسان بعد الموت يسمى.....

(2) اكتب كلمة (صواب) أمام العبارة الصحيحة، وكلمة (خطأ) أمام العبارة غير الصحيحة:

- 1- عرف شعب مصر التدين والقيم الحميدة والسلام منذ القدم. ()
- 2- كان يتم وزن القلب في مقابل الريشة بمحكمة الموتى برئاسة الإله آتون. ()
- 3- اتخذ المصريون القدماء معبوداتهم من الطبيعة. ()
- 4- انتشرت عبادة الإله آتون في عصر الملك أمنمحات الثالث. ()
- 5- آمن المصري القديم بأنه سيحاسب على أفعاله بعد الموت. ()
- 6- كان لكل أقاليم مصر معبود واحد. ()
- 7- المعبود الذي تولى رئاسة محكمة الموتى هي الإلهة ماعت. ()
- 8- اعتقد المصريون القدماء في الحياة الأبدية بعد الموت. ()
- 9- حفظ المصريون القدماء جثث موتاهم عن طريق التحنيط. ()
- 10- اتخذ الملك أمنحتب الرابع القمر رمزًا للإله آتون. ()
- 11- شيد الملك أمنحتب الرابع مدينة أختياتون عاصمة له. ()
- 12- إحدى الخصائص الدينية للمصريين القدماء للاعتقاد في الحساب بعد الموت. ()
- 13- تكونت محكمة الموتى من 42 قاضيًا يمثلون أقاليم مصر. ()
- 14- عرف المصريون القدماء عبادة إله واحد في عهد الملك خوفو. ()
- 15- تعبر الصورة المقابلة عن اعتقاد المصريين القدماء في الحساب بعد الموت. ()



(3) اختر الإجابة الصحيحة مما بين القوسين:

- 1- المدينة التي اتخذها الملك أمنحتب الرابع لعبادة الإله آتون هي (منف - أختياتون - نخب - طيبة)
- 2- تمثل إلهة الحق والعدل عند المصريين القدماء المعبودة..... (أيزيس - ماعت - آتون - آمون)
- 3- تشير الصورة إلى إحدى خصائص الحياة الدينية عند المصريين القدماء وهي (تعدد الآلهة - الحساب بعد الموت - السمو إلى التوحيد - البعث والخلود)
- 4- (العيش حياة أبدية بعد الموت) يشير هذا الاعتقاد عند المصريين القدماء إلى (البعث - الحساب - الخلود - التوحيد)
- 5- (العودة للحياة مرة أخرى بعد الموت) يشير هذا الاعتقاد عند المصريين القدماء إلى (البعث - الحساب - الخلود - التوحيد)



- 6- كان يتولي رئاسة محكمة الموتى عند المصريين القدماء الإله(ماعت - أتون - حورس - أوزوريس)
- 7- تندب فكرة توحيد الآلهة عند المصريين القدماء إلى الملك
(سقنن رع - أمنحتب الرابع - سنوسرت الثالث - تحتمس الثالث)
- 8- يوضع قلب المتوفى في كفة ميزان العدالة وفي الكفة الأخرى توضع ريشة تمثل الإلهة.....
(أوزوريس - رع - حورس - ماعت)
- 9- حفظ جسد الإنسان المتوفى بعد الموت يسمى
(بعثًا - تحنيطًا - خلودًا - توحيدًا)
- 10- اخترع المصريون القدماء التحنيط عندما اعتقدوا في
(تعدد الآلهة - البعث والخلود - الحساب بعد الموت - السمو إلى التوحيد)
- 11- تم الرمز إلى الإله أتون ب.....
(البقرة - قرص الشمس - ثعبان الكوبرا - الصقر)

(4) صوب ما تحته خط:



- 1- رمز الملك أمنحتب الرابع للإله أتون بقرص القمر.
- 2- شيد الملك أمنحتب الرابع مدينة أخيتاتون لعبادة الإله آمون.
- 3- يقف المصري القديم عند موته في محكمة أمام 42 قاضيًا يترأسهم الإله رع.
- 4- يوضع قلب المتوفى على ميزان العدالة مقابل زهرة اللوتس.
- 5- تدل الصورة المقابلة على إحدى نتائج الاعتقاد في البعث والخلود وهي بناء المقابر.

(5) فسر ما يلي:

- 1- شيد الملك أمنحتب الرابع مدينة أخيتاتون.
- 2- حرص المصريون القدماء على تحنيط جثث موتاهم.
- 3- تمسك المصريون القدماء بالقيم والأخلاق النبيلة.
- 4- يبلغ عدد القضاة بمحكمة الموتى 42 قاضيًا.
- 5- تعدد الآلهة عند المصريين القدماء.

(6) ما النتائج المترتبة على؟:

- 1- اعتقاد المصريين القدماء في البعث والخلود.
- 2- دعوة الملك أمنحتب الرابع لعبادة الإله أتون.
- 3- اعتقاد المصريين القدماء في الحساب بعد الموت.

(7) اكتب دليلًا واحدًا لكل عبارة:

- 1- تعدد الخصائص الحياة الدينية عند المصريين القدماء.
- 2- إيمان المصريين القدماء بالبعث والخلود.
- 3- كان لدعوة الملك أخناتون أثرها على الحياة الدينية للمصريين القدماء.
- 4- اعتقاد المصريين القدماء في الحساب بعد الموت.

(8) ما العلاقة بين كل من؟

- 1- الطبيعة - الحياة الدينية بمصر القديمة.
- 2- التحنيط - الحياة الدينية عند المصريين القدماء.

الوحدة الثانية

تدريبات الدرس الأول

(1) أكمل العبارات التالية بما يناسبها من بنك الكلمات:

- (الدولة القديمة – الدولة الحديثة – الملك أحمس – الهكسوس – مجدو – تحتمس الثالث – معاهدة السلام – الحيثيين)
- 1- تم توحيد جيوش الأقاليم وتنظيمها وتسليحها في مصر في عصر
 - 2- تعرضت مصر في عصر الضهف الثاني لغزو
 - 3- بطل التحرير وطارد الهكسوس هو
 - 4- نجح الملك أحمس في تأسيس عصر
 - 5- خاض الملك تحتمس الثالث ست عشرة حملة عسكرية ومن أشهر معاركه معركة
 - 6- خاص الملك رمسيس الثاني الكثير من المعارك ضد
 - 7- الاتفاق الذي تم بين مصر وإسرائيل بعد حرب أكتوبر 1973م يسمى

(2) اكتب كلمة (صواب) أمام العبارة الصحيحة، وكلمة (خطأ) أمام العبارة غير الصحيحة:

- 1- نجح الملك خفرع في صد هجمات بعض القبائل على أرض سيناء. ()
- 2- يعد الجيش المصري من أقدم الجيوش في العالم. ()
- 3- زادت الصراعات وعمت الفوضى في نهاية عصر الدولة الوسطي قديمًا. ()
- 4- تعرضت مصر لغزو الهكسوس في عصر الضعف الأول. ()
- 5- نجح الملك تحتمس الثالث في طرد الهكسوس بتشجيع من أمة الملكة إياح حتب. ()
- 6- يعد الملك تحتمس الثالث من أفضل القادة العسكريين في مصر القديمة. ()
- 7- قاد الملك تحتمس الثالث ست عشرة حملة عسكرية لتأمين حدود مصر. ()
- 8- استطاع الملك تحتمس الثالث الانتصار في معركة قادش. ()
- 9- إذا أردت زيارة متحف بانوراما حرب أكتوبر فعليك التوجه لمدينة الإسكندرية. ()
- 10- وقع الملك رمسيس الثاني مع الحيثيين أقدم معاهدة سلام في التاريخ. ()
- 11- نجح الجيش المصري أثناء حرب أكتوبر 1973م في عبور قناة السويس وتدمير خط بارليف. ()
- 12- أدت معاهدات السلام إلى انخفاض مستوي معيشة الشعوب. ()
- 13- قتل والد أحمس وأخوه كامس في حربهما ضد الهكسوس. ()
- 14- نجح الملك زوسر في حماية أرض سيناء في عصر الدولة الحديثة. ()

(3) اختر الإجابة الصحيحة مما بين القوسين:

- 1- الملك الذي قاد 16 حملة عسكرية لتأمين حدود مصر في عصر الدولة الحديثة (ميناء – تحتمس الثالث – زوسر – رمسيس الثاني)
- 2- الملك الذي نجح في توحيد جيوش أقاليم مصر القديمة هو (زوسر – خوفو – سنفر – منكاورع)
- 3- كان للملكة إياح حتب دور في تحرير مصر من خطر (الحيثيين – الهكسوس – الروم – الفينيقيين)
- 4- انتصر الجيش المصري في معركة مجدو على أمراء (أوروبا – أمريكا الشمالية – آسيا – أمريكا الجنوبية)

- 5- عقدت أول معاهدة سلام في التاريخ بين المصريين و.....
(الآشوريين - الحيثيين - الفينيقيين - الهكسوس)
- 6- أحد أبرز القادة العسكريين في مصر حديثًا هو
(محمد أنور السادات - محمد طلعت حرب - رمسيس الثاني - تحتمس الثالث)
- 7- الملك الذي انتصر على الحيثيين في معركة قادش هو
(رمسيس الثاني - أحمس - تحتمس الثالث - سنفرو)
- 8- عقدت معاهدة سلام في العصر الحديث بين مصر و
(فرنسا - إسرائيل - روسيا - ألمانيا)

(4) صوب ما تحته خط:

- 1- هجمت بعض القبائل على حدود مصر الشمالية الشرقية في عهد الملك خوفو.
- 2- استطاع الملك أحمس الانتصار على الحيثيين.
- 3- الموقع الحالي لمعركة مجدو في دولة لبنان.
- 4- أهم الحروب التي خاضتها مصر في القرن العشرين هي معركة مجدو.
- 5- الملك الذي عقد معاهدة السلام مع الحيثيين هو تحتمس الثالث.

(5) فسر ما يلي:

- 1- نجاح الملك زوسر في صد هجمات بعض القبائل على حدود مصر الشمالية الشرقية.
- 2- يعد الملك أحمس بطل التحرير.
- 3- خاض الملك تحتمس الثالث كثيرًا من الحملات العسكرية.
- 4- انتصر الملك تحتمس الثالث في معركة مجدو.
- 5- خاض الملك رمسيس الثاني كثيرًا من المعارك ضد الحيثيين.
- 6- قيام حرب أكتوبر عام 1973م.
- 7- أهمية تحقيق السلام لشعوب العالم.

(6) ما النتائج المترتبة على:

- 1- انتشار الفوضى والصراعات بين الحكام في عصر الضعف الثاني.
- 2- انتصار الملك أحمس على الهكسوس.
- 3- خطة الملك تحتمس الثالث في معركة مجدو.
- 4- عقد معاهدة السلام بين الملك رمسيس الثاني وملك الحيثيين.
- 5- عقد معاهدة السلام بين مصر وإسرائيل عام 1979م.

(7) اكتب عملًا تاريخيًا لكل من:

- 1- الملك أحمس.
- 2- الرئيس الراحل محمد أنور السادات.

(8) دلل على صحة العبارات التالية:

- 1- كان الملك زوسر قائدًا عسكريًا متميزًا.
- 2- لعبت الملكة إياح حتب دورًا مهمًا في طرد الهكسوس من مصر.
- 3- يعد الملك تحتمس الثالث من أفضل القادة العسكريين في التاريخ.
- 4- حقق الجيش المصري العديد من الإنجازات العسكرية خلال حرب 6 أكتوبر عام 1973م.

(9) أجب عما يلي:

- 1- قارن بين كل من معركة مجدو ومعركة قادش من حيث:

وجه المقارنة	معركة مجدو	معركة قادش
القائد المصري		
العدو		
النتائج		

- 2- ما رأيك في موقف الملك رمسيس الثاني مع الحيثيين؟
- 3- ما العلاقة بين: الهكسوس – الملكة إياح حتب؟
- 4- ماذا كان يحدث إذا لم: ينجح الملك أحمس في طرد الهكسوس من مصر؟
- 5- أعط مثالين للإبداعات العسكرية لدي الجيش المصري على مر العصور.

(10) إلى من تنسب الأعمال التاريخية التالية:

- 1- قاد حرب التحرير وطرد الهكسوس من مصر.
- 2- انتصر على الحيثيين وعقد أول معاهدة سلام في التاريخ.
- 3- استطاع هزيمة أمراء أسيا في معركة مجدو.
- 4- شجعت ابنها على طرد الهكسوس من مصر.

تدريبات الدرس الثاني:

(1) أكمل العبارات التالية بما يناسبها من بنك الكلمات:

- (منارة الإسكندرية – أكتيوم البحرية – البطالمة – آمون – الزيوت – الفتح العربي الإسلامي – الإسكندرية – كليوباترا السابعة – القمح – الساقية – ملكيًا مطلقًا – دخول المسيحية)
- 1- الدولة التي تأسست في مصر بعد وفاة الإسكندر الأكبر مباشرة هي دولة.....
 - 2- أحد الآثار التي تركها البطالمة في مصر.....
 - 3- شرع الإسكندر الأكبر في التخطيط لبناء مدينة.....
 - 4- أدخل البطالمة أدوات جديدة في الزراعة منها.....
 - 5- تقرب الإسكندر الأكبر للمصريين قديمًا عن طريق زيارته لمعبد الإله.....
 - 6- انتصر الرومان على البطالمة عام 31 ق.م في معركة.....
 - 7- استغل الرومان أرض مصر لزراعة محصول.....
 - 8- تخلص المصريون قديمًا من الحكم الروماني عام 641م بعد.....
 - 9- كان نظام الحكم البطلمي لمصر.....
 - 10- ازدهرت بعض الصناعات في عصر البطالمة ومنها صناعة.....
 - 11- آخر ملوك البطالمة في مصر هي.....

(2) اكتب كلمة (صواب) أمام العبارة الصحيحة، وكلمة (خطأ) أمام العبارة غير الصحيحة:

- 1- قاد الحكم البطلمي في مصر على أساس الديمقراطية والحرية للمصريين. ()
- 2- خطط الإسكندر الأكبر لبناء مدينة الإسكندرية. ()
- 3- تدخلت روما في شئون مصر الداخلية في عهد الملكة كليوباترا السابعة. ()
- 4- انتصرت الملكة كليوباترا السابعة في معركة أكتيوم البحرية عام 31 ق.م. ()
- 5- أدخل البطالمة سلالات جديدة من الحيوانات لمصر. ()
- 6- اهتم الرومان بزراعة محصول الأرز في مصر قديمًا. ()
- 7- تعد مكتبة الإسكندرية أحد مظاهر اهتمام الرومان بالثقافة في مصر قديمًا. ()
- 8- أدي ظهور المسيحية إلى زيادة الاضطهاد الروماني للمصريين قديمًا. ()
- 9- تقرب الإسكندر الأكبر إلى المصريين فقام بزيارة معبد الكرنك. ()
- 10- يعتبر الملك بطليموس الأول مؤسس دولة البطالمة في مصر قديمًا. ()
- 11- أصبحت الإسكندرية أهم مركز تجاري في شرق البحر المتوسط في عصر الرومان. ()
- 12- رحب المصريون بالفتح العربي الإسلامي لمصر عام 641م. ()

(3) اختر الإجابة الصحيحة مما بين القوسين:

- 1- تنسب منارة الإسكندرية القديمة إلى عصر..... (البطالمة – الرومان – الفرس – الهكسوس)
- 2- أحد الإنجازات الثقافية للبطالمة في مصر هو بناء جامعة..... (أون – روما – قرطبة – الإسكندرية)
- 3- تحولت مصر إلى ولاية رومانية عام 30 ق.م بعد معركة..... (أكتيوم البحرية – مجدو – قادش – عين جالوت)

- 4- مؤسس دولة البطالمة في مصر
- (الإسكندر الأكبر – بطليموس الثالث – بطليموس الأول- كليوباترا السابعة)
- 5- مدينة مصرية اتخذها البطالمة عاصمة لهم..... (بلبيس – العريش – الإسكندرية – الفرما)
- 6- بدأ ضعف دولة البطالمة بعد حكم
- (كليوباترا السابعة – بطليموس الأول – بطليموس الثالث – الإسكندر الأكبر)
- 7- أظهر الإسكندر الأكبر احترامه للديانة المصرية من خلال زيارة معبد الإله
- (أوزوريس – آمون – رع – ست)
- 8- كانت الإسكندرية المدينة الثانية عالميًا من الناحية الثقافية في عصر
- (الرومان – البطالمة – الفرس – الهكسوس)
- 9- أدخل البطالمة آلات زراعية جديدة لمصر منها
- (الفأس – المنجل – الساقية – المذراة)
- 10- أحد أشهر المعابد التي تم تشييدها في فترة الحكم الروماني لمصر هو معبد
- (كوم أمبو – رأس السوداء – الدير البحري – الإله آمون)

(4) صوب ما تحته خط:

- 1- آخر ملوك البطالمة في مصر بطليموس الأول.
- 2- استغلت روما أرض مصر قديمًا لزراعة محصول القطن.
- 3- كان نظام الحكم الروماني في مصر نظامًا ديمقراطيًا.
- 4- سقطت دولة البطالمة بعد معركة عين جالوت.
- 5- مؤسس دولة البطالمة في مصر هو بطليموس الثالث.
- 6- كانت عاصمة البطالمة في مصر مدينة السويس.

(5) فسر ما يلي:

- 1- انهيار حكم الرومان في مصر قديمًا.
- 2- زيارة الإسكندر الأكبر لمعبد الإله آمون في واحة سيوة.
- 3- انهيار حكم البطالمة في مصر قديمًا.
- 4- ترحيب المصريين بالفتح العربي الإسلامي عام 641م.
- 5- تخطيط الإسكندر الأكبر لبناء مدينة الإسكندرية.
- 6- إنشاء منارة الإسكندرية.
- 7- رغبة الإسكندر الأكبر في الإستيلاء على مصر.

(6) اكتب نتيجة واحدة ترتبت على ما يلي:

- 1- معركة أكتيوم البحرية عام 31ق.م.
- 2- كثرة ثورات المصريين ضد حكم البطالمة.
- 3- الفتح العربي الإسلامي لمصر عام 641م.
- 4- ظهور المسيحية في مصر.

(7) اكتب دليلًا واحدًا لكل عبارة:

- 1- محاولة الإسكندر الأكبر لكسب تأييد المصريين قديمًا.
- 2- استغلت روما الأراضي الزراعية في مصر قديمًا.
- 3- رفض المصريون لحكم البطالمة.
- 4- اتبع كل من الرومان البطالمة نظام الحكم المطلق.

(8) من يكون:

- 1- قائد يوناني سيطر على مصر لتوسيع إمبراطوريته.
- 2- مؤسس دولة البطالمة في مصر.
- 3- ضعفت دولة البطالمة في مصر بعد وفاته.
- 4- آخر ملوك البطالمة في مصر.

(9) أجب عما يأتي:

- 1- حدد أوجه التشابه والاختلاف بين نظام الحكم البطلمي – نظام الحكم الروماني في مصر.
- 2- قارن بين: الحياة الثقافية بمصر في عصري البطالمة والرومان.

(10) رتب الأحداث التاريخية التالية من الأقدم إلى الأحدث:

بناء مكتبة الإسكندرية – الفتح العربي الإسلامي لمصر – معركة أكتيوم البحرية – دخول الإسكندر الأكبر إلى مصر.

تدريبات الدرس الثالث

(1) أكمل العبارات التالية بما يناسبها من بنك الكلمات:

- (الطوب اللبن - مناخ مصر - هرم زوسر - الجنائزية - هرم خوفو - المنازل - الحجر الجيري - الكرنك - البيئة المصرية - المقابر - حصن بوهين)
- 1- استمد المصري القديم أفكاره في العمارة من
 - 2- استخدم المصري القديم الموارد الطبيعية كالجرانيت و
 - 3- استغل المصري القديم أرض وادي النيل في بناء
 - 4- استغل المصري القديم الأراضي الصحراوية غرب النيل وبني عليها.....
 - 5- بني المصري القديم المنازل من
 - 6- إحدى المقابر المصرية القديمة وتتكون من عدة مصاطب.....
 - 7- أحد أشهر الحصون على الحدود المصرية الجنوبية هو
 - 8- يعد معبد الملكة حتشبسوت من المعابد
 - 9- ظلت الرسومات المصرية والنقوشات موجودة حتي الآن بسبب.....
 - 10- توجد مسلة للملكة حتشبسوت في معابد

(2) اكتب كلمة (صواب) أمام العبارة الصحيحة، وكلمة (خطأ) أمام العبارة غير الصحيحة:

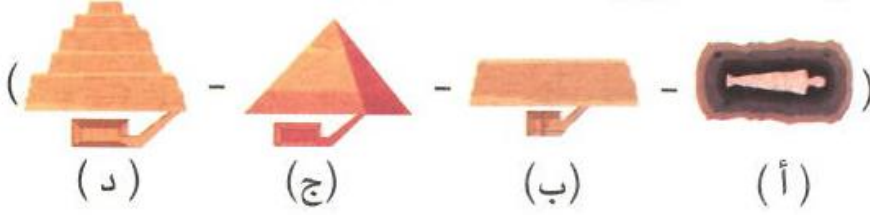
- 1- اختلفت مساحة المنازل وعدد حجراتها وزخارفها باختلاف طبقات المجتمع. ()
- 2- بني المصري القديم المقابر من الطوب اللبن للحفاظ على جسد المتوفي. ()
- 3- بدأت المرحلة الأولى لبناء المقابر قديمًا من عدة مصاطب. ()
- 4- استخدم المصريون القدماء أرض الوادي لبناء المقابر بعيدًا عن الفيضان. ()
- 5- يمكننا رؤية الرسومات المصرية الرائعة على جدران معبد كوم أمبو في أسوان. ()
- 6- الهرم الأكبر عبارة عن مقبرة تتكون من عدة مصاطب فوق بعضها. ()
- 7- شيد المصريون القدماء حصن بوهين لتأمين الحدود الجنوبية لمصر. ()
- 8- أقيمت المعابد الجنائزية لأداء الطقوس اليومية للآلهة ومنها معبد الأقصر. ()
- 9- تعد مسلة ملكة حتشبسوت في معابد الكرنك من أشهر المسلات المصرية. ()
- 10- إذا كنت وزيرًا في مصر القديمة فمنزلك يكون متعدد الحجرات وبه مخزن للحبوب. ()
- 11- تدل الصورة المقابلة على براعة المصريين في فن النحت. ()



(3) اختر الإجابة الصحيحة مما بين القوسين:

- 1- معبد شيد من أجل إقامة طقوس الجنازة على الملك هو معبد.....
(حتشبسوت - الأقصر - إيزيس - الكرنك)
- 2- أحد المعابد التي كان يقام بها الطقوس اليومية للآلهة هو معبد
- 3- أبنية أنشأها المصريون القدماء لحماية البلاد والدفاع عنها هي
- 4- يمكننا رؤية مسلة الملكة حتشبسوت في معابد.....
(الكرنك - الأقصر - أبو سمبل - إيزيس)

- 5- أحد الآثار التي تعبر عن براعة المصريين في نحت التماثيل هو.....
 (أبو الهول - معبد إيزيس - اللوحات الجدارية - لوحة نعرمر)
 6- يمثل المرحلة الثانية من تطوير بناء المقابر عند المصريين القدماء الشكل رقم.....



- 7- بني المصريون القدماء المنازل من (الطوب اللبن - الحجر الجيري - النحاس - الجرانيت)
 8- منزل كبير متعدد الحجرات وبه مخازن للحبوب، هذا الوصف لمنزل
 (الراعي - الفلاح - الوزير - الصانع)
 9- يقع حصن بوهين على الحدود المصرية

(4) صوب ما تحته خط:

- 1- بني حصن بوهين على حدود مصر الغربية.
 2- يعد معبد الأقصر من المعابد الجنائزية.
 3- بني المصريون القدماء المنازل من الطوب الأحمر.

(5) فسر ما يلي:

- 1- أهمية المباني العسكرية (الحصون) عند المصريين القدماء.
 2- أهمية فن الرسم عند المصريين القدماء.
 3- خصص المصريون القدماء أرض الصحراء غرب نهر النيل لبناء المقابر.
 4- تسمية المعابد الجنائزية بهذا الاسم.
 5- اختلاف شكل المنازل في مصر قديمًا.
 6- بني المصريون القدماء المقابر من الحجر.
 7- الرسومات والألوان على جدران المعابد ما زالت زاهية.
 8- بناء المصريين القدماء المسلات.

(6) ما النتائج التي ترتبت على ما يلي:

- 1- تشييد المصريين القدماء حصن بوهين.
 2- تنوع الموارد الطبيعية في مصر.

(7) اكتب دليلًا على:

- 1- استدامة النقوش والرسومات القديمة على جدران المعابد حتى الآن.
 2- تنوع المعابد عند المصريين القدماء.
 3- تميز قصر الملك عن باقي منازل الشعب في مصر قديمًا.
 4- تطور شكل المقابر عند المصريين القدماء.

(8) قارن بين:

1- منازل حكام الأقاليم – قصر الملك

قصر الملك	منازل حكام الأقاليم

2- معابد الآلهة – المعابد الجنائزية، من حيث الغرض منها.

المعابد الجنائزية	معابد الآلهة

(9) أجب عما يلي:

1- ما العلاقة بين: مناخ مصر – الرسومات والنقوش في معابد المصريين القدماء؟

2- اذكر اثنين من أشهر التماثيل في مصر قديمًا.

3- حدد الغرض من إنشاء المسلات عند المصريين القدماء.

4- اذكر واحدة من أشهر المسلات في مصر قديمًا.


5- اشرح مراحل تطور بناء المقابر عند

المصريين القدماء

6- لاحظ الصورة ثم أجب:

- إلى أي نوع من المعابد ينتمي هذا المعبد؟

وما الغرض منه؟



معبد الملكة حتشبسوت

تدريبات الدرس الرابع

(1) أكمل العبارات التالية بما يناسبها من بنك الكلمات:

(أدب النثر – التشريح – النباتات – الكاتب – المستطيل – المشرط – أدب المديح)

- 1- (إذا كنت ماهراً في الكتابة فإن الناس أجمع يفعلون كل ما تقوله) تشير العبارة إلى أهمية وظيفة
- 2- ترك لنا المصريين القدماء كتابات متنوعة في الأدب الديني والأدب القصصي والأدب التهذيبي و
- 3- استخدم المصريون القدماء في العلاج بعض الوصفات الطبية المصنوعة من
- 4- عرف المصريون القدماء الكثير عن أجهزة جسم الإنسان الداخلية نتيجة براعتهم في
- 5- استخدم المصريون القدماء عدة أدوات طبية مثل الملقاط و
- 6- عرف المصريون القدماء الأشكال الهندسية مثل المربع و

(2) اكتب كلمة (صواب) أمام العبارة الصحيحة، وكلمة (خطأ) أمام العبارة غير الصحيحة:

- 1- ساعدتنا الكتابة على معرفة براعة المصريين القدماء وأفكارهم وثقافتهم. ()
- 2- استخدم المصريون القدماء بعض النباتات في صناعة الوصفات الطبية. ()
- 3- برع المصريون القدماء في كثير من التخصصات الطبية مثل العيون والأسنان. ()
- 4- عرف المصريون القدماء الكثير من الأمراض واستطاعوا علاجها. ()
- 5- تطور المصريون القدماء في التشريح مكنهم من التخطيط الجيد للمدن. ()
- 6- تختلف جميع الأدوات الطبية التي استخدمها المصريون قديماً وحديثاً. ()
- 7- عرف المصريون القدماء كثيراً من مواقع الكواكب والنجوم. ()
- 8- قسم المصريون القدماء السنة إلى 10 شهور. ()
- 9- قسم المصريون القدماء الشهر إلى 30 يوماً. ()
- 10- أهرامات الجيزة تدل على براعة المصريين القدماء في الطب. ()
- 11- استطاع المصريون القدماء حفر الترع عندما برعوا في علم الفلك. ()
- 12- استفاد المصريون القدماء من علم الحساب في وضع التقويم الشمسي. ()
- 13- قام الكاتب بتسجيل الأحداث اليومية على جدران المعابد والمقابر وورق البردي. ()

(3) اختر الإجابة الصحيحة مما بين القوسين:

- 1- بناء أهرامات الجيزة يدل على براعة المصريين القدماء في علم
(الفلك – الطب – الهندسة – التشريح)
- 2- وضع المصريين القدماء للتقويم الشمسي يدل على براعتهم في علم
(الفلك – الطب – الهندسة – الحساب)
- 3- استطاع المصريون القدماء تسجيل رواتب الجنود عندما برعوا في علم
(الفلك – الطب – الحساب – الهندسة)



4- تدل الصورة المقابلة على براعة المصريين القدماء في

(التشريح - الهندسة - الحساب - الفلك)

5- استخدم المصريون القدماء علم التشريح أثناء قيامهم بعملية

(النحت - التحنيط - البناء - الحفر)

6- عرف المصريون القدماء مواقع كثير من الكواكب والنجوم نتيجة لبراعتهم في علم

(الطب - الفلك - الهندسة - الحساب)

7- استطاع المصريون القدماء تحديد قيمة الضرائب بفضل براعتهم في علم

(الحساب - الطب - الفلك - الهندسة)

(4) صوب ما تحته خط:

- 1- استطاع المصريون القدماء تخطيط المدن عندما برعوا في علم الحساب.
- 2- المسئول عن تسجيل كل نواحي الحياة المصرية القديمة على جدران المعابد هو الطبيب.
- 3- عرف المصريون القدماء أجهزة الجسم الداخلية بسبب براعتهم في علم الفلك.
- 4- استخدم المصريون القدماء أدوات طبية شبيهة بما نستخدمه الآن مثل المشرط والسماعات.
- 5- قسم المصريون القدماء السنة إلى 12 شهرًا متساوية نتيجة لبراعتهم في علم الحساب.

(5) اكتب تفسيرًا واحدًا:

- 1- أهمية الكتابة عند المصريين القدماء.
- 2- أهمية وظيفة الكاتب عند المصريين القدماء.
- 3- معرفة المصريين القدماء لكثير من مواقع الكواكب والنجوم.
- 4- أهمية علم الهندسة عند المصريين القدماء.
- 5- أهمية علم الحساب عند المصريين القدماء.

(6) اكتب نتيجة واحدة ترتبت على ما يلي:

- 1- معرفة المصريين القدماء علم التشريح.
- 2- تقديم المصريين القدماء في علم الفلك.
- 3- براعة المصريين القدماء في علم الحساب.

(7) ما العلاقة بين:

- 1- تقدم المصريين القدماء في علم الطب - التحنيط.
- 2- علم الهندسة - بناء الأهرامات.
- 3- علم الحساب - الزراعة عند المصريين القدماء.

(8) اكتب دليلاً واحداً لكل عبارة:

- 1- مهنة الكاتب كانت من أهم الوظائف قديماً.
- 2- براعة المصريين القدماء في الطب.
- 3- تقدم المصريين القدماء في علم الفلك.
- 4- ساعد علم الهندسة المصريين القدماء في تحقيق إنجازات مهمة.
- 5- تعددت استخدامات المصريين القدماء لعلم الحساب.
- 6- تعددت أنواع الأدب عند المصريين القدماء.

(9) قارن بين:

علم الحساب وعلم الهندسة من حيث الأهمية

علم الهندسة	علم الحساب



(10) لاحظ الصور التالية ثم أجب:

- 1- تدل الصورة (1) على براعة المصريين القدماء في علم
- 2- تدل الصورة (2) على براعة المصريين القدماء في علم
- 3- تشير الصورة (3) إلى براعة المصريين القدماء في

الوحدة الثالثة تدريبات الدرس الأول

(1) أكمل العبارات التالية بما يناسبها من بنك الكلمات:

- (السفارات – الهكسوس – أكتوبر عام 1973م – الشمالية الشرقية – للدفاع المشترك – مجدو – فينيقيا – الخارجية – معاهدة سلام)
- 1- وقعت مصر مع جمهورية السودان اتفاقيات
 - 2- عقد الملك رمسيس الثاني مع الحيثيين أول
 - 3- قامت الدول العربية بمساندة مصر وسوريا في حرب
 - 4- اشترك الفينيقيون مع الملك تحتمس الثالث في معركة
 - 5- الهيئات المسئولة عن تعميق العلاقات بين الدول هي
 - 6- حماية مصالح المواطنين وتطوير علاقات مصر في الخارج من مهام وزارة
 - 7- نقل المصريون القدماء العربات الحربية عن
 - 8- عمل الملك تحتمس الثالث على تأمين حدود مصر

(2) اكتب كلمة (صواب) أمام العبارة الصحيحة، وكلمة (خطأ) أمام العبارة غير الصحيحة:

- 1- ساندت الدول العربية مصر ولبنان في حرب أكتوبر 1973م. ()
- 2- وزارة الداخلية هي المسئولة عن تطوير وتعميق علاقات مصر مع الدول الآخري. ()
- 3- وقع الملك مينا معاهدة السلام مع الحيثيين. ()
- 4- وقعت جمهورية السودان مع مصر اتفاقيات للدفاع العسكري المشترك بينهما. ()
- 5- يوجد في كل دولة سفارات للدول الآخري. ()
- 6- أنشأ المصريون القدماء القلاع والحصون لتأمين حدود الإمبراطورية المصرية. ()
- 7- تقوم مصر بإجراء تدريبات عسكرية مشتركة مع العديد من الدول. ()
- 8- استعان الملك تحتمس الثالث بالحيثيين أثناء معركة مجدو. ()
- 9- استخدم المصريون القدماء العربات الحربية التي أخذوها عن الرومان. ()
- 10- اشتركت مصر مع الأمم المتحدة في بعثات حفظ السلام في بعض الدول الأفريقية. ()
- 11- استطاعت مصر تعميق علاقاتها السياسية مع دول العالم على مر العصور. ()
- 12- تقوم مصر بعقد المعاهدات والاتفاقيات مع الدول الآخري لحماية حدودها وحفظ الأمن. ()

(3) اختر الإجابة الصحيحة مما بين القوسين:

- 1- وقعت مصر اتفاقيات للدفاع المشترك مع جمهورية (العراق – فلسطين – موريتانيا – السودان)
- 2- نقل المصريون القدماء العربات الحربية عن (الهكسوس – الفينيقيين – الليبيين – الحيثيين)
- 3- اشترك الفينيقيون مع الملك تحتمس الثالث في معركة (قادش – مجدو – حطين – أكتيوم)
- 4- حماية مصالح المواطنين في الخارج مسئولية وزارة (الخارجية – الإعلام – الداخلية – الدفاع)
- 5- وقع الملك رمسيس الثاني معاهدة السلام مع (الفرس- الحيثيين – الفينيقيين – الروم)
- 6- عمل الملك تحتمس الثالث على مواجهة الأخطار التي تهدد مصر من جهة (الجنوب – الشمال الشرقي – الغرب – الجنوب الشرقي)
- 7- أنشأ المصريون القدماء العديد من القلاع والحصون في (فينيقيا – روما – بلاد اليونان القديمة – بلاد العراق القديم)

(4) صوب ما تحته خط:

- 1- وقعت مصر اتفاقيات للدفاع المشترك مع جمهورية الصومال.
- 2- ساندت الدول العربية أثناء حرب أكتوبر 1973م كلاً من مصر وليبيا.
- 3- اشترك الفينيقيون مع الملك تحتمس الثالث في معركة قادش.
- 4- وقع الملك رمسيس الثاني معاهدة سلام مع الفينيقيين.
- 5- حماية مصالح المصريين في الخارج من مهام وزارة السياحة.
- 6- عرف المصريون القدماء العربات الحربية من الفينيقيين.

(5) فسر ما يلي:

- 1- تقوم مصر بعقد المعاهدات والاتفاقيات مع الدول الآخري.
- 2- أهمية وزارة الخارجية المصرية.
- 3- أنشأ المصريون القدماء القلاع والحصون في بلاد فينيقيا.
- 4- أهمية وجود سفارات بداخل الدول.
- 5- اهتمام مصر بإقامة علاقات تواصل سياسي وعسكري مع الدول الإفريقية.

(6) ما النتائج المترتبة على كل مما يلي:

- 1- اشترك الفينيقيين مع الملك تحتمس الثالث في معركة مجدو.
- 2- وجود وزارة الخارجية في مصر.
- 3- التواصل السياسي والعسكري بين مصر وجمهورية السودان.
- 4- غزو الهكسوس لمصر بالنسبة للنظم العسكرية.

(7) اكتب دليلاً واحداً لكل عبارة:

- 1- مساندة الدول العربية لبعضها البعض وقت الأزمات والحروب.
- 2- التواصل السياسي والعسكري بين مصر وجمهورية السودان.
- 3- التواصل السياسي والعسكري بين مصر ودول قارة إفريقيا.

(8) قارن بين:

- نماذج التواصل العسكري والسياسي لمصر (قديمًا وحديثًا)



(9) صنف العبارات الآتية وفقا لعلاقات التواصل السياسي والعسكري قديمًا وحديثًا:

استخدام العربات الحربية – إجراء تدريبات عسكرية مشتركة مع العديد من الدول – مساندة الدول العربية لمصر وسوريا في حرب أكتوبر 1973م – توقيع معاهدة السلام بين الملك رمسيس الثاني والحيثيين- مساعدة الفينيقيين للملك تحتمس الثالث في معركة مجدو.

حديثًا	قديمًا

(10) لاحظ الصورة ثم أجب:

كيف أثرت الوزارة الموجودة في الصورة في التواصل بين مصر والدول الأخرى.



مبنى وزارة الخارجية

تدريبات الدرس الثاني:

(1) أكمل العبارات التالية بما يناسبها من بنك الكلمات:

(التاريخ – الإسكندرية – بلاد العراق القديم – الأطراف الصناعية – أعمدة المعابد – الطب – تحتمس الثالث)

- 1- اختراع مصري قديم مازال العالم يستخدمه حتى الآن
- 2- أخذت مصر استخدام الأختام من
- 3- تأثرت بلاد اليونان والرومان بالطراز المعماري المصري القديم وخاصة في بناء
- 4- أشهر علماء جامعة الإسكندرية قديمًا إقليدس في الهندسة ومانيتون في
- 5- زاد التواصل العلمي والثقافي بين مصر ودول العالم قديمًا بعد بناء مكتبة وجامعة
- 6- الملك الذي استقدم أبناء أمراء آسيا للدراسة في مصر هو

(2) اكتب كلمة (صواب) أمام العبارة الصحيحة، وكلمة (خطأ) أمام العبارة غير الصحيحة:

- 1- اخترع الفينيقيون الحبر الأسود. ()
- 2- تأثرت بلاد العراق القديم بشكل هرم زوسر المدرج في بناء المعابد. ()
- 3- أخذ المصريون القدماء رسم الحيوانات المجنحة عن الرومان. ()
- 4- اعتمد الرومان التقويم الشمسي وأضافوا السنة الكبيسة. ()
- 5- تعد المعارض الدولية أحد أشكال التواصل العلمي والثقافي بين الدول. ()
- 6- استقدم الملك تحتمس الثالث أبناء الأمراء الآسيويين للدراسة في مصر. ()
- 7- يعد إقليدس من أشهر علماء جامعة القاهرة في الهندسة قديمًا. ()
- 8- اخترع المصريون القدماء الساعة لتحديد الوقت. ()
- 9- ما زال العالم حتى الآن يستخدم الأطراف الصناعية. ()
- 10- أخذ المصريون القدماء استخدام الأختام من اليونانيين. ()

(3) اختر الإجابة الصحيحة مما بين القوسين:

- 1- بنيت مكتبة الإسكندرية في عصر (البطالمة – الرومان – الهكسوس – الفرس)
- 2- تأثرت بلاد العراق القديم بالحضارة المصرية القديمة فأخذت عنها شكل (المعابد – الهرم المدرج – المقابر – الطيور المجنحة)
- 3- أحد العلوم التي يفد طلاب إفريقيا ودول شرق آسيا لدراستها في مصر (الطب – الهندسة – الرياضيات – الفلسفة)
- 4- نقل المصريون القدماء استخدام الأختام عن بلاد (اليونان القديم – الرومان – الفرس – العراق القديم)
- 5- أسماء شهور السنة الميلادية تعود في الأصل إلى (الفيثيقيين – الرومان – الفرس – البطلمة)

(4) صوب ما تحته خط:

- 1- زاد التواصل العلمي والثقافي بين مصر ودول العالم قديمًا بعد بناء مكتبة وجامعة القاهرة.
- 2- ترجع أسماء شهور السنة إلى أصل يوناني.
- 3- أخذت مصر الأختام عن بلاد الإغريق (اليونان).
- 4- الملك الذي استقدم أبناء أمراء البلاد الآسيوية ليتعلموا في مصر هو رمسيس الثاني.
- 5- أخذ اليونانيون عن مصر بناء المعابد المدرجة.

(5) فسر ما يلي:

- 1- وفود طلاب العلم إلى مصر قديمًا.
- 2- أهمية التواصل العلمي والثقافي بين مصر والعالم.
- 3- أهمية البعثات العلمية والمناهج الدراسية.

(6) أكتب نتيجة واحدة ترتبت على ما يلي:

- 1- تأثر اليونانيون والرومان بالعمارة المصرية القديمة.
- 2- تأثر المصريين القدماء بحضارة بلاد العراق القديم.
- 3- إنشاء البطالمة لمكتبة وجامعة الإسكندرية.

(7) دلل على صحة العبارات الآتية:

- 1- كان لإنشاء مكتبة الإسكندرية أثر كبير في مصر قديمًا.
 - 2- اتصلت الحضارة المصرية القديمة بحضارة بلاد العراق القديم.
 - 3- كانت الحضارة المصرية القديمة منارة لكل دول العالم القديم.
 - 4- يعود التقويم الذي استخدمه العالم حاليًا إلى التقويم الشمسي للمصري القديم.
 - 5- برع المصريون القدماء في تقديم العديد من الاختراعات للعالم.
- (8) وضح كيف تأثرت الحضارة المصرية وحضارة بلاد العراق القديم ببعضهما البعض.

- (9) حدد اثنين من أشكال التواصل العلمي والثقافي بين مصر ودول العالم حديثًا.

تدريبات الدرس الثالث

(1) أكمل العبارات التالية بما يناسبها من بنك الكلمات:

- (لبنان - الفيلة - البطالمة - الفينيقيين - حتشبسوت - القديمة - الأثاث - سيزوستريس - الكوميسا - الأسرة 26)
- 1- استعان الملك نخاو الثاني في رحلته الإستكشافية حول إفريقيا بالبحارة
 - 2- أرسلت مصر أسطولاً بحرياً لجلب أخشاب الأرز من فينيقيا في عصر الدولة
 - 3- ازدهرت التجارة قديماً بين مصر وبلاد الإغريق في عهد
 - 4- أمر الملك سنوسرت الثالث بحفر قناة
 - 5- قام البطالمة باستيرادها واستخدامها في تسليح الجيش المصري
 - 6- تم إنشاء العديد من الموانئ على سواحل البحرين الأحمر والمتوسط أثناء حكم
 - 7- استخدم خشب الأرز في صناعة السفن و.....
 - 8- شاركت مصر في العديد من المنظمات الاقتصادية منها
 - 9- أشهر الرحلات التجارية في عصر الدولة الحديثة كان في عهد الملكة

(2) اكتب كلمة (صواب) أمام العبارة الصحيحة، وكلمة (خطأ) أمام العبارة غير الصحيحة:

- 1- أقام ملوك الأسرة 26 مدينة نقراتيس للتجار البطالمة. ()
- 2- أرسل الملك سنفرو أسطولاً بحرياً إلى فينيقيا لجلب أخشاب الأرز. ()
- 3- قام الملك نخاو الثاني والبحارة الفينيقيون برحلة بحرية حول إفريقيا. ()
- 4- تم حفر قناة سيزوستريس في عصر الدولة الحديثة. ()
- 5- استورد البطالمة المعادن والفيلة لتسليح الجيش المصري. ()
- 6- ضعفت العلاقات التجارية بين مصر وجيرانها بعد حفر قناة سيزوستريس. ()
- 7- أرسلت الملكة حتشبسوت رحلة تجارية لفينيقيا لجلب العطور. ()
- 8- أنشأ البطالمة العديد من الموانئ البحرية في مصر. ()
- 9- شاركت مصر في منظمة التجارة العالمية. ()
- 10- انتشرت صناعة الخزف في مدينة نقراتيس. ()

(3) اختر الإجابة الصحيحة مما بين القوسين:

- 1- ملك مصرى أرسل بعثة استكشافية حول إفريقيا
(نخاو الثاني - رمسيس الثاني - تحتمس الثالث - سنوسرت الثالث)
- 2- زاد النشاط التجاري المصري بعد حفر قناة سيزوستريس في
(العصر المتأخر - عصر الدولة القديمة - عصر البطالمة - عصر الدولة الوسطي)
- 3- أحضر الملك سنفرو من فينيقيا
(عسل النحل - الكتان - خشب الأرز - الزيتون)
- 4- أرسل الملك سنفرز بعثات تجارية محملة بالعسل والكتان إلى بلاد النوبة و.....
(اليونان - ليبيا - بلاد بونت - العراق القديم)
- 5- الملك الذي أرسل أسطولاً بحرياً من أربعين سفينة إله فينيقيا هو
(خوفو - سنوسرت الثالث - تحتمس الثالث - سنفرو)

- 6- استوردت الملكة حتشبسوت البخور والعاج والاعطور من بلاد
(بونت - النوبة - فينقيا - ليبيا)
- 7- حفرت قناة سيزوستريس في عصر الملك (سنفرو - تحتمس الثالث - زوسر - سنوسرت الثالث)
- 8- أقام ملوك الأسرة 26 مدينة للتجار والرعايا اليونانيين هي
(الإسكندرية - نقراتيس - بطليمس - طيبة)
- 9- اشتركت مصر في العديد من المنظمات الاقتصادية الخاصة بقارة إفريقيا منها
(الاتحاد الأوروبي - الكوميسا - التعاون الخليجي - الأوبك)

(4) صوب ما تحته خط:

- 1- تميزت مدينة نقراتيس بانتشار صناعة الأثاث.
- 2- أرسلت مصر أسطولاً بحرياً لجلب أخشاب الأرز من فينقيا في عصر الملك خفرع.
- 3- تم حفر قناة سيزوستريس في عصر الدولة القديمة.
- 4- أرسلت ملكة حتشبسوت رحلتها التجارية لجلب الأخشاب والبخور من فينقيا.
- 5- أرسل الملك نخاو الثاني رحلة استكشافية حول إفريقيا بمساعدة البحارة الأوروبيين.
- 6- استورد البطالمة المعادن لتسليح الجيش الروماني.
- 7- ازدهرت التجارة المصرية في عصر الدولة الوسطي بعد حفر قناة السويس.

(5) فسر ما يلي:

- 1- اهتمام مصر بالانضمام إلى المنظمات الاقتصادية.
- 2- استيراد البطالمة المعادن والفيلة أثناء حكمهم لمصر.
- 3- اهتمام البطالمة بإنشاء موانئ على سواحل البحرين الأحمر والمتوسط.
- 4- إرسال الملكة حتشبسوت رحلتها التجارية إلى بلاد بونت.
- 5- أرسل الملك سنفرو أسطولاً بحرياً مكوناً من 40 سفينة إلى فينقيا.
- 6- أهمية مشروع (الربط الملاحي بين بحيرة فيكتوريا والبحر المتوسط عن طريق نهر النيل).
- 7- زيادة النشاط التجاري بين مصر وجيرانها في عصر الدولة الوسطي.
- 8- إنشاء ملوك الأسرة 26 مدينة نقراتيس.

(6) اكتب نتيجة واحدة ترتبت على ما يلي:

- 1- انضمام مصر إلى المنظمات الاقتصادية.
- 2- اهتمام البطالمة في بداية حكمهم لمصر بالتجارة.
- 3- إرسال الملك سنفرو أسطولاً بحرياً إلى فينقيا.
- 4- إرسال الملكة حتشبسوت رحلة تجارية إلى بلاد بونت.
- 5- حفر قناة سيزوستريس في عهد الملك سنوسرت الثالث.
- 6- بناء مدينة نقراتيس.



(7) قارن بين:

الرحلة التجارية التي أرسلها كل من الملك سنفرو – الملكة حتشبسوت من حيث:
- وجهة الرحلة - البضائع المستوردة

(8) اكتب دليلًا واحدًا لكل عبارة:

- 1-ازدهرت العلاقات التجارية بين مصر وجيرانها في عصر الدولة الحديثة.
- 2- اهتمام البطالمة في بداية حكمهم لمصر بزيادة النشاط التجاري.
- 3- اهتمام مصر بدعم التواصل الاقتصادي مع دول العالم في العصر الحديث.
- 4- حرصت مصر خلال تاريخها على توطيد علاقتها الاقتصادية بقارة إفريقيا.
- 5- ازدهار العلاقات التجارية مع بلاد الإغريق في العصر المتأخر.
- 6- اهتمام ملوك الدولة الوسطي بالتجارة.

تدريبات الدرس الرابع

(1) أكمل العبارات التالية بما يناسبها من بنك الكلمات:

- (القاهرة – الإسكندرية – البورصة – الأسهم – خسائر المشروع – السندات – زيادة الاستثمارات – ثابتًا – البورصة المصرية)
- 1- تعرف السوق المنظمة التي يتم فيه بيع وشراء الأسهم والسندات باسم.....
 - 2- أنشئت أول بورصة في مصر بمحافظة
 - 3- يكون المستثمر شريكًا في المشروع إذا اشترى.....
 - 4- الأوراق المالية التي تثبت أن مالكها قدم قرضًا لصاحب مشروع ما تسمى
 - 5- أحد عيوب شراء الأسهم أن المستثمر يتحمل
 - 6- احد خصائص السندات أنها تعطي صاحبها عائدًا.....
 - 7- تم دمج بورصة الإسكندرية وبورصة القاهرة ليصبح اسمهما.....
 - 8- تؤدي البورصة المصرية إلى

(2) اكتب كلمة (صواب) أمام العبارة الصحيحة، وكلمة (خطأ) أمام العبارة غير الصحيحة:

- 1- البورصة عبارة عن سوق منظمة يتم فيها بيع وشراء الطعام والشراب. ()
- 2- أنشئت أول بورصة في مصر بمحافظة القاهرة. ()
- 3- تعطي الأسهم أصحابها الحق في أرباح المشروع وفق عدد الأسهم. ()
- 4- ترد قيمة السندات لأصحابها بعد المدة المتفق عليها. ()
- 5- تساعد البورصة على زيادة الاستثمارات بالدولة. ()
- 6- تعتبر السندات أوراقًا مالية تثبت أن مالكها قدم قرضًا لصاحب المشروع. ()
- 7- أصحاب السندات لهم حق في ملكية المشروع. ()
- 8- السندات أعلى مخاطرة من الأسهم. ()
- 9- يمكنك أن تصبح شريكًا في أحد المشروعات لو امتلكت عددًا من الأسهم فيه. ()
- 10- يتحمل أصحاب السندات الخسائر التي تحدث للمشروع. ()
- 11- إذا أردت شراء سهم مشروع ما في البورصة فعليك استشارة مساهرة البورصة. ()
- 12- تعد كل من الأسهم والسندات أوراقًا مالية يمكن بيعها وشراؤها. ()

(3) اختر الإجابة الصحيحة مما بين القوسين:

- 1- السوق المنظمة التي يتم فيها بيع وشراء الأسهم والسندات هي (البنك – البورصة – الشركة – المصنع)
- 2- ورقة مالية تطرحها البورصة تعطي صاحبها الحق في فائدة ثابتة محددة مسبقًا هي (السهم – الشيك – السند – النقود)
- 3- يجب على المستثمر تحمل خسائر المشروع إذا اشترى..... (الأسهم – الشيكات – السندات – العملات)
- 4- أنشئت أول بورصة في مصر بمحافظة (القاهرة – الجيزة – الإسكندرية – السويس)
- 5- ورقة مالية تطرحها البورصة وتعطي المستثمر حق مشاركة أرباح المشروع هي (السهم – السند – الشيك – العملة)
- 6- يستطيع والدك المشاركة في مشروع بدون تحمل للخسائر عندما يشتري من البورصة (الأسهم – الشركات – السندات – المصانع)



(4) صف العبارات التالية إلى سندات وأسهم:

- 1- تعطي أصحابها حق ملكية جزء من المشروع.
- 2- تعطي صاحبها الحق في فائدة ثابتة محددة مسبقاً في حالة المكسب والخسارة.
- 3- تعتبر دليلاً على أن مالکها قدم قرضاً لصاحب المشروع.
- 4- يتحمل أصحابها الخسائر.

(5) فسر ما يلي:

- 1- يحتاج أصحاب المشروعات إلى البورصة.
- 2- الأسهم أعلى محاضرة من السندات.
- 3- السندات أقل مخاطرة عن الأسهم.
- 4- أهمية البورصة للاقتصاد المصري.

(6) أجب عما يلي:

- 1- ما النتائج المترتبة على؟
(أ) وجود البورصة في جمهورية مصر العربية.
(ب) تحديد فائدة ثابتة مسبقاً لأصحاب السندات.
- 2- قارن بين الأسهم والسندات من حيث التعريف وأهم الخصائص لكل منهما.
- 3- دلل: تتعدد مزايا الأسهم.
- 4- ما المقصود بكل من:
(أ) البورصة (ب) السهم (ج) السند

الإجابات

قم الآن بتثبيت التطبيق على موبايلك

تطبيق مذكرات جاهزة للطباعة



KTABYEG.COM

الوحدة الأولى: تدريبات الدرس الأول

(1) أكمل العبارات التالية بما يناسبها من بنك الكلمات:

- (الزيادة الطبيعية - مصر - العشوائيات - وعورة السطح - الطبيعية - الهجرة - داخلية - الكثافة السكانية - التقدم الطبي)
- 1- أحد العوامل الطبيعية التي أدت إلى عدم تركيز السكان في محافظات الحدود الصحراوية هو **وعورة السطح**
 - 2- الفرق بين أعداد المواليد وأعداد الوفيات يسمى **الزيادة الطبيعية**
 - 3- ثالث الدول الإفريقية من حيث عدد السكان هي **مصر**.
 - 4- يزيد عدد السكان بسبب الزيادة الطبيعية و **الهجرة**
 - 5- تسببت هجرة سكان الريف إلى القاهرة في ظهور **العشوائيات**
 - 6- انتقال أسرتك من القاهرة للاستقرار في الإسكندرية يعد هجرة **داخلية**
 - 7- انخفض عدد الوفيات في مصر بسبب **التقدم الطبي**
 - 8- النسبة بين عدد سكان مصر، ومساحتها يسمى **الكثافة السكانية**

(2) اكتب كلمة (صواب) أمام العبارة الصحيحة، وكلمة (خطأ) أمام العبارة غير الصحيحة:

- 1- تنقسم الهجرة إلى هجرة داخلية وهجرة خارجية. (صواب)
- 2- يزداد السكان بشكل طبيعي في حالة زيادة عدد المواليد عن عدد الوفيات. (صواب)
- 3- تعد محافظة القاهرة من المحافظات الطاردة للسكان. (خطأ)
- 4- يتركز معظم سكان مصر في محافظات الحدود الصحراوية. (خطأ)
- 5- تحتل مصر المركز الرابع عشر إفريقيا من حيث عدد السكان. (خطأ)
- 6- الهجرة من مصر إلي ألمانيا تسمى هجرة خارجية. (صواب)
- 7- تظهر العشوائيات نتيجة الهجرة الخارجية. (خطأ)
- 8- تحتل مصر المرتبة الثالثة إفريقيا من حيث عدد السكان. (صواب)
- 9- تضاعف عدد سكان مصر 14 مرة في الفترة بين تعدادي 1882م و 2017م. (صواب)
- 10- انخفض عدد المواليد في مصر بسبب تنظيم الأسرة. (صواب)
- 11- يهاجر بعض الأفراد للبحث عن فرص عمل أفضل. (صواب)
- 12- توافر الخدمات والموصلات من أسباب زيادة السكان في محافظات الوادي والدلتا. (صواب)
- 13- توافر المياه العذبة أحد أسباب تركيز السكان في محافظات الحدود الصحراوية. (خطأ)
- 14- تعد خصوبة التربة من العوامل البشرية التي تؤثر في توزيع السكان. (خطأ)
- 15- يتساوي توزيع السكان على أرض مصر. (خطأ)

(3) اختر الإجابة الصحيحة مما بين القوسين:

- 1- أحد العوامل الطبيعية التي أدت لزيادة تركيز السكان في الوادي والدلتا.....
(توافر الخدمات - خصوبة التربة - سهولة المواصلات - وعورة السطح)
- 2- إحدى المحافظات الجاذبة للسكان..... (البحر الأحمر - مطروح - الإسكندرية - الوادي الجديد)

- 3- انخفاض عدد المواليد في مصر نتيجة.....
(تنظيم الأسرة - التقدم الطبي - الزواج المبكر - الرعاية الصحية)
- 4- انخفاض عدد الوفيات في مصر نتيجة.....
(زيادة الإنجاب - التقدم الطبي - الزواج المبكر - انتشار الأمراض)
- 5- النسبة بين عدد السكان ومساحة الأرض التي يعيشون عليها تعرف ب.....
(النمو السكاني - الكثافة السكانية - الزيادة السكانية - الندرة السكانية)
- 6- إحدى المحافظات التي تتوافر بها الخدمات وتجذب السكان.....
(الوادي الجديد - جنوب سيناء - المنيا - القاهرة)
- 7- تغير أعداد السكان بسبب الزيادة الطبيعية والهجرة تسمى.....
(التعداد السكاني - الكثافة السكانية - النمو السكاني - الندرة السكانية)
- 8- أحد العوامل البشرية التي أدت لندرة السكان في محافظات الحدود الصحراوية.....
(نقص الخدمات - سهولة المواصلات - وفرة الخدمات - إنشاء الطرق)

(4) صوب ما تحته خط:

- 1- الدولة التي تحتل المرتبة الثالثة إفريقيا من حيث عدد السكان هي أثيوبيا.
- 2- الفرق بين عدد المواليد وعدد الوفيات في فترة معينة يقصد به الكثافة السكانية.
- 3- الحد من ظاهرة الزواج المبكر ساعد على انخفاض عدد الوفيات.
- 4- أدى التقدم الطبي والرعاية الصحية إلى انخفاض عدد المواليد.
- 5- انتقال الفرد من دولة لدولة أخرى يسمى هجرة داخلية.
- 6- يتركز معظم سكان مصر في محافظات الحدود الصحراوية.

مصر
الزيادة الطبيعية
المواليد
الوفيات
خارجية
الوادي والدلتا

(5) فسر ما يلي:

- 1- انخفاض عدد الوفيات في مصر.
بسبب **التقدم الطبي والرعاية الصحية**.
- 2- انخفاض عدد المواليد في مصر.
بسبب ارتفاع الوعي لدى الشباب بضرورة تنظيم الأسرة - الحد من ظاهرة الزواج المبكر.
- 3- تركز السكان بمحافظات الوادي والدلتا.
بسبب توافر المياه العذبة والتربة الخصبة وإستواء السطح وتوافر الخدمات وسهولة المواصلات.
- 4- هجرة السكان من مكان إلى آخر.
للبحث عن فرص عمل أفضل - للبحث عن فرص للتعليم - لتحسين مستوى المعيشة.
- 5- ندرة السكان في محافظات الحدود الصحراوية.
بسبب ندرة المياه العذبة وعدم استواء السطح ونقص الخدمات وصعوبة الانتقالات.

(6) اكتب نتيجة واحدة ترتبت على ما يلي:

- 1- هجرة السكان من مكان لآخر.
تؤدي هجرة السكان إلى:
- زيادة الكثافة السكانية في المناطق المستقبلية للسكان.
- زيادة الضغط على الخدمات العامة.
- ظهور العشوائيات.

- 2- الفرق بين عدد المواليد وعدد الوفيات في مصر. يؤدي إلى زيادة الطبيعية للسكان وهي أحد أسباب النمو السكاني.
- 3- توافر المياه العذبة والتربة الخصبة في بعض محافظات مصر. يؤدي إلى تركيز السكان في هذه المحافظات.

(7) اكتب دليلاً واحداً لكل عبارة:

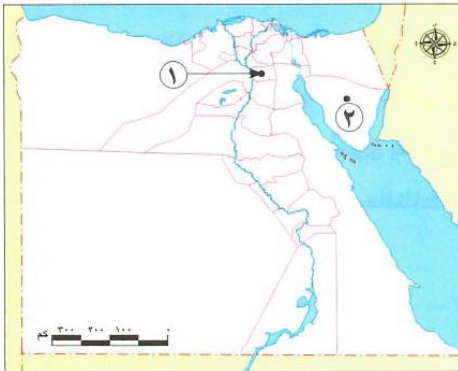
- 1- مصر من أكبر دول العالم سكاناً. تحتل مصر المرتبة الثالثة إفريقياً والرابعة عشر عالمياً من حيث عدد السكان.
- 2- للهجرة الداخلية في مصر نتائج سلبية. أجب بنفسك

(8) ما العلاقة بين كل من؟

- 1- النمو السكاني والزيادة الطبيعية. يحدث النمو السكاني بسبب الزيادة الطبيعية للسكان.
- 2- الرعاية الطبية وعدد الوفيات. انخفاض عدد الوفيات في مصر بسبب تحسن الرعاية الطبية.
- 3- عدد المواليد وتنظيم الأسرة. انخفاض عدد المواليد في مصر بسبب ارتفاع وعي الشباب بضرورة تنظيم الأسرة.

(9) قارن بين:

- 1- الزيادة الطبيعية – الهجرة من حيث التعريف. الزيادة الطبيعية: الفرق بين أعداد المواليد وأعداد الوفيات في فترة معينة. الهجرة: انتقال الأفراد من مكان لآخر.
- 2- أسباب انخفاض عدد كل من: المواليد والوفيات. أسباب انخفاض عدد المواليد: ارتفاع الوعي بتنظيم الأسرة، والحد من الزواج المبكر. أسباب انخفاض عدد الوفيات: التقدم الطبي والرعاية الصحية.
- 3- العوامل الطبيعية المؤثرة في توزيع سكان كل من: محافظات الوادي والدلتا – محافظات الحدود الصحراوية. أجب بنفسك.
- 4- الهجرة الداخلية – الهجرة الخارجية. الهجرة الداخلية: الانتقال بين المحافظات المختلفة. الهجرة الخارجية: الانتقال بين مصر ودول العالم.



(10) لاحظ الخريطة، ثم أجب:

- 1- مدينة يتركز بها السكان هي القاهرة
 - 2- محافظة يقل بها تركيز السكان هي جنوب سيناء
 - 3- وضح: سبب تركيز السكان في المنطقة رقم (1).
- بسبب وفرة المياه العذبة واستواء السطح – ووفرة الخدمات وسهولة المواصلات.

4- حدد: اثنين من العوامل التي أدت إلى ندرة

السكان في المنطقة رقم (2) وعورة السطح – نقص الخدمات

تدريبات الدرس الثاني:

(1) أكمل العبارات التالية بما يناسبها من بنك الكلمات:

- (العمري - الذكور - الإناث - الوردى - العريضة - النوعي - كبار السن - الأشخاص في سن العمل)
- 1- تصنيف السكان إلى ذكور وإناث يعرف باسم التركيب **النوعي**
 - 2- تصنيف السكان إلى أطفال وكبار سن يسمى التركيب **العمري**
 - 3- تتمثل إحصاءات الإناث في الهرم السكاني باللون **الوردي**
 - 4- الفئة المنتجة في مصر هي فئة **الأشخاص في سن العمل**
 - 5- تتمثل قمة الهرم السكاني المصري في فئة **كبار السن**
 - 6- الهرم السكاني المصري يتسم بالقاعدة **العريضة**
 - 7- يمثل اللون الأزرق في الهرم السكاني المصري إحصاءات **الذكور**

(2) اكتب كلمة (صواب) أمام العبارة الصحيحة، وكلمة (خطأ) أمام العبارة غير الصحيحة:

- 1- الهرم السكاني عبارة عن رسم بياني يوضح توزيع السكان من حيث النوع والعمر. (صواب)
- 2- نسبة الذكور في مصر أكبر من نسبة الإناث. (صواب)
- 3- التركيب العمري عبارة عن تصنيف السكان حسب الفئة العمرية. (صواب)
- 4- يتسم الهرم السكاني بالقاعدة العريضة إذا زاد عدد المواليد. (صواب)
- 5- تلون إحصاءات الإناث في الهرم السكاني باللون الأزرق. (خطأ)
- 6- تضم الفئات العاملة كلاً من الأطفال وكبار السن. (خطأ)
- 7- يتسم الهرم السكاني لمصر بالقاعدة العريضة. (صواب)
- 8- يساعد الهرم السكاني في تحديد احتياجات الدولة من تعليم وصحة ومرافق وفرص عمل. (صواب)
- 9- يعد صغار السن أقل نسبة للفئات العمرية في الهرم السكاني المصري. (خطأ)
- 10- تعد فئة كبار السن من الفئات المعالة. (صواب)
- 11- يتسم الهرم السكاني بالقاعدة الضيقة إذا انخفض عدد المواليد. (صواب)
- 12- يشير اللون الوردي في الهرم السكاني إلى إحصاءات الذكور. (خطأ)
- 13- توجد فئة كبار السن أسفل الهرم السكاني المصري. (خطأ)

(3) اختر الإجابة الصحيحة مما بين القوسين:

- 1- تصنيف السكان إلى أطفال وكبار وشباب يسمى التركيب (النوعي - العمري - الاقتصادي - اللغوي)
- 2- يظهر الهرم السكاني الذي يتسم بالقاعدة العريضة زيادة أعداد (النوعي - العمري - الاقتصادي - اللغوي)

(صغار السن – الوفيات – الشباب – كبار السن)

3- كلما انخفض عدد المواليد يتسم الهرم السكاني بالقاعدة

(العريضة – الضيقة – المدببة – الواسعة)

(الوردي – الأزرق – الأخضر – الأصفر)

4- تظهر إحصاءات الذكور على الهرم السكاني باللون

(الضيقة – المدببة – العريضة – الصغيرة)

5- يتسم الهرم السكاني لمصر بالقاعدة

6- تصنيف السكان إلى ذكور وإناث يعرف باسم التركيب

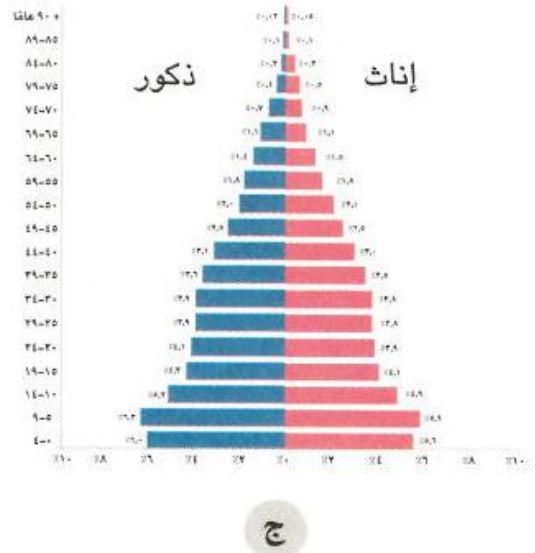
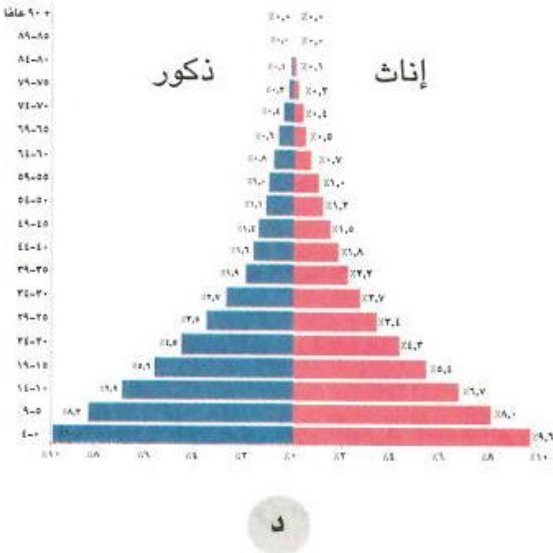
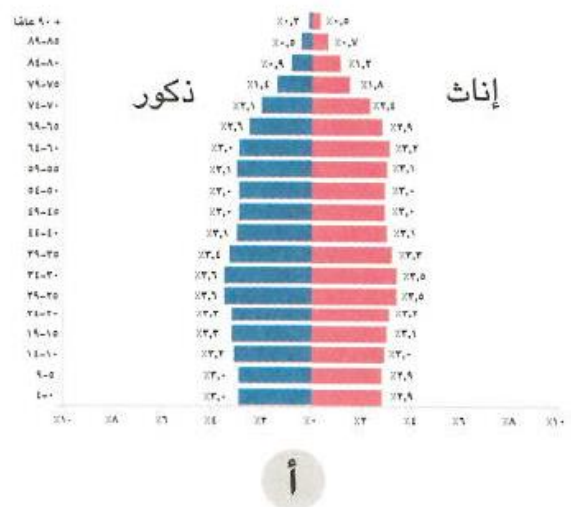
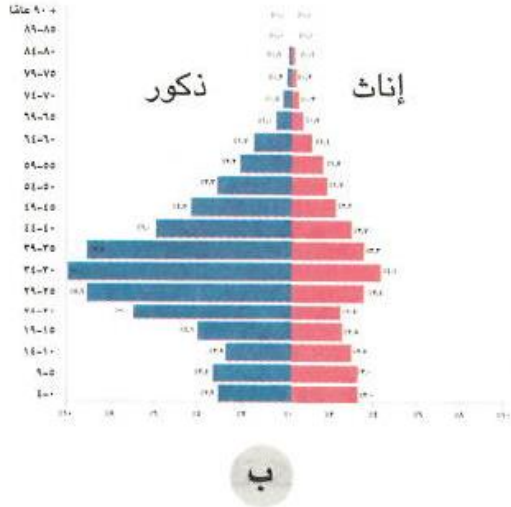
(النوعي – الاقتصادي – اللغوي – العمري)

7- أهم الفئات العمرية لزيادة الإنتاج والعمل

8- تتمثل الفئة العمرية (صفر – 14 سنة) داخل الهرم السكاني المصري في

(قاعدته – وسطه – أطرافه – قمته)

9- الشكل الذي يعبر عن الهرم السكاني لمصر عام 2022م هو (ج)



(4) صوب ما تحته خط:

الهرم السكاني
النوعي
العريضة
سن العمل
الضيقة

1- الرسم البياني الذي يوضح عمر ونوع السكان يسمى رسماً بيانياً خطياً.

2- تصنيف السكان إلى ذكور وإناث يعرف باسم التركيب العمري.

3- الهرم السكاني لمصر يتسم بالقاعدة الضيقة.

4- السكان في عمر (15-64 سنة) يمثلون فئة كبار السن.

5- إذا انخفض عدد المواليد فيتسم الهرم السكاني بالقاعدة العريضة.

(5) فسر ما يلي:

- 1- أهمية الهرم السكاني.
 - تساعد بيانات الهرم السكاني على تقدير الاحتياجات المختلفة لكل فئة عمرية في الحاضر والمستقبل من تعليم، صحة، مرافق أو خدمات، فرص عمل.
- 2- اختلاف شكل قاعدة الهرم السكاني من دولة لأخرى.
 - يختلف حسب نمو السكان فهناك:
 - هرم يتسم بالقاعدة العريضة بسبب زيادة عدد المواليد.
 - هرم يتسم بالقاعدة الضيقة بسبب انخفاض عدد المواليد.
- 3- يتوقع زيادة نسبة كبار السن في مصر مستقبلاً.
 - بسبب تحسن الرعاية الصحية والاجتماعية.
- 4- الهرم السكاني لمصر يتسم بالقاعدة العريضة.
 - بسبب زيادة عدد المواليد.
- 5- أهمية الفئة العمرية (15-64 سنة) في مصر.
 - لأنها فئة منتجة وتعمل صغار السن وكبار السن.

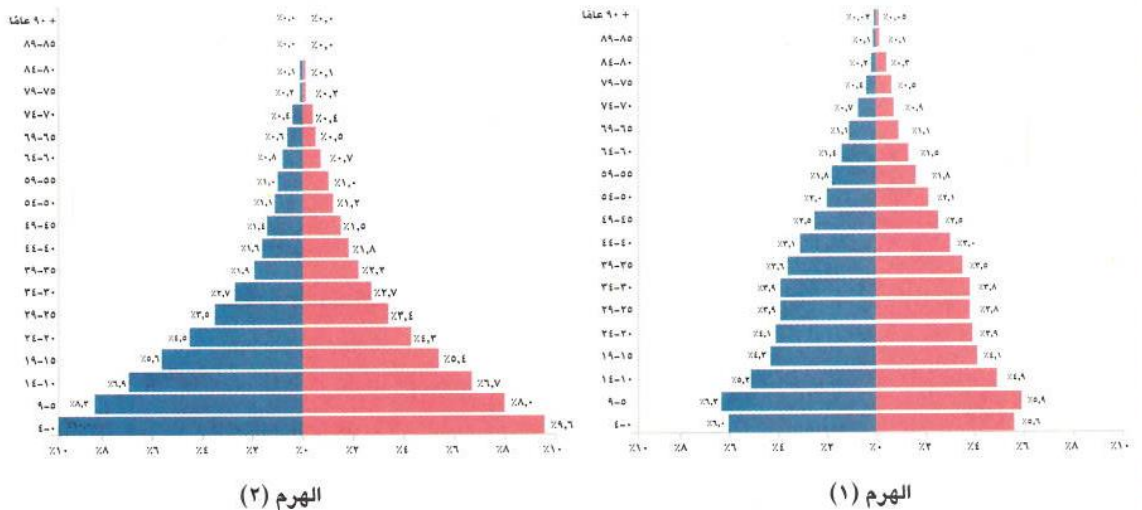
(6) أجب عما يلي:

(أ) اكتب نتيجة واحدة ترتبت على ما يلي:

- ارتفاع نسبة صغار السن في مصر.
 - تؤدي لزيادة الضغط على الفئات المنتجة.

(ب) قارن بين:

- 1- فئة صغار السن وفئة كبار السن في مصر.
 - (أجب بنفسك)
- 2- التركيب العمري والتركيب النوعي.
 - (أجب بنفسك)
- 3- الأهرامات السكانية التالية من حيث أوجه التشابه والاختلاف.



3- أوجه التشابه : كلاهما هرم سكاني ذو القاعدة العريضة، ويزداد بهما نسبة صغار السن. أوجه الاختلاف:

- الهرم (1) : يزيد به نسبة كبار السن، والأشخاص في سن العمل.

- الهرم (2): يقل به نسبة كبار السن والأشخاص في سن العمل.

تدريبات الدرس الثالث

(1) أكمل العبارات التالية بما يناسبها من بنك الكلمات:

- (مشروعات التنمية – الموارد المتاحة – وفيات الأطفال الرضع – الزواج المبكر – تنظيم الأسرة – زيادة الموارد)
- 1- تظهر مشكلة الزيادة السكانية عندما يتجاوز عدد السكان **الموارد المتاحة**
 - 2- أحد أهم أسباب مشكلة الزيادة السكانية **الزواج المبكر**
 - 3- تؤدي مشكلة الزيادة السكانية إلى إعاقة **مشروعات التنمية**
 - 4- يواجه المواطنون مشكلة الزيادة السكانية عن طريق **تنظيم الأسرة**
 - 5- أدي تحسين الرعاية الصحية إلى تراجع **وفيات الأطفال الرضع**

(2) اكتب كلمة (صواب) أمام العبارة الصحيحة، وكلمة (خطأ) أمام العبارة غير الصحيحة:

1- تظهر مشكلة الزيادة السكانية نتيجة تجاوز عدد السكان للموارد والخدمات المتاحة.

(صواب)

2- إنجاب العديد من الأطفال يؤدي إلى النمو السكاني.

(صواب)

3- يؤدي الزواج المبكر إلى ظهور مشكلة الزيادة السكانية.

(صواب)

4- مشكلة الزيادة السكانية تؤدي لتنمية الدولة.

(خطأ)

5- تفضيل الذكور على الإناث يدفع بعض الأسر إلى الاستمرار في الإنجاب.

(صواب)

6- تؤدي الزيادة السكانية على زيادة نصيب الفرد من الموارد.

(خطأ)

7- تؤثر الزيادة السكانية إيجاباً على الموارد والبيئة.

(خطأ)

8- يزداد إنجاب الأطفال في الحضر عن الريف.

(خطأ)

9- تواجه الدولة مشكلة الزيادة السكانية بتوفير وسائل تنظيم الأسرة.

(صواب)

10- إذا قمت باستهلاك الموارد فإنك تساعد في مواجهة مشكلة الزيادة السكانية.

(خطأ)

11- أصدرت الدولة العديد من القوانين للحد من الزواج المبكر.

(صواب)

12- تؤدي مشكلة الزيادة السكانية إلى ضرورة قيام الدولة بتوفير المزيد من فرص العمل.

(صواب)

13- يزداد متوسط عمر الفرد بسبب تحسن الرعاية الصحية.

(صواب)

14- تؤدي مشكلة الزيادة السكانية إلى تقليل الأعباء على الدولة المصرية.

(خطأ)

(3) اختر الإجابة الصحيحة مما بين القوسين:

- 1- تجاوز عدد السكان للموارد المتاحة يسمى
(كثافة سكانية – مشكلة الزيادة السكانية – زيادة الهجرة الداخلية – هجرة خارجية)
- 2- إحدى طرق حل مشكلة الزيادة السكانية
(تنظيم الأسرة – الزواج المبكر – تفضيل الذكور على الإناث – إيقاف مشروعات التنمية)
- 3- أحد أسباب مشكلة الزيادة السكانية
(تناقص نصيب الفرد من الموارد – ضرورة توفير فرص عمل – إعاقة مشروعات التنمية – تفضيل الذكور على الإناث)
- 4- يؤدي تحسين الرعاية الصحية إلى
(تقلص فئة صغار السن – ارتفاع عدد الوفيات – تناقص متوسط عمر الفرد – انخفاض عدد وفيات الرضع)
- 5- تقوم الدولة المصرية بجهود لمواجهة مشكلة الزيادة السكانية منها
(زيادة استهلاك الموارد المتاحة – إعاقة مشروعات التنمية – التوسع في مشروعات التنمية – ترشيد استهلاك الموارد).

(4) صوب ما تحته خط:

- 1- يزداد إنجاب الأطفال خاصة في الحضر. **الريف**
- 2- تناقص نصيب الفرد من الخدمات والموارد سببه أن النمو السكاني منخفض. **مرتفع**

(5) فسر ما يلي:

- 1- تراجع وفيات الأطفال الرضع وزيادة متوسط عمر الفرد.
بسبب تحسين الرعاية الصحية.
- 2- مشكلة الزيادة السكانية تزيد الأعباء على الدولة المصرية.
بسبب زيادة الطلب على فرص العمل والضغط على الخدمات.
- 3- تؤدي مشكلة الزيادة السكانية إلى زيادة التلوث.
لأنه كلما زاد عدد السكان أدى إلى زيادة النفايات وزيادة تلوث البيئة.
- 4- تؤثر مشكلة الزيادة السكانية على نصيب الفرد من المياه.
لأن الزيادة السكانية تؤدي إلى زيادة استهلاك الموارد كالمياه ونقص نصيب الفرد منها.
- 5- التوسع في بناء المدن الجديدة واستصلاح الأراضي.
لإعادة توزيع السكان وتقليل الكثافة السكانية في الوادي والدلتا.

(6) ما النتائج المترتبة على:

- 1- كثرة إنجاب الأطفال خاصة في الريف.
أدى إلى زيادة النمو السكاني في مصر وظهور مشكلة الزيادة السكانية.
- 2- تفضيل الذكور على الإناث.
أدى إلى استمرار بعض الأسر في الإنجاب مما ساعد على ارتفاع النمو السكاني في مصر.
- 3- تحسين الرعاية الصحية.
أدى إلى تراجع معدل وفيات الأطفال الرضع – وزيادة متوسط عمر الفرد.
- 4- مشكلة الزيادة السكانية.

أدى إلى إعاقة مشروعات التنمية - زيادة النفايات وتلوث البيئة - زيادة الطلب على فرص عمل - زيادة استهلاك الموارد والضغط على الخدمات.

(7) ما العلاقة بين الزيادة السكانية فى مصر وكل من؟ :

- 1- فرص العمل. تؤدي الزيادة السكانية إلى زيادة الطلب على فرص العمل.
- 2- تلوث البيئة. أجب بنفسك
- 3- ندرة الموارد. تؤدي الزيادة السكانية إلى زيادة استهلاك الموارد مما يؤدي إلى ندرتها.

(8) قارن بين: دور الدولة ودور المواطنين فى مواجهة مشكلة الزيادة السكانية.

أجب بنفسك

دور المواطنين	دور الدولة

(9) حدد المختلف فى العبارات التالية مع ذكر السبب:

- 1- (أ) الزواج المبكر
(ب) إعاقة مشروعات التنمية
(ج) كثرة إنجاب الأطفال
(د) تفضيل الذكور على الإناث
 - 2- (أ) بناء المدن الجديدة
(ب) التوسع فى مشروعات التنمية.
(ج) توفير وسائل تنظيم الأسرة
(د) ترشيد استهلاك الموارد
- إعاقة مشروعات التنمية: تعد من نتائج مشكلة الزيادة السكانية بينما العبارات الأخرى تعبر عن أسباب مشكلة الزيادة السكانية.
- ترشيد استهلاك الموارد: يعد أحد أدوار الفرد لمواجهة مشكلة الزيادة السكانية بينما العبارات الأخرى تعبر عن دور الدولة فى مواجهة مشكلة الزيادة السكانية.

(10) اقترح حلولاً لمشكلة الزيادة السكانية. أجب بنفسك

(11) لاحظ الصورة ثم أجب: أجب بنفسك

- 1- تعبر الصورة عن أحد حلول مشكلة الزيادة السكانية وهي
- 2- ما رأيك فى هذا الحل؟
- 3- هل تنصح السكان بالإلتزام به؟
- 4- ماذا يحدث إذا لم يهتم السكان بالإلتزام به؟



تدريبات الدرس الرابع

(1) أكمل العبارات التالية بما يناسبها من بنك الكلمات:

(شم النسيم – الكتان – الملك وأسرته – العزف – السنن – الشيوخ – الحرير)

- 1- تكونت الطبقة العليا في المجتمع المصري من **الملك وأسرته**
- 2- أصبحت المرأة تشارك حاليًا في مجلسي النواب والشيوخ
- 3- أحد الأعياد التي كان يحتفل بها المصريون القدماء هو عيد **شم النسيم**
- 4- أحد ألعاب التفكير عند المصريين القدماء هي لعبة **السنن**
- 5- صنعت ملابس عامة الشعب في مصر القديمة من **الكتان**
- 6- تدل الصورة المقابلة على اهتمام المصريين القدماء بـ **العزف**

(2) اكتب كلمة (صواب) أمام العبارة الصحيحة، وكلمة (خطأ) أمام العبارة غير الصحيحة:

- 1- احتفل المصريون القدماء بعيد الفيضان والحصاد. (صواب)
- 2- صنعت ملابس الملك قديمًا من الحرير والكتان على الجودة. (صواب)
- 3- تشابهت ملابس الملوك مع ملابس عامة الشعب في مصر القديمة. (خطأ)
- 4- تعد العطور من أدوات الزينة عند المصريين القدماء. (صواب)
- 5- اهتم المصريون القدماء بتربية أبنائهم على قيم احترام الآخر وإتقان العمل. (صواب)
- 6- مارس المصريون القدماء رياضة كرة القدم. (خطأ)
- 7- احتفل المصريون القدماء بأعياد خاصة بالملك. (صواب)
- 8- ظهرت رياضة التحطيب في مصر حديثًا. (خطأ)
- 9- اهتم المصريون القدماء بالعزف والغناء. (صواب)
- 10- تكونت الطبقة الثانية في المجتمع المصري القديم من صغار الموظفين. (خطأ)
- 11- يعد أصحاب الحرف الصغيرة من أعلي الطبقات في مصر القديمة. (خطأ)
- 12- اقتصر اهتمام الأبناء في الأسرة المصرية القديمة على اللعب واللهو. (خطأ)
- 13- تولت المرأة حكم البلاد في مصر قديمًا. (صواب)
- 14- اهتم المصريون القدماء بأدوات الزينة فارتدوا الشعر المستعار. (صواب)
- 15- يتشابه دور الأب في مصر القديمة مع دور الأب حاليًا. (صواب)
- 16- للمرأة المصرية دور سلبي في المشاركة بالحياة السياسية قديمًا وحديثًا. (خطأ)
- 17- اهتم المصريون القدماء بارتداء الأساور والقلائد. (صواب)

(3) اختر الإجابة الصحيحة مما بين القوسين:

- 1- صنعت ملابس الملك والأغنياء قديمًا من
- 2- تكونت قاعدة هرم طبقات المجتمع المصري القديم من
- (**الفلاحين والرعاة** - الملك وأسرته - صغار الموظفين - كبار الكهنة)
- 3- صنعت ملابس عامة الشعب عند المصريين القدماء من
- 4- أحد الألعاب الرياضية التي مارسها المصري القديم
- 5- ارتبطت بعض أعياد المصري القديم بالزراعة منها عيد... (شم النسيم - الفطر - ميلاد الملك - **الحصاد**)
- 6- أحد أفراد الأسرة ومن مهامه الإشراف على أعمال المنزل
- 7- تدل الصورة المقابلة على اهتمام المصريين بـ
- 8- المسئول عن رعاية أفراد الأسرة وتوفير الحاجات الأساسية
- 9- يأتي على قمة هرم طبقات المجتمع المصري قديمًا

(4) صوب ما تحته خط:

- 1- صنعت ملابس عامة الشعب قديمًا من القطن.
- 2- صنعت ملابس الملك والأغنياء قديمًا من الكتان على الجودة والصوف.
- 3- الإشراف على الأعمال المتعلقة بالمنزل أحد أدوار الأب.
- 4- اهتم المصريون القدماء بألعاب التفكير مثل الصيد.

الكتان
الحرير
الأم
السنت

(5) فسر ما يلي:

- 1- استقرار وتقدم المجتمع المصري القديم.
- بسبب حرص المجتمع المصري على تطبيق العدالة بين أفراد الشعب والتمسك بالقيم الإنسانية والسلوكيات الحميدة.
- 2- أهمية دور الأب في الأسرة المصرية القديمة. **أجب بنفسك**
- 3- أهمية دور الأم في الأسرة المصرية القديمة. **أجب بنفسك**
- 4- اختلاف الملابس في مصر القديمة. **أجب بنفسك**

(6) اكتب نتيجة واحدة ترتبت على ما يلي:

- 1- احترام المصري القديم للحياة الأسرية. **أجب بنفسك**
- 2- تطبيق المجتمع المصري للعدالة بين أفراد المجتمع.
- ساعد على استقرار المجتمع المصري وتقدمه.

(7) قارن بين:

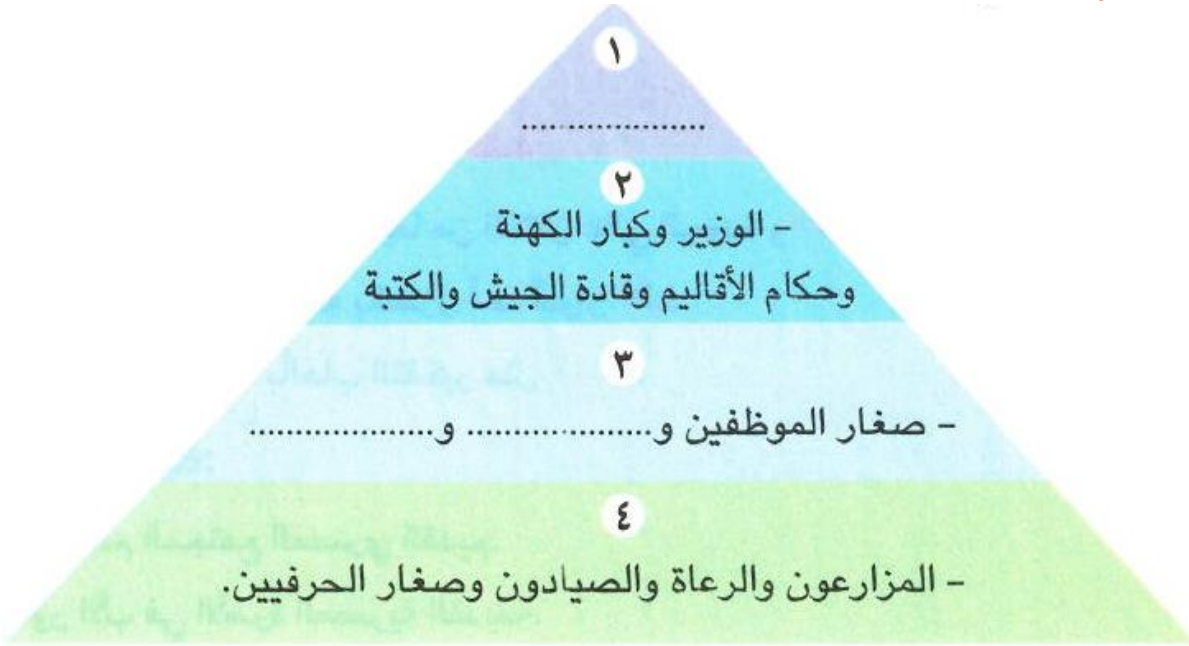
- 1- دور المرأة في المجتمع المصري قديمًا وحديثًا. **أجب بنفسك**
- 2- ألعاب التفكير والألعاب الرياضية عند المصريين القدماء.
- ألعاب التفكير: لعبة **السنت** والتي تشبه لعبة **الشطرنج** حاليًا.
- الألعاب الرياضية: **السباحة** - **التحطيب** - **المصارعة**.
- 3- ملابس عامة الشعب وملابس الملوك والأغنياء في مصر القدماء. **أجب بنفسك**

(8) دلل على صحة العبارات التالية:

- 1- تكون المجتمع المصري قديمًا من عدة طبقات.
- 2- اختلفت الملابس في مصر القديمة باختلاف طبقات المجتمع. **أجب بنفسك**
- 3- احتفل المصريون القدماء بالعديد من المناسبات والأعياد.
- احتفلوا بعيد ملاد الملك وتوليه العرش- أعياد الفيضان والحصاد – عيد شم النسيم.

(9) أجب عما يلي:

- 1- ما العلاقة بين : طبقات المجتمع – الملابس عند المصريين القدماء. **أجب بنفسك**
- 2- حدد ثلاث من وسائل الترفيه عند المصريين القدماء.
- ألعاب التفكير – الغناء والعزف – الألعاب الرياضية
- 3- وضح مظاهر اهتمام المصريين القدماء بأدوات الزينة.
- اعتاد المصريون القدماء على استخدام الأساور والقلائد العطور، الشعر المستعار.
- 4- حدد الأسباب التي أدت لازدهار الحضارة المصرية القديمة في ضوء ما درست. **أجب بنفسك**
- 5- أكمل الشكل التالي:
- 1-الملك وأسرته.
- 2- التجار وكبار الحرفيين.



تدريبات الدرس الخامس

(1) أكمل العبارات التالية بما يناسبها من بنك الكلمات:

- (أخيتاتون - المقابر - آتون - أمنحتب الرابع - البعث - الخلود - أوزوريس - التحنيط - الحق والعدل)
- 1- اعتقد المصريون القدماء أن (ماعت) هي إلهة **الحق والعدل**
 - 2- الدعوة إلى توحيد الآلهة عند المصريين القدماء كانت في عهد الملك **أمنحتب الرابع**
 - 3- دعا الملك أمنحتب الرابع إلى عبادة الإله **آتون**
 - 4- شيد الملك أمنحتب الرابع مدينة **أخيتاتون**
 - 5- تكونت محكمة الموتى من 42 قاضيًا على رأسهم الإله **أوزوريس**
 - 6- اعتقد المصريون القدماء في البعث والخلود لذلك قاموا ببناء **المقابر**
 - 7- العودة إلى الحياة بعد الموت تسمى **البعث**
 - 8- حفظ جسد الإنسان بعد الموت يسمى **الحنيط**

(2) اكتب كلمة (صواب) أمام العبارة الصحيحة، وكلمة (خطأ) أمام العبارة غير الصحيحة:

- 1- عرف شعب مصر التدين والقيم الحميدة والسلام منذ القدم. (صواب)
- 2- كان يتم وزن القلب في مقابل الريشة بمحكمة الموتى برئاسة الإله آتون. (خطأ)
- 3- اتخذ المصريون القدماء معبوداتهم من الطبيعة. (صواب)
- 4- انتشرت عبادة الإله آتون في عصر الملك أمنمحات الثالث. (خطأ)
- 5- آمن المصري القديم بأنه سيحاسب على أفعاله بعد الموت. (صواب)
- 6- كان لكل أقاليم مصر معبود واحد. (خطأ)
- 7- المعبود الذي تولى رئاسة محكمة الموتى هي الإلهة ماعت. (خطأ)
- 8- اعتقد المصريون القدماء في الحياة الأبدية بعد الموت. (صواب)
- 9- حفظ المصريون القدماء جثث موتاهم عن طريق التحنيط. (صواب)
- 10- اتخذ الملك أمنحتب الرابع القمر رمزًا للإله آتون. (خطأ)
- 11- شيد الملك أمنحتب الرابع مدينة أخيتاتون عاصمة له. (صواب)
- 12- إحدى الخصائص الدينية للمصريين القدماء للاعتقاد في الحساب بعد الموت. (صواب)
- 13- تكونت محكمة الموتى من 42 قاضيًا يمثلون أقاليم مصر. (صواب)
- 14- عرف المصريون القدماء عبادة إله واحد في عهد الملك خوفو. (خطأ)
- 15- تعبر الصورة المقابلة عن اعتقاد المصريين القدماء في الحساب بعد الموت. (صواب)



(3) اختر الإجابة الصحيحة مما بين القوسين:

- 1- المدينة التي اتخذها الملك أمنحتب الرابع لعبادة الإله أتون هي (منف - **أخيتاتون** - نخب - طيبة)
- 2- تمثل إلهة الحق والعدل عند المصريين القدماء المعبودة..... (أيزيس - **ماعت** - أتون - آمون)
- 3- تشير الصورة إلى إحدى خصائص الحياة الدينية عند المصريين القدماء وهي
(تعدد الآلهة - الحساب بعد الموت - **السمو إلى التوحيد** - البعث والخلود)
- 4- (العيش حياة أبدية بعد الموت) يشير هذا الاعتقاد عند المصريين القدماء إلى
(البعث - الحساب - **الخلود** - التوحيد)
- 5- (العودة للحياة مرة أخرى بعد الموت) يشير هذا الاعتقاد عند المصريين القدماء إلى
(**البعث** - الحساب - الخلود - التوحيد)
- 6- كان يتولي رئاسة محكمة الموتى عند المصريين القدماء الإله (ماعت - أتون - حورس - **أوزوريس**)
- 7- تنسب فكرة توحيد الآلهة عند المصريين القدماء إلى الملك
(سقنن رع - **أمنحتب الرابع** - سنوسرت الثالث - تحتمس الثالث)
- 8- يوضع قلب المتوفي في كفة ميزان العدالة وفي الكفة الأخرى توضع ريشة تمثل الإلهة.....
(أوزوريس - رع - حورس - **ماعت**)
- 9- حفظ جسد الإنسان المتوفي بعد الموت يسمى
(بعثًا - **تحنيطًا** - خلودًا - توحيدًا)
- 10- اخترع المصريون القدماء التحنيط عندما اعتقدوا في
(تعدد الآلهة - **البعث والخلود** - الحساب بعد الموت - السمو إلى التوحيد)
- 11- تم الرمز إلى الإله أتون ب.....
(البقرة - **قرص الشمس** - ثعبان الكوبرا - الصقر)

(4) موب ما تحته خط:



- 1- رمز الملك أمنحتب الرابع للإله أتون بقرص **القمر**.
- 2- شيد الملك أمنحتب الرابع مدينة أخيتاتون لعبادة الإله **آمون**.
- 3- يقف المصري القديم عند موته في محكمة أمام 42 قاضيًا يترأسهم الإله رع. **أوزوريس**
- 4- يوضع قلب المتوفي على ميزان العدالة مقابل زهرة اللوتس. **ريشة ماعت**
- 5- تدل الصورة المقابلة على إحدى نتائج الاعتقاد في البعث والخلود وهي بناء المقابر. **الحنيط**

(5) فسر ما يلي:

- 1- شيد الملك أمنحتب الرابع مدينة أخيتاتون. **لكي يتخذها عاصمة للبلاد ومركزًا لعبادة الإله أتون.**
- 2- حرص المصريون القدماء على تحنيط جثث موتاهم. **لحفظ جثث الموتى بسبب اعتقادهم في البعث والخلود.**
- 3- تمسك المصريون القدماء بالقيم والأخلاق النبيلة. **ليعم الحب والسلام كل شعوب العالم.**
- 4- يبلغ عدد القضاة بمحكمة الموتى 42 قاضيًا. **بسبب انقسام البلاد قديمًا إلى 42 إقليمًا فكان لكل إقليم معبود خاص به.**
- 5- تعدد الآلهة عند المصريين القدماء. **أجب بنفسك**

(6) ما النتائج المترتبة على؟:

- 1- اعتقاد المصريين القدماء في البعث والخلود.
قاموا ببناء المقابر وحفظ جثث الموتى عن طريق التحنيط.
- 2- دعوة الملك أمنحتب الرابع لعبادة الإله أتون. **أجب بنفسك**
- 3- اعتقاد المصريين القدماء في الحساب بعد الموت. **أجب بنفسك**

(7) اكتب دليلاً واحداً لكل عبارة:

- 1- تعدد الخصائص الحياة الدينية عند المصريين القدماء.
الدليل هو: اعتقادهم في تعدد الآلهة، والبعث والخلود، والاعتقاد في الحساب بعد الموت، والسمو إلى التوحيد.
- 2- إيمان المصريين القدماء بالبعث والخلود.
الدليل هو: بناؤهم للمقابر - حفظ جثث الموتى عن طريق التحنيط.
- 3- كان لدعوة الملك أخناتون أثرها على الحياة الدينية للمصريين القدماء. **أجب بنفسك**
- 4- اعتقاد المصريين القدماء في الحساب بعد الموت. **أجب بنفسك**

(8) ما العلاقة بين كل من؟

- 1- الطبيعة - الحياة الدينية بمصر القديمة.
اتخذ المصريون القدماء معبوداتهم من الطبيعة مثل النسر.
- 2- التحنيط - الحياة الدينية عند المصريين القدماء.
اعتقاد المصريين القدماء في البعث والخلود يعد إحدى الخصائص الدينية لديهم. والتي أدت إلى قيامهم بحفظ جثث موتاهم عن طريق التحنيط.

الوحدة الثانية تدريبات الدرس الأول

(1) أكمل العبارات التالية بما يناسبها من بنك الكلمات:

(الدولة القديمة – الدولة الحديثة – الملك أحمس – الهكسوس – مجدو – تحتمس الثالث – معاهدة السلام – الحيثيين)

- 1- تم توحيد جيوش الأقاليم وتنظيمها وتسليحها في مصر في عصر **الدولة القديمة**
- 2- تعرضت مصر في عصر الضهف الثاني لغزو **الهكسوس**
- 3- بطل التحرير وطارد الهكسوس هو **الملك أحمس**
- 4- نجح الملك أحمس في تأسيس عصر **الدولة الحديثة**
- 5- خاض الملك تحتمس الثالث ست عشرة حملة عسكرية ومن أشهر معاركه معركة **مجدو**
- 6- خاص الملك رمسيس الثاني الكثير من المعارك ضد **الحيثيين**
- 7- الاتفاق الذي تم بين مصر وإسرائيل بعد حرب أكتوبر 1973م يسمى **معاهدة السلام**

(2) اكتب كلمة (صواب) أمام العبارة الصحيحة، وكلمة (خطأ) أمام العبارة غير الصحيحة:

- 1- نجح الملك خفرع في صد هجمات بعض القبائل على أرض سيناء. (خطأ)
- 2- يعد الجيش المصري من أقدم الجيوش في العالم. (صواب)
- 3- زادت الصراعات وعمت الفوضى في نهاية عصر الدولة الوسطي قديمًا. (صواب)
- 4- تعرضت مصر لغزو الهكسوس في عصر الضعف الأول. (خطأ)
- 5- نجح الملك تحتمس الثالث في طرد الهكسوس بتشجيع من أمة الملكة إياح حتب. (خطأ)
- 6- يعد الملك تحتمس الثالث من أفضل القادة العسكريين في مصر القديمة. (صواب)
- 7- قاد الملك تحتمس الثالث ست عشرة حملة عسكرية لتأمين حدود مصر. (صواب)
- 8- استطاع الملك تحتمس الثالث الانتصار في معركة قادش. (خطأ)
- 9- إذا أردت زيارة متحف بانوراما حرب أكتوبر فعليك التوجه لمدينة الإسكندرية. (خطأ)
- 10- وقع الملك رمسيس الثاني مع الحيثيين أقدم معاهدة سلام في التاريخ. (صواب)
- 11- نجح الجيش المصري أثناء حرب أكتوبر 1973م في عبور قناة السويس وتدمير خط بارليف. (صواب)
- 12- أدت معاهدات السلام إلى انخفاض مستوي معيشة الشعوب. (خطأ)
- 13- قتل والد أحمس وأخوه كامس في حربهما ضد الهكسوس. (صواب)
- 14- نجح الملك زوسر في حماية أرض سيناء في عصر الدولة الحديثة. (خطأ)

(3) اختر الإجابة الصحيحة مما بين القوسين:

- 1- الملك الذي قاد 16 حملة عسكرية لتأمين حدود مصر في عصر الدولة الحديثة
(مينا - **تحتمس الثالث** - زوسر - رمسيس الثاني)
- 2- الملك الذي نجح في توحيد جيوش أقاليم مصر القديمة هو
(**زوسر** - خوفو - سنفرو - منكاورع)
- 3- كان للملكة إياح حتب دور في تحرير مصر من خطر.....
(الحيثيين - **الهكسوس** - الروم - الفينيقيين)
- 4- انتصر الجيش المصري في معركة مجدو على أمراء
(أوروبا - أمريكا الشمالية - **آسيا** - أمريكا الجنوبية)
- 5- عقدت أول معاهدة سلام في التاريخ بين المصريين و.....
(الآشوريين - **الحيثيين** - الفينيقيين - الهكسوس)
- 6- أحد أبرز القادة العسكريين في مصر حديثًا هو
(**محمد أنور السادات** - محمد طلعت حرب - رمسيس الثاني - تحتمس الثالث)
- 7- الملك الذي انتصر على الحيثيين في معركة قادش هو
(**رمسيس الثاني** - أحمس - تحتمس الثالث - سنفرو)
- 8- عقدت معاهدة سلام في العصر الحديث بين مصر و
(فرنسا - **إسرائيل** - روسيا - ألمانيا)

(4) صوب ما تحته خط:

- 1- هجمت بعض القبائل على حدود مصر الشمالية الشرقية في عهد الملك خوفو.
- 2- استطاع الملك أحمس الانتصار على الحيثيين.
- 3- الموقع الحالي لمعركة مجدو في دولة لبنان.
- 4- أهم الحروب التي خاضتها مصر في القرن العشرين هي معركة مجدو.
- 5- الملك الذي عقد معاهدة السلام مع الحيثيين هو تحتمس الثالث.

(5) فسر ما يلي:

- 1- نجاح الملك زوسر في صد هجمات بعض القبائل على حدود مصر الشمالية الشرقية.
لأن الملك **زوسر سارع في توحيد جيوش أقاليم مصر وتنظيمها وتسليحها**.
- 2- يعد الملك أحمس بطل التحرير.
لأنه استطاع **تحرير مصر من غزو الهكسوس**.
- 3- خاض الملك تحتمس الثالث كثيرًا من الحملات العسكرية.
لتأمين **حدود مصر**.
- 4- انتصر الملك تحتمس الثالث في معركة مجدو.
بسبب **إبداعاته العسكرية فقد فاجأ العدو بتخطيط غير متوقع حيث دخل مدينة مجدو من أقصر الطرق وأكثرها خطورة وصعوبة**.
- 5- خاض الملك رمسيس الثاني كثيرًا من المعارك ضد الحيثيين.
بسبب **استيلائهم على مناطق من الإمبراطورية المصرية**.
- 6- قيام حرب أكتوبر عام 1973م.
لتحرير **أرض سيناء من الاحتلال الإسرائيلي**.
- 7- أهمية تحقيق السلام لشعوب العالم.
التركيز على **مشروعات التنمية وتحسين حياة الشعوب عن طريق تجنب إنفاق موارد الدول على الحروب**.

(6) ما النتائج المترتبة على:

- 1- انتشار الفوضى والصراعات بين الحكام في عصر الضعف الثاني.
- 2- انتصار الملك أحبس على الهكسوس.
- 3- طرد الهكسوس من مصر وتأسيس الملك أحبس لعصر الدولة الحديثة.
- 4- خطة الملك تحتمس الثالث في معركة مجدو.
- 5- دخول مدينة مجدو.
- 6- تفرق صفوف أمراء آسيا.
- 7- انتصار الجيش المصري في معركة مجدو.
- 8- عقد معاهدة السلام بين الملك رمسيس الثاني وملك الحيثيين.
- 9- أدت المعاهدة إلى تحقيق الأمن والاستقرار للطرفين.
- 10- عقد معاهدة السلام بين مصر وإسرائيل عام 1979م. أجب بنفسك

(7) اكتب عملاً تاريخياً لكل من:

- 1- الملك أحبس.
- 2- طرد الهكسوس من مصر.
- 3- الرئيس الراحل محمد أنور السادات.
- 4- قيادة الجيش المصري في حرب السادس من أكتوبر 1973م.

(8) دلل على صحة العبارات التالية:

- 1- كان الملك زوسر قائداً عسكرياً متميزاً. أجب بنفسك
- 2- لعبت الملكة إياح حتب دوراً مهماً في طرد الهكسوس من مصر. قامت بتشجيع ابنها أحبس على محاربة الهكسوس بعد مقتل والده (سقن رع) وأخيه الأكبر "كامس" في كفاهما ضد الهكسوس.
- 3- يعد الملك تحتمس الثالث من أفضل القادة العسكريين في التاريخ. أجب بنفسك
- 4- حقق الجيش المصري العديد من الإنجازات العسكرية خلال حرب 6 أكتوبر عام 1973م. عبور القناة وتدمير خط بارليف في 6 ساعات، هزيمة الجيش الإسرائيلي.

(9) أجب عما يلي:

- 1- قارن بين كل من معركة مجدو ومعركة قادش من حيث: أجب بنفسك

وجه المقارنة	معركة مجدو	معركة قادش
القائد المصري		
العدو		
النتائج		

- 2- ما رأيك في موقف الملك رمسيس الثاني مع الحيثيين؟
- 3- ما العلاقة بين: الهكسوس – الملكة إياح حتب؟
- 4- ماذا كان يحدث إذا لم: ينجح الملك أحبس في طرد الهكسوس من مصر؟
- 5- أعط مثالين للإبداعات العسكرية لدي الجيش المصري على مر العصور.



(10) إلى من تنسب الأعمال التاريخية التالية:

الملك أحمس
الملك رمسيس الثاني
الملك تحتمس الثالث
الملكة إياح حتب

- 1- قاد حرب التحرير وطرد الهكسوس من مصر.
- 2- انتصر على الحيثيين وعقد أول معاهدة سلام في التاريخ.
- 3- استطاع هزيمة أمراء أسيا في معركة مجدو.
- 4- شجعت ابنها على طرد الهكسوس من مصر.

تدريبات الدرس الثاني:

(1) أكمل العبارات التالية بما يناسبها من بنك الكلمات:

- (منارة الإسكندرية – أكتيوم البحرية – البطالمة – آمون – الزيوت – الفتح العربي الإسلامي – الإسكندرية – كليوباترا السابعة – القمح – الساقية – ملكيًا مطلقًا – دخول المسيحية)
- 1- الدولة التي تأسست في مصر بعد وفاة الإسكندر الأكبر مباشرة هي دولة **البطالمة**
 - 2- أحد الآثار التي تركها البطالمة في مصر **منارة الإسكندرية**
 - 3- شرع الإسكندر الأكبر في التخطيط لبناء مدينة **الإسكندرية**
 - 4- أدخل البطالمة أدوات جديدة في الزراعة منها **الساقية**
 - 5- تقرب الإسكندر الأكبر للمصريين قديمًا عن طريق زيارته لمعبد الإله **آمون**
 - 6- انتصر الرومان على البطالمة عام 31 ق.م في معركة **أكتيوم البحرية**
 - 7- استغل الرومان أرض مصر لزراعة محصول **القمح**
 - 8- تخلص المصريون قديمًا من الحكم الروماني عام 641م بعد **الفتح العربي الإسلامي**
 - 9- كان نظام الحكم البطلمي لمصر **ملكيا مطلقا**
 - 10- ازدهرت بعض الصناعات في عصر البطالمة ومنها صناعة **الزيوت**
 - 11- آخر ملوك البطالمة في مصر هي **كليوباترا السابعة**

(2) اكتب كلمة (صواب) أمام العبارة الصحيحة، وكلمة (خطأ) أمام العبارة غير الصحيحة:

- 1- قاد الحكم البطلمي في مصر على أساس الديمقراطية والحرية للمصريين. **(خطأ)**
- 2- خطط الإسكندر الأكبر لبناء مدينة الإسكندرية. **(صواب)**
- 3- تدخلت روما في شئون مصر الداخلية في عهد الملكة كليوباترا السابعة. **(صواب)**
- 4- انتصرت الملكة كليوباترا السابعة في معركة أكتيوم البحرية عام 31 ق.م. **(خطأ)**
- 5- أدخل البطالمة سلالات جديدة من الحيوانات لمصر. **(صواب)**
- 6- اهتم الرومان بزراعة محصول الأرز في مصر قديمًا. **(خطأ)**
- 7- تعد مكتبة الإسكندرية أحد مظاهر اهتمام الرومان بالثقافة في مصر قديمًا. **(خطأ)**
- 8- أدي ظهور المسيحية إلى زيادة الاضطهاد الروماني للمصريين قديمًا. **(صواب)**
- 9- تقرب الإسكندر الأكبر إلى المصريين فقام بزيارة معبد الكرنك. **(خطأ)**
- 10- يعتبر الملك بطليموس الأول مؤسس دولة البطالمة في مصر قديمًا. **(صواب)**
- 11- أصبحت الإسكندرية أهم مركز تجاري في شرق البحر المتوسط في عصر الرومان. **(صواب)**
- 12- رحب المصريون بالفتح العربي الإسلامي لمصر عام 641م. **(صواب)**

(3) اختر الإجابة الصحيحة مما بين القوسين:

- 1- تنسب منارة الإسكندرية القديمة إلى عصر (البطالمة - الرومان - الفرس - الهكسوس)
- 2- أحد الإنجازات الثقافية للبطالمة في مصر هو بناء جامعة (أون - روما - قرطبة - الإسكندرية)
- 3- تحولت مصر إلى ولاية رومانية عام 30 ق.م بعد معركة (أكتيوم البحرية - مجدو - قادش - عين جالوت)
- 4- مؤسس دولة البطالمة في مصر (الإسكندر الأكبر - بطليموس الثالث - بطليموس الأول - كليوباترا السابعة)
- 5- مدينة مصرية اتخذها البطالمة عاصمة لهم (بلبيس - العريش - الإسكندرية - الفرما)
- 6- بدأ ضعف دولة البطالمة بعد حكم (كليوباترا السابعة - بطليموس الأول - بطليموس الثالث - الإسكندر الأكبر)
- 7- أظهر الإسكندر الأكبر احترامه للديانة المصرية من خلال زيارة معبد الإله (أوزوريس - آمون - رع - ست)
- 8- كانت الإسكندرية المدينة الثانية عالميًا من الناحية الثقافية في عصر (الرومان - البطالمة - الفرس - الهكسوس)
- 9- أدخل البطالمة آلات زراعية جديدة لمصر منها (الفأس - المنجل - الساقية - المذراة)
- 10- أحد أشهر المعابد التي تم تشييدها في فترة الحكم الروماني لمصر هو معبد (كوم أمبو - رأس السوداء - الدير البحري - الإله آمون)

(4) صوب ما تحته خط:

- 1- آخر ملوك البطالمة في مصر بطليموس الأول.
- 2- استغلت روما أرض مصر قديمًا لزراعة محصول القطن.
- 3- كان نظام الحكم الروماني في مصر نظامًا ديمقراطيًا.
- 4- سقطت دولة البطالمة بعد معركة عين جالوت.
- 5- مؤسس دولة البطالمة في مصر هو بطليموس الثالث.
- 6- كانت عاصمة البطالمة في مصر مدينة السويس.

كليوباترا السابعة
القمح
مستبدًا
أكتيوم البحرية
بطليموس الأول
الإسكندرية

(5) فسر ما يلي:

- 1- انهيار حكم الرومان في مصر قديمًا.
- 2- بسبب الفتح العربي الإسلامي لمصر عام 641م وقد رحب المصريون بهذا الفتح للتخلص من حكم الرومان.
- 3- زيارة الإسكندر الأكبر لمعبد الإله آمون في واحة سيوة.
- 4- ليظهر احترامه للديانة المصرية لكي يتقبل المصريون حكمه.
- 5- انهيار حكم البطالمة في مصر قديمًا.

بسبب:

- ضعف ملوك البطالمة بعد بطليموس الثالث.
- تدخل روما في شئون مصر الداخلية.
- ثورات الشعب المصري ضد البطالمة.
- هزيمة الملكو كليوباترا السابعة أمام الرومان في معركة أكتيوم البحرية 31 ق.م.

- 4- ترحيب المصريين بالفتح العربي الإسلامي عام 641م.
أجب بنفسك
- 5- تخطيط الإسكندر الأكبر لبناء مدينة الإسكندرية.
حتى يتخذها عاصمة للبلاد.
- 6- إنشاء منارة الإسكندرية.
لإرشاد السفن في البحر.
- 7- رغبة الإسكندر الأكبر في الإستيلاء على مصر.
أجب بنفسك

(6) اكتب نتيجة واحدة ترتبت على ما يلي:

- 1- معركة أكتيوم البحرية عام 31ق.م.
هزيمة البطالمة وتحول مصر لولاية رومانية.
- 2- كثرة ثورات المصريين ضد حكم البطالمة.
ضعف دولة البطالمة
- 3- الفتح العربي الإسلامي لمصر عام 641م.
انتهاء حكم الرومان لمصر.
- 4- ظهور المسيحية في مصر.
أقبل المصريون على اعتناق الدين الجديد، مما أدى لزيادة الاضطهاد الروماني للمصريين.

(7) اكتب دليلًا واحدًا لكل عبارة:

- 1- محاولة الإسكندر الأكبر لكسب تأييد المصريين قديمًا. أجب بنفسك
- 2- استغلت روما الأراضي الزراعية في مصر قديمًا. أجب بنفسك
- 3- رفض المصريين لحكم البطالمة. ثورات المصريين ضد حكم البطالمة.
- 4- اتبع كل من الرومان البطالمة نظام الحكم المطلق. أجب بنفسك

(8) من يكون:

- 1- قائد يوناني سيطر على مصر لتوسيع إمبراطوريته. الإسكندر الأكبر
- 2- مؤسس دولة البطالمة في مصر. بطليموس الأول
- 3- ضعفت دولة البطالمة في مصر بعد وفاته. بطليموس الثالث
- 4- آخر ملوك البطالمة في مصر. كليوباترا السابعة

(9) أجب عما يأتي:

- 1- حدد أوجه التشابه والاختلاف بين نظام الحكم البطلمي – نظام الحكم الروماني في مصر. أجب بنفسك
- 2- قارن بين: الحياة الثقافية بمصر في عصري البطالمة والرومان. أجب بنفسك

(10) رتب الأحداث التاريخية التالية من الأقدم إلى الأحدث:

- 1- دخول الإسكندر الأكبر مصر.
 - 2- بناء مكتبة الإسكندرية.
 - 3- معركة أكتيوم البحرية.
- بناء مكتبة الإسكندرية – الفتح العربي الإسلامي لمصر – معركة أكتيوم البحرية – دخول الإسكندر الأكبر إلى مصر.



4- الفتح العربي الإسلامي لمصر.

تدريبات الدرس الثالث

(1) أكمل العبارات التالية بما يناسبها من بنك الكلمات:

- (الطوب اللبن - مناخ مصر - هرم زوسر - الجنائزية - هرم خوفو - المنازل - الحجر الجيري - الكرنك - البيئة المصرية - المقابر - حصن بوهين)
- 1- استمد المصري القديم أفكاره في العمارة من **البيئة المصرية**.
 - 2- استخدم المصري القديم الموارد الطبيعية كالجرانيت و **الحجر الجيري**
 - 3- استغل المصري القديم أرض وادي النيل في بناء **المنازل**
 - 4- استغل المصري القديم الأراضي الصحراوية غرب النيل وبني عليها **المقابر**
 - 5- بني المصري القديم المنازل من **الطوب اللبن**
 - 6- إحدى المقابر المصرية القديمة وتتكون من عدة مصاطب **هرم زوسر**
 - 7- أحد أشهر الحصون على الحدود المصرية الجنوبية هو **حصن بوهين**
 - 8- يعد معبد الملكة حتشبسوت من المعابد **الجنائزية**
 - 9- ظلت الرسومات المصرية والنقوشات موجودة حتي الآن بسبب **مناخ مصر**
 - 10- توجد مسلة للملكة حتشبسوت في معابد **الكرنك**

(2) اكتب كلمة (صواب) أمام العبارة الصحيحة، وكلمة (خطأ) أمام العبارة غير الصحيحة:

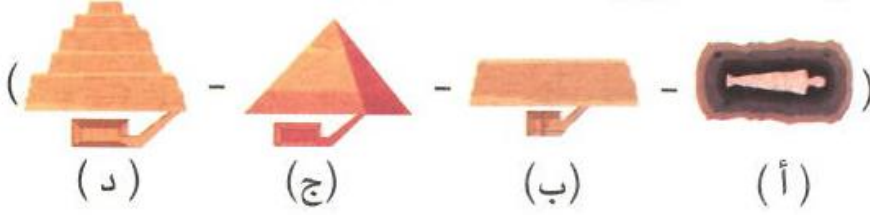
- 1- اختلفت مساحة المنازل وعدد حجراتها وزخارفها باختلاف طبقات المجتمع. (صواب)
- 2- بني المصري القديم المقابر من الطوب اللبن للحفاظ على جسد المتوفي. (خطأ)
- 3- بدأت المرحلة الأولى لبناء المقابر قديمًا من عدة مصاطب. (خطأ)
- 4- استخدم المصريون القدماء أرض الوادي لبناء المقابر بعيدًا عن الفيضان. (خطأ)
- 5- يمكننا رؤية الرسومات المصرية الرائعة على جدران معبد كوم أمبو في أسوان. (صواب)
- 6- الهرم الأكبر عبارة عن مقبرة تتكون من عدة مصاطب فوق بعضها. (خطأ)
- 7- شيد المصريون القدماء حصن بوهين لتأمين الحدود الجنوبية لمصر. (صواب)
- 8- أقيمت المعابد الجنائزية لأداء الطقوس اليومية للآلهة ومنها معبد الأقصر. (خطأ)
- 9- تعد مسلة ملكة حتشبسوت في معابد الكرنك من أشهر المسلات المصرية. (صواب)
- 10- إذا كنت زائرًا في مصر القديمة فمنزلك يكون متعدد الحجرات وبه مخزن للحبوب. (صواب)
- 11- تدل الصورة المقابلة على براعة المصريين في فن النحت. (صواب)



(3) اختر الإجابة الصحيحة مما بين القوسين:

- 1- معبد شيد من أجل إقامة طقوس الجنازة على الملك هو معبد..... (حتشبسوت - الأقصر - إيزيس - الكرنك)
- 2- أحد المعابد التي كان يقام بها الطقوس اليومية للآلهة هو معبد..... (الدير البحري - الأقصر - أمنحتب الثالث - الرامسيوم)
- 3- أبنية أنشأها المصريون القدماء لحماية البلاد والدفاع عنها هي..... (المعابد - الأهرامات - الحصون - القصور)
- 4- يمكننا رؤية مسلة الملكة حتشبسوت في معابد..... (الكرنك - الأقصر - أبو سمبل - إيزيس)

- 5- أحد الآثار التي تعبر عن براعة المصريين في نحت التماثيل هو.....
 (أبو الهول - معبد إيزيس - اللوحات الجدارية - لوحة نعرمر)
 6- يمثل المرحلة الثانية من تطوير بناء المقابر عند المصريين القدماء الشكل رقم (د)



- 7- بني المصريون القدماء المنازل من (الطوب اللبن - الحجر الجيري - النحاس - الجرانيت)
 8- منزل كبير متعدد الحجرات وبه مخازن للحبوب، هذا الوصف لمنزل
 (الراعي - الفلاح - الوزير - الصانع)
 9- يقع حصن بوهين على الحدود المصرية

(4) صوب ما تحته خط:

- 1- بني حصن بوهين على حدود مصر الغربية.
 2- يعد معبد الأقصر من المعابد الجنائزية.
 3- بني المصريون القدماء المنازل من الطوب الأحمر.
 الجنوبية
 معابد الآلهة
 اللبن

(5) فسر ما يلي:

- 1- أهمية المباني العسكرية (الحصون) عند المصريين القدماء.
 حماية البلاد والدفاع عنها، تأمين سكن الجنود.
 2- أهمية فن الرسم عند المصريين القدماء.
 كان يعبر المصري القديم بالرسم عن؛ الأحداث السياسية والاجتماعية والعسكرية والدينية وبعض الأنشطة الاقتصادية كالزراعة والتجارة.
 3- خصص المصريون القدماء أرض الصحراء غرب نهر النيل لبناء المقابر.
 لتكون بعيدة عن مخاطر الفيضان.
 4- تسمية المعابد الجنائزية بهذا الاسم.
 لأنها تقام بها طقوس الجنازة على الملك المتوفي
 5- اختلاف شكل المنازل في مصر قديمًا.
 لاختلاف طبقات المجتمع المصري القديم.
 6- بني المصريون القدماء المقابر من الحجر.
 للحفاظ على جسد المتوفي وتأمينه من اللصوص.
 7- الرسومات والألوان على جدران المعابد ما زالت زاهية.
 ساعد مناخ مصر على حفظ الرسومات والنقوش زاهية حتى وقتنا الحالي
 8- بناء المصريين القدماء المسلات.
 تزيين مداخل المعابد وتخليد ذكري الملك.

(6) ما النتائج التي ترتبت على ما يلي:

- 1- تشييد المصريين القدماء حصن بوهين.

تأمين الحدود الجنوبية لمصر وتوفير سكن للجنود.

2- تنوع الموارد الطبيعية في مصر.

اعتمد المصري القديم عليها مثل الطوب اللبن والجرانيت والحجر الجيري في الفن والعمارة

(7) اكتب دليلًا على: أجب بنفسك

1- استدامة النقوش والرسومات القديمة على جدران المعابد حتى الآن.

2- تنوع المعابد عند المصريين القدماء.

3- تميز قصر الملك عن باقي منازل الشعب في مصر قديمًا.

4- تطور شكل المقابر عند المصريين القدماء.

(8) قارن بين: أجب بنفسك

1- منازل حكام الأقاليم – قصر الملك

قصر الملك	منازل حكام الأقاليم

2- معابد الآلهة – المعابد الجنائزية، من حيث الغرض منها.

معابد الآلهة	المعابد الجنائزية

(9) أجب عما يلي: أجب بنفسك

1- ما العلاقة بين: مناخ مصر – الرسومات والنقوش في معابد المصريين القدماء؟

2- اذكر اثنين من أشهر التماثيل في مصر قديمًا.

3- حدد الغرض من إنشاء المسلات عند المصريين القدماء.

4- اذكر واحدة من أشهر المسلات في مصر قديمًا.


5- اشرح مراحل تطور بناء المقابر عند

المصريين القدماء

6- لاحظ الصورة ثم أجب:

- إلى أي نوع من المعابد ينتمي هذا المعبد؟

وما الغرض منه؟



معبد الملكة حتشبسوت

تدريبات الدرس الرابع

(1) أكمل العبارات التالية بما يناسبها من بنك الكلمات:

(أدب النثر – التشريح – النباتات – الكاتب – المستطيل – المشروط – أدب المديح)

- 1- (إذا كنت ماهراً في الكتابة فإن الناس أجمع يفعلون كل ما تقوله) تشير العبارة إلى أهمية وظيفة **الكاتب**
- 2- ترك لنا المصريون القدماء كتابات متنوعة في الأدب الديني والأدب القصصي والأدب التهذيبي و **أدب المديح**

- 3- استخدم المصريون القدماء في العلاج بعض الصفات الطبية المصنوعة من **النباتات**
- 4- عرف المصريون القدماء الكثير عن أجهزة جسم الإنسان الداخلية نتيجة براعتهم في **التشريح**
- 5- استخدم المصريون القدماء عدة أدوات طبية مثل الملقاط و**المشروط**
- 6- عرف المصريون القدماء الأشكال الهندسية مثل المربع و **المستطيل**

(2) اكتب كلمة (صواب) أمام العبارة الصحيحة، وكلمة (خطأ) أمام العبارة غير الصحيحة:

- 1- ساعدتنا الكتابة على معرفة براعة المصريون القدماء وأفكارهم وثقافتهم. (صواب)
- 2- استخدم المصريون القدماء بعض النباتات في صناعة الوصفات الطبية. (صواب)
- 3- برع المصريون القدماء في كثير من التخصصات الطبية مثل العيون والأسنان. (صواب)
- 4- عرف المصريون القدماء الكثير من الأمراض واستطاعوا علاجها. (خطأ)
- 5- تطور المصريون القدماء في التشريح مكنهم من التخطيط الجيد للمدن. (صواب)
- 6- تختلف جميع الأدوات الطبية التي استخدمها المصريون قديماً وحديثاً. (خطأ)
- 7- عرف المصريون القدماء كثيراً من مواقع الكواكب والنجوم. (صواب)
- 8- قسم المصريون القدماء السنة إلى 10 شهور. (خطأ)
- 9- قسم المصريون القدماء الشهر إلى 30 يوماً. (صواب)
- 10- أهرامات الجيزة تدل على براعة المصريين القدماء في الطب. (خطأ)
- 11- استطاع المصريون القدماء حفر الترع عندما برعوا في علم الفلك. (خطأ)
- 12- استفاد المصريون القدماء من علم الحساب في وضع التقويم الشمسي. (خطأ)
- 13- قام الكاتب بتسجيل الأحداث اليومية على جدران المعابد والمقابر وورق البردي. (صواب)

(3) اختر الإجابة الصحيحة مما بين القوسين:

- 1- بناء أهرامات الجيزة يدل على براعة المصريون القدماء في علم (الفلك – الطب – الهندسة – التشريح)
- 2- وضع المصريون القدماء للتقويم الشمسي يدل على براعتهم في علم (الفلك – الطب – الهندسة – الحساب)
- 3- استطاع المصريون القدماء تسجيل رواتب الجنود عندما برعوا في علم (الفلك – الطب – الحساب – الهندسة)



4- تدل الصورة المقابلة على براعة المصريين القدماء في

(التشريح - الهندسة - الحساب - الفلك)

5- استخدم المصريون القدماء علم التشريح أثناء قيامهم بعملية

(النحت - التحنيط - البناء - الحفر)

6- عرف المصريون القدماء مواقع كثير من الكواكب والنجوم نتيجة لبراعتهم في علم

(الطب - الفلك - الهندسة - الحساب)

7- استطاع المصريون القدماء تحديد قيمة الضرائب بفضل براعتهم في علم

(الحساب - الطب - الفلك - الهندسة)

(4) صوب ما تحته خط:

- 1- استطاع المصريون القدماء تخطيط المدن عندما برعوا في علم الحساب.
- 2- المسئول عن تسجيل كل نواحي الحياة المصرية القديمة على جدران المعابد هو الطبيب.
- 3- عرف المصريون القدماء أجهزة الجسم الداخلية بسبب براعتهم في علم الفلك.
- 4- استخدم المصريون القدماء أدوات طبية شبيهة بما نستخدمه الآن مثل المشرط والسماعات.
- 5- قسم المصريون القدماء السنة إلى 12 شهرًا متساوية نتيجة براعتهم في علم الحساب.

(5) اكتب تفسيرًا وحدًا:

- 1- أهمية الكتابة عند المصريين القدماء. **أجب بنفسك**
- 2- أهمية وظيفة الكاتب عند المصريين القدماء.
- 3- **تساعد في وصول صاحب المهنة إلى المناصب العليا في الدولة.**
- 3- معرفة المصريين القدماء لكثير من مواقع الكواكب والنجوم.
- بسبب براعة المصريين القدماء في علم الفلك.
- 4- أهمية علم الهندسة عند المصريين القدماء.
- ساعدهم على تخطيط المدن، وحفر الترع، وبناء الأهرامات كما أنهم عرفوا العديد من الأشكال الهندسية مثل المربع والمستطيل.
- 5- أهمية علم الحساب عند المصريين القدماء.
- ساعدهم ذلك على حساب مساحة الأرض الزراعية- تسجيل رواتب الجنود - تحديد قيمة الضرائب بناء على الفيضان.

(6) اكتب نتيجة واحدة ترتبت على ما يلي:

- 1- معرفة المصريين القدماء علم التشريح.
- أدى إلى معرفتهم لأجزاء جسم الإنسان الداخلية ومعرفة العديد من الأمراض.
- 2- تقديم المصريين القدماء في علم الفلك.
- أدى إلى معرفة مواقع الكثير من النجوم والكواكب - وضعوا التقويم الشمسي.
- 3- براعة المصريين القدماء في علم الحساب. **أجب بنفسك**

(7) ما العلاقة بين:

- 1- تقدم المصريين القدماء في علم الطب - التحنيط. براعتهم في علم الطب ساعدهم على تشريح جثث موتاهم وتجهيزها لعملية التحنيط.
- 2- علم الهندسة - بناء الأهرامات. برع المصريون القدماء في علم الهندسة وقد ساعدهم ذلك على بناء الأهرامات.
- 3- علم الحساب - الزراعة عند المصريين القدماء. براعة المصريين القدماء في علم الحساب ساعدهم على حساب مساحة الأرض الزراعية وتحديد قيمة الضرائب.

(8) اكتب دليلاً واحداً لكل عبارة:

- 1- مهنة الكاتب كانت من أهم الوظائف قديماً. أجب بنفسك
- 2- براعة المصريين القدماء في الطب. عرفوا الكثير من التخصصات الطبية ومنها: العيون والأسنان والجراحة. اكتشفوا الكثير من الأمراض واخترعوا الوصفات لعلاجها. استخدموا النباتات في العلاج وسجلوا ذلك على ورق البردي. استخدموا أدوات طبية شبيهة بما نستخدمه الآن مثل المشرب والملقاط. برعوا في علم التشريح (يكتفي بدليل واحد)
- 3- تقدم المصريين القدماء في علم الفلك. أجب بنفسك
- 4- ساعد علم الهندسة المصريين القدماء في تحقيق إنجازات مهمة. أجب بنفسك
- 5- تعددت استخدامات المصريين القدماء لعلم الحساب. أجب بنفسك
- 6- تعددت أنواع الأدب عند المصريين القدماء. أجب بنفسك

(9) قارن بين: أجب بنفسك

علم الحساب وعلم الهندسة من حيث الأهمية

علم الهندسة	علم الحساب



(10) لاحظ الصور التالية ثم أجب:

- 1- تدل الصورة (1) على براعة المصريين القدماء في علم الفلك
- 2- تدل الصورة (2) على براعة المصريين القدماء في علم الهندسة
- 3- تشير الصورة (3) إلى براعة المصريين القدماء في التحنيط

الوحدة الثالثة تدريبات الدرس الأول

(1) أكمل العبارات التالية بما يناسبها من بنك الكلمات:

- (السفارات – الهكسوس – أكتوبر عام 1973م – الشمالية الشرقية – للدفاع المشترك – مجدو – فينيقيا – الخارجية – معاهدة سلام)
- 1- وقعت مصر مع جمهورية السودان اتفاقيات **للدفاع المشترك**
 - 2- عقد الملك رمسيس الثاني مع الحيثيين أول **معاهدة سلام**
 - 3- قامت الدول العربية بمساندة مصر وسوريا في حرب **أكتوبر عام 1973م**
 - 4- اشترك الفينيقيون مع الملك تحتمس الثالث في معركة **مجدو**
 - 5- الهيئات المسئولة عن تعميق العلاقات بين الدول هي **السفارات**
 - 6- حماية مصالح المواطنين وتطوير علاقات مصر في الخارج من مهام وزارة **الخارجية**
 - 7- نقل المصريون القدماء العربات الحربية عن **الهكسوس**
 - 8- عمل الملك تحتمس الثالث على تأمين حدود مصر **الشمالية الشرقية**

(2) اكتب كلمة (صواب) أمام العبارة الصحيحة، وكلمة (خطأ) أمام العبارة غير الصحيحة:

- 1- ساندت الدول العربية مصر ولبنان في حرب أكتوبر 1973م. (خطأ)
- 2- وزارة الداخلية هي المسئولة عن تطوير وتعميق علاقات مصر مع الدول الأخرى. (خطأ)
- 3- وقع الملك مينا معاهدة السلام مع الحيثيين. (خطأ)
- 4- وقعت جمهورية السودان مع مصر اتفاقيات للدفاع العسكري المشترك بينهما. (صواب)
- 5- يوجد في كل دولة سفارات للدول الأخرى. (صواب)
- 6- أنشأ المصريون القدماء القلاع والحصون لتأمين حدود الإمبراطورية المصرية. (صواب)
- 7- تقوم مصر بإجراء تدريبات عسكرية مشتركة مع العديد من الدول. (صواب)
- 8- استعان الملك تحتمس الثالث بالحيثيين أثناء معركة مجدو. (خطأ)
- 9- استخدم المصريون القدماء العربات الحربية التي أخذوها عن الرومان. (خطأ)
- 10- اشتركت مصر مع الأمم المتحدة في بعثات حفظ السلام في بعض الدول الأفريقية. (صواب)
- 11- استطاعت مصر تعميق علاقاتها السياسية مع دول العالم على مر العصور. (صواب)
- 12- تقوم مصر بعقد المعاهدات والاتفاقيات مع الدول الأخرى لحماية حدودها وحفظ الأمن (صواب)

(3) اختر الإجابة الصحيحة مما بين القوسين:

- 1- وقعت مصر اتفاقيات للدفاع المشترك مع جمهورية (العراق – فلسطين – موريتانيا – السودان)
- 2- نقل المصريون القدماء العربات الحربية عن (الهكسوس – الفينيقيين – الليبيين – الحيثيين)
- 3- اشترك الفينيقيون مع الملك تحتمس الثالث في معركة (قادش – مجدو – حطين – أكتيوم)
- 4- حماية مصالح المواطنين في الخارج مسئولية وزارة (الخارجية – الإعلام – الداخلية – الدفاع)
- 5- وقع الملك رمسيس الثاني معاهدة السلام مع (الفرس – الحيثيين – الفينيقيين – الروم)
- 6- عمل الملك تحتمس الثالث على مواجهة الأخطار التي تهدد مصر من جهة (البحر الأحمر – ليبيا – سوريا – العراق)

(الجنوب - الشمال الشرقي - الغرب - الجنوب الشرقي)

7- أنشأ المصريون القدماء العديد من القلاع والحصون في
(فينيقيا - روما - بلاد اليونان القديمة - بلاد العراق القديم)

(4) صوب ما تحته خط:

- 1- وقعت مصر اتفاقيات للدفاع المشترك مع جمهورية الصومال. **السودان**
- 2- ساندت الدول العربية أثناء حرب أكتوبر 1973م كلاً من مصر وليبيا. **سوريا**
- 3- اشترك الفينيقيون مع الملك تحتمس الثالث في معركة قادش. **مجدو**
- 4- وقع الملك رمسيس الثاني معاهدة سلام مع الفينيقيين. **الحيثيين**
- 5- حماية مصالح المصريين في الخارج من مهام وزارة السياحة. **الخارجية**
- 6- عرف المصريون القدماء العربات الحربية من الفينيقيين. **الهكسوس**

(5) فسر ما يلي:

- 1- تقوم مصر بعقد المعاهدات والاتفاقيات مع الدول الآخري.
- 2- لحماية حدودها وحفظ الأمن ونشر الإسلام وتحقيق رفاهية الشعوب.
- 2- أهمية وزارة الخارجية المصرية.
- لتطوير وتعميق علاقات مصر مع الدول الآخري وحماية مصالح المواطنين في الخارج.
- 3- أنشأ المصريون القدماء القلاع والحصون في بلاد فينيقيا.
- لتأمين حدود الإمبراطورية المصرية.
- 4- أهمية وجود سفارات ب داخل الدول.
- لتعميق العلاقات بين الدول.
- 5- اهتمام مصر بإقامة علاقات تواصل سياسي وعسكري مع الدول الإفريقية.
- لدعم الأمن والاستقرار داخل قارتنا الإفريقية.

(6) ما النتائج المترتبة على كل مما يلي:

- 1- اشترك الفينيقيين مع الملك تحتمس الثالث في معركة مجدو.
- تحقيق انتصار الجيش المصري في المعركة وتأمين حدود مصر الشمالية الشرقية وتدعيم النفوذ المصري في آسيا.
- 2- وجود وزارة الخارجية في مصر.
- أدى إلى تطوير وتعميق علاقات مصر مع الدول الآخري، العمل على حماية مصالح المواطنين في الخارج.
- 3- التواصل السياسي والعسكري بين مصر وجمهورية السودان.
- أجب بنفسك
- 4- غزو الهكسوس لمصر بالنسبة للنظم العسكرية.
- أخذ عنهم المصريون القدماء العربات الحربية.

(7) اكتب دليلاً واحداً لكل عبارة:

- 1- مساندة الدول العربية لبعضها البعض وقت الأزمات والحروب.
- قيام الدول العربية بمساندة مصر وسوريا في حرب أكتوبر 1973م
- 2- التواصل السياسي والعسكري بين مصر وجمهورية السودان.
- توقيع مصر اتفاقيات الدفاع المشترك بينها وبين جمهورية السودان.
- 3- التواصل السياسي والعسكري بين مصر ودول قارة إفريقيا.

مشاركة مصر في بعثات الأمم المتحدة لحفظ السلام في بعض الدول الإفريقية.

(8) قارن بين: أجب بنفسك

- نماذج التواصل العسكري والسياسي لمصر (قديمًا وحديثًا)

(9) صف العبارات الآتية وفقا لعلاقات التواصل السياسي والعسكري قديمًا وحديثًا:

(استخدام العربات الحربية – إجراء تدريبات عسكرية مشتركة مع العديد من الدول – مساندة الدول العربية لمصر وسوريا في حرب أكتوبر 1973م – توقيع معاهدة السلام بين الملك رمسيس الثاني والحيثيين- مساعدة الفينيقيين للملك تحتمس الثالث في معركة مجدو.

حديثًا	قديمًا
مساندة الدول العربية لمصر وسوريا في حرب أكتوبر 1973م- إجراء تدريبات عسكرية مشتركة مع العديد من الدول	استخدام العربات الحديثة – مساعدة الفينيقيين للملك تحتمس الثالث في معركة مجدو- توقيع معاهدة السلام بين الملك رمسيس الثاني والحيثيين.

(10) لاحظ الصورة ثم أجب: أجب بنفسك

كيف أثرت الوزارة الموجودة في الصورة في التواصل بين مصر والدول الأخرى.



مبنى وزارة الخارجية

تدريبات الدرس الثاني:

(1) أكمل العبارات التالية بما يناسبها من بنك الكلمات:

(التاريخ – الإسكندرية – بلاد العراق القديم – الأطراف الصناعية – أعمدة المعابد – الطب – تحتمس الثالث)

- 1- اختراع مصري قديم مازال العالم يستخدمه حتى الآن **الأطراف الصناعية**
- 2- أخذت مصر استخدام الأختام من **بلاد العراق القديم**
- 3- تأثرت بلاد اليونان والرومان بالطراز المعماري المصري القديم وخاصة في بناء **أعمدة المعابد**
- 4- أشهر علماء جامعة الإسكندرية قديمًا إقليدس في الهندسة ومانيتون في **التاريخ**
- 5- زاد التواصل العلمي والثقافي بين مصر ودول العالم قديمًا بعد بناء مكتبة وجامعة **الإسكندرية**
- 6- الملك الذي استفاد أبناء أمراء آسيا للدراسة في مصر هو **تحتمس الثالث**

(2) اكتب كلمة (صواب) أمام العبارة الصحيحة، وكلمة (خطأ) أمام العبارة غير الصحيحة:

- 1- اخترع الفينيقيون الحبر الأسود. (خطأ)
- 2- تأثرت بلاد العراق القديم بشكل هرم زوسر المدرج في بناء المعابد. (صواب)
- 3- أخذ المصريون القدماء رسم الحيوانات المجنحة عن الرومان. (خطأ)
- 4- اعتمد الرومان التقويم الشمسي وأضافوا السنة الكبيسة. (صواب)
- 5- تعد المعارض الدولية أحد أشكال التواصل العلمي والثقافي بين الدول. (صواب)
- 6- استفاد الملك تحتمس الثالث أبناء الأمراء الآسيويين للدراسة في مصر. (صواب)
- 7- يعد إقليدس من أشهر علماء جامعة القاهرة في الهندسة قديمًا. (خطأ)
- 8- اخترع المصريون القدماء الساعة لتحديد الوقت. (صواب)
- 9- ما زال العالم حتى الآن يستخدم الأطراف الصناعية. (صواب)
- 10- أخذ المصريون القدماء استخدام الأختام من اليونانيين. (خطأ)

(3) اختر الإجابة الصحيحة مما بين القوسين:

- 1- بنيت مكتبة الإسكندرية في عصر (البطالمة – الرومان – الهكسوس – الفرس)
- 2- تأثرت بلاد العراق القديم بالحضارة المصرية القديمة فأخذت عنها شكل (المعابد – الهرم المدرج – المقابر – الطيور المجنحة)
- 3- أحد العلوم التي يفد طلاب إفريقيا ودول شرق آسيا لدراستها في مصر (الطب – الهندسة – الرياضيات – الفلسفة)
- 4- نقل المصريون القدماء استخدام الأختام عن بلاد (اليونان القديم – الرومان – الفرس – العراق القديم)
- 5- أسماء شهور السنة الميلادية تعود في الأصل إلى (الفيثيقيين – الرومان – الفرس – البطالمة)

(4) صوب ما تحته خط:

- 1- زاد التواصل العلمي والثقافي بين مصر ودول العالم قديمًا بعد بناء مكتبة وجامعة القاهرة. الإسكندرية

- 2- ترجع أسماء شهور السنة إلى أصل يوناني.
 - 3- أخذت مصر الأختام عن بلاد الإغريق (اليونان).
 - 4- الملك الذي استقدم أبناء أمراء البلاد الآسيوية ليتعلموا في مصر هو رمسيس الثاني.
 - 5- أخذ اليونانيون عن مصر بناء المعابد المدرجة.
- روماني
العراق القديم
تحتمس الثالث
أعمدة المعابد

(5) فسر ما يلي:

- 1- وفود طلاب العلم إلى مصر قديمًا.
- 2- أهمية التواصل العلمي والثقافي بين مصر والعالم.
- 3- أهمية البعثات العلمية والمناهج الدراسية.
- 4- أهمية التواصل العلمي والثقافي على تطور العلم وتقدم الدول وتنميتها.
- 5- أهمية البعثات العلمية والمناهج الدراسية.
- 6- تساعد الطلاب على:
- 7- الاطلاع على كل ما هو جديد في مجال دراستهم.
- 8- تعرف ثقافات الشعوب الأخرى.

(6) أكتب نتيجة واحدة ترتبت على ما يلي:

- 1- تأثر اليونانيون والرومان بالعمارة المصرية القديمة.
- 2- حيث ظهر ذلك في بناء الأعمدة بواجهة معابدهم فنجد تشابه أعمدة معبد البارثينون في أثينا مع أعمدة معابد الكرنك في مصر.
- 3- تأثر المصريين القدماء بحضارة بلاد العراق القديم.
- 4- أدى ذلك إلى رسم الحيوانات الأسطورية المجنحة واستخدام الأختام.
- 5- إنشاء البطالمة لمكتبة وجامعة الإسكندرية.
- 6- ساعد على تحقيق التواصل العلمي والثقافي بين مصر ودول العالم القديم وخاصة بلاد اليونان.

(7) دلل على صحة العبارات الآتية:

- 1- كان لإنشاء مكتبة الإسكندرية أثر كبير في مصر قديمًا. **أجب بنفسك**
- 2- اتصلت الحضارة المصرية القديمة بحضارة بلاد العراق القديم. **أجب بنفسك**
- 3- كانت الحضارة المصرية القديمة منارة لكل دول العالم القديم. **أجب بنفسك**
- 4- يعود التقويم الذي استخدمه العالم حاليًا إلى التقويم الشمسي للمصري القديم.
- 5- تأثر الرومان بالحضارة المصرية فأخذ الإمبراطور الروماني يوليوس قيصر التقويم الشمسي المصري وأضاف إليه:
- 6- أسماء رومانية لشهور السنة.
- 7- السنة الكبيسة (366 يومًا) كل أربع سنوات.
- 8- برع المصريون القدماء في تقديم العديد من الاختراعات للعالم.
- 9- حيث اخترعوا الكثير من الأدوات التي يستخدمها العالم حتى الآن مثل (الأطراف الصناعية – الحبر الأسود- الساعة)
- 10- وضح كيف تأثرت الحضارة المصرية وحضارة بلاد العراق القديم ببعضهما البعض. **أجب بنفسك**
- 11- حدد اثنين من أشكال التواصل العلمي والثقافي بين مصر ودول العالم حديثًا. **أجب بنفسك**

تدريبات الدرس الثالث

(1) أكمل العبارات التالية بما يناسبها من بنك الكلمات:

(لبنان - الفيلة - البطالمة - الفينيقيين - حتشبسوت - القديمة - الأثاث - سيزوستريس - الكوميسا - الأسرة 26)

- 1- استعان الملك نخاو الثاني في رحلته الإستكشافية حول إفريقيا بالبحارة **الفينيقيين**
- 2- أرسلت مصر أسطولاً بحرياً لجلب أخشاب الأرز من فينقيا في عصر الدولة **القديمة**
- 3- ازدهرت التجارة قديماً بين مصر وبلاد الإغريق في عهد **الأسرة 26**
- 4- أمر الملك سنوسرت الثالث بحفر قناة **سيزوستريس**
- 5- قام البطالمة باستيرادها واستخدامها في تسليح الجيش المصري **الفيلة**
- 6- تم إنشاء العديد من الموانئ على سواحل البحرين الأحمر والمتوسط أثناء حكم **البطالمة**
- 7- استخدم خشب الأرز في صناعة السفن و**الأثاث**
- 8- شاركت مصر في العديد من المنظمات الاقتصادية منها **الكوميسا**
- 9- أشهر الرحلات التجارية في عصر الدولة الحديثة كان في عهد الملكة **حتشبسوت**

(2) اكتب كلمة (صواب) أمام العبارة الصحيحة، وكلمة (خطأ) أمام العبارة غير الصحيحة:

- 1- أقام ملوك الأسرة 26 مدينة نقراتيس للتجار البطالمة. (خطأ)
- 2- أرسل الملك سنفرو أسطولاً بحرياً إلى فينقيا لجلب أخشاب الأرز. (صواب)
- 3- قام الملك نخاو الثاني والبحارة الفينيقيون برحلة بحرية حول إفريقيا. (صواب)
- 4- تم حفر قناة سيزوستريس في عصر الدولة الحديثة. (خطأ)
- 5- استورد البطالمة المعادن والفيلة لتسليح الجيش المصري. (صواب)
- 6- ضعفت العلاقات التجارية بين مصر وجيرانها بعد حفر قناة سيزوستريس. (خطأ)
- 7- أرسلت الملكة حتشبسوت رحلة تجارية لفينقيا لجلب العطور. (خطأ)
- 8- أنشأ البطالمة العديد من الموانئ البحرية في مصر. (صواب)
- 9- شاركت مصر في منظمة التجارة العالمية. (صواب)
- 10- انتشرت صناعة الخزف في مدينة نقراتيس. (صواب)

(3) اختر الإجابة الصحيحة مما بين القوسين:

- 1- ملك مصرى أرسل بعثة استكشافية حول إفريقيا
(نخاو الثاني - رمسيس الثاني - تحتمس الثالث - سنوسرت الثالث)
- 2- زاد النشاط التجاري المصري بعد حفر قناة سيزوستريس في
(العصر المتأخر - عصر الدولة القديمة - عصر البطالمة - عصر الدولة الوسطي)
- 3- أحضر الملك سنفرو من فينقيا
(عسل النحل - الكتان - خشب الأرز - الزيتون)
- 4- أرسل الملك سنفرز بعثات تجارية محملة بالعسل والكتان إلى بلاد النوبة و.....
(اليونان - ليبيا - بلاد بونت - العراق القديم)
- 5- الملك الذي أرسل أسطولاً بحرياً من أربعين سفينة إله فينقيا هو
(نخاو الثاني - رمسيس الثاني - تحتمس الثالث - سنوسرت الثالث)

- (خوفو - سنوسرت الثالث - تحتمس الثالث - سنفرو)
- 6- استوردت الملكة حتشبسوت البخور والعاج والعمور من بلاد
- (بونت - النوبة - فينقيا - ليبيا)
- 7- حفرت قناة سيزوستريس في عصر الملك (سنفرو - تحتمس الثالث - زوسر - سنوسرت الثالث)
- 8- أقام ملوك الأسرة 26 مدينة للتجار والرعايا اليونانيين هي
- (الإسكندرية - نقرطيس - بطليمس - طيبة)
- 9- اشتركت مصر في العديد من المنظمات الاقتصادية الخاصة بقارة إفريقيا منها
- (الاتحاد الأوروبي - الكوميسا - التعاون الخليجي - الأوبك)

(4) صوب ما تحته خط:

- 1- تميزت مدينة نقرطيس بانتشار صناعة الأثاث.
 - 2- أرسلت مصر أسطولاً بحرياً لجلب أخشاب الأرز من فينقيا في عصر الملك خفرع.
 - 3- تم حفر قناة سيزوستريس في عصر الدولة القديمة.
 - 4- أرسلت ملكة حتشبسوت رحلتها التجارية لجلب الأخشاب والعمور من فينقيا.
 - 5- أرسل الملك نخاو الثاني رحلة استكشافية حول إفريقيا بمساعدة البحارة الأوروبيين.
 - 6- استورد البطالمة المعادن لتسليح الجيش الروماني.
 - 7- ازدهرت التجارة المصرية في عصر الدولة الوسطي بعد حفر قناة السويس.
- الخزف
سنفرو
الوسطي
بونت
الفينقيين
المصري
سيزوستريس

(5) فسر ما يلي:

- 1- اهتمام مصر بالانضمام إلى المنظمات الاقتصادية.
- 2- الاستفادة من التجارب الناجحة في تطوير الأنشطة الاقتصادية وزيادة الإنتاج.
- 3- استيراد البطالمة المعادن والفيلة أثناء حكمهم لمصر.
- 4- تسليح الجيش المصري.
- 5- اهتمام البطالمة بإنشاء موانئ على سواحل البحرين الأحمر والمتوسط.
- 6- لاهتمامهم بزيادة النشاط التجاري بين مصر ودول العالم.
- 7- إرسال الملكة حتشبسوت رحلتها التجارية إلى بلاد بونت.
- 8- لجلب العلاج والأخشاب والعمور والحيوانات النادرة والطيور.
- 9- أرسل الملك سنفرو أسطولاً بحرياً مكوناً من 40 سفينة إلى فينقيا.
- 10- لإحضار خشب الأرز الذي يستخدم في صناعة السفن والآثاث.
- 11- أهمية مشروع (الربط الملاحي بين بحيرة فيكتوريا والبحر المتوسط عن طريق نهر النيل).
- 12- لتوصيل البضائع الإفريقية عبر نهر النيل إلى البحر المتوسط ومنها للدول الأوروبية.
- 13- للمساهمة في زيادة التبادل التجاري بين مصر ودول إفريقيا.
- 14- زيادة النشاط التجاري بين مصر وجيرانها في عصر الدولة الوسطي.
- 15- بسبب حفر قناة سيزوستريس في عهد الملك سنوسرت الثالث.
- 16- إنشاء ملوك الأسرة 26 مدينة نقرطيس.
- 17- أشنت للتجار والرعايا اليونانيين في مصر لما بينهم وبين مصر من علاقات تجارية مزدهرة

(6) اكتب نتيجة واحدة ترتبت على ما يلي:

- 1- انضمام مصر إلى المنظمات الاقتصادية.

- أدى إلى دعم التواصل الاقتصادي مع دول العالم في العصر الحديث.
- 2- اهتمام البطالمة في بداية حكمهم لمصر بالتجارة.
- أدى إلى إنشاء عديد من الموانئ على سواحل البحرين الأحمر والمتوسط.
- 3- إرسال الملك سنفرو أسطولاً بحرياً إلى فينيقيا.
- أدى إلى دخول أخشاب الأرز مصر واستخدامها في صناعة السفن والأثاث.
- 4- إرسال الملكة حتشبسوت رحلة تجارية إلى بلاد بونت.
- أجب بنفسك
- 5- حفر قناة سيزوستريس في عهد الملك سنوسرت الثالث.
- أدى إلى زيادة النشاط التجاري بين مصر وجيرانها.
- 6- بناء مدينة نقرطيس.
- أصبحت مركزاً تجارياً وصناعياً حيث انتشرت بها صناعة الخزف

(7) قارن بين: أجب بنفسك

- الرحلة التجارية التي أرسلها كل من الملك سنفرو – الملكة حتشبسوت من حيث:
- وجهة الرحلة - البضائع المستوردة

(8) اكتب دليلاً واحداً لكل عبارة:

- 1-ازدهرت العلاقات التجارية بين مصر وجيرانها في عصر الدولة الحديثة.
- 2- اهتمام البطالمة في بداية حكمهم لمصر بزيادة النشاط التجاري.
- 3- اهتمام مصر بدعم التواصل الاقتصادي مع دول العالم في العصر الحديث.
- 4- حرصت مصر خلال تاريخها على توطيد علاقتها الاقتصادية بقارة إفريقيا.
- 5- ازدهار العلاقات التجارية مع بلاد الإغريق في العصر المتأخر.
- 6- اهتمام ملوك الدولة الوسطي بالتجارة.

تدريبات الدرس الرابع

(1) أكمل العبارات التالية بما يناسبها من بنك الكلمات:

- القاهرة – الإسكندرية – البورصة – الأسهم – خسائر المشروع – السندات – زيادة الاستثمارات – ثابتًا – البورصة المصرية)
- 1- تعرف السوق المنظمة التي يتم فيه بيع وشراء الأسهم والسندات باسم **البورصة**
 - 2- أنشئت أول بورصة في مصر بمحافظة **الإسكندرية**
 - 3- يكون المستثمر شريكًا في المشروع إذا اشترى **الأسهم**
 - 4- الأوراق المالية التي تثبت أن مالكةا قدم قرصًا لصاحب مشروع ما تسمى **السندات**
 - 5- أحد عيوب شراء الأسهم أن المستثمر يتحمل **خسائر المشروع**
 - 6- احد خصائص السندات أنها تعطي صاحبها عائدًا **ثابتًا**
 - 7- تم دمج بورصة الإسكندرية وبورصة القاهرة ليصبح اسمهما **البورصة المصرية**
 - 8- تؤدي البورصة المصرية إلى **زيادة الاستثمارات**

(2) اكتب كلمة (صواب) أمام العبارة الصحيحة، وكلمة (خطأ) أمام العبارة غير الصحيحة:

- 1- البورصة عبارة عن سوق منظمة يتم فيها بيع وشراء الطعام والشراب. (خطأ)
- 2- أنشئت أول بورصة في مصر بمحافظة القاهرة. (خطأ)
- 3- تعطي الأسهم أصحابها الحق في أرباح المشروع وفق عدد الأسهم. (صواب)
- 4- ترد قيمة السندات لأصحابها بعد المدة المتفق عليها. (صواب)
- 5- تساعد البورصة على زيادة الاستثمارات بالدولة. (صواب)
- 6- تعتبر السندات أوراقًا مالية تثبت أن مالكةا قدم قرصًا لصاحب المشروع. (صواب)
- 7- أصحاب السندات لهم حق في ملكية المشروع. (خطأ)
- 8- السندات أعلى مخاطرة من الأسهم. (خطأ)
- 9- يمكنك أن تصبح شريكًا في أحد المشروعات لو امتلكت عددًا من الأسهم فيه. (صواب)
- 10- يتحمل أصحاب السندات الخسائر التي تحدث للمشروع. (خطأ)
- 11- إذا أردت شراء سهم مشروع ما في البورصة فعليك استشارة مساهرة البورصة. (صواب)
- 12- تعد كل من الأسهم والسندات أوراقًا مالية يمكن بيعها وشراؤها. (صواب)

(3) اختر الإجابة الصحيحة مما بين القوسين:

- 1- السوق المنظمة التي يتم فيها بيع وشراء الأسهم والسندات هي
(البنك – البورصة – الشركة – المصنع)
- 2- ورقة مالية تطرحها البورصة تعطي صاحبها الحق في فائدة ثابتة محددة مسبقًا هي
(السهم – الشيك – السند – النقود)
- 3- يجب على المستثمر تحمل خسائر المشروع إذا اشترى.....(الأسهم – الشيكات – السندات – العملات)
- 4- أنشئت أول بورصة في مصر بمحافظة
(القاهرة – الجيزة – الإسكندرية – السويس)
- 5- ورقة مالية تطرحها البورصة وتعطي المستثمر حق مشاركة أرباح المشروع هي

(السهم - السند - الشيك - العملة)

6- يستطيع والدك المشاركة في مشروع بدون تحمل للخسائر عندما يشتري من البورصة
(الأسهم - الشركات - السندات - المصانع)

(4) صف العبارات التالية إلى سندات وأسهم:

أسهم
سندات
سندات
أسهم

- 1- تعطي أصحابها حق ملكية جزء من المشروع.
- 2- تعطي صاحبها الحق في فائدة ثابتة محددة مسبقًا في حالة المكسب والخسارة.
- 3- تعتبر دليلاً على أن مالكاها قدم قرضًا لصاحب المشروع.
- 4- يتحمل أصحابها الخسائر.

(5) فسر ما يلي:

- 1- يحتاج أصحاب المشروعات إلى البورصة.
لأنها توفر التمويل اللازم لهم.
- 2- الأسهم أعلى محاضرة من السندات.
لأن صاحبها يتحمل الخسائر التي قد تحدث للمشروع.
- 3- السندات أقل مخاطرة عن الأسهم.
لأن العائد المادي لأصحابها ثابت في حالة المكسب أو الخسارة - ترد قيمة السندات لأصحابها بعد المدة المتفق عليها.
- 4- أهمية البورصة للاقتصاد المصري.
أجب بنفسك

(6) أجب عما يلي:

- 1- ما النتائج المترتبة على؟
(أ) وجود البورصة في جمهورية مصر العربية.
ساعد على تمويل المشروعات وزيادة الاستثمارات.
(ب) تحديد فائدة ثابتة مسبقًا لأصحاب السندات.
أصبحت السندات أقل مخاطرة من الأسهم
- 2- قارن بين الأسهم والسندات من حيث التعريف وأهم الخصائص لكل منهما.
أجب بنفسك
- 3- دلل: تتعدد مزايا الأسهم.
تتعدد مزايا الأسهم حيث إنها تعطي أصحابها الحق في ملكية جزء من المشروع حسب عدد الأسهم- تعطي أصحابها الحق في أرباح المشروع وفق عدد الأسهم وتختلف الأرباح من عام لآخر.
- 4- ما المقصود بكل من:
(أ) البورصة : سوق منظمة يتم فيها بيع وشراء الأوراق المالية (الأسهم والسندات)
(ب) السهم : ورقة مالية تجعل صاحبها شريكًا في المشروع(المصنع / الشركة) وفق عدد الأسهم التي يشتريها من البورصة.
(ج) السند: ورقة مالية تثبت أن مالكاها قدم قرضًا لصاحب المشروع (المصنع / الشركة) لمدة محددة تمتد من سنة إلى عشر سنوات أو أكثر.

نعم بحمد الله

سلسلة مذكرات المصطفى يتم إعدادها من خلال
موقع وتطبيق مذكرات جاهزة للطباعة ويتم نشرها بدون علامات مائية
بشكل مجاني للجميع، ولم يتم كتابة اسم المعلم عليها ليستطيع
الجميع طباعتها واستخدامها، ولكن دون حذف أي شيء منها



لمزيد من هذه النوعية من المذكرات
قم بتثبيت تطبيق مذكرات جاهزة للطباعة
على موبايلك لتحميل كافة المذكرات بسهولة



قمنا بالاستعانة بكتاب سلاح التلميذ