

مذكرات طارق

الدراسات الإجتماعية

الصف الرابع الإبتدائي

الفصل الدراسي الثاني

الوحدة الأولى

مذكرة سؤال وإجابة

إعداد

أ / طارق رمضان

سؤال وإجابة على الدرس الأول

السؤال الأول: ضع كلمة (صح) أمام العبارات الصحيحة وكلمة (خطأ) أمام العبارة الخاطئة :

- ١- تقوم مصر بعمل تعداد لسكانها كل خمس سنوات (خطأ) كل عشر سنوات
- ٢- تعد محافظة شمال سيناء أكثر المحافظات المصرية سكاناً (خطأ) جنوب سيناء
- ٣- يختلف توزيع سكان مصر من محافظة إلى أخرى (صح)
- ٤- محافظة الجيزة يزيد عدد سكانها عن ٨ مليون نسمة (صح)
- ٥- يعتبر البنك المركزي هو المسؤول عن إجراء التعداد السكاني (خطأ) الجهاز المركزي للتعبئة العامة والإحصاء
- ٦- تتعدد انماط السكان في مصر (صح)
- ٧- سكان الحضر هم الذين يعملون بالزراعى والرعى (خطأ) الصناعة والتجارة والسياحة
- ٨- تعتبر السويس من المحافظات الحضرية (صح)
- ٩- ترتفع نسبة الأمية بين سكان الحضر (خطأ) تنخفض
- ١٠- ترتفع نسبة المية فى الريف مقارنة بالحضر (صح)
- ١١- القاهرة أكثر محافظات مصر سكانها لأنها العاصمة (صح)
- ١٢- ارتفاع مستوى المعيشة من أسباب انخفاض الامية فى المدن (صح)
- ١٣- تتسبب هجرة سكان المدن إلى الريف إلى ظهور العشوائيات (خطأ) العكس
- ١٤- تقوم الدولة حالياً بتنفيذ المشروع القومى لتطوير العشوائيات (صح)
- ١٥- سكان الريف هم الذين يسكنون المدن ويقومون بحرفة الزراعة (خطأ) يسكنون القرى
- ١٦- نسبة سكان الحضر فى مصر أكبر من نسبة سكان الريف (خطأ) العكس
- ١٧- يزداد متوسط حجم الأسرة فى الحضر عن الريف (خطأ) العكس
- ١٨- يعانى سكان الحضر من مشكلة كثرة الإنجاب والزواج المبكر (خطأ) الريف
- ١٩- تقوم الدولة بالتوعية بتنظيم الأسرة لحل مشكلة الأمية (خطأ)
- ٢٠- ترتفع نسبة البدو فى مصر (خطأ) ضئيلة جداً

٢١- أدى تنوع السكان فى مصر إلى تحقيق التنمية فى جميع المجالات الإقتصادية (صح)

٢٢- تبذل الدولة جهود لإستقرار البدو وتحسين مستوى معيشتهم (صح)

٢٣- تعمل الدولة على توفير فرص عمل لسكان الصحارى فى مجال الزراعة والتعدين (صح)

٢٤- تعتبر محافظة الإسكندرية من المحافظات الحضرية (صح)

السؤال الثانى : ما العلاقة بين

١- سكان الحضر والامية .

الإجابة : تنخفض نسبة الامية فى الحضر

٢- سكان الريف والامية .

ترتفع نسبة الامية فى الريف مقارنة بالمدن

٣- تنوع انماط السكان والمجالات الإقتصادية .

تنوع أنماط السكان أدى إلى تحقيق التنمية فى جميع المجالات الإقتصادية

٤- سكان الريف ومبادرة حياة كريمة .

يعانى سكان الريف من انخفاض مستوى المعيشة مما جعل الدولة تطلق مبادرة حياة كريمة لتنمية الريف

السؤال الثالث : حدد الأثر الناتج عن

١ - معاناة سكان الريف من انخفاض مستوى الدخل ومستوى المعيشة

جعل الدولة تطلق مبادرات لتنمية الريف (مبادرة حياة كريمة)

٢ - تنوع سكان مصر؟

١- تبادل المنتجات ٢- التكامل بين السكان ٣- تحقيق التنمية فى جميع المجالات الإقتصادية

٣- زيادة حجم الأسرة في الريف عن المدن؟

تقوم الدولة بجهود لتوعية الشباب بأهمية تنظيم الأسرة وتقليل الإنجاب

٤- هجرة سكان الريف إلى المدن؟

١- زيادة الضغط على الخدمات في المدن

٢- ظهور العشوائيات

٥- كثرة الإنجاب والزواج المبكر في الريف؟ زيادة حجم الأسرة في الريف

السؤال الرابع : فسر ما يلي

١- تعتبر محافظة جنوب سيناء أقل محافظات مصر سكاناً .

بسبب : أ) صعوبة مظاهر السطح ب) ندرة موارد المياه

٢- تعتبر القاهرة أكثر المحافظات مصر سكاناً . لأنها العاصمة

٣- إقامة الدولة مشروع تطوير الريف المصري؟

١- تحقيق التنمية المستدامة والشاملة

٢- تحسين مستوى الخدمات كالتعليم والصحة والبنية الأساسية كالصرف الصحي والطرق

٣- تحسين مستوى الدخل ومستوى المعيشة لسكان الريف

٤- تهتم مصر بعمل تعداد لسكانها كل عشر سنوات؟

لتحديد الخدمات التي يحتاجها السكان

٥- ينخفض مستوى الدخل ومستوى المعيشة في الريف؟

بسبب قلة الخدمات - نقص فرص العمل مما جعل الدولة تطلق مبادرات لتنمية الريف

٦- تقوم الدولة بجهود لتوعية الشباب بأهمية تنظيم الأسرة وتقليل الإنجاب؟

بسبب : زيادة حجم الأسرة في الريف عن الحضر

٧- تنخفض نسبة الأمية بين سكان الحضر

ب (إرتفاع مستوى المعيشة **بسبب** أ) إنتشار المؤسسات التعليمية

٨- تقوم الدولة بتوفير فرص العمل وبناء المساكن للبدو

لإستقرارهم وتحسين مستوى معيشتهم

٩- تهتم مصر بعمل تعداد لسكانها كل عشر سنوات ؟

لتحديد الخدمات التي يحتاجها السكان في الحاضر والمستقبل

السؤال الخامس : إكتب ما تشير إليه العبارة التالية

- ١- السكان الذين يعيشون في القرى ويعملون بالزراعة (سكان الريف)
- ٢- السكان الذين يعيشون في المدن ويعملون بالصناعة والتجارة (سكان الحضر)
- ٣- حصر السكان كل عشر سنوات (التعداد السكاني)
- ٤- سكان مصر الذين تبلغ نسبتهم ٤٢.٤ % (سكان المدن)
- ٥- سكان مصر الذين تبلغ نسبتهم ٥٧.٦ % (سكان القرى)
- ٦- الجهاز المسؤول عن تعداد سكان مصر (الجهاز المركزي للتعبئة العامة والإحصاء)
- ٧- سكان يمثلون نسبة ضئيلة جداً من سكان مصر (البدو)
- ٨- أقل المحافظات المصرية سكاناً (جنوب سيناء)
- ٩- أكثر المحافظات المصرية سكاناً (القاهرة)
- ١٠- الساعة التي تظهر تقديرات سكان مصر (الساعة السكانية)
- ١١- مناطق ظهرت نتيجة هجرة سكان الريف إلى المدن (العشوائيات)

السؤال السادس : صح ما تحته خط

- ١- تعتبر محافظة الغربية من المحافظات الحضرية (القاهرة)
- ٢- البنك المركزي هو المسؤول عن تعداد سكان مصر (الجهاز المركزي للتعبئة العامة والإحصاء)
- ٣- يعيش سكان الحضر في المدن ويعملون بالزراعة الصناعة والسياحة
- ٤- يزداد السكان في الدقهلية لأنها العاصمة (القاهرة)
- ٥- تقوم مصر بعمل تعداد سكانها كل خمس سنوات (عشر سنوات)
- ٦- سكان الريف هم الذين يطلق عليهم اسم البدو (الصحراء)

التراث الثقافي لسكان بلدنا

س ١ أكمل العبارات التالية بكلمات مناسبة :

- ١- يطلق على إحتفال واحة سيوة فى منتصف شهر أكتوبر بعيد السياحة.....
- ٢- يجذب احتفال واحة سيوة السياح لذلك يسمى بـ عيد السياحة.....
- ٣- أنشأت منظمة اليونسكو متحف النوبة..... فى أسوان عام ١٩٧٧
- ٤- يؤدى سكان مدن القناة رقصة فلكلورية تعرف باسم البمبوطية.....
- ٥- يشتهر صعيد مصر بإنشاد السيرة الهلالية..... والتي تقدم على لسان الراوى
- ٦- نشأ فن التحطيب..... فى مصر القديمة وتشتهر به مدن الصعيد
- ٧- يوجد معبد الكرنك فى محافظة الأقصر.....
- ٨- يساهم التراث المصرى فى توفير فرص عمل..... للشباب
- ٩- تم إنشاء متحف السيرة الهلالية فى محافظة قنا..... عام ٢٠١٥
- ١٠- تشمل مدن القناة بورسعيد..... و الإسماعيلية..... و السويس.....
- ١١- يحتفل سكان سيوة..... بعيد حصاد التمور والزيتون فى منتصف شهر أكتوبر من كل عام .
- ١٢- يعد تراث النوبة..... امتدادا الحضارة المصرية القديمة.
- ١٣- من أشهر الآلات الموسيقية المستخدمة فى مدن القناة السمسمة.....
- ١٤- يشتهر سكان مدينة بورسعيد برقصة البمبوطية.....
- ١٥- يشتهر سكان الصعيد..... بإنشاد السيرة الهلالية على أله الربابه.....
- ١٦- أنشأت الدولة متحف السيرة الهلالية فى محافظة قنا..... عام ٢٠١٥

س بم تفسر

١- تنوع التراث الثقافي المصري ؟

بسبب تنوع العادات والتقاليد ومظاهر الإحتفالات والزي والمأكولات والفنون الشعبية وينتج كل هذا من تنوع البيئات

٢ تسمية عيد السياحة بهذا الإسم ؟

لأنه يجذب الكثير من السياح للاحتفال به

٣ إقامة منظمة اليونسكو متحف النوبة ؟ لعرض التاريخ والحضارة النوبية العريقة

٤- حرص النوبيين على ترديد الأغاني التراثية النوبية فى الإحتفالات

لأنها من عاداتهم وتقاليدهم أثناء الإحتفالات - وحرصهم على بقاء وإحياء لغتهم النوبية

٥- إقامة متحف السيرة لهلالية ؟

للحفاظ على تراث السيرة الهلالية الخاصة بأهل الصعيد

٦- أهمية التراث المصرى :

١- تنشيط السياحة

٢- توفير فرص عمل للشباب من خلال إقامة المهرجانات والمعارض

٤- زيادة الدخل القومى

٣- جذب السياح من خلال المتاحف

س دلل على صحة العبارات التالية

١- اللغة النوبية لها دور عظيم فى إنتصار أكتوبر ١٩٧٣

إستخدمها الجيش المصرى كشفرة للتواصل بين قيادته والفرق العسكرية فى سيناء

٢- فن التحطيب له أصول مصرية عريقة

وجود لوحة منقوشة على جدار معبد الكرنك تمثل الإله حورس وهو يعلم الملك أمنحتب الثالث التحطيب

١- تنوع التراث الثقافي المصري – الإقتصاد الوطنى

حيث يعمل التراث الثقافى على تنشيط السياحة وزيادة الدخل القومى وجذب السياح

٢- تنوع التراث الثقافى المصرى – الإقتصاد الوطنى

حيث يعمل التراث الثقافى على تنشيط السياحة وزيادة الدخل القومى وجذب السياح

٣- منظمة اليونسكو – و فن التحطيب

تم إدراج فن التحطيب كفن تراثى عريق على قائمة التراث العالمى لليونسكو منذ ٢٠١٦م

أهم المقارنات

١- عيد السياحة فى سيوة - اليوم العالمى للنوبة

اليوم العالمى للنوبة	عيد السياحة فى سيوة
١- تقام الإحتفالات والمهرجانات ٢- يرتدى السكان الملابس المحلية	١- يرتدى السكان الملابس المحلية ٢- يرددود الأغانى التراثية ٣- يقيمون موائد الطعام

٢- الفنون الشعبية فى مدن القناة – الفنون الشعبية فى صعيد مصر

الفنون الشعبية فى صعيد مصر	الفنون الشعبية فى مدن القناة
يشتهر سكان الصعيد بالعزف على الربابة وإنشاد السيرة الهلالية - يشتهر بفن التحطيب	يشتهر سكان مدن القناة بـ ١- العزف على آلة السمسمية ٢- رقصه البمبوتية الفلكولورية الشعبية

الدرس الثالث نماذج المشكلات الإجتماعية فى بلدنا

س بم تفسر

١ - لوسائل الإعلام دور هام فى خفض نسبة الأمية

من خلال رفع الوعى المجتمعى (فى المجتمع) بأهمية التعليم

١- بناء العديد من المدارس سنويا فى أنحاء الجمهورية.

أ - للإستيعاب الكامل للطلاب ب - منع التسرب ج - خفض الأمية

٢ - أهمية الكتابة عند المصريين القدماء.

حيث استخدمها المصريين القدماء فى تسجيل أخبارهم وأحداثهم وانجازاتهم

٣ - انتشار الأمية فى مصر.

أ - الزيادة السكانية ب - عدم التحاق جميع الأطفال بالمدارس

ج - تسرب بعض التلاميذ من المدارس د - ضعف المستوى الإقتصادى للأسرة

٤ - تآثر الأمية على الفرد والمجتمع تأثيرا سلبيا.

أ - انتشار الجهل والخرافات ب - تقلل فرص العمل

ج - إنتشار البطالة والفقر د- تآثر سلباً على التنمية المستدامة

هـ - تدنى الإقتصاد القومى

٥ - ضرورة محو الأمية المعلوماتية (التكنولوجية).

حيث أننا نعيش فى عصر المعلومات لذا أصبحت القدرة القراءة والكتابة غير كافية للعيش فى هذا العصر

٦- إهتمام المصريين القدماء بالتعليم

ليستطيع الفرد العمل فى مكانة مرموقة فى المجتمع

٧- إعتبرت منظمة اليونسكو اليوم الثامن من سبتمبر اليوم الدولى لمحو الأمية ؟

لتنمية الوعى الدولى بأهمية محو الأمية

س ماذا يحدث إذا

١- لم تقم الدولة ببناء العديد من المدارس

١- إزدحام المدارس ب- تسرب الطلاب من المدارس ج- انتشار الأمية

٢- إرتفعت نسبة الأمية في مصر عما هي عليه الآن

- أ - انتشار الجهل والخرافات
ب - تقلل فرص العمل
ج - إنتشار البطالة والفقر
د- تؤثر سلباً على التنمية المستدامة
هـ - تدنى الإقتصاد القومي

س ما العلاقة بين

١- الأمية وضعف المستوى الإقتصادي للأسرة ؟

ضعف المستوى الإقتصادي للأسرة يؤدي لتسرب الطلاب من التعليم وإنتشار الأمية

٢- الأمية والزيادة السكانية ؟

الزيادة السكانية تؤدي لإرتفاع نسبة الأمية

٣- الأمية وإقتصاد الدولة

إرتفاع نسبة الأمية تؤدي لتدنى إقتصاد الدولة

س ما النتائج المترتبة على

١- الزيادة السكانية في مصر بالنسبة للأمية

الزيادة السكانية تؤدي لإرتفاع نسبة الأمية

٢- تسرب بعض التلاميذ من المدارس

إنتشار الأمية وبالتالي تدنى الإقتصاد القومي

٣- إنتشار الأمية في مصر

- أ - انتشار الجهل والخرافات
ب - تقلل فرص العمل
ج - إنتشار البطالة والفقر
د- تؤثر سلباً على التنمية المستدامة
هـ - تدنى الإقتصاد القومي

٧- وزير هو المسئول عن توفير تعليم متميز للمواطنين

(الزراعة - السياحة - التعليم - الداخلية)

٨- مجلس النواب يمثل السلطة (التنفيذية - التشريعية - القضائية - المحلية)

٩- سلطة مستقلة تتولاها المحاكم المتنوعة هي السلطة

(التشريعية - التنفيذية - القضائية - المحلية)

١٠- جميع ما يلي من مهام رئيس الجمهورية عدا

(رعاة مصالح الشعب - تحقيق أمن المواطن - إختيار ٥% في مجلس النواب - رئاسة الحكومة)

١١- تقوم الحكومة بـ

(إصدار القوانين - تمثيل مصر دولياً - إختيار ٥% في مجلس النواب - ليس كل ما سبق)

س؛ صوب ما تحته خط فيما يلي:

١- يتولى (الوزراء) في مصر مهمة تمثيلها في الداخل والخارج. (رئيس الجمهورية)

٢- يتولى (الوزير) رئاسة الحكومة المصرية في العصر الحالي. (رئيس الوزراء)

٣- يمثل مجلس النواب السلطة (التنفيذية). (التشريعية)

٤- تعتبر السلطة (التشريعية) سلطة مستقلة. (القضائية)

٥- يتشابه منصب (الوزير) في مصر قديماً مع منصب رئيس الجمهورية حالياً. (الملك)

٦- المحافظ يرأس الحكومة ويشرف على أعمالها (رئيس الوزراء)

٧- وزير الصحة هو المسئول عن توفير تعليم متميز للمواطنين (التربية والتعليم)

٨- المحاكم المختلفة تمثل السلطة التشريعية (القضائية)

٩- رئيس الوزراء مسئول عن أمن الوطن ورعاية مصالح الشعب (رئيس الجمهورية)

١٠- السلطة التنفيذية يمثلها مجلس النواب (التشريعية)

س ٥ بم تفسر

١- لرئيس الجمهورية مهام متعددة

- مهامه :** ١- وهو مسئول عن أمن الوطن
٢- رعاية مصالح الشعب
٣- يمثل مصر محلياً ودولياً .

٢- تصدر السلطة القضائية أحكامها وفقاً للقوانين : لينتشر العدل

- ١- **كان الملك في مصر القديمة يعين وزيراً له.** : ليعاون الملك في إدارة شؤون البلاد

٢- أهمية منصب رئيس الوزراء

- ١- الاشتراك مع رئيس الجمهورية في وضع الخطة العامة للدولة
٢- الإشراف على تنفيذ الخطة العامة للدولة
٣- اعداد الموازنة العامة للدولة
٤- اصدار القرارات وفقاً للقانون .

٣- أهمية وجود السلطة القضائية في الدولة. لتصدر الأحكام وفقاً للقوانين ليسود العدل

- ٤- **كان لرؤساء الادارات قديماً دوراً مهماً في الدولة.** كانوا يعاونون الوزير

ماذا يحدث إذا لم؟

١- تعرف مصر القديمة وجود نظام حكم ثابت وقوي.

- أ- لم تحقق مصر القوة والرخاء عبر العصور
ب - لم تقم الحضارة المصرية التى بهر العالم حتى الآن

٢- لم يتم إقتراح مشاريع قوانين عديدة

- أ- سيصبح من الصعب على المحاكم إصدار أحكامها
ب- يصدر رئيس الجمهورية قراراته دون الرجوع للقانون
ج- تقل أهمية مجلس النواب

دليل علي صحة العبارات التالية:

١- يتشابه منصب الملك في مصر القديمة ورئيس الجمهورية حالياً.

حيث من مهامها إدارة شؤون البلاد

٢- تتعدد مهام الحكومة في مصر حالياً

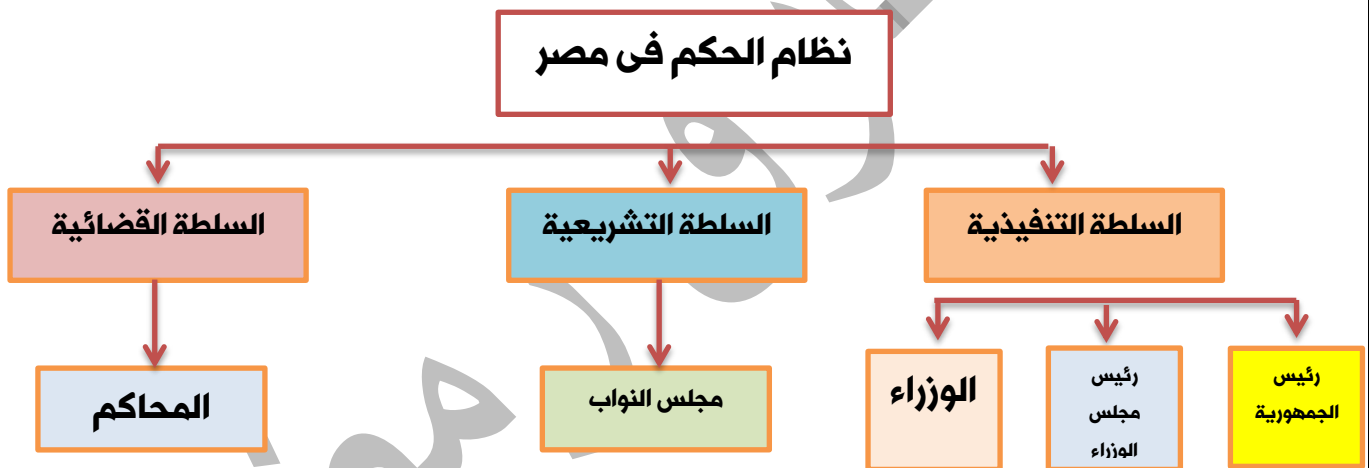
أ - أنها تقوم بإصدار القرارات وفقاً للقانون

ب- تشارك مع رئيس الجمهورية في وضع الخطة العامة للدولة

٣- عرفت مصر القديمة نظام حكم قوى

أنها استطاعت بناء الحضارة المصرية التي مازالت تبهر العالم حتى الآن

س أكمل المخطط التالي :



س من هو :

١- من مهمة الإشتراك مع رئيس الجمهورية في وضع الخطة العامة للدولة (الحكومة)

٢- من مهمة رعاية مصالح الشعب (رئيس الجمهورية)

٣- يتكون من ٥٩٦ عضواً يمثل فئات المجتمع المصري (مجلس النواب)

٤- يرأس الحكومة المصرية (رئيس الوزراء)

٥- له حق إختيار ٥% من أعضاء مجلس النواب (رئيس الجمهورية)

س٣ اختر الإجابة الصحيحة من بين القوسين:

- ١ - يتمثل دور المحافظ في
- (رعاية أبناء المحافظة - الإهتمام بالأمن والنظام - حماية حقوق المواطن - كل ما سبق)
- ٢- يعاون المحافظ في إدارة شئون المحافظة
(مجلس الوزراء - رئيس الجمهورية - المجلس المحلي - مجلس النواب)
- ٣- المشاركة في الأعمال التطوعية للحفاظ على البيئة دور
- (المواطن - المحافظ - المجلس المحلي - مجلس النواب)
- ٤- إذا أردت توصيل الغاز الطبيعي إلى منزلك فإنك سوف تتجه إلى
- (رئيس الجمهورية - رئيس الوزراء - وزير الصحة - المجلس المحلي)
- ٥- من إختصاصات المجلس المحلي في المحافظة
- (معاونة المحافظ - متابعة خطة التنمية في المحافظة - تطوير العشوائيات - كل ما سبق)
- ٦- يتولى مسؤولية حفظ الأمن والنظام وحماية حقوق المواطن في المحافظة
(رئيس الجمهورية - الوزير - المحافظ - رئيس المجلس المحلي)
- ٧- يمثل السلطة التنفيذية في مصر
- (رئيس مجلس النواب - القضاء - رئيس الوزراء)
- ٨- يقابل منصب المحافظ حالياً منصب.....
(الفرعون - الوزير - حاكم الإقليم - الكاهن)
- ٩ - الحفاظ على الأمن في محافظتي من مهام.....
(رئيس الجمهورية - المحافظ - القاضي - رئيس الوزراء)
- ١٠ - متابعة تنفيذ خطط التنمية في محافظة الجيزة من مهام
- (مجلس الوزراء - المجلس المحلي - رئيس الجمهورية - دار القضاء)
- ١١- انقطعت المياه عن محافظة المنوفية لمدة ثلاثة أيام؛ فالشخص المسئول عن متابعة هذه المشكلة وحلها هو.....
(رئيس الجمهورية - المحافظ - المجلس المحلي - رئيس الوزراء)

١٢- إنشاء أسواق جديدة بالمحافظة وتشجيع الشباب على العمل بها من مسؤوليات.....

(رئيس الجمهورية - المجلس المحلي - رئيس الوزراء - المحافظ)

١٣- صيانة وإصلاح شبكات الصرف الصحي بإحدى مدن محافظة الدقهلية هي من مسؤوليات.....

(المحافظ - المجلس المحلي - رئيس الجمهورية - رئيس الوزراء)

١٤- تخصيص مساحة من أرض إحدى المحافظات لاستصلاحها وزراعتها هي من مسؤوليات.

(رئيس الجمهورية - المحافظ - المجلس المحلي - رئيس الوزراء)

س، صوب ما تحته خط:

١ - يقوم (رئيس الوزراء) بتعيين المحافظين. رئيس الجمهورية

٢- يتابع (المجلس المحلي) جودة الخدمات العامة المقدمة لأبناء المحافظة. المحافظ

٣- الإشراف على تنفيذ المشروعات الخدمية والتنمية في محافظتي من مسؤوليات (رئيس الجمهورية).

المحافظ

٤ - يمثل (رئيس الجمهورية) السلطة التنفيذية داخل المحافظة. المحافظ

س٥ حدد الشخص المسئول عن المهام الآتية من بين القائمة:

(المجلس المحلي - المواطن - حاكم الإقليم قديما)

١ - التطوع لتنظيف الشارع الذي أعيش فيه. المواطن

٢- تطوير العشوائيات في المدينة. المجلس المحلي

٣ - مشاركتي مع الجيران في تشجير الحي. المواطن

٤ - يختص بالإشراف على تنفيذ المشروعات بالإقليم. المحافظ

٥- يشرف على صيانة المدارس والمستشفيات. المجلس المحلي

س٦ قارن بين كل من :

١- مهام المحافظ ومهام رئيس الجمهورية

مهام رئيس الجمهورية	مهام المحافظ
١- وهو مسئول عن أمن الوطن	١- <u>حفظ الأمن والنظام</u>
٢- رعاية مصالح الشعب	٢- <u>حماية حقوق الإنسان</u>
٣- يمثل مصر محلياً ودولياً .	٣- <u>متابعة جودة المرافق والخدمات</u>
	٤- <u>الإشراف على تنفيذ المشروعات</u>
	٥- <u>زيادة إنتاج المحافظة</u>
	٦- <u>توفير فرص عمل</u>

٢- حدد أوجه التشابه والاختلاف بين مهام حاكم الإقليم قديماً والمحافظ حالياً في مصر

المحافظ حالياً	حاكم الإقليم قديماً	
١- يحفظ الأمن والنظام	١- يحافظ على الأمن	التشابه
٢- الإشراف على تنفيذ المشروعات	٢- يشرف على المشروعات	
يعينة رئيس الجمهورية	يعينة الملك	الاختلاف

س إكتب ما تشير إليه العبارة

- ١- جهاز تابع للمحافظة يضم مجموعة من العاء الممثلين لسكان المحافظة المجلس المحلي
- ٢- يشارك فى العمال التطوعية لخدمة البيئة التى يعيش فيها المواطن
- ٣- يقوم بتعيين المحافظ رئيس الجمهورية
- ٤- من مهامه حفظ الأمن داخل المحافظة المحافظ
- ٥- من مهامه الإشراف على تنفيذ المشروعات داخل المحافظة المحافظ
- ٦- من مهامه متابعة خطط التنمية فى المحافظة المجلس المحلي

سؤال وإجابة على الوحدة الأولى

السؤال الأول: ضع كلمة (صح) أمام العبارات الصحيحة وكلمة (خطأ) أمام العبارة الخاطئة :

- ١- تقوم مصر بعمل تعداد لسكانها كل خمس سنوات (خطأ) كل عشر سنوات
- ٢- تعد محافظة شمال سيناء أكثر المحافظات المصرية سكاناً (خطأ) جنوب سيناء
- ٣- يختلف توزيع سكان مصر من محافظة إلى أخرى (صح)
- ٤- محافظة الجيزة يزيد عدد سكانها عن ٨ مليون نسمة (صح)
- ٥- يعتبر البنك المركزي هو المسؤول عن إجراء التعداد السكاني (خطأ) الجهاز المركزي للتعبئة العامة والإحصاء
- ٦- تتعدد انماط السكان في مصر (صح)
- ٧- سكان الحضر هم الذين يعملون بالزراعى والرعى (خطأ) الصناعة والتجارة والسياحة
- ٨- تعتبر السويس من المحافظات الحضرية (صح)
- ٩- ترتفع نسبة الأمية بين سكان الحضر (خطأ) تنخفض
- ١٠- ترتفع نسبة الأمية فى الريف مقارنة بالحضر (صح)
- ١١- القاهرة أكثر محافظات مصر سكانها لأنها العاصمة (صح)
- ١٢- ارتفاع مستوى المعيشة من أسباب انخفاض الأمية فى المدن (صح)
- ١٣- تتسبب هجرة سكان المدن إلى الريف إلى ظهور العشوائيات (خطأ) العكس
- ١٤- تقوم الدولة حالياً بتنفيذ المشروع القومى لتطوير العشوائيات (صح)
- ١٥- سكان الريف هم الذين يسكنون المدن ويقومون بحرفة الزراعة (خطأ) يسكنون القرى
- ١٦- نسبة سكان الحضر فى مصر أكبر من نسبة سكان الريف (خطأ) العكس
- ١٧- يزداد متوسط حجم الأسرة فى الحضر عن الريف (خطأ) العكس
- ١٨- يعاني سكان الحضر من مشكلة كثرة الإنجاب والزواج المبكر (خطأ) الريف
- ١٩- تقوم الدولة بالتوعية بتنظيم الأسرة لحل مشكلة الأمية (خطأ)
- ٢٠- ترتفع نسبة البدو فى مصر (خطأ) ضئيلة جداً

- ٢١- أدى تنوع السكان في مصر إلى تحقيق التنمية في جميع المجالات الاقتصادية (صح)
- ٢٢- تبذل الدولة جهوداً لإستقرار البدو وتحسين مستوى معيشتهم (صح)
- ٢٣- تعمل الدولة على توفير فرص عمل لسكان الصحارى في مجال الزراعة والتعدين (صح)
- ٢٤- تعتبر محافظة الإسكندرية من المحافظات الحضرية (صح)
- ٢٥- تعتبر رقصة (البمبوطية) رقصة شعبية عند أهل الصعيد خطأ
- ٢٦- تم إنشاء متحف النوبة في أسوان صح
- ٢٧- السيرة الهلالية تنتشر في مدن القناة خطأ
- ٢٨- يعبر التراث الثقافى عن كل ما تركه لنا الأجداد صح
- ٢٩- ينفرد أهل النوبة بالتحدث باللغة الإنجليزية خطأ
- ٣٠- تعتبر لعبة التحطيب وسيلة ترفية عند أهل الصعيد صح
- ٣١- يساهم التراث الثقافى في تنشيط السياحة صح
- ٣٢- يمثل التراث النوبى جزءاً أصيلاً من مكونات الهوية المصرية صح
- ٣٣- يحتفل سكان واحة سيوة بعيد حصاد التمور والزيتون في منتصف شهر يناير من كل عام خطأ
- ٣٤- أنشأت منظمة اليونسكو متحف النوبة في محافظة قنا خطأ
- ٣٥- تعتبر الإسكندرية من مدن القناة خطأ
- ٣٦- تشتهر القاهرة بإنشاد السيرة الهلالية خطأ
- ٣٧- تم إدراج فن التحطيب على قائمة التراث العالمى لليونسكو منذ عام ٢٠١٦ - صح
- ٣٨- توجد لوحة مرسومة في معبد الكرنك تمثل تعليم فن التحطيب صح
- ٣٩- يساهم التراث المصرى في تنشيط السياحة صح
- ٤٠- يتشابه أهل سيناء مع أهل واحة سيوة في اللهجة خطأ
- ٤١- تنشط السياحة في واحة سيوة في شهر أكتوبر. صح
- ٤٢- يحتفل النوبيون باليوم العالمى للنوبة مي شهر يوليو من كل عام. صح
- ٤٣- يرجع فن التحطيب إلى المصريين القدماء. صح
- ٤٤- تساهم منظمة اليونسكو في الحفاظ على التراث المصرى والعالمي. صح
- ٤٥- اعتاد سكان محافظة الإسماعيلية على إنشاد السيرة الهلالية على أصوات الربابة. خطأ

- ٤٦ - ساهمت اللغة النوبية في انتصار الجيش المصري في حرب أكتوبر ١٩٧٣م. **صح**
- ٤٧ - الأكلات الشعبية جزء من التراث الثقافي والهوية الوطنية المصرية. **صح**
- ٤٨ - يساعد تنوع التراث الثقافي المصري على زيادة الدخل القومي. **صح**
- ٤٩ - أنشأت الدولة العديد من المدارس لإستيعاب الأطفال ومواجهة التسرب **(صح)**
- ٥٠ - يرجع إنتشار الأمية في مصر إلى الزيادة السكانية **(صح)**
- ٥١ - تأتي محافظة بنى سويف فى مقدمة المحافظات التى تنخفض بها نسبة الأمية **(خطأ)**
- ٥٢ - الأمية هى معرفة الفرد للقرأة والكتابة **(خطأ)**
- ٥٣ - أنشأت الدولة الهيئة العامة لتعليم الكبار ومحو الأمية عام ١٩٩٢ **(صح)**
- ٥٤ - من أسباب زيادة الأمية قلة عدد المدارس **(خطأ)**
- ٥٥ - أنشأت الدولة العديد من المدارس لمحاربة الأمية **(صح)**
- ٥٦ - تعتبر الأمية مشكلة إقتصادية تعاني منها مصر **(خطأ)** مشكلة إجتماعية
- ٥٧ - تحتفل منظمة اليونسيف باليوم الدولى لمحو الأمية ٨ سبتمبر **(خطأ)** اليونسكو
- ٥٨ - تعتبر محافظة بورسعيد من المحافظات التى ترتفع بها نسبة الأمية **(خطأ)** المنيا
- ٥٩ - تؤدي الأمية إلى إنتشار البطالة **(صح)**
- ٦٠ - للأمية تأثيرها الإيجابى على برامج التنمية المستدامة **(خطأ)** سلبي
- ٦١ - كان المصريون القدماء يقومون بالكتابة على ورق البردى **(صح)**
- ٦٢ - كانت جامعة أون أول جامعة فى التاريخ **(صح)**
- ٦٣ - تتصدر الزيادة السكانية أسباب انتشار الأمية فى مصر. **(صح)**
- ٦٤ - ينتشر الجهل والخرافات نتيجة لعدم الاهتمام بالتعليم. **(صح)**
- ٦٥ - ترتفع نسبة البطالة بين الإناث عن الذكور. **(صح)**
- ٦٦ - تقتصر الأمية على عدم معرفة الفرد للكتابة **(خطأ)** عدم معرفة القرأة والكتابة
- ٦٧ - تزداد مشكلتى الأمية والبطالة فى الريف عن الحضر **(خطأ)** البطالة فى المدن أكثر من الريف
- ٦٨ - يأتي إنشاء المدارس كأحد جهود الدولة فى القضاء على الأمية فى مصر. **(صح)**
- ٦٩ - الأمية المعلوماتية تعني عدم قدرة الفرد على تشغيل الأجهزة التكنولوجية. **(صح)**
- ٧٠ - تعتبر جامعة أون هى أول جامعة فى التاريخ. **(صح)**
- ٧١ - تزداد نسبة الأمية بين الذكور عن الإناث وخاصة فى الريف **(خطأ)**

- ٧٢- يقتصر تأثير الأمية السلبي على الفرد (خطأ) على الفرد والمجتمع
- ٧٣ يعمل كلاً من رئيس الدولة الحكومة وفق قوانين ملزمة صح
- ٧٤- تعد مصر من أقدم الدول التي وضعت نظاماً للحكم صح
- ٧٥- من مهام السلطة القضائية إصدار الأحكام في ضوء القانون صح
- ٧٦- تعمل الدولة على تمثيل المرأة والشباب في المجالس النيابية صح
- ٧٧- يتكون مجلس النواب من ٥٩٦ عضواً صح
- ٧٨- تتمثل السلطة التنفيذية في رئيس مجلس الوزراء والوزراء والقضاة خطأ
- ٧٩- تتمثل السلطة التشريعية في رئيس مجلس الوزراء والوزراء والقضاة خطأ
- ٨٠- رئيس الجمهورية يتولى الرئاسة عن طريق التصويت له في إنتخابات عامة صح
- ٨١- يشترك رئيس الجمهورية مع الحكومة في وضع الخطة العامة للدولة صح
- ٨٢- وزير الصحة مسئول عن توفير تعليم متميز للمواطنين خطأ
- ٨٣- مجلس النواب هو الذى يسن القوانين فى الدولة صح
- ٨٤- السلطة القضائية تتولاها الحكومة صح
- ٨٥- رئيس الوزراء مسئول عن أمن الوطن الوطن ورعاية مصالح الشعب خطأ
- ٨٦- عرفت مصر قديما وجود نظام سياسي ثابت وقوي. صح
- ٨٧- يتولى رئيس مجلس النواب رئاسة الحكومة. خطأ
- ٨٨- يقابل منصب الملك قديما منصب رئيس الوزراء حاليا. خطأ
- ٨٩- يتولى رئيس الجمهورية رئاسة الحكومة. خطأ
- ٩٠- ساعد وجود نظام سياسي في مصر القديمة على بناء حضارة قوية استمرت آلاف السنين. صح
- ٩١- للتشريع بأي قانون جديد لابد عن موافقة ثلث أعضاء مجلس النواب خطأ ثلثي
- ٩٢- من مهام الرئيس عبد الفتاح السيسي تمثيل مصر في المؤتمرات دوليا ومحليا. صح
- ٩٣- كل اعضاء مجلس النواب يتم انتخابهم. خطأ ٥ % يقوم الرئيس بتعيينهم
- ٩٤- تقتصر مهمه رئيس الجمهورية على تمثيل مصر محلياً ودولياً خطأ
- ٩٥- يمثل مجلس النواب فئات المجتمع المصرى صح
- ٩٦- تعتبر السلطة القضائية سلطة مستقلة صح
- ٩٧- صوت المواطن الإنتخابى يساعد فى تكوين مستقبل مصر صح

- ٩٨- تصدر السلطة القضائية أحكامها وفقاً للقوانين التي أصدرتها السلطة التشريعية **صح**
- ٩٩- من مهام السلطة القضائية الإشراف على عمل الحكومة **خطأ**
- ١٠٠- من مهام السلطة القضائية إصدار القوانين **خطأ**
- ١٠١- المحافظ يتم تعيينه من قبل رئيس الوزراء **خطأ**
- ١٠٢- يمثل المحافظ السلطة التنفيذية داخل المحافظة **صح**
- ١٠٣- ليس للمواطن دور في تطوير المحافظة **خطأ**
- ١٠٤- المجلس المحلي يعاون المحافظ في إدارة شئون المحافظة **صح**
- ١٠٥- المجلس النيابي هو مجلس تابع للمحافظة ويتكون من عدة أعضاء **خطأ**
- ١٠٦- يشرف المجلس المحلي على صيانة المدارس والمستشفيات في محافظتي . **صح**
- ١٠٧- يجب على المواطن الإهتمام بتطوير محافظة **صح**
- ١٠٨- يمثل المحافظ السلطة القضائية في المحافظة **خطأ**
- ١٠٩- يتم إنتخاب المجلس المحلي لمدة خمس سنوات **خطأ**
- ١١٠- كل مواطن له دور في تحسين محافظته وتطويرها. **صح**
- ١١١- متابعة تطوير العشوائيات منطقة السيدة زينب بالقاهرة من مسؤولية المحافظ. **صح**
- ١١٢- يتم انتخاب المجلس المحلي بالمحافظة كل ست سنوات. **خطأ**
- ١١٣- يمكن لسكان محافظة المنيا الترشح للمجلس المحلي بمحافظة القاهرة. **خطأ**
- ١١٤- كل محافظ يتابع تنفيذ المشروعات القومية في محافظته. **صح**
- ١١٥- يتشابه حكام الأقاليم قديماً والمحافظون حالياً في بعض المهام المكلفين بها. **صح**
- ١١٦- يجب أن يكون في المجلس المحلي ممثلون عن الشباب والمرأة. **صح**
- ١١٧- اهتمامي بمذاكرتي يساعد في تطوير محافظتي. **صح**

السؤال الثاني : فسر ما يلي

١- تعتبر محافظة جنوب سيناء أقل محافظات مصر سكاناً .

بسبب : أ) صعوبة مظاهر السطح ب) ندرة موارد المياه

٢- تعتبر القاهرة أكثر المحافظات مصر سكاناً . لأنها العاصمة

٣- إقامة الدولة مشروع تطوير الريف المصرى ؟

١- تحقيق التنمية المستدامة والشاملة

٢- تحسين مستوى الخدمات كالتعليم والصحة والبنية الأساسية كالصرف الصحى والطرق

٣- تحسين مستوى الدخل ومستوى المعيشة لسكان الريف

٤- تهتم مصر بعمل تعداد لسكانها كل عشر سنوات ؟

لتحديد الخدمات التى يحتاجها السكان

٥- ينخفض مستوى الدخل ومستوى المعيشة فى الريف ؟

بسبب قلة الخدمات - نقص فرص العمل مما جعل الدولة تطلق مبادرات لتنمية الريف

٦- تقوم الدولة بجهود لتوعية الشباب بأهمية تنظيم الأسرة وتقليل الإجاب ؟

بسبب : زيادة حجم الأسرة فى الريف عن الحضر

٧- تنخفض نسبة الأمية بين سكان الحضر

بسبب أ) إنتشار المؤسسات التعليمية ب) إرتفاع مستوى المعيشة

٨- تقوم الدولة بتوفير فرص العمل وبناء المساكن للبدو

لإستقرارهم وتحسين مستوى معيشتهم

٩- تهتم مصر بعمل تعداد لسكانها كل عشر سنوات ؟

لتحديد الخدمات التى يحتاجها السكان فى الحاضر والمستقبل

١٠- تنوع التراث الثقافي المصري ؟

بسبب تنوع العادات والتقاليد ومظاهر الإحتفالات والزي والمأكولات والفنون الشعبية وينتج كل هذا من تنوع البيئات

١١- تسمية عيد السياحة بهذا الإسم ؟

لأنه يجذب الكثير من السياح للإحتفال به

١٢- إقامة منظمة اليونسكو متحف النوبة ؟ لعرض التاريخ والحضارة النوبية العريقة

١٣- حرص النوبيين على ترديد الأغاني التراثية النوبية فى الإحتفالات

لأنها من عاداتهم وتقاليدهم أثناء الإحتفالات - وحرصهم على بقاء وإحياء لغتهم النوبية

١٤- إقامة متحف السيرة لهلالية ؟

للحفاظ على تراث السيرة الهلالية الخاصة بأهل الصعيد

١٥- أهمية التراث المصري :

١- تنشيط السياحة

٢- توفير فرص عمل للشباب من خلال إقامة المهرجانات والمعارض

٣- جذب السياح من خلال المتاحف

٤- زيادة الدخل القومى

١٦- لوسائل الإعلام دور هام فى خفض نسبة الأمية

من خلال رفع الوعى المجتمعى (فى المجتمع) بأهمية التعليم

١٧- بناء العديد من المدارس سنويا فى أنحاء الجمهورية.

أ - للإستيعاب الكامل للطلاب

ب - منع التسرب

ج - خفض الأمية

١٨- أهمية الكتابة عند المصريين القدماء.

حيث استخدمها المصريين القدماء فى تسجيل أخبارهم وأحداثهم وانجازاتهم

١٩- انتشار الأمية فى مصر.

أ - الزيادة السكانية

ب - عدم التحاق جميع الأطفال بالمدارس

ج - تسرب بعض التلاميذ من المدارس

د - ضعف المستوى الإقتصادى للأسرة

أ / طارق رمضان

٢٠- تؤثر الأمية على الفرد والمجتمع تأثيراً سلبياً.

- أ - انتشار الجهل والخرافات
ب - تقلل فرص العمل
ج - إنتشار البطالة والفقر
د- تؤثر سلباً على التنمية المستدامة
هـ - تدنى الإقتصاد القومى

٢١- ضرورة محو الأمية المعلوماتية (التكنولوجية).

حيث أننا نعيش فى عصر المعلومات لذا أصبحت القدرة القراءة والكتابة غير كافية للعيش فى هذا العصر

٢٢- إهتمام المصريين القدماء بالتعليم

ليستطيع الفرد العمل فى مكانة مرموقة فى المجتمع

٢٣- إعتبرت منظمة اليونسكو اليوم الثامن من سبتمبر اليوم الدولى لمحو الأمية ؟

لتنمية الوعى الدولى بأهمية محو الأمية

٢٤- لرئيس الجمهورية مهام متعددة

- مهامه :** ١- وهو مسئول عن أمن الوطن
٢- رعاية مصالح الشعب
٣- يمثل مصر محلياً ودولياً .

٢٥- تصدر السلطة القضائية أحكامها وفقاً للقوانين : لينتشر العدل

٢٦- كان الملك فى مصر القديمة يعين وزيراً له. : ليعاون الملك فى إدارة شؤون البلاد

٢٧- أهمية منصب رئيس الوزراء

١- الاشتراك مع رئيس الجمهورية فى وضع الخطة العامة للدولة

٢- الإشراف على تنفيذ الخطة العامة للدولة

٣- اعداد الموازنة العامة للدولة

٤- اصدار القرارات وفقاً للقانون .

٢٨- أهمية وجود السلطة القضائية فى الدولة. لتصدر الأحكام وفقاً للقوانين ليسود العدل

٢٩- كان لرؤساء الادارات قديماً دوراً مهم فى الدولة. كانوا يعاونون الوزير

السؤال الثالث : ما العلاقة بين

١- سكان الحضر والامية .

الإجابة : تنخفض نسبة الامية فى الحضر

٢- سكان الريف والامية .

ترتفع نسبة الامية فى الريف مقارنة بالمدن

٣- تنوع انماط السكان والمجالات الاقتصادية .

تنوع أنماط السكان أدى إلى تحقيق التنمية فى جميع المجالات الاقتصادية

٤- سكان الريف ومبادرة حياة كريمة .

يعانى سكان الريف من انخفاض مستوى المعيشة مما جعل الدولة تطلق مبادرة حياة كريمة لتنمية الريف

٥- تنوع التراث الثقافى المصرى - الإقتصاد الوطنى

حيث يعمل التراث الثقافى على تنشيط السياحة وزيادة الدخل القومى وجذب السياح

٦- تنوع التراث الثقافى المصرى - الإقتصاد الوطنى

حيث يعمل التراث الثقافى على تنشيط السياحة وزيادة الدخل القومى وجذب السياح

٧- منظمة اليونسكو - و فن التحطيب

تم إدراج فن التحطيب كفن تراثى عريق على قائمة التراث العالمى لليونسكو منذ ٢٠١٦م

٨- الامية وضعف المستوى الإقتصادى للأسرة ؟

ضعف المستوى الإقتصادى للأسرة يؤدى لتسرب الطلاب من التعليم وإنتشار الامية

٩- الامية والزيادة السكانية ؟

الزيادة السكانية تؤدى لإرتفاع نسبة الامية

١٠- الامية وإقتصاد الدولة إرتفاع نسبة الامية تؤدى لتدنى إقتصاد الدولة

السؤال الرابع : إكتب ما تشير إليه العبارة التالية

- ١- السكان الذين يعيشون فى القرى ويعملون بالزراعة (سكان الريف)
- ٢- السكان الذين يعيشون فى المدن ويعملون بالصناعة والتجارة (سكان الحضر)
- ٣- حصر السكان كل عشر سنوات (التعداد السكانى)
- ٤- سكان مصر الذين تبلغ نسبتهم ٤٢.٤ % (سكان المدن)
- ٥- سكان مصر الذين تبلغ نسبتهم ٥٧.٦ % (سكان القرى)
- ٦- الجهاز المسئول عن تعداد سكان مصر (الجهاز المركزى للتعبئة العامة والإحصاء)
- ٧- سكان يمثلون نسبة ضئيلة جداً من سكان مصر (البدو)
- ٨- أقل المحافظات المصرية سكاناً (جنوب سيناء)
- ٩- أكثر المحافظات المصرية سكاناً (القاهرة)
- ١٠- الساعة التى تظهر تقديرات سكان مصر (الساعة السكانية)
- ١١- مناطق ظهرت نتيجة هجرة سكان الريف إلى المدن (العشوائيات)

س من هو :

- ١- من مهمة الإشتراك مع رئيس الجمهورية فى وضع الخطة العامة للدولة (الحكومة)
- ٢- من مهمة رعاية مصالح الشعب (رئيس الجمهورية)
- ٣- يتكون من ٥٩٦ عضواً يمثل فئات المجتمع المصرى (مجلس النواب)
- ٤- يرأس الحكومة المصرية (رئيس الوزراء)
- ٥- له حق إختيار ٥% من أعضاء مجلس النواب (رئيس الجمهورية)

- ٣٦- ترتبط الأمية بمشككتي البطالة و.....**الفقر**.....
- ٣٧- اخترع المصريون القدماء الكتابة.....**الهيروغليفية**.....
- ٣٨- الأمية المعلوماتية هي عدم القدرة على تشغيل.....**الأجهزة الإلكترونية**..... والوصول الي.....**المعلومات**.....
- ٣٩- أعلى محافظات مصر في الأمية هي محافظة.....**المنيا**..... و اقل محافظة هي...**البحر الأحمر**....
- ٤٠- تعتبر جامعة.....**أون**..... أول جامعة فى التاريخ
- ٤١- كان المصريون القدماء يقومون بالكتابة على ورق.....**البردى**.....
- ٤٢- من مهام.....**رئيس الجمهورية**..... العمل على امن الوطن
- ٤٣- الحكومة المصرية المسؤولة مع رئيس الجمهورية عن إدارة.....**شؤون الدولة**.....
- ٤٤- رئيس الجمهورية ورئيس الوزراء و الوزراء يمثلون السلطة.....**التنفيذية**.....
- ٤٥- تشترك الحكومة مع رئيس الجمهورية فى وضع الخطة.....**العامة للدولة**.....
- ٤٦- رئيس مجلس الوزراء يرأس الحكومة ويشرف على.....**تنفيذ الخطة العامة للدولة**.....
- ٤٧- وزير التربية والتعليم مسؤل عن توفير.....**تعليم**..... متميز للمواطنين
- ٤٨- مجلس النواب يقوم بسن.....**القوانين**..... فى الدولة
- ٤٩- السلطة القضائية تتولاها.....**المحاكم**..... المتنوعة
- ٥٠- يتولى رئيس الجمهورية الرئاسة عن طريق.....**التصويت**..... فى إنتخابات عامة
- ٥١- يعد.....**رئيس الجمهورية**..... هو المسؤل عن أمن الوطن ورعاية مصالح الشعب
- ٥٢- تقوم.....**الحكومة**..... بإعداد الموزانة العامة للدولة
- ٥٣- يقوم.....**رئيس الوزراء**..... برئاسة الحكومة ويشرف على أعمالها
- ٥٤- يعتبر.....**الوزير**..... هو المسؤل عن إدارة مجال واحد من مجالات الحياة اليومية فى مصر
- ٥٥- الاشراف علي تنفيذ الخطة العامة للدولة من مهام.....**الحكومة**.....

- ٥٦- يتولى رئاسة الحكومة ويقابل منصبه منصب الوزير في مصر قديماً هو... **رئيس الوزراء**.....
- ٥٧- تعتبر السلطة.... **القضائية**..... سلطه مستقلة
- ٥٨- الوظيفة الحالية المقابلة لوظيفة الملك قديماً هي... **رئيس الجمهورية**.....
- ٥٩- مجلس النواب المسئول عن سن **القوانين**.....
- ٦٠- المسئول عن إدارة التعليم وتطوير هو وزير... **التربية والتعليم**.....
- ٦١- مجلس..... **النواب**..... هو المسئول عن وضع القوانين فى الدولة
- ٦٢- تتعاون..... **الحكومة**..... مع رئيس الجمهورية فى إدارة شئون البلاد
- ٦٣- الموازنه العامة للدولة هى **تحديد الأموال اللازمة لتنفيذ الخطة العامة**.....
- ٦٤- الخطة العامة للدولة هى **الخطوات اللازمة للوصول لهدف مستقبلى**.....
- ٦٥-..... **حاكم الإقليم**..... قديماً يقابل منصب المحافظ حالياً
- ٦٦-... **المجلس المحلى**... هو جهاز تابع للمحافظة يضم مجموعة من الأعضاء يمثلوا سكان المحافظة
- ٦٧- يهتم المجلس المحلى بمتابعة مشروعات التخطيط العمرانى وتطوير... **العشوائيات**.....
- ٦٨- عمل معرض توظيفي لتوفير فرص عمل فى محافظتي من مهام..... **المحافظ**.....
- ٦٩- يمثل المحافظ السلطة..... **التنفيذية**..... داخل المحافظة
- ٧٠- عدد المحافظات المصرية..... **٢٧**..... محافظة
- ٧١- المحافظ يتم تعيينه من قبل..... **رئيس الجمهورية**.....
- ٧٢- يتولى المحافظ مسؤولية حفظ الأمن و..... **والنظام داخل المحافظة**.....
- ٧٣- يعاون المحافظ عدد كبير من الأشخاص والهيئات ومنها..... **المجلس المحلى**.....
- ٧٤- يتابع المجلس المحلى خطط التنمية كمشروعات التخطيط... **العمرانى**... وتطوير... **العشوائيات**....
- ٧٥- تقل الجرائم فى محافظتي بسبب الحفاظ علي..... **الأمن**.....

- ٧٦- الاشراف علي تنفيذ الخطط القومية للتنمية من مسؤوليات ...المجلس المحلي.....
- ٧٧- الاشراف علي تنفيذ المشروعات بالاقليم قديما من واجبات ...حاكم الإقليم.....
- ٧٨- التطوع لخدمة المحافظة من واجباتك كمواطن.....
- ٧٩- متابعة تنفيذ خطط التنمية بالمحافظة من واجبات المجلس...المحلي.....
- ٨٠- يمثل المحافظ السلطة.....التنفيذية.....بالمحافظة
- ٨١- يتابع المحافظ جوده الخدمات العامة مثل...التعليم.....و...الصحة.....

س ما النتائج المترتبة على

١- الزيادة السكانية في مصر بالنسبة للأمية

الزيادة السكانية تؤدي لإرتفاع نسبة الأمية

٢- تسرب بعض التلاميذ من المدارس

إنتشار الأمية وبالتالي تدنى الإقتصاد القومي

٣- إنتشار الأمية في مصر

أ - انتشار الجهل والخرافات

ج - إنتشار البطالة والفقر

هـ - تدنى الإقتصاد القومي

ب - تقلل فرص العمل

د- تؤثر سلباً على التنمية المستدامة

الطارق

في

الدراسات الإجتماعية

الصف الرابع الإبتدائي

الوحدة الثانية

سؤال وإجابة

إعداد

أ / طارق رمضان

الدرس الأول : تراثنا الوطني

السؤال الأول : اكمل العبارات التالية

- ١- من المحميات الطبيعية فى مصر ... الغابة المتحجرة ... و ... وادى الريان ... و ... رأس محمد
- ٢- يشمل التراث الثقافى كلاً من ... الحرف التراثية ... و ... العادات والتقاليد ... و ... الأماكن السياحية الأثرية
- ٣- من مناطق التراث الطبيعى فى مصر محمية رأس محمد و وادى الريان
- ٤- توجد محمية الغابة المتحجرة فى شرق حى المعادى وتظهر على شكل ... قطع صخرية ذات مقاطع أسطوانية تمثل أشجار متحجرة
- ٥- ساعدت منظمة اليونسكو على ترميم مدينة صنعاء فى اليمن
- ٦- تعمل الدولة على تعريف المواطنين بالتراث الطبيعى والثقافى وذلك لتنمية .. الإنتماء للمواطن
- ٧- الوادى الملون فى سيناء ومحمية وادى الريان بالفيوم من مواقع التراث الطبيعى
- ٨- تعمل السياحة على زيادة الدخل القومى للدولة
- ٩- تعد قلعة صلاح الدين من انواع التراث الثقافى
- ١٠- تعمل منظمة اليونسكو على حماية التراث الثقافى والطبيعى
- ١١- بنى المصريين القدماء الكثير من المعابد والاهرامات وهى تعد تراثاً ثقافياً
- ١٢- تتمتع محمية رأس محمد بالشواطئ المرجانية والاسماك الملونة
فهى بذلك تعد تراثاً طبيعياً
- ١٣- مكان اثري انشئ بغرض تأمين خليج العقبة والبحر الأحمر من الاعداء يسمى ... قلعة صلاح الدين ...
- ١٤- من الحيوانات البرية النادرة الموجودة فى وادى ريان ... الثعالب ... و ... الغزلان

- ١٥- يحتفل العالم كل عام يوم ١٨ من ابريل باليوم العالمي لـ.....**يوم التراث العالمي**.....
- ١٦- شيد صلاح الدين...**سور مجرى العيون**..... لتوصيل مياه نهر النيل عبر السواقي الي القلعة
- ١٧- يمكننا مشاهدة الاشجار المتحجرة التي علي شكل قطع صخرية في محمية...**الغابة المتحجرة**...
- ١٨- توجد محمية الصحراء البيضاء فى **الوادي الجديد**
- ١٩- خصصت منظمة اليونسكو يوم **١٨ ابريل** من كل عام ليكون يوم التراث العالمي
- ٢٠- تمثل عادات وتقاليد الشعوب نوعاً من انواع التراث **الثقافى**
- ٢١- توجد قلعة صلاح الدين فى مدينة **طابا** بمحافظة جنوب سيناء
- ٢٢- أنشأ صلاح الدين قلعته فى طابا لتأمين خليج **العقبة** والبحر الأحمر من الأعداء
- السؤال الثانى: اكتب كلمة (صواب) أمام العبارة الصحيحة، وكلمة (خطأ) أمام العبارة غير الصحيحة مما يلي.**

- ١ - مسجد احمد بن طولون فى القاهرة هو صورة من صور التراث الطبيعى (خطأ) التراث الثقافى
- ٢- تعد الأهرامات والمعابد والكنائس والمساجد من التراث الثقافى (صح)
- ٣- تشتهر محافظة جنوب سيناء بمحمية رأس محمد (صح)
- ٤- تعمل السياحة على تقليل الدخل القومى للدولة (خطأ)
- ٥- زيارة السائحين لمعبد الأقصر، تعد زيارة لمنطقة تراث طبيعى. (خطأ)
- ٦ - سور مجرى العيون يعد منطقة تراث طبيعى. (خطأ) التراث الثقافى
- ٧ - خصصت منظمة اليونسيف يوما عالميا للتراث للتوعية بحماية تراث العالم. (خطأ) اليونسكو
- ٨ - توجد الأشجار المتحجرة فى محمية الصحراء البيضاء. (خطأ)
- ٩ - تشمل مناطق التراث الثقافى القلاع والمساجد والكنائس والأديرة. (صح)
- ١٠- لا تهتم منظمة اليونسكو بالأماكن التراثية المهددة بالخطر (خطأ)
- ١١- تضم محمية وادي الريان الكثير من الحيوانات النادرة. (صح)
- ١٢ - تعتبر قلعة صلاح الدين فى طابا ذات موقع استراتيجى متميز. (صح)
- ١٣- تم تخصيص يوم ٢٥ ابريل من كل عام ليكون يوم التراث العالمي (خطأ) ١٨ ابريل

- ١٤- تعتبر الصناعات والحرف التراثية من التراث الثقافى (صح)
- ١٥- لا تعتبر الأماكن السياحية والأثرية ذات القيمة العظيمة من التراث الثقافى (خطأ)
- ١٦- تعتبر محمية وادى الريان من التراث الطبيعى (صح)
- ١٧- بُنيت قلعة صلاح الدين فى أسوان لحماية الطرق البرية والبحرية فى مصر (خطأ)
- ١٨- تحتوى محمية الغابة المتحجرة على مجموعة من الحيوانات المتحجرة (خطأ) الأشجار
- ١٩- تُعد قائمة التراث العالمى قائمة مهمة لجميع دول العالم (صح)
- ٢٠- تساعد السياحة على زيادة الدخل القومى للدولة (صح)

السؤال الثالث : اختر الإجابة الصحيحة مما بين القوسين

- ١ - تعد قلعة صلاح الدين فى طابا من الأماكن الثقافية فى مصر
(التراثية - الطبيعية - العلمية - الميدانية)
- ٢- تعد محمية وادى الريان من أهم المعالم السياحية فى محافظة
(أسوان - الفيوم - القاهرة - جنوب سيناء)
- ٣- توجد قلعة صلاح الدين فى جزيرة فرعون فى مدينة
(مطروح - القاهرة - طابا - العريش)
- ٤- يعد يوم ١٨ إبريل من كل عام هو يوم العالمى
(الشفاء - الصحة - التراث - السياحة)
- ٥- إذا أردت معرفة مناطق التراث الطبيعى والثقافى فى بلدك فإنك ترجع إلى
(منظمة اليونسكو - منظمة اليونيسيف - منظمة الصحة العالمية - منظمة الفاو)
- ٦- تنتشر فى مصر العديد من الأماكن ذات التراث الطبيعى مثل
(قلعة صلاح الدين - الأهرامات - القلاع - محمية رأس محمد)
- ٧- محمية الغابة المتحجرة من الأماكن السياحية وتوجد فى محافظة
(القاهرة - أسوان - الأقصر - الإسكندرية)

- ٨- من المعالم الأثرية فى محافظة الفيوم محمية
- (رأس محمد - الوادى الملون - **وادى الريان** - الصحراء البيضاء)
- ٩- تشتهر محمية رأس محمد فى جنوب سيناء وبها
- (الآثار التاريخية - **الشعاب المرجانية** - القلاع - الحصون)
- ١٠- إذا أردت القيام برحلة لزيارة إحدى مناطق التراث الطبيعي فى جنوب سيناء فإنك ستتوجه إلى محمية
- (**رأس محمد** - وادى الريان - وادى الحيتان - الغابة المتحجرة)
- ١١- توجد محمية الغابة المتحجرة فى محافظة
- (الفيوم - الوادى الجديد - **القاهرة** - جنوب سيناء)
- ١٢- تُعرف منظمة الأمم المتحدة للتربية والعلوم والثقافة بمنظمة
- (**اليونسكو** - اليونيسيف - الفاو - الأوبك)
- ١٣- كانت مياه النيل تصل إلى قلعة صلاح الدين القاهرة عن طريق
- (**سور مجرى العيون** - ترعة بحر يوسف - ترعة الإسماعيلية - القناطر الخيرية)
- ١٤- تم تخصيص يوم من كل عام ليكون يوم التراث العالمى
- (٢٥ إبريل - ١٨ إبريل - ٢١ مارس - ٢١ ديسمبر)
- ١٥- من أمثلة التراث الثقافى (**الأهرامات** - نهر النيل - واحة سيوة - محمية رأس محمد)
- ١٦- من أمثلة التراث الثقافى قلعة فى محافظة جنوب سيناء
- (قايتباى - الجبل - **صلاح الدين** - قمنه)
- ١٧- توجد مجموعة من الأشجار المتحجرة على شكل قطع صخرية فى محمية
- (وادى الريان - **الغابة المتحجرة** - رأس محمد - وادى الحيتان)
- ١٨- تساهم منظمة اليونسكو فى ترميم مدينة صنعاء القديمة بدولة
- (سوريا - السعودية - **اليمن** - لبنان)

السؤال الرابع: صوب ما تحته خط فيما يلي:

- ١- توجد قلعة صلاح الدين فى مدينة طابا فى شمال سيناء (جنوب)
- ٢- توجد فى محافظة الفيوم محمية الغابة المتحجرة (وادى الريان)
- ٣- يقع مسجد أحمد بن طولون فى محافظة الفيوم (القاهرة)

٤- توجد محمية الصحراء البيضاء عند التقاء خليج السويس وخليج العقبة (رأس محمد)

٥- يعد مسجد احمد بن طولون من التراث (الطبيعى) (الثقافى)

٦- توجد السلاحف البحرية في محمية (الغابة المتحجرة). رأس محمد

٧- تقع محمية الغابة المتحجرة في محافظة القاهرة وتحديدًا شرق حي (السلام) (المعادى)

٨- شيد صلاح الدين قلعة بجنوب سيناء على جزيرة (شرم الشيخ) (فرعون)

السؤال الخامس : بم تفسر

١ - تشييد سور مجرى العيون قديماً.

ليحمل المياه التي ترفعها السوقى من النيل إلى قلعة صلاح الدين فى القاهرة

٢ - أهمية قلعة صلاح الدين فى طابا.

١- حماية الطرق البحرية والبرية بين مصر وجيرانها ٢- تأمين خليج العقبة و البحر الأحمر من الأعداء

٣- اهتمام منظمة اليونسكو بالتراث العالمى.

تعمل المنظمة على توعية دول وشعوب العالم بأهمية حماية التراث الطبيعى والثقافى

٤ - أهمية إدراج المواقع السياحية والأثرية على قائمة التراث العالمى لليونسكو.

١- تساعد على زيادة معرفة المواطنين بالتراث الطبيعى والثقافى

٢- تعميق شعور المواطنين بالإنتماء لمجتمعهم

٣- تشجيع الدول على حماية المواقع الأثرية

٥- تهتم الدولة بالأماكن السياحية والأثرية

١- للحفاظ على التراث الطبيعى والثقافى للدولة ٢- لأنها مصدر للدخل القومى

٦- تخصيص يوم للإحتفال بالتراث العالمى

لتوعية دول وشعوب العالم بأهمية حماية التراث الطبيعى والثقافى

٨- تلعب منظمة اليونسكو دوراً هاماً للحفاظ على التراث العالمى

- ١- تساهم فى ترميم بعض المدن القديمة
- ٢- تحافظ على الأماكن التراثية المهددة بالخطر
- ٣- تشجع السياحة إلى مناطق التراث العالمى

٩- إهتمام سكان محافظة الفيوم بمنطقة وادى الريان

- ١- لأنها مصدر دخل للسكان من السياحة
- ٢- لأنها منطقة تراث طبيعى تميز محافظتهم

١٠- تمييز منطقة وادى الريان بأنها محمية طبيعية مصرية

بسبب وجود المناظر الطبيعية المميزة كالبحيرات والشلالات والحيوانات البرية مثل الثعالب والغزلان

١١- تعتبر محمية الغابة المتحجرة منطقة تراث طبيعى

لأنها تحتوى على مجموعة من الأشجار المتحجرة على شكل قطع صخرية أسطوانية

١٢- زيارة السياح لمنطقة جنوب سيناء

للإستمتاع بالمناظر الطبيعية فى محمية رأس محمد

السؤال السادس : فكر وإستنتج مدلول العبارات التالية (إكتب ما تشير إليه العبارة)

- ١- المواقع الطبيعية الجميلة ذات القيمة العالمية التى يتدخل الإنسان فى صنعها (مواقع التراث الطبيعى)
- ٢- الأماكن السياحية والأثرية ذات القيمة العظيمة مثل المعابد والأهرامات والكنائس (التراث الثقافى)
- ٣- ما يشمل الصناعات والحرف التراثية والعادات والتقاليد والأماكن السياحية (التراث الثقافى)
- ٤- ما يشمل المواقع الطبيعية ذات القيمة العالمية التى لم يتدخل الإنسان فى صنعها (التراث الطبيعى)
- ٥- منظمة الأمم المتحدة للتربية والعلوم والثقافة (منظمة اليونسكو)
- ٦- إحدى القلاع التى بنيت فى طابا لحماية الطرق البرية والبحرية لمصر (قلعة صلاح الدين)
- ٧- محمية توجد فى شرق المعادى بمحافظة القاهرة (محمية الغابة المتحجرة)
- ٨- قائمة تساعد على زيادة معرفة المواطنين بالتراث الثقافى والطبيعى فى وطنهم (قائمة التراث العالمى)
- ٩- من المدن القديمة التى يتم ترميمها فى اليمن بمساعدة اليونسكو (صنعاء القديمة)

السؤال السابع : ماذا كان يحدث إذا :

١- لم تهتم الدولة بحماية الأماكن السياحية

١- يقل الدخل القومي للسياحة

٢- لن يصبح للدولة تراث ثقافى أو طبيعى

٢- لم يتم بناء قلعة صلاح الدين فى طابا

١- لم يتم حماية الطرق البرية والبحرية بين مصر وجيرانها

٢- لم يتم تأمين خليج العقبة والبحر الأحمر من الأعداء

٣- لم توجد منظمة اليونسكو

١- لم تقم الدول بتحديد مواقع التراث الطبيعى والثقافى بها

٢- لم يذهب السياح إلى مناطق التراث العالمى

٣- تختفى بعض الأماكن التراثية

٤- لم يتم ترميم مدينة صنعاء القديمة

السؤال الثامن : ما النتائج المترتبة على

١- بناء قلعة صلاح الدين فى مدينة طابا

١- حماية الطرق البرية والبحرية بين مصر وجيرانها

٢- تأمين خليج العقبة والبحر الأحمر من الأعداء

٢- دعم اليونسكو السياحة إلى مناطق التراث العالمى

١- كثرة الدخل القومى لعض الدول

٢- المحافظة على التراث الثقافى والطبيعى للدول

٣- إصدار اليونسكو قائمة التراث العالمى

١- معرفة المواطنين بالتراث الطبيعى والثقافى

٢- شعور المواطن بالإنتماء لوطنه

٣- حماية المواقع الأثرية

السؤال التاسع : برهن على صحة العبارة

((تهتم الدولة بتطوير سور مجرى العيون))

العبارة صحيحة : حيث تسعى الدولة لجعلها منطقة سياحية

السؤال العاشر : ما العلاقة بين ((حماية التراث الوطنى - وإقتصاد الدولة))

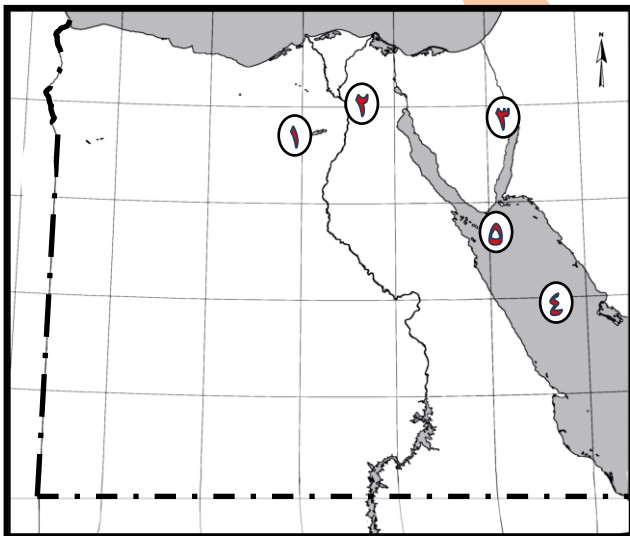
حماية الدول لتراثها يجلب المزيد من السياح لزيارتها - وبالتالي زيادة الدخل القومى للدولة

السؤال الحادى عشر : حدد اوجة التشابه والاختلاف بين محمية رأس محمد و محمية الغابة المتحجرة

وجه المقارنة	محمية رأس محمد	محمية الغابة المتحجرة
وجه التشابه	الإثنين محمية تراث طبيعى	
الاختلاف	بها شعاب مرجانية وأسماك ملونة وسلاحف	بها أشجار متحجرة

السؤال الثانى عشر :

أمامك خريطة صماء لمصر وضع ما تدل عليه الأرقام



- ١- محمية بالفيوم..... وادى الريان.....
- ٢- محافظة بها محمية الغابة المتحجرة .. القاهرة.....
- ٣- مدينة بها قلعة صلاح الدين ... طابا.....
- ٤- البحر الأحمر.....
- ٥- محمية رأس محمد.....

السؤال الأول : اكمل العبارات التالية :

- ١- يضم موقع أثار النوبة الكثير من الماكن الأثرية مثل معبد أبو سمبل ... و معبد إيزيس
- ٢- ساهمت منظمة اليونسكو فى إنقاذ الآثار المصرية من الغرق بعد بناء السد العالى
- ٣- تعد مدينة القاهرة من أهم وأكبر المدن التراثية فى العالم
- ٤- يقع دير سانت كاترين فى محافظة جنوب سيناء
- ٥- يعتبر معبد أبو سمبل و إيزيس من أثار النوبة
- ٦- توجد منطقة أبو مينا فى محافظة الإسكندرية
- ٧- يعتبر دير سانت كارترين من أقدم الأديرة المصرية
- ٨- تعد منطقة أبو مينا مهددة بخطر تآكل التربة والمباني
- ٩- تعتبر القاهرة عاصمة سياسية وتجارية ودينية لمصر
- ١٠- يوجد العديد من الأثار المصرية المسجلة على قائمة اليونسكو للتراث العالمى
- ١١- يقع دير سانت كاترين فى محافظة جنوب سيناء
- ١٢- توجد منطقة أبو مينا فى محافظة الإسكندرية بالقرب من مدينة .. بروج العرب
- ١٣- تعد محمية وادي الحيطان فى محافظة الفيوم منطقة تراث عالمي
- ١٤- تعد مدينة القاهرة فى مصر من أكبر المدن التراثية فى العالم
- ١٥- ترجع منطقة أبو مينا الى فترة الحكم الرومانى فى مصر
- ١٦- من المواقع الأثرية فى مصر أبو مينا و القاهرة
- ١٧- تمتد أثار النوبة من أبو سمبل إلى فيلة
- ١٨- من أثار النوبة معبد أبو سمبل ومعبد إيزيس فى جزيرة فيله

١٩- ساهمت منظمة اليونسكو فى إنقاذ آثار النوبة من الغرق بعد بناء**السد العالى**.....

٢٠- يقع وادى الحيطان فى محافظة**الفيوم**.....

٢١- يوجد فى وادى**الحيطان**..... كائنات حيه متنوعه كالصقور والثعالب والغزلان

٢٢- يقع دير**سانت كاترين**..... فى محافظة جنوب سيناء ويعد من أقدم الأديرة فى مصر

٢٣- يربط طريق الكباش بين معبد ... **الكرنك** ... شمالاً ومعبد ... **الأقصر** ... جنوباً

السؤال الثانى : ضع علامة (✓) أمام العبارة الصحيحة أو (×) أمام العبارة الخاطئة

١ - يوجد فى مصر العديد من المواقع التراثية المسجلة على خريطة التراث العالمى لليونسكو **صح**

٢- منطقة وادى الحيطان كانت تعيش فيها الحيطان قبل ٤٠ مليون سنة **صح**

٣- تعد منطقة أبو مينا بالإسكندرية مننقة مهددة بالخطر **صح**

٤- طريق الكباش مزين على الجانبين بتمائيل على هيئة كباش **صح**

٥- التغيرات المناخية تؤثر على بعض الأماكن التراثية وتجعلها معرضة للخطر **صح**

٦- تلقى موسى (عليه السلام) الوصايا من الله على سفح جبل سيناء **صح**

٧- يوجد بعض الكائنات الحية مثل الصقور فى منطقة وادى الحيطان **صح**

٨- يقع دير سانت كاترين فى محافظة شمال سيناء **خطأ** (جنوب سيناء)

٩- أنقذت منظمة اليونسكو معبد أبو سمبل من الغرق **صح**

١٠- تضم منطقة أبو مينا معبد أبو سمبل **(خطأ)**

١١- تسهم منظمة اليونسكو فى الحفاظ على التراث الطبيعى والثقافى بالدول **(صح)**

١٢- يعد معبد ايزيس من مناطق التراث الطبيعى **(خطأ)** التراث الثقافى

١٣- تعد القاهرة عاصمة سياسية وثقافية عريقة **(صح)**

١٤ - ترجع منطقة أبومينا التراثية الي فترة الحكم الفرعوني (خطأ) الرومانى

١٥ - من آثار النوبة معبد أبو سمبل وفيه (صح)

١٦ - ساهمت اليونسكو فى إنقاذ آثار النوبة بعد حفر قناة السويس (خطأ) بعد بناء السد العالى

١٧ - تعد مدينة الإسكندرية عاصمة سياسية وثقافية وتجارية لمصر (خطأ) القاهرة

١٨ - توجد منطقة وادى الحيتان فى محافظة الفيوم (صح)

١٩ - تقع منطقة أبو مينا فى القاهرة ويرجع تاريخها للحكم الرومانى (خطأ) الإسكندرية

٢٠ - أقدم الأديرة فى مصر هو دير سانت كاترين بجنوب سيناء (صح)

السؤال الثالث : بم تفسر

١ - أهمية منطقة أبو مينا بالإسكندرية : تعد مزاراً دينياً وأثرياً

٢ - حرص منظمة اليونسكو علي انقاذ معبد أبو سمبل من الغرق ؟ لأنه من المناطق الأثرية الهامة

٣ - تسجيل منطقة وادي الحيتان كمنطقة تراث عالمى طبيعى ؟

يوجد بها هياكل عظام لحيتان وأسماك منذ ٤٠ مليون سنة

٤ - تعتبر القاهرة التاريخية من أكبر المدن التراثية فى العالم ؟

بسبب تعدد الآثار والمبانى التاريخية

٥ - أهمية دير سانت كاترين فى سيناء ؟

أ - أقدم الأديرة فى مصر

ب - يوجد الدير عند سفح جبل سيناء حيث تلقى موسى عليه السلام الوصايا من الله

٦ - الأهمية الدينية لمحافظة جنوب سيناء

حيث يوجد جبل سيناء حيث تلقى موسى عليه السلام الوصايا من الله

السؤال الرابع : صوب ما تحته خط

١ - يقع (دير الانبا بشوى) فى جنوب سيناء (دير سانت كاترين)

٢ - تم انقاذ معبدي (الاقصروالكرنك) بعد بناء السد العالى (أبو سمبل وإيزيس)

- ٣ - يرجع تاريخ منطقة (وادي الريان) الي فترة الحكم الروماني في مصر (أبو مينا)
٤ - يمكن أن نجد هياكل حيطان في محمية (رأس محمد) (وادي الحيطان)

السؤال الخامس : اختر الإجابة الصحيحة مما بين القوسين :

- ١- يوجد في مصر العديد من الآثار المسجلة على قائمة
(الأمم المتحدة - اليونيسيف - اليونسكو - الفاو)
- ٢- تعد مدينة من اهم وأكبر المدن التاريخية في العالم
(المنيا - الإسكندرية - القاهرة - البحيرة)
- ٣- تقع منطقة أبو مينا في محافظة
(أسيوط - القاهرة - الإسكندرية - الجيزة)
- ٤- يقع دير سانت كاترين في محافظة
(شمال سيناء - البحر الأحمر - جنوب سيناء - الودى الجديد)
- ٥- توجد منطقة في محافظة الفيوم وتحتوى على حفريات
(وادي الحيطان - الصحراء البيضاء - العوينات - أبو مينا)
- ٦- من المناطق التراثية المهددة بخطر تآكل التربة.....
(أبو مينا - دير سانت كاترين - وادي الحيطان)
- ٧- من أقدم الأديرة وتم ادراجة علي قائمة التراث العالمي.....
(أبو مينا - دير سانت كاترين - وادي الحيطان)
- ٨- يقع معبد ايزيس في جزيرة.....
(فيله - غزال - شدوان - الزمالك)
- ٩- دير سانت كاترين في محافظة.....
(شمال سيناء - جنوب سيناء - القاهرة)

السؤال السادس : فكر وإستنتج مدلول العبارات الآتية :

- ١- مدينة تعد من أقدم المدن التاريخية وأكبرها في العالم (القاهرة)
- ٢- منطقة بالإسكندرية تعد مزاراً دينياً مهدد بالتآكل (أبو مينا)
- ٣- دير يقع في محافظة جنوب سيناء (سانت كاترين)
- ٤- منطقة توجد بها حفريات الأسماك كانت تعيش قبل ٤٠ مليون سنة (وادي الحيطان)

- ٥- منطقة أثرية تمتد من أبو سمبل إلى فيلة (آثار النوبة)
- ٦- كان بناؤه سبباً في إنقاذ اليونسكو لمعبد أبو سمبل (السد العالى)
- ٧- أكبر وأهم المدن التراثية فى العالم لتعدد أثارها ومبانيها التاريخية (القاهرة)
- ٨- منطقة كان يغطيها البحر قديماً وتحتوى على حفريات لأسماك وهياكل وعظام لحيتان ضخمة (وادى الحيتان)
- ٩- مزار دينى وأثرى يقع فى الإسكندرية بجوار برج العرب (ابو مينا)
- ١٠- أقدم الأديرة فى مصر ويقع جنوب سيناء عند سفح جبل سيناء (سانت كاترين)

السؤال السابع : ما النتائج المترتبة على :

١- بناء السد العالى بالنسبة لآثار النوبة

عرض معبد أبو سمبل ومعبد إيزيس للغرق وقامت بإنقاذهم منظمة اليونسكو

٢- تميز مدينة القاهرة بتعدد الآثار والمباني التاريخية

أصبحت من أكبر المدن التراثية فى العالم

٣- تغطية البحر قديماً لبعض المناطق فى الفيوم

وجود هياكل وعظام حيتان ضخمة وأسماك فى منطقة ادى الحيتان

السؤال الثامن : ماذا يحدث إذا :

١- لم يكن هناك تعاون بين مصر و اليونسكو

١- غرق معبد أبو سمبل وإيزيس ٢- تدهور مواقع التراث العامة فى مصر

٢- لم تحتو مدينة القاهرة على آثار ومبان تاريخية

لم تصبح من أكبر المدن التراثية فى العالم

٣- لم يغط البحر بعض مناطق الفيوم قديماً

لم نجد بها هياكل وعظام حيتان ضخمة وأسماك فى منطقة ادى الحيتان

السؤال التاسع : ما العلاقة بين

١- بناء السد العالى ومنظمة اليونسكو

بناء السد العالى هدد بإغراق معبد أبو سمبل وإيزيس ولكن منظمة اليونسكو تدخلت وأنقذتهم

٢- جنوب سيناء والديانات السماوية

تلقى موسى عليه السلام الوصايا من ربه على جبل سيناء

السؤال العاشر : صل من المجموع (أ) ما يناسبها من المجموعة (ب)

(أ)	(ب)
١- جزيرة فيله	به هياكل وعظام حيتان ضخمة كانت تعيش قبل ٤٠ مليون سنة (٤)
٢- دير سانت كاترين	منطقة مهددة بتآكل التربة والمباني (٥)
٣- القاهرة	من أقدم الأديرة فى مصر (٢)
٤- وادى الحيتان	يوجد بها معبد إيزيس (١)
٥- منطقة أبو مينا	العاصمة السياسية والثقافية والتجارية والدينية لمصر (٣)

السؤال الأول : أكمل العبارات التالية

- ١ - إختارت منظمة اليونسكو مدينة شرم الشيخ كأفضل مدينة سلام على مستوى العالم
- ٢- يمتاز شاطئ مدينة شرم الشيخ بانتشار الشعاب المرجانية الملونة
- ٣- تعد الأهرامات مقابر للملوك
- ٤- بنى الملك خفرع تمثال أبو الهول
- ٥- تمثال أبو الهول على شكل رأس إنسان وجسم أسد
- ٦- سميت الكنيسة المعلقة بهذا الإسم لأنها بنيت على الأبراج الجنوبية لحصن بابليون
- ٧- يوجد المعبد اليهودى فى نهاية منطقة الكنائس القبطية فى الفسطاط
- ٨- الملك الذي شيد تمثال أبو الهول هو خفرع
- ٩ - بني المصريون القدماء الاهرامات الثلاث فى محافظة الجيزة
- ١٠ - تم بناء الكنيسة المعلقة فوق أبراج حصن بابليون
- ١١ - شيد المصريون القدماء الأهرامات لاعتقادهم فى البعث و الخلود
- ١٢ - تم اختيار مدينة شرم الشيخ كأفضل مدينة للسلام من قبل منظمة اليونسكو
- ١٣ - تم بناء برج القاهرة على شكل زهرة اللوتس
- ١٤ - يوجد مجمع الأديان فى محافظة القاهرة
- ١٥ - من مميزات مدينة شرم الشيخ المناخ المعتدل
- ١٦- يقع برج القاهرة فى جزيرة الزمالك فى محافظة القاهرة
- ١٧- صمم المهندس الراحل نعوم شبيب برج القاهرة

١٨- تم إفتتاح المتحف القومي للحضارة المصرية يوم ١٨ إبريل عام ٢٠٢١

١٩- بنى حصن بابلليون فى عهد الإحتلال ... الرومانى لمصر

٢٠- بنى جامع عمرو بن العاص فى عهد الخليفة عمر بن الخطاب

٢١- يوجد المتحف القومي للحضارة المصرية فى محافظة القاهرة

السؤال الثانى : ضع علامة (✓) أمام العبارة الصحيحة أو (×) أمام العبارة الخاطئة

١ - تقع مدينة شرم الشيخ فى محافظة شمال سيناء (خطأ) جنوب سيناء

٢- بُنى برج القاهرة على شكل زهرة اللوتس المصرية التى تعد رمزاً للحضارة المصرية (صح)

٣- إعتقد المصريون القدماء فى البعث والخلود أى الحياة بعد الموت (صح)

٤- الأهرامات الثلاث هى لملوك مصر القديمة (خوفو - خفرع - منكاورع) (صح)

٥- تمتاز مدينة شرم الشيخ بمناخها المعتدل ومناظرها الطبيعية الخلابة (صح)

٦- يقع المتحف القومي للحضارة بمحافظة الجيزة (خطأ) القاهرة

٧ - صمم المهندس نعوم شبيب برج القاهرة على شكل زهرة اللوتس (صح)

٨ - صمم تمثال أبو الهول بجسم أسد ورأس انسان (صح)

٩ - شيدت الكنيسة المعلقة على أنقاض أحد أبراج حصن بابلليون (صح)

١٠ - بنى المصريون القدماء الاهرامات شرق النيل لتكون بعيدة عن الفيضان (خطأ) غرب النيل

١١ - يعتبر المعبد اليهودي من المناطق الأثرية فى منطقة مجمع الأديان (صح)

١٢- تقع شرم الشيخ فى جنوب سيناء (خطأ)

١٣- بنى المصريون القدماء الأهرامات لإعتقادهم بالبعث الخلود (صح)

١٤- تعد الكنيسة المعلقة من أبرز المعالم السياحية الحديثة فى مصر (خطأ)

١٤- بنى الملك خفرع تمثال أبو الهول (صح)

- ١٥- بنى عمرو بن العاص مسجدة فى عهد الخليفة عمر بن الخطاب (صح)
- ١٦- يقع مجمع الأديان فى منطقة مصر الجديدة بالقاهرة (خطأ) مصر القديمة
- ١٧- من الآثار القبطية فى مصر الكنيسة المعلقة (صح)
- ١٨- بنى الملك خوفو تثال أبو الهول (خطأ) خفرع
- ١٩- قام المهندس نعوم شبيب بتصميم مجمع الأديان (صح)
- ٢٠- مصر بلد سياحى له تاريخ عريق يمتد إلى ٣٠٠٠ سنة (خطأ) ٧٠٠٠ سنة
- ٢١- قامت على أرض مصر ثلاث حضارات فقط (خطأ)
- ٢٤- اختارت اليونسكو مدينة الأقصر كأفضل مدينة سلام على مستوى العالم (خطأ) شرم الشيخ
- ٢٥- بنى المصريون القدماء الأهرامات الثلاثة على هضبة مرتفعة فى محافظة القاهرة غرب نهر النيل (خطأ) الجيزة
- ٢٦- بنى الملك خفرع تثال أبو الهول رمز للقوة ولحماية الأهرامات (صح)
- ٢٧- يقع مجمع الأديان فى حى مصر القديمة بالقاهرة (صح)
- ٢٨- تم بناء حصن بابليون فى عهد الإحتلال اليونانى لمصر (خطأ) الرومانى
- ٢٩- بنى المعبد اليهودى على الأبراج الجنوبية لحصن بابليون (خطأ) الكنيسة المعلقة
- ٣٠- يقع المتحف القومى للحضارة فى قلب مدينة الفسطاط (صح)

السؤال الثالث : إختار الإجابة الصحيحة مما بين القوسين

- ١- توجد مدينة شرم الشيخ فى محافظة
- (شمال سيناء - الوادى الجديد - جنوب سيناء - البحر الأحمر)
- ٢- تعتبر من أقدم الكناس المصرية (المهد - القيامة - السيدة العذراء - المعلقة)
- ٣- يوجد مجمع الأديان فى منطقة بالقاهرة (الزمالك - بولاق - شبرا - مصر القديمة)

٤- يوجد برج فى جزيرة الزمالك بنهر النيل

(الإسكندرية - القاهرة - بيزا المائل - إيفل)

٥- بنى مسجد عمرو بن العاص فى عهد الخليفة

(أبو بكر الصديق - عمر بن الخطاب - عثمان بن عفان - على بن أبى طالب)

٦- بنى الملك تمثال أبو الهول (خوفو - منكاورح - زوسر - خفرع)

٧- بنى فى عهد الإحتلال الرومانى لمصر

(برج القاهرة - حصن بابلون - مسجد عمرو بن العاص - المعبد اليهودى)

٨- يقع مجمع الأديان فى (الجيزة - الإسكندرية - القاهرة - الفيوم)

٩- أطلقت منظمة اليونسكو لقب مدينة السلام على

(شرم الشيخ - الغردقة - الإسكندرية - القاهرة)

١٠- من الآثار الإسلامية فى مصر

(الكنيسة المعلقة - مسجد عمرو بن العاص - حصن بابلون - برج القاهرة)

١١- يقع مجمع الأديان فى حى بالقاهرة

(مصر الجديدة - مصر القديمة - المعادى - مدينة نصر)

١٢- بنى حصن بابلون فى عهد الإحتلال (الإنجليزى - الفرنسى - الرومانى - البطلمى)

١٤- من الآثار القبطية فى مصر

(برج القاهرة - المعبد اليهودى - الكنيسة المعلقة - الأهرامات)

١٥- من أبرز المعالم السياحية الحديثة فى القاهرة

(أبو الهول - الأهرامات - حصن بابلون - برج القاهرة)

١٦- تتميز مدينة بالمياة الصافية والشعاب المرجانية

(**شرم الشيخ** - الإسكندرية - السلوم - بورسعيد)

١٧- تم بناء الأهرامات نهر النيل لتكون بعيدة عن الفيضانات

(شرق - جنوب - **غرب** - شمال)

١٨- من الآثار التي لا توجد في مجمع الأديان الآثار

(الإسلامية - **الفرعونية** - القبطية - اليهودية)

١٩- يقع في نهاية منطقة الكنائس القبطية في الفسطاط

(**المعبد اليهودي** - حصن بابلون - جامع عمرو بن العاص - مسجد محمد على)

٢٠- يقع برج القاهرة في جزيرة في نهر النيل

(**الزمالك** - فيله - شنوان - محمد)

٢١- قام المهندس نعود شبيب بتصميم

(الكنيسة المعلقة - حصن بابلون - **برج القاهرة** - جامع عمرو بن العاص)

السؤال الرابع : بم تفسر

١- أهمية مجمع الأديان في حي مصر القديمة بالقاهرة

يضم مجموعة من الآثار الرومانية واليهودية والقبطية والإسلامية

٢- شهرة الكنيسة المعلقة ؟

أ - من أقدم الكنائس المصرية ب- أقيمت على الإبراج الجنوبية لحصن بابلون

٣- بناء الملك خفر تمثال أبو الهول

ليكون رمزاً للقوة - لحماية الأهرامات من السرقة

٤- تصميم برج القاهرة على شكل زهرة اللوتس

لأن زهرة اللوتس من رموز الحضارة المصرية القديمة

٥- **بناء الأهرامات على هضبة مرتفعة غرب نهر النيل** : لتكون بعيدة عن الفيضان

٦- بناء المصريين القدماء للأهرامات

لإعتقادهم بالعث والخلود - لتكون مقابر للملوك

٧- أهمية منطقة مصر القديمة سياحياً

هنا مجمع الأديان الذي يضم مجموعة من الآثار الرومانية واليهودية والقبطية والإسلامية

٨- **تسمية الكنيسة المعلقة بهذا الاسم** ؟ أقيمت على الإبراج الجنوبية لحصن بابليون

٩- زيارة الكثير من السياح مدينة شرم الشيخ ؟

أ - المناخ المعتدل ب - الجبال الشاهقة ج - الشعاب المرجانية د - المياة الصافية

١٠- **يعد المتحف القومي للحضارة المصري الأول من نوعه في مصر والعالم العربي** ؟

لأنه يعرض قطع أثرية تساعد السائح على فهم الحضارة المصرية القديمة

١١- تُعد مدينة شرم الشيخ من أهم المدن السياحية

أ - المناخ المعتدل ب - الجبال الشاهقة ج - الشعاب المرجانية د - المياة الصافية

السؤال الخامس : ماالنتائج المترتبة علي :

١ - اعتقاد المصريين القدماء في البعث والخلود ؟

أ - بناء الأهرامات ب- يوضع في مقبرة الملك كل الأشياء التي سوف يحتاج إليها بعد البعث

السؤال السادس : إكتب ما تشير إليه العبارات التالية .

١- منظمة إختارت مدينة شرم الشيخ كأفضل مدينة سلام في العالم (**اليونسكو**)

٢- تمثال تم بناؤه في عهد الملك خفرع ليكون رمزاً للقوة (**ابو الهول**)

٣- يقع في مصر القديمة ويضم آثار رومانية وقبطية ويهودية وإسلامية (**مجمع الأديان**)

- ٤- حصن بناه الرومان أثناء احتلالهم لمصر (حصن بابليون)
- ٥- كنيسة بُنيت على الأبراج الجنوبية لحصن بابليون (الكنيسة المعلقة)
- ٦- جامع تم بناؤه في مصر في عهد عمر بن الخطاب (جامع عمرو بن العاص)
- ٧- من أبرز المعالم السياحية الحديثة ويقع في جزيرة الزمالك (برج القاهرة)
- ٨- معبد يوجد في نهاية منطقة الكنائس القبطية في الفسطاط (المعبد اليهودي)
- ٩- الحى الذى يوجد به مجمع الأديان (مصر القديمة)
- ١٠- جزيرة بها برج القاهرة (جزيرة الزمالك)
- ١١- زهرة تم تصميم برج القاهرة على شكلها (زهرة اللوتس)
- ١٢- المهندس الذى صمم برج القاهرة (نعوم شبيب)
- ١٣- حى يقع فيه حصن بابليون (مصر القديمة)
- ١٤- الإسم الذى أطلقتها منظمة اليونسكو على مدينة شرم الشيخ (مدينة السلام)

السؤال السابع : ما العلاقة بين

١- اعتقاد المصريين القديم فى البعث والخلود وبناء الأهرامات

قام المصريين ببناء الأهرامات لإعتقادهم بالبعث والخلود

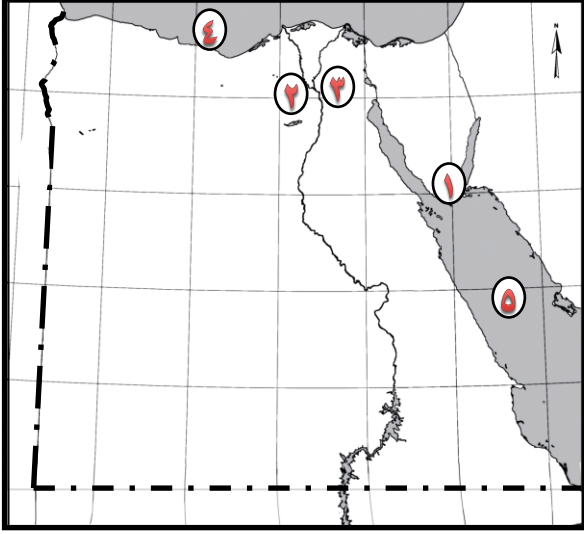
٢- برج القاهرة والحضارة المصرية القديمة

تم تصميم برج القاهرة على شكل زهرة اللوتس التى ترمز للحضارة المصرية القديمة

٣- حصن بابليون والكنيسة المعلقة

أقيمت الكنيسة المعلقة على الأبراج الجنوبية لحصن بابليون

السؤال الثامن : أملك خريطة صماء لمصر أجب عن الأسئلة التالية



- ١- مدينة سياحية شرم الشيخ
- ٢- محافظة بها الأهرامات الجيزة
- ٣- محافظة بها مجمع الأديان ... القاهرة
- ٤- البحر المتوسط
- ٥- البحر ... الأحمر

طارق رمضان

السؤال الأول : أكمل العبارات التالية:

- ١ - تتعدد أنواع السياحة في مصر ومنها السياحة..... **الثقافية** و..... **العلاجية**
- ٢- زيارة السائح لمكتبة الإسكندرية تعتبر سياحة..... **ثقافية**
- ٣- يزور السياح مدينة شرم الشيخ للتمتع بالمناظر..... **الخلابية** والشعاب..... **المرجانية**
- ٤- توجد السياحة العلاجية في مصر في..... **جنوب سيناء** و..... **واحة سيوة**
- ٥- استضافة مصر المؤتمر العربي للحد من مخاطر التلوث يعتبر سياحة..... **مؤتمرات**
- ٦- تسهم مصر بتنمية السياحة من خلال تطوير المنشآت..... **السياحية**
- ٧- تدعم مصر السياحة المستدامة للحفاظ على البيئة والموارد..... **الطبيعية**
- ٨- المدونة العالمية لأخلاقيات الساحة تتضمن..... **عشر** مبادئ أساسية
- ٩- تعتبر مكتبة الإسكندرية من أماكن السياحة..... **الثقافية**
- ١٠- توفر السياحة..... **فرص عمل** للشباب
- ١١- حماية الشعاب المرجانية والحياة البحرية من مهام السياحة..... **المستدامة**
- ١٢- من أهم المعارض السنوية التي تقام في مصر معرض..... **القاهرة الدولي للكتاب**
- ١٣- تقع مدينة شرم الشيخ ودهب علي ساحل..... **البحر الأحمر**
- ١٤- من أمثلة السياحة الثقافية..... **الأهرامات** و..... **شارع المعز** و..... **دار الأوبرا**
- ١٥- تعد زيارة دار الأوبرا و خان الخليلي من أنواع السياحة..... **الثقافية**
- ١٦- من أمثلة السياحة الترفيهية..... **التنزة في نهر النيل** و..... **السفاري**
- ١٧- مدينة دهب وشرم الشيخ من المدن السياحية على البحر..... **الأحمر**

- ١٨- مدينة مرسى مطروح والعلمين من المدن السياحية على البحر.....**المتوسط**.....
- ١٩- رحلات السفارى فى الصحارى المصرية من أنواع السياحة.....**الترفيهية**.....
- ٢٠- تتمثل السياحة العلاجية فى زيارة مناطق.....**العيون الكبريتية**..... و.....**الرمال الساخنة**.....
- ٢١- معرض القاهرة الدولى للكتاب من أمثلة السياحة.....**الثقافية**.....
- ٢٢- من المؤتمرات التى استضافتها مصر.....**مؤتمر النقل الذكى**..... و.....**المؤتمر العربى للحد من الكوارث**..
- ٢٣- من المهرجانات التى تقام فى مصر.....**مهرجان الإسماعيلية للفنون الشعبية**..... و.....**مهرجان الموسيقى العربية**.....
- ٢٤- تسهم السياحة بنحو.....**١٢**..... % من إجمالى الدخل القومى لمصر

السؤال الثانى : ضع علامة (✓) أمام العبارة الصحيحة أو (×) أمام العبارة الخاطئة

- ١ - زيارة دار الأوبرا المصرية التى تقدم أفضل العروض الفنية العالمية تعد من انواع السياحة **الترفيهية** (خطأ) الثقافية
- ٢- زيارة مدينة مرسى مطروح والعلمين تعد سياحة ترفيهية (صح)
- ٣- إقامة مهرجان الموسيقى العربية يعد من سياحة المؤتمرات والمهرجانات (صح)
- ٤- تسهم السياحة فى دعم الإقتصاد المصرى (صح)
- ٥- استخدام الأساليب التكنولوجية فى التسويق السياحى من وسائل التنمية (صح)
- ٦- المدونة العلمية لأخلاقيات السياحة تتضمن تسع مبادئ أساسية (خطأ) عشرة
- ٧- دار الأوبرا ومكتبة الاسكندرية أماكن للسياحة الثقافية (صح)
- ٨ - يقتصر زيارة السياح الي مصر علي السياحة الترفيهية (خطأ)
- ٩ - زيارتك لعيون موسي في سيناء تعد سياحة ثقافية (خطأ) العلاجية
- ١٠ - يجب أن تراعى الأنشطة السياحية حقوق ذوي الاحتياجات الخاصة (صح)
- ١١- تقوم السياحة **الترفيهية** على زيارة المناطق الأثرية والتاريخية (خطأ) الثقافية

- ١٢ - تنتمي زيارة الأهرامات بالجيزة وشارع المعز بالقاهرة السياحة العلاجية (خطأ)
- ١٣ - من أمثلة السياحة العلاجية في مصر الرمال الساخنة والعيون الكبرى (صح)
- ١٤ - تعد السياحة المصدر الأول للعملة الأجنبية في مصر (صح)
- ١٥ - زيارة المدن الشاطئية من أمثلة السياحة الثقافية (خطأ) الترفيهية
- ١٦ - معرض القاهرة الدولي ومهرجان الإسماعيلية من أنواع السياحة الترفيهية (خطأ)

السؤال الثالث : بم تفسر:

١ - تدعيم مصر للسياحة المستدامة

للحفاظ على البيئة والموارد الطبيعية

٢- أهمية مكتبة الإسكندرية

تضم الكثير من الكتب والمؤلفات النادرة

٣- أهمية معرض القاهرة الدولي للكتاب

يأتى السياح لحضور المعرض سنوياً

٤- أهمية السياحة لمصر؟

أ - توفر فرص عمل للشباب ب- المصدر الأول للعملة الأجنبية

ج - تسهم بـ ١٢ من إجمالي الدخل القومي

٥ - زيارتنا لمدن شرم الشيخ والغردقة ؟

التمتع بالمناظر الخلابة والشعاب المرجانية في البحر الأحمر

٦ - اهتمام الدولة بتطوير المنشآت السياحية : تنمية السياحة في مصر

٧ - زيارة السائحون العيون الكبرى والرمال الساخنة : للعلاج والإستجمام

السؤال الرابع: فكر وإستنتج مدلول العبارات

- ١- سياحة تعتمد على زيارة الأماكن التاريخية والثقافية مثل أهرامات الجيزة (سياحة ثقافية)
- ٢- سياحة تتمثل في زيارة المدن الشاطئية مثل مدينة دهب (سياحة ترفيهية)
- ٣- سياحة تعتمد على زيارة العيون الكبريتية والرمال الساخنة (سياحة علاجية)
- ٤- سياحة تعتمد على حضور المؤتمرات أو المعارض (سياحة المؤتمرات)
- ٥- سياحة تدعمها مصر للحفاظ على البيئة والموارد الطبيعية (السياحة المستدامة)

السؤال الخامس: إختتر الإجابة الصحيحة مما بين الأقواس

- ١- تقدم دار المصرية أفضل العروض الفنية العالمية
(الدفاع الجوي - مكتبة الإسكندرية - الثقافة الغربية - الأوبرا)
- ٢- تنتشر الشعاب المرجانية على ساحل البحر (الميت - الأصفر - الأحمر - المتوسط)
- ٣- تتمثل السياحة في زيارة العيون الكبريتية والرمال الساخنة
(الثقافية - الترفيهية - العلاجية - الرياضية)
- ٤- تعد مدينة من المدن الموجودة على شواطئ البحر المتوسط
(العلمين - دهب - الغردقة - شرم الشيخ)
- ٥- تهتم مصر بتتمية السياحة من خلال
(إنشاء القرى السياحية - صيانة وترميم المناطق الأثرية - تطوير وسائل النقل - كل ما سبق)
- ٦- تدعم مصر السياحة المستدامة عن طريق
(ترشيد إستهلاك الطاقة - الإعتماد على الطاقة النظيفة - التعامل الآمن مع المخلفات - كل ما سبق)
- ٧- زيارة شارع المعز تعد سياحة (ترفيهية - ثقافية - علاجية - مؤتمرات)
- ٨- يذهب السياح للعلاج بالرمال الساخنة في مصر إلى واحة
(الفرافرة - سيوة - الداخلة - الخارجة)
- ٩- السياحة تهدف للحفاظ على البيئة
(الترفيهية - العلاجية - الثقافية - المستدامة)

السؤال السادس : مالتائج المترتبة علي :

١ - استضافة مصر الكثير من المؤتمرات ؟ زيارة السياح لمصر لحضور المؤتمرات

٢ - تنوع المناطق السياحية داخل مصر ؟

يأتى المزيد من السياح إلى مصر - زيادة الدخل القومي

السؤال السابع : دلل علي صحة العبارة :

١ - تتعدد مناطق السياحة الثقافية في مصر ؟

أهرامات الجيزة - شارع المعز - خان الخليلي في القاهرة - مكتبة الإسكندرية - دار الأوبرا - المتاحف

٢ - انتشار السياحة العلاجية في مصر ؟

وجود مناطق العيون الكبريتية والرمال الساخنة في جنوب سيناء وواحة سيوة

٣ - تسعى مصر لدعم السياحة المستدامة ؟

إنشاء المنشآت السياحية - صيانة المناطق الأثرية - تطوير وسائل النقل - استخدام التكنولوجيا في التسويق السياحي

السؤال الثامن : صل من مجموعة (أ) ما يناسبها من المجموعة (ب)

(أ)	(ب)
١- السياحة الترفيهية	تتمثل في زيارة الأماكن التاريخية والثقافية (٤)
٢- الدخل القومي	تضم العديد من الكتب والمؤلفات (٦)
٣- سياحة المؤتمرات والمهرجانات	تتمثل في زيارة الأماكن الطبيعية الخلابة (١)
٤- السياحة الثقافية	تتمثل في زيارة مناطق العيون الكبريتية والرمال الساخنة (٥)
٥- السياحة العلاجية	تتمثل في حضور السياح المؤتمرات أو المعارض أو المهرجانات (٣)
٦- مكتبة الإسكندرية	ما تحققة الأنشطة الاقتصادية في عام واحد (٢)

السؤال التاسع : صنف المناطق الآتية حسب نوع السياحة التي تنتمي إليها :

(مهرجانات الإسماعيلية للفنون الشعبية – واحة سيوة – خان الخليلي – دهب – رحلات السفاري في الصحاري المصرية)

ثقافية	ترفيهية	علاجية	مؤتمرات ومهرجانات
خان الخليلي	دهب رحلات السفاري	واحة سيوة	مهرجانات الإسماعيلية للفنون الشعبية

السؤال العاشر : ما العلاقة بين السياحة والدخل القومي

تعلم السياحة على زيادة الدخل القومي لمصر

السؤال الأول : اكمل العبارات التالية :

- ١- من واجبنا نحو الأماكن السياحية عدم تلويث الآثار بـ الكتابة عليها أو ... خدشها ...
- ٢- يجب معاملة السياح معاملة حسنة وتقديم المساعدة لهم
- ٣- تبذل الدولة جهود عديدة للحفاظ على الآثار نظراً لقيمتها التاريخية والإقتصادية
- ٤- تصدر الدولة المصرية قوانين تجرم ... الإتجار بالآثار.....
- ٥- تتم عملية ترميم الآثار المصرية بواسطة المتخصصين.....
- ٦- من أبرز المدن التراثية القديمة على مستوى العالم مدينة القاهرة.....
- ٧- من أمثلة المباني الأثرية التي نفذت لها أعمال الصيانة والترميم منطقة الأزهر و الغورية و الدرب الأحمر..... و مسجد أحمد بن طولون ...
- ٨- من مشروعات الحفاظ على التراث العمراني مشروع تطوير شارع المعز.....
- ٩- يجب عدم استخدام فلاش الكاميرا عند التصوير لانه يؤثر سلب اعلي بعض القطع الأثرية
- ١٠- تم ترميم قصر محمد على..... فى شبرا
- ١١- تسعى الدولة لتحويل منطقة الأهرامات..... الي متحف مفتوح
- ١٢- يعتبر ترميم مسجد أحمد بن طولون احد مشروعات تطوير منطقة القاهرة التاريخية ...
- ١٣- قامت الدولة باصدار قوانين..... لمعاقبة تجار الآثار
- ١٤- تم تطوير شارع المعز من أجل الحفاظ على التراث العمرانى.....

السؤال الثاني : ضع علامة (✓) أمام العبارة الصحيحة أو (×) أمام العبارة الخاطئة

- ١ - يجب علينا حسن معاملة السياح (صح)
- ٢- يفضل إستخدام ضوء الكاميرا (الفلاش) عند إنتقاط الصور فى الأماكن الأثرية (خطأ)
- ٣- من مشروعات الحفاظ على التراث العمرانى مشروع تطوير شارع المعز (صح)
- ٤- قامت الدولة بتطوير سور مجرى العيون بالقاهرة (صح)
- ٥- لكل فرد دور فى الحفاظ على آثار بلاده (صح)
- ٦- التقاط الصور وانت ملاصق للقطع الاثرية من السلوكيات الصحيحة. (خطأ)
- ٧ - تعد مدينة القاهرة التاريخية من أبرز المدن التراثية علي مستوي العالم. (صح)
- ٨ - تساعد الدولة في تنظيم عملية البحث والتقيب عن الآثار. (صح)
- ٩- تطوير طريق الكباش يعد دليلا علي جهود الدولة في الاهتمام بالمواقع الاثرية. (صح)
- ١٠ - من الجيد كتابة اسمك علي جدار معبد الكرنك (خطأ)
- ١١- يمكن لأي فرد أن يشارك في عملية ترميم الآثار (خطأ) المتخصصين فقط
- ١٢- منطقة الدرب الأحمر تقع فى محافظة الجيزة (خطأ) القاهرة
- ١٣- تنفذ الدولة عمليات الترميم بواسطة المختصين (صح)
- ١٤- لا نقدم المساعدة للسياح نهائياً (خطأ)
- ١٥- من المواقع التراثية فى القاهرة منطقة الغورية (صح)
- ١٦- لم تصدر الدولة قوانين تجرم الإعتداء على الآثار (خطأ)

السؤال الثالث : بم تفسر

١ - قيام الدولة بتطوير منطقة الأهرامات ؟

أ - إسترجاع الصورة التاريخية للمنطقة

ب- تعظيم القيمة الأثرية للمنطقة

٢ - أهمية الحفاظ علي الأماكن الاثرية خلال زيارتك ؟ لأنها تعتبر ثروة مصر الثقافية

٣ - حرص الدولة علي تطوير مدينة القاهرة التاريخية ؟

لأنها إحدى أهم المدن التراثية القديمة على مستوى العالم

٤ - اصدار الدولة بعض القوانين الخاصة بحماية الآثار ؟ للحفاظ على الآثار المصرية

السؤال الرابع : صوب ما تحته خط

١ - يجب التقاط الصور (بفلاش) بجانب القطع الاثرية بدون فلاش

٢ - تنظيم التنقيب والبحث عن الآثار يعد مسؤولية (الفرد) (الدولة)

٣ - تقوم (الجمعيات) باصدار القوانين الخاصة بحماية الآثار (الدولة)

٤ - ترميم مسجد احمد بن طولون كان ضمن مشروع تطوير (منطقة الأهرامات) (القاهرة)

السؤال الخامس : ماذا تقول لكل من

١- شخص يقوم بالكتابة على الآثار : لا تكتب على الآثار

٢- شخص يقوم بمساعدة السائحين ويرحب بهم : تصرف رائع

السؤال السادس : إختتر الإجابة الصحيحة مما بين القوسين

١- يقع قصر فى مدينة شبرا

(الخديو اسماعيل - محمد على - صلاح الدين - السلطان حسن)

٢- تطوير شارع يعد حفاظاً على التراث العمرانى

(جوهر الصقى - النيل - الجلاء - المعز)

٣- تم ترميم مسجد فى القاهرة التاريخية

(أحمد بن طولون - الحسين - السيد البدوى - السلطان حسن)

السؤال السابع : فكر واستنتج مدلول العبارات التالية

١- شارع تم تطويره للحفاظ على التراث العمرانى (شارع المعز)

٢- قصر تم ترميمه ويق فى شبرا (قصر محمد على)

٣- مسجد تم ترميمه فى القاهرة التاريخية (مسجد أحمد بن طولون)

السؤال الثامن : ماذا يحدث إذا :

١- لم نحسن معاملة السياح

لأنى يأتى السياح إلى مصر مرة أخرى - يقل الدخل القومى

٢- لم تصدر الدولة قوانين تجرم الإتجار بالأثار

يقوم الكثيرون بالإتجار بإستخراج الأثار والتجارة بها

٣- إستخدم السائح فلاش الكاميرا عند التقاط صور للأثار

يؤثر سلباً على الأثار

أسئلة عامة على الوحدة الثانية

الأماكن السياحية والأثرية في بلدنا

السؤال الأول : اختر الاجابة الصحيحة من بين الأقواس :

- ١- تحتفل منظمة اليونسكو باليوم العالمي يو ١٨ من كل عام
(يناير - فبراير - مارس - أبريل)
- ٢- من اهم اختصاص منظمة اليونسكو الحفاظ علي التراث
(الحضاري - الثقافي- الأثري- كل ماسبق)
- ٣- تقع محمية رأس محمد في
(شمال سيناء- جنوب سيناء - الصحراء الشرقية - الصحراء الغربية)
- ٤- من اهم المحميات التي تقع في الصحراء الغربية في الوادي الجديد.....
(الصحراء البيضاء - وادي الريان - وادي الحيطان - رأس محمد)
- ٥- تقع محمية وادي الريان في محافظة.....
(الفيوم - الجيزة - اسوان - القاهرة)
- ٦- من اهم المناطق الاثرية في محافظة الجيزة تمثل ابو الهول و
(معبد ابوسمبل - معبد الكرنك - الاهرامات- معبد ادفو)
- ٧- تم اختيار مدينة..... من خلال منظمة اليونسكو مدينة السلام
(الغردقة - الاسكندرية - شرم الشيخ- الجيزة)
- ٨- من اهم الاثار في مدينة الاقصر معبد.....
(الكرنك - فيلة - دير المدينة - دندرة)
- ٧- يقع حصن بابلون وهو من الاثار..... في مدينة القاهرة
(الرومانية - اليونانية - الفارسية - الإسلامية)
- ٨- من أقدم الجوامع في مصر الذي يقع في مدينة القاهرة
(عمرو بن العاص- محمد علي - السلطان حسن - الحسيني)
- ٩- زيارة المتاحف يعتبر نوعا من السياحة
(العلاجية - الترفيهية - الثقافية - الدينية)
- ١٠- من اهم مناطق السياحة العلاجية في مصر
(جنوب سيناء - شمال سيناء - المنيا- الاسكندرية)

- ١١- زيارة مدينة شرم الشيخ والغردقة من السياحة
- (الثقافية - الدينية - الترفيهية - العلاجية)
- ١٢- من انواع السياحة في مصر
- (دينية - ثقافية - ترفيهية - جميع ماسبق)
- ١٣- يقع معبد الكرنك في محافظة
- (القاهرة - اسوان - الجيزة - الاقصر)
- ١٤- من اهم اثار محافظة جنوب سيناء قلعة
- (قايتباي - صلاح الدين - سمنا - قمنا)
- ١٥- من انواع السياحة الدينية في مصر زيارة
- (دير سانت كاترين - معبد حتشبسوت- معبد الكرنك - معبد ابوسمبل)
- ١٦- من اهم الفوائد التي تعود علي الدولة من النشاط السياحي
- (زيادة الدخل القومي - توفير فرص العمل - بناء المشروعات - كل ماسبق)
- ١٧- من اهم اثار مدينة الاسكندرية المسرح
- (اليوناني الروماني - الشمع - الفرعوني - المصري)
- ١٨- تقع منطقة ابومينا الاثرية في محافظة
- (الاسكندرية - الجيزة - اسوان - الاقصر)
- ١٩- من الآثار التي تم وضعها في قائمة التراث العالمي لليونسكو معبد فيلة و
- (معبد ابوسمبل - معبد الدير البحري- معبد الكرنك - اهرامات الجيزة)
- ٢٠- من اهم المعالم الاثرية في محافظة القاهرة
- (جزيرة فيلة - معبد ابوسمبل - الاهرامات - برج القاهرة)
- ٢١- تقع محمية وادي الحيطان في محافظة
- (الفيوم - اسوان - القاهرة - الاقصر)
- ٢٢- من اهم المحميات الطبيعية في محافظة القاهرة الغابة المتحجرة شرق حي
- (المعادي - البساتين - الدقي - القليوبية)
- ٢٣- تعتبر محمية وادي الريان في الفيوم من التراث
- (الجيولوجي - الثقافي - الطبيعي - الديني)
- ٢٤- من انواع السياحة الجديدة المستحدثة
- (المستدامة - الثقافية - التاريخية - العلاجية)
- ٢٥- تم افتتاح طريق الكباش الجديد عام ٢٠٢١م في عهد الرئيس عبدالفتاح السيسي في محافظة
- (اسوان - الجيزة - الاقصر - جنوب سيناء)

٢٦- من اهم الاثار الاسلامية في محافظة القاهرة

(جامع عمرو بن العاص- جامع احمد بن طولون- الجامع الازهر - كل ماسبق)

٢٧- تقع محمية بين خليجي العقبة والسويس

(رأس محمد - وادي الحيتان- الغابة المتحجرة - وادي الريان)

٢٨- تم حفر تمثال ابو الهول في عهد الملك

(خفرع - خوفو - احمس - منكاورع)

٢٩- من اهم مناطق السياحة العلاجية في مصر.....

(واحة سيوة - شمال سيناء - البحر المتوسط - جميع ماسبق)

٣٠- من المناظر الطبيعية الخلابة الشعاب المرجانية في ساحل

(البحر الاحمر - الدلتا - البحر المتوسط - خليج السويس)

٣١- يجب عدم استخدام..... الكاميرا عند التصوير لانه يؤثر سلباً على بعض القطع الأثرية

(فلاش- ضوء- صور - كل ماسبق)

٣٢- تسعى الدولة لتحويل منطقة الي متحف مفتوح

(سور مجري العيون - الغورية - الأهرام - معبد الكرنك)

٣٤ - يعتبر ترميم مسجد أحمد بن طولون احد مشروعات تطوير منطقة.....

(القاهرة التاريخية - الجيزة - الاقصر - اسوان)

ضع علامة (صح) أو علامة (خطأ) أمام كل عبارة :

- ١- من اهم المحميات التي تعتبر تراث طبيعي محمية رأس محمد (صح)
- ٢- تحتفل منظمة اليونسيف باليوم العالمي في ١٨ ابريل من كل عام . (خطأ)
- ٣- من اهم اثار محافظة الجيزة معبد الكرنك وابوسمبل . (خطأ)
- ٤- من اهم انواع السياحة الثقافية في مصر زيارة مناطق واحة سيوة وجنوب سيناء (خطأ)
- ٥- يتميز مصر بالاعتدال مما جعلها من افضل بلاد العالم سياحيا . (صح)
- ٦- منن المناطق التي تم وضعها في قائمة التراث العالمي معبد الكرنك وابوسمبل. (خطأ)
- ٧- الهدف من انشاء منظمة اليونسكو حماية التراث العالمي (صح)
- ٨- تقع محمية وادي الحيتان والريان في محافظة اسوان (خطأ)
- ٩- اشرف علي بناء برج القاهرة الشهير المهندس نعيم شبيب. (صح)
- ١٠- من اهم المناطق التي تقوم الدولة باعادة احيائها جامع احمد بن طولون وسور مجري العيون في محافظة القاهرة . (صح)

١١- ابتكرت الدولة نوع جديد من السياحة هو السياحة المستدامة (صح)

١٢- واجبنا محو الاثار والمناطق السياحية حمايتها والمحافظة عليها . (صح)

- ١٣- من اهم المؤتمرات التي تنظمها مصر معرض القاهرة الدولي للكتاب (صح)
- ١٤- زيارة مدينة شرم الشيخ والغردقة نوع من السياحة الترفيهية . (صح)
- ١٥- من اهم الاثار المسيحية في مصر دير سانت كاترين جنوب سيناء . (صح)
- ١٦- من اهم الاثار الفرعونية في مصر معبد ابوسمبل في محافظة اسوان (صح)
- ١٧- من اهم الاثار اليونانية الرومانية المسرح اليوناني الروماني . (صح)
- ١٨- توفر الساحة لمصر فرص عمل و تزيد من الدخل القومي . (صح)
- ١٩- زيارة المتاحف يعد نوعا من السياحة العلاجية . (خطأ)
- ٢٠- من أهم الاثار المسيحية في محافظة القاهرة الكنيسة المعلقة (صح)
- ٢١- من اهم المشروعات التي تقوم الدولة بتطويرها شارع المعز وقصر محمد علي (صح)
- ٢٢- تقع مدينة الفسطاط في مصر القديمة . (صح)
- ٢٣- من اهم اثار محافظة الجيزة الاهرامات الثلاثة (صح)
- ٢٤- يوجد في الاسكندرية الكثير من الاثار اليونانية الرومانية . (صح)
- ٢٥- تقع محمية الصحراء البيضاء في الصحراء الشرقية . (خطأ)
- ٢٦- تم افتتاح طريق الكباش الجديد في مدينة الاقصر عام ٢٠٢١ م . (صح)
- ٢٧- من اهم مناطق السياحة الدينية في مصر جنوب سيناء . (صح)
- ٢٨- يأتي السياح الي مصر طوال ايام السنة. (صح)
- ٢٩- يقع جامع احمد بن طولون في مدينة الجيزة . (خطأ)
- ٣٠- قامت منظمة اليونيسكو بإعادة احياء اثار النوبة وابوسمبل . (صح)
- ٣١- السياحة من الانشطة الاقتصادية الهامة بالنسبة لمصر (صح)
- ٣٢- تعتبر الواحات في الصحراء العربية وخاصة واحة سيوة مناطق للجذب السياحي (صح)
- ٣٣- تقام في الصحاري المصرية سياحة السفاري (صح)
- ٣٤- ليس للدولة دور في حماية المنشآت السياحية (خطأ)
- ٣٥- النقاط الصور وانت ملاصق للقطع الاثرية من السلوكيات الصحيحة. (خطأ)
- ٣٦- تعد مدينة القاهرة التاريخية من أبرز المدن التراثية علي مستوي العالم. (صح)
- ٣٧- تساعد الدولة في تنظيم عملية البحث والتقيب عن الآثار. (صح)
- ٣٨- تطوير طريق الكباش يعد دليلا علي جهود الدولة في الاهتمام بالمواقع الاثرية. (صح)
- ٣٩- من الجيد كتابة اسمك علي جدار معبد الكرنك (خطأ)
- ٤٠- يمكن لأي فرد أن يشارك في عملية ترميم الأثار (خطأ)

اسئلة بم تفسر

١- منطقة الفيوم منطقة جذب سياحي ؟

ج/بسبب وجود المناطق السياحية والمحميات الطبيعية مثل وادي الريان ووادي الحيتان .

٢- أهمية السياحة بالنسبة لمصر ؟

ج/ زيادة الدخل القومي وتوفير فرص عمل للشباب .

٣- مدينة القاهرة مدينة جذب سياحي ؟

ج/بسبب وجود الكثير من المناطق السياحية والاثرية مثل المتاحف والقلاع والكنائس مثل الكتيبة المعلقة وبرج القاهرة

٤- يوم من كل ١٨ ابريل اليوم العالمي لليونيسكو ؟

ج/لتوعية دول وشعوب العالم بأهمية التراث الثقافي والحفاظ عليه .

٥- بناء قلعة صلاح الدين في مدينة طابا جنوب سيناء ؟

ج/ لحماية البلاد وتأمينها ومنطقة خليج العقبة والسويس .

٦- تسمية الكنيسة المعلقة بهذا الاسم ؟

ج/ لانها بنيت علي انقاض برجين في الناحية الجنوبية .

٧- انشاء الرومان لحصن بابليون ؟

ج/ لتأمين البلاد والاحتماء به والتصدي من خلاله لخطر جيوش المسلمين .

٨- مدينة شرم الشيخ من اهم مدن الجذب السياحي في مصر ؟

ج/ بسبب المناخ المعتدل وجود المناظر الطبيعية الجميلة مثل الشعب المرجانية .

٩- الأهمية السياحية لمحافظة الجيزة؟

ج/ وجود الاهرامات الثلاثة وتمثال أبو الهول وهرم سقارة .

١٠- بناء الملك خفر لتمثال أبو الهول ؟

ج/ لحماية الاهرامات من السرقة .

١١- بناء المصريين القدماء للأهرامات ؟

ج/ اعتقادا منهم في البعث والخلود مرة أخرى

١٢- أهمية منطقة ابي مينا في محافظة الاسكندرية؟

ج/ تتميز بأنها منطقة سياحية ثقافية ودينية .

١٣- توافد السياح الي مصر طوال العام من كل دول العالم ؟

ج/ بسبب اعتدال مناخ مصر والشمس الساطعة وكثرة اثارها وتنوعها .

١٤- لمدينة الإسكندرية أهمية سياحية وأثرية.

ج/ حيث تعتبر مكانا للجذب السياحي بسبب مناخها المعتدل والاثار اليونانية الرومانية مثل المسرح اليوناني الروماني ومنطقة ابي مينا الاثرية .

١٥- أهمية شبه جزيرة سيناء دينيا ؟

ج/حيث تتميز بوجود جبل موسى جنوب سيناء الذي تلقي فيه سيدنا موسى الوصايا من الله ووجود دير سانت كاترين وهو من الأثار القبطية الهامة .

١٦- تتميز مصر بوجود السياحة العلاجية؟

ج/بسبب وجود المناطق العلاجية الهامة في الصحراء الغربية في واحة سيوه وايضا البحر الأحمر وجنوب سيناء والمياه الكبريتية التي يستمتع بها السياح .

١٧- أهمية الصحاري المصرية سياحيا ؟

ج/تعد مناطق مهمة للجذب السياحي بسبب وجود سياحة السفاري والمحميات الطبيعية والسياحة العلاجية في منطقة الصحراء الغربية

١٨- انشاء الدولة للمحميات الطبيعية

ج : لحماية الحيوانات النادرة من الانقراض والحفاظ علي الارث الطبيعي والحفريات والنبات الطبيعي وايضا تعد من اهم مناطق الجذب السياحي في مصر

١٩- أهمية منظمة اليونيسكو بالنسبة لمصر؟

ج/١- قامت باحياء الكثير من الاثار المصرية مثل ابوسمبل والنوبة وتم وضع الكثير من الاثار المصرية في قائمة التراث العالمي لليونيسكو مثل معبد فيلة وابوسمبل والنوبة

٢٠- ظهور السياحة المستدامة حيثًا؟

ج/ للحفاظ علي البيئة والموارد الطبيعية وترشيد استهلاك الطاقة والمياه في المنشآت السياحية والتعامل الأمن مع المخلفات والاعتماد علي الطاقة النظيفة .

٢١- ضرورة احترام السياح وحسن معاملتهم؟

ج/ لترك انطباعات حسنة لدي السائح والاقبال علي زيارة مصر وزيادة النشاط السياحي

٢٢- اهتمام الدولة بتطوير المشروعات السياحية؟

ج/ للحفاظ عليها وتنمية النشاط السياحي وتحقيق التنمية السياحية .

٢٣- أهمية منطقة البحر المتوسط سياحيا ؟

ج/ يتميز بالمناخ المعتدل ووجود المناطق السياحية الهامة مثل مرسى علم ومرسى مطروح .

٢٤- تتميز مصر بوجود السياحة الثقافية؟

ج/ بسبب وجود الكثير من المناطق السياحية الهامة والاثرية مثل المتاحف والقلاع وشارع المعز ومنطقة خان الخليلي وأهرامات مدينة الجيزة ومكتبة الاسكندرية التي تضم الكثير من المؤلفات

٢٥- قيام الدولة بتطوير منطقة الأهرامات؟

ج/ استرجاع الدولة للصور التاريخية للمنطقة وتعظيم قيمتها التاريخية عن طريق تحويلها الي متحف مفتوح

٢٦- أهمية الحفاظ علي الأماكن الاثرية خلال زيارتك؟

ج/ بسبب اهميتها الاقتصادية والتاريخية للمناطق الأثرية والسياحية .

٢٧- حرص الدولة علي تطوير مدينة القاهرة التاريخية؟

ج/ لانها من ابرز المدن التراثية التاريخية علي مستوى العالم

٢٨- اصدار الدولة بعض القوانين الخاصة بحماية الاثار؟

ج/ لتجريم الاتجار بها والاعتداء عليها .

اكتب المفهوم الذي تشير اليه العبارات الآتية

١- يشمل المواقع الطبيعية الجميلة ذات القيمة العالية التي لم يتدخل الانسان في صناعتها أو التاثر فيها

التراث الطبيعي

٢- مناطق تم انشاؤها للحفاظ علي الحيوانات النادرة من الانقراض والحفاظ علي الارث الطبيعي من حفريات جيولوجية ونبات طبيعي وغيرها المحميات الطبيعية

٣- محمية طبيعية تم انشائها في حي المعادي شرق القاهرة ، الغابة المتحجرة

٤- قلعة تم بنائها في مدينة طابا جنوب سيناء قلعة صلاح الدين

٥- منظمة تحتفل باليوم العالمي لها يوم ٨ ابريل من كل عام اليونيسكو

٦- محمية طبيعية تقع في مدينة الفيوم تشتهر بالمناظر الطبيعية مثل البحيرات والشلالات وادي الريان

٧- سياحة تعتمد علي زيارة الاماكن التاريخية مثل المتاحف والمعابد السياحة الثقافية

٨- سياحة تقوم في الصحراء وتعتمد علي زيارة المحميات الطبيعية سياحة السفاري

٩- سياحة تهدف لزيارة المناطق التي يوجد بها مياه كبريتية ورمال ساخنة السياحة العلاجية

١٠- سياحة تهدف الي زيارة المناطق المقدسة الاسلامية والمسيحية مثل المساجد والكنائس والاديرة

السياحة الدينية

١١- مدينة مصرية تشتهر بالمناظر الطبيعية الخلابة وتم وضعها ضمن قائمة التراث العالمي لمنظمة

اليونيسكو العالمية شرم الشيخ

١٢- الحفاظ علي البيئة والموارد الطبيعية وترشيد استهلاك الطاقة والمياه في المنشآت السياحية والتعامل

الأمني مع المخلفات والاعتماد علي الطاقة النظيفة ، السياحة المستدامة

١٣- خاصة دينية اعتقد فيها المصريين القدماء بالحياة بعد الموت البعث والخلود

١٤- طريق يقع في مدينة الاقصر تم اعادة افتتاحه عام ٢٠٢١ م طريق الكباش

١٤- معبد يقع في جنوب مصر في مدينة اسوان قامت منظمة اليونيسكو العالمية بانقاذه من الغرق واعادة

احيائه معبد ابوسمبل

١٥- حصن قديم تم انشاءه في عصر الرومان يقع الان في مصر القديمة حصن بابليون

١٦- سياحة تهدف لحضور المؤتمرات والمهرجانات سياحة المؤتمرات والمؤتمرات

١٧- مدينة مصرية تتميز بوجود الاهرامات وتمثال ابو الهول الجيزة

١٨- تمثال تم حفره في عهد الملك خفرع من ملوك الدولة القديمة أبو الهول

١٩- مدينة مصرية تقع علي البحر المتوسط تشتهر بودود المناطق الاثرية مثل منطقة ابي مينا والمسرح اليوناني الروماني

الاسكندرية

٢٠- محمية طبيعية تقع بين خليجي العقبة والسويس رأس محمد

٢١- محمية طبيعية تشتهر بوجود بقايا الاسماك والحفريات تقع في مدينة الفيوم وادي الحيتان

٢٢- مدينة مصرية تشتهر بوجود الاثار الاسلامية مسجد جامع عمرو بن العاص والكنائس مثل الكنيسة

القاهرة

المعلقة البرج

النوبة

٢٣- منطقة جنوب مصر قامت منظمة اليونيسكو باحيائها

صوب ماتحته خط في العبارات الآتية

- ١- تقع محمية وادي الريان في مدينة القاهرة (الفيوم)
- ٢- زيارة الصحاري المصرية تعد ساحة دينية. (سفاري)
- ٣- تقع محمية الصحراء البيضاء في الصحراء الشرقية (الغربية)
- ٤- من اهم الاثار التي تقع شمال سيناء قلعة صلاح الدين (جنوب)
- ٥- يوجد المسرح اليوناني الروماني في مدينة الجيزة. (الاسكندرية)
- ٦- قامت منظمة اليونسيف باحياء اثار ابوسمبل والنوبة. (اليونيسكو)
- ٧- التحنيط هي العودة الحياة بعد الموت مرة اخري (البعث والخلود)
- ٨- حصن بابلون من اهم المنشآت التي بنيت في عهد البطالمة (الرومان)
- ٩- تنتشر الشعاب المرجانية في مصر في البحر المتوسط. (الأحمر)
- ١٠- نحصل من النشاط الرعي علي العملات الاجنبية. (السياحي)
- ١١- ظهر مفهوم السياحة العلاجية للحفاظ علي الموارد البيئية. (المستدامة)
- ١٢- تقع الكنيسة المعلقة في محافظة الاقصر. (القاهرة)
- ١٣- من اهم المشروعات التي تقوم الدولة بتطويرها سور الصين (مجري العيون)
- ١٤- الشعاب المرجانية في مصر تنتشر في البحر المتوسط (البحر الأحمر)
- ١٥- يجب التقاط الصور بفلاش بجانب القطع الاثرية (بدون فلاش)
- ١٦- تنظيم التنقيب والبحث عن الاثار يعد مسنولية الفرد (الدولة)

١٢- اهتمام الدول بالآثار المصرية.

ج/ اصدار الدولة العديد من القوانين للحفاظ علي الآثار .

١٣- وجود المناظر الطبيعية بالصحاري المصرية .

ج/ اصبحت من اهم المناطق في سياحة السفاري وتوافد عدد كبير من السياح .

١٤- احتلال الرومان لمصر من الناحية العمرانية.

ج/ بناء الكثير من الحصون مثل حصن بابليون .

١٥- توافر المناظر اطيبيعية والمحميات الطبيعية في مدينة الفيوم.

ج/ اصبحت مدينة الفيوم من مناطق الجذب السياحي وتوافر السياحة الترفيهية .

١٦- استضافة مصر للمؤتمرات الدولية.

ج/ تقدمت مصر في سياحة المؤتمرات والمهرجانات .

١٧- اهتمام منظمة اليونيسكو بمدينة شرم الشيخ .

ج/ وضع مدينة شرم الشيخ ضمن قائمة التراث العالمي لليونيسكو .

١٨- تنوع المناطق السياحية في مصر.

ج/ زيادة النشاط السياحي والدخل القومي لمصر .

١٩- الأحوال المناخية بالنسبة للمواقع الاثرية .

ج/ الاضرار بالآثار واتلاف الكثير منها .

٢٠- السياحة بالنسبة للإقتصاد المصري.

ج/ توفير فرص عمل والعملات الأجنبية وزيادة الدخل القومي لمصر .

٢١- اهتمام المصريين القدماء بفنون العمارة.

ج/ بناء الكثير من المعابد مثل معبد الكرنك وابوسمبل واهرامات الجيزة

٢٢- الكتابة علي جدران المعابد والآثار المصرية.

ج/ العبث بالجدران وتشويه صورتها الجمالية .

الطارق

فى

الدراسات الإجتماعية

الصف الرابع الإبتدائى

الوحدة الثالثة

الأسئلة وإجابة

إعداد

أ / طارق رمضان

س اضع علامة (✓) أمام العبارة الصحيحة أو (×) أمام العبارة الخاطئة

- ١- أنشئ متحف السكك الحديدية بمصر بمدينة الإسكندرية (خطأ) القاهرة
- ٢- كانت رحلات الملك خوفو إلى فينيقيا لجلب أخشاب الأرز (خطأ) الملك سنفرو
- ٣- دخلت العربات الحربية إلى مصر مع غزو الهكسوس لها (صح)
- ٤- دخلت أول سيارة لمصر في عهد الخديو توفيق بعد الثورة الصناعية (صح)
- ٥- مصر ثانی دولة فی أفريقيا والشرق الأوسط فی إنشاء السكك الحديدية (خطأ) أولى
- ٦- أول خط سكك حديد في مصر كان يربط بين القاهرة والإسكندرية (صح)
- ٧- أول محاولات الإنسان للطيران في الجو كانت على يد الأخوين رايت (خطأ) عباس ابن فرناس
- ٨- شركة مصر للطيران أول شركة طيران تشغل خطوطاً جوية في الشرق الأوسط (صح)
- ٩- الثورة الصناعية لها دور رئيسي في تطور السيارات (صح)
- ١٠- ساعدت وسائل النقل على التواصل الحضاري بين الدول (صح)
- ١١- تغيرت وسائل النقل والمواصلات عبر الزمن (صح)
- ١٢- استخدم المصريون القدماء الدواب في التنقل وحمل الأشياء (صح)
- ١٣- استخدمت وسائل النقل في التجارة مثل جلب البخور والأخشاب من بلاد بونت (صح)
- ١٤- تم مد أول خط سكة حديد بين القاهرة والجيزة ١٨٥٦ (خطأ) القاهرة والإسكندرية
- ١٥- فشل الأخوان (رايت) في الطيران الحقيقي (خطأ)
- ١٦- قام الملك سنفرو برحلات إلى بلاد فينيقيا لجلب خشب الأرز (صح)
- ١٧- اشتهرت مصر بأنها أول دولة عربية وأفريقية في استخدام السكك الحديدية (صح)
- ١٨- نجحت رحلة الملكة حتشبسوت في جلب البخور من بلاد فينيقيا (خطأ) بلاد بونت

- ١٩- تطورت وسائل النقل المائي لتشمل البواخر وناقلات البترول (صح)
- ٢٠- كان أول خط سكة حديد في مصر يربط بين القاهرة والأسكندرية (صح)
- ٢١- تساعد وسائل النقل والمواصلات في نقل الأفراد والسلع (صح)
- ٢٢- ساعدت وسائل النقل المختلفة علي انتشار التجارة بين الدول (صح)
- ٢٣- نجح عباس بن فرناس في الطيران بجناحية (خطأ)
- ٢٤- استخدم المصري القديم قديمه للتجديف قبل استخدامه للخشب (صح)
- ٢٥- تعد طائرة الأخوين رايت هي أول طائرة في التاريخ (صح)
- ٢٦- أخذ الهكسوس عن المصريين استخدام العربات الحربية (خطأ) العكس
- ٢٧- قام البنك الأهلي بتأسيس شركة مصر للطيران (خطأ) بنك مصر
- ٢٨- تعد ناقلات البترول والبواخر من أبرز وسائل النقل المائي (صح)
- ٢٩- عُثر على مركب خوفو في الجهة الشمالية من الهرم (خطأ) الجنوبية
- ٣٠- الدراجات وسيلة إنتقال تساهم في إزدحام المرور (خطأ)

س ٢ بم تفسر

- ١- أهمية الدواب عند قدماء المصريين : استخدموها في التنقل وحمل الأشياء
- ٢- أهمية السكك الحديدية ؟ تستخدم لنقل الركاب والبضائع
- ٣- أهمية السفن والمراكب عند المصريين القدماء ؟ كانت تستخدم في نقل الركات - الإحتفالات - التجارة
- ٤- إرسال الملكة حتشبسوت رحلات تجارية إلى بلاد يوننت ؟ لإحضار البخور والأخشاب
- ٥- أهمية وسائل النقل المختلفة علي المجتمع ؟
- أ - وفرت الوقت والجهد لإنتقال الأفراد والسلع
- ب - ساعدت على التبادل التجاري
- ج - ساعدت على التواصل الحضارى
- ٦- إرسال الملك سنفرو رحلات إلى بلاد فينيقيا : لجلب أخشاب الأرز

س ٣- أكمل العبارات التالية:

- ١ - تعتبر مركب الملك خوفو..... أشهر المراكب في مصر القديمة
- ٢ - استخدام الدواب في التنقل يعد أحد وسائل النقل البرى.....
- ٣ - ظهرت السيارات في مصر بعد قيام الثورة الصناعية.....
- ٤ - من وسائل النقل المائي الحديثة البواخر وناقلات البترول و..... الغواصات.....
- ٥ - أول سيارة دخلت مصر كانت تعتمد علي طاقة البخار.....
- ٦ - اول من حاول الطيران باستخدام أجنحه هو عباس ابن فرناس.....
- ٧ - تعتبر مصر أول دول افريقية أنشأت السكك الحديدية.....
- ٨ - أرسلت الملكة حتشبسوت رحلات تجارية الي بلاد بونت.....
- ٩- أنشئ متحف هيئة السكك الحديدية عام ١٩٣٢ فى مدينة القاهرة.....
- ١٠- استخدم المصريون القدماء الدواب مثل الحصان والحمار والجمل.....
- ١١- كانت السفن قديماً تستخدم فى نقل الركاب..... و التجارة..... و الإحتفالات.....
- ١٢- كانت رحلات الملك سنفرو إلى بلاد فينيقيا..... لجلب أخشاب الأرز
- ١٣- قامت الملكة حتشبسوت..... بعده رحلات إلى بلاد بونت لجلب البخور والأخشاب
- ١٤- من أمثلة النقل المائى القوارب..... و السفن.....
- ١٥- دخلت العربات الحربية إلى مصر مع غزو الهكسوس..... لها
- ١٦- دخلت السيارات مصر عام ١٨٩٠ فى عهد الخديو توفيق..... وكانت تعمل بطاقة البخار.....
- ١٧- تعتبر مصر أول دولة فى فريقيا والشرق الأوسط فى إنشاء السكك الحديدية..... بينما ترتيبها الثانى..... عالمياً بعد المملكة المتحدة

١٨- كان أول خط سلك حديد فى مصر عام ١٨٥٦ يربط بين مدينة **القاهرة** و **الإسكندرية**...

١٩- أول محاولة للطيران كانت على يد **عباس بن فرناس**.. بينما نجح الأخوان **رايت**..... فى

الطيران الحقيقى عام ١٩٠٣

٢٠- أول شركة طيران فى مصر هى شركة **مصر للطيران**..... وترتيبها **السابع**.... على

مستوى العالم

٢١- تُعد شركة مصر للطيران إحدى مؤسسات بنك **مصر**.....

٢٢- من أمثلة محاولات الطيران محاولة **عباس بن فرناس**..... للطيران بجناحين مثل الطيور

٢٣- تُعد السكك الحديدية المصرية الأولى فى **أفريقيا**..... و **الشرق الأوسط**

.... والثانية عالمياً بعد **المملكة المتحدة (بريطانيا)**.....

٢٤- وسيلة للتقل كان يجرها الحصان وبدأت مع غزو الهكسوس لمصر **العجلات الحربية**.....

٢٥- الملك سنفرو جلب من بلاد فينيقيا **أخشاب الأرز**.....

٢٦- سابع شركة طيران على مستوى العالم هى شركة **مصر للطيران**.....

٢٧- ثانى بلد فى إنشاء السكك الحديدية عالمياً **مصر**.....

٢٨- كانت محاولة **عباس بن فرناس** للطيران مستوحاة من **الطيور**.....

٢٩- تطورت السيارات عبر الزمن بفضل **العلم**.....

٣٠- المصري القديم صنع القوارب من نبات **البردى**.....

٣١- أقدم أثر مصنوع من الخشب فى التاريخ هو **مركب خوفو**.....

س إخترا الإجابة الصحيحة مما بين القوسين

- ١- الملك سنفرو أرسل رحلات تجارية إلى فينيقيا لجلب أخشاب
(السنط - الأرز - البلوط - الزان)
- ٢- من وسائل النقل المائي ولم تكن موجودة قديماً
(القوارب - السفن - الغوصات - المراكب)
- ٣- الثورة الصناعية وإختراع الماكينات ظهر بسبب طاقة
(البخار - الكهرباء - الماء - الشمس)
- ٤- السيارات دخلت مصر عام ١٨٩٠ م فى عهد الخديو
(إسماعيل - سعيد - توفيق - عباس)
- ٥- أول محاولة للطيران قام بها
(الحسن بن الهيثم - جابر بن حيان - ابن سينا - عباس ابن فرناس)
- ٦- المركز الذى تحتلته شركة مصر للطيران من حيث الإنشاء على مستوى العالم
(الخامس - السادس - السابع - الثامن)
- ٧- عندما إستقر المصرى القديم على ضفاف نهر النيل عرف
(الصناعة - الزراعة - التجارة - التعدين)
- ٨- القوارب صنعت فى عصر القدماء المصريين من نبات
(الصبار - البردى - النخيل - الزيتون)
- ٩- يؤثر فى تطور وسائل النقل
(العلم - السفن - الطائرات - السيارات)
- ١٠- كانت رحلات الملكة حتشبسوت إلى بلاد لجلب البخور والأخشاب
(فينيقيا - بونت - قبرص - روما)
- ١١- دخلت العربات الحربية إلى مصر مع غزو لها
(الفرس - الإسكندر - الهكسوس - الرومان)
- ١٢- أول سيارة فى مصر كانت تعمل بطاقة
(البخار - البنزين - الكهرباء - الشمس)
- ١٣- كانت سبباً فى اختراع الماكينات وتطور صناعة السيارات
(اختراع الكتابة - الثورة الصناعية - الإنترنت - الزراعة)
- ١٤- كان أول خط سكه حديد فى مصر يربط بين مدينتى القاهرة و
(السويس - أسوان - سوهاج - الإسكندرية)
- ١٥- قام بأول محاولة للطيران
(عباس بن فرناس - الأخوان رايت - أديسون - جرهام بيل)
- ١٦- تعتبر شركة مصر للطيران تاريخياً على مستوى العالم فى تشغيل الخطوط الجوية
(السادسة - السابعة - الثامنة - التاسعة)

- ١٧- زادت مصر قارة أفريقيا تقدماً بعد إنشاء بها
(**السكك الحديدية** - السيارات - ناقلات البترول - مترو الأنفاق)
- ١٨- أرسل الملك بعثات تجارية لبلاد فينيقيا
(**سنفرو** - خوفو - حتشبسوت - أحمس)

النتائج المترتبة علي :

- ١- محاولة عباس بن فرناس الطيران : فشلت المحاولة
 - ٢- احتلال الهكسوس مصر بالنسبة لوسائل النقل ؟ أخذ المصريين منهم فكرة العجلات الحربية
 - ٣- محاولة الأخوين رايت الطيران : نجحت المحاولة
 - ٤- الثورة الصناعية : إختراع الماكينات - إختراع السيارات التي تعمل بالبخار
 - ٥- مد خطوط السكك الحديدية عبر محافظات مصر : تستخدم في نقل الركاب والبضائع
 - ٦- تطور وسائل النقل عبر العصور :
- وفرت الوقت والجهد - ساعدت على التبادل التجاري - ساعدت على التواصل الحضارى

س ما العلاقة بين

- ١- الدواب والنقل في مصر القديمة : استخدم المصريون القدماء الدواب كوسائل للنقل
- ٢- الهكسوس والعربات الحربية في مصر : أخذ المصريون العجلات الحربية من الهكسوس
- ٣- الثورة الصناعية والسيارات : بعد الثورة الصناعية تم إختراع السيارات التي تعمل بالبخار
- ٤- بنك مصر وشركة مصر للطيران : تعتبر شركة مصر للطيران إحدى إنجازات بنك مصر
- ٥- وسائل النقل والتواصل الحضارى : تساعد وسائل النقل على التواصل الحضارى
- ٦- العلم ووسائل النقل : ساعد العلم على تطوير وسائل النقل
- ٧- الدراجات والبيئة : تساعد الدراجات على عدم تلوث البيئة

٨- نبات البردى ووسائل النقل : صنع المصرى القديم القوارب من نبات البردى

س ماذا يحدث إذا

١- لم تظهر قوة البخار : لم يتم إختراع الماكينات - أو السيارات

٢- لم يتأمل عباس بن فرناس حركة الطيور : لم يفكر فى الطيران بجناحين

طارق رمضان

أنواع وسائل النقل فى حياتنا

- أكمل العبارات التالية:

- ١- النقل البرى يشمل **السكك الحديدية** و **الطرق المرصوفة**
- ٢- السكك الحديدية تربط بين محافظات الوجة **البحرى** و **القبلى**
- ٣- السكك الحديدية تشمل قطارات لنقل **البضائع** و نقل **الأفراد**
- ٤- مترو الأنفاق يربط بين مدينة **القاهرة** و **الجيزة** و **شبرا الخيمة**
- ٥- أول دولة عربية وإفريقية فى إنشاء مترو الأنفاق هى **مصر**
- ٦- يشمل النقل البرى **الأتوبيسات** لنقل الركاب و **الشاحنات** لنقل البضائع
- ٧- أرخص أنواع النقل هو النقل **النهرى**
- ٨- يستخدم النقل المائى فى نقل **البضائع** كبيرة الحجم و **ثقيلة** الوزن
- ٩- ينقسم النقل المائى إلى **النهرى** و **البحرى**
- ١٠- يستخدم النقل النهرى فى نقل المواد الخام اللازمة لـ **للصناعة** ونقل الركاب
- ١١- من موانئ مصر على البحر المتوسط **الأسكندرية** و **دمياط**
- ١٢- من موانئ مصر على البحر الأحمر **الغردقة** و **سفاجا**
- ١٣- من عيوب النقل المائى أنه **بطئ**
- ١٤- النقل الجوى يستخدم فى نقل الركاب و **البضائع** سريعة التلف
- ١٥- يتميز النقل الجوى بـ **السرعة و الإنتشار وتخطى المرتفعات والبحار**
- ١٦- من أمثلة المطارات فى مصر مطار **القاهرة الدولى** و **برج العرب** و **أسوان**
- ٢١- أرخص أنواع النقل فى مصر هو النقل **النهرى**
- ٢٢- يربط مترو الأنفاق بين ثلاث مدن مصرية هى **القاهرة** و **الجيزة** و **شبرا الخيمة**
- ٢٣- تهدف الدولة للانتهاج من مشروع **القطار الكهربائى** لربط العين السخنة بمدينة العلمين
- ٢٤- اذا كنت من سكان العاصمة فمطار **القاهرة** هو اقرب مطار اليك

- ٢٥- إذا أردنا نقل حمولة من الفوسفات فأفضل أنواع النقل هو **النهرى**
- ٢٦- من وسائل النقل المستدام **الأتوبيسات الكهربائية**
- ٢٧- قامت الدولة بإنشاء **الكبارى** و..... **المحاور** لتخفيف الضغط المروري في القاهرة
- ٢٨- يعتمد النقل المستدام علي استخدام مصادر..... **طاقة نظيفة**
- ٢٩- تنتشر الموانئ علي البحر الأحمر ومنها ميناء..... **الغردقة** و **سفاجا**
- ٣٠- أسرع وسائل النقل هو **الجوى (أو الطائرات)**

ضع علامة (✓) أمام العبارة الصحيحة أو (×) أمام العبارة الخاطئة

- ١ - مصر ثانى دولة أفريقية وعربية فى إنشاء مترو الأنفاق (**خطأ**) الأولى
- ٢- النقل المائى أرخص أنواع النقل لكنه بطئ (**صح**)
- ٣- يستخدم النقل النهري فى النزحات النيلية (**صح**)
- ٤- يتم النقل البحرى عن طريق قناة السويس والموانئ البحرية (**صح**)
- ٥- من أمثلة الموانئ على البحر الأحمر ميناء دمياط والإسكندرية (**خطأ**)
- ٦- من أمثلة الموانئ على البحر المتوسط ميناء الغردقة وسفاجا (**خطأ**)
- ٧- يتميز النقل الجوى بالسرعة ولكن تكاليفه مرتفعة (**صح**)
- ٨- من أمثلة المطارات فى مصر مطار برج العرب بالقاهرة (**خطأ**) فى الإسكندرية
- ٩- يعد ميناء الغردقة من أهم موانئ البحر الأحمر (**صح**)
- ١٠- تعتمد وسائل النقل المستدام على استخدام مصادر طاقة نظيفة (**صح**)
- ١١- يستخدم النقل المائى فى نقل البضائع ثقيلة الوزن (**صح**)
- ١٢- يتم النقل البحرى فى مصر عن طريق نهر النيل (**خطأ**)
- ١٣- النقل المائى هو أسرع أنواع النقل فى مصر (**خطأ**)
- ١٤- يتميز النقل الجوى بالسرعة لكن تكلفته عالية (**صح**)

بم تفسر:

- ١- أهمية مترو الأنفاق؟ يربط ٣ مدن مصرية هي القاهرة والجيزة وشبرا الخيمة
- ٢- أهمية النقل الجوي؟ يستخدم في نقل الركاب - البضائع سريعة التلف
- ٣- اهتمام الدولة بالنقل المستدام؟ للحفاظ على البيئة من التلوث
- ٤- تشجيع الدولة المواطنين علي استخدام النقل الجماعي؟ للتوسع في استخدام النقل المستدام
- ٥- اهتمام الدولة بإنشاء الكباري والطرق؟
- أ - تخفيف الضغط المروري ب- تقليل الحوادث ج - تقليل المسافات
- ٦- السفن أفضل من الشاحنات في نقل المواد الخام الثقيلة؟ لأنها أرخص وسائل النقل
- ٧- تحويل كثير من السيارات لتعمل بالغاز الطبيعي: للمحافظة على البيئة من التلوث
- ٨- يفضل النقل الجوي في نقل البضائع سريعة التلف؟
لأنه يتميز بالسرعة والإنتشار وتخطى المرتفعات والبحار
- ٩- إهتمام الدولة بتطوير الموانئ:
 - ١- تقليل زمن إنتظار السفن خارج الميناء
 - ٢- زيادة كمية البضائع المتداولة
 - ٣- زيادة مساحات التخزين في الميناء
- ١٠- أهمية مشروع القطار الكهربائي السريع :
لربط مدينة العين السحنة بمدينة العلمين مروراً بالعاصمة الإدارية الجديدة
- ١١- أهمية قطار المنوريل المعلق :
ربط العديد من المدن المصرية ببعضها

دليل علي صحة العبارة

١) للنقل الجوي عيوب ومميزات

العيوب : ارتفاع التكاليف - المميزات : السرعة والإنتشار وتخطى المرتفعات

٢) للنقل المائي عيوب ومميزات

العيوب : بطيء - المميزات : يستخدم في نقل البضائع كبيرة الحجم وثقيلة الوزن

٣) تتنوع وسائل النقل في مصر

حيث يوجد النقل البري والمائي والجوي

٤) النقل المستدام يؤثر إيجاباً علي البيئة

١- يقلل التلوث ٢- توفير استخدام الوقود

إخترا الإجابة الصحيحة مما بين الأقواس

١- شاركت مصر في مؤتمر النقل المستدام الذي عقد في

(**بكين** - لندن - نيويورك - موسكو)

٢- يعتمد النقل المستدام على مصادر طاقة نظيفة مثل

(البنزين - السولار - **الغاز الطبيعي** - الفحم)

٣- أول دولة عربية وإفريقية في إنشاء مترو الأنفاق هي

(المغرب - تونس - **مصر** - الجزائر)

٤- أرخص أنواع النقل هو

(النقل الجوي - **النقل المائي** - النقل البري - كل ما سبق)

٥- تهدف الدولة إلى إنتهاء من مشروع لربط العين السخنة بمدينة العلمين

(**القطار الكهربائي السريع** - طريق الإسكندرية الصحراوي - كوبري ٦ أكتوبر - طريق صلاح سالم)

٦- إذا كنت من سكان الإسكندرية فمطار الأقرب إليك

(القاهرة الدولية - برج العرب - أسوان - شرم الشيخ)

٧- يهدف مشروع المعلق إلى ربط العديد من المدن المصرية ببعضها

(المونوريل - كوبرى قناة السويس - كوبرى ٦ أكتوبر - كوبرى ١٥ مايو)

٨- أسرع وسائل النقل وأعلىها تكلفة

(المائى - البرى - الجوى - كما سبق)

٩- من الموانئ المصرية على البحر الأحمر ميناء

(العريش - السلوم - سفاجا - الإسكندرية)

١٠- قامت الدولة بتحويل الكثير من السيارات لتعمل بـ لخفض معدلات تلوث الهواء

(الغاز الطبيعى - البنزين - السولار - الفحم)

س إكتب ما تشير إليه العبارة

١- تشجع الدولة على إستخدامة لتقليل استخدام السيارات الخاصة (النقل الجماعى)

٢- يستخدم فى نقل البضائع كبيرة الحجم وثقيلة الوزن (النقل المائى)

٣- وسيلة نقل تربط القاهرة والجيزة وشبرا الخيمة ببعضها (مترو الأنفاق)

٤- مشروع لربط العين السخنة بالعلمين الجديدة مروراً بالعاصمة الإدارية (القطار الكهربائى السريع)

٥- يستخدم فى نقل الركاب والبضائع سريعة التلف (النقل الجوى)

٦- يتم عن طريق قناة السويس والموانئ البحرية (النقل البحرى)

٧- أرخص وسائل النقل (النقل النهري)

٧- استخدام وسائل نقل صديقة للبيئة تستخدم مصادر طاقة نظيفة (النقل المستدام)

٨- مدينة عُقد بها مؤتمر النقل المستدام الذى شاركت فيه مصر (بكين)

٩- يشمل السكك الحديدية والسيارات والشاحنات (النقل البرى)

س ماذا يحدث إذا :

١- إقتصرت وسائل النقل في مصر على وسيلة واحدة

يزداد الإندحام على هذه الوسيلة - يزيد زمن الرحلة

٢- استخدمت السيارات الغاز الطبيعي بدلاً من البنزين

المحافظة على البيئة من التلوث

طارق رمضان

قواعد وأخلاقيات استخدام وسائل النقل

- أكمل العبارات التالية:

- ١ - اليوم العالمي للمرور يوافق يوم ٤ مايو من كل عام
- ٢- من علامات المرور علامات إرشادية توضح معالم الطريق للسائق
- ٣- الخط الأصفر المتصل يفصل حركة مرور السيارات في الإتجاهين المتضادين
- ٤- من علامات المرور علامات الزامية التى تشير إلى الإتجاه الإلزامى أو الطريق الإجبارى
- ٥- العلامات الضوئية تنقسم إلى علامات ضوئية تضى باللون .. الأحمر ... أو .. الأصفر .. و الأخضر
- ٦- تشير العلامات التحذيرية إلى منطقة عمل أو منطقة زراعية أو وجود منحدر
- ٧- تشير العلامات المنع إلى السلوكيات التى يجب تجنبها أثناء القيادة
- ٨- يجب على المشاة الإنتباه إلى إشارات المرور عند عبور الطريق
- ٩- عند استخدام وسائل النقل يجب عدم استخدام المقاعد المخصصة لكبار السن
- ١٠- يجب إفساح الطريق لسيارة الإسعاف ... عند سيرها
- ١١- يجب عدم جلوس الأطفال في المقاعد الامامية للسيارة
- ١٢- يجب عدم التحدث في الهاتف أثناء القيادة
- ١٣- يجب علينا عدم الجلوس في المقاعد المخصصة لكبار السن و المرضى و الحوامل

بم تفسر

- ١- أهمية وجود كاميرات مراقبة علي الطريق ؟ لمعرفة مدى الإلتزام بقواعد المرور
- ٢- اصدار قانون المرور ؟ لتنظيم حركة المرور
- ٣- يجب عدم تناول الطعام والشراب أثناء القيادة ؟ لتجنب وقوع الحوادث
- ٤- يجب عليك استخدام الكباري او الانفاق اثناء عبور الطريق ؟ منعاً لوقوع الحوادث

٥- أهمية وجود العلامات المرورية الارشادية علي الطريق ؟ لتنظيم الحركة المرورية

٦- قيام الدولة بوضع ملصقات إلكترونية على كل سيارة ؟ لمعرفة مدى الإلتزام بقواعد المرور

ضع علامة (√) أمام العبارة الصحيحة أو (×) أمام العبارة الخاطئة

- ١- يجب علينا افساح الطريق أمام سيارات الاسعاف (صح)
- ٢- قيام بعض الأشخاص بالكتابة علي مقاعد المترو يعد تصرف صحيحا (خطأ)
- ٣- الإلتزام بقواعد المرور يحافظ على أرواح الناس (صح)
- ٤- اذا أردت الوصول الي المستشفى فانك ستبحث عن العلامة من العلامات الارشادية (صح)
- ٥- يوافق يوم ٤ مايو اليوم العالمي للمرور (صح)
- ٦- تنقسم علامات المرور إلى ثلاثة أقسام (خطأ) ستة
- ٧- العلامات الإرشادية توضح مسار تحرك السيارة على الطريق (خطأ) العلامات الأرضية
- ٨- يجب على المشاة عند عبور الطرق إستخدام كبارى (صح)
- ٩- علامات المنع تشير إلى المخاطر المحتملة مثل منطقة عمل (خطأ) العلامات التحذيرية
- ١٠- تقوم الدولة بإصدار قانون المرور ووضع كاميرات لمعرفة مدى الإلتزام بقواعد المرور (صح)
- ١١- عند إستخدام وسائل النقل يمكن استخدام جميع المقاعد بوسيلة النقل (خطأ)
- ١٢- من السلوكيات الإيجابية الكتابة على وسائل النقل والتلوين بوسيلة النقل (خطأ)
- ١٣- يجب إفساح الطريق لسيارة الإسعاف أثناء سيرها (صح)

س إختتر الإجابة الصحيحة مما بين الأقواس

- ١- يعتبر يوم ١٤ مايو من كل عام هو اليوم العالمي لـ
(السياحة - الأمية - المرور - الشعر)
- ٢- تنقسم علامات المرور إلى أقسام
(ستة - سبعة - ثمانية - تسعة)
- ٣- وجود مركز إسعاف أو محطة وقود توضحهما علامات
(ضوئية - إرشادية - أرضية - فضائية)

٤- عدم استخدام آله التنبيهية توضح علامات

(تحذيرية - ضوئية - المنع - عقابية)

٥- قامت الدولة بوضع كاميرات على الطرق وإصدار قانون لحصر أماكن

الكثافة المرورية (التعليم - المرور - الآثار - السلام)

٦- الإلتزام بقواعد وأداب المرور يقلل من

(الحوادث - النظام - وسائل النقل - السلامة)

س إكتب ما تشير إليه العبارات التالية

١- علامات توضح وجود مطعم على الطريق (علامات إرشادية)

٢- خطوط مرسومة على الأرض توضح مسار تحرك السيارة على الطريق (علامات أرضية)

٣- علامات توضح الطريق الإجبارى لسير الدراجات (علامات أرضية)

٤- إرشادات على شكل إنسان تضئ باللون الأحمر أو الأخضر (علامات ضوئية)

٥- علامات توضح منع الإنتظار (علامات المنع)

٦- علامات توضح وجود منحدر خطر (علامات تحذيرية)

٧- قانون لحصر أماكن الكثافات المرورية والتعامل معها (قانون المرور)

٨- سيارة يجب الإفصاح لها فى أى وقت على الطريق (الإسعاف)

تطور وسائل الإتصالات

- أكمل العبارات التالية:

- ١- تبدأ العصور التاريخية بمعرفة الإنسان لـ الكتابة.....
- ٢- استخدام المصريون القدماء الدخان..... و قرع الطبول... لإرسال إشارات للآخرين
- ٣- بعد معرفة الإنسان المصرى القديم للكتابة تطورت وسائل التواصل.....
- ٤- استخدام المصرى القديم ورق البردى..... لكتابة الرسائل
- ٥- استخدام الإنسان قديماً الحمام الزاجل..... لإرسال الرسائل بسبب سرعته
- ٦- كان أول خط هاتفى فى مصر بين مدينتى القاهرة..... و الإسكندرية.....
- ٧- بعد إختراع الإنسان لشبكة الإنترنت..... أصبح العالم قرية صغيرة
- ٨- من خلال موقع بوابة مصر الرقمية يمكن استخراج شهادة ميلاد..... و جواز سفر.....
- ٩- استخدم الانسان قرع الطبول للتواصل مع الآخرين في عصور ما قبل التاريخ.....
- ١٠- بدأت العصور التاريخية.... بمعرفة الانسان الكتابة
- ١١- يمكنك التقديم لتلقي لقاح فيروس كورونا من خلال موقع وزارة الصحة.....
- ١٢- استخدم الانسان البريد..... في العصر الحديث قبل اختراع الهاتف
- ١٣- استخدم الانسان قديما ورق البردى..... للكتابة عليه
- ١٤- يمكنك متابعة دروسك عبر منصة بنك المعرفة.....
- ١٥- اذا أردت استخراج شهادة ميلاد الكترونية يمكنك استخراجها من خلال موقع بوابة مصر الرقمية.....

- ضع علامة (✓) أمام العبارة الصحيحة أو (×) أمام العبارة الخاطئة

- ١- فى عصور ما قبل التاريخ كان التواصل مع الآخرين من خلال الأصوات العالية وقرع الطبول (صح)
- ٢- استخدم المصرى القديم ورق البردى لكتابة الرسائل (صح)
- ٣- تم استخدام النور لإرسال الرسائل لسرعتها (خطأ) الحمام الزاجل

- ٤- توصل الإنسان لإختراع التلغراف والهاتف في القرنين التاسع عشر والعشرين (صح)
- ٥- كان أول خط هاتفى فى مصر بين القاهرة والسويس (خطأ) الإسكندرية
- ٦- تساعد شبكة الإنترنت فى سرعة الحصول على المعلومات والتواصل مع الآخرين (صح)
- ٧- يمكن استخراج شهادة ميلاد من خلال موقع بوابة مصر الرقمية (صح)
- ٨- تقوم الدولة بمكافحة الجرائم الإلكترونية من خلال وزارة الكهرباء (خطأ) وزارة الداخلية
- ٩- من سلبيات الإنترنت التباعد بينك وبين أفراد أسرتك (صح)
- ١٠- جميع المعلومات على شبكة الإنترنت صحيحة (خطأ)
- ١١- تم اختراع التلغراف قبل الهاتف (صح)
- ١٢- لعب التقدم العلمي دورا في تطور وسائل الاتصال عبر الزمن (صح)
- ١٣- قديما كان جدي يمكنه التواصل عبر شبكة الانترنت مع اصدقائه خارج مصر (خطأ)
- ١٤- ساعد التطور التكنولوجي علي سهولة قيام أصحاب الهمم بوظائف مختلفة (صح)
- ١٥- قام الانسان بالنداء بأصوات عالية لتحذير الآخرين من الخطر (صح)
- ١٦- تم الاعتماد علي التلغراف في التواصل قبل اشارات الدخان (خطأ)
- ١٧- أنشأت وزارة التربية والتعليم منصة الكترونية لتلقي طلبات لقاح فيروس كورونا (خطأ)

س إخترا الإجابة الصحيحة من بين الإجابات الآتية :

- ١- تبدأ العصور التاريخية بمعرفة الإنسان لـ
(الزراعة - الصناعة - الكتابة - التجارة)
- ٢- فى عصور ما قبل التاريخ استخدم المصري القديم لتحذير الآخرين من خطر ما
(الدخان - ورق البردى - الحمام الزاجل - الهاتف)
- ٣- تم استخدام قديماً لإرسال الرسائل لسرعة
(العجلات الحربية - الحمام الزاجل - النسر - ورق البردى)

٤- أصدرت اول طوابعها البريدية عام ١٨٦٦م

(**مصر** - السعودية - ليبيا - اليمن)

٥- كان لإختراع دور مهم فى تطور الإتصالات فى القرنين التاسع عشر والعشرين

(شبكة الإنترنت - الهاتف - التلغراف - **كل ما سبق**)

٦- أصبح العالم قرية صغيرة بعد إختراع

(التلغراف - السيارة - **الإنترنت** - البريد)

٧- من الخدمات الإلكترونية التى يمكن للمواطنين الحصول عليها

(جواز السفر - بطاقة الرقم القومى - شهادة الميلاد - **كل ما سبق**)

٨- من إيجابيات شبكة الإنترنت

(**التسويق الإلكتروني** - التباعد بين أفراد الأسرة - إهمال هوايات نفيدة - نشر معلومات غير صحيحة)

٩- من سلبيات شبكة الإنترنت

(التواصل مع الزملاء - البحث عن فرص عمل - **نشر معلومات غير صحيحة** - مساعدة ذوى الهمم)

١٠- يمكن استخراج شهادة ميلاد من خلال موقع

(وزارة التربية والتعليم - **بوابة مصر الرقمية** - وزارة الترموية - وزارة الصحة)

بم تفسر:

١- أثر التطور العلمي ايجابيا علي حياة أصحاب الهمم

حيث تم إبتكار تطبيقات لمساعدة زوى الهمم

٢- تطور وسائل الاتصال له العديد من السلبيات

إهدار الوقت - التباعد بين أفراد الأسرة - إهمال الهوايات - وجود معلومات خاطئة على الإنترنت

٣- استخدام الحمام الزاجل في ارسال الرسائل : بسبب سرعته

٤- لشبكة الانترنت فوائد عديدة

١- سرعة الحصول على المعلومات

٢- التواصل مع الزملاء

٣- البحث عن فرص عمل

٤- التسويق الإلكتروني

أسئلة عامة على الوحدة الثالثة

وسائل النقل والاتصال في بلدنا

أكمل العبارات الآتية بما يناسبها

- ١ - استخدم المصريون القدماء **الدواب** في التنقل وحمل الأشياء
- ٢ - استخدام الدواب في التنقل يعد أحد وسائل النقل **البري**
- ٣ - انشأ منحف السكة الحديد في مدينة **القاهرة** عم ١٩٣٢ م
- ٤ - ظهرت السيارات في صر بعد **الثورة الصناعية**
- ٥ - أول سيارة دخلت مصر تعتمد علي طاقة قوة البخار في عهد الخديوي **توفيق**
- ٦ - اول من حاول الطيران باستخدام أجنحه هو **عباس بن فرناس**
- ٧ - تعتبر مصر أول دول افريقية أنشأت **السكة الحديد** بعد الملكة المتحدة
- ٨ - أرسلت الملكة حتشبسوت رحلات تجارية الي بلاد **بونت** لجلب الاخشاب
- ٩- شاركت مصر في مؤتمر النقل المستدام الذي عقد في **بكين** بدولة الصين
- ١٠ - أول دولة عربية عرفت مترو الانفاق هي **مصر**
- ١١ - نجح **الاخوان رايت** في الطيران الحقيقي عام ١٩٠٣ م
- ١٢ - أرخص وسائل أنواع النقل في مصر هو النقل **المائي**
- ١٣ - يربط مترو الانفاق بين ثلاث مدن مصرية هي **القاهرة والجيزة وشبرا والقلوبية**
- ١٤ - كانت رحلة الملك الفرعوني **سنفرو** الي بلاد فينيقيا لجلب خشبي الارز
- ١٥ - تهتم الدولة بانشاء الكباري والمحاور مثل محور **روض الفرج**
- ١٦ - اقدم مركب مصموم من الخشب في التاريخ مركب الملك **خوفو**
- ١٧ - تاسست شركة **مصر للطيران** عام ١٩٣٢ م

- ١٨- تم انشاء اول خط سكة حديد بين مدينة القاهرة **والاسكندرية** عام ١٨٥٦م
- ١٩- يعتمد النقل المستدام علي ماستخدام مصادر **الطاقة النظيفة**.
- ٢٠- اغلي وسائل النقل واسرعها هو **النقل الجوي**.
- ٢١- من اهم المطارات الدولية في مصر **القاهرة و برج العرب واسوان**
- ٢٢- تنتشر الموانئ علي البحر الاحمر ومنها ميناء **سفاجا والغردقة**
- ٢٣- تربط **قناة السويس** بين البحر الاحمر والمتوسط
- ٢٤- يجب عدم التحدث في **السيارة** أثناء القيادة
- ٢٥- من اهم الموانئ علي البحر المتوسط **الاسكندرية ودمياط**
- ٢٦- من وسائل النقل المائي **السفن والمراكب والاتوبيسات النهرية**
- ٢٧- يتم نقل المواد الخام اللازمة للصناعة عن طريق **النقل النهري**
- ٢٨- صنع المصري القديم اول **قارب** منذ نحو ٤٠٠٠ عام
- ٢٩- **العلامات الارشادية** هي علامات توضح معالم الطريق للسائقين
- ٣٠- يجب عدم جلوس **الاطفال** في المقاعد الامامية للسيارة
- ٣١- يجب عدم **الكتابة** علي وسائل لنقل
- ٣٢- يجب عدم استخدام المقاعد المخصصة **لكبار السن**
- ٣٣- يجب عد التحدث مع **السائق** اثناء قيادة السيارة
- ٣٤- يجب وضع **كاميرات** علي الطرق لمعرفة مدي الالتزام بقواعد المرور
- ٣٥- العلامات التي تشير الي السلوكيات التي يجب تجنبها اثناء القيادة هي **علامات المنع**
- ٣٦- العلامات التي تنظم حركة مرور السيارات **العلامات الضوئية**
- ٣٧- العلامات التي تحذر من المخاطر المحتملة هي **العلامات التحذيرية**

- ٣٨- العصور التي تسبق معرفة الكتابة هي عصور **ماقبل التاريخ**
- ٣٩- استخدم الانسان لتواصل خلال عصور ما قبل التاريخ **الدخان والاصوات العالية وقرع الطبول**
- ٤٠- **العصور التاريخية** هي التي بدأت بمعرفة الانسان الكتابة
- ٤١- استخدم **الحمام الزاجل** لنقل الرسائل لانه اسرع
- ٤٢- صدر اول **طابع بريد** مصري عام ١٨٦٦م
- ٤٣- اول **خط هاتف** تم بين القاهرة والاسكندرية عام ١٨٨١م
- ٤٤- من وسائل الاتصالات في العصر الحديث **التلغراف والهاتف وشبكة الانترنت**
- ٤٥- الملك خوفو احد ملوك الاسرة الرابعة تولي الحكم بعد الملك **سنفرو**
- ٤٦- الملك **خوفو** هو صاحب بناء الهرم الاكبر
- ٤٧- عثر عند منطقة الاهرامات علي **مركب** الملك خوفو
- ٤٨- ارسل الملك خوفو بعثات الي سيناء **لاستخراج الفيروز والنحاس**
- ٤٩- اشهر ملكات مصر في عصر الدولة الحديثة **حتشبسوت**
- ٥٠- لقبت الملكة حتشبسوت **بالزوجة الملكية**
- ٥١- تم في عهد الملكة حتشبسوت انشاء معبد **الدير البحري** في الاقصر
- ٥٢- ارسلت الملكة حتشبسوت رحلات تجارية الي **بلاد بونت (الصومال)**
- ٥٣- الملكة حتشبسوت من ملوك عصر **الدولة الحديثة**
- ٥٤- الملك خوفو من ملوك عصر **الدولة القديمة**

بم تفسر

١ - أهمية الدواب عند قدماء المصريين ؟

ج / استخدمها المصريون القدماء في التنقل وحمل الاشياء ♦

٢ - أهمية السكك الحديدية ؟

ج / تربط بين محافظات ومدن مصر المختلفة وتستخدم في نقل الركاب والبضائع ♦

٣ - أهمية السفن والمراكب عند المصريين القدماء؟

ج / استخدمت كوسائل للنقل عبر نهر النيل ثم بعد ذلك بع ذلك في البحار للتجارة بين مصر والدول الاخرى ♦

٤ - ارسال الملكة حتشبسوت رحلات تجارية الي بلاد يونت ؟

ج / لجلب البخور والأخشاب ♦

٥ - أهمية العربيات الحربية ؟

ج / استخدمها المصريون في الصيد والسفر ♦

٦ - أهمية مترو الأنفاق ؟

ج / يربط بين مدن القاهرة الكبرى (القاهرة - الجيزة - القليوبية) ♦

٧ - أهمية النقل الجوي (مميزات النقل الجوي)؟

ج / اسرع وسائل النقل حيث يستخدم في نقل الركاب والبضائع سريعة التلف والسرعة والانتشار وتخطي المرتفعات والبحار ♦

٨ - سلبيات النقل الجوي؟

ج / لان النقل الجوي مرتفع التكاليف ♦

٩ - للنقل المائي عيوب ومميزات؟

ج / مميزات النقل المائي ارخص وسائل النقل ويستخدم في نقل البضائع كبيرة الحجم وثقيلة الوزن وعيوبه يعتبر النقل المائي بطيء

١٠ - أهمية وسائل النقل النهري ؟

ج / نقل المواد الخام اللازمة للصناعة ونقل الركاب والنزهات النيلية ♦

١١ - اهتمام الدولة بتطوير الموانئ البحرية؟

ج / - لتقليل انتظار السفن خارج الميناء - زيادة كمية البضائع المتداولة - زيادة مساحة التخزين داخل الميناء - تنشيط حركة التجارة

١٢ - اهتمام الدولة بالنقل المستدام ؟

ج / بسبب خفض معدلات تلوث الهواء - توفير استخدام الوقود

١٣ - اهتمام الدولة بإنشاء الطرق والكباري ؟

- ج / - تخفيف الضغط المروري علي الطرق
- تقليل المسافات وخفض زمن الرحلة
- تقليل الحوادث

١٤ - انشاء الدولة لمشروع القطار الكهربائي السريع ؟

- ج / لربط العين السخنة بمدينة العلمين الجديدة مرورا بالعاصمة الادارية

١٥ - انشاء المونوريل المعلق ؟

- ج / لربط المدن المصرية ببعضها وربطها بمترو الانفاق

١٦ - مشاركة مصر في مؤتمر النقل المستدام ؟

- ج / لدعم النقل المستدام

١٧ - اهمية العلامات الارشادية في حركات المرور ؟

- ج / توضح معالم الطريق للسائقين

١٨ - أهمية وجود كاميرات مراقبة علي الطريق ؟

- ج / لمعرفة مدي الالتزام بقواعد المرور

١٩ - اصدار قانون المرور ؟

- ج / ضرورة تحرك سائق السيارة في مسار محدد علي الطريق
- اتباع العلامات المرورية
- عدم تجاوز السرعة المحددة
- عدم استخدام الهاتف المحمول او تناول الطعام والشراب اثناء القيادة

٢٠ - اهمية العلامات الارضية في المرور ؟

- ج / لتوضيح مسار تحرك السيارة علي الطريق

٢١ - اهمية علامات المنع المرورية ؟

- ج / تشير الي السلوكيات التي يجب تجنبها اثناء القيادة

٢٢ - أهمية وجود العلامات الالزامية المرورية ؟

- ج / تشير الي الاتجاه الالزامي الذي يجب ان تسير فيه

٢٣ - أثر التطور العلمي ايجابيا علي حياة أصحاب الهمم ؟

- ج / تم ابتكار تطبيقات عديدة لمساعدة الصم والمكفوفين علي استخدام التكنولوجيا الحديثة
- اصبح في امكان اصحاب الهمم العمل في وظائف كان يصعب عليهم تاديتها من قبل

٢٤ - استخدام الحمام الزاجل ؟

- ج / لارسال الرسائل لانه اسرع

٢٥ - لشبكة الانترنت فوائد عديدة؟

- ج / - جعل العالم قرية صغيرة - سرعة الحصول علي المعلومات
 - التواصل بشكل اسرع بين الافراد - سرعة التواصل مع الزملاء والمعلمين
 - العمل عن بعد مثل التسويق الالكتروني
 - توفير وسائل التسلية مثل العاب الالكترونية الزيارات الافتراضية للمواقع السياحية

٢٦- ارسال الملك خوفو البعثات الي شبه جزيرة سيناء؟

ج / لاستخراج الفيروز والنحاس

أكتب كلمة (صح) أو كلمة (خطأ) أمام كل عبارة مما يأتي :

- ١- ساعدت وسائل النقل المختلفة علي انتشار التجارة بين الدول (صح)
- ٢- نجح عباس بن فرناس في الطيران بجناحية (خطأ)
- ٣- اول سيارة تعتمد علي قوة البخار تم اختراعها في عهد الخديوي اسماعيل (خطأ)
- ٤- تعد طائرة الأخوين رايت هي أول طائرة في التاريخ (صح)
- ٥- أخذ الهكسوس عن المصريين استخدام العربات الحربية (صح)
- ٦- قام البنك الأهلي بتأسيس شركة مصر للطيران (صح)
- ٧- تعد ناقلات البترول والبواخر من أبرز وسائل النقل المائي (صح)
- ٨- يستخدم النقل المائي في نقل البضائع ثقيلة الوزن (صح)
- ٩- يتم النقل البحري في مصر عن طريق نهر النيل (خطأ)
- ١٠- النقل المائي هو أسرع أنواع النقل في مصر (خطأ)
- ١١- يتميز النقل الجوي بالسرعة لكن تكلفته عالية (صح)
- ١٢- شاركت مصر في مؤتمر النقل المستدام في بكين عاصمة الصين (صح)
- ١٣- يعد ميناء سفاجا من أهم موانئ البحر المتوسط (خطأ)
- ١٤- يعد ميناء الغردقة من أهم موانئ البحر الأحمر (صح)

- ١٥- يجب علينا افساح الطريق أمام سيارات الاسعاف (صح)
- ١٦- قيام بعض الأشخاص بالكتابة علي مقاعد المترو يعد تصرف صحيحا (خطأ)
- ١٧- يعاني النقل المائي من الكثير من المشاكل (صح)
- ١٨- يربط مترو الانفاق بين مدن القاهرة الكبرى (صح)
- ١٩- تفيد العلامات التحذيرية في معرفة خط سير السيارات (خطأ)
- ٢٠- تم انشاء اول خط سكة حديد بين القاهرة والاسكندرية عام ١٨٥٦م (صح)
- ٢١- من اهم وسائل الاتصالات في العصور الحديثة الحمام الزجاجي . (خطأ)
- ٢٢- كان أول خط هاتف في مصر يصل بين القاهرة والسويس (خطأ)
- ٢٣- لعب التقدم العلمي دورا في تطور وسائل الاتصال عبر الزمن (صح)
- ٢٤- قديما كان جدي يمكنه التواصل عبر شبكة الانترنت مع اصدقائه خارج مصر (خطأ)
- ٢٥- ساعد التطور التكنولوجي علي سهولة قيام أصحاب الهمم بوظائف مختلفة (صح)
- ٢٦- قام الانسان بالنداء بأصوات عالية لتحذير الآخرين من الخطر (صح)
- ٢٧- تم الاعتماد علي التليغراف في التواصل قبل اشارات الدخان (خطأ)
- ٢٨- أنشأت وزارة التربية والتعليم منصة الكترونية لتلقي طلبات لقاح فيروس كورونا (خطأ)
- ٢٩- الملك خوفو من ملوك الاسرة الرابعة . (صح)
- ٣٠- من اهم اعمال الملك خوفو الهرم الاوسط . (خطأ)
- ٣١- عثر في منطقة الاهرامات علي خمس مراكب للملك خوفو . (صح)
- ٣٢- حكمت بالملكة حتشبسوت مصر اكثر من ٢٠ عام . (صح)
- ٣٣- من اهم اعمال الملكة حتشبسوت انشاء معبد الدير البحري . (صح)
- ٣٤- لقبت الملكة حتشبسوت بالزوجة الملكية . (صح)

اكتب المفهوم الذي تشير اليه العبارات

- ١- دخلت مصر عن طريق الهكسوس الذين جاءوا عن طريق اسيا واحتلوها **العربات الحربية**
- ٢- تعد مصر اولي دول افريقيا والشرق الاوسط في انشائها **السكة الحديد**
- ٣- اقدم اثر مصنوع من الخشب في التاريخ الانساني **مركب الملك خوفو**
- ٤- اول من حاول الطيران في التاريخ **عباس بن فرناس**
- ٥- نجح في اختراع الطائرة عام ١٩٠٣ م . **الاخوان رايت**
- ٦- يربط بين مناطق القاهرة الكبرى والقاهرة والجيز والقلوبية وشبرا الخيمة **مترو الانفاق**
- ٧- يعد اسرع وسائل النقل واكثرها تكلفة **النقل الجوي**
- ٨- اخص وسائل النقل ويشمل السفن والمراكب والاتوبيسات النهرية **النقل المائي**
- ٩- هو النقل عن طريق البحر من خلال قناة السويس وموانئ البحر الاحمر والمتوسط **النقل البحري**
- ١٠- استخدام وسائل نقل صديقة للبيئة تستخدم مصادر طاقة نظيفة مثل الغاز الطبيعي والكهرباء والطاقة الشمسية **النقل المستدام**
- ١١- مشروع الهدف منه ربط العين السخنة بمدينة العلمين الجديدة مرورا بالعاصمة الادارية **القطار الكهربائي السريع**
- ١٢- مشروع الهدف منه ربط المدن المصرية ببعضها وربطها بمترو الانفاق **المونوريل المعلق**
- ١٣- علامات توضح معالم الطريق للسائقين **علامات ارشادية**
- ١٤- خطوط مرسومة علي الارض توضح مسار تحرك السيارة علي الطريق **علامات ارضية**
- ١٥- علامات تشير الي الاتجاه الالزامي الذي يجب ان تسير فيه **علامات تحذيرية**
- ١٦- علامات تحذر من المخاطر المحتملة **علامات تحذيرية**
- ١٧- علامات تشير الي السلوكيات التي يجب تجنبها اثناء القيادة **علامات المنع**

علامات ضوئية

١٨- علامات دائرية لتنظيم حركة مرور السيارات

الحمام الزاجل

١٩- كان يستخدم قديما لارسال الرسائل لانه اسرع

شبكة الانترنت

٢٠- جعل العالم قرية صغيرة وسرعة الحصول علي المعلومات

خوفو

٢١- صاحب بناء الهرم الاكبر

حتشبسوت

٢١- بناء معبد الدير البحري غرب الاقصر

سنفرو

٢٢- ارسال رحلات تجارية الي بلاد فينيقيا (لبنان) لجلب اخشاب الارز

الملك خوفو

٢٣- ارسال رحلات الي سيناء لاستخراج الفيروز والنحاس

حتشبسوت

٢٤- ارسال رحلات تجارية الي بلاد بونت لجلب الاخشاب والبخور

قواعد قيادة السيارات

٢٥- القواعد التي يجب ان يلتزم بها السائق عند القيادة

الدواب

٢٦- استخدمها المصريون القدماء في التنقل وحمل الاشياء

النقل النهري

٢٧- هو النقل عن طريق نهر النيل

قناة السويس

٢٨- مشروع تم انشائه في مصر يربط بين البحر الاحمر والبحر المتوسط

قواعد المشاه

٢٩- القواعد التي يجب ان يلتزم بها المشاه عند عبور الطريق

صوب ماتحته خط في العبارات الأتية

الجوى

١- يعد النقل المائي اغلي وسائل النقل .

البرى

٢- النقل بالشحنات والسكة الحديد نوع من النقل البحري .

البحرى

٣- تعد قناة السويس من انواع النقل النهري .

الجوى

٤- اسرع وسائل النقل في العالم النقل البحري .

الخديوى توفيق

٥- تم انشاء اول سيارة تعتمد علي قوة البخار في عهد محمد علي

عباس بن فرناس

٦- اول من حاول الطيران هم الاخوان رايت .

٧- تم انشاء اول خط سكة حدي بين القاهرة والسويس

الاسكندرية

٨- استخدم الحمام الزاجل حديثا لنقل الرسائل

قديما

٩- اخذ المصريين العربات الحربية عن الفرس.

الهكسوس

١٠- النقل بالسفن والمراكب يعد نوع من النقل البري.

المائي

١٢- ارسل الملك خوفو رحلات تجارية الي بلاد فينيقيا لجلي اخشاب الارز

سنفرو

١٣- الملك خوفو من ملوك الدولة الحديثة.

القديمة

١٤- اقدم مركب مصنوع من الخشب في العام مركب الملك خفرع.

خوفو

١٥- توضح العلامات الالزامية مسار تحرك السيارة علي الطريق.

الارضية

١٦- من اهم اعمال الملكة حتشبسوت انشاء معبد ابوسمبل.

الدير البحري

١٧- النقل الذي يعاني من البطء هو النقل الجوي.

النهرى

١٨- يعتمد النقل المستدام علي الطاقة النظيفة مثل البتترول.

الطاقة

١٩- شاركت مصر في مؤتمر النقل العام بمدينة بكين عاصمة الصين

المستدام

٢٠- اول دولة عرفت مشروع مترو الانفاق السعودية.

مصر

٢١- تم انشاء اول تلغراف بين القاهرة والاسكندرية عام ١٨٨١م.

هاتف

٢٢- تربط قناة السويس بين البحر الاحمر والخليج العربي.

البحر المتوسط

٢٣- تفيد العلامات الضوائية الي الاتجاه الالزامي الاجباري الذي يجب ان نسير فيه الالزامية

الالزامية

٢٤- الملك خوفو من ملوك الاسرة الثالثة.

الرابعة

٢٥- اليوم العالمي لليونيسكو هو ٤ مايو من كل عام

المرور

مآل النتائج المترتبة علي

١ - محاولة عباس بن فرناس الطيران .

ج / فشلت محاولة عباس بن فرناس

٢ - احتلال الهكسوس مصر بالنسبة لوسائل النقل .

ج / نقل المصريين القدماء عن الهكسوس العربات الحربية

٣ - محاولة الأخوين رايت الطيران .

ج / نجح الاخوان رايت في اختراع الطائرة عام ١٩٠٣م حتي وصلت الي شكلها الحالي

٤ - استخدام المصريين القدماء وسائل النقل المائي في التجارة .

ج / زيادة العلاقات التجارية بين مصر والبلاد المجاورة مثل رحلة الملك سنفرو الي بلاد فينيقيا ورحلة الملكة حتشبسوت الي بلاد بونت

٥ - قيام الدولة بتطوير المواني البحرية .

ج / - تقليل زم انتظار السفن - زيادة كمية البضائع المتداولة

- تنشيط حركة التجارة - زيادة مساحة التخزين داخل الميناء

٦ - رحلة الملكة حتشبسوت الي بلاد بونت (الصومال) .

ج / عادت السفن محملة بالاشباب والبخور والحيوانات النادرة

٧ - رحلة الملك سنفرو الي بلاد فينيقيا (لبنان) .

ج / عادت محملة بأخشاب الأرز

٨ - بطن النقل النهري .

ج / اصبح النقل النهري يعاني من الكثير من المشاكل

٩ - وفاة الملك سنفرو .

ج / تولي الملك خوفو الحكم

١٠ - الالتزام باتباع العلامات المرورية .

ج / تنظيم حركة المرور ونجيب الازدحام والمحافظة علي ارواح الناس وتفاذي الحوادث

١١ - الالتزام باداب وقواعد المرور .

ج / المحافظة علي ارواح الناس والتقليل من الحوادث

١٢ - الاستخدام السبيئ لوسائل التواصل الاجتماعي .

ج / اهدار كثير من الوقت علي شبكات التواصل الاجتماعي يؤثر علي مستوي الطالب الدراسي واهمال ممارسة الهوايات المفيدة والتباعد بين افراد الاسرة

١٣- انشاء الدولة موقع مصر الرقمية .

ج / ادي الي سهولة استخراج الاوراق الرسمية مثل بطاقة الرقم القومي وجواز السفر

١٤- حفر قناة السويس في مصر .

ج / الربط بين البحرين الأحمر والمتوسط واصبحت اهم طريق ملاحى

١٥- السرعة الهائلة للنقل الجوى .

ج / اصبح افضل واسرع وسائل النقل فى العالم

١٦- انشاء السكة الحديد فى مصر .

ج / الربط بين مدن الوجه البحرى والقبلى ونقل الركاب والبضائع

١٧- انشاء مترو الانفاق فى مصر .

ج / الربط بين مدن القاهرة الكبرى الجيزة والقليوبية وشبرا الخيمة

١٨- تنوع وسائل النقل فى مصر .

ج / ساعدت على انتشار التجارة بين مصر و دول العالم

١٩- اهتمام الملك خوفو بالعمران .

ج / بناء الهرم الأكبر احدى عجائب الدنيا السبع

٢٠- اهتمام الملكة حتشبسوت بالعمران .

ج / بناء معبد الدير البحرى غرب الأقصر

٢١- اهتمام الملك سنفر بالتجارة الخارجية .

ج / ارسال رحلات تجارية الي بلاد فينيقيا (لبنان) لجلب احشاب الأرز

٢٢- اهتمام الملكة حتشبسوت بالتجارة .

ج / ارسال رحلات تجارية الي بلاد يونت لجلى الاخشاب والبخور