

رياضيات


الصف الأول

الفصل الدراسي الأول


٢٠٢٤ – ٢٠٢٥



العدد




اكتب العدد ١



.....
.....
.....
.....
.....
.....
.....
.....
.....
.....

٣

العدد



٣

اكتب العدد

٣

٣

٣

.....

.....

.....

.....

.....

.....

.....

.....

.....

.....

.....

.....

.....

.....

.....

.....

.....

.....

.....

.....

.....

.....


.....

.....

.....


.....

.....



٣

العدد




٣

اكتب العدد

٣

٣

٣



.....

.....

.....

.....

.....

.....

.....

.....

.....

.....

.....

.....

.....

.....

.....

.....

.....

.....

.....

.....

.....


.....

.....

.....

٤

العدد







اكتب العدد ٤

٤

٤

٤



.....

.....

.....

.....

.....

.....

.....

.....

.....

.....

.....

.....

.....

.....

.....

.....

.....

.....

.....

.....

.....


.....

.....

.....

٥

العدد








اكتب العدد ٥

٥

٥

٥



.....

.....

.....

.....

.....

.....

.....

.....

.....

.....

.....

.....

.....

.....

.....

.....

.....

.....

.....

.....

.....

.....

.....

.....

صل

١



٢



٣



٤



اكتب

٢

اثنان

١

واحد

٢

اثنان

١

واحد

اكتب

٥	٤	٣	٢	١
.....
.....
.....
.....


صل




٣



٤



٥



٢

نون حسب المطوب

--	--	--	--	--

٣

--	--	--	--	--

٥

--	--	--	--	--

٢

--	--	--	--	--

١

--	--	--	--	--

٤

صل



٤



٥



٦



١



٢

صل






١

٢

٣

٤

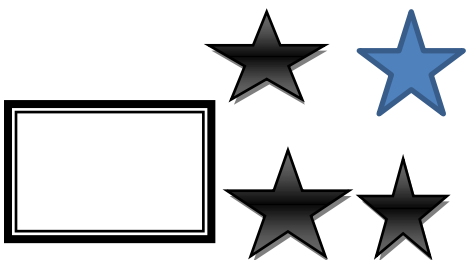
٥



اكتب

١	٢	٣	٤	٥
.....
.....
.....
.....
.....
.....

عد النجوم واكتب العدد



أكمل

٥	٣	١
.....	٤	٢
.....	٣	٢	١

٥	١
---	-------	-------	-------	---

.....	٤	١
-------	---	-------	-------	---

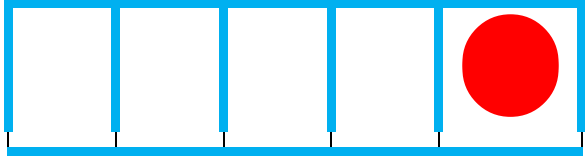
٥	٣	١
---	-------	---	-------	---

.....	٤	١
-------	---	-------	-------	---

حوظ حول الرقم الأصغر في كل رقمين

٤	١	٥	٣
٢	٥	٣	٤
٤	٢	١	٥
٣	١	٢	٥
٥	٢	٣	٤
١	٣	٢	٤

العدد



اكتب العدد ١



١

١

١

.....

.....

.....

.....

.....

.....

.....

.....

.....

.....

.....

.....

.....

.....

.....

.....

.....

.....

.....

.....

.....

.....

.....

.....


.....

.....

.....

٣

العدد



اكتب العدد ٣

٣

٣

٣

.....

.....

.....

.....

.....

.....

.....

.....

.....

.....

.....

.....

.....

.....

.....

.....

.....

.....

.....

.....

.....

.....


.....

.....

.....


.....

.....



٣

العدد




٣

اكتب العدد

٣

٣

٣



.....

.....

.....

.....

.....

.....

.....

.....

.....

.....

.....

.....

.....

.....

.....

.....

.....

.....

.....

.....

.....


.....

.....

.....

٤

العدد






اكتب العدد ٤

٤

٤

٤



.....

.....

.....

.....

.....

.....

.....

.....

.....

.....

.....

.....

.....

.....

.....

.....

.....

.....


.....

.....

.....

٥

العدد






اكتب العدد ٥

٥

٥

٥



.....

.....

.....

.....

.....

.....

.....

.....

.....

.....

.....

.....

.....

.....

.....

.....

.....

.....

.....

.....

.....

.....

.....

.....

اكتب

٢

اثنان

١

واحد

٢

اثنان

١

واحد



ارسم داخل الإطار العدد المطلوب

١

--	--	--	--	--

٢

--	--	--	--	--

٣

--	--	--	--	--

٤

--	--	--	--	--

٥

--	--	--	--	--

صل






١

٢

٣

٤

٥



نون حسب المطوب

--	--	--	--	--

٣

--	--	--	--	--

٥

--	--	--	--	--

٢

--	--	--	--	--

١

--	--	--	--	--

٤

صل



١



٢



٣



٤

نون حسب المطوب

--	--	--	--	--

٣

--	--	--	--	--

٥

--	--	--	--	--

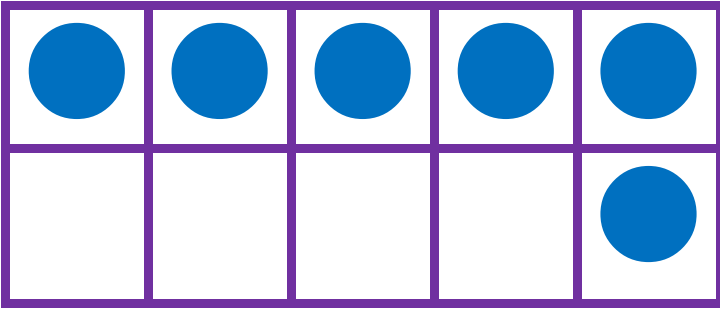
٢

--	--	--	--	--

١

--	--	--	--	--

٤



٦ العدد

٦ اكتب العدد

٦ ٦

.....

.....

.....

.....

.....


.....

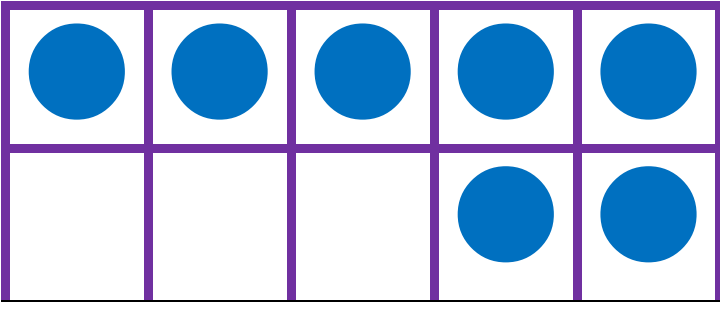
.....

.....

.....

.....





العدد



اكتب العدد



.....

.....

.....

.....

.....

.....

.....

.....

.....

.....

.....


.....

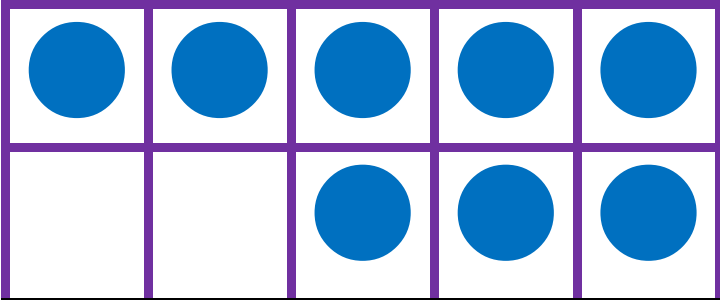
.....

.....

.....

.....





العدد ٨

اكتب العدد ٨

٨ ٨

.....

.....

.....


.....

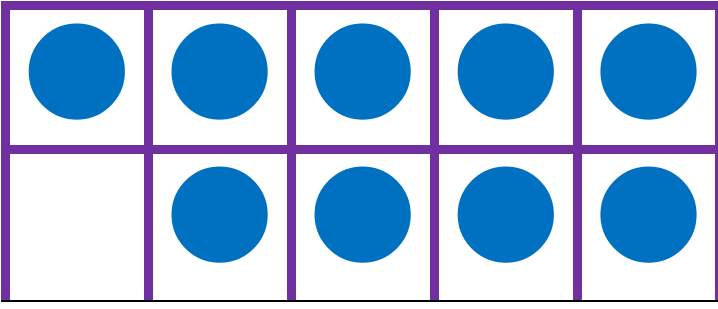
.....

.....

.....

.....





٩

العدد

اكتب العدد ٩

٩

٩

.....

.....

.....

.....

.....

.....

.....

.....

.....

.....

.....


.....

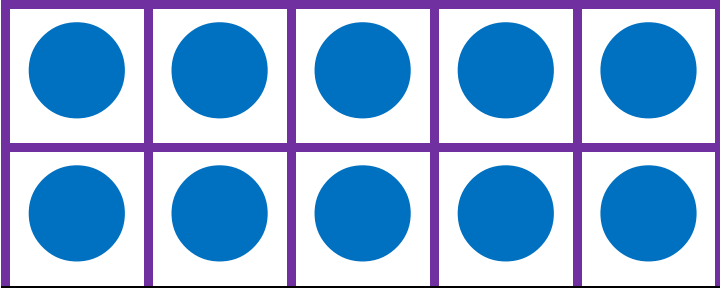
.....

.....

.....

.....





العدد ١٠

اكتب العدد ١٠

١٠ ١٠

.....

.....

.....


.....

.....

.....

.....


.....



اكتب

٩	٨	٧	٦	٥	٤	٣	٢	١
.....
.....
.....
.....


صل




٣



٤



٥



٦

صل



٤



٥



٣



٦



١



٢

اكتب

٩	٨	٧	٦	٥	٤	٣	٢	١
.....
.....
.....
.....
.....
.....

عد النجوم واكتب العدد



أكمل

٩	_____	٧	_____	٥	_____	٣	_____	١
---	-------	---	-------	---	-------	---	-------	---

_____	٨	_____	٦	_____	٤	_____	٢	_____
-------	---	-------	---	-------	---	-------	---	-------

٩	_____	_____	_____	_____	_____	٣	٢	١
---	-------	-------	-------	-------	-------	---	---	---

_____	٨	_____	_____	٥	_____	_____	_____	١
-------	---	-------	-------	---	-------	-------	-------	---


_____	_____	٧	_____	_____	٤	_____	_____	١
-------	-------	---	-------	-------	---	-------	-------	---

١	_____	٣	_____	٥	_____	٧	_____	٩
---	-------	---	-------	---	-------	---	-------	---

١	_____	_____	_____	_____	_____	_____	٨	٩
---	-------	-------	-------	-------	-------	-------	---	---

حوظ حول الرقم الأصغر في كل رقمين

٧



٥



٢

٥

٩

٤

٤

٨

٦

٥

٨

٦

٧

٩

٩

٢

٣

٨

١

٣

٦

٤

نون حسب المطوب

٦

٥

٧

٦

٦

اكتب

٤

أربعة

٣

ثلاثة

٤


أربعة

٣


ثلاثة

صل


١




٢




٣



٤



٥



صل

٤

واحد

٥

اثنان

٣

ثلاثة

١

أربعة

٢

خمسة

اكتب

٢

اثنان

١

واحد

.....

.....

.....

.....

.....

.....

.....

.....

٢

اثنان

١

واحد

.....

.....

.....

.....

.....

.....

.....

.....

اكتب

٤

أربعة

٣

ثلاثة

٤

أربعة

٣

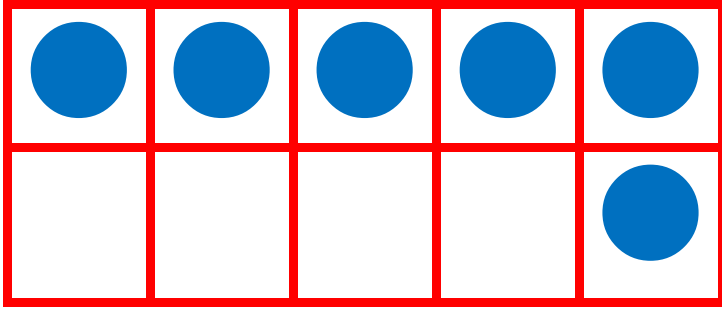
ثلاثة

اكتب

٥	٤	٣	٢	١	٠
.....
.....
.....
.....

اكتب

٥	٤	٣	٢	١	٠
.....
.....
.....
.....



٦ العدد

٦ اكتب العدد

٦ ٦

.....

.....

.....

.....

.....


.....

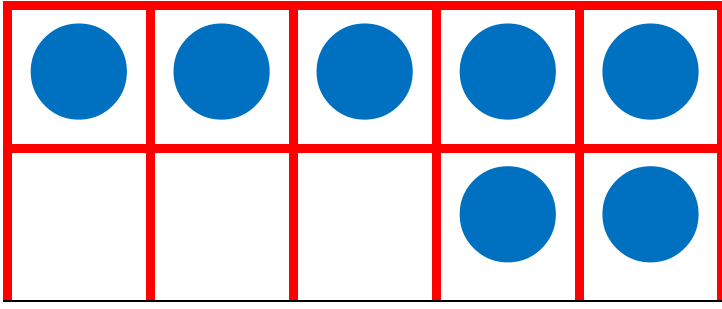
.....

.....

.....

.....





العدد



اكتب العدد



.....

.....

.....

.....

.....

.....

.....

.....

.....

.....

.....


.....

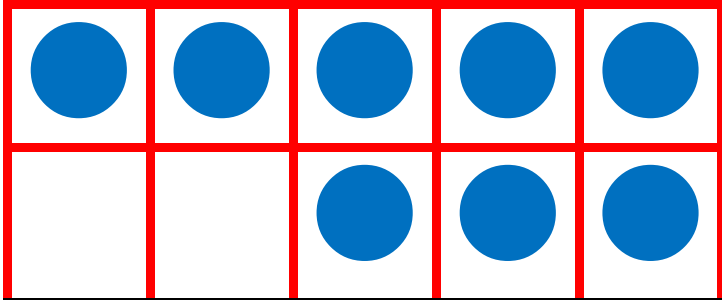
.....

.....

.....

.....





العدد

اكتب العدد ٨



.....

.....

.....

.....

.....

.....

.....

.....

.....

.....

.....


.....

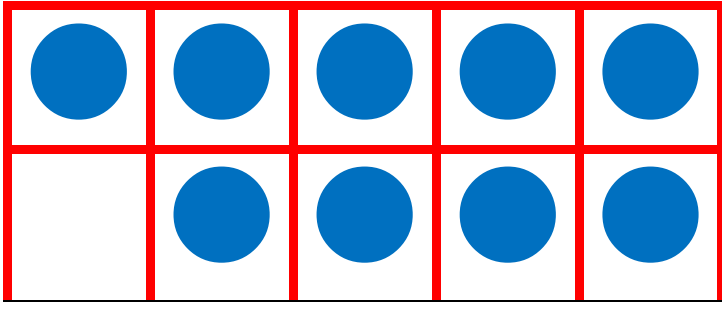
.....

.....

.....

.....





٩

العدد

٩ اكتب العدد

٩

٩

.....

.....

.....

.....

.....

.....

.....

.....

.....

.....

.....


.....

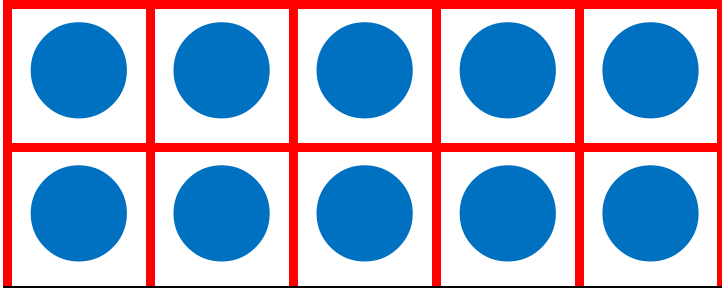
.....

.....

.....

.....






العدد ١٠

اكتب العدد ١٠

١٠ ١٠



.....

.....

.....

.....

.....

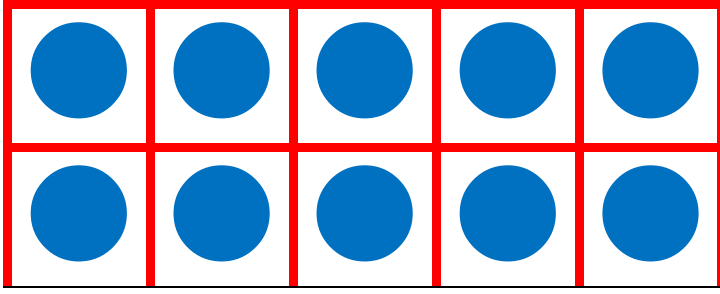
.....

.....

.....


.....

.....



العدد

مكونات العدد ١٠



$$10 = 10 + 0$$

$$10 = 9 + 1$$



$$10 = 8 + 2$$

$$10 = 7 + 3$$

$$10 = 6 + 4$$



$$10 = 5 + 5$$

أوجد الناتج





..... = ٤ + ٦

أوجد الناتج





..... = ٥ + ٥

أوجد الناتج



..... = ٣ + ٧

أوجد الناتج



..... = ٢ + ٨

حوظ حول الرقم الأكبر في كل رقمين

٤

١

٧

٣

٩

٥

٨

٢

٢

٦

٥

٣

٤

٥

٢

١

٨

٧

٦

٤

٧

٦

٨

٥

اكتب

٦

ستة

٥

خمسة

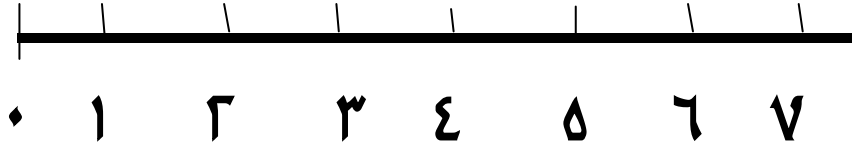
٦

ستة

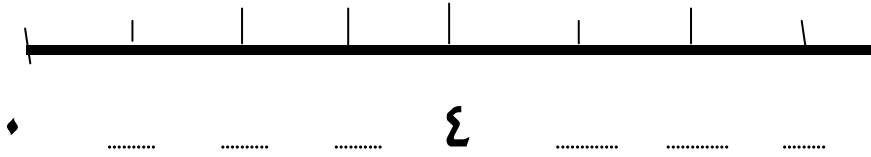
٥

خمسة

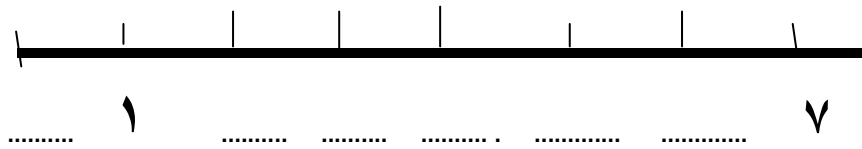
خط الأعداد



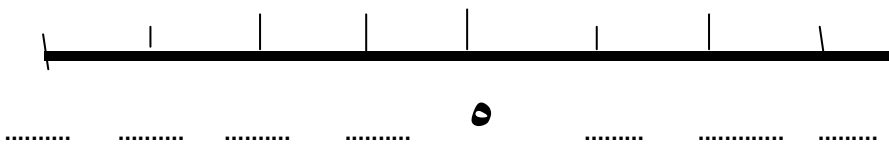
أكمل خط الأعداد



أكمل خط الأعداد



أكمل خط الأعداد



اكتب

١	٢	٣	٤	٥	٦	٧	٨	٩
.....
.....
.....
.....
.....
.....

عد النجوم واكتب العدد



أكمل

٩	_____	٧	_____	٥	_____	٣	_____	١
---	-------	---	-------	---	-------	---	-------	---

_____	٨	_____	٦	_____	٤	_____	٢	_____
-------	---	-------	---	-------	---	-------	---	-------

٩	_____	_____	_____	_____	_____	٣	٢	١
---	-------	-------	-------	-------	-------	---	---	---

_____	٨	_____	_____	٥	_____	_____	_____	١
-------	---	-------	-------	---	-------	-------	-------	---

_____	_____	٧	_____	_____	٤	_____	_____	١
-------	-------	---	-------	-------	---	-------	-------	---

١	_____	٣	_____	٥	_____	٧	_____	٩
---	-------	---	-------	---	-------	---	-------	---

١	_____	_____	_____	_____	_____	_____	٨	٩
---	-------	-------	-------	-------	-------	-------	---	---

حوظ حول الرقم الأصغر في كل رقمين

٧

١

٥

٣

٢

٥

٩

٤

٤

٨

٦

٥

٨

٦

٧

٩

٩

٢

٣

٨

١

٣

٦

٤

نون حسب المطوب

٦

٥

٧

٣

٨

اكتب

٥	٤	٣	٢	١	٠
.....
.....
.....
.....

اكتب

٥	٤	٣	٢	١	٠
.....
.....
.....
.....

اكتب

٩	٨	٧	٦	٥	٤	٣	٢	١
.....
.....
.....
.....
.....

١	٢	٣	٤	٥	٦	٧	٨	٩
.....
.....
.....
.....
.....

اكتب العدد السابق

٥ →

٣ →

٦ →

٣ →

٤ →

٨ →

٧ →

اكتب العدد التالي

← ٢

← ٥

← ٤



← ٧

← ٦

← ٣



← ٨

أوجد الناتج





..... = ٤ + ٦

أوجد الناتج





..... = ٥ + ٥

أوجد الناتج



..... = ٣ + ٧

أوجد الناتج



..... = ٢ + ٨

ارسم

ارسم نقطة واحدة في إطار الخمس خانات

--	--	--	--	--

ارسم نقط = عدد ألوان إشارات المرور في إطار الخمس خانات

--	--	--	--	--

ارسم نقط = عدد إخوتك في إطار الخمس خانات

--	--	--	--	--

ارسم نقط = عدد أصابع اليد في إطار الخمس خانات

--	--	--	--	--

ارسم نقط = عدد أيام الأسبوع في إطار الخمس خانات

--	--	--	--	--

--	--	--	--	--

رتب تصاعديا (من الأصغر الى الأكبر) ٢ = ٢

٢	٤	١	٣
<input type="text"/>	<input type="text"/>	<input type="text"/>	<input type="text"/>

٢	٤	٣	٥
<input type="text"/>	<input type="text"/>	<input type="text"/>	<input type="text"/>

٨	٤	١	٦
<input type="text"/>	<input type="text"/>	<input type="text"/>	<input type="text"/>

٣	٥	٨	٢
<input type="text"/>	<input type="text"/>	<input type="text"/>	<input type="text"/>

١	٩	٦	٣
<input type="text"/>	<input type="text"/>	<input type="text"/>	<input type="text"/>

رتب تنازليا (من الأكبر الى الأصغر)

٢

١

٤

٣

٤

٦

٧

٥

٦

٧

٣

١

٦

٨

٣

٧

٦

٧

٥

٤

ضع علامة (< , > , =)

١	<input type="text"/>	٤	٧	<input type="text"/>	٩
٢	<input type="text"/>	٥	٦	<input type="text"/>	٨
٣	<input type="text"/>	٦	٥	<input type="text"/>	٥
٧	<input type="text"/>	٧	٤	<input type="text"/>	٦
٥	<input type="text"/>	٨	٣	<input type="text"/>	٥
٩	<input type="text"/>	٩	٢	<input type="text"/>	٤
٢	<input type="text"/>	٤	١	<input type="text"/>	٢
٢	<input type="text"/>	٣	٢	<input type="text"/>	٢
١	<input type="text"/>	٢	٢	<input type="text"/>	٦

ضع علامة (< , > , =)

٨

٧

٧

٣

٥

٣

٦

٤

٦

٢

٧

٥

٩

٧

٨

٦

٩

٨

٩

٧

٧

٦

٩

٨

٧

٧

٥

٥

٦

١

٦

٣

ضع علامة (< ، > ، =)

٥

٥

٢

٨

١

٢

٩

٩

٥

٢

٧

٣

١

١

٥

٨

٥

٥

٢

٤

٢

٤

٢

٢

٩

٨

٢

٤

٥

٧

٥

٥

٧

٣

١

٣

اكتب العدد السابق

٥ →

٣ →

٦ →

٢ →

٤ →

٨ →

٧ →

اكتب العدد التالي

← ٣

← ٥

← ٤

← ٧

← ٦

← ٢

← ٨

اجمع

٧

٢ +

١

٥ +

٢

٣ +

٤

١ +

٥

٢ +

٢

٢ +

٤

٢ +

٥

٤ +

١

٣ +

٣

٤ +

٦

٢ +

١

٥ +

٤

٣ +

٤

١ +

٥

٣ +

٣

٢ +

٤

٢ +

٢

٤ +

٣

٣ +

٣

٢ +

الجمع

$$\boxed{} = ٣ + ١$$

$$\boxed{} = ٠ + ٤$$

$$\boxed{} = ٣ + ٦$$

$$\boxed{} = ٢ + ٢$$

$$\boxed{} = ١ + ٢$$

$$\boxed{} = ٤ + ١$$

$$\boxed{} = ٠ + ٩$$

$$\boxed{} = ٣ + ٤$$

$$\boxed{} = ١ + ٨$$

$$\boxed{} = ٣ + ٦$$

$$\boxed{} = ٣ + ٥$$

$$\boxed{} = ١ + ٦$$

$$\boxed{} = ٢ + ٤$$

$$\boxed{} = ٤ + ٥$$

ضع علامة (> ، = ، <)

$$٤ + ٤$$

$$٤ + ٣$$

$$١ + ٧$$

$$٣ + ٣$$

$$١ + ٣$$

$$٣ + ٣$$

$$١ + ٤$$

$$٣ + ٢$$

أوجد الناتج

قرأ تامر ٥ قصص في الشهر الأول ، ثم قرأ ٣ قصص في الشهر الثاني . كم قصة قرأها تامر ؟

عدد القصص = + = قصص

مع ريم ٦ جنيهاً ، ثم أخذت من والدها ٣ جنيهاً . أوجد ما مع سلمى .

ما مع سلمى = + = جنيهاً

زرعت المدرسة ٤ أشجار في اليوم الأول ، ثم زرعت ٣ أشجار في اليوم الثاني . كم شجرة زرعتها المدرسة ؟

عدد الأشجار = + = شجرة

الطرح

٧	٦	٥	٤	٥
٢ -	٥ -	٣ -	١ -	٢ -
<u> </u>	<u> </u>	<u> </u>	<u> </u>	<u> </u>
<input type="text"/>	<input type="text"/>	<input type="text"/>	<input type="text"/>	<input type="text"/>

٢	٤	٥	٦	٧
---	---	---	---	---

٢ -	٢ -	٤ -	٣ -	٤ -
<u> </u>	<u> </u>	<u> </u>	<u> </u>	<u> </u>
<input type="text"/>	<input type="text"/>	<input type="text"/>	<input type="text"/>	<input type="text"/>

<input type="text"/>	=	٣ - ٩		<input type="text"/>	=	٣ - ٤
<input type="text"/>	=	٥ - ٨		<input type="text"/>	=	٥ - ٦
<input type="text"/>	=	٤ - ٦		<input type="text"/>	=	٧ - ٩
<input type="text"/>	=	٥ - ٧		<input type="text"/>	=	٢ - ٨
<input type="text"/>	=	٢ - ٤		<input type="text"/>	=	٤ - ٥
<input type="text"/>	=	٥ - ٩		<input type="text"/>	=	٢ - ٣

أوجد الناتج

مع أحمد ٩ جنيهاً ، صرف منها ٤ جنيهاً . أوجد ما تبقى معه .

$$\text{الباقي} = \dots - \dots = \dots \text{ جنيهاً}$$

مع سلمى ٨ جنيهاً ، ذهبت إلى السوق صرفت منها ٣ جنيهاً . أوجد الباقي .

$$\text{الباقي} = \dots - \dots = \dots \text{ جنيهاً}$$

في الثلاثاء ٥ قطع حلوى ، أكل أحمد منها ٣ قطع . أوجد الباقي .

$$\text{الباقي} = \dots - \dots = \dots \text{ قطعة}$$

ارسم نقط = عدد أيام الأسبوع في إطار الخمس خانات

--	--	--	--	--

--	--	--	--	--

ارسم نقط = عدد أصابع اليدين في إطار الخمس خانات

--	--	--	--	--

--	--	--	--	--

ارسم نقط = عدد شهور السنة في إطار الخمس خانات

--	--	--	--	--

--	--	--	--	--

--	--	--	--	--

اكتب

٨

ثمانية

٧

سبعة

٨

ثمانية

٧

سبعة

اكتب

١٠

عشرة

٩

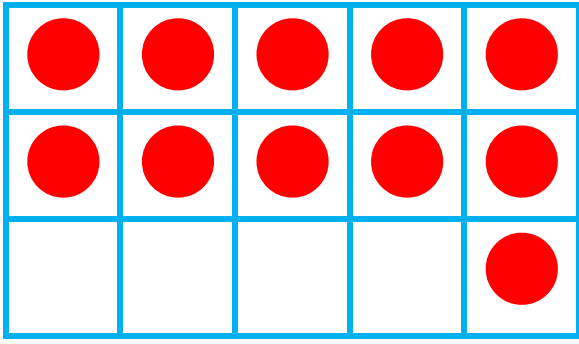
تسعة

١٠

عشرة

٩

تسعة



العدد ١١

$$1 + 10 = 11$$

اكتب العدد ١١

١١

١١

.....

.....

.....

.....

.....

.....

.....

.....

.....

.....

.....


.....


.....

.....

.....

.....





العدد ١٢

$$٢ + ١٠ = ١٢$$

اكتب العدد ١٢

١٢ ١٢

.....

.....

.....


.....


.....

.....

.....

.....





العدد ١٣

$$٣ + ١٠ = ١٣$$

اكتب العدد ١٣

١٣

١٣

.....

.....

.....

.....

.....

.....

.....

.....

.....

.....

.....


.....


.....

.....

.....

.....





العدد ١٤

$$٤ + ١٠ = ١٤$$

اكتب العدد ١٤

١٤

١٤

.....

.....

.....

.....

.....

.....

.....

.....

.....

.....

.....


.....


.....

.....

.....

.....





العدد ١٥

$$٥ + ١٠ = ١٥$$

اكتب العدد ١٥

١٥

١٥

.....

.....

.....

.....

.....

.....

.....

.....

.....

.....

.....


.....

.....


.....

.....


.....




قم بعد الأشكال، واكتب العدد




.....




.....



.....



.....



.....

ضع علامة (< , > , =)

١٠ ١٠

١٣ ١٢

١٢ ١٥

١٤ ١٤

١٠ ١٢

١٢ ١٥

١١ ١٤

١٢ ١٣

١٠ ١٥

١٢ ١٤

١٣ ١٣

١١ ١٢

١٣ ١١

١٥ ١٠

١١ ١١

١٠ ١٢


١٤ ١٣

١٢ ١٥


اكتب العدد السابق

اكتب العدد التالي


١٥




١٢



١١



١٣




١٥




١٣



١٤



١٣



١٢



١١



١٠



١٢



١٤



١٢

رتب تصاعديا (من الأصغر الى الأكبر)

١٢

١٤

١١

١٣

١٢

١٤

١٣

١٥

١٢

١١

١٣

١٠

١٢

١١

١٤

١٣

١٣

١٤



١٢


١٥

اختر الإجابة الصحيحة من بين القوسين

- العدد ١٠ أكبر من العدد (٩ ، ١١ ، ١٥)
- العدد ٩ أصغر من العدد (٩ ، ١٠ ، ٨)
- العدد ١٣ أكبر من العدد (١٢ ، ١٣ ، ١٤)
- العدد ١٠ أكبر من العدد (٩ ، ١٤ ، ١٥)
- العدد ٩ أصغر من العدد (١١ ، ٦ ، ٧)
- العدد ١١ أكبر من العدد (١٥ ، ١٣ ، ٩)
- العدد ١٣ أكبر من العدد (١٤ ، ١١ ، ١٥)

لون العدد الأكبر





العدد ١١

$$1 + 10 = 11$$

اكتب العدد ١١

١١

١١

.....

.....

.....

.....

.....

.....

.....

.....

.....

.....

.....


.....


.....

.....

.....

.....





العدد ١٢

$$٢ + ١٠ = ١٢$$

اكتب العدد ١٢

١٢ ١٢

.....

.....

.....


.....


.....

.....

.....

.....





١٣ العدد

$$٣ + ١٠ = ١٣$$

اكتب العدد ١٣

١٣

١٣

.....

.....

.....

.....

.....

.....

.....

.....

.....

.....

.....


.....


.....

.....

.....

.....





العدد ١٤

$$٤ + ١٠ = ١٤$$

اكتب العدد ١٤

١٤

١٤

.....

.....

.....

.....

.....

.....

.....

.....

.....

.....

.....


.....


.....

.....

.....

.....





العدد ١٥

$$٥ + ١٠ = ١٥$$

اكتب العدد ١٥

١٥

١٥

.....

.....

.....

.....

.....

.....

.....

.....

.....

.....

.....


.....

.....

.....

.....

.....



ضع علامة (< , > , =) ()

$11 \quad \square \quad 15$

$13 \quad \square \quad 14$

$15 \quad \square \quad 13$

$12 \quad \square \quad 12$

$12 \quad \square \quad 11$

$15 \quad \square \quad 10$

$12 \quad \square \quad 11$

$14 \quad \square \quad 12$

$13 \quad \square \quad 13$

$11 \quad \square \quad 14$

$12 \quad \square \quad 10$

$11 \quad \square \quad 11$

$10 \quad \square \quad 12$

$12 \quad \square \quad 13$

$15 \quad \square \quad 14$

$11 \quad \square \quad 15$

$12 \quad \square \quad 14$

$15 \quad \square \quad 13$

$14 \quad \square \quad 12$

$11 \quad \square \quad 11$

رتب تنازليا (من الأكبر الى الأصغر)

١٢

١٤

١١

١٣

١٢

١٤

١٣

١٥

١٢

١٣

١١

١٠

١٢

١٣

١١

١٤

١٤

١٣

١٥

١٢

اكتب العدد السابق

اكتب العدد التالي

١٤ →

١١ →

١٣ →

١٣ →

١٥ →

١٤ →

١٢ →

← ١٢

← ١٤

← ١١

← ١٠

← ١٢



← ١٤

← ١٣

اختر الإجابة الصحيحة من بين القوسين

- العدد ٧ أكبر من العدد (٩ ، ١١ ، ٦)
- العدد ١٣ أصغر من العدد (٩ ، ١٤ ، ٨)
- العدد ١٣ أكبر من العدد (١٢ ، ١٣ ، ١٤)
- العدد ١٠ أكبر من العدد (٩ ، ١٤ ، ١٥)
- العدد ١٤ أصغر من العدد (١٥ ، ١٤ ، ٧)
- العدد ١١ أكبر من العدد (١٥ ، ١٣ ، ٩)
- العدد ٩ أكبر من العدد (١٤ ، ٨ ، ١٥)

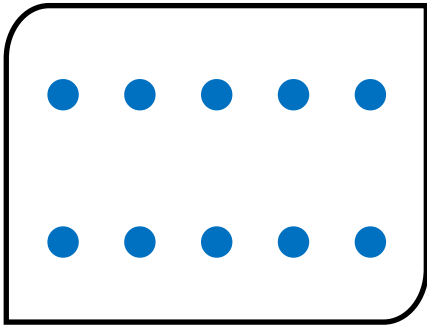
لون العدد الأكبر




اكتب

١٩	١٨	١٧	١٦	١٥	١٤	١٣	١٢	١١	١٠

صل

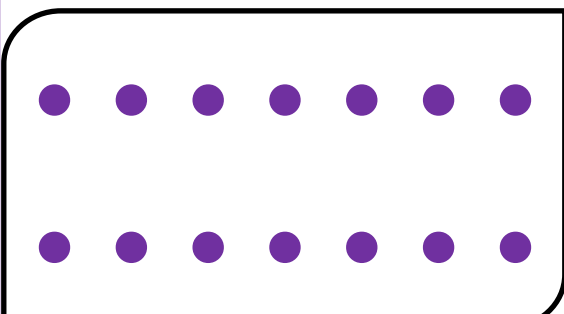


١٣




١٤

١٢



١٠



ضع علامة (< ، > ، =) (

١٣	<input type="text"/>	١١	١٣	<input type="text"/>	١٩
١٨	<input type="text"/>	١٤	١١	<input type="text"/>	١١
١٧	<input type="text"/>	١٢	١٠	<input type="text"/>	١٨
١٢	<input type="text"/>	١٢	١٥	<input type="text"/>	١٣
١٢	<input type="text"/>	١١	١٥	<input type="text"/>	١٦
١٥	<input type="text"/>	١٥	١١	<input type="text"/>	١٢
١١	<input type="text"/>	١١	١٢	<input type="text"/>	١٤
١٤	<input type="text"/>	١٨	١٨	<input type="text"/>	١٧
١٣	<input type="text"/>	١٣	١٤	<input type="text"/>	١٢
١٧	<input type="text"/>	١٩	١١	<input type="text"/>	١٨

رتب تنازليا (من الأكبر الى الأصغر)

١٦

١٨

١٥

١٧

١٢

١٤

١٣

١٥

١٦

١٧

١٣

١٥

١٢

١٣

١١

١٤

١٦

١٧

١٤

١٥

اكتب العدد السابق

اكتب العدد التالي

١٩ →

١٤ →

١٣ →

١٥ →

١٥ →

١٤ →

١٨ →

← ١٨

← ١٤

← ١٦

← ١٢

← ١٦

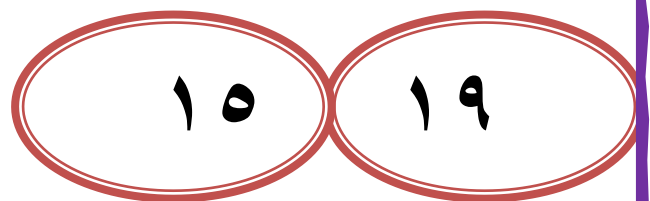

← ١٤

← ١٧

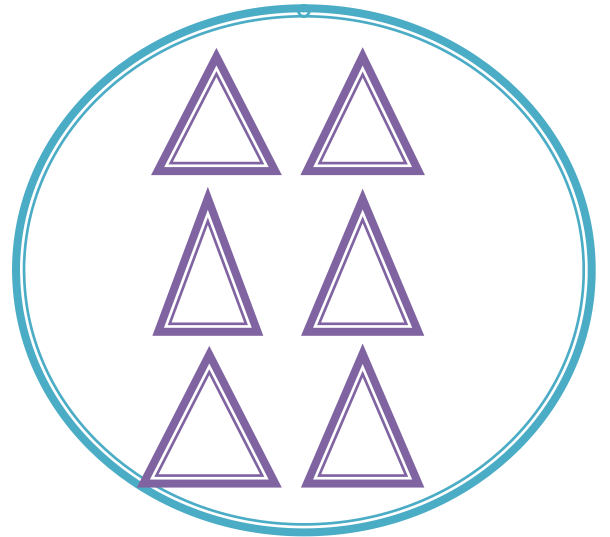

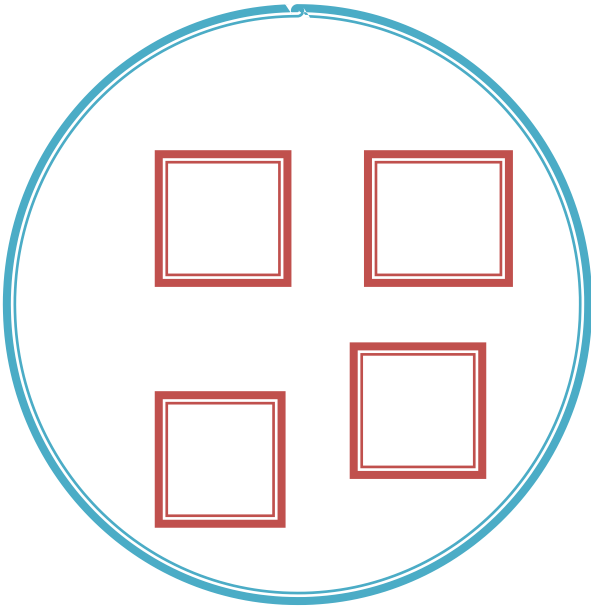
اختر الإجابة الصحيحة من بين القوسين




- العدد ١٧ أكبر من العدد (١٦ ، ١٨ ، ١٩)
- العدد ١٣ أصغر من العدد (٨ ، ١٤ ، ٩)
- العدد ١٣ أكبر من العدد (١٢ ، ١٣ ، ١٤)
- العدد ١٠ أكبر من العدد (٩ ، ١٤ ، ١٥)
- العدد ١٤ أصغر من العدد (٧ ، ١٤ ، ١٥)
- العدد ١١ أكبر من العدد (٩ ، ١٣ ، ١٥)
- العدد ١٥ أكبر من العدد (١٤ ، ١١ ، ١٥)

لون العدد الأكبر



عد واكتب ولون حسب العدد





لون حسب العدد

٧	أحمر
٤	أزرق
٦	أخضر
٣	أصفر

أصفر أخضر أزرق أحمر

اكتب حسب العدد

		△
□		△
□	○	△
□	○	△
□	○	△

.....	مربع
.....	دائرة
.....	مثلث

لون حسب العدد

٤	أحمر
٣	أزرق
٥	أخضر
٢	أصفر

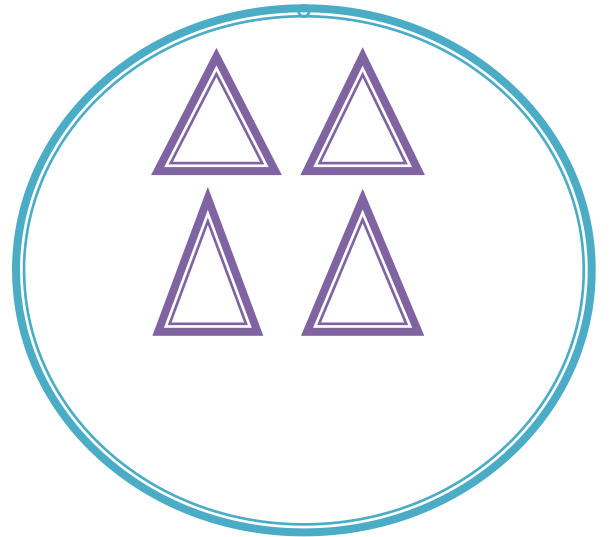

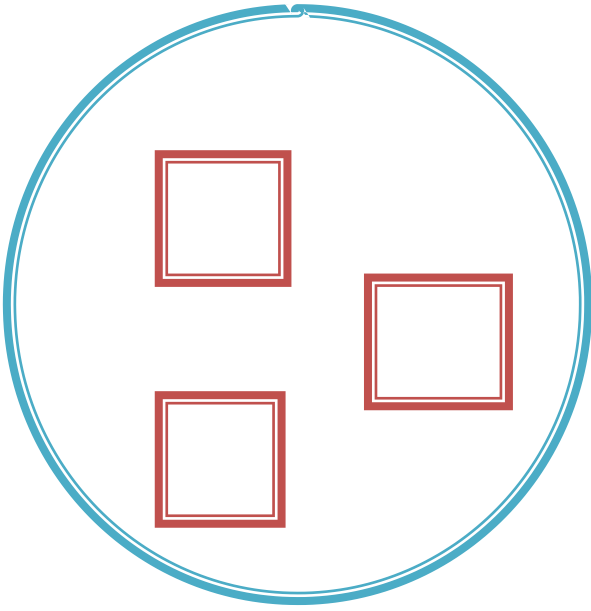
أصفر أخضر أزرق أحمر




اكتب حسب العدد

	○	
	○	
□	○	△
□	○	△
□	○	△

.....	مربع
.....	دائرة
.....	مثلث

عد واكتب ولون حسب العدد





لون حسب العدد

٥	أحمر
٣	أزرق
٦	أخضر
٤	أصفر

أصفر أخضر أزرق أحمر

اكتب حسب العدد

		△
□		△
□	○	△
□	○	△
□	○	△

.....	مربع
.....	دائرة
.....	مثلث

لون حسب العدد

٥	أحمر
٢	أزرق
٤	أخضر
٦	أصفر

أصفر أخضر أزرق أحمر

اكتب حسب العدد

	○	
	○	
□	○	△
□	○	△
□	○	△

.....	مربع
.....	دائرة
.....	مثلث

ضع علامة (< , > , =)

١٣	<input type="text"/>	١٧	١٣	<input type="text"/>	٢٢
----	----------------------	----	----	----------------------	----

١٨	<input type="text"/>	٢٥	٢٥	<input type="text"/>	٢٥
----	----------------------	----	----	----------------------	----

١٧	<input type="text"/>	١٢	٢٥	<input type="text"/>	١٨
----	----------------------	----	----	----------------------	----

١٢	<input type="text"/>	٢٣	١٥	<input type="text"/>	١٣
----	----------------------	----	----	----------------------	----

٢٧	<input type="text"/>	١١	١٥	<input type="text"/>	١٦
----	----------------------	----	----	----------------------	----

٢٣	<input type="text"/>	٢٦	١٥	<input type="text"/>	١٢
----	----------------------	----	----	----------------------	----

١١	<input type="text"/>	١١	١٢	<input type="text"/>	١٤
----	----------------------	----	----	----------------------	----

١٤	<input type="text"/>	١٨	١٨	<input type="text"/>	١٧
----	----------------------	----	----	----------------------	----

١٣	<input type="text"/>	١٣	٢٥	<input type="text"/>	٢٢
----	----------------------	----	----	----------------------	----

رتب تنازليا (من الأكبر الى الأصغر)

١٦

٢٤

٢٢

٢٣

٢١

٢٣

٢٠

٢٢

١٦

١٧

١٣

١٥

٢٥

٢٧

٢٤

٢٦

٢٧

٢٩

٢٦

٢٨

اكتب العدد السابق

اكتب العدد التالي

٢٣ →

← ٢١

٢٧ →

← ٢٦

٢٩ →

← ٢٢

٢٢ →

← ٢٥

٢١ →

← ١٦

٢٨ →

← ٢٨

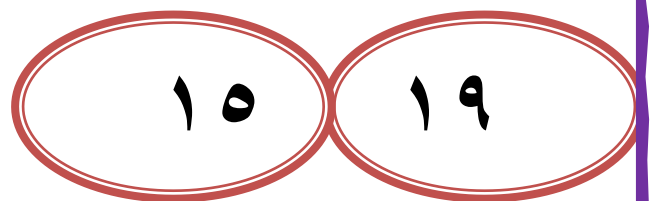

٢٥ →

← ٢٥

اختر الإجابة الصحيحة من بين القوسين

- العدد ٢٥ أكبر من العدد (٢٣ ، ٢٨ ، ٢٥)
- العدد ٢٧ أصغر من العدد (٢٥ ، ٢٨ ، ٢٢)
- العدد ٢٢ أكبر من العدد (٢٦ ، ٢٥ ، ١٤)
- العدد ٢٠ أكبر من العدد (٩ ، ٢٢ ، ٢٣)
- العدد ٢٦ أصغر من العدد (١٥ ، ١٤ ، ٢٧)
- العدد ١١ أكبر من العدد (١٥ ، ١٣ ، ٩)
- العدد ٢٤ أكبر من العدد (٢٤ ، ٢٧ ، ٢١)

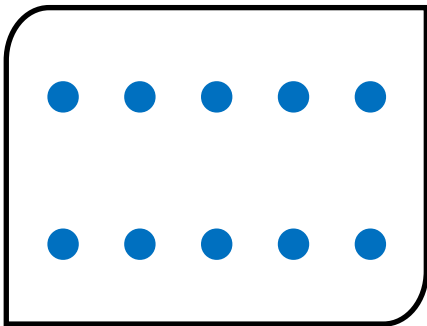
لون العدد الأكبر




اكتب

٩٠	٨٠	٧٠	٦٠	٥٠	٤٠	٣٠	٢٠	١٠


صل



١٣




١٤




١٢


١٠




قم بعد الأشكال، واكتب العدد




.....




.....



.....

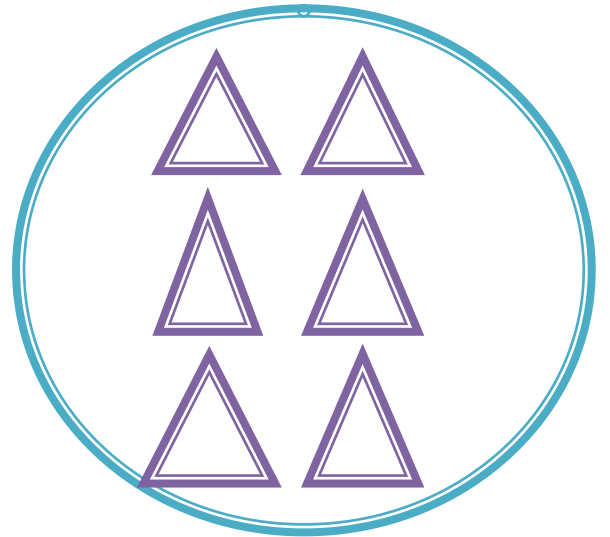

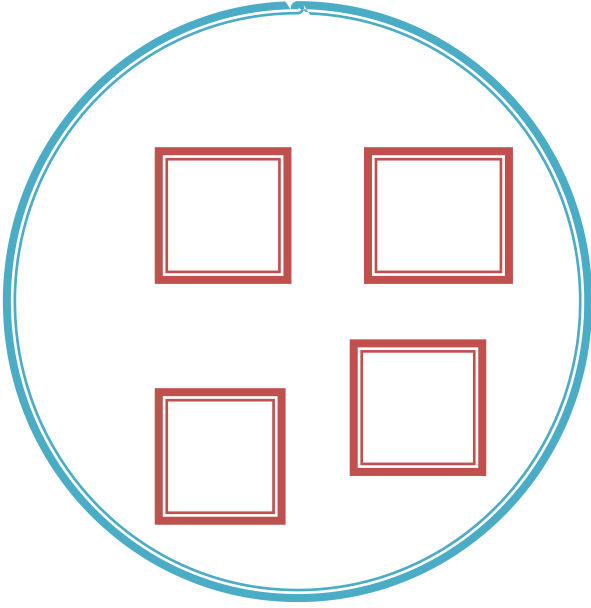





.....



.....

عد واكتب ولون حسب العدد





لون حسب العدد

٧	أحمر
٤	أزرق
٦	أخضر
٣	أصفر

أصفر أخضر أزرق أحمر

اكتب حسب العدد

		△
□		△
□	○	△
□	○	△
□	○	△

.....	مربع
.....	دائرة
.....	مثلث

لون حسب العدد

٤	أحمر
٣	أزرق
٥	أخضر
٢	أصفر

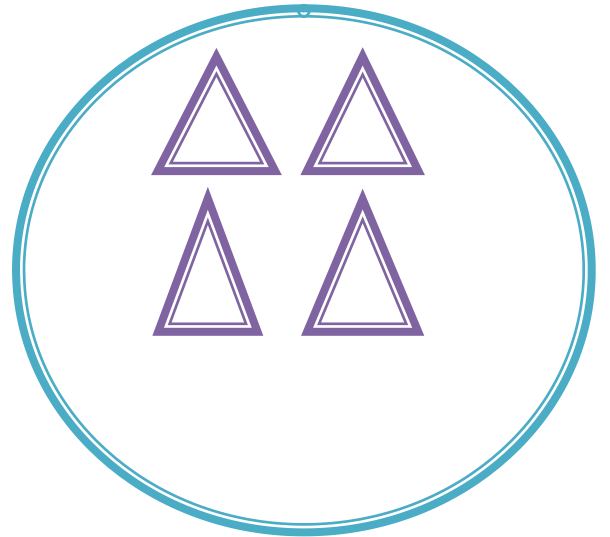

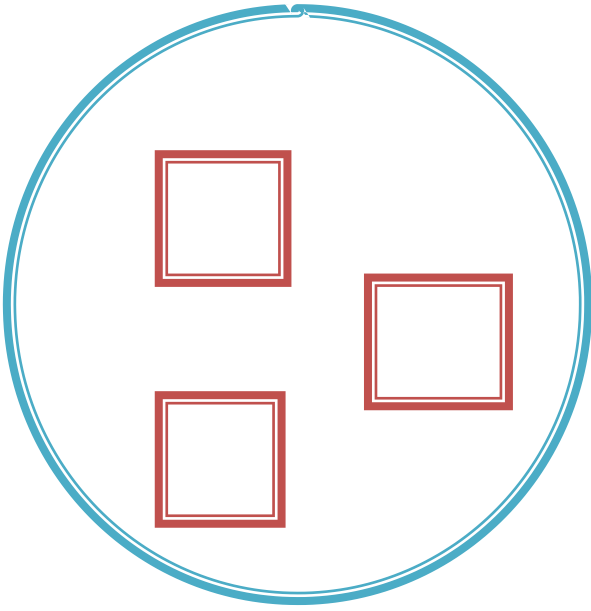
أصفر أخضر أزرق أحمر




اكتب حسب العدد

	○	
	○	
□	○	△
□	○	△
□	○	△

.....	مربع
.....	دائرة
.....	مثلث

عد واكتب ولون حسب العدد





لون حسب العدد

٥	أحمر
٣	أزرق
٦	أخضر
٤	أصفر

أصفر أخضر أزرق أحمر

اكتب حسب العدد

		△
□		△
□	○	△
□	○	△
□	○	△

.....	مربع
.....	دائرة
.....	مثلث

لون حسب العدد

٥	أحمر
٢	أزرق
٤	أخضر
٦	أصفر

أصفر أخضر أزرق أحمر

اكتب حسب العدد

	○	
	○	
□	○	△
□	○	△
□	○	△

.....	مربع
.....	دائرة
.....	مثلث

اكتب

٣٩	٣٨	٣٧	٣٦	٣٥	٣٤	٣٣	٣٢	٣١	٣٠

ضع علامة (< , > , =)

٢٥ ٣٣ ١٣ ٣٥

١٨ ١٤ ١١ ٣٦

١٧ ١٢ ٢٢ ١٨

٣٢ ٣٧ ١٥ ١٣

١٢ ٣٩ ٢٦ ٢٦

١٥ ١٥ ٢٢ ٣٣

١١ ١١ ١٢ ١٤

١٤ ١٨ ١٨ ١٧

٣٦ ٣٨ ٣٤ ٣٧

رتب تنازليا (من الأكبر الى الأصغر)

٣٦

٣٨

٣٥

٣٧

٣٢

٣٤

٣٣

٣٥

٣٦

٣٧

٣٣

٣٥

٣٢

٣٣

٣١

٣٤

٣٦

٣٧


٣٤

٣٥


اكتب العدد السابق

اكتب العدد التالي


٣٥



٣٤




٣٨



٣٩




٣٢




٣٣



٣٧




٣١




٣٥




٣٢



٢٧



٣٣



٣٤



٣٨

اقرأ

٩١	٩٢	٩٣	٩٤	٩٥	٩٦	٩٧	٩٨	٩٩	١٠٠
٨١	٨٢	٨٣	٨٤	٨٥	٨٦	٨٧	٨٨	٨٩	٩٠
٧١	٧٢	٧٣	٧٤	٧٥	٧٦	٧٧	٧٨	٧٩	٨٠
٦١	٦٢	٦٣	٦٤	٦٥	٦٦	٦٧	٦٨	٦٩	٧٠
٥١	٥٢	٥٣	٥٤	٥٥	٥٦	٥٧	٥٨	٥٩	٦٠
٤١	٤٢	٤٣	٤٤	٤٥	٤٦	٤٧	٤٨	٤٩	٥٠
٣١	٣٢	٣٣	٣٤	٣٥	٣٦	٣٧	٣٨	٣٩	٤٠
٢١	٢٢	٢٣	٢٤	٢٥	٢٦	٢٧	٢٨	٢٩	٣٠
١١	١٢	١٣	١٤	١٥	١٦	١٧	١٨	١٩	٢٠
١	٢	٣	٤	٥	٦	٧	٨	٩	١٠

أكمل :

١٠		٨	٧			٤	٣		١
	١٩			١٦		١٤			١١
٣٠		٢٨			٢٥			٢٢	٢١
	٣٩			٣٦			٣٣		

١٠			٧			٤			١
٢٠			١٧			١٤		١٢	
	٢٩				٢٥				٢١
		٣٨				٣٤		٣٢	
٥٠				٤٦					٤١
	٥٩		٥٧				٥٣		
٧٠		٦٨			٦٥			٦٢	
	٧٩			٧٦			٧٣		

ضع علامة (< , > , =)

٦٩

٧٤

٤٧

١٩

٧٤

٣٥

١٦

٥٨

٣٥

١٦

٥٢

٨٥

٥٧

٥٧

٤٧

٢٦

٢٥

٨٥

٧٣

٤٥

٣٩

٣٩

٦٢

٧٤

٢٦

٤٤

١٥

٧٣

٦٢

٣٣

٨٢

٨٢

٣٧

٣٢

٦٦

٦٨

ضع علامة (< , > , =) ()

٨٠ ٦٠

٥٠ ٥٠

٥٨ ٣٨

٩١ ٣٧

٢٢ ٣٨

٦٤ ٦٧

٧٤ ٧٧

٦٥ ١٥

٥٥ ٥٥

٣٩ ٦٦

٧٠ ٣٠

٦٠ ٤٠

٤٦ ٤٥

٤٨ ٤٦

٩٩ ٩٧

٤٤ ٤٤

٥٤ ٤٥

٤٩ ٤٣

٤٩ ٩٢

٤٦ ٤٥

اكتب العدد السابق

اكتب العدد التالي

$٣٤ \longrightarrow \square$

$٣١ \longrightarrow \square$

$٢٢ \longrightarrow \square$

$٢٣ \longrightarrow \square$

$٤٤ \longrightarrow \square$

$٤٧ \longrightarrow \square$

$٧٤ \longrightarrow \square$

$\square \longleftarrow ١٣$

$\square \longleftarrow ٦٥$

$\square \longleftarrow ٣٤$

$\square \longleftarrow ١٧$

$\square \longleftarrow ٥٦$

$\square \longleftarrow ٢٥$

$\square \longleftarrow ٣٨$

رتب تصاعديا (من الأصغر الى الأكبر)

١٢

١٤

١١

١٣

١٢

١٤

١٣

١٥

٣٥

٣٧

٣٤

٣٦

٣٣

٤٥

٥٨

٢٢

٧١

٨٩

٥٦

٦٣

رتب تنازليا (من الأكبر الى الأصغر)

١٢

١٤

١١

١٣

١٢

١٤

١٣

١٥

٣٥

٣٧

٣٤

٣٦

٣٣

٤٥

٥٨

٢٢

٧١

٨٩

٥٦

٦٣

أكمل

..... = ٢ + ٠

..... = ٤ + ٣

..... = ٣ + ٣

..... = ٢ + ٢

..... = ٤ + ٤

..... = ٥ + ١

..... = ٠ + ٩

..... = ٣ + ٢

..... = ١ + ١

ضع خطا تحت أكبر الأعداد

ضع خطا تحت أصغر الأعداد

٢ ، ٠ ، ٩ ، ٤ ، ٥	١ ، ٦ ، ٧ ، ٠ ، ٣
-------------------	-------------------

رتب الأعداد الآتية من الأصغر للأكبر : (تصاعديا)

٤ ، ٠ ، ٩ ، ٣ ، ٢ ، ٧

..... ، ، ، ، ،

٨٤ ، ٧٦ ، ٨٥ ، ٩٠ ، ١٠

..... ، ، ، ،

٣٤ ، ١٧ ، ١٠ ، ٠ ، ١٥

..... ، ، ، ،

٢٥ ، ٣٠ ، ١٥ ، ١٩ ، ٥

..... ، ، ، ،

رتب الأعداد الآتية من الأكبر للأصغر : (تنازليا)

١٨ ، ٢٠ ، ٠ ، ٢٥ ، ١٠ ،

٦٥ ، ٥٠ ، ٧٥ ، ٩٠ ، ٨٠ ،

رتب الأعداد الآتية من الأكبر للأصغر : (تنازليا)

٧٥ ، ٩١ ، ٦٢ ، ٤٦ ، ٥٥ ،

أكتب الأعداد الآتية في أماكنها بحيث تكون مرتبة من الأصغر للأكبر:

٦٠ ، ٤٦ ، ٤٩ ، ٩١ ، ٣٤

٢٩ ، ، ٤٣ ، ، ٤٧ ، ، ٥٢ ، ، ٧٣ ،

أكمل بالترتيب

٠ ، ١ ، ، ٤ ، ، ، ، ٨ ،

١٠ ، ، ٨ ، ، ، ٥ ، ، ، ، ١ ،

١٠ ، ٢٠ ، ٣٠ ، ، ، ، ،

٩٠ ، ٨٠ ، ، ، ، ،

أكمل

$$\dots\dots\dots + 3 = 10$$

$$\dots\dots\dots + 8 = 10$$

$$\dots\dots\dots + 1 = 10$$

$$\dots\dots\dots + 6 = 10$$

ضع خطا تحت العددين اللذين مجموعهما ١٠

$$1 + 4 + 7 + 5 + 3$$

$$5 + 8 + 6 + 5 + 7$$

$$2 + 1 + 6 + 4 + 7$$

أكمل

$$10 = \dots\dots\dots + 5 + 2$$

$$10 = \dots\dots\dots + 3 + 3$$

$$10 = \dots\dots\dots + 2 + 7$$

$$\dots\dots\dots = 2 + 4$$

$$\dots\dots\dots = 20 + 40$$

أكمل

$$\dots\dots\dots + 5 = 35$$

$$\dots\dots\dots + 7 = 17$$

$$\dots\dots\dots + 3 = 23$$

$$60 + \dots\dots\dots = 65$$

$$\dots\dots\dots + \dots\dots\dots = 94$$

$$70 + 1 = \dots\dots\dots$$

$$\dots\dots\dots + \dots\dots\dots = 80$$

أكمل

$$\dots\dots\dots + \dots\dots\dots = 10$$

$$50 + 3 = \dots\dots\dots$$

$$40 + 4 = \dots\dots\dots$$

$$\dots\dots\dots = 50 + 30$$

$$\dots\dots\dots = 70 + 4$$

$$88 = \dots\dots\dots + 8$$

$$70 = \dots\dots\dots + 20$$

أيام الإِسبوع ٧ أيام

الأحد

الأحد

الاثنين

الاثنين

الثلاثاء

الثلاثاء

الأربعاء

الأربعاء

الخميس

الخميس

الجمعة

الجمعة

السبت

السبت

أكمل أيام الأسبوع

.....

.....

الأحد

.....

.....

الثلاثاء

.....

الخميس

.....

.....

.....

الاثنين

الجمعة

.....

.....

.....

.....

الاثنين

.....

.....

الجمعة

حدد اليوم السابق و اليوم التالي

اليوم التالي

اليوم

اليوم السابق

غدا

اليوم

أمس

.....

الأحد

.....

.....

الاثنين

.....

.....

الأربعاء

.....

.....

الجمعة

.....

.....

الخميس

.....


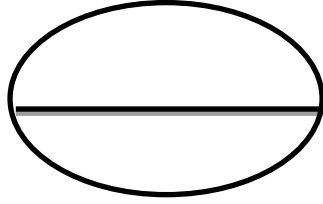
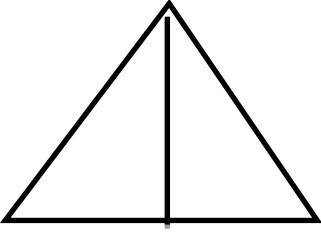
.....

الثلاثاء

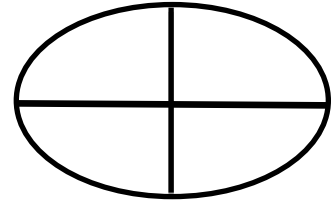


.....

الكسور : النصف و الربع


نصف



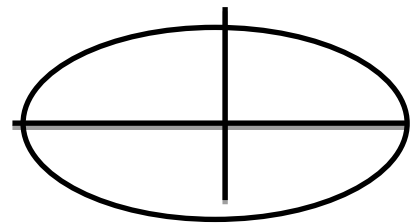
ربع



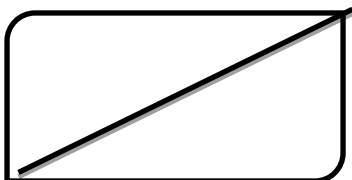
ظل المطلوب



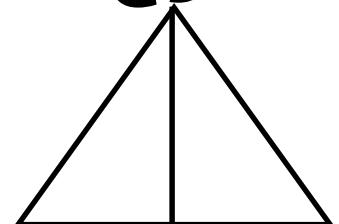
ربع



ربع

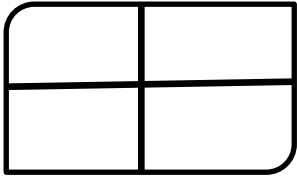


نصف

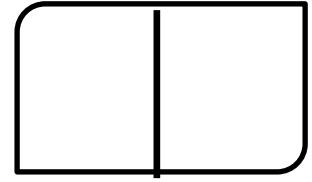


نصف

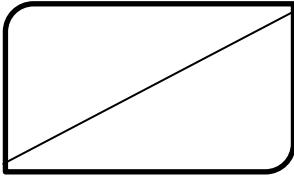
لون الأشكال



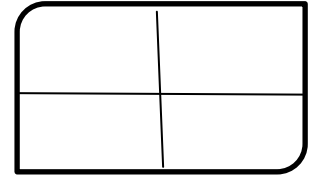
ربع




نصف



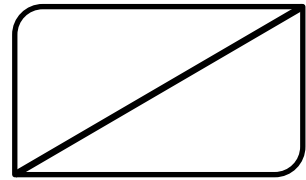
نصف



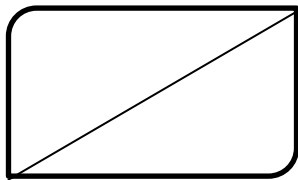
ربع




ربع



نصف



نصف



ربع

اقرأ واكتب

فبراير

يناير

أبريل

مارس

يونيو

مايو

أغسطس

يوليو

أكتوبر

سبتمبر

ديسمبر

نوفمبر

أكمل شهور السنة

.....

.....

يناير

.....

.....

مارس

.....

مايو

.....

.....

.....

أكتوبر

أكتوبر

.....

.....

.....

.....

مايو

.....

.....

أغسطس

حدد الشهر السابق و الشهر التالي

الشهر التالي

الشهر

الشهر السابق

.....

فبراير

.....

.....

نوفمبر

.....

.....

أبريل

.....

.....

أغسطس

.....

.....

يونيو

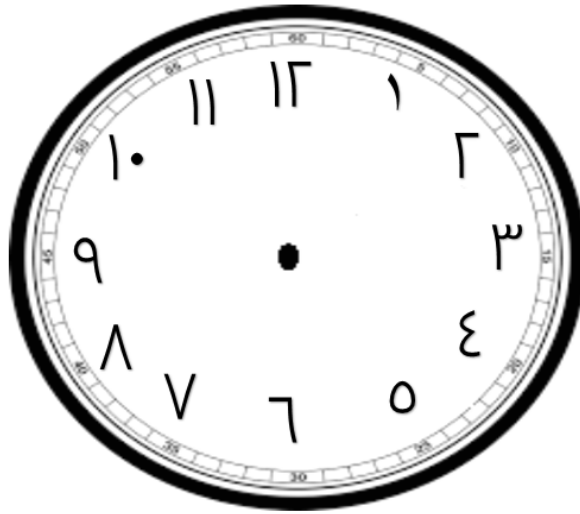
.....

.....

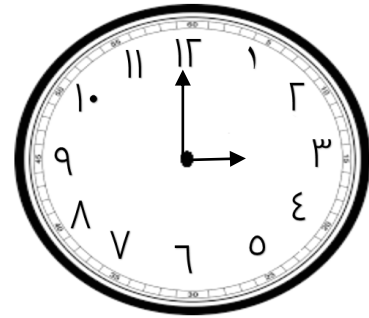
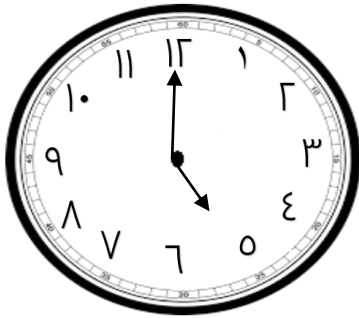
مارس

.....

الساعة

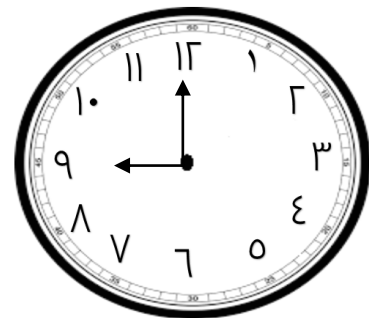


اليوم = ٢٤ ساعة



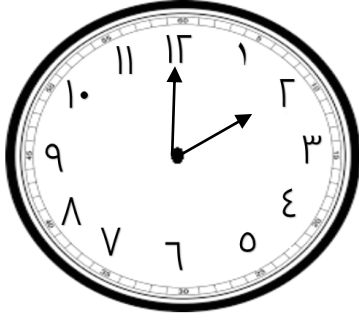
الساعة :

الساعة :

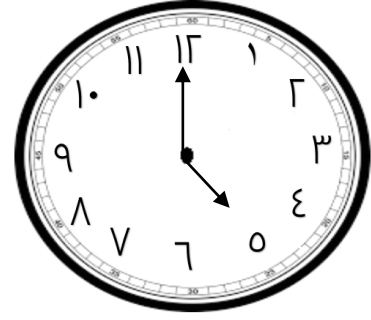


الساعة :

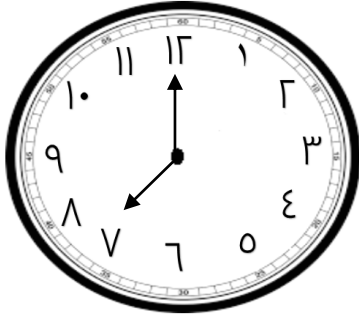
الساعة :



الساعة :



الساعة :

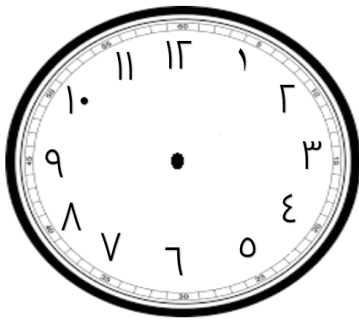


الساعة :

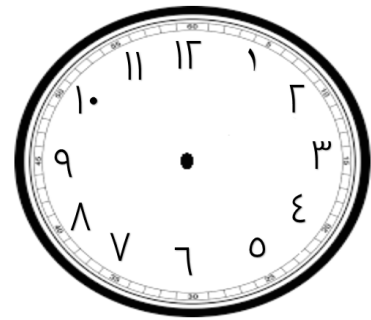


الساعة :

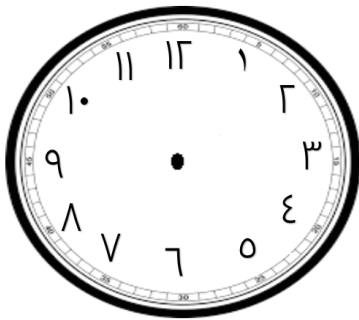
ارسم عقارب الساعة



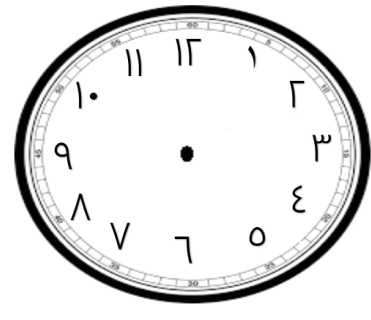
الساعة ٧ : ٠٠



الساعة ٥ : ٠٠

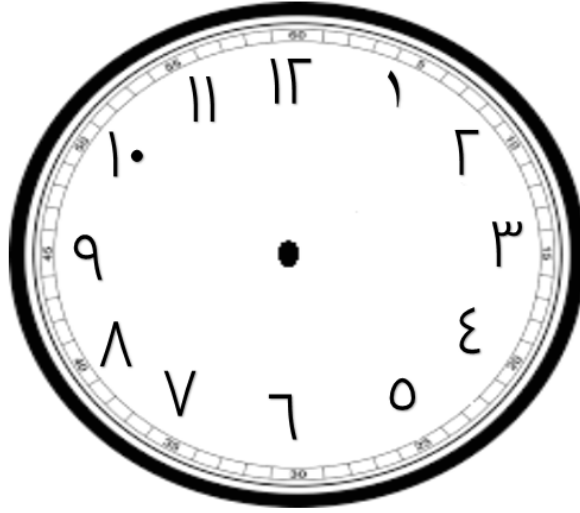


الساعة ١٠ : ٠٠

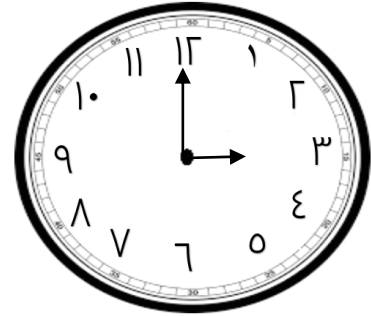
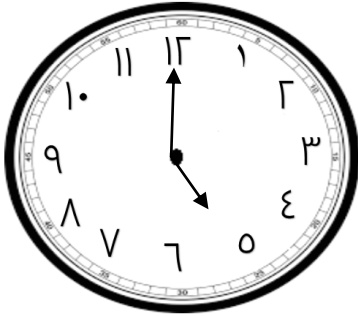


الساعة ٣ : ٠٠

الساعة

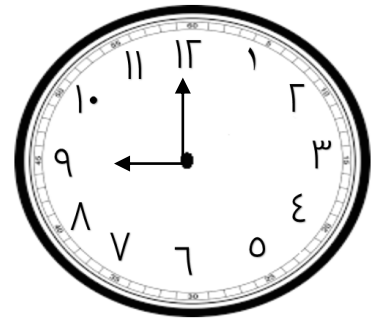


اليوم = ٢٤ ساعة



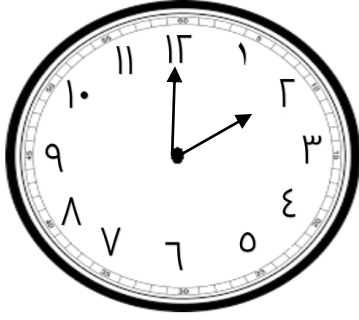
الساعة :

الساعة :

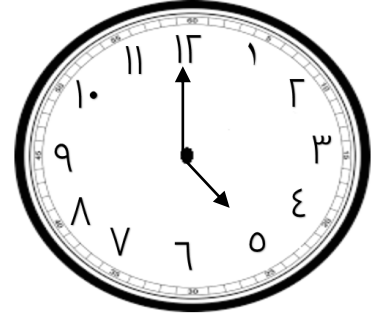


الساعة :

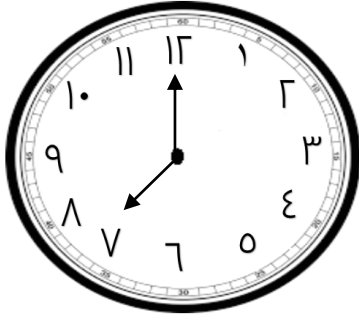
الساعة :



الساعة :



الساعة :

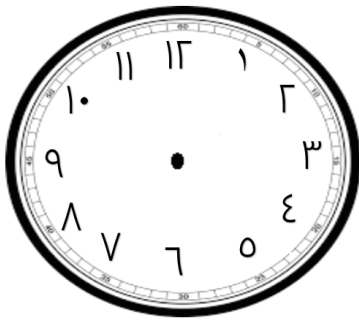


الساعة :

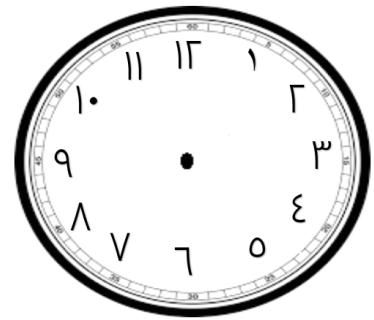


الساعة :

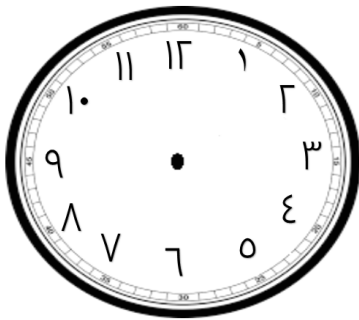
ارسم عقارب الساعة



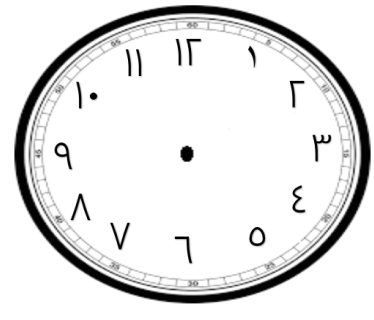
الساعة ٧ : ٠٠



الساعة ٥ : ٠٠

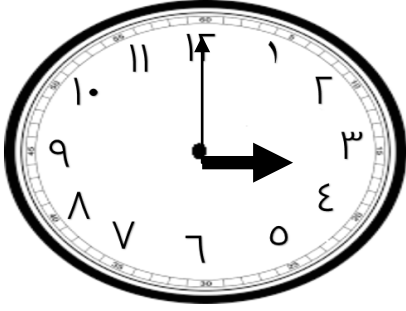


الساعة ١٠ : ٠٠



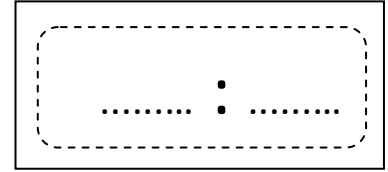
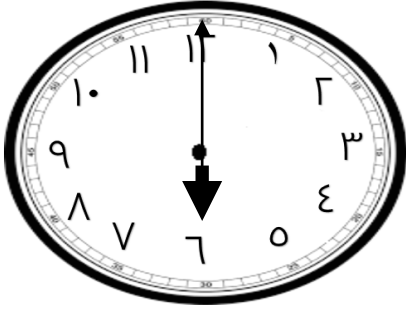
الساعة ٣ : ٠٠

الساعة الرقمية

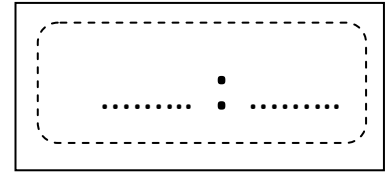



03:00

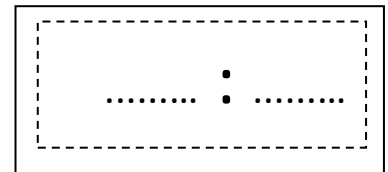
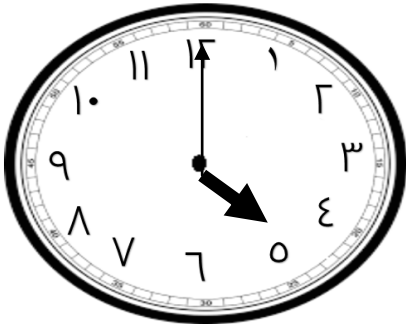
الساعة :



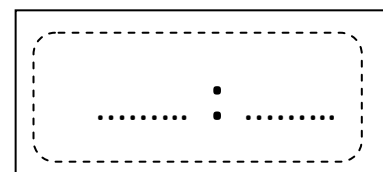
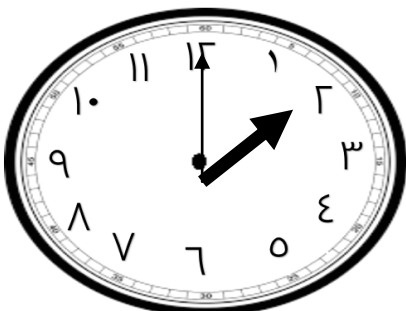
الساعة :



الساعة :



الساعة :



الساعة :

شهور السنة ١٢ شهر

يناير

فبراير

مارس

أبريل

مايو

يونيو

يوليو

أغسطس

سبتمبر

أكتوبر

نوفمبر

ديسمبر

أكمل شهور السنة

.....

.....

يناير

.....

.....

مارس

.....

مايو

.....

.....

.....

أكتوبر

أكتوبر

.....

.....

.....

.....

مايو

.....

.....

أغسطس

حدد الشهر السابق و الشهر التالي

الشهر التالي

الشهر

الشهر السابق

.....

فبراير

.....

.....

نوفمبر

.....

.....

أبريل

.....

.....

أغسطس

.....

.....

يونيو

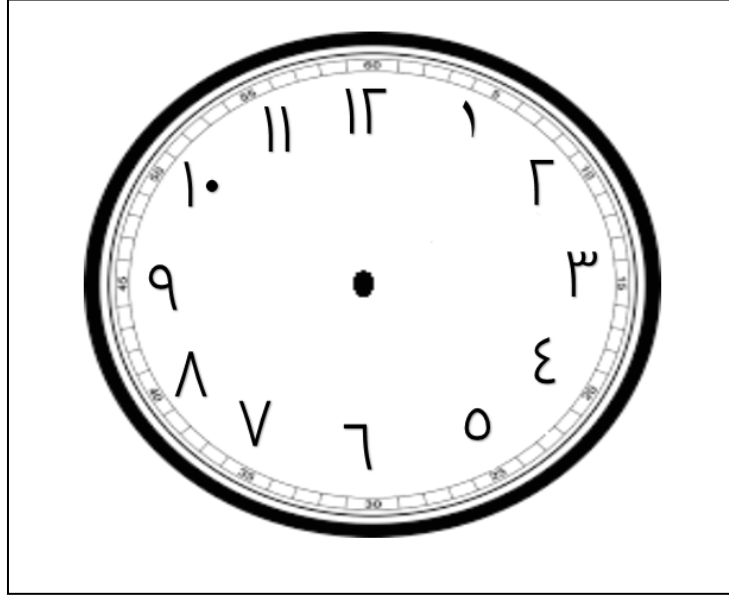
.....

.....


مارس

.....


الساعة




اليوم = ٢٤ ساعة




..... الساعة :




..... الساعة :




..... الساعة :




..... الساعة :




الساعة :



الساعة :

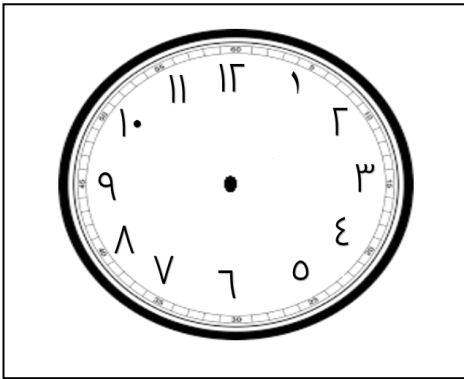


الساعة :

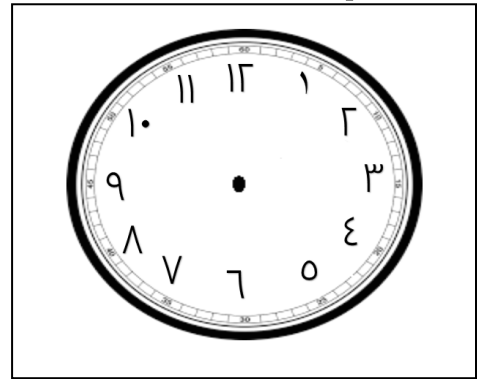


الساعة :

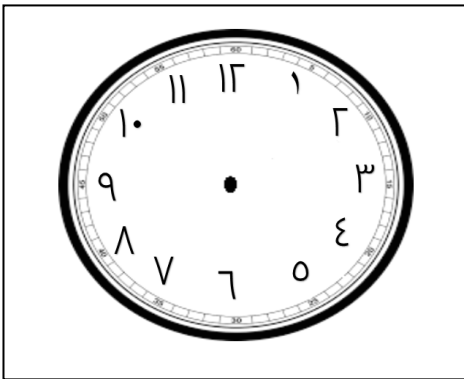
ارسم عقارب الساعة :



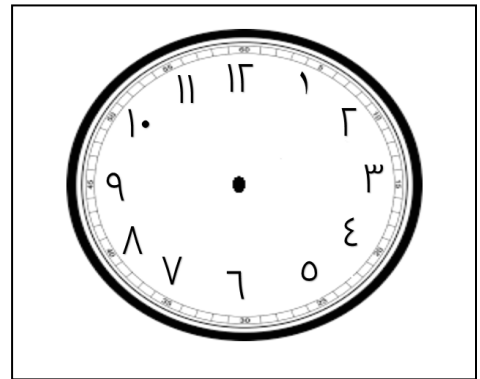
الساعة ٧ : ٠٠



الساعة ٥ : ٠٠



الساعة ١٠ : ٠٠



الساعة ٣ : ٠٠

مجموعة العدد

مجموعة العدد ٢

$$\dots = 0 + 2$$

$$\dots = 1 + 2$$

$$\dots = 2 + 2$$

$$\dots = 3 + 2$$

$$\dots = 4 + 2$$

$$\dots = 5 + 2$$

$$\dots = 6 + 2$$

$$\dots = 7 + 2$$

$$\dots = 8 + 2$$

$$\dots = 9 + 2$$

$$\dots = 10 + 2$$

مجموعة العدد ١

$$\dots = 0 + 1$$

$$\dots = 1 + 1$$

$$\dots = 2 + 1$$

$$\dots = 3 + 1$$

$$\dots = 4 + 1$$

$$\dots = 5 + 1$$

$$\dots = 6 + 1$$

$$\dots = 7 + 1$$

$$\dots = 8 + 1$$

$$\dots = 9 + 1$$

$$\dots = 10 + 1$$

مجموعة العدد

مجموعة العدد ٤

$$\dots = 0 + 4$$

$$\dots = 1 + 4$$

$$\dots = 2 + 4$$

$$\dots = 3 + 4$$

$$\dots = 4 + 4$$

$$\dots = 5 + 4$$

$$\dots = 6 + 4$$

$$\dots = 7 + 4$$

$$\dots = 8 + 4$$

$$\dots = 9 + 4$$

$$\dots = 10 + 4$$

مجموعة العدد ٣

$$\dots = 0 + 3$$

$$\dots = 1 + 3$$

$$\dots = 2 + 3$$

$$\dots = 3 + 3$$

$$\dots = 4 + 3$$

$$\dots = 5 + 3$$

$$\dots = 6 + 3$$

$$\dots = 7 + 3$$

$$\dots = 8 + 3$$

$$\dots = 9 + 3$$

$$\dots = 10 + 3$$

مجموعة العدد

مجموعة العدد ٦

$$\dots = 0 + 6$$

$$\dots = 1 + 6$$

$$\dots = 2 + 6$$

$$\dots = 3 + 6$$

$$\dots = 4 + 6$$

$$\dots = 5 + 6$$

$$\dots = 6 + 6$$

$$\dots = 7 + 6$$

$$\dots = 8 + 6$$

$$\dots = 9 + 6$$

$$\dots = 10 + 6$$

مجموعة العدد ٥

$$\dots = 0 + 5$$

$$\dots = 1 + 5$$

$$\dots = 2 + 5$$

$$\dots = 3 + 5$$

$$\dots = 4 + 5$$

$$\dots = 5 + 5$$

$$\dots = 6 + 5$$

$$\dots = 7 + 5$$

$$\dots = 8 + 5$$

$$\dots = 9 + 5$$

$$\dots = 10 + 5$$

مجموعة العدد

مجموعة العدد ٨

$$\dots = ٠ + ٨$$

$$\dots = ١ + ٨$$

$$\dots = ٢ + ٨$$

$$\dots = ٣ + ٨$$

$$\dots = ٤ + ٨$$

$$\dots = ٥ + ٨$$

$$\dots = ٦ + ٨$$

$$\dots = ٧ + ٨$$

$$\dots = ٨ + ٨$$

$$\dots = ٩ + ٨$$

$$\dots = ١٠ + ٨$$

مجموعة العدد ٧

$$\dots = ٠ + ٧$$

$$\dots = ١ + ٧$$

$$\dots = ٢ + ٧$$

$$\dots = ٣ + ٧$$

$$\dots = ٤ + ٧$$

$$\dots = ٥ + ٧$$

$$\dots = ٦ + ٧$$

$$\dots = ٧ + ٧$$

$$\dots = ٨ + ٧$$

$$\dots = ٩ + ٧$$

$$\dots = ١٠ + ٧$$

مجموعة العدد

مجموعة العدد ١٠

$$= ٠ + ١٠$$

$$= ١ + ١٠$$

$$= ٢ + ١٠$$

$$= ٣ + ١٠$$

$$= ٤ + ١٠$$

$$= ٥ + ١٠$$

$$= ٦ + ١٠$$

$$= ٧ + ١٠$$

$$= ٨ + ١٠$$

$$= ٩ + ١٠$$

$$= ١٠ + ١٠$$

مجموعة العدد ٩

$$= ٠ + ٩$$

$$= ١ + ٩$$

$$= ٢ + ٩$$

$$= ٣ + ٩$$

$$= ٤ + ٩$$

$$= ٥ + ٩$$

$$= ٦ + ٩$$

$$= ٧ + ٩$$

$$= ٨ + ٩$$

$$= ٩ + ٩$$

$$= ١٠ + ٩$$

مجموعة العدد

مجموعة العدد ٢

.....	=	٠ - ٢
.....	=	١ - ٢
.....	=	٢ - ٢

مجموعة العدد ١

.....	=	٠ - ١
.....	=	١ - ١

مجموعة العدد

مجموعة العدد ٤

.....	=	٠ - ٤
.....	=	١ - ٤
.....	=	٢ - ٤
.....	=	٣ - ٤
.....	=	٤ - ٤

مجموعة العدد ٣

.....	=	٠ - ٣
.....	=	١ - ٣
.....	=	٢ - ٣
.....	=	٣ - ٣

مجموعة العدد

مجموعة العدد ٦

مجموعة العدد ٥

$$\dots = ٠ - ٦$$

$$\dots = ١ - ٦$$

$$\dots = ٢ - ٦$$

$$\dots = ٣ - ٦$$

$$\dots = ٤ - ٦$$

$$\dots = ٥ - ٦$$

$$\dots = ٦ - ٦$$

$$\dots = ٠ - ٥$$

$$\dots = ١ - ٥$$

$$\dots = ٢ - ٥$$

$$\dots = ٣ - ٥$$

$$\dots = ٤ - ٥$$

$$\dots = ٥ - ٥$$

مجموعة العدد

مجموعة العدد ٨

$$\dots = ٠ - ٨$$

$$\dots = ١ - ٨$$

$$\dots = ٢ - ٨$$

$$\dots = ٣ - ٨$$

$$\dots = ٤ - ٨$$

$$\dots = ٥ - ٨$$

$$\dots = ٦ - ٨$$

$$\dots = ٧ - ٨$$

$$\dots = ٨ - ٨$$

مجموعة العدد ٧

$$\dots = ٠ - ٧$$

$$\dots = ١ - ٧$$

$$\dots = ٢ - ٧$$

$$\dots = ٣ - ٧$$

$$\dots = ٤ - ٧$$

$$\dots = ٥ - ٧$$

$$\dots = ٦ - ٧$$

$$\dots = ٧ - ٧$$

مجموعة العدد

مجموعة العدد ١٠

$$\dots = 0 - 10$$

$$\dots = 1 - 10$$

$$\dots = 2 - 10$$

$$\dots = 3 - 10$$

$$\dots = 4 - 10$$

$$\dots = 5 - 10$$

$$\dots = 6 - 10$$

$$\dots = 7 - 10$$

$$\dots = 8 - 10$$

$$\dots = 9 - 10$$

$$\dots = 10 - 10$$

مجموعة العدد ٩

$$\dots = 0 - 9$$

$$\dots = 1 - 9$$

$$\dots = 2 - 9$$

$$\dots = 3 - 9$$

$$\dots = 4 - 9$$

$$\dots = 5 - 9$$

$$\dots = 6 - 9$$

$$\dots = 7 - 9$$

$$\dots = 8 - 9$$

$$\dots = 9 - 9$$

اجمع

٧٥

١٥

٢٢

١٤

٥٠

٢١+

٢+

٣٢+

٢+

١٠+

٢٠

٤٠

٥٠

١٣

٢٣

٤٢+

٢٥+

٢٤+

٦+

٤٢+

٤٥

١٥

٤٢

١٥

٦٢

٢١+

٢٣+

٣٢+

١٢+

١٢+

٢٠

٥٠

٥١

١٢

٢١

٣٢+

٢٠+

٢٣+

٣٦+

٥٢+

أوجد الناتج

قرأ تامر ١٣ قصة في الشهر الأول ، ثم قرأ ١١ قصة في الشهر الثاني . كم قصة قرأها تامر ؟

عدد القصص = + =

مع سلمى ٢٥ جنيها ، ثم أخذت من والدها ١٣ جنيها . أوجد ما مع سلمى .

ما مع سلمى = + = جنيهات

زرعت المدرسة ٢٤ شجرة في اليوم الأول ، ثم زرعت ٣٥ شجرة في اليوم الثاني . كم شجرة زرعتها المدرسة ؟

عدد الأشجار = + = شجرة

أكمل المربع الفارغ

٩١	٩٢	٩٤	٩٥	٩٦	٩٧	٩٨	٩٩	١٠٠
.....	٨٢	٨٣	٨٤	٨٥	٨٦	٨٧	٨٨	٩٠
٧١	٧٢	٧٣	٧٥	٧٦	٧٨	٧٩	٨٠
٦١	٦٣	٦٤	٦٥	٦٦	٦٧	٦٨	٦٩	٧٠
.....	٥٢	٥٣	٥٤	٥٥	٥٧	٥٨	٥٩	٦٠
٤١	٤٢	٤٣	٤٥	٤٦	٤٧	٤٨	٤٩	٥٠
٣١	٣٢	٣٣	٣٤	٣٦	٣٧	٣٩	٤٠
٢١	٢٢	٢٣	٢٥	٢٦	٢٨	٢٩	٣٠
١١	١٢	١٣	١٤	١٥	١٧	١٨	١٩	٢٠
١	٢	٣	٥	٦	٧	٩	١٠

الجمع

$$\boxed{} = ٣٣ + ١٢$$

$$\boxed{} = ١٠ + ٤١$$

$$\boxed{} = ٣٣ + ٤٢$$

$$\boxed{} = ١٠ + ٤٠$$

$$\boxed{} = ٣٣ + ١٢$$

$$\boxed{} = ١٠ + ٣١$$

$$\boxed{} = ١٣ + ٤١$$

$$\boxed{} = ٢٣ + ٤١$$

$$\boxed{} = ١١ + ٨١$$

$$\boxed{} = ٢٢ + ٤٢$$

$$\boxed{} = ١٥ + ٥١$$

$$\boxed{} = ٢٠ + ٤٠$$

$$\boxed{} = ١١ + ٧١$$

$$\boxed{} = ١٣ + ٧١$$

ضع علامة (< , = , >)

$$١٣ + ٣٤$$

$$٣٤ + ١٣$$

$$٤١ + ٧٢$$

$$٢٣ + ٤٥$$

$$٤١ + ٥٣$$

$$١٣ + ٦٣$$

$$٦١ + ٢٢$$

$$٣٣ + ٦١$$

الطرح

٦٤ ٥٣ - -----	٦٤ ٢٢ - -----	٤٥ ١٣ - -----	٩٥ ٢٥ - -----
---------------------	---------------------	---------------------	---------------------

٧٢ ٣ - -----	١٧ ١٢ - -----	٥٠ ١٠ - -----	٦٥ ١٢ - -----
--------------------	---------------------	---------------------	---------------------

= ٣٥ - ٧٥

= ٣٢ - ٤٥

= ٢٥ - ٥٧

= ١٢ - ٣٦

= ٢٤ - ٣٦

= ١٧ - ٣٩

= ٣٣ - ٧٥

= ٢٢ - ٤٤

= ١٥ - ٣٩

= ٣٠ - ٥٠

= ٢٥ - ٣٦

= ٣٢ - ٣٦

أوجد الناتج

مع أحمد ٩ جنيهاً ، صرف منها ٤ جنيهاً . أوجد ما تبقى معه .

$$\text{الباقي} = \dots - \dots = \dots \text{ جنيهاً}$$

مع سلمى ٨ جنيهاً ، ذهبت إلى السوق صرفت منها ٣ جنيهاً . أوجد الباقي .

$$\text{الباقي} = \dots - \dots = \dots \text{ جنيهاً}$$

في الثلاجة ٥ قطع حلوى ، أكل أحمد منها ٣ قطع . أوجد الباقي .

$$\text{الباقي} = \dots - \dots = \dots \text{ قطعة}$$