

المادة / دراسات اجتماعية
الصف / الرابع الابتدائي
الزمن / ساعة ونصف
(يناير ٢٠٢٥ م)

30

محافظة
إدارة
توجيه الدراسات الاجتماعية
امتحان الفصل الدراسي الاول (يناير ٢٠٢٥ م)

السؤال الاول : (٨ درجات) أ) امامك خريطة صماء لمصر اكتب مدلول الارقام الاتية:



- ١- عاصمة جمهورية مصر العربية
-
- ٢- البحر
- ٣- محافظة
- ٤- جبل

ب) اكتب ما تشير إليه العبارات الاتية :

- ١- صور يتم التقاطها من الجو باستخدام الطائرات {.....}
- ٢- مساحة من المياه المالحة أقل من المحيط {.....}
- ٣- الموارد الطبيعية التي تنفذ باستخدام الانسان لها {.....}
- ٤- مؤسسة تقدم خدمات مالية للأفراد والشركات {.....}

السؤال الثاني : (٧ درجات)

أ) اكتب كلمة (صواب) امام العبارة الصحيحة وكلمة (خطأ) امام العبارة الخاطا :

- ١- مؤلف كلمات نشيد " بلادي بلادي " هو الشاعر محمد يونس القاضي ()
- ٢- المناخ هو وصف حالة الجو في فترة زمنية قصيرة ()
- ٣- تنتشر صناعة السجاد اليدوي في قرية الحرائية بمحافظة بالجيزة ()

ب) صوب ما تحته خط في العبارات الاتية:

- ١- تستخدم دوارة الرياح في تحديد سرعة الرياح {.....}
- ٢- ينتشر النحاس والذهب في صحراء مصر الغربية {.....}
- ٣- كل ما يتم انتاجه ونقوم بشرائه يعرف بأسم الخدمات {.....}
- ٤- عميد الادب العربي هو الدكتور جمال حمدان {.....}

السؤال الثالث : (٨ درجات)

أ) اختر الاجابة الصحيحة مما بين القوسين :

- ١- مساحة من الارض تضم مجموعة من المراكز والاحياء (المحافظة - القارة - الدولة)
- ٢- صاحب فكرة إنشاء بنك مصر هو الاقتصادي (طلعت حرب - محمد يونس القاضي - جمال حمدان)

ب) اكتب نتيجة واحدة ترتبت على ما يأتي :

١- موقع مصر الجغرافي

٢- أهمية الرمال البيضاء

٣- حملة ١٠٠ مليون صحة

السؤال الرابع : (٧ درجات) أ) أكمل العبارات الاتية مما بين القوسين :

(الزعفرانة - الاسود - المسكن)

- ١- اللون الذي يعبر عن الظلم الذي تعرضت له مصر في فترات الاستعمار هو اللون
- ٢- من محطات توليد الكهرباء من الرياح بمحافظة البحر الاحمر محطة
- ٣- أكد دستور مصر على حق الطفل في الرعاية والتعليم والصحة و.....

ب) اكتب تفسيراً واحد لكل عبارة من العبارات الاتية:

١- حفر قناة السويس

٢- أهمية الحرف التراثية

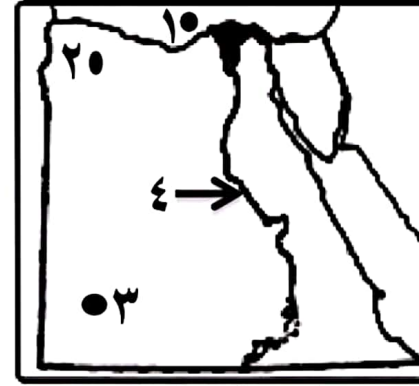
امتحان الفصل الدراسي الاول يناير ٢٠٢٥

اسم التلميذ : رقم الجلوس :
المادة : دراسات اجتماعية الصف : الرابع الابتدائي
توقيع الملاحظين : ١- ٢-

المادة / دراسات اجتماعية
الصف / الرابع الابتدائي
الزمن / ساعة ونصف
امتحان الفصل الدراسي الاول (يناير ٢٠٢٥ م)

محافظة
إدارة
توجيه الدراسات الاجتماعية
٣٠
.....

السؤال الاول : (٨ درجات) أ) امامك خريطة صماء لمصر اكتب مدلول
الارقام الاتية :



- ١- البحر
- ٢- محافظة
- ٣- هضبة
- ٤- بيئة

ب) الى من تنسب الاعمال الاتية :

- ١- حفر قناة تربط البحرين الاحمر بالمتوسط عن طريق نهر النيل{.....}
- ٢- تلحين نشيد " بلادى بلادى " {.....}
- ٣- تأسيس بنك مصر عام ١٩٢٠ م {.....}
- ٤- لقب بعميد الادب العربي {.....}

السؤال الثانى : (٧ درجات)

أ) أكتب كلمة (صواب) أمام العبارة الصحيحة وكلمة (خطأ) أمام العبارة الخطأ :

١- الحدود التى تفصل بين المحافظة والمحافظة التى تجاورها تعرف بالحدود الادارية ()

- ٢- البحيرة مساحة صغيرة من المياه يحيط بها اليابس من جميع الجهات ()
 - ٣- من أشهر المناطق لصناعة الخيامية قرية جراح بالدقهلية ()
- ب) أكتب دليلاً واحداً على صحة العبارات الاتية :

١- زادت أهمية موقع مصر بعد حفر قناة السويس الجديدة

٢- توجد معالم أثرية مهمة بمحافظة القاهرة

٣- تتعرض التربة الى التلوث

٤- تهتم الدولة بإحياء الحرف التراثية

السؤال الثالث : (٨ درجات) أ) اختر الاجابة الصحيحة مما بين القوسين :

- ١- اللون الذى يعبر عن السلام فى علم مصر هو اللون
(الاسود - الاحمر - الابيض)
- ٢- الاشخاص الذين يخمّن حدود الوطن هم
(رجال الشرطة - رجال الجيش - رجال التعليم)

ب) ما العلاقة بين :

- ١- الخريطة والفلاح {.....}
- ٢- الرياح والانيمومتر {.....}
- ٣- الاستهلاك والادخار {.....}

السؤال الرابع : (٧ درجات) أ) أكمل العبارات الاتية مما بين القوسين :

(المناخ - أوليه - الخدمات)

- ١- الافلام التسجيلية وكتابات المؤرخين تعتبر مصادر
- ٢- وصف حالة الجو لفترة زمنية طويلة يعرف بأسم
- ٣- أى عمل أو نشاط تقوم به الدولة لتلبية حاجات أو رغبات المواطنين يعرف بأسم

أ) ماذا يحدث إذا :

١- لم توجد المياه الجوفية بالصحراء الغربية

٢- وفرت الدولة الخدمات الالكترونية من خلال الانترنت

امتحان الفصل الدراسي الاول يناير ٢٠٢٥

اسم التلميذ : رقم الجلوس :
المادة : دراسات اجتماعية الصف : الرابع الابتدائي
توقيع الملاحظين : ١- ٢-

٤- الزراعة هي تحويل المواد الخام الى سلع ومنتجات لسد احتياجاتنا
{.....}

السؤال الثالث : (٨ درجات) أ) اختر الاجابة الصحيحة مما بين القوسين :

- ١- موقع المكان بالنسبة لليابس والماء يعرف باسم الموقع
(الفلكى - الجغرافى - التاريخى)
- ٢- تم إنشاء مدينة الجلود بالروبيكى فى محافظة
(المنيا - سوهاج - القاهرة)

ب) اكتب نتيجة واحدة ترتبت على ما يأتى :

- ١- تعامد الشمس على مدار الجدى فى أشهر (ديسمبر ويناير وفبراير)
.....
- ٢- تعدد موارد المياه المالحة فى مصر
.....
- ٣- يسهم قطاع الزراعة فى نمو الاقتصاد المصرى
.....

السؤال الرابع : (٧ درجات) أ) أكمل العبارات الاتية مما بين القوسين :

(المقاييس - الميزان التجارى - ندرة الامطار)

- ١- الصحارى المصرية فقيرة فى نباتاتها الطبيعية نتيجة
 - ٢- لتحديد منسوب مياه النيل وتحديد قيمة الضرائب تم إنشاء
 - ٣- الفرق بين قيمة واردات الدولة وصادراتها يعرف باسم
- أ) اكتب تفسيراً واحد لكل عبارة من العبارات الاتية:
- ١- تسمية عصر الدولة القديمة بعصر بناء الاهرام
.....
 - ٢- أهمية النشاط التعدينى فى مصر
.....

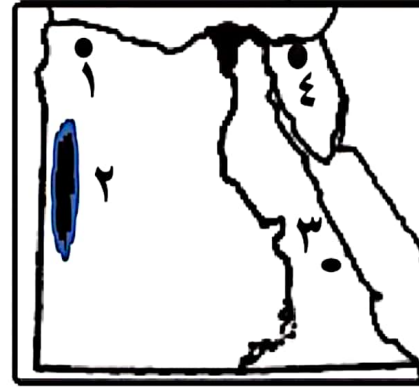
امتحان الفصل الدراسى الاول يناير ٢٠٢٥

اسم التلميذ : رقم الجلوس :
المادة : دراسات اجتماعية الصف : الخامس الابتدائى
توقيع الملاحظين : ١- ٢-

المادة / دراسات اجتماعية
الصف / الخامس الابتدائى
الزمن / ساعة ونصف
٣٠
امتحان الفصل الدراسى الاول (يناير ٢٠٢٥ م)

محافظة
إدارة
توجيه الدراسات الاجتماعية

السؤال الاول : (٨ درجات) أ) امامك خريطة صماء لمصر اكتب مدلول



الارقام الاتية :

- ١- منخفض
- ٢- بحر
- ٣- منجم لاستخراج الذهب
- ٤- منجم لاستخراج الفحم

ب) اكتب ما تشير إليه العبارات الاتية :

- ١- أنصاف دوائر رأسية تصل بين القطبين الشمالى والجنوبى {.....}
- ٢- التغيرات والتحولات فى الاحوال المناخية {.....}
- ٣- الموارد التى لا تكفى اشباع حاجات السكان وندرته تسبب مشكلة {.....}
- ٤- اقل مصادر الطاقة غير المتجددة تلويثاً للبيئة {.....}

السؤال الثانى : (٧ درجات)

أ) اكتب كلمة (صواب) أمام العبارة الصحيحة وكلمة (خطأ) أمام العبارة الخطأ :

- ١- من العوامل الطبيعية لنشأة الحضارة المصرية القديمة وجود حكومة مركزية ()
 - ٢- ترجع بردية هيرست إلى عصر الملك امنمحات الثالث ()
 - ٣- محافظة البحيرة أكبر محافظات مصر فى تربية الحيوانات ()
- ب) صوب ما تحته خط فى العبارات الاتية:

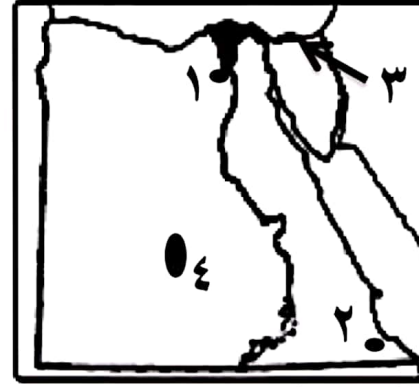
١- مع زيادة حدة التغير المناخى سينخفض منسوب مياه البحر

- ١- مع زيادة حدة التغير المناخى سينخفض منسوب مياه البحر {.....}
- ٢- تبادل السلع والخدمات بدون استخدام النقود يعرف بعملية البيع والشراء {.....}
- ٣- تحتل محافظة الشرقية المركز الاول فى انتاج الاسماك فى مصر {.....}

المادة / دراسات اجتماعية
الصف / الخامس الابتدائي
الزمن / ساعة ونصف
٣٠

محافظة
إدارة
توجيه الدراسات الاجتماعية
امتحان الفصل الدراسي الاول (يناير ٢٠٢٥ م)

السؤال الاول : (٨ درجات) أ) امامك خريطة صماء لمصر اكتب مدلول



الارقام الاتية

- ١- منخفض
- ٢- محمية جبل
- ٣- بحيرة
- ٤- منطقة لاستخراج الفوسفات

ب) الى من تنسب الاعمال الاتية :

- ١- توحيد البلاد عام ٣٢٠٠ ق.م وبناء مدينة (من- نفر) {.....}
- ٢- اصدار النقود الورقية لأول مره عام ١٨٩٩م {.....}
- ٣- بناء السد العالي وافتتاحه عام ١٩٧١ م {.....}
- ٤- ارسال بعثات تجارية إلى بلاد بونت {.....}

السؤال الثاني : (٧ درجات)

أ) أكتب كلمة (صواب) أمام العبارة الصحيحة وكلمة (خطأ) أمام العبارة الخطأ :

- ١- دوائر العرض دوائر أفقية ترسم حول الكرة الارضية ()
 - ٢- في العصر الحجري الحديث استطاع المصري القديم نحت الحجاره بدقة ()
 - ٣- مشروع الفيروز في محافظة بورسعيد خاص بالاستزراع السمكى ()
- ب) أكتب دليلا واحداً على صحة العبارات الاتية :
- ١- الصحراء الشرقية تنتشر فيها الاودية الجافة

٢- تؤدي بعض العوامل الطبيعية إلى حدوث التغيير المناخي

٣- استخدام المصريون القدماء طاقة الرياح

٤- تهتم الدولة بتنمية الثروة الحيوانية

السؤال الثالث : (٨ درجات) أ) اختر الاجابة الصحيحة مما بين القوسين :

- ١- من أكبر محطات تحلية المياه على مستوى العالم محطة
(الزعفرانة - العين السخنة - جبل الزيت)
- ٢- كان سكان المكسيك يتخذون من عملة لاتمام عملية البيع والشراء
(القمح - الابقار - جوز الهند)

أ) ما العلاقة بين :

١- نهر النيل والحضارة المصرية القديمة

٢- مصادر الطاقة والدخل القومي

٣- القطار والترع

السؤال الرابع : (٧ درجات) أ) أكمل العبارات الاتية مما بين القوسين :

(القليوبية - اللوز - الفيوم)

- ١- تنمو على الساحل الشمالي على البحر المتوسط اشجار الزيتون و
- ٢- تم إنشاء مدينة الدوا في الخانكة بمحافظة
- ٣- قام الملك امنمحات الثالث بتشييد هرم هوارة بمحافظة

ب) ماذا يحدث إذا :

١- لم يتم رسم خطوط الطول على الخريطة

٢- تعامدت الشمس على مدار السرطان في أشهر (يونيو ويوليو واغسطس)

امتحان الفصل الدراسي الاول يناير ٢٠٢٥

اسم التلميذ : رقم الجلوس :

المادة : دراسات اجتماعية الصف : الخامس الابتدائي

توقيع الملاحظين : ١- ٢-

٤- السياحة الترفيهية تشمل زيارة المواقع الاثرية والتراثية

السؤال الثالث : (٨ درجات) أ) اختر الاجابة الصحيحة مما بين القوسين :

- ١- أول من أنشأ اسطول بحرى فى الاسلام هو الخليفة
- ٢- توجد عين ماعت فى دولة
- (مصر - الاردن - سوريا)

ب) اكتب نتيجة واحدة ترتبت على ما يأتى :

- ١- موقع الوطن العربى المتميز
- ٢- انخفاض درجات الحرارة كلما ارتفعنا عن سطح البحر
- ٣- طول سواحل دولة المغرب على البحر المتوسط والمحيط الاطلنطى

السؤال الرابع : (٧ درجات) أ) أكمل العبارات الاتية مما بين القوسين :

- ١- من هضاب الجناح الاسيوى هضبة
 - ٢- الصادرات والواردات من السلع والخدمات بين الدول العربية يعرف باسم
 - ٣- من المخاطر ذات الصلة بالتجارة الالكترونية
- ب) اكتب تفسيراً واحداً لكل عبارة من العبارات الاتية:
- ١- هزيمة المسلمين فى غزوة أحد ٣ هـ

٢- أهمية الزراعة فى وطننا العربى

امتحان الفصل الدراسى الاول يناير ٢٠٢٥

اسم التلميذ : رقم الجلوس :
المادة : دراسات اجتماعية الصف : السادس الابتدائى
توقيع الملاحظين : ١- ٢-

المادة / دراسات اجتماعية

الصف / السادس الابتدائى

الزمن / ساعة ونصف

٣٠

محافظة

إدارة

توجيه الدراسات الاجتماعية

امتحان الفصل الدراسى الاول (يناير ٢٠٢٥ م)

السؤال الاول : (٨ درجات) أ) امامك خريطة صماء للوطن العربى اكتب



مدلول الأرقام الاتية

- ١- أكبر الدول العربية
- ٢- جبال انكسارية
- ٣- أولى الدول العربية فى تربية الدواجن
- ٤- أولى الدول العربية فى إنتاج البترول

ب) اكتب ما تشير اليه العبارات الاتية :

- ١- سكان المدينة الذين نصرؤا الرسول(ص) فى دعوته .
- ٢- منطقة جغرافية من سطح الارض تتسم بخصائص مناخية تميزها عن غيرها
- ٣- نقص كمية الامطار فى بعض السنوات بما لا يسمح بالزراعة أو نمو الحشائش
- ٤- صناعة تعتمد على الاستثمار الامثل للموارد المتجددة والحد من المخلفات

السؤال الثانى : (٧ درجات)

أ) اكتب كلمة (صواب) أمام العبارة الصحيحة وكلمة (خطأ) أمام العبارة الخطأ :

- ١- نقل على بن أبى طالب الخلافة من المدينة الى الكوفة ()
- ٢- تتعامد الشمس على الوطن العربى فى فصل الشتاء على مدار السرطان ()
- ٣- من المقومات الطبيعية لقيام الزراعة الايدى العاملة والسوق ()

ب) صوب ما تحته خط فى العبارات الاتية:

- ١- من العادات الحسنة التى أتصف بها العرب قديمان وأد البنات
- ٢- تنمو حشائش الاستبس فى الاقليم المدارى
- ٣- تعرضت السودان لأكبر موجة جفاف وحدوث مجاعة لاكثر من مليون شخص

٤- تتعدد الصناعات التحويلية في الوطن العربي

السؤال الثالث : (٨ درجات) أ) اختر الاجابة الصحيحة مما بين القوسين :

١- من هضاب الجناح الافريقي هضبة
(حضرموت - نجد - إفريقيا الشمالية)

٢- من أسباب التصحر في الوطن العربي
(التوسع العمراني - تحلية المياه - مصادر الطاقة)

ب) ما العلاقة بين :

١- عمل العرب قديما بالتجارة والرحلات التجارية

٢- الاحوال الجوية والرحلات الجوية

٣- الثروة السمكية والتغير المناخي

السؤال الرابع : (٧ درجات) أ) أكمل العبارات الاتية مما بين القوسين :

(التجارة الالكترونية - التصحر - البصرة)

١- تناقص قدرة الارض الزراعية على الانتاج يعرف باسم

٢- تبادل السلع والخدمات باستخدام شبطة الانترنت يعرف باسم

٣- من أهم المراكز التجارية في الدولة الاسلامية

ب) ماذا يحدث إذا :

١- لم تعتدى قريش على قبيلة خزاعة

٢- لم يتنوع المناخ في الوطن العربي

امتحان الفصل الدراسي الاول يناير ٢٠٢٥

اسم التلميذ : رقم الجلوس :

المادة : دراسات اجتماعية الصف : السادس الابتدائي

توقيع الملاحظين : ١- ٢-

المادة / دراسات اجتماعية

الصف / السادس الابتدائي

الزمن / ساعة ونصف

٣٠

امتحان الفصل الدراسي الاول (يناير ٢٠٢٥ م)

السؤال الاول : (٨ درجات) أ) امامك خريطة صماء للوطن العربي اكتب

مدلول الارقام الاتية

١- أصغر الدول العربية

٢- جبال التوانية

٣- أولى الدول العربية في تربية

الابل

٤- أولى الدول العربية في انتاج

الذهب

ب) الى من تنسب الاعمال الاتية :

١- أشار على النبي محمد "ص" بحفر خندق حول المدينة {.....}

٢- إنشاء ديوان بيت المال وديوان الجند {.....}

٣- أمر زيد بن ثابت بجمع القرآن الكريم {.....}

٤- اختيار الاسكندرية كعاصمة للسياحة العربية عام ٢٠١٠م {.....}

السؤال الثاني : (٧ درجات)

أ) أكتب كلمة (صواب) أمام العبارة الصحيحة وكلمة (خطأ) أمام العبارة الخطأ :

١- تتعامد الشمس على الوطن العربي في فصل الصيف على مدار الجدى ()

٢- تعيش الثعالب والزواحف في الاقليم الصحراوي الحار ()

٣- توجد مدينة القيروان في دولة تونس ()

ب) أكتب دليلا واحداً على صحة العبارات الاتية :

١- الاهمية الثقافية والحضارية لموقع الوطن العربي

٢- اتخذت معظم الدول العربية اجراءات للحفاظ على المحميات

٣- تواجه الزراعة العديد من المشكلات في الوطن العربي