



الحصة

ضع علامة < أو > أو = :

٦ ٩

٥ ٤

٣ ٣

٤ ٧

٥ ٥

اجمع

= ٣ + ٥

= ٤ + ٤

= ١ + ١

= ٣ + ٢

= ٣ + ٣

ضع دائرة حول العدد الأكبر:

١ - ٦ - ٢ - ٥ (أ)

٨ - ٥ - ٧ - ٤ (ب)

٣ - ٦ - ٢ - ٨ (ج)

٠ - ١٠ - ٨ - ٩ (د)

ضع دائرة حول العدد الأصغر:

١ - ٦ - ٢ - ٥ (أ)

٨ - ٥ - ٧ - ٤ (ب)

٣ - ٦ - ٢ - ٨ (ج)

٠ - ١٠ - ٨ - ٩ (د)

أكمل :

..... ، ، ، ، ، > ٥ (أ)

..... ، ، ، ، ، < ٧ (ب)

..... ، ، ، ، ، > ١٠ (ج)

اكتب العدد بالحروف :

..... ٦ ١

..... ٧ ٢

..... ٨ ٣

..... ٩ ٤

..... ١٠ ٥



الواجب

ضع علامة < أو > أو = :

٤ ٥

٩ ٧

٦ ٦

٩ ١٠

٨ ٨

اجمع

= ٤ + ٤

= ٣ + ٥

= ٠ + ٦

= ٧ + ٣

= ٨ + ١

= ٥ + ٥

= ٠ + ٧

اكتب العدد السابق

١ →

٤ →

٦ →

اكتب العدد التالي :

← ٥

← ٧

← ٣

أكمل :

(أ) > ٤ ، ، ، ، ، ، ، ، ،

(ب) < ٨ ، ، ، ، ، ، ، ،

(ج) < ٢ ، ، ، ، ، ،

(د) < ١٠ ، ، ، ، ، ، ،

أكمل :

٣ أكبر من ، ، ،

٥ أصغر من ، ، ، ، ،

٦ أكبر من ، ، ، ، ،

٩ أكبر من ، ، ، ، ،



الحصة

ضع علامة < أو > أو = :

$3 \quad \square \quad 3$

$3+2 \quad \square \quad 1+5$

$2+1 \quad \square \quad 5+4$

$2+3 \quad \square \quad 4+1$

$0+7 \quad \square \quad 2+5$

$6+3 \quad \square \quad 9$

اجمع

$= 2+7$

$= 3+3$

$= 4+6$

$= 1+5$

$= 0+9$

$= 2+8$

أكتب العدد السابق

1 →

3 →

5 →

7 →

أكتب العدد التالي :

← 2

← 4

← 6

← 8

أكمل :

(أ) $4 >$ ، ، ، ، ، ،

(ب) $7 <$ ، ، ، ، ،

(ج) $9 >$ ، ، ، ، ،

أكمل :

5 أصغر من ، ، ،

6 أكبر من ، ، ،

10 أصغر من ، ، ،



الواجب

ضع علامة < أو > أو = :

$0 + 3$ $2 + 4$

$1 + 2$ $0 + 4$

$1 + 9$ $5 + 5$

$4 + 4$ $6 + 2$

$2 + 3$ $3 + 1$

اجمع

$= 4 + 5$

$= 6 + 3$

$= 8 + 1$

$= 7 + 2$

$= 0 + 9$

اكتب العدد بالحروف :

..... ٦ ١

..... ٧ ٢

..... ٨ ٣

..... ٩ ٤

..... ١٠ ٥

اكتب العدد السابق والتالي :

← ٢ →

← ٧ →

← ٥ →

← ٩ →

أكمل :

(أ) $3 >$ ، ، ، ، ،

(ب) $5 <$ ، ، ، ، ،

(ج) $7 >$ ، ، ، ، ،

(د) $8 <$ ، ، ، ، ،

أكمل :

٨ أصغر من ، ، ،

٩ أكبر من ، ، ،

٤ أصغر من ، ، ،

٦ أكبر من ، ، ،



الحصّة

٥	٤	٣	٢	١
خمسة	أربعة	ثلاثة	اثنان	واحد
.....
١٠	٩	٨	٧	٦
عشرة	تسعة	ثمانية	سبعة	ستة
.....



الحصة

ضع علامة حول العدد الأصغر :

(أ) ٣ - ٧ - ٤

(ب) ٥ - ٤ - ٢

(ج) ١٠ - ٨ - ٩

(د) ٦ - ٠ - ٣

(هـ) ٢ - ٤ - ٥

(و) ٩ - ٦ - ٧

ضع علامة < أو > أو = :

٥ ٣

٤ ٧

٥ ٥

٦ ٩

٨ ٧

١٠ ١٠

٧ ٧

اطرح :

$\begin{array}{r} ٧ \\ - ٦ \\ \hline \end{array}$ $\begin{array}{r} ٧ \\ - ٥ \\ \hline \end{array}$ $\begin{array}{r} ٧ \\ - ٢ \\ \hline \end{array}$



$\begin{array}{r} ٧ \\ - ١ \\ \hline \end{array}$ $\begin{array}{r} ٧ \\ - ٤ \\ \hline \end{array}$ $\begin{array}{r} ٧ \\ - ٣ \\ \hline \end{array}$

اجمع :

$\begin{array}{r} ٨ \\ + ٨ \\ \hline \end{array}$ $\begin{array}{r} ٧ \\ + ٨ \\ \hline \end{array}$ $\begin{array}{r} ٥ \\ + ٧ \\ \hline \end{array}$

$\begin{array}{r} ٦ \\ + ٦ \\ \hline \end{array}$ $\begin{array}{r} ٥ \\ + ٦ \\ \hline \end{array}$ $\begin{array}{r} ٩ \\ + ٥ \\ \hline \end{array}$

عد واكتب العدد بالحروف :





الواجب

أكمل:

..... ، ، ، ، < ٤

..... ، ، ، ، > ٦

..... ، ، ، ، < ٨

..... ، ، ، ، > ٢

ضع علامة < أو > أو = :

٩ ٣

٩ ٤

١٧ ١٧

١٢ ١٥

٨ ١٨

ضع دائرة حول العدد الأكبر

٦ - ٤ - ٢ - ٧ (أ)

٤ - ٠ - ٩ - ٥ (ب)

٣ - ٧ - ٨ - ٢ (ج)

٤ - ٩ - ٦ - ٧ (د)

ضع دائرة حول العدد الأصغر :

٦ - ٤ - ٢ - ٧ (أ)

٤ - ٠ - ٩ - ٥ (ب)

٣ - ٧ - ٨ - ٢ (ج)

٤ - ٩ - ٦ - ٧ (د)

ضع علامة < أو > أو = :

سبعة خمسة

تسعة تسعة

عشرة ثمانية

ثلاثة ثلاثة

اكتب العدد بالحروف :

..... ٦ ١

..... ٧ ٢

..... ٨ ٣

..... ٩ ٤

..... ١٠ ٥



الحصة

ضع علامة < أو > أو = :

٤ ٥

١ ٢

٨ ٨

٩ ٧

٥ ٥

اجمع

= ٤ + ٣

= ٥ + ٢

= ٠ + ٤

= ٢ + ٦

= ٩ + ١

ضع دائرة حول العدد الأكبر

٢ - ٥ - ٣ - ٤ (أ)

٨ - ٦ - ٥ - ٧ (ب)

٠ - ٨ - ٢ - ٩ (ج)

٢ - ٧ - ٤ - ١ (د)

ضع دائرة حول العدد الأصغر :

٢ - ٥ - ٣ - ٤ (أ)

٨ - ٦ - ٥ - ٧ (ب)

٠ - ٨ - ٢ - ٩ (ج)

٢ - ٧ - ٤ - ١ (د)

أكمل :

..... ، ، ، ، ، > ٦ (أ)

..... ، ، ، ، ، < ٣ (ب)

..... ، ، ، ، ، > ٥ (ج)

اكتب العدد بالحروف :

..... ٦ ١

..... ٧ ٢

..... ٨ ٣

..... ٩ ٤

..... ١٠ ٥



الحصة

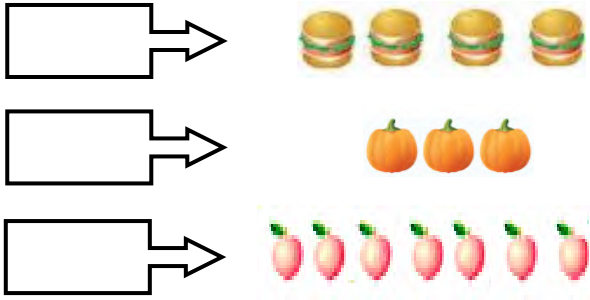
ضع علامة < أو > أو = :

0 + 3	<input type="text"/>	2 + 4
1 + 2	<input type="text"/>	0 + 4
1 + 9	<input type="text"/>	5 + 5
4 + 4	<input type="text"/>	6 + 2

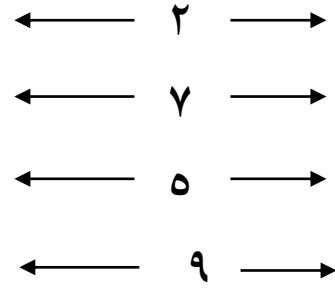
اجمع

2	2	3
5 +	1 +	4 +
-----	-----	-----
5	6	7
5 +	1 +	4 +
-----	-----	-----

عد واكتب العدد بالحروف :



اكتب العدد السابق والتالي :



أكمل :

- (أ) < 4 ، ، ، ، ، ،
(ب) > 9 ، ، ، ، ، ،
(ج) > 2 ، ، ، ، ، ،

أكمل :

- 3 أصغر من ، ، ، ،
8 أكبر من ، ، ، ، ،
5 أصغر من ، ، ، ، ، ،

ضع دائرة حول العدد الأكبر :

- (أ) 0 - 5 - 2 - 3
(ب) 8 - 4 - 9 - 7
(ج) 1 - 3 - 6 - 4

ضع دائرة حول العدد الأصغر :

- (أ) 0 - 5 - 2 - 3
(ب) 8 - 4 - 9 - 7
(ج) 1 - 3 - 6 - 4



الواجب

ضع علامة < أو > أو = :

٦ + ١ ٤ + ٣

٢ + ٥ ١ + ٢

٦ ٤


٩ ٨

اجمع

٧ ٣ ٢
_____ _____ _____
٤ + ٨ + ٩ +

٦ ٢ ٥
_____ _____ _____
٣ + ٦ + ٤ +

عد واكتب العدد بالحروف :



اكتب العدد السابق والتالي :

← ٨ →

← ١٠ →

← ٥ →

← ٢ →

أكمل :

(أ) ٥ > ، ، ، ، ، ، ، ، ،

(ب) ١٠ < ، ، ، ، ، ، ، ، ،

(ج) ٣ > ، ، ، ، ، ، ، ، ،

(د) ٧ < ، ، ، ، ، ، ، ، ،

أكمل :

٤ أصغر من ، ، ، ، ، ، ، ، ،

٩ أكبر من ، ، ، ، ، ، ، ، ،

٦ أصغر من ، ، ، ، ، ، ، ، ،

١ أصغر من ، ، ، ، ، ، ، ، ،



الحصة

ضع علامة < أو > أو = :

١ + ٣ ستة

١ + ٢ ٧ + ٢

ثمانية ٨


٥ + ١ ٤ + ٣

اجمع

٤ ٤ ٣
٠ + ٢ + ٥ +

٦ ٥ ٧
٣ + ٥ + ٣ +

عد واكتب العدد بالحروف :



اكتب العدد السابق والتالي :

← ٤ →

← ٦ →

← ٢ →

← ٨ →

أكمل :

(أ) < ٤ ، ، ، ، ، ،

(ب) > ٨ ، ، ، ، ، ،

(ج) < ١٠ ، ، ، ، ، ،

أكمل :

٣ أكبر من ، ، ،

٧ أصغر من ، ، ، ،

٩ أكبر من ، ، ، ،

ضع دائرة حول العدد الأكبر :

(أ) ١ - ٣ - ٥ - ٤

(ب) ٨ - ٥ - ٧ - ٦

(ج) ٠ - ٩ - ٨ - ١٠

ضع دائرة حول العدد الأصغر :

(أ) ١ - ٣ - ٥ - ٤

(ب) ٨ - ٥ - ٧ - ٦

(ج) ٠ - ٩ - ٨ - ١٠



الواجب

ضع علامة < أو > أو = :

سبعة	3 + 4	<input type="text"/>
٢ + ٦	تسعة	<input type="text"/>
٢ + ٢	٤	<input type="text"/>
١ + ٤	مصر	<input type="text"/>
العراق	الصومال	<input type="text"/>

اجمع

٧	٣	٤
٣ +	٥ +	٢ +
_____	_____	_____
٩	٦	٥
٢ +	٣ +	٤ +
_____	_____	_____

عد واكتب العدد بالحروف :

السودان	مصر
<input type="text"/>	<input type="text"/>
الصومال	أحب أمي
<input type="text"/>	<input type="text"/>

اكتب العدد السابق والتالي :

← ٣ →
← ٧ →
← ٥ →
← ٩ →

أكمل :

- (أ) ٣ > ، ، ، ، ، ،
(ب) ٧ < ، ، ، ، ، ،
(ج) ٩ > ، ، ، ، ، ،

أكمل :

- ٤ أكبر من ، ، ، ،
٨ أصغر من ، ، ، ، ،
٦ أكبر من ، ، ، ، ، ،

ضع دائرة حول العدد الأكبر :

- (أ) ٨ - ٤ - ٦ - ٢
(ب) ٧ - ٣ - ٥ - ١
(ج) ٢ - ٠ - ٨ - ٩

ضع دائرة حول العدد الأصغر :

- (أ) ٨ - ٤ - ٦ - ٢
(ب) ٧ - ٣ - ٥ - ١
(ج) ٢ - ٠ - ٨ - ٩



اختبار

ضع علامة < أو > أو = :

٨	<input type="text"/>	٥
٤ + ٣	<input type="text"/>	سبعة
١٠	<input type="text"/>	٥ + ٥
٦ + ١	<input type="text"/>	٣ + ٢

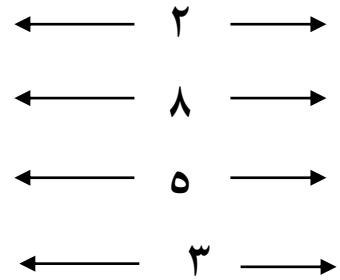
اجمع

٢	٤	٣
٢ +	٤ +	٥ +
_____	_____	_____
٧	١	٢
٠ +	٣ +	٦ +
_____	_____	_____

عد واكتب العدد بالحروف :



اكتب العدد السابق والتالي :



ضع علامة حول العدد الأكبر :

(أ) ٢ - ٧ - ٣ - ٤

(ب) ٤ - ١ - ٨ - ٥

ضع علامة حول العدد الأصغر :

(أ) ٢ - ٧ - ٣ - ٤

(ب) ٤ - ١ - ٨ - ٥

اكتب الأعداد من ١ إلى ٢٠ :

<input type="text"/>	<input type="text"/>	<input type="text"/>	<input type="text"/>	<input type="text"/>	<input type="text"/>	١
<input type="text"/>	<input type="text"/>	<input type="text"/>	<input type="text"/>	<input type="text"/>	<input type="text"/>	
٢٠	<input type="text"/>	<input type="text"/>	<input type="text"/>	<input type="text"/>	<input type="text"/>	

أكمل :

٨ أكبر من ، ، ، ، ،
 ٤ أكبر من ، ، ، ، ،
 ٢ أصغر من ، ، ، ، ،



الواجب

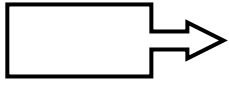

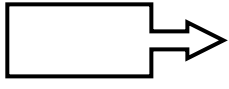

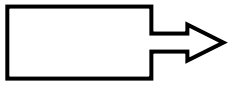
ضع علامة < أو > أو = :

٧	<input type="text"/>	٥
٩ + ٥	<input type="text"/>	عشرة
٣ + ٦	<input type="text"/>	٨
٠ + ٦	<input type="text"/>	٣ + ٣

اجمع

٦	٣	٤
٢ +	٥ +	١ +
<hr/>		
٩	٥	٨
٠ +	٥ +	٢ +
<hr/>		

عد واكتب العدد بالحروف :



اكتب العدد السابق والتالي :

← ٣ →

← ٦ →

← ١ →

← ٩ →

ضع علامة حول العدد الأكبر :

(أ) ٧ - ٣ - ٩ - ٨

(ب) ٥ - ٤ - ١ - ٦

ضع علامة حول العدد الأصغر :

(أ) ٧ - ٣ - ٩ - ٨

(ب) ٥ - ٤ - ١ - ٦

أكتب الأعداد من ٢٠ إلى ١ :

<input type="text"/>	<input type="text"/>	<input type="text"/>	<input type="text"/>	<input type="text"/>	<input type="text"/>	<input type="text"/>	١
<input type="text"/>	<input type="text"/>	<input type="text"/>	<input type="text"/>	<input type="text"/>	<input type="text"/>	<input type="text"/>	
٢٠	<input type="text"/>	<input type="text"/>	<input type="text"/>	<input type="text"/>	<input type="text"/>	<input type="text"/>	

أكمل :

٧ أكبر من ، ، ، ، ، ، ، ،

٨ أصغر من ، ، ، ، ، ، ، ،

> ٣ ، ، ، ، ، ، ، ،

< ٩ ، ، ، ، ، ، ، ،



الحصّة

اطرح :

$$\begin{array}{r} 9 \\ - 4 \\ \hline \end{array}$$
$$\begin{array}{r} 7 \\ - 2 \\ \hline \end{array}$$
$$\begin{array}{r} 4 \\ - 2 \\ \hline \end{array}$$

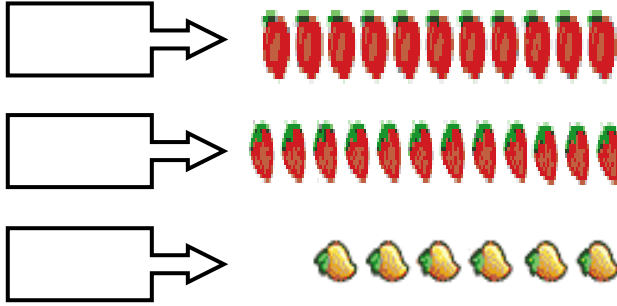
$$\begin{array}{r} 9 \\ - 0 \\ \hline \end{array}$$
$$\begin{array}{r} 6 \\ - 1 \\ \hline \end{array}$$
$$\begin{array}{r} 8 \\ - 3 \\ \hline \end{array}$$

اجمع :

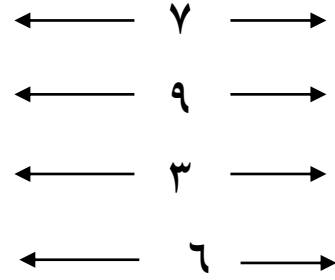
$$\begin{array}{r} 2 \\ + 2 \\ \hline \end{array}$$
$$\begin{array}{r} 4 \\ + 4 \\ \hline \end{array}$$
$$\begin{array}{r} 3 \\ + 5 \\ \hline \end{array}$$

$$\begin{array}{r} 7 \\ + 0 \\ \hline \end{array}$$
$$\begin{array}{r} 1 \\ + 3 \\ \hline \end{array}$$
$$\begin{array}{r} 2 \\ + 6 \\ \hline \end{array}$$

عد واكتب العدد بالحروف :



اكتب العدد السابق والتالي :



ضع دائرة حول العدد الأكبر :

(أ) 4 - 3 - 7 - 5

(ب) 1 - 0 - 3 - 2

ضع علامة < أو > أو = :

3 + 4 خمسة

عشرة 5 + 3

5 ثلاثة

2 + 2 3 + 1

7 9

2 4

أكمل :

.....،،،، < 3

.....،،،، > 5

.....،،،، أكبر من 6



الواجب

اطرح:

٦	٣	٥
٠ -	٣ -	٢ -
_____	_____	_____
٩	٧	٨
٤ -	٣ -	٥ -
_____	_____	_____

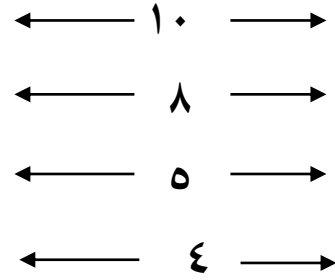
اجمع:

٦	٣	٥
٠ +	٣ +	٢ +
_____	_____	_____
٩	٣	٥
٤ +	٧ +	٨ +
_____	_____	_____

أكمل:

$\frac{\square}{8} + \frac{\square}{7} + \frac{\square}{3} + \frac{\square}{2}$			
11	10	8	5
	$\frac{\square}{4} + \frac{\square}{3} + \frac{\square}{2}$		
	8	5	8

اكتب العدد السابق والتالي:



ضع دائرة حول العدد الاصغر:

(أ) ٣ - ٢ - ٦ - ٤

(ب) ٢ - ١ - ٤ - ٣

ضع علامة < أو > أو =:

سبعة	<input type="text"/>	٢ + ٤
٢ + ٣	<input type="text"/>	ثمانية
٠ + ٩	<input type="text"/>	تسعة
٢ + ٢	<input type="text"/>	٣ + ١
٧	<input type="text"/>	١٠
٢ + ٧	<input type="text"/>	٥

أكمل:

.....،،،، > ٤

.....،،،، < ٦

.....،،،، أكبر من ٧



الحصّة

اطرح :

٩	٥	٧
٤ -	٥ -	٤ -
_____	_____	_____
٩	٣	٨
٠ -	٣ -	٢ -
_____	_____	_____

اجمع

٩	٥	٤
٤ +	٥ +	٧ +
_____	_____	_____
٢	٣	٨
٣ +	٣ +	٢ +
_____	_____	_____

رتب تصاعدياً وتنازلياً :

(١ - ٢ - ٤ - ٩ - ٨ - ٧ - ٥)

تصاعدياً:

تنازلياً:

اكتب العدد السابق والتالي :

← ٩ →

← ٧ →

← ٤ →

← ٢ →

ضع دائرة حول العدد الأصغر :

٥ - ٠ - ١ - ٩ (أ)

٨ - ٩ - ٤ - ٧ (ب)

أكمل :

.....،،،، < ٧

.....،،،، > ٣

.....،،،، ٩ أصغر من،

.....،،،، ٧ أكبر من،

ضع علامة < أو > أو = :

٣ + ٣ ستة

٦ + ٣ ١٠

٢ + ٥ سبعة

عشرة ١ + ٨

٣ + ٢ ٠ + ٥



الواجب

اطرح:

$$\begin{array}{r} 6 \\ - 3 \\ \hline \end{array} \quad \begin{array}{r} 4 \\ - 2 \\ \hline \end{array} \quad \begin{array}{r} 5 \\ - 3 \\ \hline \end{array}$$
$$\begin{array}{r} 7 \\ - 0 \\ \hline \end{array} \quad \begin{array}{r} 8 \\ - 4 \\ \hline \end{array} \quad \begin{array}{r} 7 \\ - 5 \\ \hline \end{array}$$

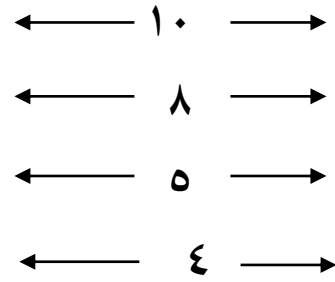
اجمع

$$\begin{array}{r} 6 \\ + 3 \\ \hline \end{array} \quad \begin{array}{r} 2 \\ + 4 \\ \hline \end{array} \quad \begin{array}{r} 5 \\ + 3 \\ \hline \end{array}$$
$$\begin{array}{r} 7 \\ + 0 \\ \hline \end{array} \quad \begin{array}{r} 8 \\ + 4 \\ \hline \end{array} \quad \begin{array}{r} 7 \\ + 5 \\ \hline \end{array}$$

أكمل:

$$\begin{array}{r} \square \\ + 2 \\ \hline 8 \end{array} \quad \begin{array}{r} \square \\ + 3 \\ \hline 9 \end{array} \quad \begin{array}{r} \square \\ + 2 \\ \hline 6 \end{array}$$
$$\begin{array}{r} \square \\ + 3 \\ \hline 5 \end{array} \quad \begin{array}{r} \square \\ + 2 \\ \hline 4 \end{array}$$

اكتب العدد السابق والتالي:



ضع دائرة حول العدد الأكبر:

(أ) ٨ - ٣ - ٥ - ٧

(ب) ٤ - ٦ - ٨ - ١٠

ضع علامة < أو > أو =:

٢ + ٥ سبعة

٧ ٥

٣ + ٤ ثمانية

عشرة ٧ + ٣

واحد ٣

أكمل:

٢ >،،،

٥ >،،،

٨ أكبر من،،،

٦ أصغر من،،،



الحصة

أطرح :

$$= 3 - 5$$

$$= 4 - 7$$

$$= 6 - 8$$

$$= 3 - 9$$

$$= 3 - 7$$

اجمع :

$$= 3 + 5$$

$$= 7 + 4$$

$$= 6 + 8$$

$$= 3 + 9$$

$$= 0 + 7$$

ضع علامة < أو > أو = :

ثلاثة ستة

2+5 7+3

4+2 عشرة

ثمانية 6+2

اكتب العدد السابق والتالي :

← 11 →

← 9 →

← 1 →

← 8 →

ضع دائرة حول العدد الأكبر :

3 - 5 - 1 - 2 (أ)

9 - 0 - 7 - 6 (ب)

ضع دائرة حول العدد الأصغر :

3 - 5 - 1 - 2 (أ)

9 - 0 - 7 - 6 (ب)

أكمل :

..... ، ، ، ، ، < 5

..... ، ، ، ، ، > 8

..... ، ، ، ، ، أصغر من 3

اكتب العدد بالحروف :

..... 5 1

..... 6 2

..... 7 3

..... 8 4



الواجب

اطرح :

$$= 3 - 6$$

$$= 0 - 4$$

$$= 1 - 8$$

$$= 5 - 5$$

$$= 3 - 8$$

اجمع

$$= 3 + 6$$

$$= 2 + 4$$

$$= 1 + 8$$

$$= 5 + 5$$

$$= 0 + 8$$

ضع علامة < أو > أو = :

عشرة $7 + 2$

$4 + 5$ تسعة

$0 + 3$ $2 + 1$

ثلاثة $2 + 2$

اكتب العدد السابق والتالي :

$\leftarrow 7 \rightarrow$

$\leftarrow 3 \rightarrow$

$\leftarrow 10 \rightarrow$

$\leftarrow 1 \rightarrow$

ضع دائرة حول العدد الأكبر :

٦ - ٢ - ٥ - ٧ (أ)

٤ - ٩ - ٣ - ١ (ب)

ضع دائرة حول العدد الأصغر :

٦ - ٢ - ٥ - ٧ (أ)

٤ - ٩ - ٣ - ١ (ب)

أكمل :

..... ، ، ، ، ، ، < ٦

..... ، ، ، ، ، ، > ٩

..... ، ، ، ، ، ، > ٤

اكتب العدد بالحروف :

..... ٦ ١

..... ٧ ٢

..... ٨ ٣

..... ٩ ٤

..... ١٠ ٥



العصاة

اجمع :

$$= 5 + 4$$

$$= 4 + 7$$

$$= 4 + 3$$

$$= 3 + 0$$

$$= 2 + 7$$

أطرح :

$$= 0 - 8$$

$$= 5 - 5$$

$$= 2 - 7$$

$$= 7 - 8$$

$$= 5 - 8$$

ضع علامة < أو > أو = :

$$7 \quad \square \quad 1+5$$

$$\text{تسعة} \quad \square \quad 2+2$$

$$\text{ثمانية} \quad \square \quad 8$$

$$5+3 \quad \square \quad 10$$

اكتب العدد السابق والتالي :

$$\longleftarrow 8 \longrightarrow$$

$$\longleftarrow 3 \longrightarrow$$

$$\longleftarrow 10 \longrightarrow$$

$$\longleftarrow 1 \longrightarrow$$

ضع دائرة حول العدد الأكبر :

$$7 - 1 - 2 - 6 \text{ (أ)}$$

$$4 - 10 - 5 - 8 \text{ (ب)}$$

ضع دائرة حول العدد الأصغر :

$$7 - 1 - 2 - 6 \text{ (أ)}$$

$$4 - 10 - 5 - 8 \text{ (ب)}$$

أكمل :

4

3

8

أصغر عدد هو

أكبر عدد هو

أكمل :

5

9

0

أصغر عدد هو

أكبر عدد هو



الحصة

اجمع :

$$= 5 + 7$$

$$= 3 + 9$$

$$= 6 + 6$$

$$= 4 + 8$$

$$= 5 + 5$$

أطرح :

$$= 5 - 7$$

$$= 3 - 9$$

$$= 6 - 6$$

$$= 4 - 8$$

$$= 5 - 5$$

ضع علامة < أو > أو = :

$$0 + 5 \quad \square \quad 2 + 3$$

$$\text{سبعة} \quad \square \quad 2 + 6$$

$$3 + 8 \quad \square \quad 3 + 5$$

$$2 + 2 \quad \square \quad \text{أربعة}$$

اكتب العدد السابق والتالي :

$$\leftarrow 8 \rightarrow$$

$$\leftarrow 5 \rightarrow$$

$$\leftarrow 3 \rightarrow$$

$$\leftarrow 1 \rightarrow$$

ضع دائرة حول العدد الأكبر :

$$6 - 5 - 3 - 7 \text{ (أ)}$$

$$8 - 0 - 4 - 5 \text{ (ب)}$$

ضع دائرة حول العدد الأصغر :

$$6 - 5 - 3 - 7 \text{ (أ)}$$

$$8 - 0 - 4 - 5 \text{ (ب)}$$

أكمل :

5

1

7

أصغر عدد هو

أكبر عدد هو

أكمل :

4

6

3

أصغر عدد هو

أكبر عدد هو



الواجب

اطرح :

$$= 3 - 7$$

$$= 3 - 3$$

$$= 5 - 8$$

$$= 2 - 2$$

$$= 4 - 9$$

اجمع

$$= 7 + 3$$

$$= 3 + 3$$

$$= 5 + 8$$

$$= 2 + 2$$

$$= 3 + 9$$

ضع علامة < أو > أو = :

$$3 + 4 \quad \square \quad 2 + 5$$

$$\text{سوهاج} \quad \square \quad \text{مصر}$$

$$5 + 5 \quad \square \quad 3 + 2$$

$$\text{سبعة} \quad \square \quad 7$$

اكتب العدد السابق والتالي :

$$\leftarrow 4 \rightarrow$$

$$\leftarrow 6 \rightarrow$$

$$\leftarrow 2 \rightarrow$$

$$\leftarrow 9 \rightarrow$$

ضع دائرة حول العدد الأكبر :

$$6 - 4 - 3 - 5 \quad (\text{أ})$$

$$5 - 7 - 9 - 6 \quad (\text{ب})$$

ضع دائرة حول العدد الأصغر :

$$6 - 4 - 3 - 5 \quad (\text{أ})$$

$$5 - 7 - 9 - 6 \quad (\text{ب})$$

أكمل الأعداد :

$$\square \quad \square \quad \square \quad \square \quad \square \quad \square \quad 21$$

$$\square \quad \square \quad \square \quad \square \quad \square \quad \square \quad \square$$

$$40 \quad \square \quad \square \quad \square \quad \square \quad \square$$

أكمل :

$$\square 6 \quad \square 10 \quad \square 8 \quad \square 9$$

أصغر عدد هو

أكبر عدد هو



العصاة

أطرح :

$$= 4 - 4$$

$$= 3 - 5$$

$$= 4 - 6$$

$$= 3 - 8$$

$$= 5 - 5$$

اجمع :

$$= 4 + 4$$

$$= 3 + 5$$

$$= 4 + 6$$

$$= 3 + 8$$

$$= 5 + 5$$

اكتب العدد السابق والتالي :

$$\leftarrow 3 \rightarrow$$

$$\leftarrow 1 \rightarrow$$

$$\leftarrow 10 \rightarrow$$

$$\leftarrow 7 \rightarrow$$

رتب تصاعدياً :

$$2 - 4 - 1 - 3$$

$$4 - 6 - 7 - 5$$

أكمل بنفس التسلسل :

..... ، ، ، ، 11 ، 10 ، 9

..... ، ، ، ، 4 ، 5

..... ، ، ، ، 3 ، 2

..... ، ، ، ، 7 ، 6

ضع علامة < أو > أو = :

$$4 \quad \square \quad 7$$

$$9 \quad \square \quad \text{عشرة}$$

$$1+3 \quad \square \quad 0+4$$

$$\text{خمسة} \quad \square \quad 2+6$$

$$3+3 \quad \square \quad 2+5$$



الواجب

اطرح:

$$= 5 - 5$$

$$= 2 - 6$$

$$= 4 - 7$$

$$= 5 - 9$$

$$= 4 - 4$$

$$= 3 - 4$$

اجمع

$$= 5 + 5$$

$$= 6 + 2$$

$$= 4 + 7$$

$$= 9 + 5$$

$$= 4 + 4$$

$$= 4 + 3$$

اكتب العدد السابق والتالي:

$$\leftarrow 4 \rightarrow$$

$$\leftarrow 2 \rightarrow$$

$$\leftarrow 5 \rightarrow$$

$$\leftarrow 1 \rightarrow$$

رتب تصاعدياً:

$$3 - 6 - 5 - 4$$

$$6 - 7 - 9 - 8$$

أكمل بنفس التسلسل:

..... ، ، ، ، 5 ، 3 ، 4

..... ، ، ، ، 9 ، 8

..... ، ، ، ، 5 ، 6

..... ، ، ، ، 3 ، 2 ، 1

..... ، ، ، ، 12 ، 11 ، 10

ضع علامة < أو > أو =:

$$4+6 \quad \square \quad 5+3$$

$$9 \quad \square \quad 7$$

$$5 \quad \square \quad 3$$

$$0+3 \quad \square \quad 1+2$$

$$5+4 \quad \square \quad \text{تسعة}$$



العصاة

أطرح :

$$= 3 - 8$$

$$= 2 - 5$$

$$= 5 - 9$$

$$= 3 - 4$$

$$= 5 - 6$$

$$= 7 - 8$$

اجمع :

$$= 3 + 8$$

$$= 2 + 5$$

$$= 5 + 9$$

$$= 3 + 4$$

$$= 5 + 6$$

$$= 7 + 8$$

اكتب العدد السابق والتالي :

← 8 →

← 4 →

← →

← 6 →

رتب تصاعدياً :

6 - 5 - 9 - 7

5 - 2 - 0 - 8

أكمل بنفس التسلسل :

..... ، ، ، ، 8 ، 9

..... ، ، ، ، 4 ، 5

..... ، ، ، ، 12 ، 11

..... ، ، ، ، 9 ، 10

ضع علامة < أو > أو = :

7 2 + 2

5 2 + 3

أربعة 2 + 2

شمس 6



العصاة

أطرح :

$$= 3 - 7$$

$$= 4 - 5$$

$$= 2 - 3$$

$$= 4 - 4$$

$$= 0 - 5$$

اجمع :

$$= 3 + 7$$

$$= 4 + 5$$

$$= 3 + 2$$

$$= 4 + 4$$

$$= 0 + 5$$

اكتب العدد السابق والتالي :

$$\leftarrow 10 \rightarrow$$

$$\leftarrow 11 \rightarrow$$

$$\leftarrow 14 \rightarrow$$

$$\leftarrow 5 \rightarrow$$

رتب تصاعدياً :

$$2 - 6 - 9 - 10$$

$$5 - 1 - 3 - 7$$

أكمل بنفس التسلسل :

$$\dots, \dots, \dots, \dots, 5, 4$$

$$\dots, \dots, \dots, \dots, 9, 8$$

$$\dots, \dots, \dots, \dots, 12, 13$$

$$\dots, \dots, \dots, \dots, 5, 6$$

$$\dots, \dots, \dots, \dots, 2, 1$$

ضع علامة < أو > أو = :

$$9 \quad \square \quad 11$$

$$9 \quad \square \quad 4$$

$$17 \quad \square \quad 17$$

$$12 \quad \square \quad 15$$

$$8 \quad \square \quad 18$$



الواجب

أطرح :

$$= 5 - 8$$

$$= 3 - 9$$

$$= 4 - 6$$

$$= 7 - 7$$

$$= 3 - 3$$

$$= 0 - 5$$

اجمع :

$$= 5 + 8$$

$$= 3 + 6$$

$$= 6 + 4$$

$$= 7 + 7$$

$$= 3 + 3$$

$$= 0 + 5$$

اكتب العدد السابق والتالي :

← ١٥ →

← ١١ →

← ١٠ →

← ٨ →

رتب تصاعدياً :

١٤ - ١٠ - ١٢ - ١٥

٧ - ١١ - ٨ - ٩

أكمل بنفس التسلسل :

..... ، ، ، ، ٨ ، ٩

..... ، ، ، ، ١١ ، ١٠

..... ، ، ، ، ٦ ، ٧

..... ، ، ، ، ٤ ، ٥

ضع علامة < أو > أو = :

١٤ ١٣

١٧ ٩

١٨ ١٨

١٠ ١١



الواجب

أطرح :

$$= ٤ - ٧$$

$$= ٢ - ٨$$

$$= ٦ - ٦$$

$$= ٣ - ٥$$

$$= ٥ - ٩$$

$$= ٠ - ٨$$

اجمع :

$$= ٨ + ٤$$

$$= ٢ + ٨$$

$$= ٦ + ٦$$

$$= ٣ + ٥$$

$$= ٥ + ٩$$

$$= ٠ + ٨$$

اكتب العدد السابق والتالي :

← ١٨ →

← ١١ →

← ٧ →

← ٤ →

رتب تصاعدياً :

٩ - ١٢ - ٧ - ١٣

١ - ٣ - ٧ - ٥

أكمل بنفس التسلسل :

..... ، ، ، ، ٣ ، ٤

..... ، ، ، ، ٦ ، ٥

..... ، ، ، ، ١٠ ، ٩

..... ، ، ، ، ١٤ ، ١٥

ضع علامة < أو > أو = :

١٤ ١٥

١٦ ١١

١٤ ١٤

١٢ ١٧



العصاة

أطرح :

$$= ٤ - ٥$$

$$= ٣ - ٧$$

$$= ٢ - ٨$$

$$= ٣ - ٥$$

$$= ٤ - ٦$$

اجمع :

$$= ٥ + ٤$$

$$= ٤ + ٧$$

$$= ٨ + ٢$$

$$= ٣ + ٥$$

$$= ٤ + ٦$$

اكتب العدد السابق والتالي :

$$\leftarrow ١٩ \rightarrow$$

$$\leftarrow ١٠ \rightarrow$$

$$\leftarrow ٨ \rightarrow$$

$$\leftarrow ٣ \rightarrow$$

رتب تصاعدياً :

$$١٦ - ١٢ - ١٥ - ١٧$$

$$٨ - ٣ - ٦ - ٩$$

أكمل بنفس التسلسل :

$$\dots, \dots, \dots, \dots, ١٢, ١٣$$

$$\dots, \dots, \dots, \dots, ١٨, ١٧$$

$$\dots, \dots, \dots, \dots, ١٤, ١٥$$

$$\dots, \dots, \dots, \dots, ٦, ٧$$

ضع علامة < أو > أو = :

$$٣ + ٢ \quad \square \quad \text{تسعة}$$

$$\text{خمسة} \quad \square \quad ٤ + ٤$$

$$٤ - ٨ \quad \square \quad ٢ + ٢$$

$$\text{ستة} \quad \square \quad ١ + ٥$$

$$٧ + ٣ \quad \square \quad \text{عشرة}$$



الواجب

أطرح :

$$= 3 - 8$$

$$= 2 - 2$$

$$= 6 - 7$$

$$= 3 - 5$$

$$= 4 - 9$$

اجمع :

$$= 8 + 3$$

$$= 2 + 2$$

$$= 7 + 1$$

$$= 3 + 5$$

$$= 9 + 4$$

اكتب العدد السابق والتالي :

$$\leftarrow 7 \rightarrow$$

$$\leftarrow 9 \rightarrow$$

$$\leftarrow 13 \rightarrow$$

$$\leftarrow 16 \rightarrow$$

رتب تصاعدياً :

$$11 - 9 - 15 - 19$$

$$1 - 6 - 2 - 4$$

أكمل بنفس التسلسل :

$$\dots, \dots, \dots, \dots, 8, 9$$

$$\dots, \dots, \dots, \dots, 5, 4$$

$$\dots, \dots, \dots, \dots, 10, 8$$

$$\dots, \dots, \dots, \dots, 18, 17$$

ضع علامة < أو > أو = :

$$9 \quad 9 \quad \square \quad 2-3$$

$$\text{عشرة} \quad \square \quad 2+8$$

$$2-5 \quad \square \quad 4+4$$

$$5-9 \quad \square \quad \text{أربعة}$$

$$\text{ثلاثة} \quad \square \quad 3-6$$



الحصّة

أطرح :

$$= 2 - 5$$

$$= 3 - 4$$

$$= 2 - 6$$

$$= 5 - 5$$

$$= 0 - 7$$

اجمع :

$$= 2 + 5$$

$$= 4 + 3$$

$$= 6 + 2$$

$$= 5 + 5$$

$$= 0 + 7$$

رتب تنازلياً :

١٠ - ٧ - ٥ - ٩

١ - ٦ - ٨ - ٤

رتب تصاعدياً :

١٠ - ٧ - ٥ - ٩

١ - ٣ - ٨ - ٤

ضع علامة < أو > أو = :

٩ ٥

٤ ٢

٧ ٧

ثلاثة ثمانية

ستة أربعة + ٢

اكتب العدد السابق والتالي :

← ٤ →

← ٢ →

← ٩ →

← ١ →

← ٧ →



الواجب

أطرح :

$$= 5 - 6$$

$$= 3 - 3$$

$$= 1 - 2$$

$$= 0 - 0$$

$$= 2 - 9$$

اجمع :

$$= 6 + 5$$

$$= 3 + 3$$

$$= 1 + 2$$

$$= 0 + 0$$

$$= 2 + 8$$

رتب تنازلياً :

$$3 - 1 - 2 - 5$$

$$4 - 6 - 0 - 7$$

رتب تصاعدياً :

$$3 - 1 - 2 - 5$$

$$4 - 6 - 0 - 7$$

ضع علامة < أو > أو = :

$$7 \quad \square \quad 3$$

$$8 \quad \square \quad 2$$

$$2+2 \quad \square \quad \text{أربعة}$$

$$\text{ستة} \quad \square \quad 2+3$$

اكتب العدد السابق والتالي :

$$\leftarrow 8 \rightarrow$$

$$\leftarrow 10 \rightarrow$$

$$\leftarrow 5 \rightarrow$$

$$\leftarrow 1 \rightarrow$$



الحصة

أطرح :

$$= 2 - 5$$

$$= 3 - 4$$

$$= 2 - 6$$

$$= 5 - 5$$

$$= 0 - 7$$

اجمع :

$$= 2 + 5$$

$$= 4 + 3$$

$$= 6 + 2$$

$$= 5 + 5$$

$$= 0 + 7$$

رتب تنازلياً :

$$10 - 7 - 5 - 9$$

$$1 - 6 - 8 - 4$$

رتب تصاعدياً :

$$10 - 7 - 5 - 9$$

$$1 - 3 - 8 - 4$$

أكمل بنفس التسلسل :

$$\dots, \dots, \dots, \dots, 3, 4$$

$$\dots, \dots, \dots, \dots, 7, 6$$

$$\dots, \dots, \dots, \dots, 10, 9$$

$$\dots, \dots, \dots, \dots, 15, 14$$

$$\dots, \dots, \dots, \dots, 14, 13$$

وصل :

$$3 + 5 \quad \text{ستة}$$

$$2 + 3 \quad \text{أربعة}$$

$$5 - 6 \quad \text{ثمانية}$$

$$2 + 2 \quad \text{واحد}$$

$$4 + 2 \quad \text{خمسة}$$



الواجب

أطرح :

$$= 4 - 5$$

$$= 3 - 6$$

$$= 2 - 7$$

$$= 5 - 8$$

$$= 6 - 9$$

اجمع :

$$= 5 + 4$$

$$= 4 + 6$$

$$= 2 + 7$$

$$= 8 + 3$$

$$= 5 + 9$$

رتب تنازلياً :

$$11 - 7 - 9 - 10$$

$$1 - 4 - 6 - 3$$

رتب تصاعدياً :

$$11 - 7 - 9 - 10$$

$$1 - 4 - 6 - 3$$

أكمل بنفس التسلسل :

$$\dots, \dots, \dots, \dots, 15, 14$$

$$\dots, \dots, \dots, \dots, 7, 8$$

$$\dots, \dots, \dots, \dots, 4, 3$$

$$\dots, \dots, \dots, \dots, 5, 6$$

وصل :

$$10 \quad \text{سبعة}$$

$$5 + 4 \quad \text{اثان}$$

$$5 - 6 \quad \text{تسعة}$$

$$3 - 5 \quad \text{ثلاثة}$$

$$2 + 1 \quad \text{عشرة}$$



الحصة

أطرح :

$$= 2 - 9$$

$$= 4 - 6$$

$$= 1 - 8$$

$$= 3 - 5$$

$$= 4 - 7$$

اجمع :

$$= 2 + 9$$

$$= 6 + 4$$

$$= 8 + 1$$

$$= 3 + 5$$

$$= 4 + 7$$

رتب تنازلياً :

$$15 - 13 - 16 - 11$$

$$5 - 2 - 6 - 8$$

رتب تصاعدياً :

$$15 - 13 - 16 - 11$$

$$5 - 2 - 6 - 8$$

ضع علامة < أو > أو = :

$$5 - 8 \quad \square \quad 2 + 3$$

$$4 + 4 \quad \square \quad 3 + 5$$

$$2 + \text{ثمانية} \quad \square \quad 1 - 9$$

$$1 - 2 \quad \square \quad \text{واحد}$$

اكتب العدد السابق والتالي :

$$\leftarrow 3 \rightarrow$$

$$\leftarrow 1 \rightarrow$$

$$\leftarrow 6 \rightarrow$$

$$\leftarrow 10 \rightarrow$$

أكمل بنفس التسلسل :

$$\dots, \dots, \dots, \dots, 3, 2$$

$$\dots, \dots, \dots, \dots, 10, 9$$

اكتب العدد بالحروف :

$$\dots \dots \dots 5 \dots \dots \dots 1$$

$$\dots \dots \dots 6 \dots \dots \dots 2$$

$$\dots \dots \dots 7 \dots \dots \dots 3$$

$$\dots \dots \dots 8 \dots \dots \dots 4$$



الواجب

أطرح :

$$= 6 - 8$$

$$= 2 - 7$$

$$= 4 - 9$$

$$= 2 - 3$$

$$= 1 - 4$$

$$= 0 - 5$$

اجمع :

$$= 6 + 8$$

$$= 2 + 7$$

$$= 4 + 9$$

$$= 2 + 3$$

$$= 4 + 1$$

$$= 0 + 5$$

رتب تنازلياً :

$$12 - 16 - 14 - 18$$

$$6 - 3 - 0 - 4$$

رتب تصاعدياً :

$$12 - 16 - 14 - 18$$

$$6 - 3 - 0 - 4$$

ضع علامة < أو > أو = :

$$2 + \text{واحد} \quad \square \quad 3 + 5$$

$$\text{ثمانية} \quad \square \quad 6 + 4$$

$$4 - 9 \quad \square \quad 0 + 5$$

$$3 + 6 \quad \square \quad 5 + 4$$

اكتب العدد السابق والتالي :

$$\longleftarrow 3 \longrightarrow$$

$$\longleftarrow 13 \longrightarrow$$

$$\longleftarrow 4 \longrightarrow$$

$$\longleftarrow 14 \longrightarrow$$

أكمل بنفس التسلسل :

$$\dots, \dots, \dots, \dots, 6, 7$$

$$\dots, \dots, \dots, \dots, 18, 19$$

اكتب العدد بالحروف :

$$\dots \dots \dots 5 \dots \dots \dots 1$$

$$\dots \dots \dots 6 \dots \dots \dots 2$$

$$\dots \dots \dots 7 \dots \dots \dots 3$$

$$\dots \dots \dots 8 \dots \dots \dots 4$$



اختبار

أطرح :

$$= 3 - 9$$

$$= 5 - 8$$

$$= 4 - 6$$

$$= 0 - 5$$

اجمع :

$$= 3 + 8$$

$$= 5 + 1$$

$$= 2 + 7$$

$$= 0 + 0$$

رتب تنازلياً :

6 - 2 - 4 - 5

10 - 17 - 11 - 14

رتب تصاعدياً :

6 - 2 - 4 - 5

10 - 17 - 11 - 14

ضع علامة < أو > أو = :

سبعة 3 + 4

5 - 8 2 + 7

3 + 3 أربعة

اكتب العدد بالحروف :

..... 6

..... 7

..... 8

..... 9

..... 10

اكتب الاعداد:

<input type="text"/>	<input type="text"/>	<input type="text"/>	<input type="text"/>	<input type="text"/>	<input type="text"/>	30
<input type="text"/>	<input type="text"/>	<input type="text"/>	<input type="text"/>	<input type="text"/>	<input type="text"/>	<input type="text"/>
50	<input type="text"/>	<input type="text"/>	<input type="text"/>	<input type="text"/>	<input type="text"/>	<input type="text"/>



الواجب

أطرح :

$$= 5 - 6$$

$$= 2 - 4$$

$$= 3 - 8$$

$$= 0 - 9$$

اجمع :

$$= 5 + 6$$

$$= 2 + 4$$

$$= 3 + 8$$

$$= 0 + 9$$

رتب تنازلياً :

١٠ - ٢ - ٦ - ٨

<input type="text"/>	<input type="text"/>	<input type="text"/>	<input type="text"/>
----------------------	----------------------	----------------------	----------------------

١٦ - ١١ - ١٥ - ١٣

<input type="text"/>	<input type="text"/>	<input type="text"/>	<input type="text"/>
----------------------	----------------------	----------------------	----------------------

رتب تصاعدياً :

١٠ - ٢ - ٦ - ٨

<input type="text"/>	<input type="text"/>	<input type="text"/>	<input type="text"/>
----------------------	----------------------	----------------------	----------------------

١٦ - ١١ - ١٥ - ١٣

<input type="text"/>	<input type="text"/>	<input type="text"/>	<input type="text"/>
----------------------	----------------------	----------------------	----------------------

ضع علامة < أو > أو = :

٢ + ٥ تسعة

٤ + ٤ ثمانية

٥ + ٤ ٧ + ٢

اكتب العدد بالحروف :

.....٦ ١

.....٧ ٢

.....٨ ٣

.....٩ ٤

.....١٠ ٥

اكتب الاعداد :

<input type="text"/>	<input type="text"/>	<input type="text"/>	<input type="text"/>	<input type="text"/>	<input type="text"/>	٣٠
<input type="text"/>	<input type="text"/>	<input type="text"/>	<input type="text"/>	<input type="text"/>	<input type="text"/>	<input type="text"/>
٥٠	<input type="text"/>	<input type="text"/>	<input type="text"/>	<input type="text"/>	<input type="text"/>	<input type="text"/>



الحصة

١٥	١٤	١٣	١٢	١١
خمسة عشر	أربعة عشر	ثلاثة عشر	اثنا عشر	احدي عشر
.....
٢٠	١٩	١٨	١٧	١٦
عشرون	تسعة عشر	ثمانية عشر	سبعة عشر	سته عشر
.....



الحصّة

أطرح :

$$= 9 - 9$$

$$= 6 - 8$$

$$= 5 - 7$$

$$= 6 - 6$$

$$= 3 - 7$$

اجمع :

$$= 9 + 9$$

$$= 6 + 8$$

$$= 7 + 5$$

$$= 6 + 6$$

$$= 7 + 7$$

رتب تنازلياً :

١٠ - ١٦ - ١٣ - ١٧

١٦ - ١١ - ١٥ - ١٣

رتب تصاعدياً :

١٠ - ١٦ - ١٣ - ١٧

١٨ - ١٤ - ١٩ - ٢٠

ضع علامة < أو > أو = :

١٧ ١٩

١٦ + ٤ ١٣

٢٠ ٢٠

اكتب العدد بالحروف :

..... ١٦ ١١

..... ١٧ ١٢

..... ١٨ ١٣

..... ١٩ ١٤

..... ٢٠ ١٥

أكتب الأعداد:

٥٠

٧٠



الواجب

أطرح :

$$= 4 - 8$$

$$= 3 - 7$$

$$= 5 - 5$$

$$= 6 + 7$$

$$= 2 - 9$$

اجمع :

$$= 4 + 8$$

$$= 3 + 7$$

$$= 5 + 5$$

$$= 7 + 6$$

$$= 2 + 9$$

رتب تنازلياً :

$$13 - 15 - 10 - 12$$

$$16 - 11 - 15 - 13$$

رتب تصاعدياً :

$$13 - 15 - 10 - 12$$

$$7 - 5 - 8 - 9$$

ضع علامة < أو > أو = :

$$13 \quad \square \quad \text{احدي عشر}$$

$$\text{ثمانية عشر} \quad \square \quad 17$$

$$16 \quad \square \quad \text{سته عشر}$$

اكتب العدد بالحروف :

$$\dots\dots\dots 16 \dots\dots\dots 11$$

$$\dots\dots\dots 17 \dots\dots\dots 12$$

$$\dots\dots\dots 18 \dots\dots\dots 13$$

$$\dots\dots\dots 19 \dots\dots\dots 14$$

$$\dots\dots\dots 20 \dots\dots\dots 15$$

اكتب الاعداد:

<input type="text"/>	<input type="text"/>	<input type="text"/>	<input type="text"/>	<input type="text"/>	<input type="text"/>	٥٠
<input type="text"/>	<input type="text"/>	<input type="text"/>	<input type="text"/>	<input type="text"/>	<input type="text"/>	<input type="text"/>
٧٠	<input type="text"/>	<input type="text"/>	<input type="text"/>	<input type="text"/>	<input type="text"/>	<input type="text"/>



الحصّة

أطرح :

$$= 3 - 8$$

$$= 2 - 5$$

$$= 6 - 6$$

$$= 3 - 6$$

$$= 4 - 7$$

اجمع :

$$= 4 + 2 + 3$$

$$= 0 + 1 + 5$$

$$= 3 + 2 + 7$$

$$= 2 + 6 + 4$$

$$= 4 + 5 + 2$$

رتب تنازلياً :

١٢ - ١٧ - ١١ - ١٥

٩ - ٠ - ٢ - ٨

رتب تصاعدياً :

١٢ - ١٧ - ١١ - ١٥

٩ - ٠ - ٢ - ٨

ضع علامة < أو > أو = :

اثنا عشر ١٦

١٧ خمسة عشر

١٩ تسعة عشر

اكتب العدد بالحروف :

..... ١٦ ١١

..... ١٧ ١٢

..... ١٨ ١٣

..... ١٩ ١٤

..... ٢٠ ١٥

أكتب الأعداد:

٥٠

٧٠



الواجب

أطرح :

$$= 5 - 6$$

$$= 1 - 5$$

$$= 5 - 8$$

$$= 3 - 9$$

$$= 2 - 4$$

اجمع :

$$= 3 + 6 + 1$$

$$= 4 + 3 + 7$$

$$= 0 + 2 + 4$$

$$= 3 + 1 + 5$$

$$= 0 + 2 + 7$$

رتب تنازلياً :

١٧ - ١١ - ١٦ - ١٣

١٨ - ١٢ - ١٠ - ١٩

رتب تصاعدياً :

١٧ - ١١ - ١٦ - ١٣

١٨ - ١٢ - ١٠ - ١٩

ضع علامة < أو > أو = :

١٣ ثلاثة عشر

١٧ ١٩

عشرون ٢٠

اكتب العدد بالحروف :

..... ١٦ ١١

..... ١٧ ١٢

..... ١٨ ١٣

..... ١٩ ١٤

..... ٢٠ ١٥

اكتب الاعداد:

<input type="checkbox"/>	<input type="checkbox"/>	<input type="checkbox"/>	<input type="checkbox"/>	<input type="checkbox"/>	<input type="checkbox"/>	٥٠
<input type="checkbox"/>	<input type="checkbox"/>	<input type="checkbox"/>	<input type="checkbox"/>	<input type="checkbox"/>	<input type="checkbox"/>	<input type="checkbox"/>
٧٠	<input type="checkbox"/>	<input type="checkbox"/>	<input type="checkbox"/>	<input type="checkbox"/>	<input type="checkbox"/>	<input type="checkbox"/>



الحصة

أطرح :

$$= 6 - 7$$

$$= 2 - 6$$

$$= 3 - 5$$

$$= 2 - 8$$

$$= 3 - 3$$

اجمع :

$$= 5 + 1 + 2$$

$$= 1 + 3 + 7$$

$$= 6 + 4 + 5$$

$$= 3 + 2 + 6$$

$$= 0 + 8 + 2$$

رتب تنازلياً :

$$10 - 14 - 12 - 15$$

$$13 - 20 - 19 - 17$$

رتب تصاعدياً :

$$10 - 14 - 12 - 15$$

$$13 - 20 - 19 - 17$$

ضع علامة < أو > أو = :

$$4 + 2 \quad \square$$

خمسة

$$\text{ستة عشر} \quad \square$$

١٤

$$17 \quad \square$$

ثلاثة عشر

$$5 + 4 \quad \square$$

٩

اكتب العدد السابق والتالي :

$$\leftarrow 4 \rightarrow$$

$$\leftarrow 15 \rightarrow$$

$$\leftarrow 19 \rightarrow$$

$$\leftarrow 9 \rightarrow$$



الواجب

أطرح :

$$= 4 - 7$$

$$= 5 - 6$$

$$= 2 - 4$$

$$= 3 - 6$$

$$= 4 - 8$$

اجمع :

$$= 1 + 2 + 4$$

$$= 6 + 1 + 5$$

$$= 0 + 2 + 2$$

$$= 2 + 3 + 6$$

$$= 3 + 5 + 4$$

رتب تنازلياً :

$$13 - 14 - 11 - 12$$

$$16 - 17 - 15 - 18$$

رتب تصاعدياً :

$$13 - 14 - 11 - 12$$

$$16 - 17 - 15 - 18$$

ضع علامة < أو > أو = :

$$13 \quad \square \quad 17$$

$$\text{اثنا عشر} \quad \square \quad 18$$

$$\text{عشرون} \quad \square \quad 20$$

$$14 \quad \square \quad 14$$

$$16 \quad \square \quad 12$$

اكتب العدد السابق والتالي :

$$\leftarrow 13 \rightarrow$$

$$\leftarrow 11 \rightarrow$$

$$\leftarrow 17 \rightarrow$$

$$\leftarrow 20 \rightarrow$$



الحصة

أطرح :

$$= 6 - 8$$

$$= 4 - 5$$

$$= 1 - 4$$

$$= 5 - 7$$

$$= 6 - 9$$

اجمع :

$$= 1 + 2 + 4$$

$$= 2 + 6 + 4$$

$$= 2 + 7 + 1$$

$$= 6 + 2 + 3$$

$$= 2 + 2 + 9$$

رتب تنازلياً :

$$15 - 13 - 18 - 16$$

$$11 - 17 - 12 - 19$$

رتب تصاعدياً :

$$15 - 13 - 18 - 16$$

$$11 - 17 - 12 - 19$$

ضع علامة < أو > أو = :

$$16 \quad \square \quad 17$$

$$19 \quad \square \quad 15$$

$$13 \quad \square \quad 14$$

$$11 \quad \square \quad 10$$

$$7 \quad \square \quad 9$$

اكتب العدد السابق والتالي :

$$\leftarrow 18 \rightarrow$$

$$\leftarrow 12 \rightarrow$$

$$\leftarrow 14 \rightarrow$$

$$\leftarrow 19 \rightarrow$$



الواجب

أطرح :

$$= 6 - 4$$

$$= 3 - 2$$

$$= 5 - 3$$

$$= 7 - 5$$

$$= 9 - 3$$

اجمع :

$$= 3 + 6 + 3$$

$$= 1 + 4 + 7$$

$$= 2 + 3 + 5$$

$$= 7 + 0 + 4$$

$$= 3 + 2 + 6$$

رتب تنازلياً :

١٠ - ١٣ - ١١ - ١٤

٦ - ٥ - ٨ - ٩

رتب تصاعدياً :

١٠ - ١٣ - ١١ - ١٤

٦ - ٥ - ٨ - ٩

ضع علامة < أو > أو = :

١٢ ١٤

١٧ ثمانية عشر

١١ ١١

١٦ ١٥

١٩ ١٩

اكتب العدد السابق والتالي :

← ١٣ →

← ١١ →

← ١٧ →

← ١٥ →



الحصة

أطرح :

$$= 5 - 7$$

$$= 3 - 8$$

$$= 6 - 9$$

$$= 4 - 6$$

اجمع :

$$= 7 + 4 + 1$$

$$= 8 + 2 + 3$$

$$= 4 + 2 + 9$$

$$= 4 + 1 + 5$$

مكونات العدد (٣) :

$$= 2 + 1$$

$$= 0 + 3$$

$$= 1 + 2$$

مكونات العدد (٢) :

$$= 1 + 1$$

$$= 0 + 2$$

$$= 2 + 0$$

رتب تنازلياً :

$$10 - 11 - 9 - 13$$

$$13 - 16 - 8 - 17$$

رتب تصاعدياً :

$$10 - 11 - 9 - 13$$

$$13 - 16 - 8 - 17$$

ضع علامة < أو > أو = :

$$15 \quad \square \quad \text{أربعة عشر}$$

$$\text{ستة عشر} \quad \square \quad 13$$

$$18 \quad \square \quad \text{ثمانية عشر}$$

اكتب العدد السابق والتالي :

$$\leftarrow 19 \rightarrow$$

$$\leftarrow 13 \rightarrow$$

$$\leftarrow 12 \rightarrow$$

$$\leftarrow 10 \rightarrow$$



الواجب

أطرح :

$$= 1 - 7$$

$$= 4 - 5$$

$$= 6 - 8$$

$$= 2 - 6$$

اجمع :

$$= 7 + 1 + 3$$

$$= 0 + 6 + 5$$

$$= 4 + 2 + 7$$

$$= 3 + 1 + 9$$

مكونات العدد (٣) :

$$3 = \dots + 1$$

$$3 = 0 + \dots$$

$$3 = \dots + 2$$

مكونات العدد (٢) :

$$2 = \dots + 1$$

$$2 = \dots + 0$$

$$2 = \dots + 2$$

رتب تنازلياً :

$$16 - 18 - 12 - 14$$

$$17 - 19 - 13 - 11$$

رتب تصاعدياً :

$$16 - 18 - 12 - 14$$

$$17 - 19 - 13 - 11$$

ضع علامة < أو > أو = :

$$16 \quad \square \quad 18$$

$$\text{عشرون} \quad \square \quad 19$$

$$10 \quad \square \quad \text{اثنا عشر}$$

اكتب العدد السابق والتالي :

$$\leftarrow 19 \rightarrow$$

$$\leftarrow 13 \rightarrow$$

$$\leftarrow 17 \rightarrow$$



الحصة

أطرح :

$$= 2 - 3$$

$$= 3 - 4$$

$$= 2 - 5$$

$$= 6 - 7$$

اجمع :

$$= 0 + 1 + 3$$

$$= 4 + 5 + 2$$

$$= 3 + 1 + 6$$

$$= 2 + 7 + 4$$

مكونات العدد (٥) :

$$5 = \dots + 1$$

$$5 = \dots + 2$$

$$5 = \dots + 3$$

$$5 = \dots + 5$$

مكونات العدد (٤) :

$$4 = 3 + 1$$

$$4 = \dots + 2$$

$$4 = \dots + 4$$

رتب تنازلياً :

$$16 - 20 - 11 - 19$$

$$18 - 15 - 14 - 17$$

رتب تصاعدياً :

$$18 - 15 - 14 - 17$$

$$16 - 20 - 11 - 19$$

ضع علامة < أو > أو = :

$$\text{عشرة} \quad \square \quad 7+3$$

$$8+5 \quad \square \quad 6+9$$

$$16 \quad \square \quad 17$$

اكتب العدد السابق والتالي :

$$\leftarrow 14 \rightarrow$$

$$\leftarrow 16 \rightarrow$$

$$\leftarrow 18 \rightarrow$$



الواجب

**اجمع :-

5 + 0	8 + 3	7 + 4	8 + 5	6 + 4
-------------	-------------	-------------	-------------	-------------

**أكمل :-

47 43 - 42 - 41

**رتب تصاعدياً :-

7 - 1 - 4 - 5 - 9

**اكتب العدد :-

<input type="text"/>	خمسة
<input type="text"/>	ستة
<input type="text"/>	سبعة

**اكتب العدد :-

<input type="text"/>	صبري
<input type="text"/>	زياد
<input type="text"/>	أحمد

**اجمع :-

= 3 + 6
= 4 + 5
= 0 + 8
= 9 + 9
= 5 + 10
= 2 + 4

**ضع علامة (<) أو (>) أو (=) :-

7	<input type="text"/>	2 + 2
5 + 4	<input type="text"/>	9
3 + 3	<input type="text"/>	10



الحصة

**اجمع :-

$$5 = \square + 3$$
$$8 = \square + 3$$

$$7 = \square + 2$$
$$6 = \square + 3$$

**أكمل :-

$$31 \square \square \square 27 - 26 - 25$$

**اشترى سيف لعبة (٩) جنيهاً، وكشكول (٣) جنيهاً كم دفع سيف؟

دفع سيف = $\square + \square = \square$ جنيه

**ضع علامة (<) أو (>) أو (=) :-

$$5 - 7 \square 2 + 2$$
$$3 + 3 \square 5 - 8$$
$$3 + 1 \square 2 - 6$$

**ضع علامة (+) أو علامة (-) :-

$$4 \square 1$$
$$4 = 3 \square 7$$
$$\text{صفر} = 2 \square 2$$
$$8 = 5 \square 3$$

**اجمع :-

$$= 3 + 9$$
$$= 2 + 8$$
$$= 5 + 7$$
$$= 4 + 9$$
$$= 4 + 7$$
$$= 3 + 8$$

**اكتب العدد السابق :-

$$4 \longrightarrow$$
$$14 \longrightarrow$$
$$24 \longrightarrow$$
$$34 \longrightarrow$$
$$44 \longrightarrow$$
$$54 \longrightarrow$$
$$64 \longrightarrow$$



الواجب

**اجمع: -

$$6 = \square + 2$$

$$5 = \square + 2$$

$$8 = \square + 8$$

$$7 = \square + 4$$

**أكمل: - ٤٣ - ٤٤ - ٤٥ ٤٩

**مع عبد الله (١٠) جنية ، اشترى ساعة (٨) جنية ، فكم تبقي معه ؟

البقي = - = جنية

**ضع علامة (<) أو (>) أو (=): -

<input type="text"/>		<input type="text"/>
٣ - ٥	<input type="text"/>	١ + ٣
<input type="text"/>		<input type="text"/>
٦ - ٩	<input type="text"/>	٥ - ٨
<input type="text"/>		<input type="text"/>
٢ + ٨	<input type="text"/>	٣ + ٣

**ضع علامة (+) أو علامة (-): -

٦ = ٣	<input type="text"/>	٣
٩ = ٠	<input type="text"/>	٩
٣ = ٥	<input type="text"/>	٨
٧ = ٥	<input type="text"/>	٢

**اطرح: -

= ٢ - ١٠
= ٠ - ٨
= ٣ - ٩
= ١ - ٦
= ٢ - ٤
= ١ - ٥
= ٤ - ٧

**اجمع: -

= ٧ + ٧
= ٦ + ٦
= ٩ + ٩
= ١٠ + ١٠
= ٥ + ٥
= ٨ + ٨
= ٣ + ٣



الحصّة

**اجمع :-

$$7 = 2 + \square$$
$$8 = \square + 3$$

$$4 = 1 + \square$$
$$5 = 5 + \square$$

**أكمل :-

$$37 \square \square \square 33 - 32 - 31$$

**مع ربع (٩) جنية ، اشترى قلم (٣) جنية ، فكم تبقي مع ربع ؟

الباقي = $\square - \square = \square$ جنية

**ضع علامة (<) أو (>) أو (=) :-

\square		\square
$3 - 9$	\square	$2 + 4$
\square		\square
$3 + 4$	\square	$5 - 8$
\square		\square
$2 - 8$	\square	$3 + 5$

**ضع علامة (+) أو علامة (-) :-

$$4 = 3 \square 1$$
$$\text{صفر} = 7 \square 7$$
$$7 = 5 \square 2$$
$$4 = 2 \square 6$$

**اطرح :-

$$= 5 - 8$$
$$= 1 - 6$$
$$= 4 - 9$$
$$= 2 - 7$$
$$= 5 - 10$$
$$= 0 - 7$$
$$= 2 - 5$$

**اجمع :-

$$= 3 + 5$$
$$= 3 + 4$$
$$= 5 + 3$$
$$= 6 + 2$$
$$= 2 + 7$$
$$= 5 + 8$$
$$= 5 + 4$$



الواجب

**اجمع: -

$$8 = 3 + \square$$

$$3 = \square + 1$$

$$9 = 4 + \square$$

$$5 = \square + 2$$

**أكمل: - ٣٨ - ٣٧ - ٣٦ - ٣٥ - ٣٤ - ٣٣ - ٣٢

**اشترت سلمي لعبة (٨) جنية ومسدس (٣) جنية فكم دفعت سلمي ؟

ما دفعته سلمي = $\square + \square =$ جنية

**ضع علامة (<) أو (>) أو (=): -

\square	$5 - 8$	\square	$3 + 3$
\square	$3 + 4$	\square	$2 + 5$
\square	$2 - 10$	\square	$1 + 4$

**ضع علامة (+) أو علامة (-): -

$6 = 3$	\square	3	
$6 = 4$	\square	2	
$8 =$	صفر	\square	8
$5 = 1$	\square	6	

**اطرح: -

$=$	$1 - 7$
$=$	$3 - 8$
$=$	$2 - 9$
$=$	$5 - 10$
$=$	$3 - 7$
$=$	$2 - 6$
$=$	$5 - 5$

**اجمع: -

$=$	$5 + 9$
$=$	$6 + 6$
$=$	$4 + 8$
$=$	$3 + 7$
$=$	$7 + 7$
$=$	$0 + 8$
$=$	$2 + 9$



الحصّة

اجمع :-

$$5 = 1 + \square$$

$$7 = \square + 2$$

$$8 = 3 + \square$$

$$6 = \square + 5$$

اكمل :-

$$41 \square \square \square 37 - 36 - 35$$

**مع شهد (9) جنية ، اشترت لعبة (5) جنية ، فكم تبقي مع شهد ؟

$$\text{المتبقي مع شهد} = \square - \square = \square \text{ جنيته}$$

**ضع علامة (<) أو (>) أو (=) :-

$$\begin{array}{l} \square \\ 2 + 4 \square \\ \square \\ 6 - 9 \square \\ \square \\ 2 - 8 \square \end{array} \quad \begin{array}{l} \square \\ 3 + 4 \square \\ \square \\ 5 - 8 \square \\ \square \\ 1 + 2 \square \end{array}$$

**ضع علامة (+) أو علامة (-) :-

$$\begin{array}{l} 4 = 3 \square 2 \\ 6 = 4 \square 2 \\ 3 = 5 \square 8 \\ 6 = 3 \square 9 \end{array}$$

**اطرح :-

$$\begin{array}{l} = 3 - 8 \\ = 6 - 6 \\ = 1 - 4 \\ = 0 - 7 \\ = 2 - 8 \\ = 1 - 6 \end{array}$$

**اجمع :-

$$\begin{array}{l} = 5 + 5 \\ = 6 + 2 \\ = 3 + 3 \\ = 4 + 8 \\ = 8 + 7 \\ = 2 + 8 \\ = 5 + 5 \end{array}$$



الواجب

**اجمع :-

$$7 = 3 + \square$$

$$4 = \square + 1$$

$$5 = 1 + \square$$

$$5 = \square + 2$$

**أكمل :- ٤٧ - ٤٨ - ٤٩ ٥٣

**اشترى علي مسدس (٨) ، وحلوى (٣) جنية ، فكم دفع علي ؟

مادفعه علي = + = جنية

**ضع علامة (<) أو (>) أو (=) :-

$$\square \quad 5 - 8 \quad \square \quad 1 + 4$$

$$\square \quad 5 - 9 \quad \square \quad 2 - 6$$

$$\square \quad 5 + 10 \quad \square \quad 4 + 3$$

**ضع علامة (+) أو علامة (-) :-

$$6 = 3 \quad \square \quad 9$$

$$4 = 0 \quad \square \quad 4$$

$$8 = 3 \quad \square \quad 5$$

$$9 = 7 \quad \square \quad 2$$

**اطرح :-

$$= 1 - 7$$

$$= 5 - 8$$

$$= 6 - 6$$

$$= 0 - 9$$

$$= 3 - 9$$

$$= 4 - 7$$

$$= 3 - 8$$

**اجمع :-

$$= 5 + 9$$

$$= 3 + 6$$

$$= 8 + 8$$

$$= 4 + 7$$

$$= 9 + 9$$

$$= 5 + 5$$

$$= 0 + 8$$



الحصّة

**اجمع :-

$10 = \square + 8$

$6 = \square + 1$

$8 = 3 + \square$

$5 = 2 + \square$

**أكمل :-

$82 \square \square \square 78 - 77 - 76$

**رتب تنازلياً :-

$6 - 14 - 2 - 10 - 18 - 9 - 5 - 3$

**ضع علامة (<) أو (>) أو (=) :-

$$\begin{array}{l} \square \quad 5 - 10 \quad \square \quad 5 + 3 \\ \square \quad 1 + 3 \quad \square \quad 5 - 9 \\ \square \quad 6 - 8 \quad \square \quad 3 - 7 \end{array}$$

**ضع علامة (+) أو علامة (-) :-

$$\begin{array}{l} 7 = 5 \quad \square \quad 2 \\ 2 = 4 \quad \square \quad 6 \\ 6 = 3 \quad \square \quad 3 \\ 6 = 4 \quad \square \quad 7 \end{array}$$

**اجمع :-

$$\begin{array}{l} = 7 + 7 \\ = 8 + 8 \\ = 9 + 9 \\ = 6 + 6 \\ = 5 + 5 \\ = 4 + 4 \\ = 10 + 10 \end{array}$$

**اطرح :-

$$\begin{array}{l} = 2 - 7 \\ = 1 - 8 \\ = 3 - 3 \\ = 4 - 4 \\ = 5 - 9 \\ = 4 - 6 \\ = 5 - 7 \end{array}$$



الواجب

**اجمع :-

$$5 = \square + 3$$

$$4 = \square + 1$$

$$4 = 1 + \square$$

$$5 = 3 + \square$$

**أكمل: ٨٣ - ٨٤ - ٨٥ ٨٩

**رتب تصاعدياً :-

٣ - ٨ - ١ - ٩ - ٦ - ١٥ - ٢ - ٤

**ضع علامة (<) أو (>) أو (=) :-

<input type="text"/>	٥ - ٨	<input type="text"/>	٣ + ٤
<input type="text"/>	٧ - ٧	<input type="text"/>	٦ - ٦
<input type="text"/>	٥ - ١٠	<input type="text"/>	٦ - ٩

**ضع علامة (+) أو علامة (-) :-

٧ = ٣	<input type="text"/>	٤
٦ = ٢	<input type="text"/>	٨
صفر = ٦	<input type="text"/>	٦
٦ = ٥	<input type="text"/>	١

**اطرح :-

= ٣ - ٧
= ٤ - ٨
= ٢ - ٦
= ٦ - ١٠
= ٥ - ٨
= ٦ - ٩

**اجمع :-

= ٦ + ٧
= ٦ + ٩
= ٨ + ٨
= ٠ + ٩
= ٦ + ٦
= ٤ + ٧



الحصّة

**اطرح :-

$$5 = \square - 9$$

$$4 = 3 - \square$$

$$4 = \square - 6$$

$$3 = 5 - \square$$

**أكمل :-

$$42 \square \square \square 38 - 37 - 36$$

**رتب تنازلياً :-

$$10 - 4 - 9 - 2 - 3 - 15 - 7 - 12 - 5$$

**ضع علامة (<) أو (>) أو (=) :-

$$3 - 10$$

$$4 + 3$$

$$3 + 4$$

$$1 - 6$$

$$2 + 8$$

$$2 - 8$$

**ضع علامة (+) أو علامة (-) :-

$$5 = 4 \square 9$$

$$10 = 5 \square 5$$

$$6 = 3 \square 9$$

$$4 = 1 \square 5$$

**اجمع :-

$$= 6 + 6$$

$$= 5 + 7$$

$$= 4 + 8$$

$$= 3 + 9$$

$$= 7 + 7$$

$$= 6 + 8$$

$$= 5 + 9$$

**اطرح :-

$$= 3 - 7$$

$$= 2 - 4$$

$$= 5 - 5$$

$$= 1 - 4$$

$$= 2 - 3$$

$$= 1 - 4$$

$$= 2 - 5$$



الواجب

**اطرح :-

$$5 = \square - 10$$

$$4 = \square - 6$$

$$7 = 5 - \square$$

$$3 = 6 - \square$$

**أكمل :- ٥٠ - ٤٩ - ٤٨ - ٤٧ - ٤٦ - ٤٥

**رتب تصاعدياً :-

٤ - ١ - ٥ - ١٠ - ٩ - ١٧ - ٦ - ٢ - ٣

**ضع علامة (<) أو (>) أو (=) :-

<input type="text"/>	$3 - 8$	<input type="text"/>	$3 + 5$
<input type="text"/>	$4 - 9$	<input type="text"/>	$4 + 9$
<input type="text"/>	$3 + 3$	<input type="text"/>	$2 - 8$

**ضع علامة (+) أو علامة (-) :-

$6 = 3$	<input type="text"/>	3
$12 = 6$	<input type="text"/>	6
$4 = 2$	<input type="text"/>	6
$3 = 5$	<input type="text"/>	8

**اجمع :-

$$= 5 + 5$$

$$= 4 + 6$$

$$= 3 + 7$$

$$= 2 + 8$$

$$= 1 + 9$$

$$= 3 + 6$$

$$= 2 + 7$$

**اطرح :-

$$= 5 - 9$$

$$= 4 - 8$$

$$= 3 - 7$$

$$= 2 - 6$$

$$= 1 - 5$$

$$= 2 - 7$$

$$= 4 - 9$$



الحصة

**اطرح :-

$$5 = \square - 8$$

$$3 = \square - 9$$

$$4 = 3 - \square$$

$$5 = 1 - \square$$

**أكمل :-

$$69 \square \square \square 65 - 64 - 63$$

**رتب تنازلياً :-

$$7 - 12 - 1 - 8 - 3 - 9 - 5 - 4 - 10$$

**ضع علامة (<) أو (>) أو (=) :-

$$\begin{array}{cc} \square & \square \\ 3 - 8 & 3 + 4 \\ \square & \square \\ 7 - 7 & 6 - 6 \\ \square & \square \\ 2 - 9 & 3 + 3 \end{array}$$

**ضع علامة (+) أو علامة (-) :-

$$\begin{array}{cc} 7 = 3 \square 4 \\ 6 = 5 \square 1 \\ \text{صفر} = 7 \square 7 \\ 4 = 5 \square 9 \end{array}$$

**اطرح :-

$$\begin{array}{l} = 3 - 6 \\ = 2 - 7 \\ = 4 - 4 \\ = 5 - 8 \\ = 4 - 9 \\ = 1 - 6 \\ = 4 - 5 \end{array}$$

**اجمع :-

$$\begin{array}{l} = 5 + 5 \\ = 6 + 3 \\ = 4 + 2 \\ = 4 + 4 \\ = 1 + 7 \\ = 2 + 8 \\ = 4 + 9 \end{array}$$



الواجب

**اطرح: -

$$5 = \square - 10$$

$$4 = 4 - \square$$

$$3 = \square - 8$$

$$7 = 3 - \square$$

**أكمل: - ٧٧ - ٧٦ - ٧٥ - ٧٤ - ٧٣ - ٧٢ - ٧١

**رتب تصاعدياً: -

٧ - ١ - ٦ - ١٤ - ٣ - ٢ - ٥ - ٩

**ضع علامة (<) أو (>) أو (=): -

<input type="text"/>		<input type="text"/>
٣ - ٥	<input type="text"/>	٣ + ٥
<input type="text"/>		<input type="text"/>
١ + ٤	<input type="text"/>	٣ - ٦
<input type="text"/>		<input type="text"/>
٢ - ٦	<input type="text"/>	٢ + ٢

**ضع علامة (+) أو علامة (-): -

٥ = ٤	<input type="text"/>	١
صفر = ٢	<input type="text"/>	٢
٥ = ٢	<input type="text"/>	٧
٦ = ٣	<input type="text"/>	٣

**اطرح: -

$$\begin{aligned} &= 5 - 8 \\ &= 3 - 6 \\ &= 1 - 4 \\ &= 8 - 8 \\ &= 1 - 3 \\ &= 2 - 4 \\ &= 1 - 6 \end{aligned}$$

**اجمع: -

$$\begin{aligned} &= 7 + 7 \\ &= 4 + 4 \\ &= 6 + 6 \\ &= 10 + 10 \\ &= 5 + 5 \\ &= 8 + 8 \\ &= 9 + 9 \end{aligned}$$



الحصة

**اطرح: -

$$5 = \square - 7$$

$$2 = \square - 9$$

$$3 = 3 - \square$$

$$5 = 2 - \square$$

**أكمل: -

$$89 \square \square \square 85 - 84 - 83$$

**رتب تصاعدياً: -

$$8 - 6 - 12 - 9 - 5 - 1 - 3 - 4$$

**ضع علامة (<) أو (>) أو (=): -

$$\begin{array}{ccc} \square & & \square \\ 4 - 7 & \square & 2 + 3 \\ \square & & \square \\ 3 + 6 & \square & 3 + 6 \\ \square & & \square \\ 3 - 7 & \square & 5 - 9 \end{array}$$

**ضع علامة (+) أو علامة (-): -

$$\begin{array}{ccc} 3 = 1 & \square & 4 \\ 7 = 4 & \square & 3 \\ 4 = 2 & \square & 6 \\ 6 = 1 & \square & 7 \end{array}$$

**اطرح: -

$$= 3 - 7$$

$$= 4 - 8$$

$$= 2 - 6$$

$$= 2 - 8$$

$$= 3 - 9$$

$$= 1 - 7$$

**اجمع: -

$$= 4 + 5$$

$$= 3 + 7$$

$$= 5 + 4$$

$$= 2 + 7$$

$$= 4 + 4$$

$$= 5 + 3$$

$$= 2 + 2$$



الواجب

**اطرح: -

$$5 = \square - 9$$
$$4 = \square - 6$$

$$4 = 4 - \square$$
$$3 = 5 - \square$$

**أكمل: ٩٢ ٨٨ - ٨٧ - ٨٦

**رتب تنازلياً: -

٤ - ١ - ٢ - ٦ - ١٠ - ١٥ - ٧ - ٣

**ضع علامة (<) أو (>) أو (=): -

<input type="checkbox"/>	$4 - 10$	<input type="checkbox"/>	$2 + 4$
<input type="checkbox"/>	$5 + 8$	<input type="checkbox"/>	$5 - 8$
<input type="checkbox"/>	$1 + 2$	<input type="checkbox"/>	$1 + 6$

**ضع علامة (+) أو علامة (-): -

$7 = 5$	<input type="checkbox"/>	2
$5 = 4$	<input type="checkbox"/>	1
$5 = 1$	<input type="checkbox"/>	6
$4 = 4$	<input type="checkbox"/>	8

**اطرح: -

$$= 6 - 8$$
$$= 1 - 3$$
$$= 2 - 4$$
$$= 3 - 5$$
$$= 5 - 9$$
$$= 4 - 8$$
$$= 2 - 6$$

**اجمع: -

$$= 1 + 7$$
$$= 4 + 4$$
$$= 3 + 5$$
$$= 2 + 6$$
$$= 1 + 8$$
$$= 3 + 6$$
$$= 4 + 5$$



الحصّة

**اطرح :-

$$5 = 2 - \square$$

$$9 = \square - 4$$

$$4 = 3 - \square$$

$$5 = \square - 7$$

**أكمل :-

$$60 \square \square \square 56 - 55 - 54$$

**رتب تصاعدياً :-

$$8 - 9 - 16 - 1 - 7 - 3 - 5 - 2$$

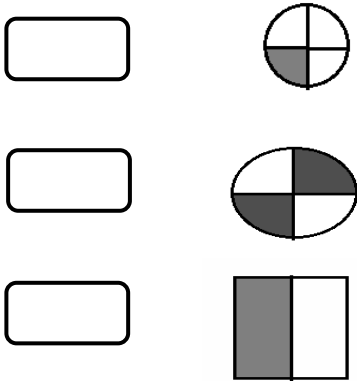
**ضع علامة (<) أو (>) أو (=) :-

$$\begin{array}{cc} \square & \square \\ 5 - 8 & 3 + 3 \\ \square & \square \\ 0 - 9 & 0 + 9 \\ \square & \square \\ 3 + 7 & 3 - 7 \end{array}$$


**ضع علامة (+) أو علامة (-) :-

$$\begin{array}{cc} 5 = 2 \square 3 \\ 2 = 5 \square 7 \\ 7 = 3 \square 4 \\ 3 = 3 \square 6 \end{array}$$

**اكتب الكسر :-



**اكتب العدد :-





الواجب

**اجمع :-

$$2 = 4 - \square$$

$$3 = 1 + \square$$

$$5 = \square - 7$$

$$4 = \square - 2$$

**أكمل :- ٣٨ - ٣٧ - ٣٦ - ٣٥ - ٣٤ - ٣٣ - ٣٢

**رتب تنازلياً :-

٧ - ١ - ٦ - ١٠ - ٩ - ٢ - ١٤ - ٥ - ٤

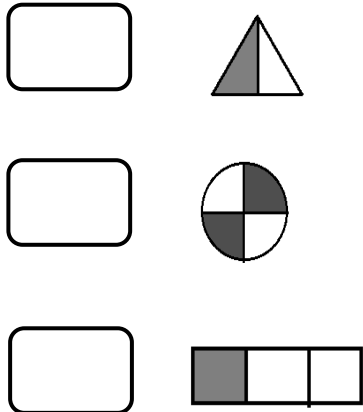
**ضع علامة (<) أو (>) أو (=) :-

$5 - 10$	<input type="text"/>	$2 + 3$	<input type="text"/>
$5 + 8$	<input type="text"/>	$5 - 8$	<input type="text"/>
$5 - 10$	<input type="text"/>	$4 + 5$	<input type="text"/>

**ضع علامة (+) أو علامة (-) :-

$6 = 3$	<input type="text"/>	٣
$3 = 5$	<input type="text"/>	٨
$4 = 2$	<input type="text"/>	٦
$4 = 1$	<input type="text"/>	٥

**اكتب الكسر :-



**اكتب العدد :-

<input type="text"/>	ثلاثة
<input type="text"/>	تسعة
<input type="text"/>	أربعة



الحصّة

** اجمع: -

$$٤ = ٣ - \square$$

$$٥ = ١ - \square$$

$$٤ = ٣ + \square$$

$$٥ = \square + ٣$$

** أكمل: -

$$٤٢ \square \square \square ٣٨ - ٣٧ - ٣٦$$

** رتب تنازلياً: -

$$١٠ - ٦ - ٤ - ١ - ٩ - ١٣ - ٥ - ٧$$


** ضع علامة (<) أو (>) أو (=): -


$$\begin{array}{cc} \square & \square \\ ٣ - ٧ & ٣ + ٣ \\ \square & \square \\ ٠ - ٨ & ٠ + ٨ \\ \frac{١}{٢} & \frac{٢}{٤} \end{array}$$


** ضع علامة (+) أو علامة (-): -

$$\begin{array}{cc} ٥ = ٢ \square ٣ \\ ٢ = ٥ \square ٧ \\ ٧ = ٣ \square ٤ \\ ٣ = ٣ \square ٦ \end{array}$$

** اكتب الكسر: -







** اكتب العدد: -

سبعة

اثنان

تسعة

خمسة



الواجب

**اطرح :-

$$٤ = \square - ٧$$

$$٥ = \square - ٧$$

**اجمع :-

$$٨ = ٤ + \square$$

$$٥ = ١ + \square$$

**أكمل :- ٤٩ - ٤٨ - ٤٧ - ٤٦ - ٤٥ - ٤٤ - ٤٣

**رتب تنازلياً :-

٨ - ١١ - ٤ - ٩ - ٢ - ١ - ٧ - ٣ - ٥

**ضع علامة (<) أو (>) أو (=) :-

$\square + ٣$	<input type="text"/>	$\square - ٧$
$\square + ٩$	<input type="text"/>	$\square - ٩$
$\square - ٨$	<input type="text"/>	$\square + ٣$

**ضع علامة (+) أو علامة (-) :-

$٦ = ٣ \square ٣$
$٧ = ٥ \square ٢$
صفر = $٨ \square ٨$
$٤ = ٥ \square ٩$

**اكتب الكسر :-

<input type="text"/>	
<input type="text"/>	
<input type="text"/>	

**اكتب العدد :-

<input type="text"/>	واحد
<input type="text"/>	عشرة
<input type="text"/>	خمسة
<input type="text"/>	اثان



الحصّة

**- أكمل :-

$$3 = \square - 9$$

$$7 = 3 + \square$$

$$4 = 2 - \square$$

$$5 = \square + 3$$

**- أكمل :-

$$42 \square \square \square 38 - 37 - 36$$

**- رتب تصاعدياً :-

$$8 - 1 - 6 - 2 - 9 - 11 - 5 - 7 - 4$$

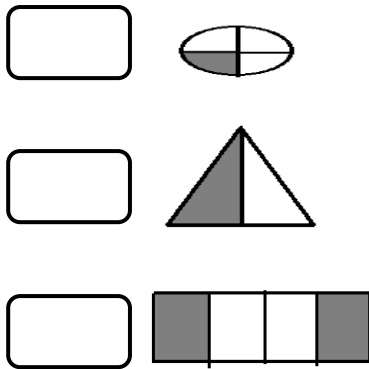
**- ضع علامة (<) أو (>) أو (=) :-

$\square + 7$	\square	$3 + 2$
$\square - 9$	\square	$0 + 9$
$3 - 6$	\square	$3 + 6$

**- ضع علامة (+) أو علامة (-)

$5 = 3$	\square	8
صفر = 7	\square	7
$4 = 1$	\square	5
$6 = 3$	\square	3

**- اكتب الكسر :-



**- اكتب العدد :-

<input type="checkbox"/>	واحد
<input type="checkbox"/>	اثنان
<input type="checkbox"/>	اربعة
<input type="checkbox"/>	خمسة



الواجب

**أكمل:-

$$8 = \square + 3$$

$$5 = \square + 7$$

$$3 = \square - 7$$

$$6 = 3 - \square$$

**أكمل:- ٤٩ - ٤٨ - ٤٧ - ٤٦ - ٤٥

**رتب تنازلياً:-

٤ - ٦ - ١ - ٧ - ١٢ - ٩ - ٥ - ٣

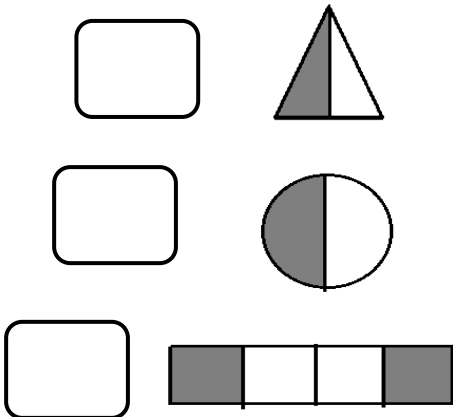
**ضع علامة (<) أو (>) أو (=):-

<input type="checkbox"/>	$3 + 6$	<input type="checkbox"/>	$3 + 3$
<input type="checkbox"/>	$3 + 4$	<input type="checkbox"/>	$5 - 1$
<input type="checkbox"/>	$2 - 6$	<input type="checkbox"/>	$5 - 9$

**ضع علامة (+) أو علامة (-):-

$5 = 3$	<input type="checkbox"/>	8
صفر = ٧	<input type="checkbox"/>	7
$4 = 1$	<input type="checkbox"/>	5
$6 = 3$	<input type="checkbox"/>	3

**اكتب الكسر:-



**اكتب العدد:-

<input type="checkbox"/>	أربعة
<input type="checkbox"/>	سنة
<input type="checkbox"/>	واحد
<input type="checkbox"/>	خمسة



الحصّة

$$٤ = ٥ - \square$$

$$٦ = ٣ + \square$$

$$١ = \square - ٧$$

$$٧ = \square + ٣$$

**- أكمل: -

$$٥٢ \square \square \square ٤٨ - ٤٧ - ٤٦$$

**- مع احمد (١٠) جنية، اشترى ساعة (٨) جنية، فكم تبقي مع أحمد؟

$$\text{البقي} = \square - \square = \square \text{ جنية}$$

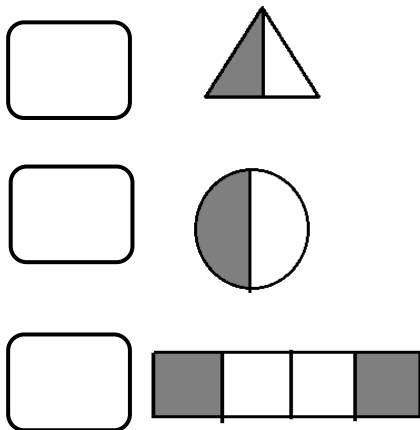
**- ضع علامة (<) أو (>) أو (=):

\square	\square
$٤ - ٩$	$٣ + ٤$
\square	\square
$٠ - ٦$	$٠ + ٦$
\square	\square
$٤ - ٨$	$٤ + ٨$

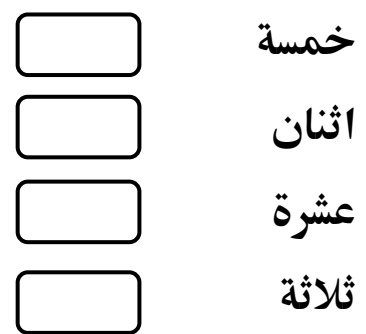
**- ضع علامة (+) أو علامة (-):

$٧ = ٤$	\square	٣
$٤ = ٢$	\square	٢
$٣ = ٥$	\square	٨
صفر = ٦	\square	٦

**- اكتب الكسر: -



**- اكتب العدد: -





الواجب

★★ أكمل: - ٥٧ - ٥٨ - ٥٩ □ □ □ ٦٣

★★ اشترى محمود كشكول (٧) جنية ، وقلم (٢) جنية ، فكم دفع محمود ؟

مادفعه محمود = □ - □ = □ جنية

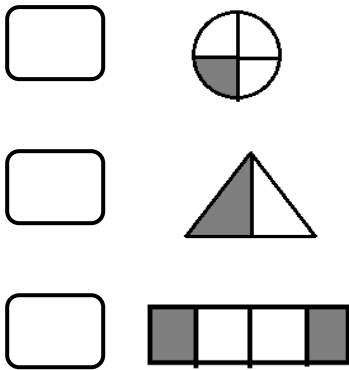
★★ ضع علامة (<) أو (>) أو (=) :-

$\square + 9$	\square	$3 + 9$
$3 + 8$	\square	$5 - 8$
$\frac{1}{2}$	\square	$\frac{2}{4}$

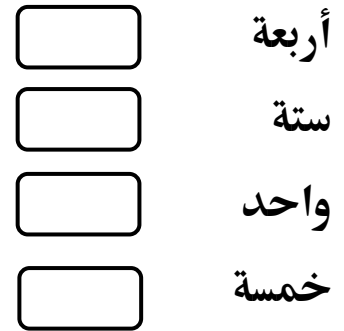
★★ ضع علامة (+) أو علامة (-) :-

$8 = 6$	\square	٢
$5 = 1$	\square	٤
$6 = 3$	\square	٩
$2 = 1$	\square	٣

★★ اكتب الكسر :-



★★ اكتب العدد :-





الحصّة

**أكمل : - ٥٦ - ٥٧ - ٥٨ □ □ □ ٦٢

**رتب تنازلياً :-

٤ - ١٠ - ٨ - ١ - ٧ - ١٢ - ٥ - ٦ - ٣

□ □ □ □ □ □ □ □ □ □

**ضع علامة (<) أو (>) أو (=) :-

□ □
٣ - ٩ □ ٣ + ٣ □
□ □
٢ + ٣ □ ١ - ٥ □
□ □
١ - ٤ □ ١ - ٢ □

**ضع علامة (+) أو علامة (-) :-

٧ = ٤ □ ٣
صفر = ٨ □ ٨
٥ = ٣ □ ٢
٥ = ٤ □ ٩

**ضع العدد السابق والعدد التالي :-

← ٣٥ →
← ٤٥ →
← ٥٥ →
← ٦٥ →

**اكتب العدد :-

□ واحد
□ اثنان
□ اربعة
□ خمسة



الواجب

**أكمل:- ٦٣ - ٦٤ - ٦٥ - ٦٦ - ٦٧ - ٦٨ - ٦٩

**رتب تصاعدياً:-

٩ - ٤ - ٦ - ٣ - ١١ - ٥ - ٢ - ٧

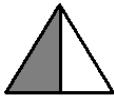
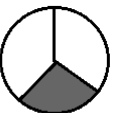
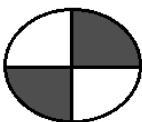
**ضع علامة (<) أو (>) أو (=): -

٦ + ٥ ٤ + ١
٣ - ٨ ٣ + ٨
 $\frac{1}{2}$ $\frac{1}{3}$

**ضع علامة (+) أو علامة (-): -

٥ = ٥ ٠
٥ = ٢ ٧
٦ = ٣ ٣
٤ = ٤ ٨

**اكتب الكسر:-

**اكتب العدد:-

اثنان
 واحد
 ثمانية
 أربعة



الحصة

**اجمع:-

$\begin{array}{r} 3 \\ + 2 \\ \hline \end{array}$	$\begin{array}{r} 8 \\ + 0 \\ \hline \end{array}$	$\begin{array}{r} 8 \\ + 3 \\ \hline \end{array}$	$\begin{array}{r} 7 \\ + 0 \\ \hline \end{array}$
---	---	---	---

**أكمل:- ٢٤ ٢٠ - ١٩ - ١٨

**رتب تنازلياً:-

١٠ - ٦ - ١ - صفر - ٩ - ١٤ - ٧ - ٣ - ٥

**اجمع:-

$$= 4 - 7$$

$$= 5 + 8$$

**اطرح:-

$$= 4 - 7$$

$$= 1 - 8$$

**ضع علامة (<) أو (>) أو (=):-

$$15 \quad \square \quad 9$$

$$7 \quad \square \quad 7$$

$$3 \quad \square \quad 10$$

$$4 \quad \square \quad 8$$

**عد الحروف:-

سماح

حين

سجد

عامر

**ضع العدد السابق والعدد التالي:-

$$\leftarrow 24 \rightarrow$$

$$\leftarrow 36 \rightarrow$$

$$\leftarrow 48 \rightarrow$$

$$\leftarrow 56 \rightarrow$$

$$\leftarrow 28 \rightarrow$$

**اكتب العدد:-

ستة

اثنان

اربعة

خمسة



الواجب

** اجمع: -

٥ ٢ +	٢ ٢ +	٧ ٠ +	٩ ٠ +	٤ ٣ +
----------	----------	----------	----------	----------

** أكمل: - ٢٧ - ٢٨ - ٢٩ ٣٣

** رتب تصاعدياً: -

٤ - ٦ - ١٢ - ٣ - ٩ - ٧ - ١ - ١٥ - ٨ - ٢

** ضع علامة (<) أو (>) أو (=): -

٧ ٣
٩ ١٨
١٦ ١٦

** اجمع: -

= ٤ + ٧
= ٥ + ٨
= ٤ + ٩
= ٣ + ٦

** اكتب عدد الحروف: -

سماح
 هاجر
 نور

** اكتب العدد: -

ثلاثة
 سبعة
 تسعة



الحصّة

**- اجمع :-

5 3+	7 4+	9 5+	6 4+
---------	---------	---------	---------

**- أكمل :- 39 - 38 - 37 - 36

**- رتب تصاعدياً :-

3 - 10 - 4 - 6 - 1 - 8 - 12 - 9 - 7 - 5

**- ضع علامة (<) أو (>) أو (=) :-

9		13
8		8
7		5
12		10

**- اجمع :-

= 7 + 9
= 9 + 8
= 4 + 4
= 1 + 2

**- ضع العدد السابق والعدد التالي :-

← 5 →
← 25 →
← 35 →
← 45 →
← 55 →
← 65 →

**- عد الحروف :-

	عشرة
	واحد
	خمسة
	سبعة

**- اكتب العدد :-

	ثلاثة
	عشرة
	روان



الواجب

** اجمع: -

٣ ٠ + _____	٨ ٦ + _____	٦ ٥ + _____	٥ ٤ + _____	٩ ٢ + _____
-------------------	-------------------	-------------------	-------------------	-------------------

** أكمل: - ٥٠ - ٥١ - ٥٢ ٥٦

** رتب تنازلياً: -

٣ - ٩ - ١ - ١٥ - ١٧ - ٨ - ٦ - ٤ - ٥

** ضع علامة (<) أو (>) أو (=): -

١٢	<input type="text"/>	١٣
٩	<input type="text"/>	٩
١٠	<input type="text"/>	٨
١٤	<input type="text"/>	١٥

** اجمع: -

= ٣ + ٣
= ٣ + ٤
= ٠ + ٨
= ١ + ٥

** اكتب عدد الحروف: -

<input type="text"/>	سعيد
<input type="text"/>	رقية
<input type="text"/>	روان
<input type="text"/>	أمينة

** اكتب العدد: -

<input type="text"/>	سبعة
<input type="text"/>	اثنان
<input type="text"/>	تسعة
<input type="text"/>	أربعة



الحصّة

**اجمع :-

٨ + ٠	٩ + ٥	٦ + ٢	٥ + ٤
-------------	-------------	-------------	-------------

**أكمل :- ٤٠ - ٣٩ - ٣٨ - ٣٧ - ٣٦ - ٣٥

**رتب تصاعدياً :-

٢ - ٨ - ٦ - ١٤ - ١١ - ٧ - ٣ - ٩ - ٥

**ضع علامة (<) أو (>) أو (=) :-

٧	<input type="text"/>	١
١٥	<input type="text"/>	١٨
٣	<input type="text"/>	٩
١٦	<input type="text"/>	١٢

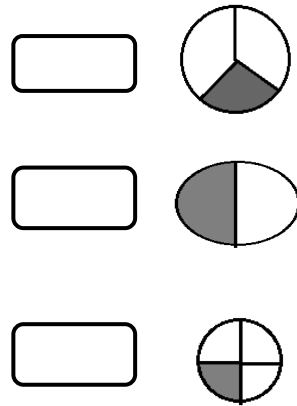
**ما عدد الحروف :-

<input type="text"/>	ماهر
<input type="text"/>	اسمه
<input type="text"/>	نبيل

**ضع العدد السابق والعدد التالي :-

←	٤٧	→
←	١٧	→
←	٢٧	→
←	٣٧	→
←	٥٧	→
←	٦٧	→
←	٧٧	→

**اكتب الكسر :-





الواجب

**اجمع:-

$\begin{array}{r} 6 \\ + 0 \\ \hline \end{array}$	$\begin{array}{r} 7 \\ + 5 \\ \hline \end{array}$	$\begin{array}{r} 9 \\ + 2 \\ \hline \end{array}$	$\begin{array}{r} 6 \\ + 5 \\ \hline \end{array}$	$\begin{array}{r} 8 \\ + 4 \\ \hline \end{array}$
---	---	---	---	---

**أكمل:- ٤٨ - ٤٧ - ٤٦ - ٤٥

**رتب تنازلياً:-

٦ - ١٠ - ٤ - ٥ - ٨ - ١٢ - ١٩ - ٧ - ٣

**ضع علامة (<) أو (>) أو (=): -

١٨	<input type="text"/>	١٣
١٥	<input type="text"/>	١٥
٩	<input type="text"/>	١٢
٧	<input type="text"/>	٦

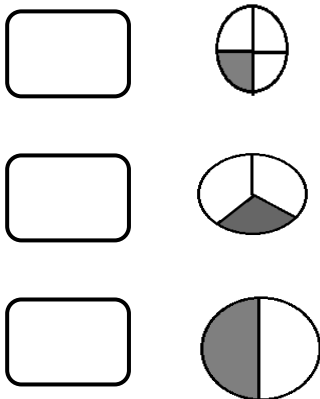
**ما عدد الحروف:-

أنا

أحب

جاري

**اكتب الكسر:-



**اكتب العدد:-

ثلاثة

تسعة

ثمانية

اثنان



الحصّة

**اجمع :-

٨ ٠ + _____	٧ ٥ + _____	٩ ٤ + _____	٦ ٣ + _____
-------------------	-------------------	-------------------	-------------------

**أكمل :-

٤٢ ٣٨ - ٣٧ - ٣٦

**رتب تنازلياً :-

١٠ - ٨ - ١٢ - ٤ - ١ - ١٦ - ٣ - ١٩ - ٧ - ٥

**اشترى احمد كتاب (٧) جنية ، وقلم (٣) جنية ، ما دفع أحمد ؟

مادفة أحمد = + = جنية




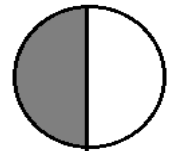
**ضع علامة (<) أو (>) أو (=) :-

١٥	<input type="text"/>	١٣	<input type="text"/>
<input type="text"/>	١٠	١ + ٦	<input type="text"/>
٢ + ٣	<input type="text"/>	٧	<input type="text"/>

**اكتب العدد :-

<input type="text"/>	ثلاثة
<input type="text"/>	أربعة
<input type="text"/>	سنة

**اكتب الكسر :-





الواجب

**اطرح:-

٢	٧	٧	٨	٨
٠ -	١ -	٤ -	٢ -	٢ -

**أكمل:- ٤٧ - ٤٨ - ٤٩ ٥٣

**رتب تصاعدياً:-

١٢ - ٢ - ٧ - ٤ - ١٠ - ١٥ - ٩ - ٣ - ٦

<input type="checkbox"/>	<input type="checkbox"/>	<input type="checkbox"/>	<input type="checkbox"/>	<input type="checkbox"/>	<input type="checkbox"/>	<input type="checkbox"/>	<input type="checkbox"/>
--------------------------	--------------------------	--------------------------	--------------------------	--------------------------	--------------------------	--------------------------	--------------------------

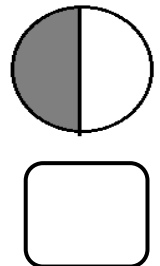
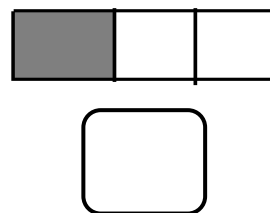
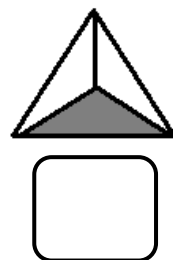
**اشترى أحمد لعبة (٥) جنية ، ومسدس (٣) جنيهات ، فكم دفع أحمد؟

مادفعه أحمد = + = جنية

**ضع علامة (<) أو (>) أو (=):

<input type="checkbox"/>	سبعة	<input type="checkbox"/>	٨ + ٦	<input type="checkbox"/>	٢
<input type="checkbox"/>	واحد	<input type="checkbox"/>	٥ + ١	<input type="checkbox"/>	٤
<input type="checkbox"/>	تسعة	<input type="checkbox"/>	٦ + ٣	<input type="checkbox"/>	٩
<input type="checkbox"/>	ثلاثة	<input type="checkbox"/>	٢ + ١	<input type="checkbox"/>	٣

**اكتب الكسر:-





الحصة

**اجمع: -

$\begin{array}{r} 6 \\ 5 + \\ \hline \end{array}$	$\begin{array}{r} 7 \\ 0 + \\ \hline \end{array}$	$\begin{array}{r} 9 \\ 2 + \\ \hline \end{array}$	$\begin{array}{r} 7 \\ 4 + \\ \hline \end{array}$
---	---	---	---

**أكمل: -

٥٥ ٥١ - ٥٠ - ٤٩

**رتب تصاعدياً: -

٦ - ١ - ٥ - ٣ - ١٠ - ١٢ - ١٧ - ٨ - ٩

**اشترى زياد ساعة (٩) جنيهاً، و حزام (٥) جنيهاً، ما دفع زياد؟

مادفعة زياد = + = جنية

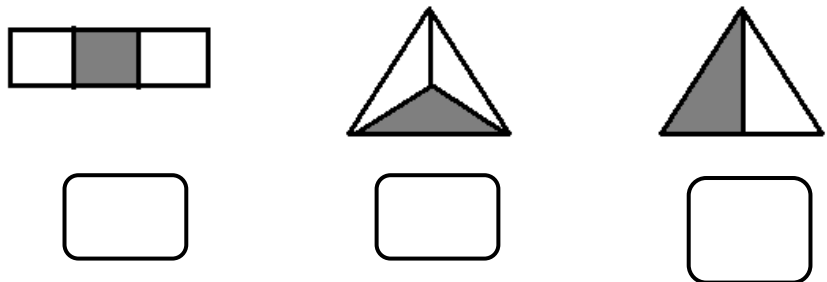
**ضع علامة (<) أو (>) أو (=): -

$\begin{array}{r} 7 \\ \square \end{array}$	$\begin{array}{r} 1 + 3 \\ \square \end{array}$	$\begin{array}{r} \square \end{array}$
$\begin{array}{r} 1 + 3 \\ \square \end{array}$	$\begin{array}{r} 1 + 6 \\ \square \end{array}$	$\begin{array}{r} \square \end{array}$
$\begin{array}{r} 2 + 3 \\ \square \end{array}$	$\begin{array}{r} 9 \\ \square \end{array}$	$\begin{array}{r} \square \end{array}$

**اكتب العدد: -

ستة
 أربعة
 واحد

**اكتب الكسر: -





الواجب

**اجمع: -

٨ ٤ + _____	٦ ٣ + _____	٩ ٠ + _____	٨ ٢ + _____	٧ ٥ + _____
-------------------	-------------------	-------------------	-------------------	-------------------

**أكمل: - ٢٩ - ٣٠ - ٣١ ٣٥

**رتب تنازلياً: -

٤ - ٨ - ٢ - ٩ - ١٣ - ٣ - ١٦ - ٧ - ٥

**اشترى محمود كرة (٨) جنيهات ، وقلم (٤) جنيهات ، فكم دفع محمود ؟

مادفعه محمود = + = جنيهات

**اكتب العدد: -

ثمانية

سبعة

تسعة

**ضع علامة (<) أو (>) أو (=): -

١ + ٤ ٥
 ٢ + ٣ ٤
 ٣ + ٥ ٦

**اكتب الكسر: -





الحصّة

**- اجمع :-

$\begin{array}{r} 6 \\ + \\ \hline \end{array}$	$\begin{array}{r} 9 \\ + \\ \hline \end{array}$	$\begin{array}{r} 7 \\ + \\ \hline \end{array}$	$\begin{array}{r} 6 \\ + \\ \hline \end{array}$
---	---	---	---

**- أكمل :-

٦٤ ٦٠ - ٥٩ - ٥٨

**- رتب تصاعدياً :-

٤ - ٦ - ٨ - ١٢ - ٩ - ١ - ١٥ - ٧ - ٣

**- اشترى أحمد طائرة (٨) جنيهات، وكرة (٤) جنيهات، ما دفع أحمد؟

مادفة أحمد = + = جنية

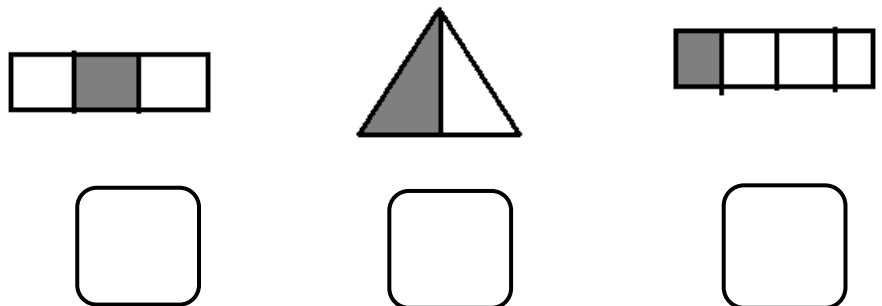
**- ضع علامة (<) أو (>) أو (=) :-

$\begin{array}{r} 9 \\ \square \end{array}$	$\begin{array}{r} 2 + 3 \\ \square \end{array}$
$\begin{array}{r} 3 + 4 \\ \square \end{array}$	$\begin{array}{r} 7 \\ \square \end{array}$
$\begin{array}{r} 0 + 6 \\ \square \end{array}$	$\begin{array}{r} 9 \\ \square \end{array}$

**- اكتب العدد :-

ستة
 واحد
 سبعة

**- اكتب الكسر :-





الواجب

**اجمع :-

$\begin{array}{r} 7 \\ 2+ \end{array}$	$\begin{array}{r} 6 \\ 0+ \end{array}$	$\begin{array}{r} 9 \\ 4+ \end{array}$	$\begin{array}{r} 8 \\ 6+ \end{array}$	$\begin{array}{r} 7 \\ 3+ \end{array}$
--	--	--	--	--

**أكمل :- ٦٩ ٦٥ - ٦٤ - ٦٣

**رتب تنازلياً :-

١٠ - ٥ - ١ - ٨ - ٤ - ١٧ - ١٢ - ٩ - ٣ - ٦

**اشترت ياسمين كتاب (٩) جنية ، وكشكول (٥) جنية ، فكم دفعت ياسمين ؟

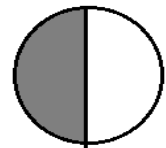
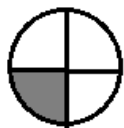
مادفعته ياسمين = + = جنية

**ضع علامة (<) أو (>) أو (=) :-

ثمانية
 أربعة
 خمسة

$1 + 3$
 $0 + 7$
 $9 + 8$
 4
 10

**اكتب الكسر :-





الحصة

**- اجمع :-

$\begin{array}{r} 7 \\ 5 + \\ \hline \end{array}$	$\begin{array}{r} 7 \\ 0 + \\ \hline \end{array}$	$\begin{array}{r} 9 \\ 4 + \\ \hline \end{array}$	$\begin{array}{r} 6 \\ 3 + \\ \hline \end{array}$
---	---	---	---

**- أكمل :-

79 75 - 74 - 73

**- رتب تنازلياً :-

2 - 1 - 6 - 7 - 10 - 13 - 9 - 5 - 4

**- اشترت رقية عروسة (8) جنيهاً ، وتوكة (3) جنيهاً ، ما دفعت رقية ؟

مادفعته رقية = + = جنية

**- ضع علامة (<) أو (>) أو (=) :-

$\begin{array}{r} 9 \\ \square \\ \hline \end{array}$	<input type="text"/>	$5 + 2$	<input type="text"/>
$4 + 2$	<input type="text"/>	$3 + 3$	<input type="text"/>
$2 + 3$	<input type="text"/>	7	<input type="text"/>

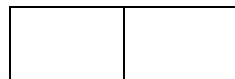
**- اكتب العدد :-

ثلاثة


خمسة

سنة

**- ظلل الكسر :-



$$\frac{1}{2}$$



$$\frac{1}{3}$$



الواجب

**اجمع :-

٨ ٠ +	٦ ٣ +	٩ ٤ +	٨ ٥ +	٧ ٣ +
----------	----------	----------	----------	----------

**أكمل: ٧٤ □ □ □ ٧٠ - ٦٩ - ٦٨

**رتب تصاعدياً :-

٦ - ١٠ - ٩ - ١٢ - ٥ - ٢ - ١٨ - ٧ - ٣
□ □ □ □ □ □ □ □

**اشترى زياد مسدس (١٠) جنيهات ، وكرة (٤) جنيهات ، فكم دفع زياد ؟

مادفعه زياد = □ + □ = □ جنيه

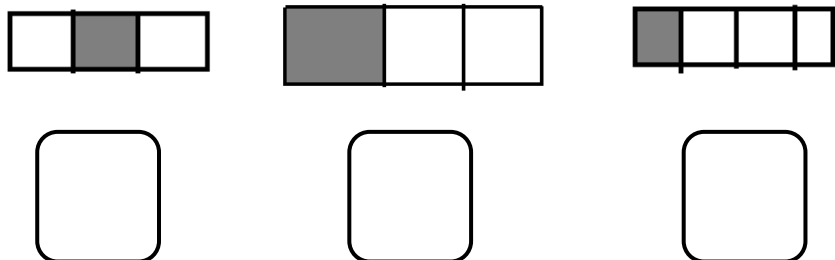
**اكتب العدد :-

□ ثمانية
□ عشرة
□ أربعة

**ضع علامة (<) أو (>) أو (=) :-

□
٦ □ ٥ + ٤
□ □
٤ + ٤ □ ٠ + ٨
□ □
٤ + ٣ □ ١٠

**اكتب الكسر :-





الحصّة

**اجمع: -

$\begin{array}{r} 6 \\ + \\ \hline \end{array}$	$\begin{array}{r} 7 \\ + \\ \hline \end{array}$	$\begin{array}{r} 8 \\ + \\ \hline \end{array}$	$\begin{array}{r} 6 \\ + \\ \hline \end{array}$
---	---	---	---

**أكمل: -

٦٤ ٦٠ - ٥٩ - ٥٨

**رتب تصاعدياً: -

٢ - ٦ - ٤ - ١ - ٩ - ١٠ - ١٥ - ٧ - ٣

**اشترى عمر كتاب (١٠) جنيهاً، وساعة (٧) جنيهاً، ما دفع عمر؟

مدفعه عمر = + = جنية

**ضع علامة (<) أو (>) أو (=): -

$\begin{array}{r} 9 \\ \square \end{array}$	$\begin{array}{r} 2 + 3 \\ \square \end{array}$
$\begin{array}{r} 5 + 3 \\ \square \end{array}$	$\begin{array}{r} 8 \\ \square \end{array}$
$\begin{array}{r} 2 + 4 \\ \square \end{array}$	$\begin{array}{r} 0 + 7 \\ \square \end{array}$

**اكتب العدد: -

ستة


واحد

اثنان

**ظلّل الكسر: -



$\frac{1}{3}$



$\frac{1}{2}$



الواجب

**اجمع:-

$\begin{array}{r} 7 \\ 4 + \\ \hline \end{array}$	$\begin{array}{r} 9 \\ 0 + \\ \hline \end{array}$	$\begin{array}{r} 6 \\ 3 + \\ \hline \end{array}$	$\begin{array}{r} 8 \\ 5 + \\ \hline \end{array}$	$\begin{array}{r} 7 \\ 2 + \\ \hline \end{array}$
---	---	---	---	---

**أكمل:- ٤٢ ٣٨ - ٣٧ - ٣٦

**رتب تنازلياً:-

٧ - ٣ - ٨ - ١٢ - ١ - ٩ - ٤ - ٥ - ٦

**اشترى أحمد لعبة (٨) جنيهات، وطائرة (٥) جنيهات، فكم دفع أحمد؟

مادفعه أحمد = + = جنيه

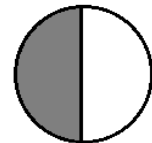
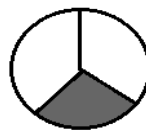
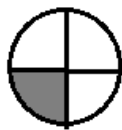
**اكتب العدد:-

ثمانية
 عشرة
 ستة

**ضع علامة (<) أو (>) أو (=):-

$3 + 5$ $0 + 6$
 $6 + 6$ $0 + 9$
 $3 + 4$ 10

**اكتب الكسر:-





الحصّة

**اجمع: -

$\begin{array}{r} 9 \\ + \\ \hline \end{array}$	$\begin{array}{r} 8 \\ + \\ \hline \end{array}$	$\begin{array}{r} 8 \\ + 5 \\ \hline \end{array}$	$\begin{array}{r} 9 \\ + 4 \\ \hline \end{array}$
---	---	---	---

**أكمل: -

٤٧ ٤٣ - ٤٢ - ٤١

**رتب تصاعدياً: -

٢ - ١ - ٦ - ٩ - ٨ - ١٧ - ٣ - ١١ - ٥ - ٤

**اشترى شريهان عروسة (١٠) جنيهات، وتوكة (٤) جنيهات، ما دفعت شريهان؟

مادفعه شريهان = + = جنية

**ضع علامة (<) أو (>) أو (=): -

<input type="text"/>	$10 + 10$	<input type="text"/>	$3 + 7$	<input type="text"/>
<input type="text"/>	9	<input type="text"/>	$5 + 8$	<input type="text"/>
<input type="text"/>	$2 + 3$	<input type="text"/>	$0 + 6$	<input type="text"/>

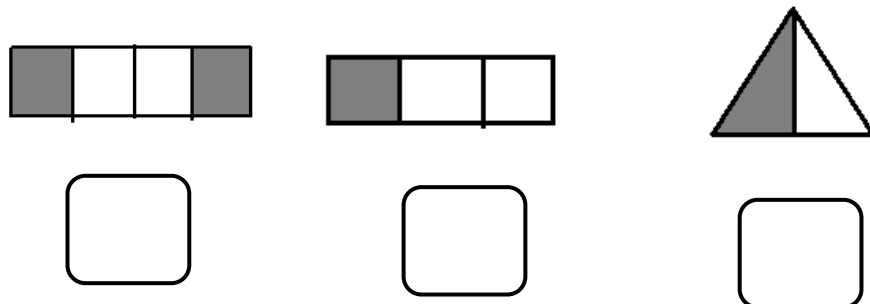
**اكتب العدد: -

خمسة

واحد

تسعة

**اكتب الكسر: -





الواجب

**اجمع:-

$\begin{array}{r} 8 \\ + \\ \hline \end{array}$	$\begin{array}{r} 6 \\ + \\ \hline \end{array}$	$\begin{array}{r} 9 \\ + \\ \hline \end{array}$	$\begin{array}{r} 7 \\ + \\ \hline \end{array}$	$\begin{array}{r} 8 \\ + \\ \hline \end{array}$
---	---	---	---	---

**أكمل:- ٤١ □ □ □ ٣٧ - ٣٦ - ٣٥

**رتب تنازلياً:-

٧ - ٢ - ٩ - ١٠ - ٨ - ١٤ - ٦ - ٣ - ٥

□ □ □ □ □ □ □ □

**اشترى عمرو طائرة (٩) جنيهات ، وزمارة (٥) جنيهات ، فكم دفع عمرو ؟

مدفعه عمرو = □ + □ = □ جنيه

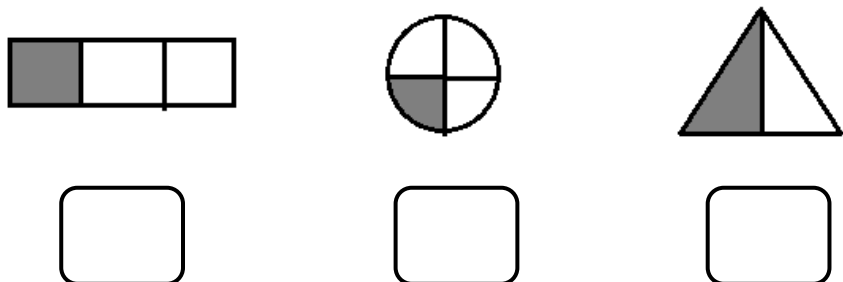
**اكتب العدد:-

□ ثلاثة
□ ثمانية
□ خمسة

**ضع علامة (<) أو (>) أو (=):

□ ٢ + ٤ □ ٣ + ٥
□ ٢ + ٣ □ ٠ + ٥
□ ٤ + ٦ □ ١١

**اكتب الكسر:-





الحصّة

**اجمع: -

5 $0 +$	8 $4 +$	9 $0 +$	6 $3 +$
--------------	--------------	--------------	--------------

**أكمل: -

57 53 - 52 - 51

**رتب تصاعدياً: -

8 - 10 - 9 - 7 - 6 - 3 - 14 - 5 - 2

**اشترى محمود كتاب (10) جنيهاً، وكراسة (4) جنيهاً، ما دفعت محمود؟

مادفعه محمود = + = جنية

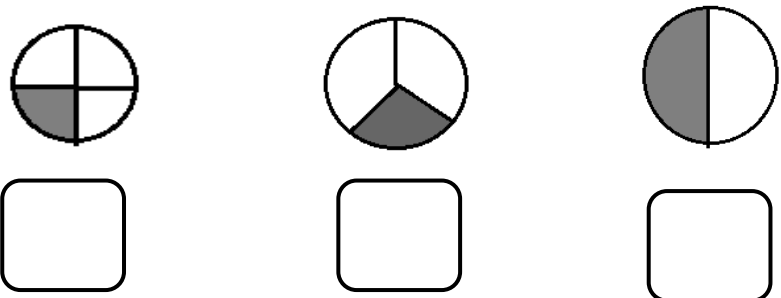
**ضع علامة (<) أو (>) أو (=): -

<input type="text"/>	7	<input type="text"/>	4 + 2	<input type="text"/>
<input type="text"/>	3 + 6	<input type="text"/>	5 + 8	<input type="text"/>
<input type="text"/>	3 + 5	<input type="text"/>	10	<input type="text"/>

**اكتب العدد: -

ثلاثة
 أربعة
 خمسة

**اكتب الكسر: -





الواجب

**اجمع: -

$\begin{array}{r} 6 \\ + 0 \\ \hline \end{array}$	$\begin{array}{r} 9 \\ + 2 \\ \hline \end{array}$	$\begin{array}{r} 5 \\ + 4 \\ \hline \end{array}$	$\begin{array}{r} 7 \\ + 7 \\ \hline \end{array}$	$\begin{array}{r} 8 \\ + 6 \\ \hline \end{array}$
---	---	---	---	---

**أكمل: - ٦٥ □ □ □ ٦١ - ٦٠ - ٥٩

**رتب تنازلياً: -

٦ - ٣ - ١ - ٨ - ١٧ - ١١ - ٩ - ٥ - ٤

□ □ □ □ □ □ □ □

**اشترى زياد ساعة (٩) جنيهات، وحزام (٥) جنيهات، فكم دفع زياد؟

مادفعه زياد = □ + □ = □ جنيهه

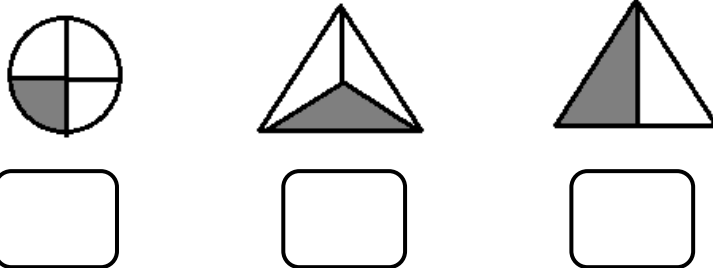
**اكتب العدد: -

□ سبعة
□ اثنان
□ عشرة

**ضع علامة (<) أو (>) أو (=): -

□ □
□ ٤ + ٤ □ ٢ + ٦ □
□ □
□ ٢ + ٣ □ ٩ □
□ □
□ ٤ + ٦ □ ٧ □

**اكتب الكسر: -





الحصّة

**اكتب العدد السابق والتالي: -

← ٢٢ →

← ٣٨ →

← ٤٨ →

← ٢٣ →

← ٢٥ →

← ٤٦ →

**أكمل: - ٨٥ - ٨٤ - ٨٣ - ٨٢ □ □ □

**رتب تنازلياً: -

٧ - ١٠ - ١ - ٦ - ١٩ - ٥ - ١٢ - ٣

□ □ □ □ □ □ □ □

**اشترت هاجر ساعة (٨) جنيه ، وتوكّة (٤) جنيه ، ما دفعت هاجر؟

مادفعته هاجر = □ + □ = □ جنيه

**ضع علامة (<) أو (>) أو (=): -

$\frac{1}{2}$ □ ١

$\frac{1}{2}$ □ $\frac{2}{4}$

$\frac{1}{2}$ □ $\frac{1}{3}$

**اكتب العدد السابق: -

٣٥ →

٤٦ →

٤٨ →

٥٧ →

٥٩ →

**اكتب الكسر: -

□ □ □

□ □ □

□ □ □

□

□

□



الواجب

**اجمع :-

= ٠ + ٨

= ٥ + ٦

= ٤ + ٥

= ٧ + ٧

**أكمل :- ٣٨ ٣٤ - ٣٣ - ٣٢

**رتب تصاعدياً :-

٦ - ٤ - ٨ - ١ - ١٠ - ٧ - ١٢ - ٣ - ٥

**اشترت هالة ساعة (١٠) جنيهاً، وعروسة (٧) جنيهاً، فكم دفعت هالة ؟

مادفعته هالة = + = جنيه

**ضع علامة (<) أو (>) أو (=) :-

$\frac{1}{2}$ $\frac{1}{3}$

$\frac{1}{2}$ $\frac{2}{4}$

١ $\frac{1}{3}$

**اكتب العدد السابق :-

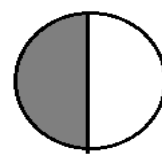
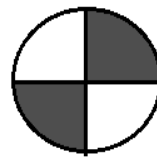
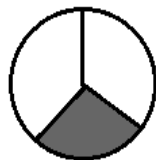
٤٧ →

٥٩ →

٤٩ →

٦٥ →

**اكتب الكسر :-





الحصة

** اكتب العدد التالي :-

← ٣٥

← ٤٦

← ٥٧

← ٦٨

** اكتب العدد السابق :-

١٦ →

١٧ →

٣٥ →

٣٤ →

** أكمل :- ٨٥ - ٨٤ - ٨٣ - ٨٢ - ٨١

** رتب تنازلياً :-

٧ - ١٠ - ٦ - ١ - ١٩ - ٥ - ١٢ - ٣

□ □ □ □ □ □ □ □

** اشترت روان ساعة (٨) جنيه ، وتوكة (٤) جنيه ، ما دفعت روان ؟

مادفعته روان = □ + □ = □ جنيه

** ضع علامة (<) أو (>) أو (=) :-

$\frac{1}{2}$ □ $\frac{1}{3}$

$\frac{1}{2}$ □ $\frac{2}{4}$

$\frac{1}{2}$ □ $\frac{1}{3}$

** اكتب العددين السابق والتالي :-

← ٣٥ →

← ٤٥ →

← ٥٥ →

← ٦٥ →

← ٧٥ →

← ٨٥ →

← ٩٥ →

** اكتب الكسر :-

□ □ □

□ □ □

□ □ □

□

□

□



الواجب

** اوجد الناتج :-

$$= 5 - 6$$

$$= 2 - 7$$

$$= 3 - 8$$

$$= 4 - 9$$

$$= 7 + 7$$

$$= 4 + 8$$

$$= 3 + 10$$

$$= 0 + 5$$

** أكمل :- ٣٨ □ □ □ ٣٤ - ٣٣ - ٣٢

** رتب تصاعدياً :-

٦ - ٤ - ٨ - ١ - ١٠ - ٧ - ١٢ - ٣ - ٥

□ □ □ □ □ □ □ □

** اشترى عمر مسدس (١٠) جنيهاً، وكرة (٦) جنيهاً، فكم دفع عمر ؟

مدفعه عمر = □ + □ = □ جنيه

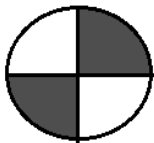
** ضع علامة (<) أو (>) أو (=) :-

$\frac{1}{2}$ □ $\frac{1}{4}$
 $\frac{1}{3}$ □ ١
 $\frac{1}{2}$ □ $\frac{1}{2}$

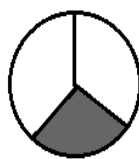
** اكتب العدد :-

ثمانية □
خمسة □
ثلاثة □

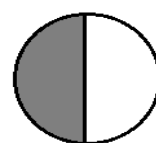
** اكتب الكسر :-



□



□



□



الحصة

** اكتب العدد السابق: -

٥٨ →

٤٩ →

٥ →

٥٦ →

٤٧ →

١٥ →

٤٦ →

٥٧ →

٢٥ →

٦٦ →

٦٧ →

٢٧ →

** أكمل: -

٩١ ٨٨ - ٨٧ - ٨٦

** رتب تنازلياً: -

١٦ - ٤ - ٩ - ١ - ٧ - ١٢ - ٥ - ٣

** مع مروة (٩) جنيه اشترت لعبة (٣) ، فكم تبقي معها؟

الباقي = - = جنيه

** ضع علامة (<) أو (>) أو (=): -

٣ - ٩ ٢ + ٣

٨ - ٨ ٧ - ٧

٢ + ٢ ٣ + ٤

** اكتب العدد التالي: -

← ٦٨

← ٧٨

← ٨٨

← ٩٨

← ٤٨

← ٢٨

** اجمع: -

= ٣ + ٧

= ٤ + ٨

= ٥ + ٩

= ٤ + ٦

= ٠ + ٧

= ٢ + ٨



الواجب

** اوجد الناتج :-

$$= 5 + 6$$

$$= 7 + 7$$

$$= 0 + 9$$

$$= 4 + 5$$

$$= 4 - 9$$

$$= 0 - 5$$

$$= 2 - 8$$

$$= 6 - 6$$

** أكمل :- ٣٨ □ □ □ ٣٤ - ٣٣ - ٣٢

** مع مينا (٨) جنيهات، اشترت قلم (٢) جنية، فكم تبقي معها؟

البقي = □ + □ = □ جنيه

** ضع علامة (<) أو (>) أو (=) :-

$$\square \quad \square$$

$$2 + 3 \quad \square \quad 2 - 6$$

$$\square \quad \square$$

$$1 + 3 \quad \square \quad 5 - 9$$

$$\square \quad \square$$

$$1 + 5 \quad \square \quad 4 + 4$$

** اكتب العدد التالي :-

$$= 7 + 7$$

$$= 6 + 6$$

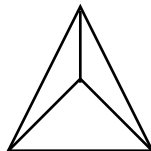
$$= 4 + 4$$

$$= 5 + 5$$

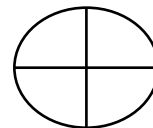
** لون حسب الكسر :-



$$\frac{1}{2}$$



$$\frac{1}{3}$$



$$\frac{1}{4}$$



الحصة

** اكتب العدد السابق: -

٦٣ →
٧٣ →
٨٣ →
٩٣ →

٦٢ →
٧٢ →
٤٣ →
٥٣ →

٣١ →
٤٢ →
٤١ →
٥٢ →

** أكمل: -

٢٢ □ □ □ ١٨ - ١٧ - ١٦

** رتب تنازلياً: -

٤ - ١٠ - ١٣ - ٩ - ٢ - ١٥ - ٧ - ٣

□ □ □ □ □ □ □ □

** ضع علامة (<) أو (>) أو (=): -

□ □
٣ - ٣ □ ٣ + ٣
□ □
٦ - ٩ □ ٥ - ٨
□ □
٥ - ١٠ □ ٤ + ٤

** اكتب العدد التالي: -

← ٣١
← ٤١
← ٤١
← ٥٢
← ٦٢
← ٧٢

** ضع علامة (+) أو علامة (-): -

٤ = ٣ □ ٧
٤ = ٢ □ ٢
صفر = ٨ □ ٨
٧ = ٥ □ ٢

** اجمع: -

= ٧ + ٧
= ٤ + ٤
= ٥ + ٥
= ٣ + ٣
= ٦ + ٦
= ٢ + ٢



واجب

**اطرح: -

$$= 5 - 8$$

$$= 0 - 6$$

$$= 3 - 5$$

$$= 4 - 7$$

$$= 2 - 7$$

$$= 3 - 9$$

$$= 2 - 8$$

$$= 1 - 6$$

**أكمل: - ٤٧ - ٤٨ - ٤٩ ٥٣

**رتب تصاعدياً: -

٨ - ١٢ - ٩ - ٣ - ١١ - صفر - ٦ - ١ - ٤

**ضع علامة (<) أو (>) أو (=): -

$$\square \square$$

$$2 - 4 \square 2 + 4$$

$$\square \square$$

$$3 + 5 \square 3 - 5$$

$$\square \square$$

$$7 - 7 \square 6 - 6$$

**اكتب العدد التالي: -

$$= 2 + 2$$

$$= 5 + 5$$

$$= 6 + 6$$

$$= 9 + 9$$

$$= 10 + 10$$

$$= 4 + 4$$

**ضع علامة (+) أو علامة (-): -

$$2 = 1 \square 3$$

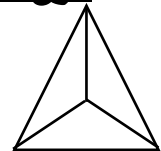
$$9 = 4 \square 5$$

$$\text{صفر} = 6 \square 6$$


$$7 = 3 \square 4$$

**لون حسب الكسر: -

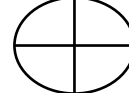
$$\frac{1}{3}$$



$$\frac{1}{2}$$



$$\frac{1}{4}$$





الحصة

**- اكتب العدد السابق :-

٧٤ →

٤٤ →

١٤ →

٨٤ →

٥٤ →

٢٤ →

٩٤ →

٦٤ →

٣٤ →

**- أكمل :-

٨١ □ □ □ ٧٧ - ٧٦ - ٧٥

**- رتب تصاعديا :-

٦ - ٧ - ١ - ٣ - ٩ - ١٢ - ٥ - ٤

□ □ □ □ □ □ □ □

**- ضع علامة (<) أو (>) أو (=) :-

□ □

١ - ٦ □ ٣ + ٢

□ □

٧ + ٧ □ ٧ - ٧

□ □

٠ - ٩ □ ٠ + ٩

**- اكتب العدد التالي :-

← ٢٥

← ٦٥

← ٤٥

← ٨٥

← ٣٥

**- ضع علامة (+) أو علامة (-) :-

٥ = ٤ □ ٩

صفر = ٧ □ ٧

٣ = ١ □ ٤

٨ = ٣ □ ٥

**- اجمع :-

= ١ + ١

= ٢ + ٢

= ٣ + ٣

= ٤ + ٤

= ٥ + ٥

= ٦ + ٦



واجب

**أوجد الناتج: -

$$= 5 + 6$$

$$= 8 + 6$$

$$= 6 + 8$$

$$= 4 + 9$$

$$= 5 - 9$$

$$= 6 - 6$$

$$= 8 - \text{صفر}$$

$$= 3 - 8$$

**أكمل: - ٦١ - ٦٢ - ٦٣ □ □ □ ٦٧

**رتب تصاعدياً: -

٣ - ٥ - ٦ - ٧ - ١٣ - ٤ - ٩ - ١١ - ٨

□ □ □ □ □ □ □ □

**ضع علامة (<) أو (>) أو (=): -

$$\square \quad \square$$

$$3 + 2 \quad \square \quad 1 + 4$$

$$\square \quad \square$$

$$5 + 9 \quad \square \quad 5 - 9$$

$$\square \quad \square$$

$$0 + 7 \quad \square \quad 0 - 7$$

**اجمع: -

$$= 4 + 4$$

$$= 5 + 5$$

$$= 6 + 6$$

$$= 9 + 9$$

$$= 10 + 10$$

$$= 4 + 4$$

**ضع علامة (+) أو علامة (-): -

$$6 = 3 \quad \square \quad 3$$

$$5 = 2 \quad \square \quad 7$$

$$9 = 5 \quad \square \quad 4$$

$$4 = 1 \quad \square \quad 5$$

**اكتب العدد: -

□ ستة

□ ثلاثة

□ عشرة

□ خمسة

□ واحد



الحصة

**اكتب العدد السابق: -

٤٦ →

٥٨ →

٢٥ →

٥٦ →

٥٢ →

٣٦ →

٦٦ →

٦٨ →

٤٢ →

**أكمل: -

٤٢ □ □ □ ٣٨ - ٣٧ - ٣٦

**رتب تصاعدياً: -

٩ - ٦ - ١ - ٥ - ٧ - ١٢ - ١٥ - ٤

□ □ □ □ □ □ □ □

**ضع علامة (<) أو (>) أو (=): -

□ □

٤ - ٧ □ ٢ + ٥

□ □

٢ + ٤ □ ٤ - ٩

□ □

٨ - ٨ □ ٧ - ٧

**اكتب العدد التالي: -

← ٢٩ →

← ١٩ →

← ٤٩ →

← ٥٩ →

← ٦٩ →

**ضع علامة (+) أو علامة (-): -

٥ = ٤ □ ٩

صفر = ٧ □ ٧

٣ = ١ □ ٤

٨ = ٣ □ ٥

**اكتب العدد: -

□ اثنان

□ ثمانية

□ سبعة



واجب

**أوجد الناتج :-

$$= 5 + 7$$

$$= 3 + 8$$

$$= 3 + 9$$

$$= 6 + 6$$

$$= 5 - 7$$

$$= 3 - 8$$

$$= 3 - 9$$

$$= 6 - 6$$

**أكمل :- ٥١ ٤٧ - ٤٦ - ٤٥

**رتب تنازلياً :-

١ - ٩ - ٤ - ٢ - ١٣ - ٧ - ٥

**ضع علامة (<) أو (>) أو (=) :-

$$\square \quad \square$$

$$3 - 9 \quad \square \quad 1 + 4$$

$$\square \quad \square$$

$$3 + 3 \quad \square \quad 2 + 4$$

$$\square \quad \square$$

$$1 + 3 \quad \square \quad 2 - 9$$

**اطرح :-

$$= 1 - 8$$

$$= 7 - 7$$

$$= 5 - 9$$

$$= 2 - 4$$

$$= 3 - 6$$

$$= 1 - 5$$

**ضع علامة (+) أو علامة (-) :-

$$6 = 3 \quad \square \quad 3$$

$$7 = 6 \quad \square \quad 1$$

$$\text{صفر} = 5 \quad \square \quad 5$$

$$5 = 3 \quad \square \quad 8$$

**اكتب عدد الحروف :-

رسم

عمر

لوحة

جميلة



الحصة

** اكتب العدد السابق: -

٤٢ →

٥٧ →

٥٦ →

٥٢ →

٢٨ →

٤٦ →

٦٢ →

٤٢ →

٣٦ →

** أكمل: -

٨١ ٧٧ - ٧٦ - ٧٥

** رتب تصاعدياً: -

٣ - ٧ - ٤ - ٦ - ١٣ - ٩ - ٥ - ٢

** ضع علامة (<) أو (>) أو (=): -

٢ - ٩ ٣ + ٣

٣ + ٣ ٥ - ٨

٥ - ٥ ٤ - ٤

** اكتب العدد التالي: -

← ٥٧ →

← ٤٦ →

← ١٦ →

← ٢٦ →

** ضع علامة (+) أو علامة (-): -

٤ = ٣ ١

٣ = ٥ ٨

٤ = ٢ ٢

٦ = ١ ٧

** اكتب العدد: -

سبعة

واحد

ستة



واجب

**أوجد الناتج: -

$$= 5 - 9$$

$$= 6 - 6$$

$$= 4 - 7$$

$$= 5 - 8$$

$$= 5 + 9$$

$$= 6 + 6$$

$$= 4 + 7$$

$$= 5 + 8$$

**أكمل: - ٧٦ - ٧٧ - ٧٨ ٨٢

**رتب تنازلياً: -

٥ - ١٠ - ٩ - ٨ - ١ - ١٥ - ٦ - ٤

**ضع علامة (<) أو (>) أو (=): -

٢ - ٧ ٣ + ٣

٢ + ٢ ٥ - ٩

٧ + ٧ ٧ - ٧

**اطرح: -

$$= 5 - 8$$

$$= 6 - 6$$

$$= 5 - 7$$

$$= 3 - 8$$

$$= 2 - 7$$

$$= 1 - 3$$

**ضع علامة (+) أو علامة (-): -

$$٢ = ٥ ٧$$

$$٧ = ٤ ٣$$

$$٥ = ٤ ١$$

$$\text{صفر} = ٦ ٦$$

**اكتب عدد الحروف: -

هيا

نزرع

فوق

سطح

المنزل



الحصة

**اكتب العدد السابق: -

← ٥٨ →

← ٥٣ →

← ٢٤ →

← ٤٧ →

← ٥٦ →

← ٧٦ →

**أكمل: -

٩١ ٨٧ - ٨٦ - ٨٥

**رتب تنازليا: -

٣ - ١٥ - ١٠ - ٢ - ١٨ - ٩ - ٥ - ٤

**ضع علامة (<) أو (>) أو (=): -

١ - ٧ ٣ + ٢

١ + ٣ ٨ - ٨

٢ - ٦ ٢ + ٢

**اطرح: -

= ٨ - ٨
= ٣ - ٩
= ١ - ٧
= ٣ - ٥
= ١ - ٦
= ٠ - ٧

**ضع علامة (+) أو علامة (-): -

٧ = ٥ ٢
٥ = ٤ ٩
٦ = ٣ ٣
صفر = ٥ ٥

**اكتب السابق: -

٥٧ →
٤٦ →
٥٦ →
٢٦ →



واجب

**أوجد الناتج:-

$$= 3 - 6$$

$$= 0 - 7$$

$$= 2 - 8$$

$$= 5 - 9$$

$$= 3 + 6$$

$$= 0 + 7$$

$$= 2 + 8$$

$$= 5 + 9$$

**أكمل:- ٦٩ □ □ □ ٦٥ - ٦٤ - ٦٣

**رتب تنازلياً:-

٤ - ٩ - ٢ - ١٦ - ٥ - ١٠ - ٧ - ٣

□ □ □ □ □ □ □ □

**ضع علامة (<) أو (>) أو (=):-

□	□	
٣ - ٣	□	٣ + ٣
□	□	
٢ + ٤	□	٢ - ٧
□	□	
٣ + ٥	□	٥ - ٩

**اطرح:-

= ٣ - ٨
= ٥ - ٩
= ٧ - ٧
= ١ - ٦
= ٣ - ٥
= ١ - ٩
= ٠ - ٨

**ضع علامة (+) أو علامة (-):-

٥ = ٤	□	١
صفر = ٣	□	٣
٦ = ٤	□	٢
٤ = ٥	□	٩

**اكتب عدد الحروف:-

□ ذبحنا
□ خروف
□ العيد



**رتب تنازليا : ١٠، ٣، ٩، ٥ :

الترتيب :

**رتب تصاعديا : ٩، ١٠، ٢، ٦ :

الترتيب :

**رتب تنازليا : ٦، ١٠، ٢، ٥، ٧، ٩ :

الترتيب :

**رتب تصاعديا : ٥، ٣، ٦، ١٠، ٢، ٧ :

الترتيب :

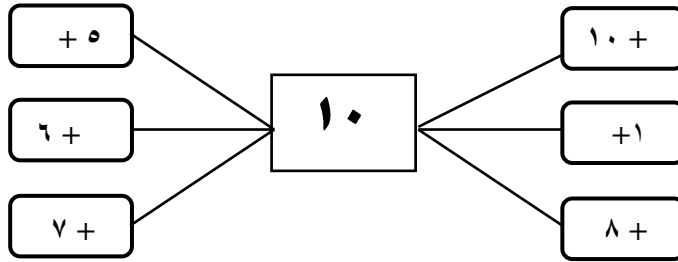
$$\begin{array}{l} ٨ = \square + ٧ \\ ٣ = \square - ٦ \\ ٥ = \square + ٢ \\ ٧ = \square + ٣ \end{array}$$

$$\begin{array}{l} ٩ = \square + ٢ \\ ٤ = \square - ٧ \\ ٨ = \square + ٢ \\ ٧ = \square + ٥ \end{array}$$

****أكمل :**

$$\begin{array}{l} ٧ = \square + ٦ \\ ٢ = \square - ٩ \\ ٤ = \square - ٨ \\ ٦ = \square + ٣ \end{array}$$

****مكونات العدد عشرة :**



$$\begin{array}{l} ١٠ = \square + ٧ \\ ١٠ = \square + ٢ \\ ١٠ = \square + ٤ \end{array}$$

$$\begin{array}{l} ١٠ = \square + ٤ \\ ١٠ = \square + ٩ \\ ١٠ = \square + ٨ \end{array}$$

****أكمل :**

$$\begin{array}{l} ١٠ = \square + ٣ \\ ١٠ = \square + ٧ \\ ١٠ = \square + ٨ \end{array}$$

****ضع خطا تحت العددين اللذان مجموعهما (١٠) :-**

(٤، ٦)، (١، ٤)، (٣، ٥)
(٣، ٧)، (٢، ٧)، (٦، ١)
(٢، ٦)، (١، ٩)، (٢، ٥)

(١، ٧)، (٨، ٢)، (٣، ٦)
(٦، ٤)، (٠، ٩)، (٥، ٥)
(٥، ٤)، (٧، ٣)، (٤، ٦)



**ضع علامة (<) أو (>) أو (=):-

$1 + 9$ $2 + 8$

$4 + 3$ $5 - 9$

$5 - 10$ $2 + 7$

$4 + 5$ $1 + 6$

$3 + 1$ $7 - 8$

$2 - 7$ $3 + 6$

$3 + 3$ $5 - 10$

$4 + 4$ $7 - 8$

$5 + 5$ $3 + 7$

$4 + 6$ $2 - 9$

**أوجد الناتج :-

..... = $5 - 8$ ■

..... = $5 + 4$ ■

..... = $6 - 9$ ■

..... = $7 - 10$ ■

..... = $5 - 10$ ■

..... = $2 + 6$ ■

..... = $6 + 4$ ■

..... = $1 + 9$ ■

..... = $1 + 8$ ■

..... = $4 - 5$ ■

..... = $3 - 7$ ■

..... = $6 - 8$ ■

..... = $2 - 9$ ■

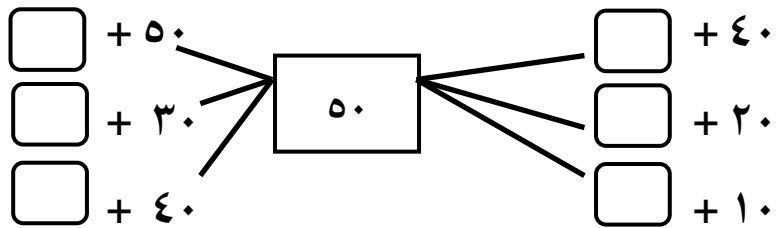
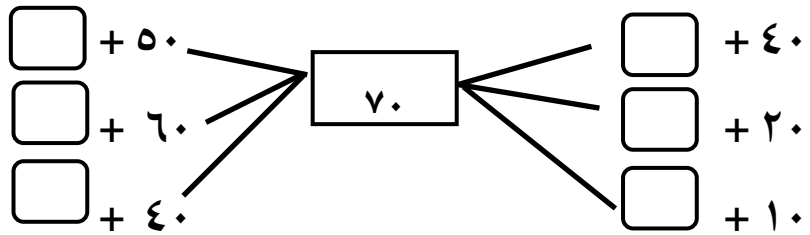
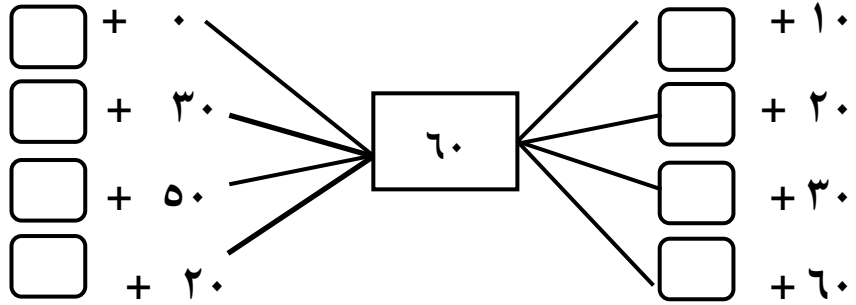
..... = $5 + 4$ ■



١٠٠	٩٠	٨٠	٧٠	٦٠	٥٠	٤٠	٣٠	٢٠	١٠
-----	----	----	----	----	----	----	----	----	----

العشرات الكاملة

**- أكمل :-



٥ عشرات + ٣ عشرات

..... = + =

٦ عشرات + ٢ عشرات

..... = + =

**- أكمل كالمثال :-

٤ عشرات + ٣ عشرات

٧٠ = ٣٠ + ٤٠ =

٧ عشرات + ٢ عشرات

..... = + =



** اوجد الناتج :-

..... = ٣٠ + ١٠
..... = ٤٠ + ٥٠
..... = ٢٠ + ٢٠
..... = ٧٠ - ٩٠
..... = ٣٠ - ٨٠
..... = ١٠ - ٦٠
..... = ٢٠ - ٥٠

..... = ٢٠ + ٥٠
..... = ٣٠ + ٦٠
..... = ٦٠ - ٧٠
..... = ٥٠ - ٩٠
..... = ١٠ + ٦٠
..... = ٤٠ + ٤٠
..... = ٦٠ - ٨٠

** أكمل بنفس التسلسل :-

(ب) ٣٠ ، ٤٠ ، ، ، ٧٠
(د) ٦٠ ، ، ٨٠ ،
(و) ٥٠ ، ٤٠ ، ، ٢٠ ،
(ح) ٩١ ، ٨٠ ، ، ٦٠ ،

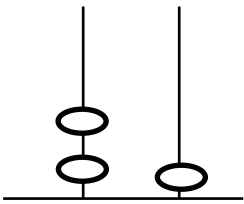
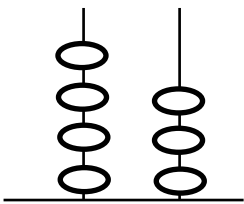
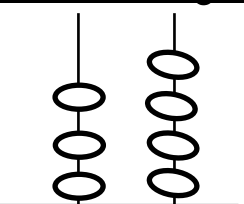
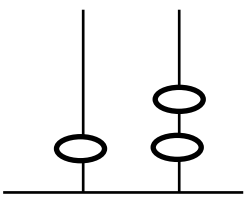
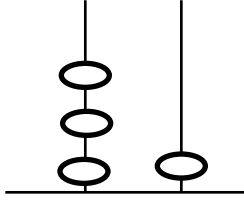
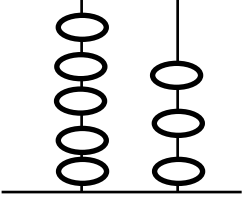
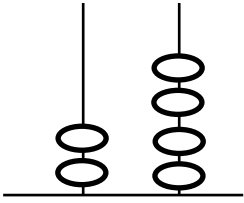
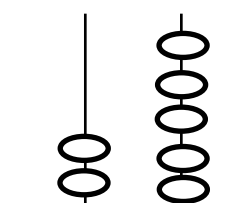
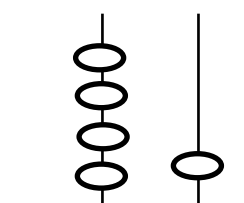
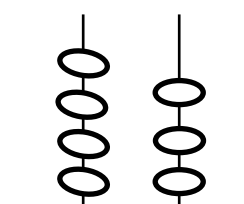
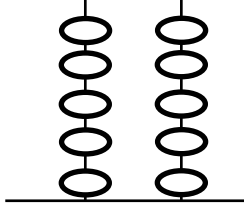
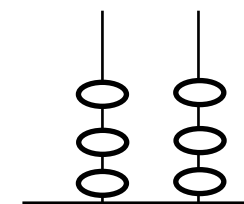
(أ) ١٠ ، ٢٠ ، ، ، ٥٠ ، ٦٠
(ج) ٥٠ ، ، ٧٠ ، ، ٩٠
(هـ) ٨٠ ، ٧٠ ، ، ٥٠ ،
(ز) ٦٠ ، ، ٤٠ ، ، ٢٠

** أكمل :-

- ٤ جنيهاً و٧ عشرات = جنيهاً (..... = ٧٠ + ٤)
- ٨ جنيهاً و٣ عشرات = جنيهاً (..... = + ٨)
- ٩ عشرات وجنية واحد = جنيهاً (..... = +)
- ٦ جنيهاً و٤ عشرات = جنيهاً (..... = +)



**أكمل العدد كالمثال :-

 <p>احاد عشرات العدد <input type="text" value="٢١"/></p>	 <p>احاد عشرات العدد <input type="text" value="٤٣"/></p>	 <p>احاد عشرات العدد <input type="text" value="٣٤"/></p>
 <p>احاد عشرات العدد <input type="text"/></p>	 <p>احاد عشرات العدد <input type="text"/></p>	 <p>احاد عشرات العدد <input type="text"/></p>
 <p>احاد عشرات العدد <input type="text"/></p>	 <p>احاد عشرات العدد <input type="text"/></p>	 <p>احاد عشرات العدد <input type="text"/></p>
 <p>احاد عشرات العدد <input type="text"/></p>	 <p>احاد عشرات العدد <input type="text"/></p>	 <p>احاد عشرات العدد <input type="text"/></p>



****أكمل كالمثال :-**

٦ آحاد و ٥ عشرات =
٣ آحاد و ٩ عشرات =
٤ آحاد و ٢ عشرات =
٤ عشرات و ٥ آحاد =
٦ عشرات و ٥ آحاد =
٨ عشرات و ٣ آحاد =

٧ آحاد و ٣ عشرات = ٣٧
٤ آحاد و ٨ عشرات =
٦ آحاد و ٥ عشرات =
٨ عشرات و ٦ آحاد = ٨٦
٧ عشرات و ٥ آحاد =
٩ عشرات و ٨ آحاد =

..... + = ٨٤
..... + = ٩٦
..... + = ٧٤
٩٠ + ٣ =
٢٠ + ٧ =

٥٠ + ٧ = ٥٧
..... + = ٣٢
..... + = ٤٦
٢٠ + ٨ =
٥٠ + ٩ =

****أكمل كالمثال :-**

أربعة وخمسون = ٥٤ = ٥٠ + ٤

..... = + = سبعة وتسعون

..... = + = ثلاثة وستون

..... = + = خمسة وثلاثون

..... = ٧٠ + ١ =

..... = ٨٠ + ٥ =

٢٩ = + =

٤٦ = + =

٨٤ = آحاد عشرات
٥٩ = آحاد عشرات
١٨ = آحاد عشرات
٢٤ = آحاد عشرات
٧٦ = آحاد عشرات

٧٣ = آحاد عشرات
٤٨ = آحاد عشرات
٩٥ = آحاد عشرات
٣٦ = آحاد عشرات
٢٩ = آحاد عشرات



**ضع خط تحت العشرات:

٤٢ - ٦١ - ٢٩ - ٣٥

٥٢ - ٣١ - ٦٩ - ٨٧

**ضع خط تحت الآحاد:

٩٣ - ٨٥ - ٣٦ - ٧٢

٨٣ - ٢٧ - ٩١ - ٦٤

القيمة المكانية للرقم

**لاحظ ثم ارسم دائرة حول قيمة الرقم الذي تحته خط كالمثال:

$\begin{array}{r} ٥٧ \\ ٧٠ \quad ٧ \end{array}$

$\begin{array}{r} ٩٢ \\ ٩٠ \quad ٩ \end{array}$

$\begin{array}{r} ٤٦ \\ ٤٠ \quad ٦ \end{array}$

$\begin{array}{r} ٨٣ \\ ٨٠ \quad ٨ \end{array}$

$\begin{array}{r} ٢٠ \\ ١٠ \quad ٠ \end{array}$

$\begin{array}{r} ٥٥ \\ ٥٠ \quad ٥ \end{array}$

$\begin{array}{r} ٣٤ \\ ٣٠ \quad ٣ \end{array}$

$\begin{array}{r} ٩٦ \\ ٥٠ \quad ٥ \end{array}$

**ضع دائرة حول القيمة المكانية للرقم الذي تحته خط كالمثال:

$\begin{array}{r} ٩ \quad ٩ \\ \text{آحاد عشرات} \end{array}$

$\begin{array}{r} ٥ \quad ٦ \\ \text{آحاد عشرات} \end{array}$

$\begin{array}{r} ٧ \quad ٣ \\ \text{آحاد عشرات} \end{array}$

$\begin{array}{r} ٤ \quad ٨ \\ \text{آحاد عشرات} \end{array}$

$\begin{array}{r} ٨ \quad ٢ \\ \text{آحاد عشرات} \end{array}$

$\begin{array}{r} ٢ \quad ٧ \\ \text{آحاد عشرات} \end{array}$

$\begin{array}{r} ٨ \quad ٥ \\ \text{آحاد عشرات} \end{array}$

$\begin{array}{r} ٩ \quad ٣ \\ \text{آحاد عشرات} \end{array}$

$\begin{array}{r} ٧ \quad ٩ \\ \text{آحاد عشرات} \end{array}$

$\begin{array}{r} ٤ \quad ٩ \\ \text{آحاد عشرات} \end{array}$

$\begin{array}{r} ٣ \quad ٤ \\ \text{آحاد عشرات} \end{array}$

$\begin{array}{r} ٦ \quad ٥ \\ \text{آحاد عشرات} \end{array}$

✓ اكتب القيمة المكانية للرقم (٦) كما في المثال:

١٦	٦٩	٦٤	٦	٣٦	٦٥	العـــــــــــــــــدد
.....	آحاد	عشرات	القيمة المكانية للرقم ٦

✓ اكتب القيمة المكانية للرقم (٤) كالمثال:

٧٤	٤٩	٤٢	٦٤	٩٤	٤٦	العـــــــــــــــــدد
.....	آحاد	عشرات	القيمة المكانية للرقم ٤



ترتيب الاعداد

**اكتب ترتيب الاعداد من (١ : ١٠٠) :-

	٩			٦			٢	١	٠
		١٨			١٥			١٢	١١
٣٠			٢٧			٢٤			٢١
	٢٩			٣٦			٣٣		
		٤٨			٤٥			٤٢	
٦٠			٥٧		٥٥	٥٤			٥١
	٦٩			٦٦			٦٣		
		٧٨			٧٥			٧٢	
	٨٩		٨٧			٨٤		٨٢	
١٠٠				٩٦		٩٤			٩١

**اكمل :-

أ) ٣٨ ، ٣٩ ، ٤٠ ، ، ، ، ٤٤

ب) ٦٥ ، ٦٦ ، ، ، ٦٩ ، ، ٧١

ج) ١٧ ، ، ١٩ ، ، ٢٢ ، ، ،

د) ٥٦ ، ، ، ٥٩ ، ٦٠ ، ، ، ٦٣

**اكتب العدد التالي مباشرة :-

٥٩ ← ٥٨	١٨ ← ١٧	٢٤ ← ٢٣
..... ← ١٤ ← ٣٢ ← ٤٧
..... ← ٧٦ ← ٤٩ ← ٥٢
..... ← ٧٩ ← ٩١ ← ١٦
..... ← ٣٥ ← ١٣ ← ٨١
..... ← ٧١ ← ٦٩ ← ٢٩
..... ← ٨٥ ← ٢١ ← ٧٠



الصف الأول الابتدائي

أسس طفلك

** اكتب العدد السابق مباشرة: -

$38 \longrightarrow 37$

$86 \longrightarrow 85$

$9 \longrightarrow 8$

$46 \longrightarrow \dots\dots\dots$

$52 \longrightarrow \dots\dots\dots$

$21 \longrightarrow \dots\dots\dots$

$20 \longrightarrow \dots\dots\dots$

$92 \longrightarrow \dots\dots\dots$

$6 \longrightarrow \dots\dots\dots$

$90 \longrightarrow \dots\dots\dots$

$60 \longrightarrow \dots\dots\dots$

$35 \longrightarrow \dots\dots\dots$

** ضع علامة (<) أو (>) أو (=): -

$23 - 57 \quad \square \quad 14 + 32$

$80 \quad \square \quad 31 + 36$

$20 - 90 \quad \square \quad 30 + 40$

$53 \quad \square \quad 21 + 74$

$35 + 41 \quad \square \quad 15 - 86$

$78 \quad \square \quad 42 + 27$

$40 + 27 \quad \square \quad 42 - 93$

$54 \quad \square \quad 14 - 68$

✓ اكتب خمسة أعداد أقل من (٧٢): -

الأعداد هي /

✓ اكتب سبعة أعداد أكبر من (٤٠): -

الأعداد هي /

✓ اكتب ثلاثة أعداد رقم الآحاد (٧): -

الأعداد هي /

✓ اكتب أربعة أعداد رقم العشرات (٩): -

الأعداد هي /

** أكمل: -

$45, \dots\dots\dots, \dots\dots\dots, \dots\dots\dots, 41, \dots\dots\dots, 39, \dots\dots\dots, 37$

$72, \dots\dots\dots, 70, \dots\dots\dots, \dots\dots\dots, \dots\dots\dots, 66, 65$



✓ رتب تصاعدياً من الأصغر للأكبر كالمثال :-

■ ٢٥ ، ٤٣ ، ١٦ ، ٩٢ ، ٥ / الترتيب / ٩٢ ، ٥٧ ، ٤٣ ، ٢٥ ، ١٦

..... / الترتيب / ٨٠ ، ٤٥ ، ١٩ ، ٣٢ ، ٦٧

..... / الترتيب / ٦٢ ، ٨٤ ، ٢٣ ، ١٦ ، ٩١ ، ٥٧

✓ رتب تنازلياً من الأكبر للأصغر كالمثال :

■ ٦٨ ، ٢٤ ، ١٧ ، ٣٩ ، ٨٢ ، ٥٣ / الترتيب / ١٧ ، ٢٤ ، ٣٩ ، ٥٣ ، ٦٨ ، ٨٢

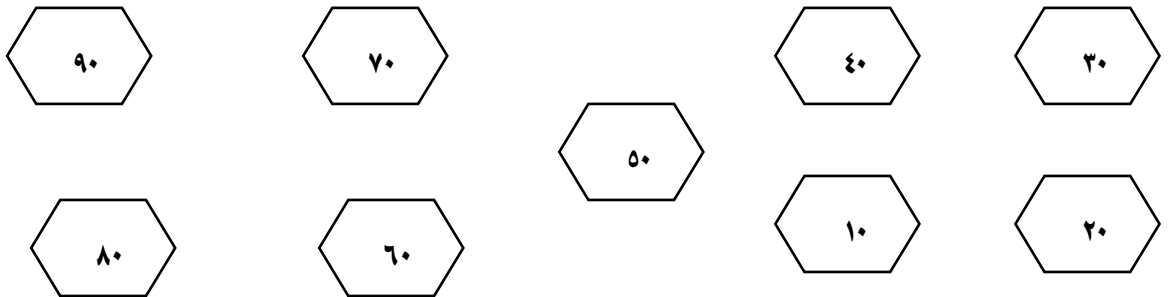
..... / الترتيب / ٢٩ ، ٤٥ ، ١٣ ، ٦٢ ، ٣٧

..... / الترتيب / ٦٢ ، ٨٤ ، ١٩ ، ٩٢ ، ٥١ ، ٣٦

**ضع علامة (<) أو (>) أو (=) :-

٩١	<input type="text"/>	٦٨	٢١	<input type="text"/>	١٧	٥٢	<input type="text"/>	>	٣٦
٥٢	<input type="text"/>	٢٥	٥٠	<input type="text"/>	٢٠	٢٩	<input type="text"/>	<	٦٧
٤٧	<input type="text"/>	٤٧	٤٩	<input type="text"/>	٨٢	٣٢	<input type="text"/>	=	٣٢
٨١	<input type="text"/>	١٨	٨٢	<input type="text"/>	٧٥	٥٨	<input type="text"/>		٦١

**صل بالترتيب :-





**كون أكبر عدد واصغر عدد من الارقام كالمثال :-

- أصغر عدد = ٣٧
- أصغر عدد =
- أصغر عدد =
- أصغر عدد =
- أصغر عدد =
- أصغر عدد =
- أكبر عدد = ٧٣
- أكبر عدد =
- أكبر عدد =
- أكبر عدد =
- أكبر عدد =
- أكبر عدد =
- أصغر عدد مكون من الرقمين (٧، ٥) هو
- أكبر عدد مكون من الرقمين (٣، ٦) هو
- أصغر عدد مكون من الرقمين (٨، ٤) هو
- أكبر عدد مكون من الرقمين (٢، ٥) هو

**أكمل:-

- ٩٠ = + ٧٠
- = ٣٠ + ٢
- ٢٠ = - ٥٠
- ٣٠ = - ٧٠
- = ٨ آحاد و ٧ عشرات
- = ٥ عشرات و ٣ آحاد

**أكمل بنفس النمط:-

- ، ٥٨ ، ٥٧
- ، ١٤ ، ١٢
- ، ٤٠ ، ٥٠
- ، ٩٨ ، ٩٩

✓ مع ضحي ٤٥ جنية ومع شروق ٢٣ جنية أوجد ما مع الاثنين؟



ما مع الاثنين = + = جنيه

✓ مع عبد الرحمن ٣٨ جنيها اشترى كتب بمبلغ ٢٥ جنيها أوجد الباقي؟

الباقي مع عبد الرحمن = - = جنيه

٢٧ = أحاد عشرات
٩٢ = أحاد عشرات
٦٥ = أحاد عشرات
٧٣ = أحاد عشرات
..... + = ٢٥
..... + = ٩٨
٤٠ + ٦ =

****أكمل:-**
٢٦ = + ٦
٥٢ = + ٢
٣٩ = ٣٠ +
٩٠ = +
٢٠ = +
٧٠ = + ٥٠
٦٠ = + ١٠

****ضع علامة (<) أو (>) أو (=):-**

٤٥ - ٦٨ <input type="text"/>	٥٢ - ٩٣ <input type="text"/>	١٩ أحاد <input type="text"/>	٧ عشرات <input type="text"/>
٨ عشرات <input type="text"/>	٦٠ + ٢٠ <input type="text"/>	٢٣ - ٦٧ <input type="text"/>	٤٣ - ٥٢ <input type="text"/>
٢١ + ٣٦ <input type="text"/>	٥٢ - ٧٤ <input type="text"/>	٢٤ + ١٣ <input type="text"/>	١٧ + ٢٠ <input type="text"/>
٢٠ - ٧٠ <input type="text"/>	١١ + ٦٨ <input type="text"/>	٢٤ - ٥٨ <input type="text"/>	٣٢ + ١٦ <input type="text"/>

****رتب تنازليا:-**

..... / الترتيب ٤٩، ١٦، ٩١، ٢٥، ٧٦ ▪
..... / الترتيب ٧٣، ١٦، ٥١، ٤٦، ٩٢، ٨٤ ▪
..... / الترتيب ١٨، ٦٥، ٩٢، ٣٧ ▪
..... / الترتيب ٥٩، ٣٨، ٢١، ٨٦ ▪



****رتب تصاعدياً:-**

- / الترتيب ٢٧، ٧٢، ٨٣، ١٦، ٥١، ٩٢ ▪
..... / الترتيب ٦٣، ٥١، ٤٦، ٩٢، ١٨، ٣٧ ▪
..... / الترتيب ٨٦، ١٣، ٩٢، ٦٧ ▪
..... / الترتيب ١٧، ٥٢، ٨٣، ٦١ ▪

****ضع علامة (+) أو (-) :-**

٣٠ = ٥٢ ٨٢
٥٠ = ٢٠ ٧٠
٤٠ = ١٠ ٣٠
٦٠ = ٢٥ ٨٥
٣٩ = ٢٠ ١٩

٢٠ = ٣٠ ٥٠
٨٠ = ١٠ ٧٠
٩٠ = ٣٠ ٦٠
٥٠ = ٧ ٥٧
٨٦ = ٤ ٨٢

****أكمل:-**

- ٦٨ = آحاد عشرات ▪
٩٤ = آحاد عشرات ▪
٧٠ + ٦ = ▪
..... + = ٢٥ ▪
٨ عشرات = ، ٦ آحاد = ▪

****رتب تنازلياً:-**

- / الترتيب ٢٦، ٥٤، ٩١، ٦٩، ٣٥، ٧٢

****أكمل:-**

٧٣ = + ٤٠ + ٣٠
٩٠ = ٤٠ + + ٢٠
٥٠ = ٣٠ + ١٠ +
٧٧ = ١٠ + + ٦٠

٧٠ = + ٢٠
٩٠ = + ٦٠
٥٠ = +
٨٠ = + ٤٠



****أكمل بنفس التسلسل:-**

.....، ٧٤، ٧٢ ▪

٥٠، ٣٠، ٢٥ ▪

٧٨،،، ٨٦، ٨٨ ▪

****أوجد ناتج:-**

$= 50 + 8$

$= 10 - 50$

$= 30 + 40$

$= 90 + 60$

$= 20 - 6$

$= 20 - 30$

$= 4 + 7$

$= 70 - 80$

****اكتب العدد السابق:-**

٧٤ →

٥٢ →

٢٩ →

٨٠ →

****اكتب العدد التالي:-**

← ٦٨

← ٢٩

← ١٦

← ٥٠

****أوجد الناتج:-**

..... = ١٣ + ٥٢

..... = ٢٠ + ٤٨

..... = ٤ + ٥٤

..... = ٣ + ٢٦

..... = ١٦ + ٨١

..... = ٢٠ + ٧٤

..... = ٥١ + ٢٧

..... = ١٧ + ٤٢

..... = ٣٠ + ٢٨

..... = ٢١ + ٥٧

..... = ٣٧ + ١٢

..... = ٥ + ٤٣

****اوجد الناتج:-**

٢٣ = ٦٢ - ٨٥

..... = ٤٧ - ٦٧

..... = ٣١ - ٥٢

..... = ٢٧ - ٦٨

..... = ١٣ - ٢٤

..... = ٤٢ - ٧٥

٣٤ = ٣٤ - ٦٨

..... = ١١ - ٢٥

..... = ٥٤ - ٩٧

..... = ٧ - ٢٨

..... = ١٤ - ٦٩

..... = ٣٧ - ٦٧



**أجمع:-

آحاد	عشرات	آحاد	عشرات	آحاد	عشرات	آحاد	عشرات
٢	١	٤	٧	٣	٦	٣	٥
٣	٥ +	١	٠ +	٥	١ +	٣	٣ +
_____		_____		_____		_____	
٥	٦	٥	٧	٨	٧	٦	٨
٤	٧	٣	٦	٥	٤	٣	٧
٥	٢ +	٢	١ +	٢	٠ +	٤	١ +
_____		_____		_____		_____	
٢	٨	٧	٥	٢	٨	٤	٢
٦	١ +	٢	٣ +	٣	١ +	١	٥ +
_____		_____		_____		_____	
٣	٥	١	٤	١	٦	٣	٧
٥	١ +	٣	٤ +	٧	٢ +	٣	٠ +
_____		_____		_____		_____	
٨	٤	٧	٦	٩	٢	٧	٢
٥	٣ +	١	٣ +	١	٦ +	١	٥ +
_____		_____		_____		_____	
٥	٤	٦	٢	٢	٧	٤	٨
٥	٥ +	٧	٧ +	٥	٠ +	٣	١ +
_____		_____		_____		_____	



****اطرح:-**

آحاد عشرات	آحاد عشرات	آحاد عشرات	آحاد عشرات
٩ ٨ ٦ ٠ - ----- ٦ ٧	٧ ٤ ٣ ٢ - ----- ٤ ٢	٦ ٨ ٥ ٥ - ----- ١ ٣	٥ ٧ ١ ٣ - ----- ٤ ٤
٦ ٩ ٢ ٣ - -----	٤ ٥ ١ ٣ - -----	٢ ٧ ١ ٧ - -----	٦ ٩ ٣ ٧ - -----
٦ ٩ ٣ ٧ - -----	٨ ٤ ٥ ٢ - -----	٥ ٨ ٣ ٦ - -----	٥ ٨ ٣ ٢ - -----
٢ ٥ ١ ٥ - -----	٦ ٧ ٢ ٥ - -----	٦ ٩ ٤ ٩ - -----	٣ ٥ ١ ٢ - -----
٨ ٦ ٤ ٢ - -----	٧ ٦ ٢ ٣ - -----	٩ ٤ ٥ ٢ - -----	٦ ٨ ٣ ٧ - -----
٧ ٩ ٣ ٨ - -----	٨ ٤ ٦ ٢ - -----	٢ ٨ ١ ٥ - -----	٧ ٦ ٤ ٦ - -----

✓ مع دعاء ٦٧ وردة ومع جني ٣٥ وردة ما الفرق بين ما مع الاثنين؟
الفرق بين الاثنين = - = وردة

✓ أخذ حسام من والده ٢٨ جنيها اشترى لعبة بمبلغ ٢٥ جنيها أوجد الباقي مع حسام؟
الباقي مع حسام = - = جنيها



✓ مع ضحي ٥٦ جنها اشترت كتابا بمبلغ ٢٣ جنيتها أوجد الباقي مع ضحي ؟
الباقي مع ضحي = - = جنيتها

✓ مع شيماء ٨٩ قلم ومع شروق ٥٦ قلم أوجد الفرق بين ما مع الاثنين ؟
الفرق بين ما مع الاثنين = - = قلما

✓ اخذ عمر من والدته ٧٥ قرشا اشترى قلما بمبلغ ٤٠ قرش أوجد الباقي مع أحمد ؟
الباقي مع أحمد = - = قرشا

****أكمل بنفس التسلسل :**

← ٢٥ ، ٢٠ ، ، ، ،
← ٢٨ ، ١٨ ، ، ، ،
← ٦٦ ، ٦٣ ، ، ، ،
← ٧٠ ، ٨٠ ، ، ، ،
← ٨٥ ، ٩٠ ، ، ، ،

****ضع علامة (<) أو (>) أو (=) :-**

← ٣٢ + ٣٦ ١٥ + ٨٢ ← ٤٥ - ٧٨ ١٢ + ٣٦ ←
← ٤٠ - ٩٠ ١٠ + ٤٠ ← ١١ + ٢٠ ٥٦ + ٨٧ ←

****كون أكبر عدد واصغر عدد من الأرقام :-**

← (٣ ، ٧) أكبر عدد = أصغر عدد =
← (٩ ، ٢) أكبر عدد = أصغر عدد =

****أكمل :-**

← ٤٩ - = ١٦
← ٢٧ + = ٩٨

← ٦٧ - = ٥٢
← ٨٥ = + ٣٠

****أوجد الناتج :-**

← ٥٨ - ٤٦ =
← ٢٠ + ٤٣ =
← ٨٧ - ٥٦ =

← ٩٧ - ٣٦ =
← ٥٢ - ٤٢ =
← ٦١ + ٢٨ =



**رتب تنازليا:-

٢٧، ٧١، ٣٦، ٩٢، ٥٧

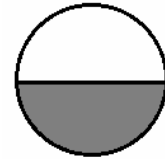






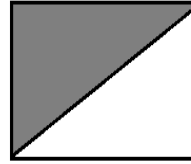

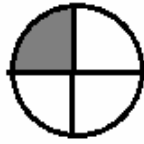

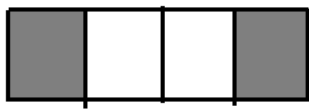
الترتيب/.....

**رتب تصاعديا:-

٥٤، ٧٥، ٢٣، ٦١، ٨٢

الترتيب/.....

**اكتب الكسر:-



**اكتب من (١) إلى (٢٠) بالعربي:-

الرقم	الرقم	الرقم	الرقم	الرقم	الرقم
١	واحد	٦	١١	١٦	
٢		٧	١٢	١٧	
٣		٨	١٣	١٨	
٤		٩	١٤	١٩	
٥		١٠	١٥	٢٠	



**أوجد ناتج:-

$$\begin{array}{r} 7 \quad 0 \\ 1 \quad 8 + \\ \hline \end{array}$$

$$\begin{array}{r} 6 \quad 8 \\ 2 \quad 0 + \\ \hline \end{array}$$

$$\begin{array}{r} 5 \quad 2 \\ 3 \quad 4 + \\ \hline \end{array}$$

$$\begin{array}{r} 2 \quad 7 \\ 3 \quad 1 + \\ \hline \end{array}$$

$$\begin{array}{r} 4 \quad 5 \\ 3 \quad 2 - \\ \hline \end{array}$$

$$\begin{array}{r} 6 \quad 7 \\ 3 \quad 1 + \\ \hline \end{array}$$

$$\begin{array}{r} 4 \quad 5 \\ 5 \quad 1 + \\ \hline \end{array}$$

$$\begin{array}{r} 3 \quad 6 \\ \quad 2 + \\ \hline \end{array}$$

$$\begin{array}{r} 9 \quad 5 \\ 6 \quad 5 - \\ \hline \end{array}$$

$$\begin{array}{r} 8 \quad 0 \\ 2 \quad 0 - \\ \hline \end{array}$$

$$\begin{array}{r} 8 \quad 9 \\ 2 \quad 9 - \\ \hline \end{array}$$

$$\begin{array}{r} 7 \quad 6 \\ 4 \quad 5 + \\ \hline \end{array}$$

**أوجد الناتج:-

$$\begin{array}{l} \dots\dots\dots = 60 - 18 \\ \dots\dots\dots = 23 + 50 \\ \dots\dots\dots = 82 + 17 \\ \dots\dots\dots = 20 - 80 \\ \dots\dots\dots = 9 - 59 \end{array}$$

$$\begin{array}{l} \dots\dots\dots = 42 + 36 \\ \dots\dots\dots = 61 + 25 \\ \dots\dots\dots = 20 - 79 \\ \dots\dots\dots = 36 - 49 \\ \dots\dots\dots = 7 - 67 \end{array}$$

**أكمل:-

$$\begin{array}{l} 34 = \dots\dots\dots - 68 \\ 50 = \dots\dots\dots + 20 \\ 97 = \dots\dots\dots + 83 \\ \dots\dots\dots + 5 = 35 \\ \dots\dots\dots + 9 = 69 \\ 20 + 6 = \dots\dots\dots \\ 80 + 56 = \dots\dots\dots \\ \dots\dots\dots + \dots\dots\dots = 73 \\ \dots\dots\dots + \dots\dots\dots = 85 \end{array}$$

$$\begin{array}{l} 80 = \dots\dots\dots + 60 \\ 23 = \dots\dots\dots - 75 \\ 56 = \dots\dots\dots - 79 \\ \dots\dots\dots = 8 \text{ آحاد و } 3 \text{ عشرات} \\ \dots\dots\dots = 9 \text{ آحاد و } 9 \text{ عشرات} \\ \dots\dots\dots = 3 \text{ آحاد و } 9 \text{ عشرات} \\ \dots\dots\dots = 4 \text{ عشرات و } 2 \text{ عشرات} \\ \dots\dots\dots = 6 \text{ عشرات و } 3 \text{ عشرات} \\ \dots\dots\dots + 60 = 67 \end{array}$$



**ضع علامة (<) أو (>) أو (=) :-

$32 + 36$	<input type="text"/>	$15 + 82$	←	$45 - 78$	<input type="text"/>	$2 + 36$	←
$40 - 90$	<input type="text"/>	$10 + 40$	←	$11 + 20$	<input type="text"/>	$56 + 87$	←

**ضع علامة (✓) أو علامة (×) :-

- () $69 = 31 + 56$ (1)
() (2) العدد 67 يلي العدد 65
() (3) أكبر عدد مكون من (3، 9) هو 93
() (4) قيمة الرقم 6 في العدد 65 تساوي 60
() (5) المائة جنيهاً > خمسون جنيهاً

**أكمل :-

- 36 = - 58 ■
67 = + 20 ■
..... = 5 عشرات ■
العدد الذي يسبق 83 هو

**رتب تنازلياً :-

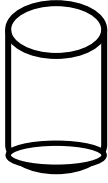
84 ، 16 ، 59 ، 32 ، 75

**ضع علامة (<) أو (>) أو (=) :-

9 آحاد	<input type="text"/>	7 عشرات	←	$65 - 97$	<input type="text"/>	$32 - 56$	←
28	<input type="text"/>	82	←	$37 + 32$	<input type="text"/>	$21 + 48$	←



** صل كل شكل باسمه :-



مخروط



كرة



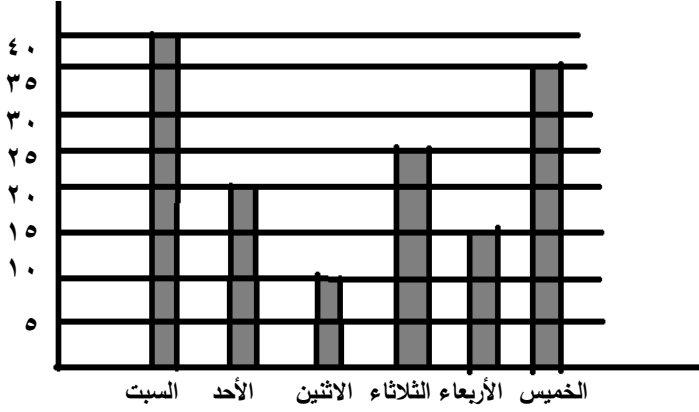
أسطوانه



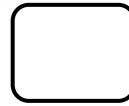
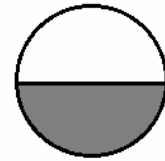



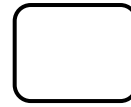

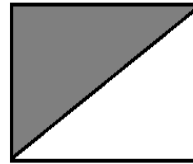

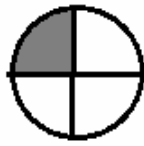

مكعب

أكمل الجدول من الرسم :-

اليوم	السبت	الأحد	الاثنين	الثلاثاء	الأربعاء	الخميس
عدد الغياب



** اكتب ما يمثله كل جزء مظلل :-





**اكتب من (١) إلى (٢٠) بالعربي:-

الرقم	الرقم	الرقم	الرقم	الرقم
١	واحد	٦	١١	١٦
٢		٧	١٢	١٧
٣		٨	١٣	١٨
٤		٩	١٤	١٩
٥		١٠	١٥	٢٠

**أوجد ناتج:-

$\begin{array}{r} ٧٠ \\ ١٨+ \\ \hline \dots\dots \end{array}$	$\begin{array}{r} ٦٨ \\ ٢٠+ \\ \hline \dots\dots \end{array}$	$\begin{array}{r} ٥٢ \\ ٣٤+ \\ \hline \dots\dots \end{array}$	$\begin{array}{r} ٢٧ \\ ٣١+ \\ \hline \dots\dots \end{array}$
$\begin{array}{r} ٤٥ \\ ٣+ \\ \hline \dots\dots \end{array}$	$\begin{array}{r} ٦٧ \\ ٣١+ \\ \hline \dots\dots \end{array}$	$\begin{array}{r} ٤٥ \\ ٥١+ \\ \hline \dots\dots \end{array}$	$\begin{array}{r} ٢٦ \\ ٢+ \\ \hline \dots\dots \end{array}$
$\begin{array}{r} ٩٥ \\ ٦٥- \\ \hline \dots\dots \end{array}$	$\begin{array}{r} ٨٠ \\ ٢٠- \\ \hline \dots\dots \end{array}$	$\begin{array}{r} ٨٩ \\ ٢٩- \\ \hline \dots\dots \end{array}$	$\begin{array}{r} ٧٦ \\ ٤٥- \\ \hline \dots\dots \end{array}$
$= ٦٠ + ١٨$			$= ٤٢ + ٣٦$
$= ٢٣ + ٥٠$			$= ٦١ + ٢٥$
$= ٨٢ + ١٧$			$= ٢٠ + ٧٦$
$= ٢٠ - ٨٠$			$= ٣٦ + ٤٩$
$= ٩ - ٥٩$			$= ٧ - ٦٧$



**أكمل :-

$$\begin{aligned} 34 &= \square - 68 \\ 50 &= \square + 20 \\ 97 &= \square + 83 \\ \dots + 5 &= 35 \\ \dots + 9 &= 69 \\ 20 + 6 &= \dots \\ 80 + 5 &= \dots \\ \dots + \dots &= 73 \\ \dots + \dots &= 85 \end{aligned}$$

$$\begin{aligned} 80 &= \square + 60 \\ 23 &= \square - 75 \\ 56 &= \square - 79 \\ \dots &= 8 \text{ آحاد و } 3 \text{ عشرات} \\ \dots &= 9 \text{ آحاد و } 9 \text{ عشرات} \\ \dots &= 3 \text{ آحاد و } 9 \text{ عشرات} \\ \dots &= 4 \text{ عشرات} + 2 \text{ عشرات} \\ \dots &= 6 \text{ عشرات} + 3 \text{ عشرات} \\ \dots + 60 &= 67 \end{aligned}$$

**ضع علامة (<) أو (>) أو (=) :-

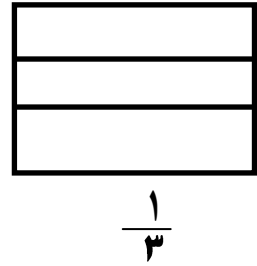
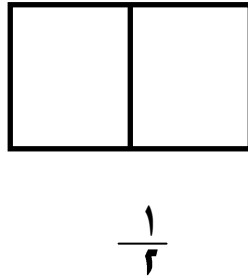
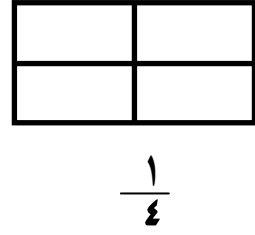
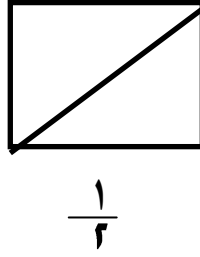
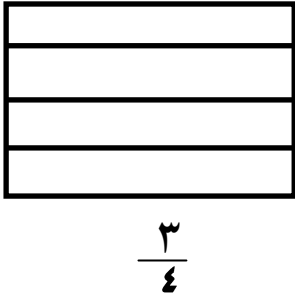
$50 - 80$	<input type="text"/>	$30 + 20$
$46 - 89$	<input type="text"/>	$51 + 37$
$20 + 78$	<input type="text"/>	$12 + 35$
$30 + 29$	<input type="text"/>	7 عشرات
84	<input type="text"/>	48
5 آحاد و 7 عشرات	<input type="text"/>	75

**أوجد ناتج :-

$\dots = 10 + 10 + 50 \leftarrow$	$\dots = 20 + 20 + 40 \leftarrow$	$\dots = 10 + 30 + 20 \leftarrow$
$\dots = 10 + 40 + 30 \leftarrow$	$\dots = 32 + 5 + 27 \leftarrow$	$\dots = 41 + 12 + 16 \leftarrow$



** لون قيمة الكسر المطلوب :-



** أوجد ناتج :-

$$\begin{array}{r} 89 \\ + 49 \\ \hline \end{array}$$

$$\begin{array}{r} 67 \\ + 53 \\ \hline \end{array}$$

$$\begin{array}{r} 48 \\ + 50 \\ \hline \end{array}$$

$$\begin{array}{r} 27 \\ + 31 \\ \hline \end{array}$$

** أكمل :-

٨ آحاد و ٩ عشرات =

..... + = ٧٩

..... = ٧ آحاد

٧ آحاد و ٣ عشرات =

٥٠ = - ٢٠

..... = ٨ عشرات

** رتب تنازليا :-

٦٢ ، ١٨ ، ٣٦ ، ٩٢ ، ٥٧



**أوجد الناتج: -

$\begin{array}{r} 70 \\ + 22 \\ \hline \end{array}$	$\begin{array}{r} 40 \\ + 20 \\ \hline \end{array}$	$\begin{array}{r} 30 \\ + 40 \\ \hline \end{array}$	$\begin{array}{r} 10 \\ + 20 \\ \hline \end{array}$
58	39	80	99
$\begin{array}{r} 20 \\ - \end{array}$	$\begin{array}{r} 19 \\ - \end{array}$	$\begin{array}{r} 40 \\ - \end{array}$	$\begin{array}{r} 26 \\ - \end{array}$

**أكمل: -

- (1) ثلاثة أعداد كل منها أكبر من العدد 77 هي ، ،
(2) أصغر عدد مكون من الرقمين 3 ، 6 هو

**رتب الأعداد الآتية ترتيباً تصاعدياً: -

16 ، 61 ، 93 ، 39

**أكمل بالعدد المناسب: -

$50 = \square + 20$ ■

$20 = \square - 55$ ■

$39 = \square - 49$ ■

$\square < 20 + 16$ ■

**ضع علامة (✓) أمام العبارة الصحيحة وعلامة (X) أمام العبارة غير الصحيحة: -

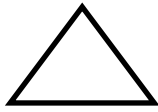
- () (1) أكبر عدد مكون من رقمين هو 99
() (2) يعتبر المكعب من الأشكال الهندسية
() (3) الكرة من المجسمات




مع حنان ٦٨ جنيهاً اشترت عروسة بمبلغ ٤٠ جنيهاً ، وقلماً بمبلغ ستة جنيهاً كم جنيهاً تبقى مع حنان؟

ثمان العروسة والقلم = + = جنيهاً
الباقى = - = جنيهاً


**اكتب اسم الجسم الهندسي:-



.....



.....



.....

**اوجد الناتج:-

$\begin{array}{r} 58 \\ 46 \\ \hline \end{array}$	$\begin{array}{r} 26 \\ 63+ \\ \hline \end{array}$	$\begin{array}{r} 84 \\ 54- \\ \hline \end{array}$
$\begin{array}{r} 97 \\ 54- \\ \hline \end{array}$	$\begin{array}{r} 28 \\ 41+ \\ \hline \end{array}$	$\begin{array}{r} 36 \\ 22+ \\ \hline \end{array}$

**ضع دائرة حول رقم الأحاد:-

١٧ ، ٣٢ ، ٥٦ ، ٨٤

**أكمل بنفس التسلسل:-

..... ، ، ، ٣٤ ، ٢٤ ، ١٤



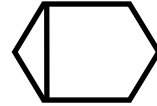
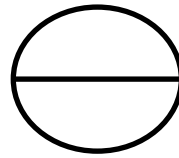

**ضع علامة (✓) أمام العبارة الصحيحة وعلامة (X) أمام العبارة غير الصحيحة:-

١١ $٤ + ٧$ ■
٨٥ ٧٥ ■
٣٤ ٤٣ ■

**رتب من الأصغر إلى الأكبر:-

٧٢ ، ٨٠ ، ٩٦ ، ٥٨ ، ٦٤

**ضع علامة (✓) أسفل كل شكل متماثل:-



مع خالد ٩٥ قرشاً ، اشترى هدية بمبلغ ٧٥ قرشاً ، كم قرشاً تبقى معه؟

الباقى = - = قرشاً

**أكمل ما يأتي:-			
$\begin{array}{r} ٥٨ \\ \underline{٤٢+} \\ \dots \end{array}$	$\begin{array}{r} ٥٤ \\ \underline{٤٣+} \\ \dots \end{array}$	$\begin{array}{r} ٣٧ \\ \underline{٥٢+} \\ \dots \end{array}$	$\begin{array}{r} ٤٥ \\ \underline{٣٢-} \\ \dots \end{array}$
$\begin{array}{r} ٣٤ \\ \underline{٥٥+} \\ \dots \end{array}$	$\begin{array}{r} ٣٥ \\ \underline{٤٤+} \\ \dots \end{array}$	$\begin{array}{r} ٧٩ \\ \underline{٣٤-} \\ \dots \end{array}$	$\begin{array}{r} ٤٥ \\ \underline{٣٤+} \\ \dots \end{array}$



**ضع علامة (✓) أمام العبارة الصحيحة وعلامة (X) أمام العبارة غير الصحيحة:-

$22 + 52$

$30 + 35$

90

$34 + 53$

$22 + 17$

$41 - 82$

60

$35 - 98$

**رتب تصاعدياً وتنازلياً:-

٩٠ ، ٦٥ ، ٨٢ ، ٧٩ ، ٨٠

تصاعدياً:-

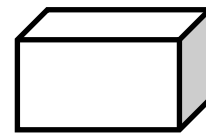
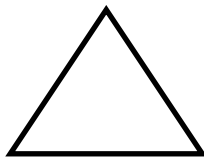
تنازلياً:-

إذا كان عدد تلاميذ الصف الأول الابتدائي ٩٥ تلميذاً ، منهم ٤٥

تلميذة فكم عدد الأولاد؟

عدد الأولاد = ولدًا

**اكتب اسم كل مجسم:-





**أكمل ما يأتي:-

$\begin{array}{r} 68 \\ 45- \\ \hline \end{array}$	$\begin{array}{r} 43 \\ 45+ \\ \hline \end{array}$	$\begin{array}{r} 78 \\ 25- \\ \hline \end{array}$	$\begin{array}{r} 23 \\ 35+ \\ \hline \end{array}$
$\begin{array}{r} 87 \\ 45- \\ \hline \end{array}$	$\begin{array}{r} 78 \\ 24- \\ \hline \end{array}$	$\begin{array}{r} 59 \\ 40+ \\ \hline \end{array}$	$\begin{array}{r} 67 \\ 23- \\ \hline \end{array}$

**ضع علامة (✓) أمام العبارة الصحيحة وعلامة (X) أمام العبارة غير الصحيحة:-

٩٠	<input type="checkbox"/>	$15 + 72 \leftarrow$	$11 - 9$	<input type="checkbox"/>	$32 + 56 \leftarrow$
٤٨	<input type="checkbox"/>	$55 - 99 \leftarrow$	$21 - 4$	<input type="checkbox"/>	$13 - 48 \leftarrow$

**رتب تصاعدياً وتنازلياً:-

٢٨ ، ٤٧ ، ١٥ ، ٣٢ ، ٥٤

..... تصاعدياً:-

..... تنازلياً:-

**مع سماح ٧٥ جنيهاً ، صرفت منها ٣٤ جنيهاً ، فكم جنيهاً يبقى معها؟
الباقي معها = جنيهاً