

رياضيات

المرحلة الأولى


٢٠٢٣ – ٢٠٢٤



اكتب



| ٩ | ٨ | ٧ | ٦ | ٥ | ٤ | ٣ | ٢ | ١ |
|-------|-------|-------|-------|-------|-------|-------|-------|-------|
| | | | | | | | | |
| | | | | | | | | |
| | | | | | | | | |
| | | | | | | | | |

صل



٣

٤



٥

٦

صل



٤



٥



٣



٦



١

٢



اكتب

| ١ | ٢ | ٣ | ٤ | ٥ | ٦ | ٧ | ٨ | ٩ |
|-------|-------|-------|-------|-------|-------|-------|-------|-------|
| | | | | | | | | |
| | | | | | | | | |
| | | | | | | | | |
| | | | | | | | | |
| | | | | | | | | |
| | | | | | | | | |

عد النجوم و اكتب العدد



أكمل

| | | | | | | | | |
|---|-------|---|-------|---|-------|---|-------|---|
| ٩ | | ٧ | | ٥ | | ٣ | | ١ |
|---|-------|---|-------|---|-------|---|-------|---|

| | | | | | | | | |
|-------|---|-------|---|-------|---|-------|---|-------|
| | ٨ | | ٦ | | ٤ | | ٢ | |
|-------|---|-------|---|-------|---|-------|---|-------|

| | | | | | | | | |
|---|-------|-------|-------|-------|-------|---|---|---|
| ٩ | | | | | | ٣ | ٢ | ١ |
|---|-------|-------|-------|-------|-------|---|---|---|

| | | | | | | | | |
|-------|---|-------|-------|---|-------|-------|-------|---|
| | ٨ | | | ٥ | | | | ١ |
|-------|---|-------|-------|---|-------|-------|-------|---|

| | | | | | | | | |
|-------|-------|---|-------|-------|---|-------|-------|---|
| | | ٧ | | | ٤ | | | ١ |
|-------|-------|---|-------|-------|---|-------|-------|---|

| | | | | | | | | |
|---|-------|---|-------|---|-------|---|-------|---|
| ١ | | ٣ | | ٥ | | ٧ | | ٩ |
|---|-------|---|-------|---|-------|---|-------|---|

| | | | | | | | | |
|---|-------|-------|-------|-------|-------|-------|---|---|
| ١ | | | | | | | ٨ | ٩ |
|---|-------|-------|-------|-------|-------|-------|---|---|

حوظ حول الرقم الأصغر في كل رقمين

| | | | |
|---|---|---|---|
| ٧ | ١ | ٥ | ٣ |
| ٢ | ٥ | ٩ | ٤ |
| ٤ | ٨ | ٦ | ٥ |
| ٨ | ٦ | ٧ | ٩ |
| ٩ | ٢ | ٣ | ٨ |
| ١ | ٣ | ٦ | ٤ |

اكتب :

٢

اثنان

١

واحد

٢

اثنان

١

واحد

اكتب :

٤

أربعة

٣

ثلاثة

٤

أربعة

٣

ثلاثة

اكتب :

٦

ستة

٥

خمسة

٦

ستة

٥

خمسة

صل :

٤

واحد

٥

اثنان

٦

ثلاثة

١

أربعة

٢

خمسة

٣

ستة

حوظ حول الرقم الأكبر في كل رقمين

٤

١

٧

٣

٩

٥

٨

٢

٢

٦

٥

٣

٤

٥

٢

١

٨

٧

٦

٤

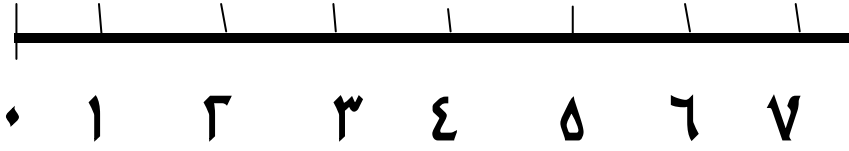
٧

٦

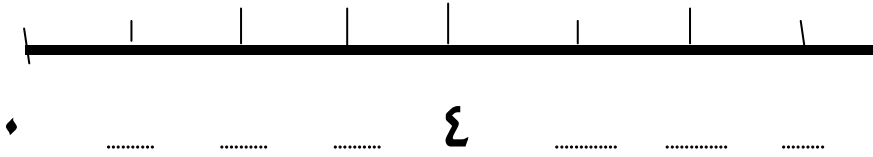
٨

٥

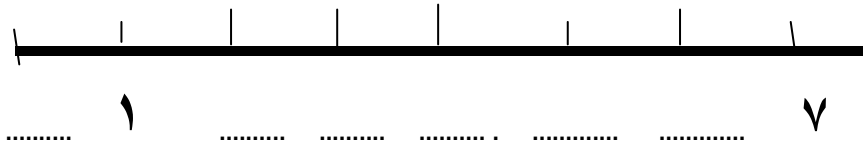
خط الأعداد :



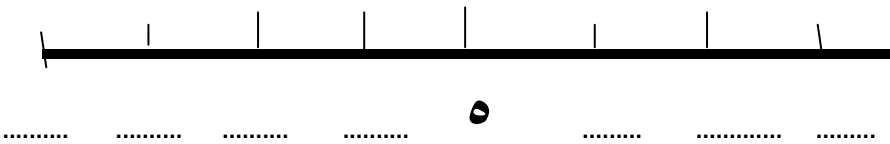
أكمل خط الأعداد



أكمل خط الأعداد



أكمل خط الأعداد



لون حسب العدد

| | | | |
|--|--|--|--|
| | | | |
| | | | |
| | | | |
| | | | |
| | | | |
| | | | |
| | | | |
| | | | |

أحمر أزرق أخضر أصفر

| | |
|---|------|
| | |
| ٧ | أحمر |
| ٤ | أزرق |
| ٦ | أخضر |
| ٣ | أصفر |

اكتب حسب العدد

| | | |
|---|---|---|
| | | |
| | | |
| | | △ |
| □ | | △ |
| □ | ○ | △ |
| □ | ○ | △ |
| □ | ○ | △ |

| | |
|-------|-------|
| | |
| | مثلث |
| | دائرة |
| | مربع |

لون حسب العدد

| | | | |
|--|--|--|--|
| | | | |
| | | | |
| | | | |
| | | | |
| | | | |
| | | | |
| | | | |
| | | | |

أحمر أزرق أخضر أصفر

| | |
|---|------|
| | |
| ٤ | أحمر |
| ٣ | أزرق |
| ٥ | أخضر |
| ٢ | أصفر |

اكتب حسب العدد

| | | |
|---|---|---|
| | | |
| | | |
| | ○ | |
| | ○ | |
| □ | ○ | △ |
| □ | ○ | △ |
| □ | ○ | △ |

| | |
|-------|-------|
| | |
| | مثلث |
| | دائرة |
| | مربع |

اكتب :

| ٩ | ٨ | ٧ | ٦ | ٥ | ٤ | ٣ | ٢ | ١ |
|-------|-------|-------|-------|-------|-------|-------|-------|-------|
| | | | | | | | | |
| | | | | | | | | |
| | | | | | | | | |
| | | | | | | | | |
| | | | | | | | | |


| ١ | ٢ | ٣ | ٤ | ٥ | ٦ | ٧ | ٨ | ٩ |
|-------|-------|-------|-------|-------|-------|-------|-------|-------|
| | | | | | | | | |
| | | | | | | | | |
| | | | | | | | | |
| | | | | | | | | |
| | | | | | | | | |

اكتب العدد السابق


٥




٣



٦




٢



٤



٨




٧



اكتب العدد التالي



٣



٥




٤




٧



٦



٢



٨

=

ارسم

ارسم نقطة واحدة في إطار الخمس خانات

| | | | | |
|--|--|--|--|--|
| | | | | |
|--|--|--|--|--|

ارسم نقط = عدد ألوان إشارات المرور في إطار الخمس خانات

| | | | | |
|--|--|--|--|--|
| | | | | |
|--|--|--|--|--|

ارسم نقط = عدد إخوتك في إطار الخمس خانات

| | | | | |
|--|--|--|--|--|
| | | | | |
|--|--|--|--|--|

ارسم نقط = عدد أصابع اليد في إطار الخمس خانات

| | | | | |
|--|--|--|--|--|
| | | | | |
|--|--|--|--|--|

ارسم نقط = عدد أيام الأسبوع في إطار الخمس خانات

| | | | | |
|--|--|--|--|--|
| | | | | |
|--|--|--|--|--|

| | | | | |
|--|--|--|--|--|
| | | | | |
|--|--|--|--|--|

رتب تصاعديا (من الأصغر الى الأكبر)

٢

٤

١

٣

٢

٤

٣

٥

٨

٤

١

٦

٣

٥

٨

٢

١

٩

٦

٣

رتب تنازليا (من الأكبر الى الأصغر)

| | | | |
|----------------------|----------------------|----------------------|----------------------|
| ٢ | ١ | ٤ | ٣ |
| <input type="text"/> | <input type="text"/> | <input type="text"/> | <input type="text"/> |

| | | | |
|----------------------|----------------------|----------------------|----------------------|
| ٤ | ٦ | ٧ | ٥ |
| <input type="text"/> | <input type="text"/> | <input type="text"/> | <input type="text"/> |

| | | | |
|----------------------|----------------------|----------------------|----------------------|
| ٦ | ٧ | ٣ | ١ |
| <input type="text"/> | <input type="text"/> | <input type="text"/> | <input type="text"/> |

| | | | |
|----------------------|----------------------|----------------------|----------------------|
| ٦ | ٨ | ٣ | ٧ |
| <input type="text"/> | <input type="text"/> | <input type="text"/> | <input type="text"/> |

| | | | |
|----------------------|----------------------|----------------------|----------------------|
| ٦ | ٧ | ٥ | ٤ |
| <input type="text"/> | <input type="text"/> | <input type="text"/> | <input type="text"/> |

ضع علامة (< , > , =)

١

٤

٧

٩

٢

٥

٦

٨

٤

٦

٥

٥

٧

٧

٤

٦

٥

٨

٣

٥

٤

٩

٢

٤

٢

٤

١

٣

٢

٣

٢

٢

١

٢

٢

٦

ضع علامة (< ، > ، =)

| | | | | | |
|---|----------------------|---|---|----------------------|---|
| ٨ | <input type="text"/> | ٧ | ٧ | <input type="text"/> | ٣ |
| ٥ | <input type="text"/> | ٣ | ٦ | <input type="text"/> | ٤ |
| ٦ | <input type="text"/> | ٢ | ٧ | <input type="text"/> | ٥ |
| ٩ | <input type="text"/> | ٧ | ٨ | <input type="text"/> | ٦ |
| ٩ | <input type="text"/> | ٨ | ٩ | <input type="text"/> | ٧ |
| ٧ | <input type="text"/> | ٦ | ٩ | <input type="text"/> | ٨ |
| ٧ | <input type="text"/> | ٧ | ٥ | <input type="text"/> | ٥ |
| ٦ | <input type="text"/> | ١ | ٦ | <input type="text"/> | ٣ |

ضع علامة (= ، > ، <)

٥

٥

٢

٨

١

٢

٩

٩

٥

٢

٧

٣

١

١

٥

٨

٥

٥

٢

٤

٢

٤

٢

٢

٩

٨

٢

٤

٥

٧

٥

٥

٧

٢

١

٢

أيام الأسبوع ٧ أيام

الأحد

الأحد

الاثنين

الاثنين

الثلاثاء

الثلاثاء

الأربعاء

الأربعاء

الخميس

الخميس

الجمعة

الجمعة

السبت

السبت

أكمل أيام الأسبوع

.....

.....

الأحد

.....

.....

الثلاثاء

.....

الخميس

.....

.....

.....

الاثنين

الجمعة

.....

.....

.....

.....

الاثنين

.....

.....

الجمعة

حدد اليوم السابق و اليوم التالي

اليوم التالي

اليوم

اليوم السابق

غدا

اليوم

أمس

.....

الأحد

.....

.....

الاثنين

.....

.....

الأربعاء

.....

.....

الجمعة

.....

.....

الخميس

.....

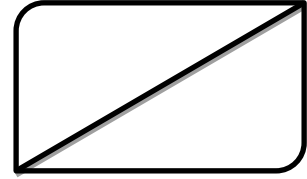
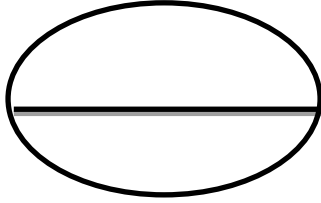
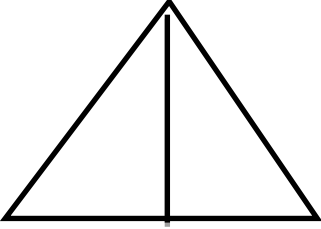
.....

الثلاثاء

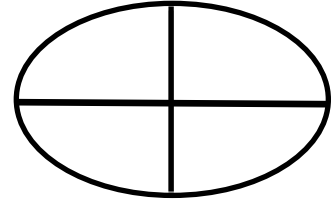


.....

الكسور : النصف و الربع

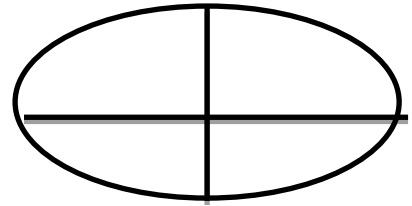

نصف



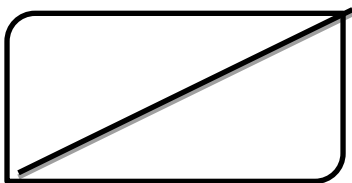
ربع



ظلال المطلوب

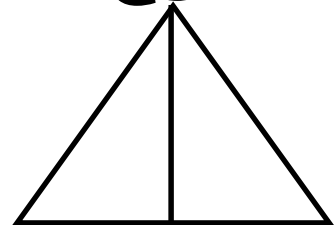


ربع



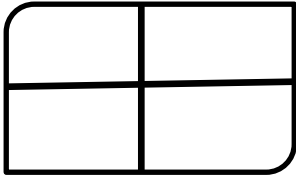
نصف

ربع

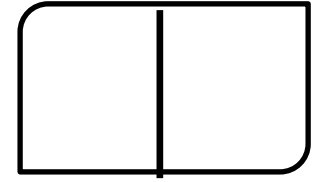


نصف

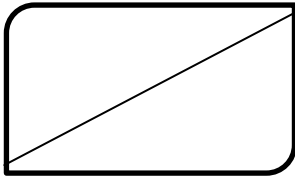
لون الأشكال



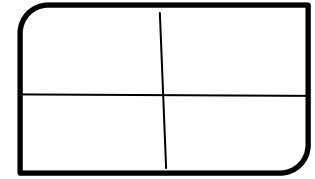
ربع



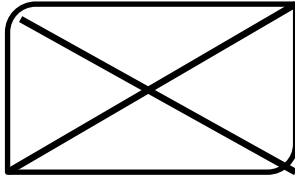
نصف



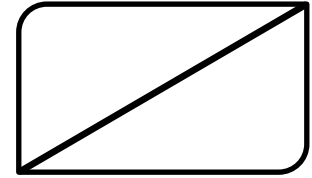
نصف



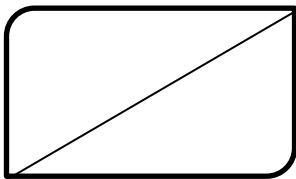
ربع




ربع



نصف



نصف



ربع

اجمع

٧

١

٢

٤

٥

 $٢ +$ $٥ +$ $٣ +$ $١ +$ $٢ +$

٢

٤

٥

١

٣

 $٢ +$ $٢ +$ $٤ +$ $٣ +$ $٤ +$

٦

١

٤

٤

٥

 $٢ +$ $٥ +$ $٣ +$ $١ +$ $٣ +$

٣

٤

٢

٣

٣

 $٢ +$ $٢ +$ $٤ +$ $٣ +$ $٢ +$

الجمع

= ٣ + ١

= ٠ + ٤

= ٣ + ٦

= ٢ + ٢

= ١ + ٢

= ٤ + ١

= ٠ + ٩

= ٣ + ٤

= ١ + ٨

= ٣ + ٦

= ٣ + ٥

= ١ + ٦

= ٢ + ٤

= ٤ + ٥

ضع علامة (> ، = ، <)

٤ + ٤

٤ + ٣

١ + ٧

٣ + ٣

١ + ٣

٣ + ٣

١ + ٤

٣ + ٢

أوجد الناتج

قرأ تامر ٥ قصص في الشهر الأول ، ثم قرأ ٣ قصص في الشهر الثاني . كم قصة قرأها تامر ؟

عدد القصص = + = قصص

مع ريم ٦ جنيهات ، ثم أخذت من والدها ٣ جنيهات . أوجد ما مع سلمى .

ما مع سلمى = + = جنيهات

زرعت المدرسة ٤ أشجار في اليوم الأول ، ثم زرعت ٣ أشجار في اليوم الثاني . كم شجرة زرعتها المدرسة ؟

عدد الأشجار = + = شجرة

الطرح

| | | | | |
|----------------------------------------------------------|----------------------------------------------------------|----------------------------------------------------------|----------------------------------------------------------|----------------------------------------------------------|
| ٧ | ٦ | ٥ | ٤ | ٥ |
| ٢ - | ٥ - | ٣ - | ١ - | ٢ - |
| <input style="width: 100px; height: 40px;" type="text"/> | <input style="width: 100px; height: 40px;" type="text"/> | <input style="width: 100px; height: 40px;" type="text"/> | <input style="width: 100px; height: 40px;" type="text"/> | <input style="width: 100px; height: 40px;" type="text"/> |

| | | | | |
|----------------------------------------------------------|----------------------------------------------------------|----------------------------------------------------------|----------------------------------------------------------|----------------------------------------------------------|
| ٢ | ٤ | ٥ | ٦ | ٧ |
| ٢ - | ٢ - | ٤ - | ٣ - | ٤ - |
| <input style="width: 100px; height: 40px;" type="text"/> | <input style="width: 100px; height: 40px;" type="text"/> | <input style="width: 100px; height: 40px;" type="text"/> | <input style="width: 100px; height: 40px;" type="text"/> | <input style="width: 100px; height: 40px;" type="text"/> |

| | | | |
|----------------------------------------------------------|---------|----------------------------------------------------------|---------|
| <input style="width: 100px; height: 40px;" type="text"/> | = ٣ - ٩ | <input style="width: 100px; height: 40px;" type="text"/> | = ٣ - ٤ |
| <input style="width: 100px; height: 40px;" type="text"/> | = ٥ - ٨ | <input style="width: 100px; height: 40px;" type="text"/> | = ٥ - ٦ |
| <input style="width: 100px; height: 40px;" type="text"/> | = ٤ - ٦ | <input style="width: 100px; height: 40px;" type="text"/> | = ٧ - ٩ |
| <input style="width: 100px; height: 40px;" type="text"/> | = ٥ - ٧ | <input style="width: 100px; height: 40px;" type="text"/> | = ٢ - ٨ |
| <input style="width: 100px; height: 40px;" type="text"/> | = ٢ - ٤ | <input style="width: 100px; height: 40px;" type="text"/> | = ٤ - ٥ |
| <input style="width: 100px; height: 40px;" type="text"/> | = ٥ - ٩ | <input style="width: 100px; height: 40px;" type="text"/> | = ٢ - ٣ |

أوجد الناتج

مع أحمد ٩ جنيهاً ، صرف منها ٤ جنيهاً . أوجد ما تبقى معه .

$$\text{الباقي} = \dots - \dots = \dots \text{ جنيهاً}$$

مع سلمى ٨ جنيهاً ، ذهبت إلى السوق صرفت منها ٣ جنيهاً . أوجد الباقي .

$$\text{الباقي} = \dots - \dots = \dots \text{ جنيهاً}$$

في الثلاجة ٥ قطع حلوى ، أكل أحمد منها ٣ قطع . أوجد الباقي .

$$\text{الباقي} = \dots - \dots = \dots \text{ قطعة}$$

ارسم نقط = عدد أيام الأسبوع في إطار الخمس خانات

| | | | | |
|--|--|--|--|--|
| | | | | |
|--|--|--|--|--|

| | | | | |
|--|--|--|--|--|
| | | | | |
|--|--|--|--|--|

ارسم نقط = عدد أصابع اليدين في إطار الخمس خانات

| | | | | |
|--|--|--|--|--|
| | | | | |
|--|--|--|--|--|

| | | | | |
|--|--|--|--|--|
| | | | | |
|--|--|--|--|--|

ارسم نقط = عدد شهور السنة في إطار الخمس خانات

| | | | | |
|--|--|--|--|--|
| | | | | |
|--|--|--|--|--|

| | | | | |
|--|--|--|--|--|
| | | | | |
|--|--|--|--|--|

| | | | | |
|--|--|--|--|--|
| | | | | |
|--|--|--|--|--|

شهور السنة ١٢ شهر

فبراير

يناير

أبريل

مارس

يونيو

مايو

أغسطس

يوليو

أكتوبر

سبتمبر

ديسمبر

نوفمبر

أكمل شهور السنة

.....

.....

يناير

.....

.....

مارس

.....

مايو

.....

.....

.....

أكتوبر

أكتوبر

.....

.....

.....

.....

مايو

.....

.....

أغسطس

حدد الشهر السابق و الشهر التالي

الشهر التالي

الشهر

الشهر السابق

.....

فبراير

.....

.....

نومبر

.....

.....

أبريل

.....

.....

أغسطس

.....

.....

يونيو

.....

.....

مارس

.....

اكتب :

٨

ثمانية

.....

.....

.....

٧

سبعة

.....

.....

.....

٨

ثمانية

.....

.....

.....

٧

سبعة

.....

.....

.....

اكتب :

١٠

عشرة

٩

تسعة

.....

.....

.....

.....

.....

.....

١٠

عشرة

٩

تسعة

.....

.....

.....

.....


.....

.....


اكتب :

| | | | | | | | | | |
|----|----|----|----|----|----|----|----|----|----|
| ١٩ | ١٨ | ١٧ | ١٦ | ١٥ | ١٤ | ١٣ | ١٢ | ١١ | ١٠ |
| | | | | | | | | | |
| | | | | | | | | | |
| | | | | | | | | | |
| | | | | | | | | | |

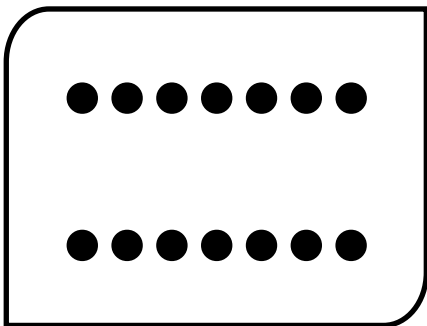
صل




١٣



١٤



١٢




١٠


اكتب :

| | | | | | | | | |
|----|----|----|----|----|----|----|----|----|
| ٩٠ | ٨٠ | ٧٠ | ٦٠ | ٥٠ | ٤٠ | ٣٠ | ٢٠ | ١٠ |
| | | | | | | | | |
| | | | | | | | | |
| | | | | | | | | |
| | | | | | | | | |

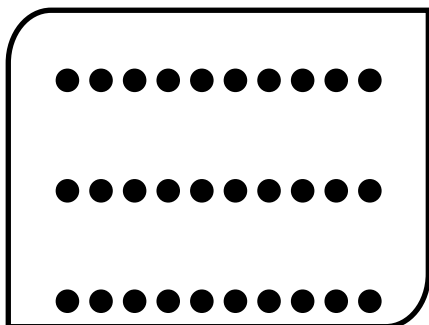
صل




٤٠



٣٠



٢٠

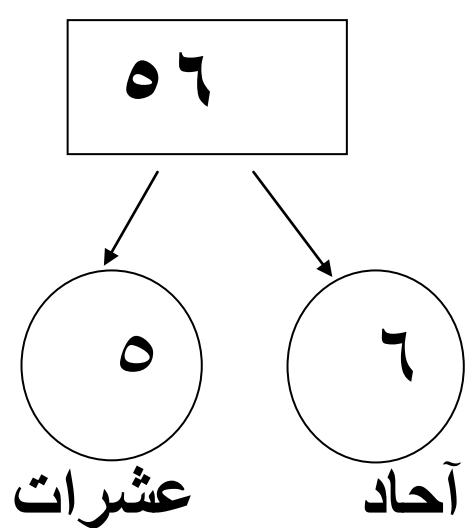
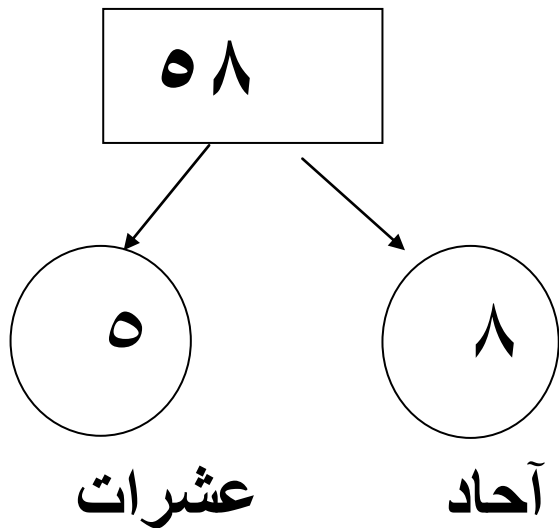
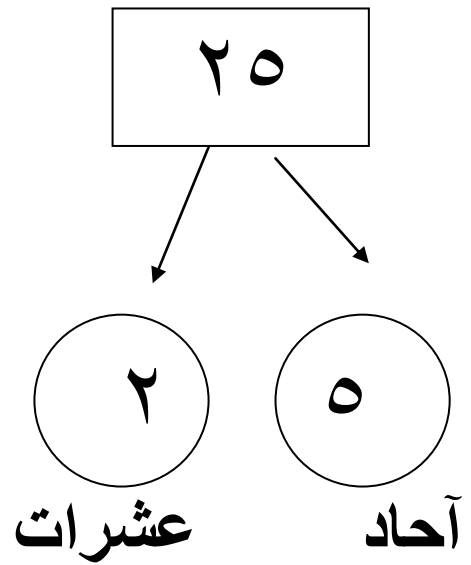
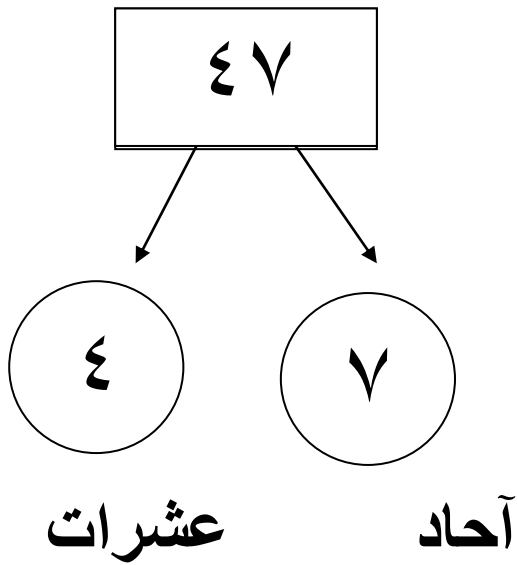
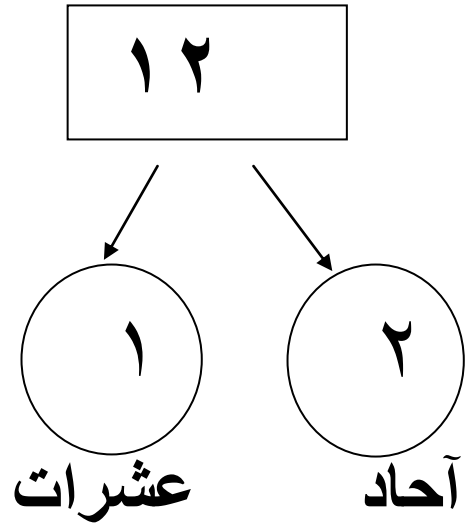
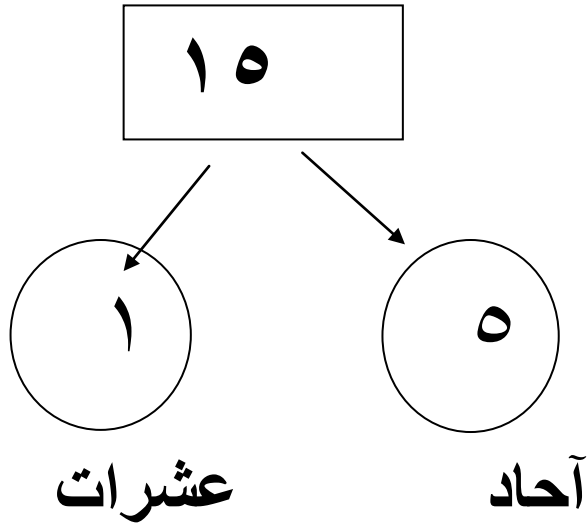


١٠

أكمل :

| | | | | | | | | | |
|----|----|----|---|----|----|----|----|----|----|
| ١٠ | | ٨ | ٧ | | | ٤ | ٣ | | ١ |
| | ١٩ | | | ١٦ | | ١٤ | | | ١١ |
| ٣٠ | | ٢٨ | | | ٢٥ | | | ٢٢ | ٢١ |
| | ٣٩ | | | ٣٦ | | | ٣٣ | | |

| | | | | | | | | | |
|----|----|----|----|----|----|----|----|----|----|
| ١٠ | | | ٧ | | | ٤ | | | ١ |
| ٢٠ | | | ١٧ | | | ١٤ | | ١٢ | |
| | ٢٩ | | | | ٢٥ | | | | ٢١ |
| | | ٣٨ | | | | ٣٤ | | ٣٢ | |
| ٥٠ | | | | ٤٦ | | | | | ٤١ |
| | ٥٩ | | ٥٧ | | | | ٥٣ | | |
| ٧٠ | | ٦٨ | | | ٦٥ | | | ٦٢ | |
| | ٧٩ | | | ٧٦ | | | ٧٣ | | |



ضع علامة (< ، > ، =)

٦٩

٧٤

٤٧

١٩

٧٤

٣٥

١٦

٥٨

٣٥

١٦

٥٢

٨٥

٥٧

٥٧

٤٧

٢٦

٢٥

٨٥

٧٣

٤٥

٣٩

٣٩

٦٢

٧٤

٢٦

٤٤

١٥

٧٣

٦٢

٣٣

٨٢

٨٢

٣٧

٣٢

٦٦

٦٨

=

ضع علامة (< , > , =)

٨٠ ٦٠

٥٠ ٥٠

٥٨ ٣٨

٩١ ٣٧

٢٢ ٣٨

٦٤ ٦٧

٧٤ ٧٧

٦٥ ١٥

٥٥ ٥٥

٣٩ ٦٦

٧٠ ٣٠

٦٠ ٤٠

٤٦ ٤٥

٤٨ ٤٦

٩٩ ٩٧

٤٤ ٤٤

٥٤ ٤٥

٤٩ ٤٣


٤٩ ٩٢

٤٦ ٤٥


=

- اكتب العدد السابق


٣٤




٣١




٢٢




٢٣




٤٤




٤٧



٧٤



- اكتب العدد التالي




١٣



٦٥




٣٤



١٧



٥٦



٢٥



٣٨

رتب تصاعديا (من الأصغر الى الأكبر)

١٢

١٤

١١

١٣

١٢

١٤

١٣

١٥

٣٥

٣٧

٣٤

٣٦

٣٣

٤٥

٥٨

٢٢

٧١

٨٩

٥٦

٦٣

رتب تنازليا (من الأكبر الى الأصغر)

١٢

١٤

١١

١٣

١٢

١٤

١٣

١٥

٣٥

٣٧

٣٤

٣٦

٣٣

٤٥

٥٨

٢٢

٧١

٨٩

٥٦

٦٣

اجمع

٧ ٥

١ ٥

٢ ٢

١ ٤

٥ ٠

٢ ١ +

٢ +

٣ ٢ +

٢ +

١ ٠ +

٢ ٠

٤ ٠

٥ ٠

١ ٣

٢ ٣

٤ ٢ +

٢ ٥ +

٢ ٤ +

٦ +

٤ ٢ +

٤ ٥

١ ٥

٤ ٢

١ ٥

٦ ٢

٢ ١ +

٢ ٣ +

٣ ٢ +

١ ٢ +

١ ٢ +

٢ ٠

٥ ٠

٥ ١

١ ٢

٢ ١

٣ ٢ +

٢ ٠ +

٢ ٣ +

٣ ٦ +

٥ ٢ +

أوجد الناتج :

قرأ تامر ١٣ قصة في الشهر الأول ، ثم قرأ ١١ قصة في الشهر الثاني . كم قصة قرأها تامر ؟

عدد القصص = + = قصص

مع سلمى ٢٥ جنيها ، ثم أخذت من والدها ١٣ جنيها . أوجد ما مع سلمى .

ما مع سلمى = + = جنيها

زرعت المدرسة ٢٤ شجرة في اليوم الأول ، ثم زرعت ٣٥ شجرة في اليوم الثاني . كم شجرة زرعتها المدرسة ؟

عدد الأشجار = + = شجرة

الجمع

= ٣ ٣ + ١ ٢

= ١ ٠ + ٤ ١

= ٣ ٣ + ٤ ٢

= ١ ٠ + ٤ ٠

= ٣ ٣ + ١ ٢

= ١ ٠ + ٣ ١

= ١ ٣ + ٤ ١

= ٢ ٣ + ٤ ١

= ١ ١ + ٨ ١

= ٢ ٢ + ٤ ٢

= ١ ٥ + ٥ ١

= ٢ ٠ + ٤

= ١ ١ + ٧ ١

= ١ ٣ + ٧ ١

ضع علامة (> ، = ، <) <u>

١ ٣ + ٥ ٤

٤ ٤ + ٢ ٣

٤ ١ + ٧ ٥

٢ ٣ + ٤ ٣

٤ ١ + ٥ ٣

٣ ٣ + ٦ ٣

٦ ١ + ٢ ٤

٣ ٣ + ٦ ٢

الطرح

٧ ٣ ٦ ٢ ١ ٥ ٥ ٤ ٧ ٥

$$\begin{array}{r} 22 \\ - 22 \\ \hline \end{array}$$

$$\begin{array}{r} 53 \\ - 53 \\ \hline \end{array}$$

$$\begin{array}{r} 32 \\ - 32 \\ \hline \end{array}$$

$$\begin{array}{r} 12 \\ - 12 \\ \hline \end{array}$$

$$\begin{array}{r} 12 \\ - 12 \\ \hline \end{array}$$

٨ ٣ ٧ ٢ ١ ٧ ٥ ٠ ٦ ٥

$$\begin{array}{r} 22 \\ - 22 \\ \hline \end{array}$$

$$\begin{array}{r} 3 \\ - 3 \\ \hline \end{array}$$

$$\begin{array}{r} 12 \\ - 12 \\ \hline \end{array}$$

$$\begin{array}{r} 10 \\ - 10 \\ \hline \end{array}$$

$$\begin{array}{r} 12 \\ - 12 \\ \hline \end{array}$$

$$\boxed{} = 23 - 92$$

$$\boxed{} = 32 - 34$$

$$\boxed{} = 25 - 38$$

$$\boxed{} = 52 - 63$$

$$\boxed{} = 24 - 36$$

$$\boxed{} = 27 - 29$$

$$\boxed{} = 23 - 72$$

$$\boxed{} = 22 - 33$$

$$\boxed{} = 5 - 38$$

$$\boxed{} = 50 - 60$$

$$\boxed{} = 24 - 36$$

$$\boxed{} = 27 - 29$$

أوجد الناتج :

مع أحمد ٩ جنيهاً ، صرف منها ٤ جنيهاً . أوجد ما تبقى معه .

الباقي = - = جنيهاً

مع سلمى ٨ جنيهاً ، ذهبت إلى السوق صرفت منها ٣ جنيهاً . أوجد الباقي .

الباقي = - = جنيهاً

في الثلاجة ٥ قطع حلوى ، أكل أحمد منها ٣ قطع . أوجد الباقي .

الباقي = - = قطعة

مجموعة العدد

مجموعة العدد ٢

$$\dots = 0 + 2$$

$$\dots = 1 + 2$$

$$\dots = 2 + 2$$

$$\dots = 3 + 2$$

$$\dots = 4 + 2$$

$$\dots = 5 + 2$$

$$\dots = 6 + 2$$

$$\dots = 7 + 2$$

$$\dots = 8 + 2$$

$$\dots = 9 + 2$$

$$\dots = 10 + 2$$

مجموعة العدد ١

$$\dots = 0 + 1$$

$$\dots = 1 + 1$$

$$\dots = 2 + 1$$

$$\dots = 3 + 1$$

$$\dots = 4 + 1$$

$$\dots = 5 + 1$$

$$\dots = 6 + 1$$

$$\dots = 7 + 1$$

$$\dots = 8 + 1$$

$$\dots = 9 + 1$$

$$\dots = 10 + 1$$

مجموعة العدد

مجموعة العدد ٤

$$\dots = 0 + 4$$

$$\dots = 1 + 4$$

$$\dots = 2 + 4$$

$$\dots = 3 + 4$$

$$\dots = 4 + 4$$

$$\dots = 5 + 4$$

$$\dots = 6 + 4$$

$$\dots = 7 + 4$$

$$\dots = 8 + 4$$

$$\dots = 9 + 4$$

$$\dots = 10 + 4$$

مجموعة العدد ٣

$$\dots = 0 + 3$$

$$\dots = 1 + 3$$

$$\dots = 2 + 3$$

$$\dots = 3 + 3$$

$$\dots = 4 + 3$$

$$\dots = 5 + 3$$

$$\dots = 6 + 3$$

$$\dots = 7 + 3$$

$$\dots = 8 + 3$$

$$\dots = 9 + 3$$

$$\dots = 10 + 3$$

مجموعة العدد

مجموعة العدد ٦

..... = ٠ + ٦

..... = ١ + ٦

..... = ٢ + ٦

..... = ٣ + ٦

..... = ٤ + ٦

..... = ٥ + ٦

..... = ٦ + ٦

..... = ٧ + ٦

..... = ٨ + ٦

..... = ٩ + ٦

..... = ١٠ + ٦

مجموعة العدد ٥

..... = ٠ + ٥

..... = ١ + ٥

..... = ٢ + ٥

..... = ٣ + ٥

..... = ٤ + ٥

..... = ٥ + ٥

..... = ٦ + ٥

..... = ٧ + ٥

..... = ٨ + ٥

..... = ٩ + ٥

..... = ١٠ + ٥

مجموعة العدد

مجموعة العدد ٨

$$\dots = 0 + 8$$

$$\dots = 1 + 8$$

$$\dots = 2 + 8$$

$$\dots = 3 + 8$$

$$\dots = 4 + 8$$

$$\dots = 5 + 8$$

$$\dots = 6 + 8$$

$$\dots = 7 + 8$$

$$\dots = 8 + 8$$

$$\dots = 9 + 8$$

$$\dots = 10 + 8$$

مجموعة العدد ٧

$$\dots = 0 + 7$$

$$\dots = 1 + 7$$

$$\dots = 2 + 7$$

$$\dots = 3 + 7$$

$$\dots = 4 + 7$$

$$\dots = 5 + 7$$

$$\dots = 6 + 7$$

$$\dots = 7 + 7$$

$$\dots = 8 + 7$$

$$\dots = 9 + 7$$

$$\dots = 10 + 7$$

مجموعة العدد

مجموعة العدد ١٠

$$= ٠ + ١٠$$

$$= ١ + ١٠$$

$$= ٢ + ١٠$$

$$= ٣ + ١٠$$

$$= ٤ + ١٠$$

$$= ٥ + ١٠$$

$$= ٦ + ١٠$$

$$= ٧ + ١٠$$

$$= ٨ + ١٠$$

$$= ٩ + ١٠$$

$$= ١٠ + ١٠$$

مجموعة العدد ٩

$$= ٠ + ٩$$

$$= ١ + ٩$$

$$= ٢ + ٩$$

$$= ٣ + ٩$$

$$= ٤ + ٩$$

$$= ٥ + ٩$$

$$= ٦ + ٩$$

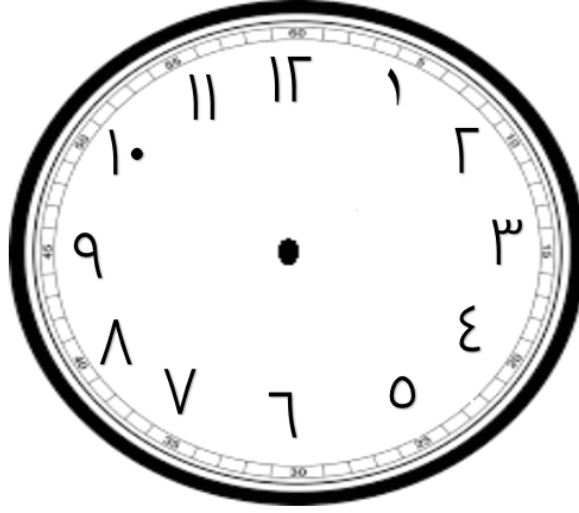
$$= ٧ + ٩$$

$$= ٨ + ٩$$

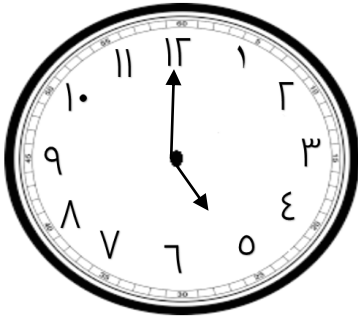
$$= ٩ + ٩$$

$$= ١٠ + ٩$$

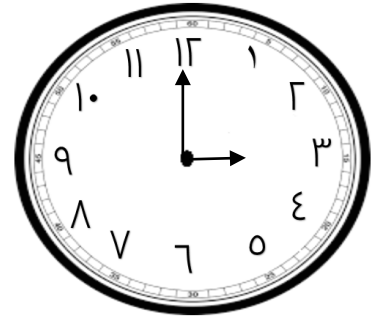
الساعة



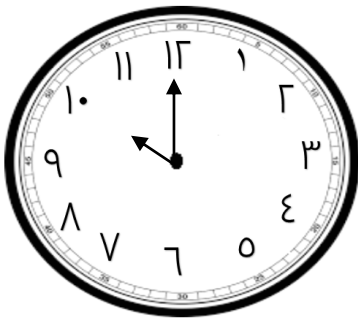
اليوم = ٢٤ ساعة



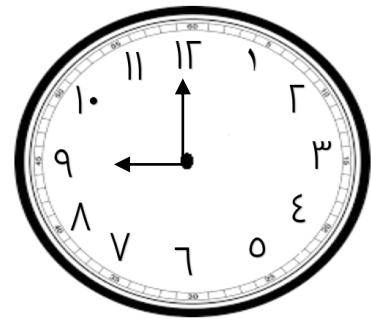
..... الساعة :



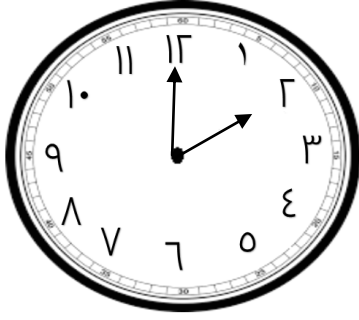
..... الساعة :



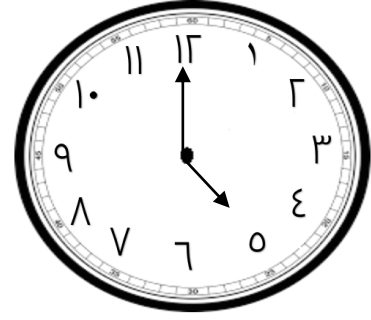
..... الساعة :



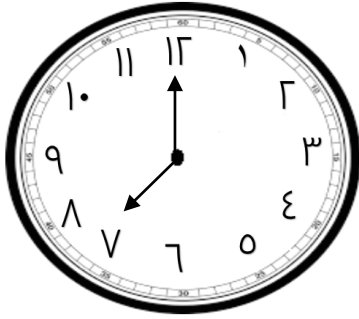
..... الساعة :



الساعة :



الساعة :

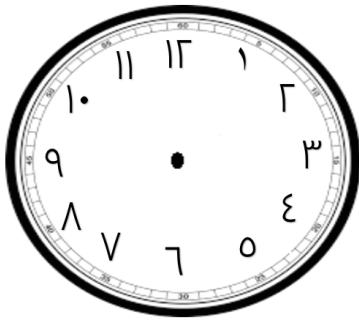


الساعة :

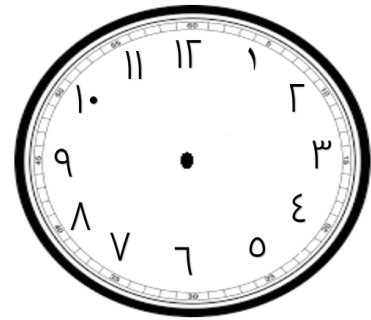


الساعة :

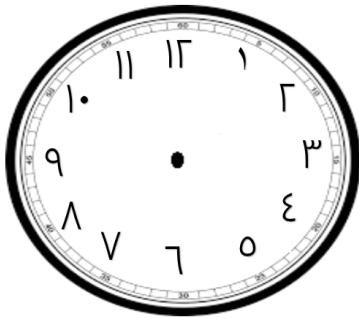
ارسم عقارب الساعة :



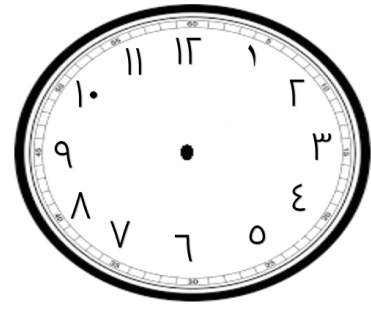
الساعة : ٧ : ٠٠



الساعة : ٥ : ٠٠



الساعة : ١٠ : ٠٠



الساعة : ٣ : ٠٠

الساعة الرقمية :

05:00

..... الساعة :.....

03:25

..... الساعة :.....

12:15

..... الساعة :.....

06:30

..... الساعة :.....

10:05

..... الساعة :.....

02:20

..... الساعة :.....

09:07

..... الساعة :.....

11:20

..... الساعة :.....

04:45

..... الساعة :.....

06:27

..... الساعة :.....

مجموعة العدد

مجموعة العدد ٢

$$\dots = 0 - 2$$

$$\dots = 1 - 2$$

$$\dots = 2 - 2$$

مجموعة العدد ١

$$\dots = 0 - 1$$

$$\dots = 1 - 1$$

مجموعة العدد

مجموعة العدد ٤

$$\dots = 0 - 4$$

$$\dots = 1 - 4$$

$$\dots = 2 - 4$$

$$\dots = 3 - 4$$

$$\dots = 4 - 4$$

مجموعة العدد ٣

$$\dots = 0 - 3$$

$$\dots = 1 - 3$$

$$\dots = 2 - 3$$

$$\dots = 3 - 3$$

مجموعة العدد

مجموعة العدد ٦

$$\dots = ٠ - ٦$$

$$\dots = ١ - ٦$$

$$\dots = ٢ - ٦$$

$$\dots = ٣ - ٦$$

$$\dots = ٤ - ٦$$

$$\dots = ٥ - ٦$$

$$\dots = ٦ - ٦$$

مجموعة العدد ٥

$$\dots = ٠ - ٥$$

$$\dots = ١ - ٥$$

$$\dots = ٢ - ٥$$

$$\dots = ٣ - ٥$$

$$\dots = ٤ - ٥$$

$$\dots = ٥ - ٥$$

مجموعة العدد

مجموعة العدد ٨

..... = ٠ - ٨

..... = ١ - ٨

..... = ٢ - ٨

..... = ٣ - ٨

..... = ٤ - ٨

..... = ٥ - ٨

..... = ٦ - ٨

..... = ٧ - ٨

..... = ٨ - ٨

مجموعة العدد ٧

..... = ٠ - ٧

..... = ١ - ٧

..... = ٢ - ٧

..... = ٣ - ٧

..... = ٤ - ٧

..... = ٥ - ٧

..... = ٦ - ٧

..... = ٧ - ٧

مجموعة العدد

مجموعة العدد ١٠

$$\dots = 10 - 0$$

$$\dots = 10 - 1$$

$$\dots = 10 - 2$$

$$\dots = 10 - 3$$

$$\dots = 10 - 4$$

$$\dots = 10 - 5$$

$$\dots = 10 - 6$$

$$\dots = 10 - 7$$

$$\dots = 10 - 8$$

$$\dots = 10 - 9$$

$$\dots = 10 - 10$$

مجموعة العدد ٩

$$\dots = 9 - 0$$

$$\dots = 9 - 1$$

$$\dots = 9 - 2$$

$$\dots = 9 - 3$$

$$\dots = 9 - 4$$

$$\dots = 9 - 5$$

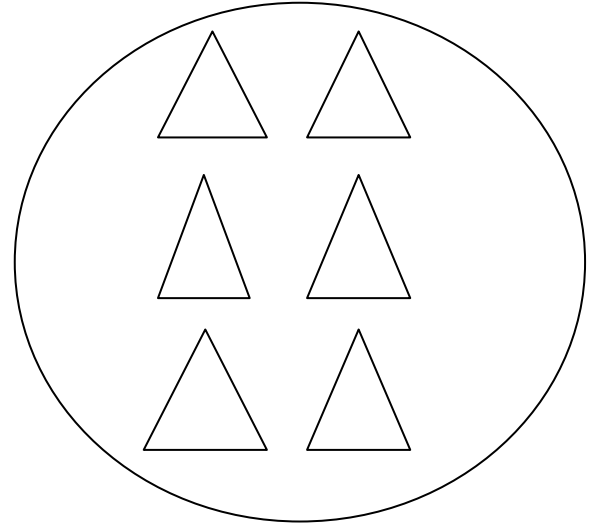
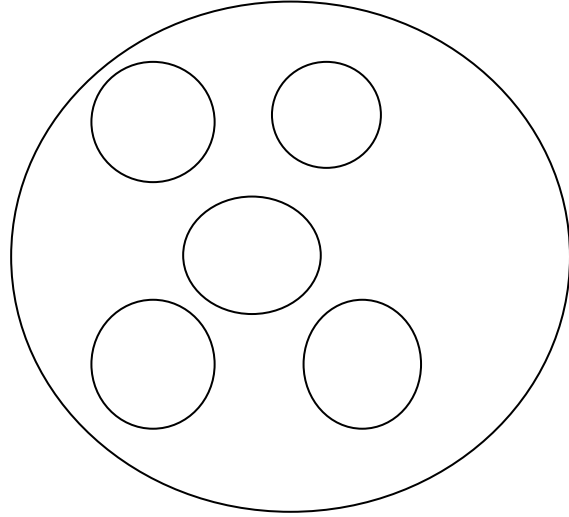
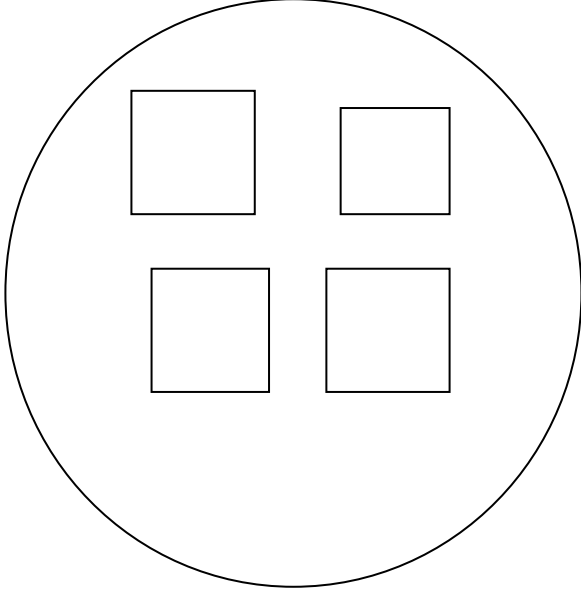
$$\dots = 9 - 6$$

$$\dots = 9 - 7$$




$$\dots = 9 - 8$$

$$\dots = 9 - 9$$

عد و اكتب و لون حسب العدد :



| | | |
|--|--|--|
| | | |
| | | |
| | | |
| | | |
| | | |
| | | |
| | | |
| | | |

| | |
|--|---------------------------------------------------------------------------------------|
| |  |
| |  |
| |  |

شهور السنة ١٢ شهر

فبراير

يناير

أبريل

مارس

يونيو

مايو

أغسطس

يوليو

أكتوبر

سبتمبر

ديسمبر

نوفمبر

أكمل شهور السنة

.....

.....

يناير

.....

.....

مارس

.....

مايو

.....

.....

.....

أكتوبر

أكتوبر

.....

.....

.....

.....

مايو

.....

.....

أغسطس

حدد الشهر السابق و الشهر التالي

الشهر التالي

الشهر

الشهر السابق

.....

فبراير

.....

.....

نومبر

.....

.....

أبريل

.....

.....

أغسطس

.....

.....

يونيو

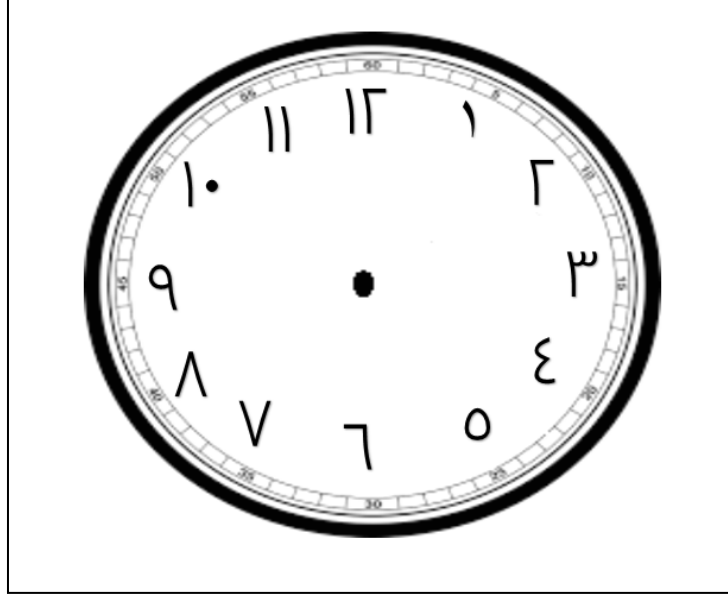
.....

.....



مارس

.....

الساعة





اليوم = ٢٤ ساعة




..... : الساعة

..... : الساعة




..... : الساعة


..... : الساعة




الساعة :



الساعة :

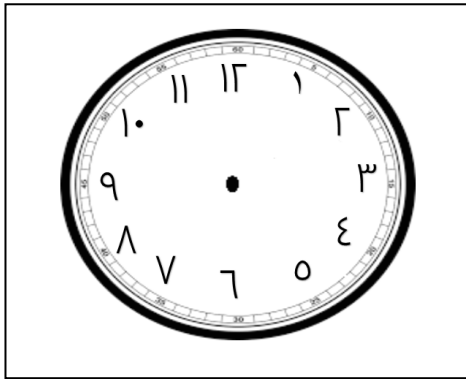


الساعة :




الساعة :

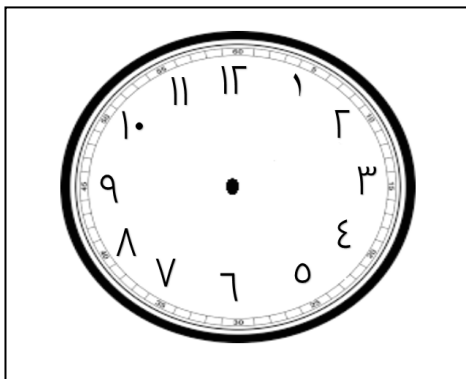
ارسم عقارب الساعة :



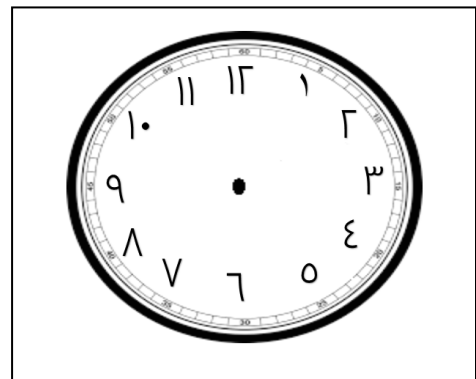
الساعة : ٧ : ٠٠



الساعة : ٥ : ٠٠



الساعة : ١٠ : ٠٠



الساعة : ٣ : ٠٠

أكمل :

$$\dots\dots\dots = 4 + 3 \quad \dots\dots\dots = 2 + \dots \quad \dots\dots\dots = 2 - 0$$

$$\dots\dots\dots = 2 + 2 \quad \dots\dots\dots = 3 + 3 \quad \dots\dots\dots = 1 - 8$$

$$\dots\dots\dots = 0 + 1 \quad \dots\dots\dots = 4 + 4 \quad \dots\dots\dots = 0 - 4$$

$$\dots\dots\dots = 0 + 9 \quad \dots\dots\dots = 8 - 9 \quad \dots\dots\dots = 8 - 9$$

$$\dots\dots\dots = 3 + 2 \quad \dots\dots\dots = 1 + 1 \quad \dots\dots\dots = 0 - 7$$

ضع خطأ تحت أصغر الأعداد ضع خطأ تحت أكبر الأعداد

| | |
|-------------------|-------------------|
| ٢ ، ٠ ، ٩ ، ٤ ، ٥ | ١ ، ٦ ، ٧ ، ٠ ، ٣ |
|-------------------|-------------------|

رتب الأعداد الآتية من الأصغر للأكبر : (تصاعدياً)

٧ ، ٢ ، ٣ ، ٩ ، ٠ ، ٤

.....

١٠ ، ٩٠ ، ٨٥ ، ٧٦ ، ٨٤

.....

١٥ ، ٠ ، ١٠ ، ١٧ ، ٣٤

.....

٥ ، ١٩ ، ١٥ ، ٣٠ ، ٢٥

.....

رتب الأعداد الآتية من الأكبر للأصغر : (تنازليا)

١٨ ، ٢٠ ، ٠ ، ٢٥ ، ١٠ ،

٦٥ ، ٥٠ ، ٧٥ ، ٩٠ ، ٨٠ ،

رتب الأعداد الآتية من الأكبر للأصغر : (تنازليا)

٧٥ ، ٩١ ، ٦٢ ، ٤٦ ، ٥٥ ،

أكتب الأعداد الآتية في أماكنها بحيث تكون مرتبة من الأصغر للأكبر:

٦٠ ، ٤٦ ، ٤٩ ، ٩١ ، ٣٤

| | | | | | | | | | |
|----|-------|----|-------|----|-------|----|-------|----|-------|
| ٢٩ | | ٤٣ | | ٤٧ | | ٥٢ | | ٧٣ | |
|----|-------|----|-------|----|-------|----|-------|----|-------|

أكمل بالترتيب :

٠ ، ١ ، ، ٤ ، ، ، ، ٨ ،

١٠ ، ، ٨ ، ، ، ، ٥ ، ، ، ، ١ ،

..... ، ٣٠ ، ٢٠ ، ١٠ ،

..... ، ٨٠ ، ٩٠ ،

أكمل:

$$\dots + 3 = 10$$

$$\dots + 8 = 10$$

$$\dots + 1 = 10$$

$$\dots + 6 = 10$$

ضع خطا تحت العددين اللذين مجموعهما ١٠:

$$1 + 4 + 7 + 5 + 3$$

$$5 + 8 + 6 + 5 + 7$$

$$2 + 1 + 6 + 4 + 7$$

أكمل:

$$10 = \dots + 5 + 2$$

$$10 = \dots + 3 + 3$$

$$10 = \dots + 2 + 7$$

$$\dots = 1 + 7$$

$$\dots = 2 + 4$$

$$\dots = 10 + 70$$

$$\dots = 20 + 40$$

٣ عشرات + ٥ عشرات = عشرات

$$\dots\dots\dots + ٧ = ١٧$$

$$\dots\dots\dots + ٣ = ٢٣$$

$$٦٠ + \dots\dots\dots = ٦٥$$

$$\dots\dots\dots + \dots\dots\dots = ٩٤$$

$$٧٠ + ١ = \dots\dots\dots$$

$$\dots\dots\dots + \dots\dots\dots = ٨٠$$

أكمل

$$\dots\dots\dots + \dots\dots\dots = ١٠$$

$$٥٠ + ٣ = \dots\dots\dots$$

$$٤٠ + ٤ = \dots\dots\dots$$

$$\dots\dots\dots = ٥٠ + ٣٠$$

$$\dots\dots\dots = ٧٠ + ٤$$

$$٨٨ = \dots\dots\dots + ٨$$

$$٧٠ = \dots\dots\dots + ٢٠$$

$$٤٠ = ٣٠ - \dots\dots\dots$$

الأحاد والعشرات

أكمل:

..... = ٣ آحاد + ٥ عشرات

..... = ٩ آحاد + عشرتين

..... = ٨ آحاد + عشرة واحدة

..... = ٤ آحاد + ٧ عشرات

٦٤ = آحاد و عشرات

٥٣ = آحاد و عشرات

..... = ٧ آحاد وعشرتين

..... = ٩ آحاد

..... = ٥ عشرات

..... = ٣ عشرات ، ٤ آحاد

..... = ٨ عشرات ، ٣ آحاد

..... = ٥ آحاد ، ٧ عشرات

..... = ٩ آحاد و عشرة واحدة

..... = واحد و عشرتين

الأحاد والعشرات

أكمل

أربعة وخمسون = ٤ + ٥٠ =

ثلاثة وستون = + =

..... وتسعون = + = ٩٢

..... = + = ٧١

اختر الإجابة الصحيحة مما بين القوسين

القيمة المكانية للرقم ٧ في العدد ٧٤ هي

(٧ ، ٧٠ ، ١٧)

القيمة المكانية للرقم ٢ في العدد ٥٢ هي

(٢ ، ٢٠ ، ٢٠٠)

القيمة المكانية للرقم ٩ في العدد ٩٨ هي

(٩ ، ٩٠ ، ٩٠٠)

٣ عشرات ، ٤ أحاد العدد هو

(٣٠ ، ٤٣ ، ٣٤)

ما أصغر عدد مكون من رقمين ؟


ما أكبر عدد مكون من رقمين ؟

المجسمات


احفظ :




مستطيل




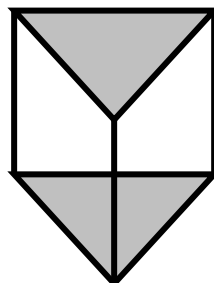
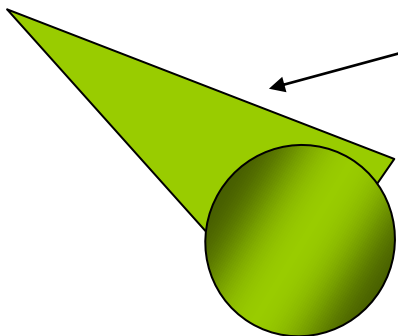
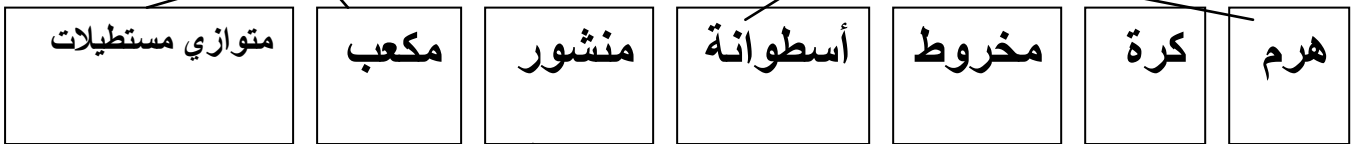
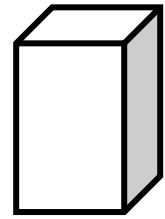
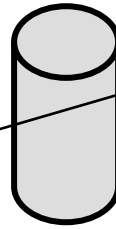
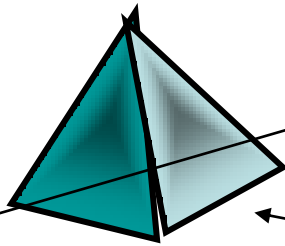
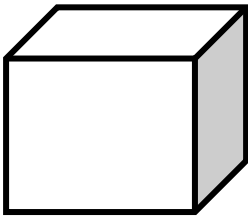
مربع



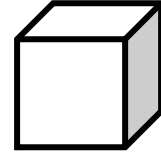
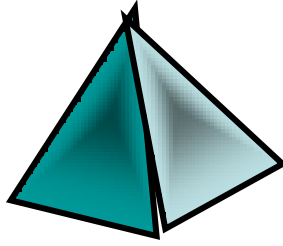

مثلث



دائرة



صل كل مجسم باسمه :



متوازي مستطيلات

مكعب

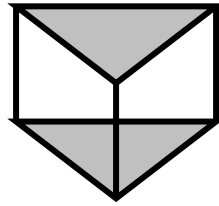
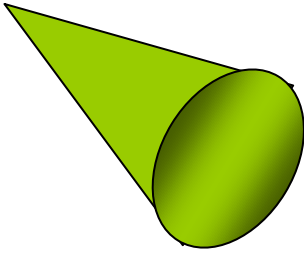
منشور

أسطوانة

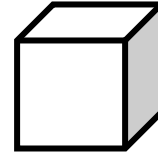
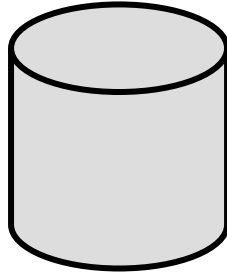

مخروط

كرة

هرم



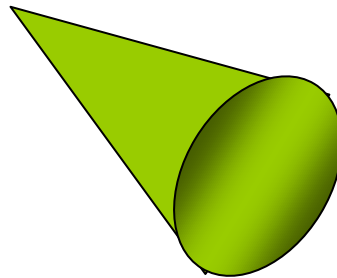
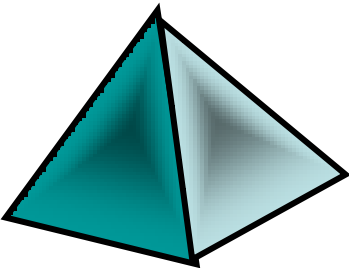
اكتب اسم الجسم :



.....

.....

.....

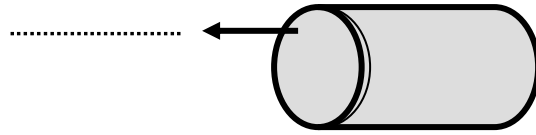
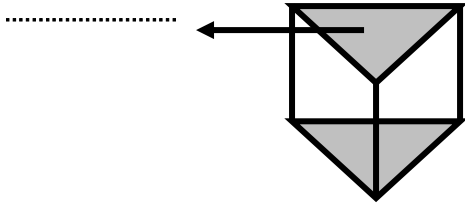
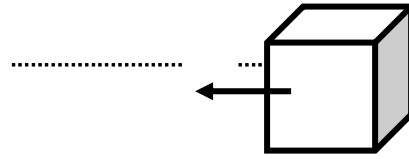
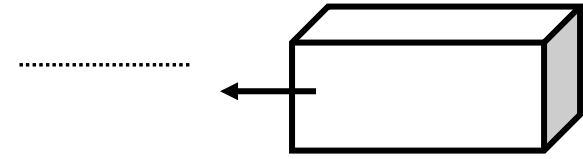


.....


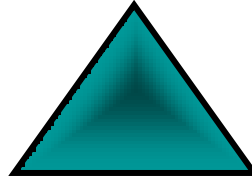

.....

.....

اكتب اسم الشكل الذي يشير إليه السهم :



صل كل شكل باسمه:



مثلث

مستطيل

دائرة

مربع

تدريبات على الجمع

اجمع:

٨٤

١٢+

٢٢

٥٥+

٢٣

٤٤+

٣٤

٥٢+

.....

.....

.....

.....