

20
25

الصف السادس
الابتدائي
الفصل
الدراسي الاول

6

اصحاب الأرض

نسبة خاصة تضمنا مع التضييق الفلسطيني

فلسطين قضيتي

المتفوق

دراسات



إعداد
أ / محمود قرني
مراجعة
أ / حاتم عاطف

واتساب سلسلة المتفوق
01020508205



جروب المتفوق
على فيس بوك



قناة المتفوق
على يوتيوب



جروب المتفوق
على تيليجرام

مراجعة
الشهر



لتبخر ببعائنا
غزة اتصل على

15322

الهلال الأحمر المصري

KTABYEG.COM

بنك أسئلة شهر نوفمبر



السؤال الأول

أكثر الاجابة الصحيحة مما يلي:

١. تسقط أمطار موسمية صيفية على أجزاء من دولة
 ا. لبنان ب. سوريا ج. تونس د. الصومال
٢. نبات طبيعي ينمو في الإقليم المداري بالوطن العربي
 ا. حشائش السافانا ب. أشجار الصنوبر ج. حشائش الإستبس د. أشجار الأرز
٣. تنمو أشجار الأرز في إقليم مناخ
 ا. المداري ب. البحر المتوسط ج. الموسمي د. الصحراوي
٤. محمية أرز الشوف من المحميات الطبيعية في دولة
 ا. مصر ب. المغرب ج. تونس د. لبنان
٥. ثلعب الصعاء والزواحف من حيوانات الإقليم
 ا. الصحراوي ب. البحر المتوسط ج. الموسمي د. المداري
٦. حشائش الإستبس من الحشائش التي تنمو في إقليم
 ا. المداري ب. البحر المتوسط ج. الموسمي د. الصحراوي
٧. حشائش تربي عليها الأغنام والماعز
 ا. الصبار ب. السافانا ج. الإستبس د. التندرا
٨. لبنان وليبيا وشمال العراق من المناطق التي تقع في إقليم
 ا. الصحراوي ب. البحر المتوسط ج. الموسمي د. المداري
٩. إقليم يمتد في جنوب الوطن العربي
 ا. الصحراوي ب. المداري ج. الموسمي د. البحر المتوسط
١٠. محمية جبل علبة من أشهر محميات الوطن العربي في دولة
 ا. السعودية ب. لبنان ج. عمان د. مصر
١١. ينتمي الجزء الجنوبي الغربي من دولة اليمن إلي إقليم المناخ
 ا. المداري ب. البحر المتوسط ج. الموسمي د. الصحراوي





١٢. تسقط أمطار الإقليم المداري في فصل
- أ. الشتاء ب. الصيف ج. الخريف د. الربيع
١٣. أي من الدول التالية تقع بأكملها في الإقليم الصحراوي الحار
- أ. الجزائر ب. مصر ج. عُمان د. اليمن
١٤. أشجار الصنوبر من الأشجار التي تنمو في إقليم
- أ. الصحراوي ب. البحر المتوسط ج. الموسمي د. المداري
١٥. حشائش تنمو في إقليم البحر المتوسط
- أ. الصبار ب. السافانا ج. الإستبس د. التندرا
١٦. محمية ضانا من أشهر محميات الوطن العربي في دولة
- أ. الأردن ب. لبنان ج. عُمان د. مصر
١٧. كل الدول التالية تقع في إقليم البحر المتوسط ما عدا
- أ. سوريا ب. لبنان ج. الإمارات د. مصر
١٨. يعيش الأسود والزراف في إقليم مناخ
- أ. البحر المتوسط ب. المداري ج. الصحراوي د. التندرا
١٩. تسقط الأمطار الصيفية على جنوب موريتانيا بسبب وقوعها في الإقليم
- أ. الصحراوي ب. البحر المتوسط ج. الموسمي د. المداري
٢٠. تقع الأجزاء الشمالية من دولة ليبيا في إقليم
- أ. البحر المتوسط ب. المداري ج. الصحراوي د. التندرا
٢١. تقع السواحل الشمالية من دولة الصومال في إقليم مناخ
- أ. الصحراوي ب. البحر المتوسط ج. الموسمي د. المداري
٢٢. تسقط الأمطار في إقليم البحر المتوسط في فصل
- أ. الشتاء ب. الصيف ج. الخريف د. الربيع
٢٣. يعاني نحو
- أ. ثلث ب. ربع ج. نصف د. ثلثي
٢٤. إحدى الدول العربية التي أطلقت مبادرة لزيادة المساحات الخضراء
- أ. الصومال ب. مصر ج. السعودية د. اليمن
٢٥. دولة أعلنت عن إنشاء مدينة نيوم الخضراء
- أ. السعودية ب. لبنان ج. عُمان د. مصر





٢٦. أطلقت دولة مبادرة زراعة 100 مليون شجرة مثمرة
- أ. اليمن ب. مصر ج. السعودية د. اليمن
٢٧. الرعي الجائر للحيوانات وإزالة الغابات من أسباب حدوث مشكلة.....
- أ. التصحر ب. ندرة المياه ج. الجفاف د. التلوث
٢٨. تناقص قدرة الأرض الزراعية على الإنتاج ، تشير هذه العبارة إلى مصطلح.....
- أ. التصحر ب. ندرة المياه ج. الجفاف د. التلوث
٢٩. صاحب الرسول ﷺ في الهجرة وتزوج الرسول ﷺ من ابنته السيدة عائشة.....
- أ. أبو بكر الصديق ب. عمر بن الخطاب ج. عثمان بن عفان د. علي بن أبي طالب
٣٠. الخليفة الذي قام بإنشاء الدواوين في الدولة الإسلامية
- أ. أبو بكر الصديق ب. عمر بن الخطاب ج. عثمان بن عفان د. علي بن أبي طالب
٣١. أظهر قدرة فائقة في إدارة شئون الدولة وأعاد للدولة وحدتها وأمنها.....
- أ. أبو بكر الصديق ب. عمر بن الخطاب ج. عثمان بن عفان د. علي بن أبي طالب
٣٢. أشار على أبو بكر الصديق بجمع القرآن في المصحف ودامت خلافته عشر سنوات.....
- أ. أبو بكر الصديق ب. عمر بن الخطاب ج. عثمان بن عفان د. علي بن أبي طالب
٣٣. تقوم الزراعة في الواحات بالصحاري العربية اعتمادا على.....
- أ. الأنهار ب. الأمطار ج. المياه الجوفية د. مياه التحلية
٣٤. تحتفل الدول العربية يوم من كل عام بيوم الزراعة العربي
- أ. 27 سبتمبر ب. 27 أكتوبر ج. 27 نوفمبر د. 27 ديسمبر
٣٥. أولى الدول العربية في إنتاج الحبوب الغذائية.....
- أ. مصر ب. السعودية ج. الأردن د. العراق
٣٦. أولى الدول العربية في إنتاج محاصيل الألياف.....
- أ. مصر ب. السودان ج. الأردن د. العراق
٣٧. تتركز زراعة البن في دولة
- أ. الصومال ب. مصر ج. السعودية د. اليمن
٣٨. يعتبر بنجر السكر وقصب السكر من محاصيل.....
- أ. الحبوب الغذائية ب. محاصيل الألياف ج. المحاصيل السكرية د. الموالح
٣٩. أعلنت منظمة "الفاو" واحة ليوا والعين في دولة مواقع للتراث الزراعي العالمي.....
- أ. الإمارات ب. عمان ج. الأردن د. العراق





٤٠. من الأنهار التي تقوم حولها الزراعة في الوطن العربي.....
 ا. مصر ب. السعودية ج. الأردن د. العراق
٤١. دولة تقوم فيها الزراعة اعتمادا على مياه الأنهار.....
 ا. الصومال ب. مصر ج. السودان د. اليمن
٤٢. إحدى المقومات الطبيعية لقيام الزراعة في الوطن العربي.....
 ا. رأس المال ب. السوق ج. شبكات النقل د. تنوع المناخ

السؤال الثاني

اكتب ما تنتير إليه العبارة التالية:

1. إقليم مناخي يقع في جنوب الوطن العربي (.....)
2. منطقة جغرافية تتسم بخصائص مناخية تميزها عن غيرها (.....)
3. إقليم مناخي يقع في الأطراف الشمالية للوطن العربي (.....)
4. إقليم مناخي يشغل معظم مساحة الوطن العربي (.....)
5. إقليم مناخي يشمل جنوب موريتانيا (.....)
6. إقليم مناخي يقع في شمال العراق وسوريا (.....)
7. محمية طبيعية تقع في دولة لبنان (.....)
8. محمية طبيعية تقع مصر (.....)
9. تناقص قدرة الأراضي الزراعية على الإنتاج (.....)
10. تناقص كمية الأمطار بما لا يسمح بالزراعة أو نمو الحشائش (.....)
11. دولة عانت من أكبر موجة جفاف في طننا العربي (.....)
12. وصفه الرسول ﷺ بالصدق وكانت له جهود كثيرة في الدعوة للإسلام (.....)
13. ولد بعد عام الفيل بثلاث عشرة سنة وأتقن العديد من الرياضات (.....)
14. أحد المقومات البشرية اللازمة لإقامة المشروعات الزراعية (.....)
15. توجد حول مجاري الأنهار وهي من المقومات الطبيعية لقيام الزراعة (.....)



ضع علامة (✓) أمام العبارة الصحيحة وعلامة (×) أمام العبارة الخطأ.

السؤال الثالث

1. تنمو أشجار الزيتون والصنوبر في الأجزاء الجنوبية من الوطن العربي ()
2. تقع محمية أرز الشوف في دولة لبنان ()
3. تنمو حشائش الاستبس في الإقليم الصحراوي ()
4. تعيش الأفيال والأسود والزراف في الإقليم المداري ()
5. تنمو حشائش السافانا في إقليم البحر المتوسط ()
6. من أهداف إنشاء المحميات الطبيعية تحقيق التوازن البيئي والحد من التلوث ()
7. تربي الأغنام والماعز في إقليم البحر المتوسط ()
8. يقع الإقليم المداري في الأطراف الشمالية من الوطن العربي ()
9. يتسم إقليم البحر المتوسط بصيف حار جاف وشتاء دافئ وممطر ()
10. ينتشر نبات الصبار في الإقليم المداري ()
11. مجلس الوزراء العرب هو المسئول عن شؤون البيئة ()
12. يحدث الجفاف بسبب نقص كمية الأمطار في بعض السنوات ()
13. النمو السكاني المتزايد من أسباب حدوث التصحر ()
14. تهديد صحة المواطن العربي من نتائج المشكلات البيئية ()
15. أعلنت مصر عن إنشاء مدينة نيوم الخضراء ()
16. تواجه الدول العربية المشكلات البيئية باستخدام مصادر الطاقة النظيفة ()
17. تلت مساحة الوطن العربي تعاني من مشكلة التصحر ()
18. تعاني معظم الدول العربية من ندرة المياه العالحة ()
19. ندرة المياه العذبة من المشكلات البيئية في الوطن العربي ()
20. زحف الكثبان الرملية يؤدي إلى حدوث الجفاف ()
21. ولد عمر بن الخطاب بعد عام الفيل بثلاث عشرة سنة ()
22. كان عمر بن الخطاب أول من بايع أبا بكر الصديق بالخلافة بعد وفاة الرسول ﷺ ()
23. دامت خلافة عمر بن الخطاب مدة خمس عشرة سنة ()
24. أعاد أبو بكر الصديق للدولة وحدتها وأمنها بعد القضاء على المرتدين ()
25. أولى أبو بكر الصديق اهتماما بالغا برعاية الفقراء والمرضى ()
26. المنظمة المسئولة عن الأغذية والزراعة هي منظمة اليونسيف ()
27. تكثر زراعة النخيل بواحة سيوة في الإمارات العربية المتحدة ()
28. تحتل السودان المركز الأول في إنتاج الحبوب الغذائية ()
29. تعتمد الزراعة في الأجزاء الشمالية للوطن العربي على مياه الأمطار ()
30. الأيدي العاملة المدربة من المقومات البشرية لقيام الزراعة ()



السؤال الرابع أكمل العبارات التالية بما يناسبها:

(البحر المتوسط - المداري - لبنان - الصحراوي - الأرز - مصر)

1. يتميز إقليم البحر المتوسط بسقوط الأمطار في فصل
2. تقع بلاد المغرب العربي ومصر وليبيا ضمن إقليم
3. تقع محمية أرز الشوف في دولة
4. تنمو حشائش السافانا في الإقليم
5. تنتشر في إقليم البحر المتوسط أشجار
6. تنمو النباتات التي تتحمل الجفاف في الإقليم

(التوسع المستمر في الزراعة - الصومال - تدمير الحياة النباتية - التصحر - مصر - السعودية)

1. توجد مدينة نيوم الخضراء في دولة
2. دولة أطلقت مبادرة زراعة 100 مليون شجرة مثمرة
3. تناقص مخزون المياه الجوفية من أسباب حدوث مشكلة
4. دولة عانت من أكبر موجة جفاف في وطننا العربي
5. من نتائج المشكلات البيئية التي تعاني منها الدول العربية
6. من أسباب تزايد معدلات استهلاك المياه

(اليمن - فلسطين - ليبيا - البنجر - البشرية - الألياف)

7. من المناطق التراثية في الإمارات واحة
8. تتركز زراعة البن في دولة
9. الأيدي العاملة والسوق ووسائل النقل من العوامل لقيام الزراعة
10. الكتان والقطن من محاصيل
11. من المحاصيل السكرية في الوطن العربي
12. من الدول التي تنتشر بها زراعة الموالح والموز



السؤال الخامس أجب عن الأسئلة التالية:

بم تفسر:

1. سقو الأمطار صيفاً على جنوب غرب اليمن.

2. الأهمية الاقتصادية للمحميات الطبيعية

3. إنشاء المحميات الطبيعية في دول الوطن العربي

4. تعرض الحياة البرية لمخاطر عديدة

5. تعاني معظم الدول العربية من ندرة المياه العذبة

6. حدوث مشكلة التصحر

7. تنوع موارد المياه العذبة في الوطن العربي

8. أهمية رأس المال بالنسبة للزراعة

9. أهمية وسائل النقل بالنسبة للزراعة

10. أهمية الزراعة في وطننا العربي

11. إنشاء الدول العربية المنظمة العربية للتنمية الزراعية

12. قيام الزراعة في الواحات بالوطن العربي



ما النتائج المترتبة على:

1. امتداد الوطن العربي على نحو 40 دائرة عرضية

2. انتشار حشائش الإستبس في إقليم البحر المتوسط

3. تميز الوطن العربي بتنوع أقاليمه المناخية

4. معاناة الصومال من أكبر موجة جفاف

5. تعدد المشكلات البيئية التي تعاني منها الدول العربية

6. إنشاء المدن الذكية في دول وطننا العربي

7. مشكلة التصحر في وطننا العربي

8. زحف الكثبان الرملية وتناقص المياه الجوفية في وطننا العربي

9. تنوع المناخ بالنسبة للزراعة

10. سقوط أمطار شمال الوطن العربي

ما العلاقة بين:

1. الأقاليم المناخية والنباتات الطبيعية والحيوانات البرية في الوطن العربي

2. القوانين والمحميات الطبيعية في الوطن العربي

3. سكان الوطن العربي والمياه العذبة

4. جهود دول الوطن العربي والمساحات الخضراء

5. صحة المواطن العربي والمشكلات البيئية



دليل على صحة العبارات التالية:

1. تختلف الصورة النباتية في الإقليم الصحراوي بالوطن العربي

2. تبذل الدول العربية جهودًا لمواجهة المشكلات البيئية

3. تتعدد المشكلات البيئية في الوطن العربي

4. تتعدد المشكلات التي تواجه الزراعة في الوطن العربي

6. تبذل الدول العربية جهودًا لتحقيق التنمية الزراعية

قارن بين كل من:

1. إقليم البحر المتوسط والإقليم الصحراوي من حيث الموقع الفلكي وأهم الدول التي يوجد بها الإقليم

2. الجفاف والتصحر وندرة المياه العذبة من حيث الأسباب

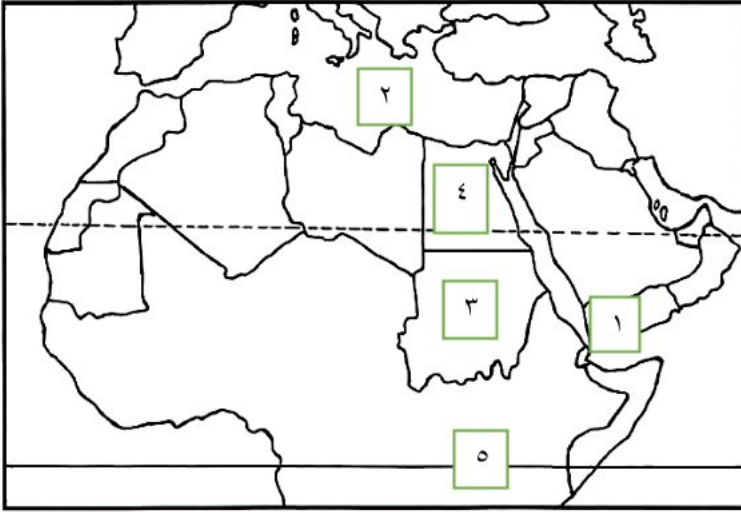
3. أبو بكر الصديق وعمر بن الخطاب رضي الله عنهم من حيث أهم الأعمال

4. المقومات الطبيعية والمقومات البشرية لقيام الزراعة

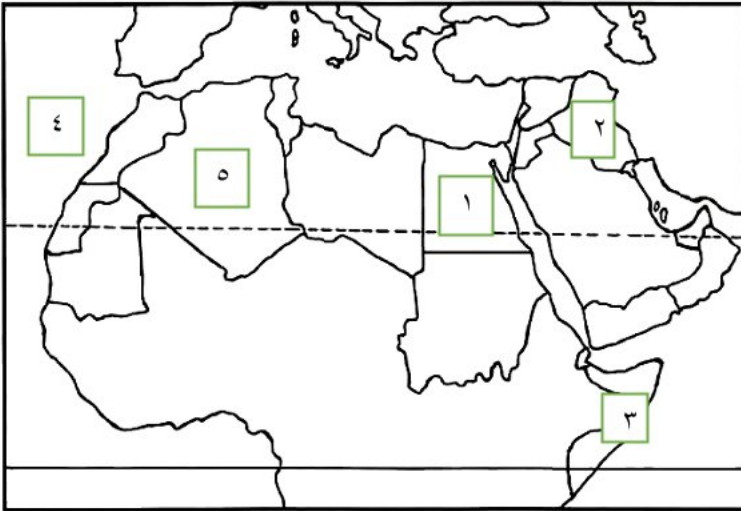
المتفوق
اعداد
مستر محمود قرني
مراجعة
أ / حاتم عاطف



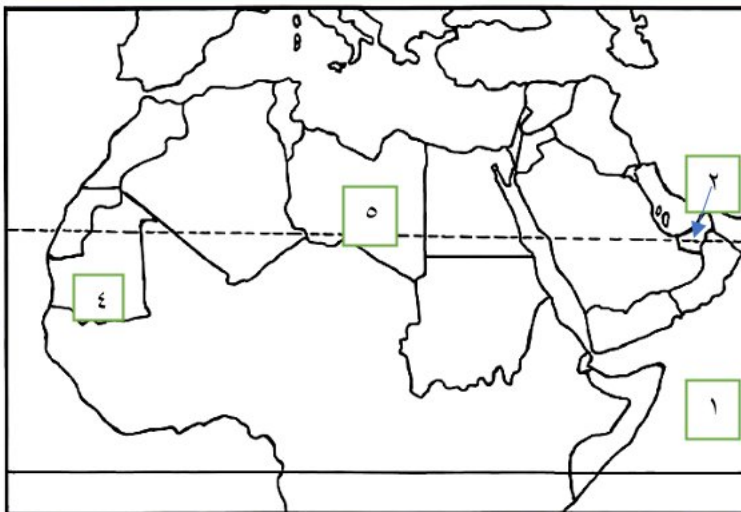
السؤال السادس حدد البيانات المطلوبة



1. دولة منتجة للبن.....
2. البحر.....
3. دولة منتجة للألياف.....
4. دولة منتجة للقمح.....
5. دائرة.....



1. أولى الدول المنتجة للتمور.....
2. دولة منتجة للمواالح.....
3. أكثر الدول عرضة للجفاف.....
4. المحيط.....
5. دولة.....



1. المحيط.....
2. دولة توجد بها واحة ليوا.....
3. دولة بها مدينة نيوم.....
4. إقليم مناخي.....
5. الإقليم.....



إجابات أسئلة شهر نوفمبر



السؤال الأول

أفتر الاجابة الصحيحة مما يلي:

1. تسقط أمطار موسمية صيفية على أجزاء من دولة
 ا. لبنان ب. سوريا ج. تونس د. الصومال
2. نبات طبيعي ينمو في الإقليم المداري بالوطن العربي.....
 ا. حشائش السافانا ب. أشجار الصنوبر ج. حشائش الإستبس د. أشجار الأرز
3. تنمو أشجار الأرز في إقليم مناخ
 ا. المداري ب. البحر المتوسط ج. الموسمي د. الصحراوي
4. محمية أرز الشوف من المحميات الطبيعية في دولة
 ا. مصر ب. المغرب ج. تونس د. لبنان
5. ثلعب الصحراء والزواحف من حيوانات الإقليم
 ا. الصحراوي ب. البحر المتوسط ج. الموسمي د. المداري
6. حشائش الإستبس من الحشائش التي تنمو في إقليم
 ا. المداري ب. البحر المتوسط ج. الموسمي د. الصحراوي
7. حشائش تربي عليها الأغنام والماعز
 ا. الصبار ب. السافانا ج. الإستبس د. التندرا
8. لبنان وليبيا وشمال العراق من المناطق التي تقع في إقليم
 ا. الصحراوي ب. البحر المتوسط ج. الموسمي د. المداري
9. إقليم يمتد في جنوب الوطن العربي
 ا. الصحراوي ب. المداري ج. الموسمي د. البحر المتوسط
10. محمية جبل علبة من أشهر محميات الوطن العربي في دولة
 ا. السعودية ب. لبنان ج. عمان د. مصر
11. ينتهي الجزء الجنوبي الغربي من دولة اليمن إلي إقليم المناخ.....
 ا. المداري ب. البحر المتوسط ج. الموسمي د. الصحراوي





12. تسقط أمطار الإقليم المداري في فصل
- أ. الشتاء ب. الصيف ج. الخريف د. الربيع
13. أي من الدول التالية تقع بأكملها في الإقليم الصحراوي الحار
- أ. الجزائر ب. مصر ج. عُمان د. اليمن
14. أشجار الصنوبر من الأشجار التي تنمو في إقليم
- أ. الصحراوي ب. البحر المتوسط ج. الموسمي د. المداري
15. حشائش تنمو في إقليم البحر المتوسط
- أ. الصبار ب. السافانا ج. الإستبس د. التندرا
16. محمية ضانا من أشهر محميات الوطن العربي في دولة
- أ. الأردن ب. لبنان ج. عُمان د. مصر
17. كل الدول التالية تقع في إقليم البحر المتوسط ماعدا
- أ. سوريا ب. لبنان ج. الإمارات د. مصر
18. يعيش الأسود والزراف في إقليم مناخ
- أ. البحر المتوسط ب. المداري ج. الصحراوي د. التندرا
19. تسقط الأمطار الصيفية على جنوب موريتانيا بسبب وقوعها في الإقليم
- أ. الصحراوي ب. البحر المتوسط ج. الموسمي د. المداري
20. تقع الأجزاء الشمالية من دولة ليبيا في إقليم
- أ. البحر المتوسط ب. المداري ج. الصحراوي د. التندرا
21. تقع السواحل الشمالية من دولة الصومال في إقليم مناخ
- أ. الصحراوي ب. البحر المتوسط ج. الموسمي د. المداري
22. تسقط الأمطار في إقليم البحر المتوسط في فصل
- أ. الشتاء ب. الصيف ج. الخريف د. الربيع
23. يعاني نحو مساحة الوطن العربي من مشكلة التصحر
- أ. ثلث ب. ربع ج. نصف د. ثلثي
24. إحدى الدول العربية التي أطلقت مبادرة لزيادة المساحات الخضراء
- أ. الصومال ب. مصر ج. الإمارات د. اليمن
25. دولة أعلنت عن إنشاء مدينة نيوم الخضراء
- أ. السعودية ب. لبنان ج. عُمان د. مصر





26. أطلقت دولة مبادرة زراعة 100 مليون شجرة مثمرة

ا. اليمن **ب. مصر** ج. السعودية د. اليمن

27. الرعي الجائر للحيوانات وإزالة الغابات من أسباب حدوث مشكلة

ا. التصحر **ب. ندرة المياه** ج. الجفاف د. التلوث

28. تناقص قدرة الأرض الزراعية على الإنتاج ، تشير هذه العبارة إلى مصطلح

ا. التصحر **ب. ندرة المياه** ج. الجفاف د. التلوث

29. صاحب الرسول ﷺ في الهجرة وتزوج الرسول ﷺ من ابنته السيدة عائشة

ا. أبو بكر الصديق **ب. عمر بن الخطاب** ج. عثمان بن عفان د. علي بن أبي طالب

30. الخليفة الذي قام بإنشاء الدواوين في الدولة الإسلامية

ا. أبو بكر الصديق **ب. عمر بن الخطاب** ج. عثمان بن عفان د. علي بن أبي طالب

31. أظهر قدرة فائقة في إدارة شؤون الدولة وأعاد للدولة وحدتها وأمنها

ا. أبو بكر الصديق **ب. عمر بن الخطاب** ج. عثمان بن عفان د. علي بن أبي طالب

32. أشار على أبو بكر الصديق بجمع القرآن في المصحف ودامت خلافته عشر سنوات

ا. أبو بكر الصديق **ب. عمر بن الخطاب** ج. عثمان بن عفان د. علي بن أبي طالب

33. تقوم الزراعة في الواحات بالصحاري العربية اعتمادا على

ا. الأنهار **ب. الأمطار** ج. المياه الجوفية د. مياه التحلية

34. تحتفل الدول العربية يوم من كل عام بيوم الزراعة العربي

ا. 27 سبتمبر **ب. 27 أكتوبر** ج. 27 نوفمبر د. 27 ديسمبر

35. أولى الدول العربية في إنتاج الحبوب الغذائية

ا. مصر **ب. السعودية** ج. الأردن د. العراق

36. أولى الدول العربية في إنتاج محاصيل الألياف

ا. مصر **ب. السودان** ج. الأردن د. العراق

37. تتركز زراعة البن في دولة

ا. الصومال **ب. مصر** ج. السعودية د. اليمن

38. يعتبر بنجر السكر وقصب السكر من محاصيل

ا. الحبوب الغذائية **ب. محاصيل الألياف** ج. المحاصيل السكرية د. الموالح

39. أعلنت منظمة "الفاو" واحة ليوا والعين في دولة مواقع للتراث الزراعي العالمي

ا. الإمارات **ب. عُمان** ج. الأردن د. العراق





40. من الأنهار التي تقوم حولها الزراعة نهري دجلة والفرات في.....
 ا. مصر ب. السعودية ج. الأردن د. العراق
 41. دولة تقوم فيها الزراعة اعتمادا على مياه الأنهار.....
 ا. الصومال ب. مصر ج. السودان د. اليمن
 42. إحدى المقومات الطبيعية لقيام الزراعة في الوطن العربي.....
 ا. رأس المال ب. السوق ج. شبكات النقل د. تنوع المناخ

السؤال الثاني

اكتب ما تنتير إليه العبارة التالية:

16. إقليم مناخي يقع في جنوب الوطن العربي (الإقليم المداري)
 17. منطقة جغرافية تتسم بخصائص مناخية تميزها عن غيرها (الإقليم المناخي)
 18. إقليم مناخي يقع في الأطراف الشمالية للوطن العربي (إقليم البحر المتوسط)
 19. إقليم مناخي يشغل معظم مساحة الوطن العربي (الإقليم الصحراوي)
 20. إقليم مناخي يشمل جنوب موريتانيا (الإقليم المداري)
 21. إقليم مناخي يقع في شمال العراق وسوريا (إقليم البحر المتوسط)
 22. محمية طبيعية تقع في دولة لبنان (أرز الشوف)
 23. محمية طبيعية تقع مصر (جبله علبه)
 24. تناقص قدرة الأراضي الزراعية على الإنتاج (التصحر)
 25. تناقص كمية الأمطار بما لا يسمح بالزراعة أو نمو الحشائش (الجفاف)
 26. دولة عانت من أكبر موجة جفاف في طننا العربي (الصومال)
 27. وصفه الرسول ﷺ بالصديق وكانت له جهود كثيرة في الدعوة للإسلام (أبو بكر الصديق)
 28. ولد بعد عام الفيل بثلاث عشرة سنة وأتقن العديد من الرياضات (عمر بن الخطاب)
 29. أحد المقومات البشرية اللازمة لإقامة المشروعات الزراعية (رأس المال)
 30. توجد حول مجاري الأنهار وهي من المقومات الطبيعية لقيام الزراعة (التربة الخصبة)



السؤال الثالث

ضع علامة (✓) أمام العبارة الصحيحة وعلامة (×) أمام العبارة الخطأ.

1. تنمو أشجار الزيتون والصنوبر في الأجزاء الجنوبية من الوطن العربي (×)
2. تقع محمية أرز الشوف في دولة لبنان (✓)
3. تنمو حشائش الاستبس في الإقليم الصحراوي (×)
4. تعيش الأفيال والأسود والزراف في الإقليم المداري (✓)
5. تنمو حشائش السافانا في إقليم البحر المتوسط (×)
6. من أهداف إنشاء المحميات الطبيعية تحقيق التوازن البيئي والحد من التلوث (✓)
7. تربي الأغنام والماعز في إقليم البحر المتوسط (✓)
8. يقع الإقليم المداري في الأطراف الشمالية من الوطن العربي (×)
9. يتسم إقليم البحر المتوسط بصيف حار جاف وشتاء دافئ وممطر (✓)
10. ينتشر نبات الصبار في الإقليم المداري (×)
11. مجلس الوزراء العرب هو المسئول عن شؤون البيئة (✓)
12. يحدث الجفاف بسبب نقص كمية الأمطار في بعض السنوات (✓)
13. النمو السكاني المتزايد من أسباب حدوث التصحر (×)
14. تهديد صحة المواطن العربي من نتائج المشكلات البيئية (✓)
15. أعلنت مصر عن إنشاء مدينة نيوم الخضراء (×)
16. تواجه الدول العربية المشكلات البيئية باستخدام مصادر الطاقة النظيفة (✓)
17. ثلث مساحة الوطن العربي تعاني من مشكلة التصحر (×)
18. تعاني معظم الدول العربية من ندرة المياه العالحة (×)
19. ندرة المياه العذبة من المشكلات البيئية في الوطن العربي (✓)
20. زحف الكثبان الرملية يؤدي إلى حدوث الجفاف (×)
21. ولد عمر بن الخطاب بعد عام الفيل بثلاث عشرة سنة (✓)
22. كان عمر بن الخطاب أول من بايع أبا بكر الصديق بالخلافة بعد وفاة الرسول ﷺ (✓)
23. دامت خلافة عمر بن الخطاب مدة خمس عشرة سنة (×)
24. أعاد أبو بكر الصديق للدولة وحدتها وأمنها بعد القضاء على المرتدين (✓)
25. أولى أبو بكر الصديق اهتماما بالغا برعاية الفقراء والمرضى (✓)
26. المنظمة المسئولة عن الأغذية والزراعة هي منظمة اليونسيف (×)
27. تكثر زراعة النخيل بواحة سيوة في الإمارات العربية المتحدة (×)
28. تحتل السودان المركز الأول في إنتاج الحبوب الغذائية (×)
29. تعتمد الزراعة في الأجزاء الشمالية للوطن العربي على مياه الأمطار (✓)
30. الأيدي العاملة المدربة من المقومات البشرية لقيام الزراعة (✓)



السؤال الرابع أكمل العبارات التالية بما يناسبها:

(البحر المتوسط - المداري - لبنان - الصحراوي - الأرز - مصر - الشتاء)

1. يتميز إقليم البحر المتوسط بسقوط الأمطار في فصل الشتاء.

2. تقع بلاد المغرب العربي ومصر وليبيا ضمن إقليم البحر المتوسط.

3. تقع محمية أرز الشوف في دولة لبنان.

4. تنمو حشائش السافانا في الإقليم المداري.

5. تنتشر في إقليم البحر المتوسط أشجار الأرز.

6. تنمو النباتات التي تتحمل الجفاف في الإقليم الصحراوي.

(التوسع المستمر في الزراعة - الصومال - تدمير الحياة النباتية - التصحر - مصر - السعودية)

1. توجد مدينة نيوم الخضراء في دولة السعودية.

2. دولة أطلقت مبادرة زراعة 100 مليون شجرة مثمرة. مصر.

3. تناقص مخزون المياه الجوفية من أسباب حدوث مشكلة التصحر.

4. دولة عانت من أكبر موجة جفاف في وطننا العربي الصومال.

5. من نتائج المشكلات البيئية التي تعاني منها الدول العربية تدمير الحياة النباتية.

6. من أسباب تزايد معدلات استهلاك المياه التوسع المستمر في الزراعة.

(اليمن - فلسطين - ليبيا - البنجر - البشرية - الألياف)

1. من المناطق التراثية في الإمارات واحة ليوا.....

2. تتركز زراعة البن في دولة اليمن.....

3. الأيدي العاملة والسوق ووسائل النقل من العوامل البشرية..... لقيام الزراعة

4. الكتان والقطن من محاصيل الألياف.....

5. من المحاصيل السكرية في الوطن العربي البنجر.....

6. من الدول التي تنتشر بها زراعة الموالح والموز فلسطين.....



السؤال الخامس: أجب عن الأسئلة التالية: **بم تفسر:**

1. سقوط الأمطار صيفاً على جنوب غرب اليمن .
بسبب وقوعها في الإقليم المداري
2. الأهمية الاقتصادية للمحميات الطبيعية
لأنها تسهم في تنشيط السياحة
3. إنشاء المحميات الطبيعية في دول الوطن العربي
لحفاظ على الحياة البرية وتحقيق التوازن البيئي والحد من التلوث
4. تعرض الحياة البرية لمخاطر عديدة
بسبب تدهور النباتات الطبيعية وانقراض أنواع عديدة من الحيوانات
5. تعاني معظم الدول العربية من ندرة المياه العذبة
بسبب تزايد معدلات استهلاك المياه
6. حدوث مشكلة التصحر
بسبب استخدام طرق الري التقليدية وزحف الكثبان الرملية والتوسع العمراني وغيرها
7. تتنوع موارد المياه العذبة في الوطن العربي
حيث تتمثل في الأنهار والمياه الجوفية ومياه الأمطار
8. أهمية رأس المال بالنسبة للزراعة
لإقامة المشروعات الزراعية وشراء الآلات الزراعية والبذور والأسمدة
9. أهمية وسائل النقل بالنسبة للزراعة
لنقل ما تحتاجه الزراعة من مواد مختلفة ونقل المنتجات الزراعية إلى مناطق الاستهلاك
10. أهمية الزراعة في وطننا العربي
لأنها توفر المنتجات الغذائية للسكان وتوفر فرص عمل وتوفر المواد الخام اللازمة للصناعة ومصدر أساسي للدخل
11. إنشاء الدول العربية المنظمة العربية للتنمية الزراعية
بهدف تطوير الأنشطة المتعلقة بالتنمية الزراعية على المستوى العربي وتحقيق التكامل الزراعي العربي
12. قيام الزراعة في الواحات بالوطن العربي
بسبب وجود المياه الجوفية والتربة الخصبة





ما النتائج المترتبة على:

1. امتداد الوطن العربي على نحو 40 دائرة عرضية
 2. انتشار حشائش الإستبس في إقليم البحر المتوسط
 3. تميز الوطن العربي بتنوع أقاليمه المناخية
 4. معاناة الصومال من أكبر موجة جفاف
 5. تعدد المشكلات البيئية التي تعاني منها الدول العربية
 6. إنشاء المدن الذكية في دول وطننا العربي
 7. مشكلة التصحر في وطننا العربي
 8. زحف الكثبان الرملية وتناقص المياه الجوفية في وطننا العربي
 9. تنوع المناخ بالنسبة للزراعة
 10. سقوط أمطار شمال الوطن العربي
- أدى إلى حدوث التصحر
- أدى إلى تناقص قدرة الأرض الزراعية على الإنتاج
- أدى إلى تهديد صحة المواطن العربي وحياته وإعاقة تنفيذ الخطط التنموية في الدول العربية وتدمير الحياة النباتية
- أدى إلى إنشاء المدن الذكية في دول وطننا العربي
- أدى إلى تقليل انبعاثات الغازات الدفيئة
- أدى إلى حدوث التصحر
- أدى إلى قيام الزراعة في شمال الوطن العربي اعتمادا على مياه الأمطار

ما العلاقة بين:

1. الأقاليم المناخية والنباتات الطبيعية والحيوانات البرية في الوطن العربي
 2. القوانين والمحميات الطبيعية في الوطن العربي
 3. سكان الوطن العربي والمياه العذبة
- أدى زيادة عدد سكان الوطن العربي إلى ندرة المياه العذبة في الوطن العربي
- أخذت بعض الدول العربية إجراءات مثل تفعيل القوانين لحماية المحميات الطبيعية في الوطن العربي
- تنوع الأقاليم المناخية يؤدي إلى تنوع النباتات الطبيعية والحيوانات البرية في الوطن العربي





4. جهود دول الوطن العربي والمساحات الخضراء

تقوم دول الوطن العربي بجهود لزيادة المساحات الخضراء مثل مبادرة زراعة 100 مليون شجرة التي أطلقتها مصر

5. صحة المواطن العربي والمشكلات البيئية

تؤدي المشكلات البيئية إلى تهديد صحة المواطن العربي وحياته

دليل على صحة العبارات التالية:

1. تختلف الصورة النباتية في الإقليم الصحراوي بالوطن العربي

حيث تنمو فيه بعض النباتات التي لها قدرة على تحمل الجفاف ودرجة الحرارة مثل الصبار

2. تبذل الدول العربية جهودًا لمواجهة المشكلات البيئية

حيث تقوم الدول العربية بالبحث عن مصادر جديدة للمياه العذبة وتفعيل قوانين تجرم قطع العشوائيات للأشجار واستخدام مصادر الطاقة النظيفة

3. تتعدد المشكلات البيئية في الوطن العربي

حيث توجد مشكلة الجفاف والتصحر وندرة المياه العذبة

4. تتعدد المشكلات التي تواجه الزراعة في الوطن العربي

حيث تعاني من مشكلات مثل ندرة المياه العذبة وتذبذب كمية الأمطار وزحف الرمال

6. تبذل الدول العربية جهودًا لتحقيق التنمية الزراعية

حيث تقوم بإنشاء السدود والخزانات ومعالجة مياه الصرف الصحي واستصلاح الأراضي الصحراوية

قارن بين كل من:

1. إقليم البحر المتوسط والإقليم الصحراوي من حيث الموقع الفلكي وأهم الدول التي يوجد بها الإقليم

الإقليم	البحر المتوسط	الصحراوي
الموقع الفلكي	يقع بين دائرتي عرض 30 و 37,30 شمالاً	يقع بين دائرتي عرض 15 و 30 شمالاً
أهم الدول	بلاد المغرب العربي - مصر - ليبيا - فلسطين - لبنان - شمال العراق ومعظم سوريا	السعودية - الإمارات - قطر - عمان - البحرين - الكويت

2. الجفاف والتصحر وندرة المياه العذبة من حيث الأسباب

المشكلة	الجفاف	التصحر
الأسباب	نقص كمية الأمطار	زحف الكثبان الرملية تناقص مخزون المياه الجوفية الرعي الجائر الإفراط في استخدام الأسمدة الكيميائية



3. أبو بكر الصديق وعمر بن الخطاب رضي الله عنهم من حيث أهم الأعمال

الخليفة أهم الأعمال	أبو بكر الصديق	عمر بن الخطاب
	1. صاحب الرسول في الهجرة 2. انفق ماله في سبيل الدعوة الإسلامية 3. حارب المرتدين 4. جمع القرآن الكريم	1. أنشأ الدواوين 2. أشار على أبو بكر الصديق بجمع القرآن

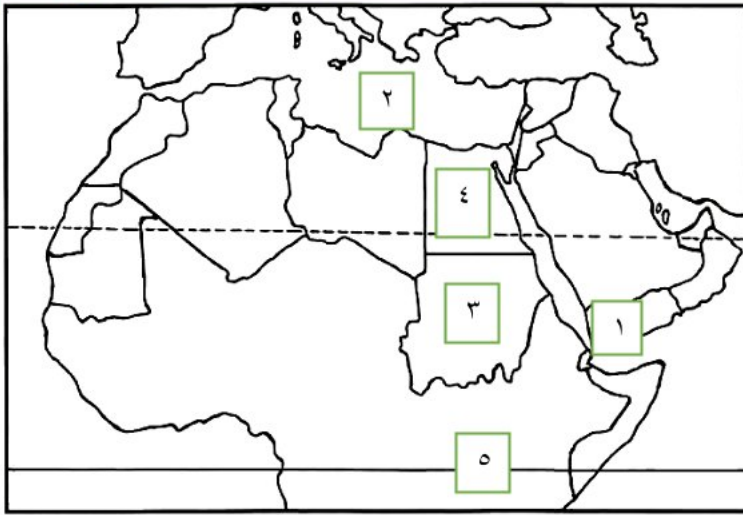
4. المقومات الطبيعية والمقومات البشرية لقيام الزراعة

المقومات الطبيعية للزراعة	المقومات البشرية للزراعة
1. موارد المياه 2. التربة الخصبة 3. تنوع المناخ	1. الأيدي العاملة 2. رأس المال 3. وسائل النقل 4. السوق

المتفوق
إعداد
مستر محمود قرني
مراجعة
أ / حاتم عاطف

السؤال السادس حدد البيانات المطلوبة





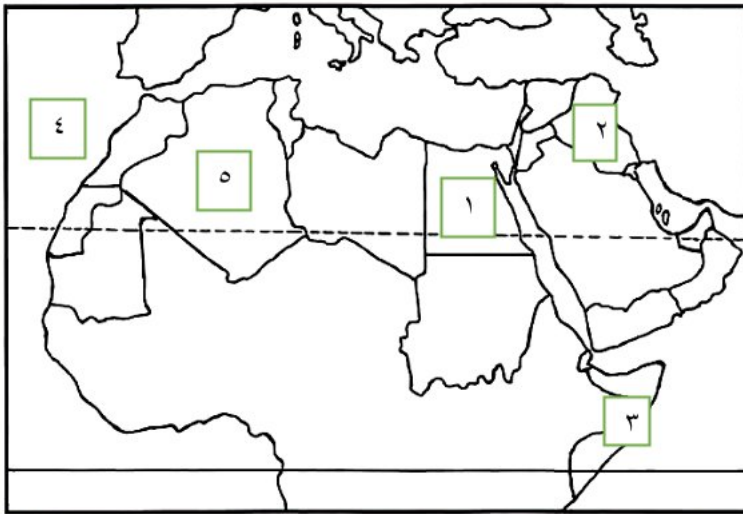
1. دولة منتجة للبن اليمن

2. البحر المتوس

3. دولة منتجة للألياف السودان

4. دولة منتجة للقمح مصر

5. دائرة الاستواء



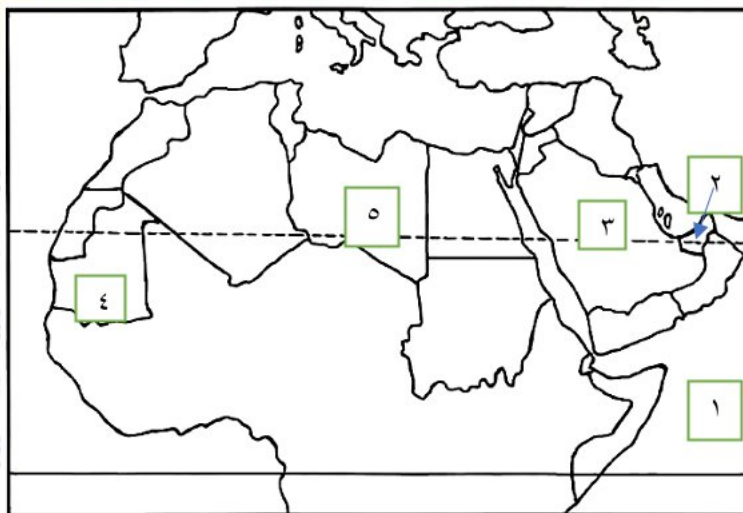
1. أولى الدول المنتجة للتمور مصر

2. دولة منتجة للموالح العراق

3. أكثر الدول عرضة للجفاف الصومال

4. المحيط الأطلسي

5. دولة الجزائر



1. المحيط الهندي

2. دولة توجد بها واحة ليوا الإمارات

3. دولة بها مدينة نيوم السعودية

4. إقليم مناخي المداري

5. الإقليم الصحراوي

