

## وطننا العربي

## مظاهر سطح

س ١ : أكمل العبارات الآتية بما يناسبها من كلمات : -

- ١- تقع هضبة نجد في الجناح العربي.....
- ٢- توجد سهول نهري دجلة والفرات في دولة.....
- ٣- تكونت السهول الفيضية بسبب.....
- ٤- أدنى نقطة في الوطن العربي.....
- ٥- من أمثلة الأودية الجافة بالسعودية.....
- ٦- أكثر مظاهر السطح انتشارا بالوطن العربي.....

مراجعة + بنك أسئلة

س ٢ : ضع علامة ( ✓ ) أو علامة ( × ) أمام العبارات الآتية : -

- ١- توجد التربة الخصبة في الوطن العربي على جانبي الأنهار . ( )
- ٢- تتميز سهول البحر المتوسط بأماطرها الصيفية . ( )
- ٣- تستخدم الأودية الجافة لتكون طرقا للمواصلات . ( )
- ٤- أدنى نقطة بالوطن العربي هي البحر المتوسط . ( )
- ٥- أعلى القمم الجبلية بالوطن العربي هي قمة جبل توبقال . ( )
- ٦- توجد واحة عين صالح في دولة ليبيا . ( )
- ٧- من هضاب الجناح الآسيوي حضر موت وبادية الشام . ( )
- ٨- تقع هضبة نجد في الجناح الإفريقي . ( )
- ٩- يتميز وطننا العربي بتنوع مظاهر السطح . ( )
- ١٠- تنوع مظاهر السطح في الوطن العربي ساعد على تنوع الأنشطة الاقتصادية . ( )

س ٣ : اختر الإجابة الصحيحة مما بين الأقواس : -

- ١- أحد آثار التعرية الهوائية في الوطن العربي هو تكون.....  
( السهول الفيضية - السهول الساحلية - الكثبان الرملية - الأودية الجافة )
- ٢- تمتد هضبة إفريقيا الشمالية من البحر الأحمر حتى المحيط.....  
( الهندي - الهادي - الأطلنطي - القطبي )



٣- أكثر أشكال السطح انتشارا في الوطن العربي.....

( الجبال - الهضاب - السهول - التلال ) .

٤- أحد الجبال الالتوائية في الجناح العربي الآسيوي هي جبال.....

( الحجاز - أطلس - كردستان - عسير ) .

٥- يمتد بحر الرمال العظيم بين دولتي مصر و.....

( السودان - ليبيا - الجزائر - السعودية ) .

٦- تعد من الجبال الالتوائية في الوطن العربي جبال.....

( عسير - البحر الأحمر - عمان - الحجاز ) .

٧- إحدى الظواهر التي تكونت بفعل التعرية المائية.....

( الجبال - الهضاب - الأودية الجافة - التجمعات الرملية ) .

س ٤ : صوب ما تحته خط :-

١- تكونت مرتفعات اليمن نتيجة الحركات الالتوائية .

س ٥ : أجب عما يأتي :-

١- ما العلاقة بين التضاريس والأنشطة الاقتصادية ؟

٢- ما النتائج المترتبة على حدوث الحركات الانكسارية في الوطن العربي ؟

س ٦ : بم تفسر :-

١- تكون السهول الفيضية بالوطن العربي .

٢- نشأة جبال أطلس .

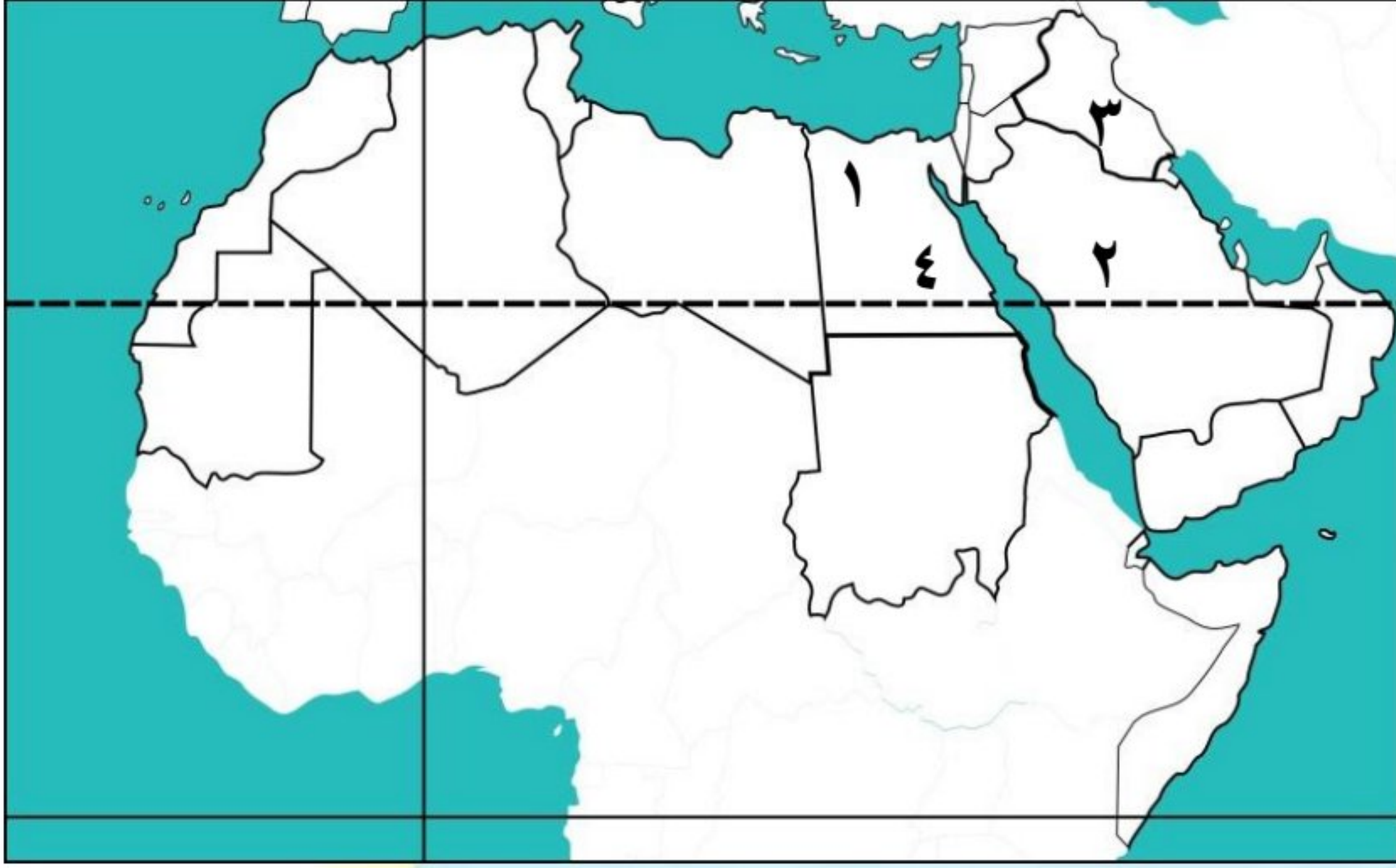
٣- تكون بحر الرمال العظيم بين مصر وليبيا .

٤- تكون جبال أطلس في الجناح الإفريقي وجبال كردستان في الجناح الآسيوي .



س ٧ : دلل على صحة العبارة الآتية :-

١- السهول الساحلية بالوطن العربي متنوعة الموارد والاستخدامات .

س ٧ : أمامك خريطة صماء للوطن العربي ، اكتب ما تشير إليه الأرقام :-

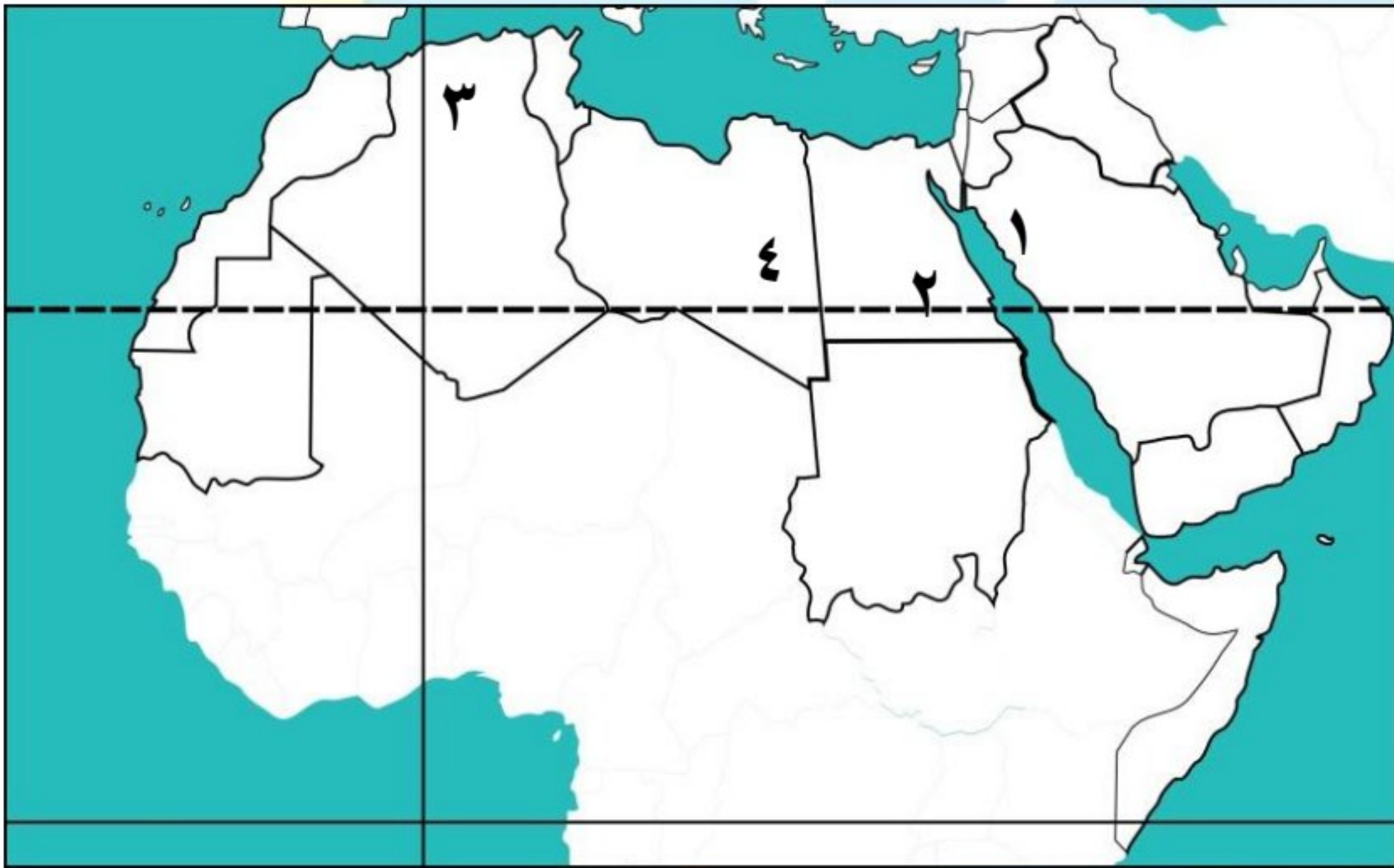
١- واحة.....

٢- صواب أم خطأ : يشير رقم (٢) لهضبة

حضر موت . ( ) .

٣- سهول نهري.....

٤- جبال.....

س ٨ : أمامك خريطة صماء للوطن العربي ، اكتب ما تشير إليه الأرقام :-

١- هضبة.....

٢- جبال انكسارية.....

٣- جبال..... / أحمد المراكبي

٤- واحة.....



## وطننا العربي

## مظاهر سطح

س ١ : أكمل العبارات الآتية بما يناسبها من كلمات : -

- ١- تقع هضبة نجد في الجناح العربي **الآسيوي** .
- ٢- توجد سهول نهري دجلة والفرات في دولة **العراق** .
- ٣- تكونت السهول الفيضية بسبب **رواسب الأنهار** .
- ٤- أدنى نقطة في الوطن العربي **البحر الميت** .
- ٥- من أمثلة الأودية الجافة بالسعودية **وادي الدواسر** .
- ٦- أكثر مظاهر السطح انتشارا بالوطن العربي **الهضاب** .

س ٢ : ضع علامة ( ✓ ) أو علامة ( × ) أمام العبارات الآتية : -

- ١- توجد التربة الخصبة في الوطن العربي على جانبي الأنهار . ( ✓ )
- ٢- تتميز سهول البحر المتوسط بمطارها **الصيفية** . **الشتوية** ( × )
- ٣- تستخدم الأودية الجافة لتكون طرقا للمواصلات . ( ✓ )
- ٤- أدنى نقطة بالوطن العربي هي البحر **المتوسط** . **الميت** ( × )
- ٥- أعلى القمم الجبلية بالوطن العربي هي قمة جبل توبقال . ( ✓ )
- ٦- توجد واحة عين صالح في دولة **ليبيا** . **الجزائر** ( × )
- ٧- من هضاب الجناح الآسيوي حضر موت وبادية الشام . ( ✓ )
- ٨- تقع هضبة نجد في الجناح **الإفريقي** . **الآسيوي** ( × )
- ٩- يتميز وطننا العربي بتنوع مظاهر السطح . ( ✓ )
- ١٠- تنوع مظاهر السطح في الوطن العربي ساعد على تنوع الأنشطة الاقتصادية . ( ✓ )

س ٣ : اختر الإجابة الصحيحة مما بين الأقواس : -

- ١- أحد آثار التعرية الهوائية في الوطن العربي هو تكون .....  
( السهول الفيضية - السهول الساحلية - **الكثبان الرملية** - الأودية الجافة ) .
- ٢- تمتد هضبة إفريقيا الشمالية من البحر الأحمر حتى المحيط.....  
( الهندي - الهادي - **الأطلسي** - القطبي ) .



- ٣- أكثر أشكال السطح انتشارا في الوطن العربي.....  
 ( الجبال - **الهضاب** - السهول - التلال ) .
- ٤- أحد الجبال الالتوائية في الجناح العربي الآسيوي هي جبال.....  
 ( الحجاز - أطلس - **كرديستان** - عسير ) .
- ٥- يمتد بحر الرمال العظيم بين دولتي مصر و.....  
 ( السودان - **ليبيا** - الجزائر - السعودية ) .
- ٦- تعد من الجبال الالتوائية في الوطن العربي جبال.....  
 ( عسير - البحر الأحمر - **عمان** - الحجاز ) .
- ٧- إحدى الظواهر التي تكونت بفعل التعرية المائية.....  
 ( الجبال - الهضاب - **الأودية الجافة** - التجمعات الرملية ) .

س ٤ : صوب ما تحته خط :-

- ١- تكونت مرتفعات اليمن نتيجة الحركات **الالتوائية** . **الانكسارية**

س ٥ : أجب عما يأتي :-

- ١- ما العلاقة بين التضاريس والأنشطة الاقتصادية ؟  
**تنوع التضاريس ومظاهر السطح في الوطن العربي أدت إلى تنوع الأنشطة الاقتصادية .**
- ٢- ما النتائج المترتبة على حدوث الحركات الانكسارية في الوطن العربي ؟  
**تكون جبال البحر الأحمر .**

س ٦ : بم تفسر :-

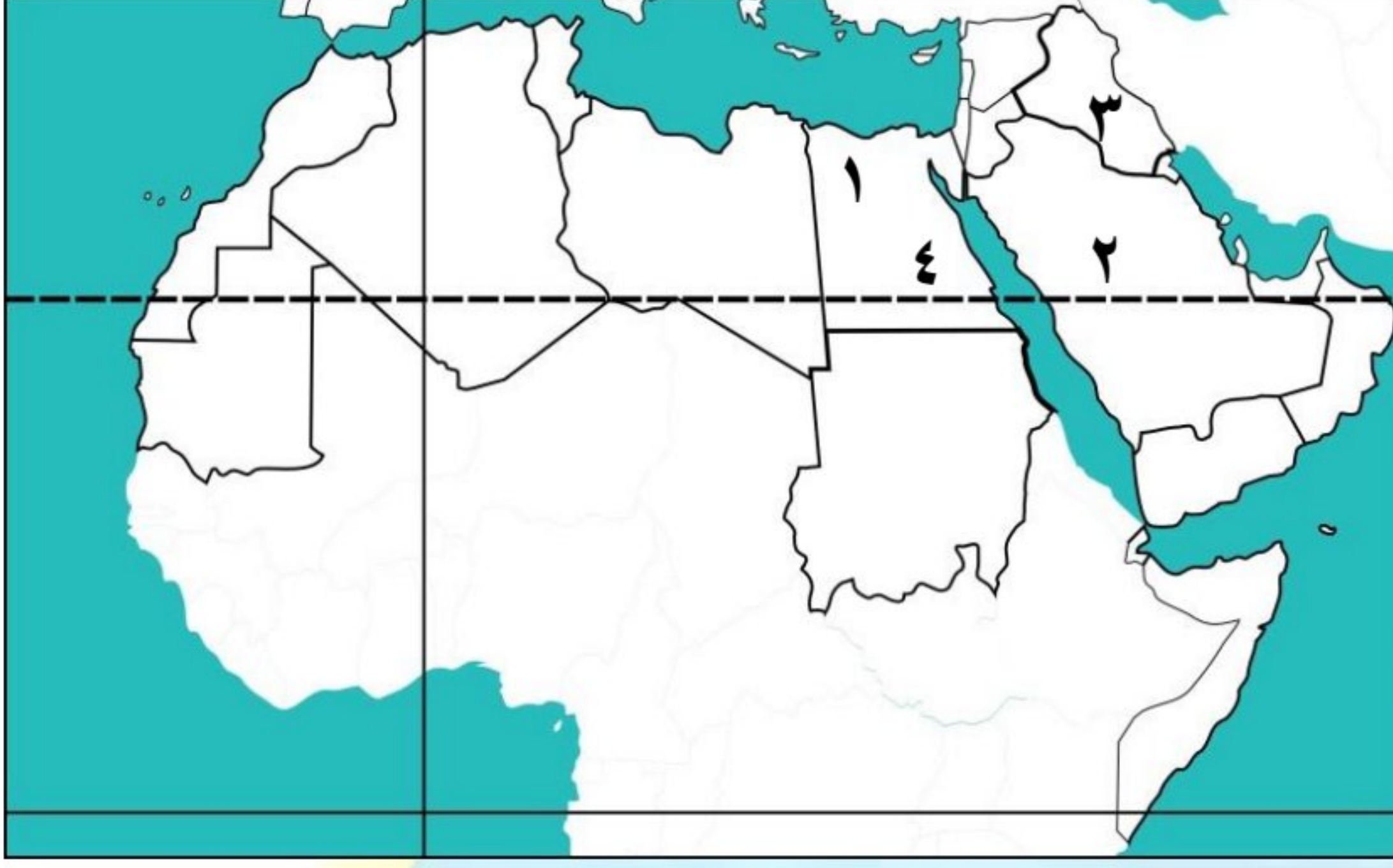
- ١- تكون السهول الفيضية بالوطن العربي .  
**بسبب ترسيب الأنهار المواد العالقة بمياهها .**
- ٢- نشأة جبال أطلس .  
**بسبب الحركات الالتوائية التي نشأت نتيجة حركات باطنية تعرضت لها الأرض .**
- ٣- تكون بحر الرمال العظيم بين مصر وليبيا .  
**بسبب التعرية الهوائية .**
- ٤- تكون جبال أطلس في الجناح الإفريقي وجبال كردستان في الجناح الآسيوي .  
**بسبب الحركات الالتوائية التي نشأت نتيجة حركات باطنية تعرضت لها الأرض .**



س٧ : دلل علي صحة العبارة الآتية :-

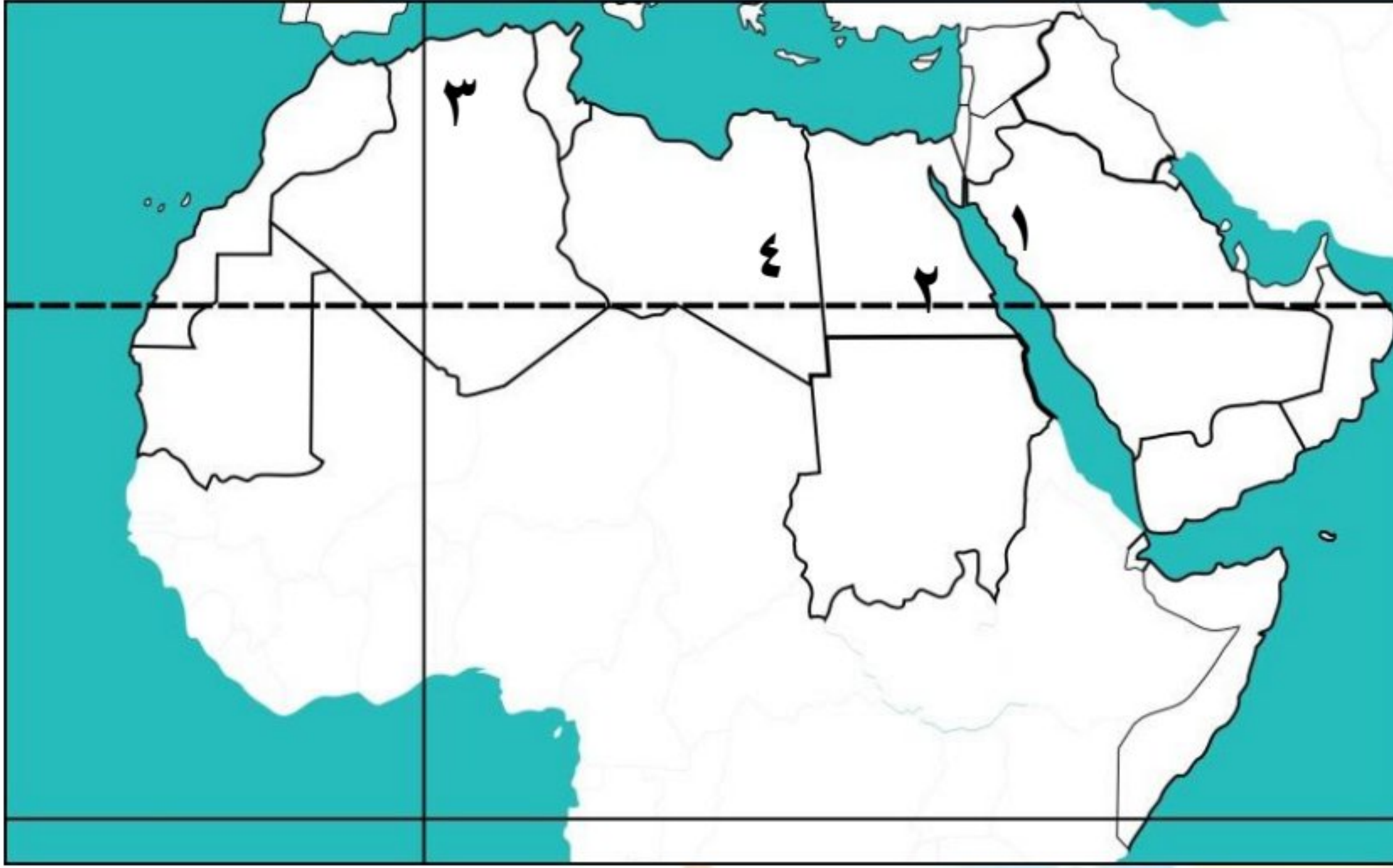
- ١- السهول الساحلية بالوطن العربي متنوعة الموارد والاستخدامات .  
**سهول البحر الاحمر والخليج العربي غنية بالثروات المعدنية ومصادر الطاقة .**

س٧ : أمامك خريطة صماء للوطن العربي ، اكتب ما تشير إليه الأرقام :-



- ١- **واحة سيوة**  
 ٢- صواب أم خطأ : يشير رقم (٢) لهضبة  
 حضر موت . ( × ) .  
 ٣- سهول نهري **دجلة والفرات**  
 ٤- **جبال البحر الأحمر**

س٨ : أمامك خريطة صماء للوطن العربي ، اكتب ما تشير إليه الأرقام :-



- ١- هضبة **بادية الشام**  
 ٢- جبال انكسارية **البحر الأحمر**  
 ٣- جبال **أطلس** / أحمد المراد  
 ٤- **واحة الكفرة**