

# سلاح التلميز

منذ عام ١٩٦٠



اللغة  
العربية

2024-2025

الصف الخامس الابتدائي  
الفصل الدراسي الأول

نماذج اختبارات نهاية الفصل الدراسي الأول  
طبقاً لآخر مواصفة للورقة الامتحانية

5

## نموذج ١

(نص الاستماع ص ١٢)

السؤال الأول (الاستماع) استمع، ثم أجب:

١ ضع علامة (✓) أمام العبارة الصحيحة، وعلامة (X) أمام العبارة غير الصحيحة:

١) الإنسان العاقل يحرص على اكتشاف العالم من حوله. ( )

٢) الإنسان الناجح لا يتحمل مشقة الطريق. ( )

ب) أكمل: الإنسان الناجح يرسم لنفسه ..... يسير عليها.

السؤال الثاني (التعبير الكتابي) اقرأ القصة التالية بعنوان (يوم لا ينسى)، ثم أجب:

«في ملعب النادي صباحًا، وأنا ألعب الكرة وزملائي يصيحون بأعلى أصواتهم سمعت جدتي تنادي بصوت يملؤه الفرح: يا عمر. ذهبت إليها في لهفة شديدة، فقالت لي: إن والدك وافق على طلبك يا عمر. قلت متعجبًا: حقًا يا جدتي وافق على سفري مع فريقي لألعب المباراة النهائية في الإسكندرية؟! فقالت: نعم. شعرت أنني سأطير من الفرح، لن أنسى ذلك اليوم أبدًا»

١) عنوان القصة: ..... ٢) الشخصيات: ..... ٣) الحدث: .....

٤) المدخل: ..... ٥) النهاية: .....

السؤال الثالث (النص الأدبي المتحرر) اقرأ الفقرة التالية:

«خرجت امرأة ترعى غنمًا لها بالقرب من شفير النهر، وهناك وجدت ذنبًا رضيعًا منهكًا من فرط الجوع، فأمسكت به وأرضعته من إحدى النعجات، ولم يقتصر الأمر على الرضاعة، بل تركته يرعى مع غنمها، ومرت الأيام، وكبر الذئب. وذات صباح استيقظت المرأة ولم تجد من الغنم سوى العظام، فقالت لنفسها: نشأته بين غنمي، ومنحته كل اهتمامي، لكنه أكل كل غنمي، ولم يدع لي واحدة، فهو ذئب، والذئب لا يرعى مع الغنم».

أ) استخرج: ١) معنى (ربيته): ..... ٢) مضاد (مستريحًا): .....

ب) أكمل: ١) عطف المرأة على الذئب الرضيع؛ لأنه كان منهكًا من .....

٢) الدليل على أن الذئب أكل الغنم وجود .....

ج) أجب: ماذا تتعلم من هذه القصة؟ .....

السؤال الرابع (النص المعلوماتي المتحرر) اقرأ الفقرة التالية:

«الخبز غذاء أساسي للإنسان في سائر بلدان العالم. في مصر نطلق عليه بالعامية المصرية اسم (العيش)؛ لأنه من ضرورات الحياة عندنا. يختلف الخبز محليًا من محافظة لأخرى؛ ففي محافظات الصعيد ينتشر (العيش الشمسي) الذي كانت نشأته على أيدي أجدادنا المصريين القدماء، وهو نوع متفرد لا يوجد إلا في مصر. وفي محافظات الدلتا نجد (العيش المرحرج)، الذي يخبز من دقيق الذرة مضافًا إليه القليل من دقيق القمح، وقد تضاف إليه الحلبة. الخبز طعام أساسي، لكن يجب أن نتناوله بلا إفراط ولا تفريط».



١ اختر الإجابة الصحيحة مما بين القوسين:

١ معنى (سائر): (بعض - ثلث - جميع - نصف)

٢ مضاد (إفراط): (اعتدال - استعجال - تهاون - توقّف)

ب أكمل: تحدث الكاتب عن أنواع الخبز في

ج أجب: بماذا نصحنا الكاتب؟

السؤال الخامس (النص الشعري) اقرأ الأبيات التالية للشاعر (الشاذلي خزندار)، ثم أجب:

طَلَعَ الصَّبَاحُ فَأَشْرَقَتْ      شَمْسُ الضُّحَى وَبَدَا النَّهَارُ  
وَسَعَى الْكِبَارُ لَشَأْنِهِمْ      وَمَشَتْ لِمَكْتَبِهَا الصِّغَارُ  
دَخَلَتْ صُفُوفًا لِلدُّرُوسِ دُخُولَ جَيْشِ الْإِنْتِصَارِ  
حَيَّ الْمُعَلِّمَ وَاسْتَعِزَّ دَلِيمًا إِلَيْهِ بِهِ أَشَارُ

١ اختر: معنى (بدا): (طال - انتهى - بدأ - ظهر)

ب حدّد التعبير الأجمل موضحًا السبب: «دخلت... دخول جيش الانتصار» - «دخل الصغار متحمسين».

ج اكتب البيت الدال على المعنى الآتي: علينا أن نقدر المعلم، وأن نستمع لنصائحه.

السؤال السادس (القواعد النحوية) اقرأ الفقرة التالية، ثم أجب:

«المدرسة تهتم بالتربية الخُلقية، ويشجع المعلمون والمعلمات التلاميذ على الالتزام بالأخلاق الحسنة...».

١ اختر الإجابة الصحيحة مما بين القوسين:

١ إعراب كلمة (المعلمون): (خبر - فاعل - مفعول به)

٢ إعراب كلمة (التلاميذ): (مفعول به - فاعل - مبتدأ)

ب صوّب الخطأ بالجملة الآتية: «قرأ التلميذ قصتان». التصويب:

ج ثنّ ما تحته خط، واكتب الجملة كاملة: «زرع الفلاح الأرض».

د «هذا الطالب ..... فاز بالجائزة».

السؤال السابع (الخط) اكتب بخط النسخ:

الجمال الحقيقي ينبع من قلوبنا.

السؤال الثامن (الإملاء) اكتب ما يملئ عليك:

(فقرة الإملاء ص ١٢)



## نموذج ٢

(نص الاستماع ص ١٢)

السؤال الأول (الاستماع) استمع، ثم أجب:

أ اختر الإجابة الصحيحة مما بين القوسين:

١ خرج أحمد مع أسرته يوم ..... (الخميس - الثلاثاء - السبت - الجمعة)

٢ ذهبت الأسرة إلى ..... (المتحف المصري - المركز التجاري - الحديقة - المنتزه)

ب أكمل: الشخص المشهور الذي قابلته الأسرة هو .....

السؤال الثاني (التعبير الكتابي) اقرأ الذاتية التالية، ثم أجب:

«أنا حسين من القاهرة، عمري عشر سنوات، أسرتي مكونة من أربعة أفراد، أبي مدرب كاراتيه، وأمي أستاذة جامعية. دراستي: ذهبت إلى الحضانه، ثم إلى المدرسة الابتدائية، أحب اللغة العربية، وخاصة القواعد النحوية، وهناك يوم لا أنساه؛ يوم مرضت أختي الصغيرة قبل موعد الامتحان بيوم، وعدم قدرتها على المراجعة لتعبها الشديد، ومساعدتي لها؛ حتى تنجح. حلمي: أن أكون معلمًا للغة العربية؛ لحبي للقواعد النحوية، ولأجعل أبناء وطني يعرفون أهميتها».

أكمل:

١ من أنا؟ ..... ٢ دراستي: .....

٣ يوم لا أنساه: ..... ٤ حلمي: .....

السؤال الثالث (النص الأدبي المتحرر) اقرأ الفقرة التالية:

«تخلف أحمد في اختبار مادة العلوم، فقال له زميله يوسف: إن هذه المادة صعبة، وأخشى ألا تستطيع النجاح فيها.. شعر أحمد بالحزن، فقالت له أمه: يا بني، لا تقنط، واجعل من كلام يوسف سببًا للتحدي.. اقتنع أحمد بكلام أمه؛ فأحضر ورقة وكتب عليها: (سأحاول من جديد؛ فأنا أستطيع)، وعلقها أمام مكتبه؛ لتجذب انتباهه، ويراه في كل الأوقات، وعاجل بالاجتهاد في دراسته حتى اجتاز الاختبار التالي بامتياز».

أ استخرج من الفقرة ما يلي: ١ معنى (أسرع): ..... ٢ مضاد (السابق): .....

ب أكمل: ١ شعر أحمد بالحزن بسبب كلام زميله .....

٢ علق أحمد جملة (سأحاول من جديد؛ فأنا أستطيع) أمام مكتبه لكي .....

ج أجب: كيف تفوق أحمد في مادة العلوم؟ .....

السؤال الرابع (النص المعلوماتي المتحرر) اقرأ الفقرة التالية:

«يحتوي الكون من حولنا على مئات المجرات السماوية التي تضم بداخلها ملايين الكواكب والنجوم، وكلاهما مختلف عن الآخر؛ فالكواكب أجسام معتمة لا ينبعث منها ضوء أو حرارة مثل كوكب الأرض الذي



**نعيش** عليه، بينما النجوم أجسام مضيئة، ينبعث منها ضوء وحرارة مثل الشمس، وهي أقرب نجم بالنسبة للأرض، وبدونها لن تكون هناك حياة على كوكبنا؛ لأنها المصدر الرئيسي للضوء والحرارة على سطح الأرض.»

١ اختر الإجابة الصحيحة مما بين القوسين:

١ معنى (معتمة): (مضيئة - منيرة - صافية - مظلمة)

٢ مضاد (نعيش): (نموت - نحيا - نسعد - نشقى)

ب أكمل: تضم المجرات السماوية من الكواكب والنجوم.

ج أجب: ما أقرب نجم إلى الأرض؟

### السؤال الخامس (النص الشعري) اقرأ الأبيات التالية:

رَبُّوَا بِنَيْكُمُ عَلْمُوهُمُ هَدَّبُوا  
وَالْعِلْمُ مَالُ الْمُعْدِمِينَ إِذَا هَمُّ  
وَأَخُو الْجَهَالَةِ فِي الْحَيَاةِ كَأَنَّهُ  
وَالْجَهْلُ يَخْفِضُ أُمَّةً وَيَذِلُّهَا  
فَتَيَاتِكُمْ فَالْعِلْمُ خَيْرُ قَوَامٍ  
خَرَجُوا إِلَى الدُّنْيَا بغيرِ حُطَامٍ  
سَاعٍ إِلَى حَرْبٍ بغيرِ حُسَامٍ  
وَالْعِلْمُ يَرْفَعُهَا أَجَلٌ مُقَامٍ

١ اختر: معنى (أجل): (أغنى - أطول - أكبر - أعظم)

ب أكمل: الكلمات التي لها نفس نهاية (قوام):

ج ضع خطأ أسفل البيت الدال على المعنى الآتي: الجاهل يشبه الجندي الذي ذهب إلى المعركة بلا سلاح.

### السؤال السادس (القواعد النحوية) اقرأ الفقرة التالية، ثم أجب:

«ينال المتفوقون رعاية كاملة من الدولة، وتيسر لهم البعثات العلمية خارج البلاد، وتكرم الدولة المتفوقين؛ تقديرًا لهم.»

١ استخرج: ١ جمع تكسير: ٢ فاعلاً:

ب أعرب ما تحته خط: ١ الدولة: ٢ المتفوقين:

ج أجب بالمطلوب بين القوسين:

١ حملت الأطباق ..... كانت على المائدة.

٢ قاد السائقون السيارات.

٣ تحدت.

### السؤال السابع (الخط) اكتب بخط النسخ:

شعاري في الحياة «أنا أستطيع».

### السؤال الثامن (الإملاء) اكتب ما يملئ عليك:

(فقرة الإملاء ص ١٢)



### نموذج ٣

(نص الاستماع ص ١٢)

السؤال الأول (الاستماع) استمع، ثم أجب:

أ اختر الإجابة الصحيحة مما بين القوسين:

١) زار التلاميذ حديقة ..... (الأسماك - صنعاء - الحيوان - الزهور)

٢) كانت الرحلة يوم ..... (الأربعاء - الخميس - الجمعة - السبت)

ب أكمل: كان عدد تلاميذ الرحلة ..... تلميذاً.

السؤال الثاني (التعبير الكتابي):

- صِفْ صديقاً مفضلاً عندك، واكتب عنه موضوعاً وصفيّاً مراعيّاً الشكل الخارجي، ووصف الشخصية.
- يتراوح عدد الكلمات من (٧٥ كلمة) إلى (١٢٥ كلمة).

السؤال الثالث (النص الأدبي المتحرر) اقرأ الفقرة التالية:

«تفانى جدي في مساعدة فقراء القرية، فجاءه الكثير من الناس يطلبون المساعدة، منهم الفقير حقاً، ومنهم الذي يدعي الفقر، وكان الجد يود أن تقتصر المساعدات على المحتاجين الذين لهم الأولوية في المساعدات، ففكر في حيلة؛ فعلق لافتة كبيرة أمام بيته مكتوب فيها: (المساعدة اليوم كيلو من الدقيق)؛ فحضر إليه عدد قليل وهم الفقراء الحقيقيون، فمنحهم أكياس الدقيق، وعندما عاد كل واحد منهم إلى بيته فتح علبة الدقيق؛ فوجد فيها مبلغاً كبيراً من المال».

أ استخرج: ١) معنى (بذل جهداً): ..... ٢) مضاد (تتجاوز): .....

ب أكمل: ١) الجد يتفانى في مساعدة .....

٢) يريد الجد أن تقتصر المساعدات على .....

ج أجب: لماذا فكّر الجد في حيلته؟ وهل نجحت؟ .....

السؤال الرابع (النص المعلوماتي المتحرر) اقرأ الفقرة التالية:

«مترو الأنفاق وسيلة مريحة وسريعة لنقل الركاب في القاهرة، فكثير من محطاته تحت الأرض، وقد ساهمت تلك الوسيلة **الجوهريّة** في حل أزمة المواصلات بنسبة كبيرة، وتم افتتاح المرحلة الأولى منه في الأول من أكتوبر عام ١٩٨٧م، ومترو أنفاق القاهرة يُعد أول خط مترو يتم تسييره في مصر والوطن العربي وقارة إفريقيا، كما يُعد أحد أهم وسائل المواصلات في القاهرة.. عدد عربات المترو تسع عربات للخط الأول، وثمانية عربات للخط الثاني، تُخصّص عربتان في منتصف المترو للسيدات، ويُمنع استخدام



الرجال لإحداهما حتى التاسعة مساءً، والأخرى حتى ما بعد التاسعة، ولكن يُسمح للسيدات باستخدام كافة عربات القطار، وينقل المترو ما يقرب من ٣,٦ مليون راكب يوميًا».

١ اختر الإجابة الصحيحة مما بين القوسين:

١ معنى (الجوهريّة): ..... (المحتملة - الواضحة - الأساسية - المعروفة)

٢ مضاد (يمنع): ..... (يطلب - يمنح - يهمل - يسعد)

ب أكمل: تُخصّص عربتان في منتصف المترو ل.....

ج أجب: كان إنشاء مترو الأنفاق عملاً رائدًا غير مسبوق. وضح ذلك. ....

### السؤال الخامس (النص الشعري) اقرأ الأبيات التالية:

أَنَا الْمَدْرَسَةُ اجْعَلْنِي      كَأَمْ لَا تَمَلُّ عَنِّي  
أَنَا الْمُضَبَّاحُ لِلْفِكْرِ      أَنَا الْمُفْتَّاحُ لِلذَّهْنِ  
وَأَلْقَاكَ بِإِخْوَانٍ      يُدَانُونَكَ فِي السَّنِّ  
وَأَبَاءٍ أَحْبُوكَ      وَمَا أَنْتَ لَهُمْ بِأَبْنِ

١ اختر: معنى (الذهن): ..... (العين - العقل - السمع - الأذن)

ب اختر التعبير الأجل موضحًا السبب: «وأباء أحبوك» - «ومعلمون أحبوك».

ج اكتب البيت الدال على المعنى الآتي: في المدرسة نقابل أصدقاء في مثل عمرنا.

### السؤال السادس (القواعد النحوية):

«يربي المعلمون والمعلمات التلاميذ في المدارس، فالعلم والأخلاق ضروريان لبناء الأجيال».

١ استخرج: ١ جمع مؤنث سالماً: ..... ٢ اسمًا مجرورًا: .....

ب اختر: ١ كلمة (المعلمون): تُعَرَّب ..... (مبتدأ - خبرًا - فاعلاً)

٢ كلمة (التلاميذ): تُعَرَّب ..... (مفعولًا به - خبرًا - فاعلاً)

ج «المصريون يعملون بجد». حوّل الجملة الاسمية إلى فعلية.

### السؤال السابع (الخط) اكتب بخط النسخ:

لا تُؤجل عمل اليوم إلى الغد.

### السؤال الثامن (الإملاء) اكتب ما يملئ عليك:

(فقرة الإملاء ص ١٢)

.....  
.....



## نموذج ٤

(نص الاستماع ص ١٣)

### السؤال الأول (الاستماع) استمع، ثم أجب:

أ اختر الإجابة الصحيحة مما بين القوسين:

١) والد سلمى يعمل معلم ..... (رياضيات - إنجليزي - علوم - لغة عربية)

٢) الشهر الذي وُلدت فيه سلمى هو شهر ..... (شعبان - رمضان - رجب - شوال)

ب أكمل: سلمى الآن في الصف .....

### السؤال الثاني (التعبير الكتابي) اقرأ، ثم حلل عناصر الفقرة الآتية:

«في العصر الحديث من الضروري أن يعلم الإنسان نفسه بنفسه، فيعتمد على مصادر متعددة، مثل: الكتب، والمجلات والبرامج الثقافية والمواقع الإلكترونية، وهذا هو التعلم الذاتي. وللتعلم الذاتي العديد من المميزات منها: حرية اختيار مصدر التعلم، وأيضًا تحديد الوقت المناسب للتعلم. وعلى الجانب الآخر، فإن للتعلم الذاتي عيوبًا، منها: سوء اختيار مصدر التعلم، وقلة التفاعل مع الآخرين.»

١) المقدمة: .....

٢) من المميزات: .....

٣) من العيوب: .....

### السؤال الثالث (النص الأدبي المتحرر) اقرأ الفقرة التالية:

«هناك نوعان من الجمال، جمال شكلي؛ وهو الجمال الذي يلاحظه الجميع عندما ينظرون إليك، وجمال داخلي؛ وهو الجمال الذي ينبع من أخلاقك الحميدة وصفاتك الحسنة، وهناك فارق كبير بين النوعين، فالجمال الشكلي متغير بتغير العمر، فإنه يزول عندما يكبر الإنسان، أما الجمال الداخلي، فهو يبقى ولا يزول حتى بعد موت صاحبه؛ حيث يظل الناس يذكرون صاحبه بالكلام الطيب؛ لذلك عليك عند الحكم على أحد الأشخاص أن تنظر إلى الجمال الداخلي وليس الجمال الشكلي.»

أ اختر الإجابة الصحيحة مما بين القوسين:

١) معنى (ينبع): .....

٢) مفرد (صفات): .....

ب أكمل: ١) الجمال الشكلي يلاحظه الجميع عندما ..... إليك.

٢) الجمال الداخلي ينبع من ..... الحميدة.

ج أجب: ماذا يجب علينا عند الحكم على أحد الأشخاص؟

### السؤال الرابع (النص المعلوماتي المتحرر) اقرأ الفقرة التالية:

«من المعروف أن النباتات تأخذ غذاءها عادة من التربة، ولكن العجيب أن هناك نوعًا من النباتات يأخذ غذاءه من الحشرات، وهذا النبات يسمى (التنين الأحمر) تتكون أوراق هذا النبات من جزأين، توجد





عليهما مادة لزجة، فعندما تنزل عليه حشرة تلتصق على أوراق هذا النبات، وينغلق عليها الجزآن، ثم يقوم النبات بهضمها، والتخلص من فضلاتها».

أ اختر الإجابة الصحيحة مما بين القوسين:

(مرنة - خارقة - لاصقة - قاتلة)

١ معنى (لزجة):

(الحشرة - الحاشرة - الحشر - الشرح)

٢ مفرد (الحشرات):

ب أكمل: تتكون أوراق نبات (التنين الأحمر) من

ج أجب: ما العجيب في نبات التنين الأحمر؟

### السؤال الخامس (النص الشعري) اقرأ الأبيات التالية:

عَرَسَ الْأُسْتَاذُ لَنَا عِلْمًا      وَرَجَا لَأَقْدَ صَدَقُوا الْعَزْمًا  
وَتَفَانِي كَيْ يُمَحَى جَهْلٌ      لَمْ يَتْرُكْ سَعْيًا أَوْ حُلْمًا  
قَدْ وَفَى الْحَقُّ وَلَمْ يَبْخُلْ      لَمْ يَعْرِفْ لَوْمًا أَوْ ظُلْمًا  
كَالْنُورِ أَضَاءَ لَنَا دَرِيًّا      خُذْ عَنْهُ الْخَبْرَةَ وَالْقَهْمًا

أ اختر: الأبيات تتحدث عن فضل

(الصبر - المعلم - السعي - الحق)

ب أكمل: في البيت الأخير شبه الشاعر الأستاذ بـ

ج ضع خطأ تحت البيت الدال على المعنى الآتي: استطاع المعلم أن يربي جيلاً له إرادة صادقة.

### السؤال السادس (القواعد النحوية) اقرأ الفقرة التالية، ثم أجب:

«الماء نعمة عظيمة، يعيش الإنسان عليه، ولا غناء عنه لكل الكائنات الحية، ويجب أن نحافظ عليه ولا نسرف في استخدامه، وهذا واجبنا جميعاً».

أ استخرج: ١ جمعاً: ، وبيّن نوعه:

٢ فاعلاً: ، وعلامة رفعه:

ب اختر الإعراب الصحيح مما بين القوسين:

١ كلمة (الماء):

٢ كلمة (نعمة):

ج أكمل بمفعول به مناسب، واضبط آخره: «قرأ التلميذ».

### السؤال السابع (الخط) اكتب بخط النسخ:

أحلام اليوم واقع الغد.

(فقرة الإملاء ص ١٣)

### السؤال الثامن (الإملاء) اكتب ما يملئ عليك:



## نموذج لطلاب الأزهر الشريف

(التعبير الكتابي) استخدم المخطط التالي لكتابة وصف عن الخال:

السؤال الأول

العنوان	المقدمة	الوصف الخارجي	وصف الشخصية	الخاتمة
خالى العزيز	الخال شخصية متفردة؛ فهو يحمل حنان الأم ومساندة الأب.	عينان بنيتان - شعر أسود - بشرة سمراء - وجه مستدير	عطوف - رحيم - يشاركني في حل المشكلات	مهما قلت عنه فلن أوفيه حقه - أتمنى أن أصبح مثله

السؤال الثاني (القراءة) اقرأ الفقرة التالية من نص «طعامهم يميزهم»:

«رغم أن الفطير (المشلتت) تعده كثير من محافظات مصر، فإن محافظة الشرقية يظل يميزها عن غيرها من المحافظات. الجدير بالذكر أن لكل محافظة طعامًا يميزها، ويُعد ذلك من ثقافتها؛ لأن الطعام يعكس ثقافات الشعوب وعاداتها، وكذلك هو مصدر للبهجة والمتعة، لكنه يقتضي منا الاعتدال وتجنب الإفراط.»

أ) استخرج من الفقرة:

- ١) مرادف (البعد عن): .....  
 ٢) مضاد (الاعتدال): .....  
 ٣) جمع (محافظة): .....  
 ٤) مفرد (مصادر): .....

ب) ضع علامة (✓) أمام العبارة الصحيحة، وعلامة (X) أمام العبارة غير الصحيحة:

- ١) كلما أفرطنا في تناول الطعام زادت المتعة والبهجة. ( )  
 ٢) تختلف أطعمة المحافظات لتنوع عاداتها وثقافتها. ( )  
 ٣) لا يوجد الفطير المشلتت في مصر إلا في محافظة الشرقية. ( )

(النصوص) اقرأ الأبيات التالية من نص (لغة الأجداد)، ثم أجب:

السؤال الثالث

لَا تَلْمِني فِي هَوَاهَا      أَنَا لَا أَهْوَى سِوَاهَا  
 مَا أَنَا وَحْدِي فِدَاهَا      كُنْنَا الْيَوْمَ فِدَاهَا  
 لَمْ يَمُتْ شَعْبٌ تَفَانِي      فِي هَوَاهَا وَاصْطَفَاهَا  
 نَزَلْتُ فِي كُلِّ نَفْسٍ      وَتَمَشَّتْ فِي دِمَاهَا



أكمل ما يلي:

١) مرادف (تلمني): ..... ٢) مضاد (هواها): ..... ٣) قائل النص هو: .....

ب) ضع علامة (✓) أمام العبارة الصحيحة، وعلامة (X) أمام العبارة غير الصحيحة:

١) يحب الشاعر اللغة العربية كحبه للغات الأجنبية. ( )

٢) حب اللغة العربية يجري في دماء الشاعر. ( )

ج) هات من الأبيات ما يلي:

١) ثلاث كلمات لها جرس موسيقي: .....

٢) تشبيهاً: .....

٣) بيتاً معناه (لست وحدي من يضحى من أجل اللغة العربية، فكل من ينطق بها يضحى من أجل رفعتها): .....

### السؤال الرابع (القواعد النحوية) اقرأ، ثم أجب :

«المكتبة نافذة العلم.. يتردد الفائقون عليها، وتشجع المدرسة الطلاب على دخولها والتزود من خيراتها».

أ) أعرّب ما تحته خط:

١) المكتبة: ..... ٢) الفائقون: .....

٣) الطلاب: .....

ب) أكمل باسم موصول مناسب: كرم المدير الطالب ..... في المدرسة.

ج) اجعل الجملة التالية للمثنى، وغير ما يلزم: «المؤمن صادق».

### السؤال الخامس (الخط العربي) اكتب العبارة الآتية بخط النسخ مرة وبخط الرقعة مرة أخرى:

إن الله جميل يحب الجمال.

النسخ:

الرقعة:

(فقرة الإملاء ص ١٣)

### السؤال الثامن (الإملاء) اكتب ما يملئ عليك:



## فقرات الاستماع والإملاء

### نموذج (1)



**فقرة الاستماع** الإنسان العاقل هو الذي يسأل عن كل شيء، ويحرص على اكتشاف العالم من حوله؛ ليعرف المزيد والإنسان الناجح هو الذي يرسم خطة يسير عليها؛ لتساعده في الوصول بهدفه متحملاً مشقة الطريق، ويواصل السعي متجاهلاً العقبات التي تقف في طريقه؛ لأنه هو حجر الأساس لكل اختراع وصل لنا، فالفكرة تبدأ بسؤال، وبالجواب عليه نصل إلى اكتشاف جديد ينقذ البشرية من مخاطر كثيرة كالأوبئة وغيرها.



**فقرة الإملاء** حب الوطن من الإيمان، والإنسان الذي يحب وطنه يتقن عمله، ويجد، ويجتهد، ويصبر؛ ليصل به إلى أعلى الدرجات، ويخاطب نفسه فيقول: وطني هو مسئوليتي. ما أحسن العمل من أجل الوطن! إنه شرف لكل إنسان.

### نموذج (2)



**فقرة الاستماع** هل قابلت شخصاً مشهوراً قبل ذلك؟ حدث هذا معي الأسبوع الماضي؛ في يوم الجمعة خرجت مع أسرتي كالعادة، وذهبنا إلى مركز تجاري، وهناك تجولنا وشاهدنا محال الملابس والهدايا والألعاب، وبعد ذلك جلسنا في مطعم، ونظرت إلى يميني فوجدت شخصاً، شعرت أنني رأيت من قبل، ومررت دقيقة حتى تذكرته، كان هذا الشخص الدكتور (مجدى يعقوب)، الذي قرأت عنه في فصلي، ذهبت إليه وسلمت عليه، وشكرته على مساعدته المرضى، ما أجمل أن تقابل شخصية عظيمة وجهاً لوجه!



**فقرة الإملاء** تأخر المطر، ولم ينزل في الصحراء، فجف الزرع، وصارت الأرض جرداء لانبات فيها، وفي الشتاء بدأ نزول المطر وعادت الحياة إلى طبيعتها.

### نموذج (3)




**فقرة الاستماع** أعدت لنا المدرسة رحلة إلى القاهرة يوم الخميس الماضي، وفي الموعد المحدد اجتمع المشتركون في الرحلة، وكان عددهم خمسين تلميذاً، ولما اكتملوا جميعهم ببناء المدرسة، وحضر المشرفون عليهم من المدرسين، ركبنا سيارة كبيرة، ولما وصلنا إلى حديقة الحيوان، نزلنا من السيارة، ودخلنا الحديقة في هدوء ونظام، وأخذنا نتجول في أنحاءها، نشاهد فيها الطيور والحيوانات المختلفة.




**فقرة الإملاء** قال جدي: هل أشرفت في الكون حضارة بدون معلم؟ فما أعظم مكانة المعلم! فهو الذي يتخرج من تحت يديه جميع المهن الأخرى.




## نموذج (٤)

**فقرة الاستماع**  أنا سلمى، ولدت في شهر رمضان، فكانت فرحة أسرتي بي كبيرة؛ لأنني البنت الوحيدة على ثلاثة ذكور، أنا زميلتكم الآن في الصف الخامس، أبواي يعملان معكم؛ فهما يعلمانكم لغة الضاد، لغة القرآن الكريم. لي صديقة قريبة مني هي أسيل بنت عمي، وكذلك نور وملك؛ ولن أنسى يوم أخذني أبي معه لحفل نصر أكتوبر، وظل هذا اليوم راسخًا بذهني؛ لأنه وفي نفس اليوم كان حفل نجاح أخي بالثانوية العامة بتفوق.

**فقرة الإملاء**  في إجازة نصف العام ذهبت أنا وأسرتي إلى قريتنا في صعيد مصر، وقد أقمنا هناك ثلاثة أيام، والتقينا بأهلنا وأصدقائنا

## نموذج لطلاب الأزهر الشريف

**فقرة الإملاء**  بالعمل والاجتهاد يصل الإنسان إلى تحقيق أهدافه، وعلى العكس بالكسل والتهاون يفشل الفرد والمجتمع، وقديمًا قالوا: «من جد وجد، ومن زرع حصد»، فما أجمل العمل! وما أقبح الكسل! فماذا تريد النجاح أم الفشل؟



# سلاح التمهيد

منذ عام ١٩٦٠



اللغة  
العربية

2024-2025

الصف الخامس الابتدائي  
الفصل الدراسي الأول

إجابات نماذج اختبارات  
نهاية الفصل الدراسي الأول

5

## نموذج ١

### السؤال الأول:

- أ) ١ (✓) ٢ (X)  
ب) خطة

### السؤال الثالث:

- أ) ١ نشأته ٢ منها  
ب) ١ فرط الجوع ٢ عظام الغنم

### السؤال الرابع:

- أ) ١ جميع ٢ اعتدال  
ب) مصر  
ج) نصحنأ بأنه يجب أن نتناول الخبز بلا إفراط ولا تفريط.

### السؤال الخامس:

- أ) ظهر  
ب) «دخلت... دخول جيش الانتصار» حيث شبّه الطلاب في اجتهادهم في دروسهم بالجيش المنتصر.  
ج) حَيِّ الْمَعْلَمِّ وَاسْتَعَدَّ لِمَا إِلَيْهِ بِهِ أَشَارَ

### السؤال السادس:

- أ) ١ فاعل ٢ مفعول به  
ب) (قصتان): قصتين  
ج) زرع الفلاحان الأرض.  
د) الذي

## نموذج ٢

### السؤال الأول:

- أ) ١ الجمعة ٢ المركز التجاري  
ب) الدكتور مجدي يعقوب

### السؤال الثالث:

- أ) ١ عاجل ٢ التالي  
ب) ١ يوسف

٢ تجذب انتباهه ويراهها في كل الأوقات

ج) عاجل بالاجتهاد في دراسته حتى اجتاز الاختبار التالي بامتياز.

### السؤال الرابع:

- أ) ١ مظلمة ٢ نموت  
ب) ملايين

ج) أقرب نجم إلى الأرض هو الشمس.

### السؤال الخامس:

- أ) أعظم  
ب) حطام - حسام  
ج) وَأَخُو الْجَهَّالَةِ فِي الْحَيَاةِ كَأَنَّهُ  
سَاعٍ إِلَى حَرْبٍ بَغَيْرِ حُسَامٍ

### السؤال السادس:

- أ) ١ البلاد ٢ المتفوقون  
ب) ١ اسم مجرور، وعلامة جره الكسرة  
٢ مفعول به منصوب، وعلامة نصبه الياء.  
ج) ١ التي ٢ السيارات ٣ المعلمان

## نموذج ٣

### السؤال الأول:

- أ) ١ الحيوان ٢ الخميس  
ب) خمسين

### السؤال الثالث:

- أ) ١ تفانى ٢ تقتصر  
ب) ١ فقراء القرية ٢ المحتاجين  
ج) فَكَّرَ الْجَدُّ فِي حِيلَتِهِ لِأَنَّ الْكَثِيرَ مِنَ النَّاسِ جَاءُوا يَطْلُبُونَ الْمُسَاعَدَةَ، مِنْهُمْ الْفَقِيرُ حَقًّا وَمِنْهُمْ الَّذِي يَدْعِي الْفَقْرَ، وَقَدْ نَجَحَتْ حِيلَتُهُ.

### السؤال الرابع:

- أ) ١ الأساسية ٢ يمنح



ب السيدات

د لأنه يعد أول مترو تم تسييره في مصر وقارة أفريقيا.

السؤال الخامس:

أ العقل

ب «وأباء أحبوك» حيث شبّه المعلمون بالأباء في

رحمتهم وحبهم لطلابهم.

د وَأَلْقَاكَ يَا خُوَانٍ .: يُدَانُونَكَ فِي السَّنِّ

السؤال السادس:

أ المعلمات ٢ بناء

ب فاعلاً ٢ مفعولاً به

د يعمل المصريون بجد.

نموذج ٤

السؤال الأول:

أ لغة عربية ٢ رمضان

ب الخامس

السؤال الثالث:

أ يصدر ٢ صفة

ب ينظرون ٢ أخلاقك

د يجب علينا عند الحكم على أحد الأشخاص أن ننظر

إلى الجمال الداخلي، وليس الجمال الشكلي.

السؤال الرابع:

أ لاصقة ٢ الحشرة

ب جزأين

د العجيب في نبات التنين الأحمر أنه يأخذ غذاءه من

الحشرات.

السؤال الخامس:

أ المعلم ٢ النور

د غَرَسَ الْأُسْتَاذُ لَنَا عِلْمًا

وَرَجَالًا قَدْ صَدَقُوا الْعَزْمًا

السؤال السادس:

أ الكائنات - جمع مؤنث سالم

ب الإنسان - الضمة

ب مبتدأ ١ خبر ٢

د قرأ التلميذ الكتاب.

نموذج لطلاب الأزهر الشريف

السؤال الثاني:

أ تجنب ١ الإفراط ٢

ب ٣ محافظات ٤ مصدر

ب ١ (X) ٢ (✓) ٣ (X)

السؤال الثالث:

أ تعاتبني ١ كُرْهًا ٢

ب ٣ حلِيمِ دُمُوسٍ

ب ١ (X) ٢ (✓)

د ١ هواها - سواها - فداها

ب ٢ «لا تلمني في هواها»

ب ٣ مَا أَنَا وَوَحْدِي فِدَاهَا

كُنَّا الْيَوْمَ فِدَاهَا

السؤال الرابع:

أ مبتدأ مرفوع، وعلامة رفعه الضمة.

ب فاعل مرفوع، وعلامة رفعه الواو؛ لأنه جمع

مذكر سالم.

ب مفعول به منصوب، وعلامة نصبه الفتحة.

ب الذي

د المؤمنان صادقان.





# سلاح التلميز

منذ عام ١٩٦٠



## الرياضيات

2024-2025

الصف الخامس الابتدائي

الفصل الدراسي الأول

نماذج اختبارات نهاية الفصل الدراسي الأول  
طبقاً لآخر مواصفة للورقة الامتحانية

5

(9 درجات)

السؤال الأول اختر الإجابة الصحيحة من بين الإجابات المعطاة:

- 1) القيمة المكانية للرقم 8 في العدد 4.658 هي .....  
 أ أحاد ب جزء من عشرة ج جزء من ألف د جزء من مائة
- 2) الجملة الرياضية:  $a + 18.03 = 25.91$  تمثل .....  
 أ معادلة ب تعبيراً رياضياً ج متغيراً د قيمة مكانية
- 3)  $425 \times \dots = 0.425$   
 أ 100 ب 1,000 ج 0.001 د 0.01
- 4) المقسوم عليه في مسألة القسمة:  $284 \div 4 = 71$  هو .....  
 أ 71 ب 284 ج 4 د 0
- 5) العدد الأولي الذي مجموع عوامله 8 هو .....  
 أ 5 ب 7 ج 8 د 16
- 6) إذا كان المُدخل 20 والمُخرج 5 ، فإن القاعدة تكون .....  
 أ  $n \div 4$  ب  $n \times 5$  ج  $n \times 4$  د  $n \div 5$
- 7) أرادت بسمة أن تكتب معادلة بمتغير لتمثيل 16 ناقص عدد ما يساوي 11.5 ، أي معادلة مما يلي صحيحة؟  
 أ  $11.5 + 16 = x$  ب  $16 + 11.5 = x$  ج  $16 - x = 11.5$  د  $x - 11.5 = 16$
- 8)  $(15 \times 100) + (15 \times 20) + (15 \times 3) = 15 \times \dots$   
 أ 210 ب 132 ج 123 د 321
- 9)  $1.5 \times 6 - 3 + 4 = \dots$   
 أ 2 ب 8.5 ج 0.5 د 10

(21 درجة)

السؤال الثاني أجب عما يلي:

- 10) مشى رامي من المدرسة إلى المنزل مسافة طولها 24.15 متر ، ثم مشى من منزله إلى النادي مسافة أخرى طولها 15.346 متر .  
 ما مجموع المسافات التي مشاها رامي؟
- 11) أوجد (ع.م.أ) و (م.م.أ) للعديدين: 9 ، 12
- 12) اشترى نبيل 7 أقلام ، فإذا كان ثمن القلم الواحد 3.5 جنيه ، فما إجمالي ما دفعه نبيل؟
- 13) اكتب التعبير العددي للمسألة: (طرح 3.1 من 4.62 ، ثم ضرب الناتج في 2) ، ثم أوجد قيمته.





10) طريق طوله 924.8 كم ، رُصف منه 519.45 كم. كم عدد الكيلومترات المتبقية من الطريق دون رصف؟

11) فندق به 14 طابقًا ، كل طابق به 356 نزيلًا. أوجد العدد الكلي للنزلاء في الفندق.

12) اشترى إبراهيم كتابًا بمبلغ 15.25 جنيه ، وقصة بمبلغ 6.75 جنيه.

اكتب معادلة تُعبر عن مجموع ما دفعه إبراهيم باستخدام متغير ، ثم أوجد قيمة المتغير .

13) يتدرب عمر كل 9 أيام ، بينما يتدرب أمجد كل 7 أيام ، وكل من الصديقين يتدربان معًا اليوم.

كم يومًا سيمضي حتى يتدربا معًا مرة أخرى؟ هل تحتاج إلى استخدام (ع.م.أ) أم (م.م.أ)؟

14) شريط طوله 15.5 م ، يُراد تقطيعه إلى قطع متساوية طول كل قطعة 0.5 م. ما عدد القطع؟

15) استخدم ترتيب العمليات لإيجاد قيمة التعبير العددي:  $100 \div 2.6 - 1.5 \times 4$

16) عدنان الأول عوامله الأولية: 3 ، 2 ، 2 ، والثاني عوامله الأولية: 2 ، 3 ،

أوجد العددين ، ثم أوجد (ع.م.أ) للعددين.

30

## اختبار 3

## السؤال الأول اختر الإجابة الصحيحة من بين الإجابات المعطاة:

1) قيمة الرقم 5 في العدد العشري 3.547 تساوي .....

أ 0.5      ب 0.05      ج 5      د 0.005

2) 2 جزء من مائة - 2 جزء من ألف = .....

أ 0.18      ب 18      ج 0      د 0.018

3)  $2.7 \div 0.1 =$  .....

أ 0.27      ب 27      ج 2.7      د 270



4) إذا كان:  $5 = x - 3.25$  ، فإن قيمة  $x$  تُعبر عن .....

- أ مجموع العددين      ب الفرق بين العددين      ج نصف العددين      د ضعف العددين

5)  $10.1$    $10.011$

- أ <      ب >      ج =      د غير ذلك

6) إذا كان المُدخل 7 ، والقاعدة هي  $3 \times n$  ، فإن المُخرج هو .....

- أ  $\frac{7}{3}$       ب 10      ج 14      د 21

7) لإيجاد قيمة التعبير العددي:  $350 - 45.9 \div 2 \times 11.7$  يجب إجراء عملية ..... أولاً.

- أ الطرح      ب الجمع      ج القسمة      د الضرب

8) العدد الأولي الزوجي الوحيد هو .....

- أ 1      ب 2      ج 3      د 4

9)  $45 \times 37 =$  .....

- أ 1,665      ب 1,200      ج 1,350      د 1,235

(21 درجة)

### السؤال الثاني أجب عما يلي:

10) تدّخر ليلي 45.75 جنيه في اليوم. احسب كم تدّخر ليلي بعد 10 أيام.

11) من النموذج المقابل: أوجد قيمة المتغير  $t$

t	
9.2	7.32

12) إذا كان ثمن الكتاب الواحد 32 جنيهاً ، فما عدد الكتب التي يمكن شراؤها بمبلغ 1,728 جنيهاً؟

13) اشترت مريم فستاناً بسعر 203.5 جنيه ، وكان سعره قبل الخصم 213.75 جنيه. احسب قيمة الخصم.

14) اكتب التعبير العددي الذي يمثل: (ضرب 0.542 في 100 ، ثم جمع 2.5) ، ثم أوجد قيمته.

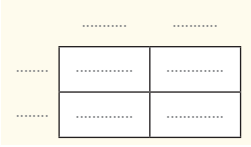
15) إذا كانت سعة وعاء من المياه 17,000 ملل ، فما سعة الوعاء باللترات؟

16) أوجد (ع.م.أ) للعددين: 18 ، 24





12 أوجد حاصل ضرب:  $32 \times 24$  باستخدام نموذج مساحة المستطيل المقابل.



13 رتب الأعداد العشرية التالية تصاعدياً:

14.251 ، 141.3 ، 14.1 ، 41.25

..... ، ..... ، ..... ، .....  
→

14 أوجد خارج قسمة:  $2.91 \div 0.03$

15 أوجد قيمة المتغير  $x$  في المعادلة:  $3.96 + x = 7.3$

16 وزعت إدارة مصنع 8,525 جنيهاً على 11 موظفاً بالتساوي ، فما نصيب كل موظف؟

30

## اختبار 5

(9 درجات)

السؤال الأول اختر الإجابة الصحيحة من بين الإجابات المعطاة:

1 المضاعف المشترك لكل الأعداد هو .....

د 3

ج 2

ب 0

أ 1

2  $35.6 \approx 35.57$  مقرباً لأقرب .....

د عدد صحيح

ج جزء من عشرة

ب جزء من مائة

أ عشرة

3  $35 \div 1.5 = \dots \div 15$

د 0.35

ج 3,500

ب 3.5

أ 350

4  $0.256 \text{ كم} = \dots \text{ م}$

د 2,560

ج 25.6

ب 256

أ 2.56

5  $150,800 \times \dots = 150.8$

د 0.01

ج 0.1

ب 1,000

أ 0.001

6 قيمة المتغير  $x$  في المعادلة:  $10 + x = 12.5$  هي .....

د 2.5

ج 0.5

ب 22.5

أ 25



7) العدد التالي في النمط: ... ، 27 ، 9 ، 3 ، 1 هو .....

د 54

ج 81

ب 36

أ 30

8) أي مما يلي يُعتبر معادلة؟

د  $10.75 - 7.5$

ج  $h + 4.5$

ب  $3.4 + 1.2$

أ  $h + 1.3 = 6.2$

9) نموذج مساحة المستطيل المقابل يمثل مسألة الضرب: .....

	3	0.2
40	.....	.....
7	.....	.....

ب  $47 \times 3.2$

أ  $74 \times 3.2$

د  $74 \times 2.3$

ج  $47 \times 2.3$

(21 درجة)

### السؤال الثاني أجب عما يلي:

10) أوجد قيمة التعبير العددي:  $20 \times (1.2 + 2.8 - 2)$

11) عدنان حاصل ضربهما 546 ، أحدهما 6 ، فأوجد العدد الآخر.

12) صنعت ريهام لترًا من العصير ، شربت منه 325 ملل ، وشربت أختها 0.25 لتر ، فكم تبقى من العصير؟

13) يتدرب ناجي من أجل سباقٍ ، ويركض لمسافة 3.5 كم يوميًا ، فكم يكون قد ركض بعد 15 يومًا؟

14) أوجد (ع. م. أ) للعددين: 15 ، 30

20	16	12	8	المُدخل
5	4	3	2	المُخرج

15) لاحظ الجدول المقابل ، ثم اكتب قاعدة النمط.

16) حلّ العدد 602.315 بالصيغة الممتدة بثلاث طرق مختلفة:

الطريقة الأولى:

الطريقة الثانية:

الطريقة الثالثة:





# سلاح التلميز

منذ عام ١٩٦٠



## الرياضيات

2024-2025

الصف الخامس الابتدائي  
الفصل الدراسي الأول  
إجابات نماذج اختبارات  
نهاية الفصل الدراسي الأول

# 5

## إجابة اختبار (1)

### السؤال الأول

- ① جزء من ألف      ② معادلة      ③ 0.001      ④ 4      ⑤ 7  
 ⑥  $n \div 4$       ⑦  $16 - x = 11.5$       ⑧ 123      ⑨ 10

### السؤال الثاني

- ⑩ مجموع المسافات التي مشاها رامي = 39.496 متر؛ لأن:  $24.15 + 15.346 = 39.496$   
 ⑪ (ع.م.أ) = 3      (م.م.أ) = 36  
 ⑫ إجمالي ما دفعه نبيل = 24.5 جنيه؛ لأن:  $7 \times 3.5 = 24.5$   
 ⑬ التعبير العددي:  $(4.62 - 3.1) \times 2$   
 قيمة التعبير العددي: 3.04  
 ⑭ 500.9 ، 50.9 ، 5.9 ، 5.09 ، 5.009  
 ⑮ قيمة المبلغ الذي ستحصل عليه كل أسرة = 304.5 جنيه؛ لأن:  $3,654 \div 12 = 304.5$   
 ⑯ الصيغة الممتدة:  $30 + 6 + 0.02 + 0.005$   
 الصيغة اللفظية: ستة وثلاثون ، وخمسة وعشرون جزءاً من ألف.

## إجابة اختبار (2)

### السؤال الأول

- ① 35.55      ② 10.87      ③ 47      ④ 8.725      ⑤  $x + 2.1$   
 ⑥ 510      ⑦ 6.22      ⑧ 0.224      ⑨ 400

### السؤال الثاني

- ⑩ عدد الكيلومترات المتبقية من الطريق دون رصف = 405.35 كم؛ لأن:  $924.8 - 519.45 = 405.35$   
 ⑪ العدد الكلي للنزلاء في الفندق = 4,984 نزلياً؛ لأن:  $14 \times 356 = 4,984$   
 ⑫ المعادلة:  $x = 15.25 + 6.75$  ، قيمة المتغير: 22  
 ⑬ نستخدم (م.م.أ) ، (م.م.أ) للعددين: 9 ، 7 هو 63  
 وبالتالي فإن: عدد الأيام التي ستمضي ليتدربا معاً مرة أخرى = 63 يوماً.  
 ⑭ عدد القطع = 31 قطعة؛ لأن:  $15.5 \div 0.5 = 31$   
 ⑮  $1.5 \times 4 - 2.6 \div 100 = 6 - 2.6 \div 100 = 6 - 0.026 = 5.974$   
 ⑯ العدد الأول هو 12 ، العدد الثاني هو 6 ، (ع.م.أ) للعددين هو 6



## إجابة اختبار (3)

### السؤال الأول

- ① 0.5      ② 0.018      ③ 27      ④ مجموع العددين > ⑤  
 ⑥ 21      ⑦ القسمة      ⑧ 2      ⑨ 1,665

### السؤال الثاني

- ⑩ ما تدخره ليلي بعد 10 أيام = 457.5 جنيه؛ لأن:  $45.75 \times 10 = 457.5$   
 ⑪  $t = 9.2 + 7.32 = 16.52$   
 ⑫ عدد الكتب التي يمكن شراؤها = 54 كتاباً؛ لأن:  $1,728 \div 32 = 54$   
 ⑬ قيمة الخصم = 10.25 جنيه؛ لأن:  $213.75 - 203.5 = 10.25$   
 ⑭ التعبير العددي:  $0.542 \times 100 + 2.5$  قيمة التعبير العددي: 56.7  
 ⑮ سعة الوعاء = 17 لتراً؛ لأن:  $17,000 \div 1,000 = 17$   
 ⑯ عوامل العدد 18 : 1 ، 2 ، 3 ، 6 ، 9 ، 18  
 عوامل العدد 24 : 1 ، 2 ، 3 ، 4 ، 6 ، 8 ، 12 ، 24  
 العوامل المشتركة للعددين 18 ، 24 هي: 1 ، 2 ، 3 ، 6  
 (ع.م.أ) للعددين 18 ، 24 هو 6

## إجابة اختبار (4)

### السؤال الأول

- ① 0.371      ② 24      ③ 2      ④ جمع 6  
 ⑥  $x$       ⑦ تزداد      ⑧ 4      ⑨ 1  
 ⑤  $25.5 \div 5$

### السؤال الثاني

- ⑩ (م.م.أ) هو: 12  
 ⑪ مسألة الطرح التي تُعبر عن النموذج هي:  $0.47 - 0.27$  ، ناتج الطرح هو 0.2  
 ⑫  $600 + 120 + 40 + 8 = 768$   
 وبالتالي فإن:  $32 \times 24 = 768$   
 ⑬ 14.1 ، 14.251 ، 41.25 ، 141.3  
 ⑭ خارج القسمة هو 97؛ لأن:  $2.91 \div 0.03 = 291 \div 3 = 97$   
 ⑮  $x = 7.3 - 3.96 = 3.34$   
 ⑯ نصيب كل موظف = 775 جنيهًا؛ لأن:  $8,525 \div 11 = 775$

	30	2
20	600	40
4	120	8



السؤال الأول

- 0 ①      جزء من عشرة ②      350 ③      256 ④      0.001 ⑤  
 2.5 ⑥      81 ⑦       $h + 1.3 = 6.2$  ⑧       $47 \times 3.2$  ⑨

السؤال الثاني

$$\begin{aligned} 20 \times (1.2 + 2.8 - 2) &= 20 \times (4 - 2) \text{ ⑩} \\ &= 20 \times 2 \\ &= 40 \end{aligned}$$

⑪ العدد الآخر = 91 ؛ لأن:  $546 \div 6 = 91$

⑫ ما شربته ريهام وأختها = 575 ملل ؛ لأن:  $325 + 250 = 575$

ما تبقى من العصير = 425 ملل ؛ لأن:  $1,000 - 575 = 425$

⑬ ما ركضه ناجي بعد 15 يومًا = 52.5 كم ؛ لأن:  $15 \times 3.5 = 52.5$

⑭  $15 = 3 \times 5$

$$\begin{array}{r} 30 = 3 \times 5 \times 2 \\ \hline 3 \times 5 = 15 \end{array}$$

وبالتالي فإن: (ع.م.أ)  $15 =$

⑮ قاعدة النمط هي:  $n \div 4$

⑯ الطريقة الأولى:  $602 + 0.315$

الطريقة الثانية:  $600 + 2 + 0.3 + 0.01 + 0.005$

الطريقة الثالثة:  $600 + 2 + 0.315$

(توجد إجابات أخرى).



أشهر وأحب كتب تعليمية، وأوسعها انتشارًا

# Selah El-Telmeez

Since 1960



## English Connect

2024-2025

### Fifth Primary First Term

نماذج اختبارات نهاية الفصل الدراسي الأول  
طبقًا لآخر مواصفة للورقة الامتحانية

# 5

# Test 1

## (A) Listening

نصوص الاستماع بملف الإجابات

### 1 Listen and circle the correct answer from a, b, c or d:

- The very hot summer became a ..... wave.  
a. heat                      b. cold                      c. snow                      d. rain
- We stayed in the ..... and drank lots of water.  
a. street                      b. house                      c. school                      d. shade
- Mom asked me and my friend to buy lemons to make .....  
a. watermelon                      b. lemonade                      c. grapes                      d. water
- We came back on the shady side of the .....  
a. tree                      b. river                      c. street                      d. village

## (B) Reading

### 2 Choose the correct answer from a, b, c or d:

- I use my swimming ..... in the swimming pool.  
a. balls                      b. goggles                      c. rackets                      d. boots
- A: What's your favorite healthy .....? B: I like chicken.  
a. color                      b. sport                      c. food                      d. fruit
- The galabeya is very cool because it's made from .....  
a. cotton                      b. plastic                      c. leather                      d. paper



### 3 Read and complete the text with the words in the box:

outside – sick – animals – job

My friend is a vet. She works with animals and she loves her (1) ..... . If animals are (2) ..... or injured, she helps to make them better. Some days she works inside and people bring their (3) ..... to her. If an animal needs an operation, the room has to be very, very clean.

### 4 Read the text and answer the questions:

Eco-tourism looks after the environment. It helps local people. Eco-tourists don't like to travel by plane because of the pollution that planes cause. They travel by train, on foot, or by bike. They don't like big hotels. They stay in small, local hotels. Sometimes they pay to stay in people's houses. When they travel, they like to learn about local wildlife projects and local culture. In Egypt, we have some very nice projects in the Red Sea, preserving the coral reefs and the sea animals.

#### (A) Choose the correct answer from a, b, c or d:

- The text is about .....  
a. eco-tourism      b. wildlife      c. environment      d. plane
- Eco-tourists stay in ....., local hotels.  
a. wide      b. big      c. small      d. old

#### (B) Answer the following questions:

- How do eco-tourists travel?  
.....

- What do eco-tourists like to learn?  
.....

- Why don't eco-tourists like to travel by plane?  
.....



## (C) Writing

### 5 Put the words in the correct order to make sentences:

1. mustn't – You – on – grass. – walk – the

.....

2. eat – I – basbousa – always – Fridays. – on

.....

### 6 Read and write the correct form of the word(s) between brackets:

1. He isn't good at ..... (speak) French.

2. She went to the kitchen to ..... (making) a cake.

### 7 Punctuate the following:

1. My sister and i love watching karate

.....

2. can I please stay with you

.....

Write a paragraph of about THIRTY (30) words using the following guiding elements:

8

### "Your school uniform"

– What do the girls wear?

– What do the boys wear?

GOOD LUCK





## Test 2

### (A) Listening

نصوص الاستماع بملف الإجابات

#### 1 Listen and circle the correct answer from a, b, c or d:

- Eco-tourism looks after the ..... and helps local people.  
a. stores                      b. parks                      c. schools                      d. environment
- Eco-tourists don't like to travel by plane because of the ..... of the planes.  
a. rain                      b. pollution                      c. weather                      d. hotels
- Eco-tourists stay in small, local ..... or people's houses.  
a. hotels                      b. tents                      c. apartments                      d. houses
- Eco-tourists visit the ..... Sea projects in Egypt.  
a. Red                      b. White                      c. Blue                      d. Black

### (B) Reading

#### 2 Choose the correct answer from a, b, c or d:

- My favorite fruit is .....  
a. chicken                      b. onion                      c. pineapple                      d. fish
- She needs a ..... to hit the tennis ball.  
a. boot                      b. ball                      c. suit                      d. racket
- Rocks, water, sand, and sunlight are ..... things.  
a. living                      b. non-living                      c. cold                      d. bad



### 3 Read and complete the text with the words in the box:

son – sandstorm – looked – difficult

One day, my family and I were driving through the desert to visit my cousins. I (1) ..... out of the window and saw a (2) ..... . There was a lot of sand in the air outside the car and it was very (3) ..... to see. Soon, it moved away and we could see the sun again.

### 4 Read the text and answer the questions:

There were many jobs in Ancient Egypt like farmers, craftsmen, and traders. Farmers planted crops, vegetables, and fruits. Craftsmen made gold jewelry and beautiful sculptures. Traders also played an important role. They traveled up and down the Nile to buy and sell lots of goods like gold, linen, and grains. Women in Ancient Egypt worked at home and could work outside, too. They could weave baskets, bake bread, and make sandals to sell them at the market. They could even become pharaohs like the Ancient Egyptian queen Hatshepsut.

#### (A) Choose the correct answer from a, b, c or d:

- The main idea of the text is “..... in Ancient Egypt”.  
a. Food                      b. Sports                      c. Trips                      d. Jobs
- Women in Ancient Egypt could become ..... like Hatshepsut.  
a. farmers                      b. pharaohs                      c. traders                      d. scribes

#### (B) Answer the following questions:

- What did craftsmen in Ancient Egypt make?  
.....

- Where did women in Ancient Egypt work?  
.....

- Why did the traders travel up and down the Nile?  
.....



## (C) Writing

### 5 Put the words in the correct order to make sentences:

1. go – does – How often – school? – to – she

.....

2. is – white – robe. – long – The galabeya – a

.....

### 6 Read and write the correct form of the word(s) between brackets:

1. She was ..... (cook) dinner yesterday evening.

2. Is there ..... (some) water in the fridge?

### 7 Punctuate the following:

1. what is your favorite healthy food

.....

2. polluted water destroys wildlife in rivers

.....

Write a paragraph of about THIRTY (30) words using the following guiding elements:

8

### “Hedaya Malak”

– When was she born?

– Why is she famous?

.....

.....

.....

.....

.....

**GOOD LUCK**



## Test 3

### (A) Listening

نصوص الاستماع بملف الإجابات

#### 1 Listen and circle the correct answer from a, b, c or d:

- In Ancient Egypt, most people worked as .....  
a. doctors                      b. farmers                      c. craftsmen                      d. scribes
- Farmers planted crops, usually ..... like wheat and corn.  
a. animals                      b. fruits                      c. vegetables                      d. grains
- Scribes wrote .....  
a. hieroglyphs                      b. computers                      c. jewelry                      d. painting
- The Ancient Egyptians knew that work was ..... for life.  
a. different                      b. bad                      c. important                      d. hard

### (B) Reading

#### 2 Choose the correct answer from a, b, c or d:

- I walk around a lot. I need comfortable .....  
a. sweaters                      b. necklaces                      c. sneakers                      d. pajamas
- You can see ..... at the bottom of the sea.  
a. waterfalls                      b. coral reefs                      c. lakes                      d. rivers
- A nightmare is a/an ..... dream.  
a. great                      b. awful                      c. long                      d. good



### 3 Read and complete the text with the words in the box:

taekwondo – born – flag – famous

Hedaya Malak is a famous Egyptian taekwondo player. Hedaya was (1) ..... on April 21, 1993. She carried the Egyptian (2) ..... at the Tokyo Olympic Games in 2021. She began practicing (3) ..... at the age of seven. She won the bronze medal at both the Rio Olympics in 2016 and the Tokyo Olympics in 2021.

### 4 Read the text and answer the questions:

One night, a shoemaker was too tired to make the last pair of shoes, so he went to bed. The next morning, he found a beautiful pair of shoes on the table. He sold them and used the money to buy more leather. So he could make more shoes to sell them in the market. He cut out all the leather and left. When he got back to his workshop, he found that the shoes were made. He hid to see who was making the shoes. He was surprised to see two elves making more shoes.

#### (A) Choose the correct answer from a, b, c or d:

- The shoemaker needed ..... to make shoes.  
a. wood                      b. leather                      c. glass                      d. gold
- The underlined word "pair" means .....  
a. two                      b. three                      c. one                      d. four

#### (B) Answer the following questions:

- Who was making the shoes for the shoemaker?  
.....

- Why did the shoemaker sell the beautiful pair of shoes?  
.....

- Why did the shoemaker hide?  
.....



## (C) Writing

### 5 Put the words in the correct order to make sentences:

1. weather – today? – is – like – What – the

.....

2. is – Elephantine – part – the oldest – of Aswan. – Island

.....

### 6 Read and write the correct form of the word(s) between brackets:

1. My mother ..... (go) to the beach yesterday.

2. We mustn't ..... (eating) in the library.

### 7 Punctuate the following:

1. I need to pack my sweater scarf, and sunglasses

.....

2. what might happen in a storm

.....

### 8 Write a paragraph of about THIRTY (30) words using the following guiding elements:

**“Keeping safe in extreme heat”**

(cool buildings – light meals)

.....

.....

.....

.....

.....

**GOOD LUCK**



## Test 4

### (A) Listening

نصوص الاستماع بملف الإجابات

#### 1 Listen and circle the correct answer from a, b, c or d:

- Water pollution can ..... fish, birds, and crabs.  
a. teach                      b. sleep                      c. eat                      d. kill
- ..... water can make old people and children sick.  
a. Dirty                      b. Clean                      c. Cold                      d. Fresh
- To save as much water as possible, we must take ..... showers.  
a. bigger                      b. longer                      c. taller                      d. shorter
- Never throw ..... in or near lakes or beaches.  
a. water                      b. rocks                      c. garbage                      d. leaves

### (B) Reading

#### 2 Choose the correct answer from a, b, c or d:

- ..... helps people learn about new cultures.  
a. Tourism                      b. Fishing                      c. Farming                      d. Cooking
- A ..... is a very, very big person.  
a. small                      b. tiny                      c. bad                      d. giant
- ..... is a system of writing which consisted of about 500 signs.  
a. Ecosystem                      b. Organisms                      c. Hieroglyphs                      d. Grains



### 3 Read and complete the text with the words in the box:

history – sunset – reign – part

I traveled by boat to Elephantine Island yesterday. Elephantine Island is the oldest (1) ..... of Aswan. It is full of (2) ..... . After that, we went to the Aswan Museum. We were looking at all the old things from the island when we found a very rare calendar from the (3) ..... of Thutmose III.

### 4 Read the text and answer the questions:

I'm Mai. I'm eleven years old. I have a small family. I have one brother and one sister. I'm good at playing football and making cakes. I'm bad at playing handball. Ali is my brother. He is ten years old. He is good at taekwondo. He likes sports a lot. He practices sports three times a week. He wants to be an athlete like Hedaya Malak. My sister is older than me. She is sixteen years old. She is really smart. She is good at doing math.

#### (A) Choose the correct answer from a, b, c or d:

- Mai is good at playing .....  
a. handball      b. football      c. volleyball      d. tennis
- The underlined word "smart" means .....  
a. weak      b. slow      c. clever      d. favorite

#### (B) Answer the following questions:

- Who is older, Ali or Mai?  
.....
- What is Mai's sister good at?  
.....
- How often does Ali practice sports?  
.....





## (C) Writing

### 5 Put the words in the correct order to make sentences:

1. very – Egyptian – good. – were – craftsmen – Ancient

.....

2. to – eat – It's – a little – OK – chocolate.

.....

### 6 Read and write the correct form of the word(s) between brackets:

1. He never ..... (have) a shower at night.

2. How about ..... (buy) some tomatoes?

### 7 Punctuate the following:

1. we're going to walk to the Tombs of the nobles.

.....

2. how can we live a healthier life

.....

### 8 Write a paragraph of about THIRTY (30) words using the following guiding elements:

**“Teamwork”**

(teammates – experiments)

.....

.....

.....

.....

.....

**GOOD LUCK**



## Test 5

### (A) Listening

نصوص الاستماع بملف الإجابات

#### 1 Listen and circle the correct answer from a, b, c or d:

- There are many things we can do to live a/an ..... life.  
a. scary                      b. healthy                      c. unhealthy                      d. dangerous
- Fruits and ..... are healthy and delicious.  
a. vegetables                      b. burgers                      c. fries                      d. cookies
- You could ride your ..... to school.  
a. plane                      b. car                      c. bike                      d. train
- Riding your bike is not only good exercise, but it means less .....  
a. health                      b. fun                      c. exercise                      d. pollution

### (B) Reading

#### 2 Choose the correct answer from a, b, c or d:

- They play football on a football .....  
a. court                      b. pitch                      c. pool                      d. room
- I can't breathe because the air is black and .....  
a. good                      b. clean                      c. toxic                      d. fresh
- She wears a ..... around her neck.  
a. sweater                      b. shirt                      c. scarf                      d. hat



### 3 Read and complete the text with the words in the box:

checked – hot – wear – trousers

The girls and boys have different uniforms at my school. The boys (1) ..... a white shirt and green trousers. The girls also wear a white shirt, but they don't wear (2) ..... . They wear a green and white (3) ..... skirt. We all have to wear a tie every day. We've got a black sweater for when it gets cold.

### 4 Read the text and answer the questions:

One day, I was driving through the desert. I looked out of the window and saw a sandstorm. There was a lot of sand in the air outside and it was very difficult to see. I closed all the windows so the sand couldn't get in. I tried to get to the side of the road so I could stop my car. The sandstorm moved very slowly. Suddenly, it moved away. I saw the sun again and drove on through the desert.

#### (A) Choose the correct answer from a, b, c or d:

- The writer tried to get to the side of the road to ..... his car.  
a. drive                      b. stop                      c. see                      d. move
- The underlined pronoun "it" refers to the .....  
a. car                      b. sun                      c. road                      d. sandstorm

#### (B) Answer the following questions:

- How was the sandstorm?  
.....

- How did the sandstorm move?  
.....

- Why did the writer close all the windows?  
.....



## (C) Writing

### 5 Put the words in the correct order to make sentences:

1. school – smart. – really – Our – uniform – is

.....

2. are – Monkeys – trees. – climbing – at – good

.....

### 6 Read and write the correct form of the word(s) between brackets:

1. How often ..... (does) they read comic books?

2. You ..... (must) park here. It's not allowed.

### 7 Punctuate the following:

1. what sport are you good at

.....

2. Scribes were very important in ancient Egypt

.....

### 8 Write a paragraph of about THIRTY (30) words using the following guiding elements:

**“How to make basbousa”**

(ingredients – baking dish)

.....

.....

.....

.....

.....

**GOOD LUCK**



أشهر وأحب كتب تعليمية، وأوسعها انتشارًا

# Selah El-Telmeez

Since 1960



## English Connect

2024-2025

**Fifth Primary  
First Term**

إجابات نماذج اختبارات  
نهاية الفصل الدراسي الأول

**5**

# Test 1 Answers

## (A) Listening

### Listening Script:

The very hot summer became a heat wave. We stayed in the shade and drank lots of water. Mom asked me and my friend to buy watermelon, grapes, and lemons to make lemonade to cool us down. We went to the store and came back on the shady side of the street.

### 1 Listen and circle the correct answer from a, b, c or d:

1. (a)                      2. (d)                      3. (b)                      4. (c)

## (B) Reading

### 2 Choose the correct answer from a, b, c or d:

1. (b)                      2. (c)                      3. (a)

### 3 Read and complete the text with the words in the box:

1. job                      2. sick                      3. animals

### 4 Read the text and answer the questions:

#### (A) Choose the correct answer from a, b, c or d:

1. (a)                      2. (c)

#### (B) Answer the following questions:

3. They travel by train, on foot, or by bike.
4. They like to learn about local wildlife projects and local culture.
5. Because of the pollution that planes cause.



## (C) Writing

### 5 Put the words in the correct order to make sentences:

1. You mustn't walk on the grass.
2. I always eat basbousa on Fridays.

### 6 Read and write the correct form of the word(s) between brackets:

1. speaking
2. make

### 7 Punctuate the following:

1. My sister and I love watching karate.
2. Can I please stay with you?

### 8 Write a paragraph of about THIRTY (30) words using the following guiding elements:

- My school uniform is really smart. The girls wear gray skirts. The boys wear gray trousers. We all have to wear a pale blue T-shirt, white socks, and black shoes.



## Test 2 Answers

### (A) Listening

#### Listening Script:

Eco-tourism looks after the environment and helps local people. Eco-tourists don't like to travel by plane because of the pollution of the planes. They travel by train, on foot, or by bike. They stay in small, local hotels or people's houses. They visit the Red Sea projects in Egypt, preserving coral reefs and sea animals.

#### 1 Listen and circle the correct answer from a, b, c or d:

1. (d)                      2. (b)                      3. (a)                      4. (a)

### (B) Reading

#### 2 Choose the correct answer from a, b, c or d:

1. (c)                      2. (d)                      3. (b)

#### 3 Read and complete the text with the words in the box:

1. looked                      2. sandstorm                      3. difficult

#### 4 Read the text and answer the questions:

##### (A) Choose the correct answer from a, b, c or d:

1. (d)                      2. (b)

##### (B) Answer the following questions:

- Craftsmen in Ancient Egypt made gold jewelry and beautiful sculptures.
- They traveled up and down the Nile to buy and sell lots of goods like gold, linen, and grains.
- Women in Ancient Egypt worked at home and could work outside, too.





## (C) Writing

### 5 Put the words in the correct order to make sentences:

1. How often does she go to school?
2. The galabeya is a long white robe.

### 6 Read and write the correct form of the word(s) between brackets:

1. cooking
2. any

### 7 Punctuate the following:

1. What is your favorite healthy food?
2. Polluted water destroys wildlife in rivers.

### 8 Write a paragraph of about THIRTY (30) words using the following guiding elements:

- Hedaya Malak is a famous Egyptian taekwondo player. She was born on April 21, 1993. She won many prizes at the age of 14. She won two bronze medals.



## Test 3 Answers

### (A) Listening

#### Listening Script:

In Ancient Egypt, everyone had a job. Most people worked as farmers. They planted crops, usually grains like wheat and corn. Craftsmen made beautiful paintings and jewelry. Scribes wrote hieroglyphs. Ancient Egyptian women worked at home and could work outside, too. The Ancient Egyptians knew that work was important for life.

#### 1 Listen and circle the correct answer from a, b, c or d:

1. (b)                      2. (d)                      3. (a)                      4. (c)

### (B) Reading

#### 2 Choose the correct answer from a, b, c or d:

1. (c)                      2. (b)                      3. (b)

#### 3 Read and complete the text with the words in the box:

1. born                      2. flag                      3. taekwondo

#### 4 Read the text and answer the questions:

##### (A) Choose the correct answer from a, b, c or d:

1. (b)                      2. (a)

##### (B) Answer the following questions:

3. Two elves were making the shoes for the shoemaker.  
4. To use the money to buy more leather.  
5. He hid to see who was making the shoes.



## (C) Writing

### 5 Put the words in the correct order to make sentences:

1. What is the weather like today?
2. Elephantine Island is the oldest part of Aswan.

### 6 Read and write the correct form of the word(s) between brackets:

1. went
2. eat

### 7 Punctuate the following:

1. I need to pack my sweater, scarf, and sunglasses.
2. What might happen in a storm?

### 8 Write a paragraph of about THIRTY (30) words using the following guiding elements:

- You should protect yourself in extreme heat. You can spend time in **cool buildings** with air-conditioning. You should eat **light meals**. If you must go outside, stay in the shade.



## Test 4 Answers

### (A) Listening

#### Listening Script:

Water pollution harms rivers, lakes, and seas. This can kill fish, birds, and crabs. Dirty water from factories, farms, and cities can make old people and children sick. To save as much water as possible, we must take shorter showers, avoid running water, and never throw garbage in or near lakes or beaches.

#### 1 Listen and circle the correct answer from a, b, c or d:

1. (d)                      2. (a)                      3. (d)                      4. (c)

### (B) Reading

#### 2 Choose the correct answer from a, b, c or d:

1. (a)                      2. (d)                      3. (c)

#### 3 Read and complete the text with the words in the box:

1. part                      2. history                      3. reign

#### 4 Read the text and answer the questions:

##### (A) Choose the correct answer from a, b, c or d:

1. (b)                      2. (c)

##### (B) Answer the following questions:

- Mai is older than Ali.
- She's good at doing math.
- He practices sports three times a week.



## (C) Writing

### 5 Put the words in the correct order to make sentences:

1. Ancient Egyptian craftsmen were very good.
2. It's OK to eat a little chocolate.

### 6 Read and write the correct form of the word(s) between brackets:

1. has
2. buying

### 7 Punctuate the following:

1. We're going to walk to the Tombs of the Nobles.
2. How can we live a healthier life?

### 8 Write a paragraph of about THIRTY (30) words using the following guiding elements:

- When you work in a team, you work with your **teammates** to do something together. For example, I work in a team in science to do many different **experiments**.



## Test 5 Answers

### (A) Listening

#### Listening Script:

There are many things we can do to live a healthy life. We can eat fruits and vegetables. They're healthy and delicious. Exercise is great. Try swimming or football. You could ride your bike to school. This is not only good exercise, but it means less pollution. Play games and have fun with your friends!

#### 1 Listen and circle the correct answer from a, b, c or d:

1. (b)                      2. (a)                      3. (c)                      4. (d)

### (B) Reading

#### 2 Choose the correct answer from a, b, c or d:

1. (b)                      2. (c)                      3. (c)

#### 3 Read and complete the text with the words in the box:

1. wear                      2. trousers                      3. checked

#### 4 Read the text and answer the questions:

##### (A) Choose the correct answer from a, b, c or d:

1. (b)                      2. (d)

##### (B) Answer the following questions:

3. There was a lot of sand in the air outside and it was very difficult to see.  
4. The sandstorm moved very slowly.  
5. The writer closed all the windows so the sand couldn't get in.



## (C) Writing

### 5 Put the words in the correct order to make sentences:

1. Our school uniform is really smart.
2. Monkeys are good at climbing trees.

### 6 Read and write the correct form of the word(s) between brackets:

1. do
2. mustn't

### 7 Punctuate the following:

1. What sport are you good at?
2. Scribes were very important in Ancient Egypt.

### 8 Write a paragraph of about THIRTY (30) words using the following guiding elements:

- First, mix the semolina, coconut, sugar, and melted butter. You mix these **ingredients** by hand. Then, add the yogurt and pour the mixture into a **baking dish**. Finally, bake the basbousa in the oven.



# سلاح التلميز

منذ عام ١٩٦٠



العلوم

2024-2025

الصف الخامس الابتدائي  
الفصل الدراسي الأول

نماذج اختبارات نهاية الفصل الدراسي الأول  
طبقاً لآخر مواصفة للورقة الامتحانية

5



# الاختبار 1

## السؤال الأول

أ اختر الإجابة الصحيحة:

- 1) ينتقل الغذاء من أوراق النباتات إلى باقي أجزاء النبات الأخرى عن طريق.....  
أ الثمار      ب البذور      ج اللحاء      د الخشب
- 2) تلعب الكائنات..... دورًا مهمًا في استعادة النظام البيئي.  
أ المستهلكة      ب المنتجة      ج المحللة      د ذاتية التغذية
- 3) يتشابه الجهاز..... في الإنسان مع نظام النقل في النبات في نقل الغذاء إلى جميع أجزاء الجسم.  
أ الهضمي      ب الدوري      ج التنفسي      د العصبي

ب ماذا يحدث عند تعرّض قطعة من الثلج لحرارة الشمس المباشرة؟

## السؤال الثاني

أ أكمل:

• يتسبب..... درجة حرارة مياه المحيط في ابيضاض الشعاب المرجانية.

ب اذكر أهمية كل من:

- 1) الكلوروفيل في النبات      2) النماذج

## السؤال الثالث

أ ضع علامة (✓) أو (X) أمام العبارة التالية:

( ) • يؤثر الصيد الجائر سلبيًا على النظام البيئي.

ب أجب عن الأسئلة التالية:

- 1) قام هادي بزراعة بعض البذور في أصيص به تربة، وقام عمر بزراعة بعض البذور في منشفة ورقية. أي من هذه النباتات ينمو بصورة أفضل؟ ولماذا؟

- 2) يُفضل استخدام الهيليوم عن الهواء في نفخ البالونات. ما سبب ذلك؟



## الاختبار 2

### السؤال الأول

#### أ أكمل العبارات الآتية:

- 1 الأوعية الدموية التي تحمل الدم إلى القلب تسمى .....
- 2 يتكون ..... من كائنات حية وعناصر غير حية.
- 3 يحتاج النبات إلى غاز ..... ليصنع غذاءه بنفسه.

#### ب اذكر طريقتين لفصل المخاليط، مع ذكر مثال واحد لكل طريقة.

.....

.....

### السؤال الثاني

#### أ اختر الإجابة الصحيحة:

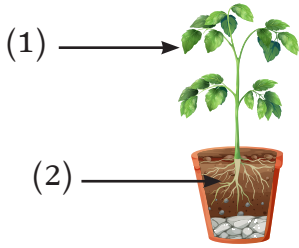
- يتغذى الثعلب على الأرنب الذي يتغذى على العشب، يُصنّف الثعلب في هذه السلسلة الغذائية .....
- أ مستهلك أول      ب مستهلك ثانوي      ج منتج للغذاء      د مستهلك ثالث

#### ب أجب عن الأسئلة الآتية:

- 1 لاحظ الشكل المقابل، ثم أجب:

اكتب ما تشير إليه الأرقام بالشكل، ثم اذكر أهميتها.

- 2 اذكر استخدامين لمادة المطاط.



.....

.....

### السؤال الثالث

#### أ اكتب المصطلح العلمي:

- مجموعة من السلاسل الغذائية المتداخلة بعضها مع بعض. (.....)

- 1 ب ما طرق حماية جزيرة بالاو؟ (يُكتفى بذكر نقطتين)

.....

.....

- 2 قارن بين المواد الصلبة والسائلة؛ من حيث الشكل والحجم.

.....

.....




### الاختبار 3

#### السؤال الأول

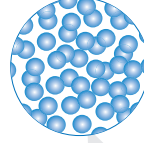
أ ضع علامة (✓) أو (X) أمام العبارات الآتية:

- ( ) 1 الثغور بأوراق النباتات تمتص ضوء الشمس.  
( ) 2 إذا اختفت النباتات يزداد عدد الحيوانات آكلات العشب التي تتغذى عليها.  
( ) 3 تساهم الرياح في نشر بعض البذور.

ب اكتب الحالة التي تعبر عنها الصور التالية:



(2)



(1)

#### السؤال الثاني

أ أكمل:

• في السلسلة الغذائية تُمثل الكائنات ..... المستوى الأول، بينما تُمثل الكائنات ..... المستوى الثاني والثالث.

ب علل:

1 بدون النباتات تستحيل الحياة على سطح الأرض.

2 لا يمكن اعتبار الصوت والضوء مادة.

#### السؤال الثالث

أ اختر الإجابة الصحيحة:

• أيُّ من الكائنات الحية الآتية يحصل على الطاقة من كائن حي آخر؟

د العشب

ج الفئران

ب الأشجار

أ الحشائش

ب قارن بين كلٍّ من:

1 الشريان والوريد؛ من حيث الوظيفة.

2 الخصائص الفيزيائية والخصائص الكيميائية؛ من حيث التعريف.



## الاختبار 4

### السؤال الأول

أ اختر الإجابة الصحيحة:

- 1 أي مما يلي من خصائص بذرة الأرقطيون؟  
أ خفيفة ب توجد داخل الثمار ج خشنة د مجوفة من الداخل
- 2 ينقل ..... المعادن والماء من الجذور إلى سيقان النباتات.  
أ اللحاء ب الزهرة ج الثمرة د الخشب
- 3 الكائنات ..... تحصل على الطاقة من ضوء الشمس مباشرة.  
أ المحللة ب المنتجة ج المستهلكة الأولية د المستهلكة الثانوية

ب علل: يمكن استخدام النحاس في صناعة أسلاك الكهرباء، ولا يمكن استخدام الخشب.

### السؤال الثاني

أ اكتب المصطلح العلمي:

- زوائد تشبه الشعر توجد على جذور النبات، تساعد على زيادة امتصاص الماء والعناصر الغذائية من التربة.  
(.....)

ب أجب عن الأسئلة الآتية:

- 1 اذكر أهمية كل مما يلي:  
(أ) سكر الجلوكوز في النبات  
(ب) المشتل
- 2 قارن بين الحجم والكتلة؛ من حيث التعريف.

### السؤال الثالث

أ أكمل العبارة التالية:

- تُعتبر ساق نبات العنب من السيقان ..... بينما ساق نبات الفراولة من السيقان .....

ب أجب عن الأسئلة الآتية:

- 1 لاحظ السلسلة الآتية، ثم أعد ترتيبها:



- 2 قارن بين الانجذاب للمغناطيس والقابلية للصدأ؛ من حيث نوع الخاصية (فيزيائية أم كيميائية).



## الاختبار 5

### السؤال الأول

#### أ أكمل العبارات الآتية:

- 1 يُعرف الحيوان الذي يتغذى على حيوانٍ آخر باسم .....
- 2 تنتشر بذور النباتات التي بها أشواك عن طريق .....
- 3 المصدر الرئيسي للطاقة على سطح الأرض هو .....

#### ب ما المقصود بكل من؟:

- 1 عملية التحلية
- 2 درجة الحرارة

### السؤال الثاني

#### أ ضع علامة (✓) أو (X) أمام العبارة الآتية:

- ( ) الكائنات المستهلكة الأولية تحصل على طاقتها من الكائنات المنتجة للغذاء.

#### ب أجب عن الأسئلة التالية:

- 1 كيف يمكن الحد من التلوث بالمواد البلاستيكية؟

- 2 اذكر اثنين من خصائص غاز الهيليوم.

### السؤال الثالث

#### أ اختر الإجابة الصحيحة:

- تُعرف الفتحات الصغيرة في أوراق النباتات التي يُمتص من خلالها الهواء بـ .....
- أ الثمار      ب الأنسجة      ج السيقان      د الثغور

#### ب ماذا يحدث عند؟:

- 1 ترك النبات بدون ماء مدة طويلة.

- 2 ترك قطعة من الحديد في الهواء دون طلاء.



# سلاح التلميز

منذ عام ١٩٦٠



العلوم

2024-2025

الصف الخامس الابتدائي  
الفصل الدراسي الأول

إجابة اختبارات نهاية الفصل الدراسي الأول

5

## إجابة الاختبار 1

### السؤال الأول:

- أ 1 ج 2 ج 3 ب

ب تتحرك الجسيمات أسرع، وتتباعد عن بعضها، ويتحول الثلج الصلب إلى ماء.

### السؤال الثاني:

أ ارتفاع

ب 1 يعطي النبات لونه الأخضر ويمتص ضوء الشمس.

2 رؤية وفهم كيفية عمل الأشياء التي يصعب رؤيتها، كالأشياء الضخمة أو الصغيرة جداً.

### السؤال الثالث:

أ ✓

ب 1 النبات الذي زرعه هادي في أصيص به تربة؛ لأن التربة توفر للنبات العناصر الغذائية اللازمة للنمو.

2 لأنه أخف وزناً من الهواء؛ فيرتفع بسهولة.

## إجابة الاختبار 2

### السؤال الأول:

أ 1 الأوردة 2 النظام البيئي 3 ثاني أكسيد الكربون

ب عملية الترشيح - مثل ترشيح الماء لإزالة الشوائب.

عملية التبخر - مثل فصل الملح عن ماء البحر .

### السؤال الثاني:

أ (ب)

ب 1 (1) الأوراق - صنع غذاء النبات.

(2) الجذور - تثبيت النبات في التربة وامتصاص الماء والعناصر الغذائية منها.

2 صناعة إطارات السيارات - صناعة القفازات (أي إجابة أخرى صحيحة مقبولة)

### السؤال الثالث:

أ الشبكة الغذائية

ب 1 إنشاء محميات جيدة التصميم - منع الصيد الجائر .

2 المواد الصلبة: الشكل ثابت والحجم ثابت - المواد السائلة: الشكل متغير والحجم ثابت.



### إجابة الاختبار 3

#### السؤال الأول:

✓ ③

× ②

× ① أ

(2) الحالة الصلبة

ب (1) الحالة السائلة

#### السؤال الثاني:

أ المنتجة - المستهلكة

ب ① لأنها تنتج الأكسجين اللازم لتنفس الكائنات الحية.

② لأنهما من صور الطاقة التي ليس لها كتلة أو حجم.

#### السؤال الثالث:

أ (ج)

ب ① الشريان: ينقل الدم من القلب إلى باقي أجزاء الجسم.

الوريد: يُعيد الدم من أجزاء الجسم إلى القلب.

② الخصائص الفيزيائية: خصائص يمكن وصفها من خلال الحواس.

الخصائص الكيميائية: خصائص تصف كيفية تفاعل المادة مع المواد الأخرى.

### إجابة الاختبار 4

#### السؤال الأول:

ب ③

د ②

أ ① ج

ب لأن النحاس موصل جيد للكهرباء، بينما الخشب لا يوصل الكهرباء.

#### السؤال الثاني:

أ الشعيرات الجذرية

ب ① (أ) مصدر للغذاء والطاقة من أجل البقاء والنمو.

(ب) رعاية الأجزاء الصغيرة من الشعاب المرجانية؛ حتى يمكن إعادتها إلى أماكنها المتضررة.

② الحجم: مقدار الفراغ الذي تشغله المادة

الكتلة: مقدار ما يحتويه الجسم من مادة





### السؤال الثالث:

أ المتسلقة - المدادة

ب ① عشب - فأر - قطة

② الانجذاب المغناطيسي: خاصية فيزيائية

القابلية للصدأ: خاصية كيميائية

## إجابة الاختبار 5

### السؤال الأول:

أ ① المفترس

② الكائنات الحية

③ الشمس

ب ① عملية فصل الماء عن الملح والشوائب.

② مقياس لمدى سرعة حركة الجسيمات المكوّنة للمادة.

### السؤال الثاني:

أ ① ✓

ب ① تقليل استخدام المواد البلاستيكية - عدم إلقائها في البحار والمحيطات - إعادة تدوير المواد البلاستيكية المستخدمة.

② أخف وزناً من الهواء - غير سام (أي إجابة أخرى صحيحة مقبولة)

### السؤال الثالث:

أ ① (د)

ب ① لن يستطيع القيام بعملية البناء الضوئي، فيذبل ويموت.

② تتعرّض للصدأ.



# سلاح التلميز

منذ عام ١٩٦٠



## الدراسات الاجتماعية

2024-2025

### الصف الخامس الابتدائي الفصل الدراسي الأول

نماذج امتحانات نهاية الفصل الدراسي الأول  
طبقاً لأحدث مواصفة للورقة الامتحانية 2025م

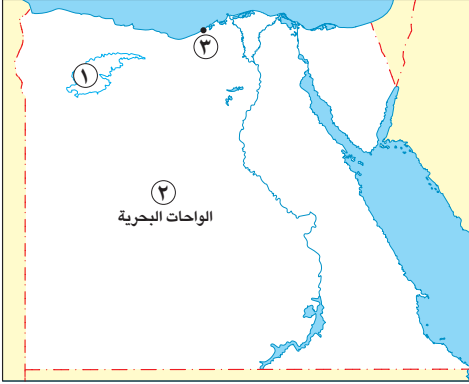
# 5

## الامتحان ١

٣٠

### السؤال الأول

أ لاحظ الخريطة المقابلة، ثم أجب:



- ١ صواب أم خطأ: يُروى المنخفض رقم (١) عن طريق ترعة بحر يوسف. ( )
- ٢ ينتشر في المنطقة رقم (٢) معدن .....
- ٣ يشير الرقم (٣) إلى ميناء .....

### ب بم تفسر...؟

- ١ أهمية الجيش للحضارة المصرية القديمة.
- ٢ الأهمية الاقتصادية لخام الفوسفات في مصر.

### السؤال الثاني

أ اختر الإجابة الصحيحة مما بين القوسين:

- ١ يستخدم الفحم في صناعة .....
  - ٢ إحدى هضاب الصحراء الشرقية هضبة .....
- (السبائك - الأسلاك الكهربائية - الصلب - الطوب الحراري)  
(المعازة - التيه - العجمة - مارميكا)

### ب ما النتائج المترتبة على ما يلي...؟

- ١ ندرة المياه في المناطق الصحراوية.
- ٢ زيادة الواردات بالنسبة للميزان التجاري المصري.

### السؤال الثالث

أ أكمل العبارات التالية بما يناسبها من كلمات:

- ١ تقع مدينة القاهرة ضمن إقليم المناخ .....
- ٢ اكتشف المصري القديم النار في العصر .....
- ٣ يقع مشروع الدلتا الجديدة بالصحراء الغربية في الجزء .....

### ب قارن بين كل مما يلي:

- ١ الحيوانات البرية في كل من: وادي النيل والدلتا - الصحاري المصرية.
- ٢ السد العالي وسد اللاهون من حيث: (الحاكم الذي بني في عهده - مكان البناء).

### السؤال الرابع

أ صوب ما تحته خط فيما يلي:

- أحد العوامل الطبيعية المسببة للتغير المناخي هي إزالة الغابات.  
(.....)

### ب دلل على صحة العبارات التالية:

- ١ يؤثر الموقع الفلكي لمصر في مناخها.
- ٢ تتعدد استخدامات المياه المالحة.
- ٣ أنشأت مصر العديد من المدن الصناعية المتخصصة.

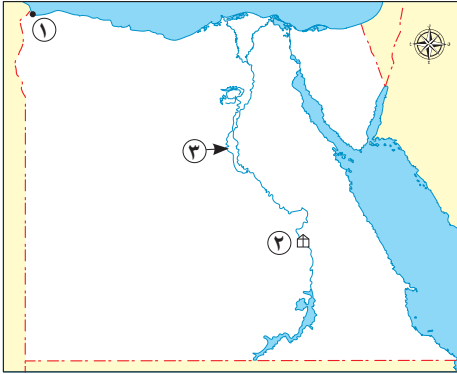


## الامتحان ٢

٣٠

### السؤال الأول

أ لاحظ الخريطة المقابلة، ثم أجب:



١ صواب أو خطأ: يشير الرقم (١) إلى مدينة تقع في الإقليم الصحراوي الحار. ( )

٢ يشير الرقم (٢) إلى محطة لتوليد الطاقة الكهرومائية وهي .....

٣ يشير الرقم (٣) إلى ترعة .....

ب بم تفسر...؟

١ يتسم الجزء الجنوبي من سيناء بوعورة التضاريس.

٢ أهمية الثروة الحيوانية والسمكية في مصر.

### السؤال الثاني

أ اختر الإجابة الصحيحة مما بين القوسين:

١ الملك الذي كوّن أقدم إمبراطورية في التاريخ هو ..... (خوفو - تحتمس الثالث - مينا - سنوسرت الثالث)

٢ أحد الموارد النادرة في مصر ..... (أشعة الشمس - حركة الرياح - الأراضي الزراعية - المياه المالحة)

ب ما النتائج المترتبة على ما يلي...؟

١ معرفة المصريين القدماء بخصائص الكثير من النباتات الطبيعية.

٢ تنوع الثروات المعدنية والصخور في مصر قديماً.

### السؤال الثالث

أ أكمل العبارات التالية بما يناسبها من كلمات:

١ يُعد شهر يناير أحد شهور فصل .....

٢ نص مرسوم عام ١٩١٤م على منع تحويل الجنيه الورقي إلى .....

٣ اعتمد المصري القديم في صناعة الزجاج على .....

ب قارن بين كل مما يلي:

١ النقود السلعية عند كل من الإغريق وسكان المكسيك قديماً.

٢ صادرات وواردات مصر حديثاً.

### السؤال الرابع

أ صوب ما تحته خط فيما يلي:

- الاختلافات والتحولت في الأحوال المناخية يسمى التنوع البيولوجي. (.....)

ب دلل على صحة العبارات التالية:

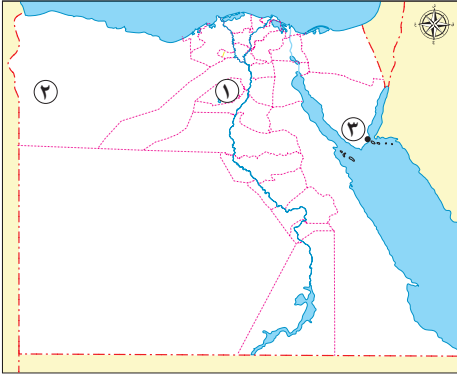
١ تحققت الوحدة في مصر قديماً أكثر من مرة.

٢ تُعد محطة جبل الزيت من أكبر محطات توليد الكهرباء من الرياح في شمال إفريقيا.

٣ تهتم الدولة بمشروعات الاستصلاح الزراعي.



السؤال الأول ا لاحظ الخريطة المقابلة ثم اكتب مدلول الأرقام الموقعة عليها:



- ١ مشروع إنتاج حيواني متكامل في محافظة .....
- ٢ تعتمد الحياة في المنطقة رقم (٢) على المياه .....
- ٣ أحد المطارات الدولية المصرية .....

ب بم تفسر أهمية كل من...؟

- ١ خطوط الطول.
- ٢ معدن المنجنيز.

السؤال الثاني ا اختر الإجابة الصحيحة مما بين القوسين:

- ١ تنقل المصري القديم فوق الهضاب من أجل .....
- ٢ أنشأت الدولة محطات لتحلية مياه البحر في محافظة (الوادي الجديد - الإسماعيلية - بني سويف - المنيا)

ب ما النتائج المترتبة على ما يلي...؟

- ١ هبوب رياح الخماسين على مصر.
- ٢ وفرة مصادر الطاقة في مصر.

السؤال الثالث ا أكمل العبارات التالية بما يناسبها من كلمات:

- ١ يصب نهر النيل في البحر .....
- ٢ تقوم الزراعة بالساحل الشمالي في مصر اعتمادًا على مياه .....
- ٣ استخدم المصري القديم الكتان في صناعة .....

ب أجب عما يلي:

- ١ قارن بين خصائص إقليم البحر المتوسط والإقليم الصحراوي الحار.
- ٢ وضح جهود الدولة لتنمية الثروة المعدنية.

السؤال الرابع ا صوب ما تحته خط فيما يلي:

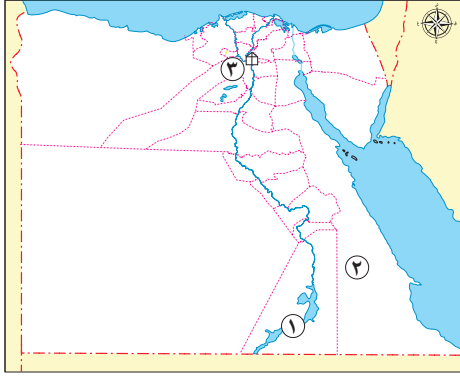
- نسر الجنوب هو أحد الألقاب التي أطلقت على الملك خوفو. (.....)

ب دلل على صحة العبارات التالية:

- ١ تتعرض النباتات الطبيعية والحيوانات البرية في مصر لأخطار متعددة.
- ٢ اهتمت مصر بمواجهة التغير المناخي.
- ٣ تنوعت الأدوات الزراعية في مصر قديمًا.



السؤال الأول أ لاحظ الخريطة المقابلة ثم اكتب مدلول الأرقام الموقعة عليها:



١ أحد الموارد المائية العذبة في مصر .....

٢ محافظة يستخرج منها معدنا الذهب والنحاس هي .....

٣ القناطر .....

ب بم تفسر...؟

١ نشأة سلاسل جبال البحر الأحمر.

٢ نشأة الأقاليم المصرية القديمة.

السؤال الثاني أ اختر الإجابة الصحيحة مما بين القوسين:

١ تشكلت أصغر الوحدات التضاريسية المصرية مساحة بسبب .....

(التعرية الهوائية - التعرية المائية - الانفجارات البركانية - الحركات الباطنية)

٢ نستفيد من الغاز الطبيعي في .....

(توليد الكهرباء - صناعة الأدوية - استخراج البنزين - صناعة البلاستيك)

ب ما النتائج المترتبة على ما يلي...؟

١ دوران الأرض حول الشمس مرة كل ٣٦٥ يوماً وربع.

٢ الاعتماد على التكنولوجيا في الصناعات الحديثة.

السؤال الثالث أ اكتب كلمة (صواب) أمام العبارة الصحيحة، وكلمة (خطأ) أمام العبارة غير الصحيحة:

١ تغيرت الأحوال المناخية لفصل الصيف في مصر عن المعتاد فأصبح أكثر حرارة. ( )

٢ يُعد الدرهم العملة الرسمية للدولة المصرية. ( )

٣ أقامت الدولة مشروع الفيروز للاستزراع السمكي بمحافظة الإسكندرية. ( )

ب قارن بين كل مما يلي:

١ أهم أعمال الملك نعرمر (مينا) والملك تحتمس الثالث.

٢ الصناعات اليدوية والصناعات الحديثة.

السؤال الرابع أ صوب ما تحته خط فيما يلي:

(.....) - يُعد نبات الخروع أحد النباتات الطبيعية في البيئة الزراعية.

ب أجب عما يلي:

١ ما المقصود بري الحياض؟

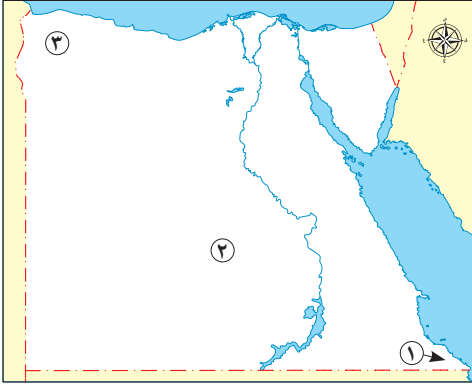
٢ دلل : ترتبط مصر بعلاقات تجارية مع العديد من دول العالم في العصر الحديث.

٣ ما مقترحاتك لزيادة الإنتاج الحيواني في مصر؟



السؤال الأول

أ لاحظ الخريطة المقابلة، ثم أجب:



- ١ يشير الرقم (١) إلى محمية .....
- ٢ يشير الرقم (٢) إلى منطقة يستخرج منها خام الفوسفات وهي .....
- ٣ صواب أم خطأ: يشير الرقم (٣) إلى هضبة التيه. ( )

ب بم تفسر...؟

- ١ تتأثر السياحة في مصر بالتغيرات المناخية.
- ٢ اهتمام المصري القديم بتربية الطيور.

السؤال الثاني

أ اختر الإجابة الصحيحة مما بين القوسين:

- ١ يُطلق عصر بناء الأهرامات على .....
- (العصر العتيق - عصر الدولة الوسطى - العصر المتأخر - عصر الدولة القديمة)
- ٢ تعتمد الزراعة في مصر بشكل أساسي على مياه .....
- (نهر النيل - الأمطار الشتوية - الآبار والعيون - البحيرات العذبة)

ب ما النتائج المترتبة على ما يلي...؟

- ١ افتتاح قناة السويس للملاحة.
- ٢ اكتشاف المصريين القدماء لمعدن النحاس.

السؤال الثالث

أ أكمل العبارات التالية بما يناسبها من كلمات:

- ١ يؤدي الارتفاع عن سطح البحر إلى انخفاض درجة .....
- ٢ تقع محطة بنبان في محافظة .....
- ٣ أنشأ الملك أمنمحات الثالث هرم هواره في محافظة .....

ب أجب عما يلي:

- ١ ماذا يحدث إذا: تم استخدام مصادر الطاقة غير المتجددة بشكل مستمر؟
- ٢ ما العلاقة بين السنة الزراعية - دورة فيضان النيل؟

السؤال الرابع

أ صوب ما تحته خط فيما يلي:

- تم استخدام القمح كمنقود سلعية قديمًا عند سكان المكسيك. (.....)

ب دلل على صحة العبارات التالية:

- ١ تأثرت حياة المصري القديم بحلول الجفاف.
- ٢ تتنوع الصناعات التي تعتمد على معدن الحديد.
- ٣ استفاد المصريون القدماء من موقع مصر التجاري المتميز.



# سلاح التلميز

منذ عام ١٩٦٠



## الدراسات الاجتماعية

2024-2025

### الصف الخامس الابتدائي الفصل الدراسي الأول

إجابات نماذج امتحانات نهاية الفصل الدراسي الأول  
طبقاً لأحدث مواصفة للورقة الامتحانية 2025م

# 5



## إجابة الامتحان ١

### السؤال الأول:

- أ ١ خطأ. ٢ الحديد. ٣ الإسكندرية.  
ب ١ حماية البلاد كما يُعد أحد العوامل البشرية التي ساهمت في بناء الحضارة المصرية القديمة. ٢ يُستخدم في صناعة الأسمدة الكيماوية والمبيدات الحشرية والطوب الحراري.

### السؤال الثاني:

- أ ١ الصلب. ٢ المعازة.  
ب ١ ندرة النباتات الطبيعية والحيوانات البرية في المناطق الصحراوية. ٢ أصبح الميزان التجاري المصري في حالة عجز.

### السؤال الثالث:

- أ ١ الصحراوي الحار. ٢ الحجري القديم. ٣ الشمالي.  
ب ١ - وادي النيل والدلتا: يندر وجودها مثل الذئب والثعالب. - الصحاري المصرية: تنتشر فيها الحيوانات التي تتحمل الجوع والعطش مثل اليربوع والجمال والثعابين وحيوانات سريعة الجري مثل الغزال.  
٢ - السد العالي: بني في عهد الرئيس جمال عبد الناصر - في محافظة أسوان. - سد اللاهون: بني في عهد الملك أمنمحات الثالث - بالقرب من الفيوم.

### السؤال الرابع:

- أ الانفجارات البركانية.  
ب ١ حيث أدى الموقع الفلكي لمصر إلى وقوع معظم الأراضي المصرية في الإقليم الصحراوي الحار وتقع الأجزاء الشمالية في إقليم البحر المتوسط. ٢ تُستخدم في صيد الأسماك واستخراج ملح الطعام ويُستخرج الغاز الطبيعي والبتترول من قاع المحيطات والبحار، ويتم تحويلها إلى مياه عذبة في محطات التحلية، كما أنها وسيلة مهمة للنقل البحري. ٣ حيث أنشأت الدولة مدينة الجلود في الروبيكي بالقاهرة، ومدينة الدواء في الخانكة بالقليوبية.

## إجابة الامتحان ٢

### السؤال الأول:

- أ ١ خطأ. ٢ قناطر إسنا. ٣ بحر يوسف.  
ب ١ بسبب انتشار الجبال مثل جبل سانت كاترين وجبل موسى. ٢ تساعد في توفير احتياجات السكان من الغذاء خاصة البروتين الحيواني - توفر فرص العمل، وتُعد مصدرًا للدخل القومي - تقوم عليها العديد من الصناعات مثل الصناعات الجلدية ومنتجات الألبان والأسماك المحفوظة.



### السؤال الثاني:

- أ ١ تحتمس الثالث.  
ب ١ استخدموها في العلاج وصناعة العطور.  
٢ استخدمهما المصري القديم في صناعة أدواته والحلي، وبناء الأهرامات، والمعابد، ونحت التماثيل.

### السؤال الثالث:

- أ ١ الشتاء.  
ب ١ - عند الإغريق: الأبقار.  
- عند سكان المكسيك: جوز الهند.  
٢ - الصادرات: الحديد - الفوسفات - الغاز الطبيعي - الفواكه والخضراوات - الملابس - البلاستيك.  
- الواردات: الآلات الصناعية - السيارات - الحبوب.

### السؤال الرابع:

- أ التغيير المناخي.  
ب ١ نجحت مملكة الشمال في توحيد مصر تحت حكمها عام ٤٢٤٢ ق.م، ولكن سرعان ما فشلت هذه الوحدة وانقسمت البلاد مرة أخرى لمملكتين حتى استطاع الملك نعرمر (مينا) من تحقيق الوحدة الثانية عام ٣٢٠٠ ق.م.  
٢ حيث تنتج نحو نصف إنتاج الكهرباء المولدة من الرياح في مصر.  
٣ حيث أقامت الدولة مشروع الدلتا الجديدة ومشروع الفرافرة ومشروع شرق العوينات.

## إجابة الامتحان ٣

### السؤال الأول:

- أ ١ الفيوم.  
ب ١ تُساعد في تحديد الموقع على سطح الأرض شرقاً وغرباً- تحديد الزمن ومعرفة فروق التوقيت بين الأماكن على سطح الأرض.  
٢ يدخل في صناعة الصلب والدهانات.

### السؤال الثاني:

- أ ١ جمع الثمار.  
ب ١ إصابة الإنسان ببعض الأمراض مثل أمراض الجهاز التنفسي، وكذلك تلف المحاصيل الزراعية.  
٢ تُستخدم في توليد الكهرباء وإدارة المصانع والإنارة، وتسيير وسائل النقل، تساعد على التنمية الصناعية وتطوير العديد من المشروعات، وتوفّر فرص عمل.

### السؤال الثالث:

- أ ١ المتوسط.  
ب ١ - خصائص إقليم البحر المتوسط: يتميز باعتدال درجات الحرارة وسقوط الأمطار، وخاصة في فصل الشتاء.  
- خصائص الإقليم الصحراوي الحار: شديد الحرارة صيفاً وبخاصة أثناء النهار، وشديد البرودة شتاءً وبخاصة أثناء الليل، وأمطاره نادرة وقد تسقط على شكل سيول.  
٢ البحث عن بدائل للمعادن - تقليل تصدير الخامات المعدنية - استخدام التقنيات الحديثة في البحث والتنقيب عن المعادن.



## السؤال الرابع:

أ نعمر (ميناً).

- ب ١ إزالة الكثير من النباتات الطبيعية لزراعة المحاصيل الغذائية - ندرة المياه - تغير المناخ - الصيد الجائر للحيوانات والطيور البرية- التلوث الناتج عن الأنشطة الزراعية والصناعية - انقراض بعض الحيوانات منها: الفهد المصري والغزال، السلاحف البرية والبحرية.
- ٢ اتخذت مصر عدّة إجراءات لمواجهة تأثيرات التغير المناخي، وأهمّها سنّ القوانين للحدّ من التأثير السلبي للأنشطة البشرية على البيئة، والتوسّع في استخدام وسائل النقل المستدام ومصادر الطاقة النظيفة، وتخزين مياه السيول وتطوير البنية التحتية وصيانتها، وإعادة تدوير مياه الصرف وتحلية مياه البحر، ونشر الوعي بخطورة تأثير التغير المناخي على الفرد والمجتمع.
- ٣ استخدم المصري القديم الفأس لتقليب التربة، والمحراث لتفتيت وتخطيط التربة، والمنجل لحصاد المحصول، والمذراة لفصل الحبوب عن القش.

## إجابة الامتحان ٤

### السؤال الأول:

- أ ١ بحيرة ناصر. ٢ محافظة البحر الأحمر. ٣ الخيرية.
- ب ١ بسبب الحركات الانكسارية التي أصابت الصخور الصلبة، فأدت لارتفاع بعضها. ٢ بسبب تجمع القرى والمدن.

### السؤال الثاني:

- أ ١ التعرية المائية. ٢ توليد الكهرباء.
- ب ١ تعاقب فصول السنة في مصر بانتظام. ٢ زيادة كمية الإنتاج - تنوع المنتجات الصناعية وأصبحت أكثر دقة وجودة.

### السؤال الثالث:

- أ ١ صواب. ٢ خطأ. ٣ خطأ.
- ب ١ - الملك نعمر (ميناً): أسس أول أسرة حاكمة في تاريخ البلاد بعد أن استطاع توحيد مصر سنة ٣٢٠٠ ق.م، كوّن حكومة مركزية وجيشاً قوياً لحماية البلاد، أنشأ قلعة "من - نفر" سجل انتصاراته على مملكة الشمال على وجهي لوحة نعمر.
- الملك تحتمس الثالث: اهتمّ بالجيش وتدريبه وزوّده بالفرسان والعربات الحربية، وبنى القلاع والحصون، قاد العديد من الحملات العسكرية الناجحة لتأمين حدود البلاد، ومن أشهرها معركة مجدو التي انتصر فيها على أمير قادش، استطاع السيطرة على بلاد الشام ومد حكم مصر لبلاد النوبة، بني في عهده الكثير من المعابد والمسلات.
- ٢ - الصناعات اليدوية: كانت تتم في ورش صغيرة واعتمدت على العمل اليدوي ومنها: صناعة الفخار والسجاد اليدوي، والخيامية.
- الصناعات الحديثة: تتم في المصانع وتعتمد على الآلات الحديثة، ومنها صناعة الإلكترونيات والأجهزة الكهربائية.



## السؤال الرابع:

- أ الصحراوية.
- ب ١ أحواض كانت تمتلئ بالمياه وقت الفيضان، وبعد انحساره كانت تُستخدم تلك الأحواض في الزراعة.
- ٢ وجود علاقات تجارية لمصر مع معظم دول العالم، مثل الولايات المتحدة الأمريكية، والإمارات العربية المتحدة، والمملكة المتحدة، وإيطاليا، وإسبانيا، وألمانيا، وبعض الدول الإفريقية.
- ٣ أجب بنفسك.

## إجابة الامتحان ٥

### السؤال الأول:

- أ ١ جبل علبة. ٢ منطقة أبو طرطور. ٣ خطأ.
- ب ١ تسبب التغيرات المناخية ضعف وموت الشعاب المرجانية مما يؤثر سلباً على السياحة. ٢ لأكل بيضها ولحومها.

### السؤال الثاني:

- أ ١ عصر الدولة القديمة. ٢ نهر النيل.
- ب ١ ساعد على سهولة اتصال مصر بدول العالم تجارياً وحضارياً. ٢ استخدمه المصري القديم في صناعة أدواته بعد خلطه مع معدن القصدير.

### السؤال الثالث:

- أ ١ الحرارة. ٢ أسوان. ٣ الفيوم.
- ب ١ أجب بنفسك. ٢ إن المصريين القدماء نظموا مواعيد الزراعة، وقسموا السنة الزراعية إلى ثلاثة فصول متساوية بناءً على دورة فيضان نهر النيل وهي فصل الفيضان وفصل البذر وفصل الحصاد.

### السؤال الرابع:

- أ المصريين القدماء.
- ب ١ عندما حل الجفاف فوق الهضاب نزل المصري القديم إلى وادي النيل وبعدها استقر في وادي النيل حيث عرف الزراعة وتربية الحيوانات وبنى بيوتاً صغيرة فظهرت القرى ثم المدن ثم الأقاليم التي اتحدت وكونت مملكتي الشمال والجنوب وانتهت بوحدة البلاد.
- ٢ حيث يُستخدم في صناعة الآلات وقضبان السكك الحديدية وحديد التسليح.
- ٣ حيث نجح المصريون القدماء في إقامة علاقات تجارية مع غيرهم من الدول مثل: اليونان وروما على البحر المتوسط. فينيقيا (سوريا ولبنان حالياً). بلاد بونت (الصومال حالياً).



# سلاح التلميز

منذ عام ١٩٦٠



التربية  
الدينية  
الإسلامية

2024-2025

الصف الخامس الابتدائي  
الفصل الدراسي الأول

نماذج اختبارات نهاية  
الفصل الدراسي الأول

5

## الاختبار

أولاً: القرآن الكريم اقرأ الآيات الكريمة، ثم أجب:

قال (تعالى): ﴿إِذَا السَّمَاءُ أَنْفَطَرَتْ ۝١ وَإِذَا ۝٢ أَنْثَرَتْ ۝٣ وَإِذَا الْبِحَارُ ۝٤ وَإِذَا الْقُبُورُ ۝٥﴾  
عَلِمَتْ ..... مَا قَدَّمَتْ وَأَخَّرَتْ ۝٥

أ اكتب المحذوف من الآيات الكريمة.

ب اختر الإجابة الصحيحة مما بين القوسين:

١ معنى ﴿أَنْفَطَرَتْ﴾: (تفرقت - فتحت - انشقت - تساقطت)

٢ سورة الانفطار (مكية - مدنية - بعض آياتها مكية - بعض آياتها مدنية)

ج أجب: تحدث تغيرات في الكون يوم القيامة، اذكر بعضها كما فهمت من الآيات.

ثانياً: الحديث الشريف اقرأ الحديث الشريف، ثم أجب:

قال رسول الله ﷺ: «أَحِبُّوا ..... لِمَا يَغْذُوكُمْ مِنْ .....»

أ اختر الإجابة الصحيحة مما بين القوسين:

١ معنى «يَغْذُوكُمْ»: بكرمه. (يطعمكم - يرحمكم - يعطيكم - يغفر لكم)

٢ يدعونا النبي ﷺ في الحديث إلى ..... الله ﷻ. (حُب - عبادة - تعظيم - توقير)

ب اكتب المحذوف من الحديث الشريف.

ج ما الذي تعلمته من هذا الحديث الشريف؟

ثالثاً: العقيدة اكتب عمّا يلي:

أ أكمل:

١ من مظاهر الود إلقاء ..... على الناس.

٢ عدد سور القرآن الكريم ..... سورة.



ب) أجب:

- ١) ما معنى الود؟ .....
- ٢) اكتب الحروف التي تخرج من الشفتين.

رابعًا: العبادات أجب عمًا يلي:

أ) اختر الإجابة الصحيحة مما بين القوسين:

- ١) دعاء الاستفتاح من ..... الصلاة. (سنن - أركان - فرائض - مبطلات)
- ٢) من مبطلات المسح على الجوربين ..... (توافر الماء - انتهاء الصلاة - نزع الجوربين - نزول المطر)

ب) أجب:

١) كم عدد ركعات صلاة الجمعة؟

٢) كيف تنصح زميلك المتكاسل عن الصلاة؟

خامسًا: السير والشخصيات أجب عمًا يلي:

أ) ضَعْ علامة (✓) أو (X) أمام ما يلي:

- دعت صحيفة المدينة إلى حسن الجوار. ( )

ب) صف حال أبي بكر الصديق رضي الله عنه عندما علم أنه سيرافق النبي صلى الله عليه وسلم في الهجرة.



## الاختبار ٢

أولاً: القرآن الكريم

قال (تعالى): ﴿يَبْقَىٰ إِنَّهَا إِن تَكُ مِثْقَالَ حَبَّةٍ مِّنْ ..... فَتَكُنْ فِي صَخْرَةٍ أَوْ فِي السَّمَوَاتِ أَوْ فِي الْأَرْضِ يَأْتِيهَا .....  
 إِنَّ اللَّهَ لَطِيفٌ خَبِيرٌ ﴿١٦﴾ يَبْقَىٰ أَقْرَبُ ..... وَأَمْرًا لِّمَعْرُوفٍ وَأَنَّهُ عَنِ الْمُنْكَرِ وَأَصْبِرْ عَلَىٰ مَا ..... إِنَّ ذَلِكَ مِنْ عَزْمِ  
 الْأُمُورِ ﴿١٧﴾

أ) اكتب المحذوف من الآيتين الكريمتين.

ب) اختر الإجابة الصحيحة مما بين القوسين:

- ١) معنى ﴿مِثْقَالَ﴾: ..... (هيئة - شكل - طعم - وزن)
- ٢) يوصي لقمان ابنه في الآيات بـ ..... الصلاة. (انتظار - أداء - تضييع - تأخير)
- ج) ماذا تعلمت من وصايا لقمان لابنه؟

ثانياً: الحديث الشريف

قال رسول الله ﷺ: «وَاللَّهُ فِي عَوْنِ ..... مَا كَانَ الْعَبْدُ فِي عَوْنِ .....»

أ) اختر الإجابة الصحيحة مما بين القوسين:

- ١) معنى «عون»: ..... (مساعدة - عطاء - كرم - حب)
- ٢) يدعونا الحديث إلى ..... (الصبر - العبادة - التعاون - الإخلاص)
- ب) اكتب المحذوف من الحديث الشريف.
- ج) ما الذي تعلمته من هذا الحديث الشريف؟

ثالثاً: العقيدة

أ) أكمل:

- ١) خلقنا الله (تعالى) لنعرفه و.....
- ٢) حكم التنوين في قوله (تعالى): ﴿فِي أَيِّ صُورَةٍ مَّا شَاءَ رَكَّبَكَ﴾ .....





ب) أجب:

١) ما الموضوع الذي تتحدث عنه سورة الانفطار؟

.....

٢) اذكر المرحلة الأولى من مراحل نزول القرآن الكريم.

.....

رابعًا: العبادات **أجب عمًا يلي:**

أ) اختر الإجابة الصحيحة مما بين القوسين:

١) من النوافل ..... (صيام رمضان - صيام الاثنين والخميس - زكاة المال - صلاة الظهر)

٢) قراءة سورة بعد الفاتحة من ..... الصلاة. (أركان - فرائض - سنن - مبطلات)

ب) أجب:

١) ما مدة المسح على الجوربين للمسافر؟

.....

٢) كيف تؤثر الصلاة في المسلم؟

.....

خامسًا: السير والشخصيات **أجب عمًا يلي:**

أ) ضع علامة (✓) أو (X) أمام ما يلي:

• أقام النبي ﷺ في بيت أبي أيوب الأنصاري عندما وصل المدينة. ( )

ب) كيف استعد النبي ﷺ للهجرة إلى المدينة؟

.....



### الاختبار ٣

أولاً: القرآن الكريم اقرأ الآيات الكريمة، ثم أجب:

قال (تعالى): ﴿وَإِذْ قَالَ لُقْمَنُ لِابْنِهِ وَهُوَ يَعِظُهُ يَبْنَىٰ لَا حَمَلَتْهُ أُمُّهُ وَهَنَا عَلَىٰ وَهْنٍ وَفَصَلَّهُ فِي عَمْرَيْنِ أَنْ تُشْرِكَ بِ مَا لَيْسَ لَكَ بِهِ عِلْمٌ فَلَا تُطِعْهُمَا وَصَاحِبِهُمَا فِي الدُّنْيَا﴾  
 بالله إني أشرك لظلم عظيم ﴿١٣﴾ ووصينا الإنسان لي ولوالديك إلى المصير ﴿١٤﴾ وإن جهداك على أن

أ اكتب المحذوف من الآيات الكريمة.

ب ضع علامة (✓) أمام العبارة الصحيحة، وعلامة (X) أمام العبارة غير الصحيحة:

١ نصح لقمان ابنه بخفض الصوت في أثناء الحديث. ( )

٢ نهى لقمان ابنه عن السعادة في الحياة. ( )

ج ما الدليل على حب لقمان لابنه؟

ثانياً: الحديث الشريف اقرأ الحديث الشريف، ثم أجب:

قال رسول الله ﷺ: «الصَّلَاةُ الْخَمْسُ وَ إِلَى الْجُمُعَةِ كَفَّارَةٌ لِمَا بَيْنَهُنَّ مَا لَمْ تُغَشَّ».

أ اختر الإجابة الصحيحة مما بين القوسين:

١ معنى «كفارة»: سبب في (العقاب - المغفرة - الكرم - الرزق)

٢ يدعونا النبي ﷺ في الحديث إلى الصلاة. (الاستعداد ل - جمع - المحافظة على - وضوء)

ب اكتب المحذوف من الحديث الشريف.

ج ما الذي تعلمته من هذا الحديث الشريف؟

ثالثاً: العقيدة أجب عما يلي:

أ أكمل:

١ من علامات التوبة المداومة على .....

٢ نزل القرآن الكريم على الرسول ﷺ عن طريق .....



ب) أجب:

١) إلام يرشدنا قوله (تعالى): ﴿لَيْسَ كَمِثْلِهِ شَيْءٌ﴾؟

٢) لماذا أنزل الله (تعالى) القرآن الكريم؟

### رابعًا: العبادات

أجب عمًا يلي:

أ) اختر الإجابة الصحيحة مما بين القوسين:

(سنن - أركان - مستحبات - مبطلات)

١) التشهد الأخير من ..... الصلاة.

(يوم - ليلة - يوم وليلة - ثلاثة أيام بلياليها)

٢) يمسح المقيم على الخفين لمدة .....

ب) أجب:

١) كم عدد ركعات سنن الرواتب؟

٢) للصلاة أركان، اذكر ثلاثة منها.

### خامسًا: السير والشخصيات

أجب عمًا يلي:

أ) ضَعْ علامة (✓) أو (X) أمام ما يلي:

( )

• أرضعت امرأة فرعون موسى ﷺ بنفسها.

ب) «دعوها؛ فإنها مأمورة». من القائل؟ ولمن قال هذه العبارة؟ وما مناسبتها؟



## الاختبار ٤

أولاً: القرآن الكريم

اقرأ الآيات الكريمة، ثم أجب:

قال (تعالى): ﴿بِأَيِّهَا الْإِنْسَانُ مَا غَرَّكَ رَبِّكَ﴾ ..... ٦) الَّذِي خَلَقَكَ ..... فَعَدَّلَكَ ٧) فِي أَيِّ صُورَةٍ مَّا

رَبَّكَ ٨) كَلَّابٌ لَّيَّسٌ كُفِرْتُمْ بِهِ ..... ٩) وَإِنَّ عَلَيْكُمْ لَحَافِظِينَ ١٠) ﴿

أ) اكتب المحذوف من الآية الكريمة.

ب) ١) اختر: معنى ﴿غَرَّكَ﴾ ..... (كرمك - خدعك - علمك - أنذرك)

٢) ضع علامة (✓) أو (X): خلق الله (تعالى) الإنسان في أحسن هيئة وشكل. ( )

ج) من هم الحافظون؟

ثانياً: الحديث الشريف

اقرأ الحديث الشريف، ثم أجب:

قال رسول الله ﷺ: «وَالَّذِي نَفْسِي بِيَدِهِ، لَا تَدْخُلُونَ الْجَنَّةَ حَتَّى تُؤْمِنُوا، ..... أَوْلَا أَدُلُّكُمْ عَلَى شَيْءٍ إِذَا

فَعَلْتُمُوهُ تَحَابَبْتُمْ؟ أَفْشُوا السَّلَامَ بَيْنَكُمْ».

أ) اختر الإجابة الصحيحة مما بين القوسين:

١) معنى «أفشوا»: ..... (قللوا - امنعوا - اقبلوا - انشروا)

٢) يدعونا النبي ﷺ في الحديث إلى ..... (الإيمان - الحب - نشر السلام - جميع ما سبق)

ب) أكمل الحديث السابق.

ج) ضع علامة (✓) أو (X):

١) ربط الرسول ﷺ بين الإيمان وإفشاء السلام. ( )

٢) إفشاء السلام ينشر الود في المجتمع. ( )

ثالثاً: العقيدة

أجب عما يلي:

أ) أكمل:

١) القرآن الكريم معجزة نبي الله ..... من معانيه الموصوف بكمال الصفات.

٢) اسم الله (تعالى) ..... من معانيه الموصوف بكمال الصفات.



ب) أجب:

١) كيف تكون ودودًا مع الناس؟ اذكر واحدة فقط.

٢) اكتب حروف الإظهار الحلقى.

رابعًا: العبادات أجب عمًا يلي:

أ) اختر الإجابة الصحيحة مما بين القوسين:

١) من سنن الصلاة ..... في الصلاة. (الركوع - السجود - رفع اليدين - النية)

٢) صلاة ..... من الصلوات المفروضة. (النوافل - التراويح - الضحى - العشاء)

ب) أجب:

١) متى فرضت الصلاة على المسلمين؟

٢) ما أركان التيمم؟

خامسًا: السير والشخصيات أجب عمًا يلي:

أ) ضع علامة (✓) أو (X) أمام ما يلي:

• أمر فرعون بقتل الإناث من بني إسرائيل. ( )

ب) كيف أخذت أم موسى بالأسباب حين ألهمها الله (تعالى) بإلقائه في اليم؟



## الاختبار ٥

أولاً: القرآن الكريم

قال (تعالى): ﴿وَلَا تَصْعَرَ خَدَّكَ لِلنَّاسِ وَلَا فِي الْأَرْضِ مَرَحًا إِنَّ اللَّهَ لَا يُحِبُّ كُلَّ مُخْتَالٍ

وَأَقْصِدٍ فِي

مَشْيِكَ وَأَعْضُضْ مِنْ ..... إِنَّ أَنْكَرَ الْأَصْوَاتِ لَصَوْتُ

﴿١٩﴾

أ اكتب المحذوف من الآيتين الكريمتين.

(أسرع - زد - اخفض - اكرم)

ب ١ اختر: معنى ﴿وَأَعْضُضْ﴾: .....

( )

٢ ضع علامة (✓) أو (X): لا يحب الله (تعالى) من يعتدل في مشيه.

ج بم أوصى لقمان ابنه كما تفهم من الآيتين الكريمتين؟

ثانياً: الحديث الشريف

اقرأ الحديث، ثم أجب:

قال رسول الله ﷺ: «وَمَا تَقَرَّبَ إِلَيَّ بِشَيْءٍ أَحَبُّ إِلَيَّ مِمَّا افْتَرَضْتُ عَلَيْهِ، وَمَا يَزَالُ

عَبْدِي إِلَيَّ بِالنَّوَافِلِ حَتَّى أُحِبَّهُ».

أ اختر الإجابة الصحيحة مما بين القوسين:

(الزيادة - الثواب - التقليل - التقرب)

١ معنى «النوافل»: ..... من العبادات الواجبة.

(التطوع - النوافل - السنن - الفرائض)

٢ أحب الأعمال إلى الله (تعالى) .....

ب اكتب المحذوف من الحديث الشريف.

ج كيف تنال حب الله (تعالى)؟

ثالثاً: العقيدة

أجب عما يلي:

أ أكمل:

١ نزل القرآن الكريم من اللوح المحفوظ إلى السماء الدنيا في ليلة .....

٢ الصوت الذي يخرج من الخشيووم يسمى .....



ب) أجب:

١) الله (تعالى) ودود، اذكر مظهرًا من مظاهر وده.....

٢) ما معنى المعجزة؟ .....

رابعًا: العبادات **أجب عمًا يلي:**

أ) اختر الإجابة الصحيحة مما بين القوسين:

١) من أركان الصلاة ..... في السجود. (التسبيح - التشهد الأوسط - الطمأنينة - الدعاء)

٢) دعاء الاستفتاح في ..... الصلاة. (بداية - نهاية - وسط - آخر)

ب) أجب:

١) ما مقدار الطمأنينة في الصلاة؟

.....

٢) ما حكم صلاة العيدين؟

.....

خامسًا: السير والشخصيات **أجب عمًا يلي:**

أ) ضَعْ علامة (✓) أو (X) أمام ما يلي:

• تربي موسى ﷺ في بيت العزيز. ( )

ب) كيف استقبل أهل المدينة النبي ﷺ عندما هاجر إليهم؟

.....



# سلاح التلميز

منذ عام ١٩٦٠



## التربية الإسلامية

2024-2025

الصف الخامس الابتدائي  
الفصل الدراسي الأول  
إجابات نماذج اختبارات  
نهاية الفصل الدراسي الأول

# 5



## إجابة الاختبار ٢

### أولاً: القرآن الكريم

- أ) خردل - الله - الصلاة - أصابك  
ب) ١) وزن ٢) أداء  
ج) تعلمت أن أحافظ على الصلاة في وقتها، وأن أدعو الناس للخير، وأحذرهم من فعل الشر.

### ثانياً: الحديث الشريف

- أ) ١) مساعدة ٢) التعاون  
ب) العبد - أخيه  
ج) تعلمت مساعدة من يحتاج إلى مساعدتي.

### ثالثاً: العقيدة

- أ) ١) نعبده ٢) الإِدْغَامُ بِغَنَةِ  
ب) ١) يوم القيامة وما فيه من دلائل على خضوع الكون لله وحده.  
٢) نزول القرآن الكريم كاملاً من اللوح المحفوظ إلى السماء الدنيا في ليلة القدر.

### رابعاً: العبادات

- أ) ١) صيام الاثنين والخميس ٢) سنن  
ب) ١) ثلاثة أيام بلياليها.  
٢) الصلاة تبعد المسلم عن المنكرات، وتكفر ذنوبه، وتعينه في أوقات الحزن والتعب.

### خامساً: السير والشخصيات

- أ) ✓  
ب) استعان بعامر بن فهيرة؛ ليخفي آثار أقدامه، واستعان بعبد الله بن أريقط؛ ليدله على الطريق.

## إجابة الاختبار ١

### أولاً: القرآن الكريم

- أ) الكواكب - فجرت - بعثت - نفس  
ب) ١) انشقت ٢) مكية  
ج) تنشق السماء، وتكف الكواكب عن الدوران، وتتفرق في أفلاكها، وتنفجر البحار، ويخرج الموتى من قبورهم.

### ثانياً: الحديث الشريف

- أ) ١) يعطيكم ٢) حب  
ب) الله - نعمه  
ج) تعلمت حب الله، وشكره على نعمه، والمحافظة عليها.

### ثالثاً: العقيدة

- أ) ١) السلام ٢) ١١٤  
ب) ١) هو الفعل أو السلوك الناتج عن الشعور بالحب.  
٢) (ف، و، ب، م)

### رابعاً: العبادات

- أ) ١) سنن ٢) نزع الجوربين  
ب) ١) ركعتان  
٢) أقول له: الصلاة فرض، وهي أحب الأعمال إلى الله (تعالى).

### خامساً: السير والشخصيات

- أ) ✓  
ب) فرح أبو بكر رضي الله عنه فرحاً شديداً، حتى إنه بكى من شدة الفرح.



### إجابة الاختبار ٣

#### أولاً: القرآن الكريم

- أ) تشرك - بوالديه - اشكر - معروفًا  
ب) ١ ✓ ٢ ✗  
ج) الدليل أنه أوصاه؛ لأن الوصية يقدمها الإنسان لمن يحبهم.

#### ثانياً: الحديث الشريف

- أ) ١ المغفرة ٢ المحافظة على  
ب) الجمعة - الكبائر  
ج) نتعلم فضل الصلوات الخمس وفضل صلاة الجمعة؛ فهي سبب في مغفرة صغائر الذنوب.

#### ثالثاً: العقيدة

- أ) ١ الاستغفار ٢ جبريل عليه السلام  
ب) ١ ترشدنا إلى كمال صفات الله (تعالى) بلا نقص أو عيب.  
٢ ليهدي الناس إلى طريق الإيمان، ويدعوهم إلى العمل

الصالح، ويبشر المؤمنين، ويحذر الكافرين.

#### رابعاً: العبادات

- أ) ١ أركان ٢ يوم وليلة  
ب) ١ اثنتا عشرة ركعة.  
٢ النية وقراءة الفاتحة والركوع.

#### خامساً: السير والشخصيات

- أ) ✗  
ب) قالها الرسول ﷺ للأنصار عندما تسابقوا للإمساك بزمام ناقته حين وصل المدينة المنورة.

### إجابة الاختبار ٤

#### أولاً: القرآن الكريم

- أ) الكريم - فسواك - شاء - بالدين  
ب) ١ خدك ٢ ✓  
ج) ملائكة يراقبون تصرفات الإنسان ويكتبونها.

#### ثانياً: الحديث الشريف

- أ) ١ انشروا ٢ جميع ما سبق  
ب) ولا تؤمنوا حتى تحابوا.  
ج) ١ ✓ ٢ ✓

#### ثالثاً: العقيدة

- أ) ١ محمد ﷺ ٢ القدوس  
ب) ١ إلقاء السلام على الناس والابتسام في وجوههم، ومساعدتهم.  
٢ (ع، هـ، ع، ح، غ، خ)

#### رابعاً: العبادات

- أ) ١ رفع اليدين ٢ العشاء  
ب) ١ في ليلة الإسراء والمعراج.  
٢ النية، مسح الوجه والكفين إلى المرفقين مع الترتيب.

#### خامساً: السير والشخصيات

- أ) ✗  
ب) طلبت من ابنتها أن تتبع التابوت الذي فيه موسى ﷺ؛ لتطمئن عليه.



## إجابة الاختبار 0

### أولاً: القرآن الكريم

أ) تمش - فخور - صوتك - الحمير

ب) اخفض ١) ٢) X

ج) أمره بألا يتكبر على أحد وأن يتحلى بآداب الحديث؛ فيخفض صوته في أثناء الكلام، ويتوسط ويعتدل في سيره.

### ثانياً: الحديث الشريف

أ) ١) الزيادة ٢) الفرائض

ب) عبدي - يتقرب

ج) أنال حب الله (تعالى) بأداء النوافل، مثل: سنن الصلاة وصيام يومي الاثنين والخميس، والصدقة.

### ثالثاً: العقيدة

أ) ١) القدر ٢) الغنة

ب) ١) مسامحته ومغفرته لنا حين نتوب ونعود إليه.

٢) شيء خارق لما اعتاده الناس، تأتي على أيدي

الأنبياء ﷺ.

### رابعاً: العبادات

أ) ١) الطمأنينة ٢) بداية

ب) ١) مقدار تسبيحة واحدة.

٢) سنة عن رسول الله ﷺ.

### خامساً: السير والشخصيات

أ) X

ب) خرجوا لاستقباله بالفرح والسرور منشدين الأناشيد.



# سلاح التلميذ

منذ عام ١٩٦٠



تكنولوجيا  
المعلومات  
والاتصالات

2024-2025

الصف الخامس الابتدائي  
الفصل الدراسي الأول

نماذج اختبارات نهاية الفصل الدراسي الأول  
طبقاً لآخر مواصفة للورقة الامتحانية

5

# الاختبار 1

## السؤال الأول

ضع علامة (✓) أمام العبارة الصحيحة، وعلامة (X) أمام العبارة غير الصحيحة:

- 1) الجيجابايت هي وحدة قياس سرعة الإنترنت. ( )
- 2) اتصال الكمبيوتر بالطابعة يعتبر شبكة عالمية مفتوحة. ( )
- 3) تُستخدم تقنية البلوتوث "Bluetooth" للربط بين الأجهزة عبر مسافة قصيرة لنقل البيانات. ( )
- 4) اتّباع خطوات محددة لاكتشاف المشكلات يساعد على حلها. ( )
- 5) تستخدم الكاميرا الرقمية لالتقاط الصور ومقاطع الفيديو. ( )
- 6) يستخدم الإنترنت لمشاركة المعلومات عبر شبكة مغلقة، وهو أكثر أماناً. ( )
- 7) تعتبر كلمات المرور من معلومات التعريف الشخصية. ( )

## السؤال الثاني

اختر الإجابة الصحيحة من بين الاختيارات التالية:

- 1) رسالة من شخصٍ مجهول يطلب منك بياناتك الخاصة، هي رسالة .....  
أ) تصيد احتيالي      ب) المصادقة متعددة العوامل      ج) بروتوكول      د) شخصية
- 2) يحدد ..... كيفية نقل المعلومات في محدد موقع المعلومات (URL).  
أ) مسار الملف      ب) البروتوكول      ج) اسم المورد      د) اسم الشبكة
- 3) الرمز الدولي لحقوق النشر هو .....  
أ) @      ب) ®      ج) ©      د) \$
- 4) تستند ..... إلى وجهات نظر الشخص وخبراته.  
أ) الحقائق      ب) الأبحاث      ج) الآراء      د) البيانات
- 5) تغيير بعض المفردات، وبناء الجمل لنص كتبه شخص آخر يسمى .....  
أ) اقتباس      ب) إعادة صياغة      ج) تدوين ملاحظات      د) ذكر المصادر
- 6) يستخدم ..... في نقل الصوت والصورة من الأجهزة وإليها.  
أ) سلك HDMI      ب) محرك الأقراص الصلب      ج) الماسح الضوئي      د) الراوتر
- 7) تم ظهور ..... في أواخر الثمانينيات.  
أ) الهاتف المنزلي      ب) خط المشترك الرقمي      ج) الشبكة العنكبوتية      د) الهواتف الذكية
- 8) تستخدم الشركات والمؤسسات شبكات ..... لمشاركة المعلومات العامة.  
أ) مفتوحة      ب) مغلقة      ج) LAN      د) إنترانت



## الاختبار 2

### السؤال الأول

ضع علامة (✓) أمام العبارة الصحيحة، وعلامة (X) أمام العبارة غير الصحيحة:

- 1) يجب ترك المشكلة إذا لم تستطع حلها. ( )
- 2) يستخدم الماسح الضوئي لتخزين المعلومات ومشاركتها. ( )
- 3) يتم كتابة الرمز (=) في بداية الخلية لإنشاء صيغة بسيطة ببرنامج Excel. ( )
- 4) يُستخدم محرك القرص الصلب الخارجي لحفظ الملفات. ( )
- 5) يتيح برنامج إدارة كلمات المرور خدمة تقييم كلمات المرور. ( )
- 6) جميع المواقع الإلكترونية مواقع احتيالية. ( )
- 7) لا تشمل حقوق النشر الصور. ( )

### السؤال الثاني

اختر الإجابة الصحيحة من بين الاختيارات التالية:

- 1) تخزين المواقع الإلكترونية في شريط ..... الخاص بالمتصفح.
 

أ البيانات	ب الأدوات	ج البحث	د الإشارات المرجعية
------------	-----------	---------	---------------------
- 2) للبحث عن مصدر عبر الإنترنت بواسطة كلمة مفتاحية يتم الضغط على ..... Ctrl + من لوحة المفاتيح.
 

أ X	ب C	ج F	د V
-----	-----	-----	-----
- 3) البايت هو .....
 

أ وسيلة اتصال	ب وحدة قياس سعة التخزين	ج متصفح إنترنت	د تطبيق تواصل اجتماعي
---------------	-------------------------	----------------	-----------------------
- 4) شبكة معمل الكمبيوتر في المدرسة هي شبكة .....
 

أ مفتوحة	ب مغلقة	ج عالمية	د معقدة
----------	---------	----------	---------
- 5) تقنية ..... تربط الأجهزة المحمولة اللاسلكية عبر المدى القصير.
 

أ إنترنت الأشياء	ب WAN	ج البلوتوث	د WWW
------------------	-------	------------	-------
- 6) مشكلة "عدم وجود اتصال بالإنترنت" يمكن حلها عن طريق .....
 

أ تحديث التطبيقات	ب تغيير جهاز الكمبيوتر	ج حذف التطبيقات	د إعادة تشغيل الراوتر
-------------------	------------------------	-----------------	-----------------------
- 7) لإنشاء مجلد، يتم الضغط على زر الفأرة الأيمن واختيار .....
 

أ File	ب Word	ج New	د View
--------	--------	-------	--------
- 8) يمكن ترتيب المعلومات أبجدياً من خلال "....." من تبويب "Data" ببرنامج Excel.
 

أ Formula	ب Insert	ج Cells	د Sort
-----------	----------	---------	--------



### الاختبار 3

#### السؤال الأول

ضع علامة (✓) أمام العبارة الصحيحة، وعلامة (X) أمام العبارة غير الصحيحة:

- 1) تحديث البرامج من طرق الحفاظ على أمن المعلومات. ( )
- 2) برنامج إدارة كلمات المرور يُنشئ نفس كلمة المرور لكل حسابات المستخدم. ( )
- 3) مواقع الاحتيال عبر المكافآت تعرض جوائز لا يتم الحصول عليها. ( )
- 4) لا تغطي حقوق النشر الأفلام. ( )
- 5) تنتج الحقائق عن البحث والملاحظة. ( )
- 6) تدوين الملاحظات بصياغتك يجعل كتابة الورقة البحثية أمراً سهلاً. ( )
- 7) وحدة قياس سرعة المعالج هي ميجابت في الثانية (Mbps). ( )

#### السؤال الثاني

اختر الإجابة الصحيحة من بين الاختيارات التالية:

- 1) تتكون الشبكة ..... من صفحات ويب يتنقل بينها الأشخاص.
  - أ العنكبوتية العالمية
  - ب المحلية
  - ج المغلقة
  - د الخاصة
- 2) تعتبر الثلجة الرقمية مثلاً على .....
  - أ التسوق الإلكتروني
  - ب إنترنت الأشياء
  - ج الخصوصية الرقمية
  - د الشبكة العنكبوتية
- 3) عند حل المشكلات تكون تحديد المشكلة هي الخطوة .....
  - أ الأولى
  - ب الثانية
  - ج الثالثة
  - د الرابعة
- 4) يفضل تخزين مقاطع الفيديو في مجلد .....
  - أ Documents
  - ب Pictures
  - ج Videos
  - د Windows
- 5) تتواجد الأحرف ..... الأعمدة ببرنامج Excel.
  - أ يمين
  - ب يسار
  - ج أعلى
  - د أسفل
- 6) يتم اقتحام أنظمة الكمبيوتر وسرقة المعلومات بواسطة .....
  - أ المبرمجين
  - ب المعلمين
  - ج رجال الأعمال
  - د المخترقين
- 7) تقديم طريقتين لتعريف المستخدم عن نفسه تسمى ب .....
  - أ المصادقة متعددة العوامل
  - ب القرصنة
  - ج التصيد الاحتمالي
  - د اختراق البيانات
- 8) تتضمن مواقع ..... تحذيرات مزيفة تشير إلى وجود مشكلة في جهازك ويجب تحميل تطبيق معين.
  - أ التعلُّم عن بُعد
  - ب محركات البحث
  - ج التواصل الاجتماعي
  - د برمجيات التخويف



## الاختبار 4

### السؤال الأول

ضع علامة (✓) أمام العبارة الصحيحة، وعلامة (X) أمام العبارة غير الصحيحة:

- 1) يجب ذكر اسم الكاتب عند إعادة صياغة أفكاره أو نقل كلماته. ( )
- 2) الآراء تحتمل الجدل ولا يمكن إثباتها. ( )
- 3) يمكن اقتباس قول ما بدون تحديد مصدره. ( )
- 4) وحدة قياس تيرابايت (TB) تساوي 1024 جيجابايت (GB). ( )
- 5) تعتبر شبكة الإنترنت شبكة مغلقة. ( )
- 6) شراء الأغراض عبر الإنترنت يسمى الخصوصية الرقمية. ( )
- 7) يمكن استخدام سلك الإنترنت لحل مشكلة بطء تطبيقات جهاز الكمبيوتر. ( )

### السؤال الثاني

اختر الإجابة الصحيحة من بين الاختيارات التالية:

- 1) يمكن أن يجد التلاميذ المعلومات من خلال .....  
 أ) رمز الاستجابة السريع ب) الماسح الضوئي ج) الكاميرا الرقمية د) منفذ إيثرنت
- 2) لجمع القيم الموجودة في الصفين الرابع والخامس بالعمود (B) نستخدم الصيغة .....  
 أ)  $4A+5B$  ب)  $B4+B5$  ج)  $A4+B5$  د)  $4B+5B$
- 3) يتم استخدام ..... للحفاظ على أمان معلومات التعريف الشخصية.  
 أ) برامج مكافحة الفيروسات ب) المشاع الإبداعي ج) التصيد الاحتيالي د) البريد الإلكتروني
- 4) يُستخدم برنامج إدارة كلمات المرور لإنشاء كلمات مرور .....  
 أ) ضعيفة ب) يسهل توقعها ج) متوسطة د) قوية
- 5) يمثل ..... مسار الملف في محدد موقع المعلومات <https://www.ekb.eg/index.html>.  
 أ) www ب) https ج) ekb.eg د) index.html
- 6) يمكن استخدام المصادر التي تقع في نطاق الملكية العامة والحاصلة على رخصة .....  
 أ) الملكية ب) تجارية ج) المشاع الإبداعي د) ثقافية
- 7) تنطبق ..... على الجميع، ولا تحتمل الجدل.  
 أ) الآراء ب) الحقائق ج) التجارب د) الأنشطة
- 8) لإضافة أقوال المؤلف كما هي يتم استخدام علامتي .....  
 أ) -- ب) ## ج) ++ د) ""





## الاختبار 5

### السؤال الأول

ضع علامة (✓) أمام العبارة الصحيحة، وعلامة (X) أمام العبارة غير الصحيحة:

- 1) كلمة "مصر" تحتاج إلى 4 بايت لتمثيلها في نظام الكمبيوتر. ( )
- 2) تعتبر شبكة الإنترنت شبكة مفتوحة. ( )
- 3) يمكن للأفراد تنزيل مقاطع فيديو من خلال شبكة الإنترنت. ( )
- 4) يمكن حل مشكلة بطء محرك البحث عن طريق الاتصال بمزود الخدمة. ( )
- 5) لإنشاء مجلد جديد نختار "Documents" من قائمة "New". ( )
- 6) تعبر الصيغة  $A7+B7=$  عن جمع القيم الموجودة في الصفين (A) و (B) في العمود (7). ( )
- 7) يمكن للمخترق استخدام رقم الحساب المصرفي لسرقة أموال أحد الأشخاص. ( )

### السؤال الثاني

اختر الإجابة الصحيحة من بين الاختيارات التالية:

- 1) تجمع المصادقة متعددة العوامل بين عامل ..... المستخدم، مثل كلمة المرور وآخر يمتلكه.
  - أ) يجهله
  - ب) لا يعلمه
  - ج) لا يعرفه
  - د) يعرفه
- 2) مواقع ..... عبر الإنترنت لا ترسل الأغراض التي يتم شراؤها بشكل صحيح.
  - أ) برمجيات التخويف
  - ب) الاحتيال عبر الجوائز
  - ج) التسوق الاحتيالية
  - د) الخصوصية
- 3) تدخل الأعمال الإبداعية في نطاق الملكية العامة بعد ..... عامًا من وفاة صاحبها.
  - أ) 20
  - ب) 50
  - ج) 80
  - د) 100
- 4) يشير الاختصار URL إلى .....
  - أ) محدد موقع المعلومات
  - ب) التصيد الاحتيالي
  - ج) الشبكة المحلية
  - د) القرصنة
- 5) يمكن أن يكون الرابط الثابت على هيئة ..... عند الاستشهاد بالموقع الإلكتروني.
  - أ) وصلة تشعبية
  - ب) فيديو
  - ج) ملاحظات
  - د) تعليقات
- 6) الجيجابايت تساوي ..... ميجابايت.
  - أ) 24
  - ب) 1024
  - ج) 1048
  - د) 2048
- 7) يتم استخدام ..... للاتصال بشبكة الإنترنت.
  - أ) الفأرة
  - ب) البوابة Gateway
  - ج) الشاشة
  - د) لوحة المفاتيح
- 8) تستخدم الشركات والمؤسسات الشبكات ..... لمشاركة المعلومات الخاصة.
  - أ) المفتوحة
  - ب) المعقدة
  - ج) العالمية
  - د) المغلقة



# سلاح التمهيد

منذ عام ١٩٦٠



تكنولوجيا  
المعلومات  
والاتصالات

2024-2025

الصف الخامس الابتدائي  
الفصل الدراسي الأول

إجابات نماذج اختبارات  
الفصل الدراسي الأول

5

## 1 إجابة الاختبار

✓ 4

✓ 3

✗ 2

✗ 1

✓ 7

✗ 6

✓ 5

### السؤال الأول

1 تصيد احتيالي

5 إعادة صياغة

### السؤال الثاني

4 الآراء

8 مفتوحة

3 ©

7 خط المشترك الرقمي

2 البروتوكول

6 سلك HDMI

## 2 إجابة الاختبار

✓ 4

✓ 3

✗ 2

✗ 1

✗ 7

✗ 6

✓ 5

### السؤال الأول

1 الإشارات المرجعية

5 البلوتوث

### السؤال الثاني

4 مغلقة

8 Sort

3 وحدة قياس سعة التخزين

7 New

2 F

6 إعادة تشغيل الراوتر

## 3 إجابة الاختبار

✗ 4

✓ 3

✗ 2

✓ 1

✗ 7

✓ 6

✓ 5

### السؤال الأول

1 العنكبوتية العالمية

4 Videos

### السؤال الثاني

3 الأولى

6 المخترقين

2 إنترنت الأشياء

5 أعلى

8 برمجيات التخويف

7 المصادقة متعددة العوامل



## 4 إجابة الاختبار

### السؤال الأول

✓ 4

✗ 3

✓ 2

✓ 1

✗ 7

✗ 6

✗ 5

### السؤال الثاني

برامج مكافحة الفيروسات 3

=B4+B5 2

رمز الاستجابة السريع 1

المشاع الإبداعي 6

index.html 5

قوية 4

" " 8

الحقائق 7

## 5 إجابة الاختبار

### السؤال الأول

✓ 4

✓ 3

✗ 2

✗ 1

✓ 7

✗ 6

✗ 5

### السؤال الثاني

50 3

التسوق الاحتياطية 2

يعرفه 1

1024 6

وصلة تشعبية 5

محدد موقع المعلومات 4

المغلقة 8

البوابة Gateway 7



# سلاح التلميز

منذ عام ١٩٦٠



## المهارات المهنية

2024-2025

### الصف الخامس الابتدائي الفصل الدراسي الأول

نماذج اختبارات نهاية الفصل الدراسي الأول  
طبقاً لآخر مواصفة للورقة الامتحانية

# 5

# الاختبار ١

## اختر الإجابة الصحيحة ممّا يلي:

- ١ إحدى الخصائص التي تميّز خشب الأرز .....  
 أ لونه الأسود      ب رائحته الذكية      ج حُبببته دقيقة      د يتعفن بسهولة
- ٢ نوع الإضاءة المناسب للنباتات في الأماكن المغلقة هي .....  
 أ إضاءة عادية      ب ضوء الشمس      ج مصابيح الفلورسنت      د إضاءة متحركة
- ٣ عند إزالة الحشائش الضارة يجب .....  
 أ رشها بالمبيدات      ب قص أوراقها فقط      ج استئصالها من الجذور      د تركها كما هي
- ٤ إحدى خصائص البيتموس هي ..... في التربة.  
 أ تقليل الفيتامينات      ب الاحتفاظ بالماء      ج زيادة الملوحة      د منع نمو النباتات
- ٥ الهدف من جعل عبارات البحث محددة هو العثور على .....  
 أ تقليل المصادر      ب تقليل وقت البحث      ج الكلمات المفتاحية      د معلومات دقيقة
- ٦ استخدام ممتلكات المدرسة يتطلب .....  
 أ الحرية الكاملة      ب إذن المسؤولين      ج تجاهل التعليمات      د الاستخدام الشخصي
- ٧ إحدى المهارات الحياتية التي يحتاجها الحرفيون للتعامل مع العملاء هي القدرة على .....  
 أ الرسم      ب التواصل      ج الطهي      د البرمجة
- ٨ المصدر الرئيسي للون الأزرق عند المصريين القدماء .....  
 أ نبتة النيلة      ب الزعفران      ج الكركم      د قواقع البحر
- ٩ يتولّى ..... توصيل السائح من المطار إلى الفندق.  
 أ مرشد الرحلات      ب سائق سيارة الأجرة      ج موظف الاستقبال      د موظف خدمة الغرف
- ١٠ أحد السلوكيات التي يجب أتباعها عند زيارة المحميات .....  
 أ إلقاء القمامة      ب قتل الكائنات      ج الالتزام بمسارات السير      د اصطحاب الحيوانات
- ١١ يجب التعامل مع المدرسة ومواردها بـ .....  
 أ عناية      ب استهتار      ج عدم اهتمام      د إهمال
- ١٢ التقنية التي استخدمها د. مصطفى السيد في علاج السرطان هي .....  
 أ الخلايا الجذعية      ب نانو الذهب      ج الإشعاع      د العلاج الكيميائي
- ١٣ المسئول عن الرد على البريد الإلكتروني في المدرسة هو .....  
 أ موظف الاستقبال      ب المدير      ج المعلم      د أمين المكتبة
- ١٤ الأداة التي يستخدمها النجار لنقش التصاميم على الخشب .....  
 أ المطرقة      ب المسطرة      ج المفك      د الإزميل
- ١٥ الميزة الرئيسية للملابس المصنوعة من أقمشة معاد تدويرها أنها .....  
 أ رخيصة الثمن      ب أفضل للبيئة      ج أكثر متانة      د أجمل شكلاً



## الاختبار ٢

### اختر الإجابة الصحيحة مما يلي:

- ١) مسئولية أمين مكتبة المدرسة هي .....  
 أ) التدريس      ب) التنظيف      ج) العناية بالكتب      د) الإدارة
- ٢) الخطوة الثانية لإدارة الوقت تتمثل في ..... ما يجب القيام به حسب الأولوية.  
 أ) تسجيل      ب) ترتيب      ج) معرفة      د) تأكيد
- ٣) الصفة التي يجب أن يتحلّى بها العاملون في مجال السياحة هي .....  
 أ) الجدية فقط      ب) معرفة الخرائط      ج) القدرة على الطهي      د) المرونة واللطف
- ٤) اللون المخصص للملوك هو .....  
 أ) الأزرق      ب) القرمزي      ج) الأرجواني      د) الأحمر
- ٥) الخطوة الأولى في كتابة المشهد المسرحي هي .....  
 أ) اختيار الشخصيات      ب) تحديد المشكلة      ج) كتابة الحوار      د) وضع الخاتمة
- ٦) يُعتبر ..... أحد مميزات السياحة البيئية.  
 أ) دعم الاقتصاد      ب) تدمير البيئة      ج) زيادة التلوث      د) استنزاف الموارد
- ٧) المجموعتان الرئيسيتان للأخشاب هما .....  
 أ) داكنة وفاتحة      ب) قوية وضعيفة      ج) صلبة وليّنة      د) طبيعية وصناعية
- ٨) المشروع الذي بدأت الحكومة المصرية فيه لزيادة الأراضي الزراعية هو .....  
 أ) الدلتا الجديدة      ب) الأكوابونيكس      ج) الصوبة الزراعية      د) استصلاح الصحراء
- ٩) طريقة الريّ التي تستخدم زجاجات بلاستيكية مثقبة هي .....  
 أ) الريّ بالغمر      ب) الريّ بالرش      ج) الريّ بالرشاشات      د) الريّ بالتنقيط
- ١٠) أحد المنتجات التي يمكن أن يصنعها النجار .....  
 أ) الأدوات الزجاجية      ب) الأثاث والأبواب      ج) الأجهزة الإلكترونية      د) المجوهرات والحلي
- ١١) أهم ميزة لبنك المعرفة المصري هي أنه .....  
 أ) رخيص الثمن      ب) للمعلمين فقط      ج) مجاني للجميع      د) غالي الثمن
- ١٢) المخلفات التي تُستخدم في صناعة السماد العضوي هي .....  
 أ) البلاستيك      ب) قشور الخضراوات      ج) الزجاج والخشب      د) الفحم
- ١٣) التقنية التي تساعد علماء الآثار على الرؤية تحت سطح الأرض هي .....  
 أ) البرمجة      ب) التحليل الكيميائي      ج) الاستشعار عن بُعد      د) التحليل الجغرافي
- ١٤) أحد أساليب تطوير مهارات حل المشكلات .....  
 أ) الانفعال على الآخرين      ب) تقسيم المشكلة      ج) انتظار الحل      د) تجاهل الآخرين
- ١٥) يحق للتلاميذ التعلّم في بيئة .....  
 أ) آمنة      ب) تنافسية      ج) مغلقة      د) مفتوحة



## الاختبار ٣

### اختر الإجابة الصحيحة ممّا يلي:

- ١ وضع الأكياس البلاستيكية فوق التربة أثناء صناعة السماد يساعد على .....  
 أ تقليل الحشرات      ب تقليل التهوية      ج تصريف المياه      د الاحتفاظ بالرطوبة
- ٢ تتسبب السياحة ..... في تدمير الموطن البيئي.  
 أ الترفيهية      ب المسئولة      ج غير المسئولة      د العلاجية
- ٣ أحد حقوق التلاميذ داخل المدرسة هو .....  
 أ التعلّم      ب فرض العقوبات      ج تحمّل الأعباء      د اتخاذ القرارات
- ٤ الغرض من استخدام ورق الصنفرة أو الفأرة في النجارة هو .....  
 أ الثقب      ب تنعيم الأسطح      ج الطلاء      د قياس الأبعاد
- ٥ قام د. فاروق الباز بعمل أبحاث حول استخدام تكنولوجيا الفضاء في مجال .....  
 أ علم الآثار      ب الطب      ج الفيزياء      د علم البحار
- ٦ الخطوة الأخيرة في عملية البحث هي .....  
 أ تحديد الموضوع      ب جمع المعلومات      ج توثيق المعلومات      د قراءة المصادر
- ٧ تم استخدام القواقع البحرية لصنع اللون .....  
 أ الأرجواني      ب الأصفر      ج القرمزي      د الأحمر
- ٨ الخطة ..... تساعد على إنجاز جميع المهام دون أن تنسى أي خطوة ولا تستغرق وقتاً.  
 أ الطردية      ب العكسية      ج الضعيفة      د السلبية
- ٩ دور الزائرة الصحيّة في المدرسة هو .....  
 أ التنظيف      ب التدريس      ج رعاية المرضى      د الاستقبال
- ١٠ أبرز الحرف اليدوية التي تشتهر بها مصر .....  
 أ صناعة المعادن      ب صناعة الملابس      ج صيد الأسماك      د صناعة السجاد
- ١١ يتميّز الخشب الإفريقي الأسود بـ .....  
 أ سهولة نحته      ب لونه الفاتح      ج صعوبة التعامل معه.      د رائحته المميّزة
- ١٢ قميصك أصبح صغيراً، ولكنه في حالة جيدة، قمت بإعطائه لأخيك، يُعدُّ هذا إعادة ..... الملابس.  
 أ بيع      ب شراء      ج تدوير      د تصنيع
- ١٣ عند وصول السائح إلى الفندق، المسئول عن تسجيل إقامته هو .....  
 أ عامل الخدمة      ب موظف الفندق      ج مدير الفندق      د المرشد السياحي
- ١٤ الغرض من وضع السماد هو .....  
 أ زيادة خصوبة التربة      ب إزالة الحشائش      ج تنقية الهواء      د الحصاد
- ١٥ نظام يجمع بين الزراعة المائية وتربية الأسماك .....  
 أ الريّ بالتنقيط      ب الأكوابونيكس      ج الزراعة التقليدية      د الريّ بالرش





- ١ أحد المصادر الرئيسية للصبغة الحمراء في مصر القديمة .....  
 أ جذور نبات الفوة      ب فواكه العنب      ج أوراق الشجر      د رمال الصحراء
- ٢ الهدف من استخدام مهارات التفاوض .....  
 أ فرض السيطرة      ب الوصول لاتفاق      ج زيادة التوتر      د تجنب الحوار
- ٣ نظام ريّ يُستخدم في الصحراء ويوفّر كمّية كبيرة من المياه .....  
 أ الريّ بالتنقيط      ب الريّ بالغمر      ج الريّ بالرش      د الريّ اليدوي
- ٤ حصل د. مصطفى السيد على وسام ..... من الطبقة الأولى في مصر.  
 أ الشرف      ب العلوم والفنون      ج الريادة والتميز      د الجمهورية
- ٥ القواعد المدرسية تحدد .....  
 أ أنواع الأنشطة      ب وسائل النقل      ج جدول الحصص      د المسموح والممنوع
- ٦ إحدى فوائد خشب الأرز .....  
 أ صعوبة نحته      ب مقاومته للتعفن      ج لونه شديد السواد      د حُببياته الكبيرة
- ٧ أسّس د. فاروق الباز مركز دراسات ..... في العاصمة الأمريكية واشنطن.  
 أ علوم البحار      ب الأرض والكواكب      ج علوم البيئة      د هندسة الفضاء
- ٨ تنظيم الغرف وتزويدها بأدوات النظافة مهمّة موظف .....  
 أ خدمة الغرف      ب شبّاك التذاكر      ج عامل الخدمة      د مدير الفندق
- ٩ البيتموس سماد عضوي يتكوّن من الأعشاب البحرية و .....  
 أ المخلفات      ب الأملاح      ج الكيماويات      د الطحالب
- ١٠ المَحْمِيّة تقوم بحماية الحياة البرية من .....  
 أ التلوّث      ب التصحّر      ج الانقراض      د تغيير المناخ
- ١١ الأنشطة للأصفيّة تهدف إلى ..... التلاميذ.  
 أ تطوير مهارات      ب تضييع وقت      ج ترفيه      د زيادة واجبات
- ١٢ نوع السماد الناتج عن قشور الخضراوات والفاكهة هو .....  
 أ السماد الكيماوي      ب السماد العضوي      ج السماد المعدني      د السماد الطبيعي
- ١٣ يستخدم النجّارون ..... لحماية الأعمال الخشبية.  
 أ الصبغات والورنيش      ب المواد الكيماوية      ج الزيوت النباتية      د البلاستيك
- ١٤ يجب أن يتضمّن ..... تخصيص وقت للترفيه عن النفس.  
 أ تنظيم الوقت      ب إعداد الميزانية      ج الخطة العكسية      د المسؤوليات الاجتماعية
- ١٥ يمكن العثور على كتاب في المكتبة عن طريق استخدام .....  
 أ الإنترنت      ب الجرائد      ج الإعلانات التلفزيونية      د فهرس المكتبة



## الاختبار ٥

### اختر الإجابة الصحيحة ممّا يلي:

- ١ إحدى فوائد زراعة حديقة المدرسة هي .....  
 أ تحسين المياه      ب تنقية الهواء      ج تحسين السماد      د زيادة الحشائش
- ٢ صيانة الأثاث المدرسي مهمّة .....  
 أ التلميذ      ب ولي الأمر      ج المعلم      د المدرّسة
- ٣ الخشب الذي كان يُستخدم في مصر القديمة لصناعة العربات والأقواس .....  
 أ خشب القيّب      ب خشب الصنوبر      ج خشب الأرز      د الخشب الإفريقي الأسود
- ٤ المنطقة التي يتم فيها حماية النباتات، والحيوانات، والمعالم الطبيعية هي .....  
 أ الملعب      ب المزرعة      ج المحميّة      د المطار
- ٥ يجب تطبيق ما يتعلّمه التلاميذ بشكل .....  
 أ مؤقت      ب نظري      ج عشوائي      د فعّال
- ٦ وضع قائمة بالحلول لاختيار حل مناسب من طرق حل .....  
 أ الأسئلة      ب المشكلات      ج الألغاز      د الاختبارات
- ٧ استخدام قصاصات الورق لكتابة الملاحظات نوع من أنواع .....  
 أ الإهمال      ب الأدّخار      ج الحدّ من الاستخدام      د إعادة التدوير
- ٨ الرسم على الزجاج من الحرّف .....  
 أ الورقية      ب المعدنية      ج اليدوية      د الخشبية
- ٩ حدّد د. فاروق الباز أفضل موقع لهبوط بعثة «أبولو ١١» على .....  
 أ الصحراء الكبرى      ب سطح المريخ      ج قاع المحيط      د سطح القمر
- ١٠ تساعد مهارات الحوار على تأكيد وجهة نظرك من خلال .....  
 أ تجاهل الآراء الأخرى      ب تقديم الأدلة      ج تغيير رأيك      د الصمت
- ١١ سلامة جميع السائحين وتلبية طلباتهم أثناء الرحلة مهمّة .....  
 أ عامل الاستقبال      ب المرشد السياحي      ج طاقم الطائرة      د عامل النظافة
- ١٢ اللون الأرجواني عند المصريين القدماء كان يُصنّع من .....  
 أ زهور النيل      ب القواقع البحرية      ج نبات الفوّة      د مواد كيميائية
- ١٣ عندما لا يكون الطقس مناسباً للزراعة يمكن الزراعة في .....  
 أ الصوب      ب الأواني الفخارية      ج الأرض مباشرة      د الزجاجات
- ١٤ يتأكّد من اتباع قواعد العمل في المدرسة .....  
 أ أمين المكتبة      ب المعلم      ج المدير      د موظف الاستقبال
- ١٥ يتشابه السماد العضوي مع ..... من حيث الخصائص.  
 أ السماد الحيواني      ب أوراق النباتات      ج البيتموس      د المبيدات الحشرية



# سلاح التلميز

منذ عام ١٩٦٠



## المهارات المهنية

2024-2025

الصف الخامس الابتدائي  
الفصل الدراسي الأول

إجابات نماذج اختبارات  
الفصل الدراسي الأول

5

## ١ إجابة الاختبار

- ١ رائحته الذكية
- ٢ مصابيح الفلورسنت
- ٣ استئصالها من الجذور
- ٤ الاحتفاظ بالماء
- ٥ معلومات دقيقة
- ٦ إذن المسؤولين
- ٧ التواصل
- ٨ نبتة النيل
- ٩ سائق سيارة الأجرة
- ١٠ الالتزام بمسارات السير
- ١١ عناية
- ١٢ نانو الذهب
- ١٣ موظف الاستقبال
- ١٤ الإزميل
- ١٥ أفضل للبيئة

## ٢ إجابة الاختبار

- ١ العناية بالكتب
- ٢ ترتيب
- ٣ المرونة واللطف
- ٤ الأرجواني
- ٥ تحديد المشكلة
- ٦ دعم الاقتصاد المحلي
- ٧ صلابة وليئة
- ٨ الدلتا الجديدة
- ٩ الري بالتنقيط
- ١٠ الأثاث والأبواب
- ١١ مجاني للجميع
- ١٢ قشور الخضراوات
- ١٣ الاستشعار عن بُعد
- ١٤ تقسيم المشكلة
- ١٥ آمنة

## ٣ إجابة الاختبار

- ١ الاحتفاظ بالرطوبة
- ٢ غير المسئولة
- ٣ التعلم
- ٤ تنعيم الأسطح
- ٥ علم الآثار
- ٦ توثيق المعلومات
- ٧ الأرجواني
- ٨ العكسية
- ٩ رعاية المرضى
- ١٠ صناعة السجاد
- ١١ صعوبة التعامل معه
- ١٢ تدوير
- ١٣ موظف الفندق
- ١٤ زيادة خصوبة التربة
- ١٥ الأكوابونيكس



## إجابة الاختبار ٤

- ١ جذور نبات الفوّة
- ٢ الوصول لاتفاق
- ٣ الريّ بالتنقيط
- ٤ الجمهورية
- ٥ المسموح والممنوع
- ٦ مقاومته للتعفن
- ٧ الأرض والكواكب
- ٨ خدمة الغُرف
- ٩ الطحالب
- ١٠ الانقراض
- ١١ تطوير مهارات
- ١٢ السماد العضوي
- ١٣ الصبغات والورنيش
- ١٤ تنظيم الوقت
- ١٥ فهرس المكتبة

## إجابة الاختبار ٥

- ١ تنقية الهواء
- ٢ المَدْرَسَة
- ٣ خشب القَيْقَب.
- ٤ المحميّة
- ٥ فَعَال
- ٦ المشكلات
- ٧ إعادة التدوير
- ٨ اليدوية
- ٩ سطح القمر
- ١٠ تقديم الأدلة
- ١١ طاقم الطائرة
- ١٢ القواقع البحرية
- ١٣ الصُّوب
- ١٤ المدير
- ١٥ البيتموس

