

سلاح التلميز

منذ عام ١٩٦٠



اللغة
العربية

2024-2025

الصف الخامس الابتدائي
الفصل الدراسي الأول

اختبارات شهر أكتوبر

5

الاختبار ١

(فقرة الاستماع صفحة ١٢)

السؤال الأول (الاستماع) استمع، ثم أجب:

أ ضع علامة (✓) أو (X) أمام ما يلي:

- ١) نجح الفريق في استخدام الأدوات المحيطة للفوز في المسابقة. ()
- ٢) كان شرط الفوز في المسابقة هو بناء السور. ()
- ب اختر: صنع الفريق من أغصان الأشجار
(كرسيًا - طاولةً - سورًا - سلمًا)

السؤال الثاني (التعبير الكتابي) أكمل الاستقصاء التالي:

«تستعدُّ إدارة النادي للقيام بعددٍ من الأنشطة الصيفيّة للسادة أعضاء النادي؛ لذلك نرجو منكم المشاركة في
لتحديد الأنشطة المفضّلة لديكم».

أبداً	أحياناً	دائماً	الأسئلة	
			١
			٢
			٣
			٤

شكراً على التي سوف تُساعدنا على

السؤال الثالث (النص الأدبي) اقرأ الفقرة التالية:

«نحن ثلاثة أصدقاء، ولكل منا موهبته التي فطره الله (تعالى) عليها، أحمد يحب التمثيل، وماجد يحب الغناء، وأنا أحب كتابة القصص، واليوم سنتشارك في عمل يجمعنا على مسرح المدرسة؛ فقد كتبت مسرحية عن المعلم وتبجيله في العصر الفرعوني، وسيمثل أحمد دور المعلم، وسيغنّي ماجد أغنية النهاية».

أ استخرج من الفقرة معنى ما يلي:

- ١) تعظيمه:
٢) خلقه:
- ب ضع علامة (✓) أو (X) أمام ما يلي:
- ١) اشترك الأصدقاء في موهبة واحدة. ()
- ٢) كتب ماجد المسرحية بمساعدة أصدقائه. ()
- ج أجب: كيف تكاملت المواهب كما فهمت من الفقرة؟



السؤال الرابع (النص المعلوماتي) اقرأ الفقرة التالية:

«فطر الله الكون، وجعل الاختلاف في كل شيء، فانظر مثلاً إلى النباتات ستجد نباتات تنمو في الصيف، وأخرى في الشتاء، ومنها ما يثمر، ومنها ما يقتصر على الزينة، وأضف لذلك اختلافها في الحجم والألوان، ونحن أيضاً فطرنا الله مختلفين، وهدانا إلى التكامل فيما بيننا؛ لأنه سبيل النجاح».

أ استخرج من الفقرة ما يلي:

- ١) معنى (أرشدنا):
٢) مفرد (سُبل):
ب) ضع علامة (✓) أو (X) أمام العبارة التالية: الاختلاف يقتصر على النبات فقط. ()
ج) أجب: في أي شيء يتشابه البشر والنباتات؟

السؤال الخامس (النص الشعري) اقرأ الأبيات التالية، ثم أجب:

وَأَجَلٌ بِلَادٍ فِي عَيْنِي وَطَنْ يَعْلو وَطَنْ يَبْنِي
بِالْحُبِّ أَضَاءَ لَنَا أَرْضًا هَيَّا مُدُوا كَفَّ الْعَوْنِ
قَدْ نَشَأَ أَبْطَالًا وَفَوَا وَرَجَالًا قَدْ حَفِظُوا أَمْنِي

- أ) اختر الإجابة الصحيحة مما بين القوسين: معنى (نَشَأَ):
ب) أكمل: أعظم البلاد في عين الشاعر
ج) هات من الأبيات: تعبيراً مجازياً:

السؤال السادس (القواعد النحوية) اقرأ الفقرة، ثم أجب:

«الاختلاف ضروري، فما يعجبني ربما لا يعجبك، والذي أستطيع فعله ربما لا تعرفه أنت، هكذا خلق الله البشر».

أ استخرج من الفقرة ما يلي:

- ١) اسماً موصولاً:
٢) مفعولاً به:
ب) اختر الإجابة الصحيحة مما بين القوسين:
١) كلمة (ضروري): خبر علامة رفعه
٢) يعرف أهمية الاختلاف.
ج) حوّل الجملة للمثنى: هذا هو التلميذ الذي في الحفل

السؤال السابع (الخط العربي) اكتب بخط النسخ:

خطوات النجاح تبدأ باكتشاف المهارات.

السؤال الثامن (الإملاء) صوب الأخطاء الإملائية الملونة في الجمل الآتية:

- ١) اشترى أحمد قبعة بيضاء.
٢) ذلك النجم بعيد.
٣) مصر بلد الأمن والأمان؟



الاختبار ٢

(فقرة الاستماع صفحة ١٢)

السؤال الأول (الاستماع) استمع، ثم أجب:

أ ضع علامة (✓) أو (X) أمام ما يلي:

١ استفاد الابن من خطأ التجربة الأولى.

٢ نصح الأب ابنه بعدم تربية الأسماك.

()

()

(السماك المشوي - نباتات الزينة - أسماك الزينة - الطيور)

ب اختر: سيفتح الابن محلًا لبيع

السؤال الثاني (التعبير الكتابي) تخيل أن اسمك (نبيل)، اكتب سيرتك الذاتية مستعينًا بما يلي:

• الاسم: نبيل سامي.

• مكان الميلاد: الإسكندرية.

• الدراسة: المرحلة الابتدائية.

• الحلم: أن ينجح بتفوق.

• يوم صعب: انكسرت قدمه قبل الامتحان.

السؤال الثالث (النص الأدبي) اقرأ الفقرة التالية:

«حاولت أن أكتب شعرًا، ثم عرضت ما كتبت على أمي، فأعجبت به من أول وهلة، وقالت: ينبغي ألا تقتصر على ما لديك من موهبة يا مازن، وأنصحك أن تستشير معلمك؛ ليساعدك على تنميتها. قرأ المعلم ما كتبت، ونصحتني بنصائح مفيدة، وفي ذلك اليوم اكتشفت أن لديَّ مهارة في كتابة الشعر».

أ استخرج من الفقرة معنى ما يلي:

١ نظرة:

٢ تكتفي:

ب ضع علامة (✓) أو (X) أمام ما يلي:

١ مازن لديه موهبة كتابة الشعر.

٢ اكتفى مازن بموهبته ولم يطورها.

()

()

ج أجب: ماذا تعلمت من قصة مازن؟

السؤال الرابع (النص المعلوماتي) اقرأ الفقرة التالية:

«الاختلاف بين الناس هو سنة الحياة التي فطرنا الله عليها، وهو ضرورة من ضرورات الحياة؛ ذلك أن هذا الاختلاف هو نوع من أنواع التكامل، ولا ينكر عاقل أن الاختلاف بين البشر هو السبيل المبين لإعمار الأرض، ولا يقتصر الاختلاف بين الناس على المظاهر الشكلية، بل يتجاوز الأمر ذلك للمظاهر الفكرية والثقافية وغيرها، ولكل مظهر من هذه المظاهر في الاختلاف دور في حياة البشر».



أ استخرج من الفقرة مرادف ما يلي:

١ خلقنا: ٢ الطريق: ٣ الواضح:

ب ضع علامة (✓) أو (X) أمام العبارة التالية: الاختلاف بين البشر يضر الناس ويسبب مشكلات لهم. ()

ج أجب: ما أهمية الاختلاف بين البشر؟

السؤال الخامس (النص الشعري) اقرأ الأبيات التالية، ثم أجب:

فَطِرَ الْإِنْسَانُ عَلَى حُبِّ لِبِلَادٍ تَسْكُنُ فِي الْقَلْبِ
النَّيْلِ الْعَذْبِ بِهَا يَجْرِي يَتَسَامَرُ مَعَنَا عَنْ قُرْبِ
سَاعَيْشُ بِأَرْضِي مُعْتَرًّا فَاحْفَظْ لِي مِصْرًا يَا رَبِّ

أ اختر: معنى (يتسامر): ليلًا. (يتحرك - يتحدث - يمشي - يفرح)

ب أكمل: شبه الشاعر النيل بـ

ج هات من الأبيات: تعبيرًا مجازيًا:

السؤال السادس (القواعد النحوية) اقرأ الفقرة، ثم أجب:

«لكل إنسان مهارة يكتشفها، ويعمل على تنميتها وتطويرها، فالذي لا يطور مهارته تضعف وتختفي».

أ استخرج من الفقرة ما يلي:

١ اسمًا موصولًا: ٢ فعلًا مضارعًا:

ب اختر الإجابة الصحيحة مما بين القوسين:

١ كلمة (إنسان): اسم علامته (التنوين - التاء المربوطة - يبدأ بـ الـ)

٢ تضعف إذا لم نطورها. (المهارات - المهارات - المهارات)

ج حوّل الجملة للجمع، وغير ما يلزم: هاتان مهارتان علينا تنميتها.

السؤال السابع (الخط العربي) اكتب بخط النسخ:

سواعدنا تبني بلادنا .

السؤال الثامن (الإملاء) صوب الأخطاء الإملائية الملونة في الجمل الآتية:

١ تسير السلحفاة ببطئ. ٢ مرحبن بكم. ٣ هل سافرت! █



الاختبار ٣

(فقرة الاستماع صفحة ١٢)

السؤال الأول (الاستماع) استمع، ثم أجب:

أ ضع علامة (✓) أو (X) أمام ما يلي:

- ١) النص الذي استمعنا إليه جزء من مشهد مسرحي. ()
- ٢) كثرة التساؤلات لا تفيد. ()
- ب اختر: اعترف أينشتاين أنه لم تكن لديه (ثروة - كتب - موهبة - أسرة)

السؤال الثاني (التعبير الكتابي) ساعد صديقك في كتابة سيرته الذاتية مستعيناً بالجدول التالي:

الاسم وتاريخ الميلاد	معلومات عن الأسرة	معلومات عن الدراسة والهوية	مواقف لا تنسى	حلم يريد تحقيقه
خالد ٢٠١٤م	٤ أفراد	الصف: الخامس المواد المفضلة: الرياضيات الهواية: السباحة	الحصول على المركز الأول في بطولة الجمهورية	تمثيل مصري بطولة العالم

السؤال الثالث (النص الأدبي) اقرأ الفقرة التالية:

«جلستُ أتسامرُ مع أبي، بعد أن فرغَ من مكالمَةِ هاتفيةٍ كانَ ختامُها: أرسِلْ لي سيرتَكَ الذاتيةَ. فسألتُ أبي: عن سبب طلبه، فبيّنَ السببَ قائلاً: أريدُ التأكدُ من أن مهارته تُناسبُ الوظيفةَ. قلتُ: ولماذا تختلِفُ مهاراتُ الناسِ؟ ردَّ أبي: لقد فَطَرَ اللهُ البشرَ مُختلِفِينَ في مهاراتهم؛ ليتمَّ التكاملُ بيننا جميعاً.»

أ اختر المعنى المناسب للكلمات الملوّنة:

- ١) أتسامرُ: (أقرأ - أتحدّثُ ليلًا - أعملُ - أفكّرُ)
- ٢) بيّنَ: (أرشد - وضّح - ذكر - قال)

ب ضع علامة (✓) أو (X) أمام ما يلي:

- ١) يعملُ الابنُ مديرًا في إحدى الشركات. ()
- ٢) الهدفُ من السيرة الذاتية معرفةُ مهاراتِ الأشخاص. ()

ج أجب: ما أهميّة الاختلافِ بين الناسِ؟

السؤال الرابع (النص المعلوماتي) اقرأ الفقرة التالية:

«لديك مهام كثيرة، وأنت متأرجح بين أن تفعل هذا أو تترك هذا، والوقت لا يكفي لإتمامها. الحل بسيط، رتب هذه المهام من حيث الأولوية، وحدد المهام التي لا بد أن تقوم بها بنفسك، والمهام التي يمكن لغيرك أن يقوم بها بدلاً منك، إذا فعلت هذا فستتجاوز أزمته، وسيصبح وقتك كافيًا.»



أ اختر المعنى المناسب للكلمة الملونة مما بين القوسين:

١ متأرجح: (خائف - رافض - متردد - باحث)

٢ تتجاوز: (تخطى - تواصل - تؤجل - تدرك)

ب ضع علامة (✓) أو (X) أمام العبارة التالية: في حياتنا أشياء يمكن لغيرنا القيام بها بدلاً منا. ()

ج أجب: صديقك يشكو من عدم كفاية الوقت في أداء مهامه اليومية، بماذا تنصحه؟

السؤال الخامس (النص الشعري) اقرأ الأبيات التالية، ثم أجب:

تَسَامَرُ فِي حُبِّ الْعُمْرِ حُبُّ لِبَلَادٍ مِنْ دُرِّ
لِقُرُونٍ قَدْ صَنَعَتْ مَجْدًا بِلِبَادِي أَشْعُرُ بِالْفَخْرِ
دَعْ كُلَّ كَلَامٍ لَا يُجِدِي فَبِلَادِي أَجَلُّ لَوْ تَدْرِي

أ اختر: معنى (دع): (اذكر - افهم - اسمع - اترك)

ب أكمل: الحب الذي يتحدث عنه الشاعر هو حب

ج هات من الأبيات: تعبيرًا مجازيًا:

السؤال السادس (القواعد النحوية) اقرأ الفقرة، ثم أجب:

«مصر بلد الحضارة، نشأت على أرضها أقدم الحضارات، يأتي إليها السائحون من كل أنحاء العالم؛ ليشاهدوا الآثار، فيستقبلهم المصريون بالحب والترحاب، ويقضي السائحون أوقاتًا ممتعة، ويعودون إلى أوطانهم وقد ملئت قلوبهم بحب مصر».

أ استخرج من الفقرة ما يلي:

١ مبتدأ: ■ علامة رفعه:

٢ فاعلاً: ■ علامة رفعه:

ب أعرِب الكلمة الملوّنة في الفقرة. (بلد):

السؤال السابع (الخط العربي) اكتب بخط النسخ:

الثقة بالنفس المفتاح الأول للنجاح.

السؤال الثامن (الإملاء) اختر الإجابة الصحيحة مما بين القوسين:

١ قَالَ الْأَبُ ■ فَطَرْنَا اللَّهُ مُخْتَلِفِينَ. (- : - ،)

٢ رَسَمْتُ وَجْهَ صَدِيقِي أُجِبُّهُ. (الذي - اللاذي - الذي)

٣ شَجَرَةٌ طَوِيلَةٌ. (هاذه - هذه - هذة)



الاختبار ٤

(فقرة الاستماع صفحة ١٢)

السؤال الأول (الاستماع) استمع، ثم أجب:

أ ضع علامة (✓) أو (X) أمام ما يلي:

١ الفشل كان سبب نجاح حازم.

٢ بطل القصة كان ضعيفاً في مادّة العلوم.

()

()

ب اختر: من أسباب ضعف حازم (عدم القيام بالتدريبات - الغياب - المرض - الانشغال بالألعاب)

السؤال الثاني (التعبير الكتابي) اكتب استقصاء مستخدماً المعلومات التالية:

تخيل نفسك صاحب مطعم، وصمم استقصاء للزبائن؛ بهدف تحديد الوجبات الغذائية المفضلة لديهم متناولاً العناصر الآتية: (العنوان - المقدمة - الأسئلة الشخصية - أسئلة الاستقصاء - الخاتمة)، مع مراعاة ما يلي: (تسلسل الفكر - وضوح الأسئلة - الكتابة الصحيحة - جمال الخط - علامات الترقيم).

ابدأ	أحياناً	دائماً	الأسئلة
		
		
		

السؤال الثالث (النص الأدبي) اقرأ الفقرة التالية:

« باسم يحب أن يدوّن مهامه ولا يدع أسبوعاً يمر دون تخطيط، فاشترى له والده دفترًا جديدًا، فتح باسم أول صفحة، وبدأ يخطط للأسبوع المقبل، ورتب أولوياته كالتالي: الاستعداد للاختبار، التدريب على المسرحية، قراءة قصة حياة أحمد زويل، تنظيف حديقة المنزل، وفي النهاية رسم باسم جدولًا وكتب به: مهام أتممتها، ومهام لم أستطع إتمامها، وفي الخانة الأخيرة: الصعوبات التي واجهتني.»

أ اختر الإجابة الصحيحة مما بين القوسين:

١ مُرَادِف (يدع):

٢ مفرد (مهام):

(يترك - ينهي - يبدأ - يجتاز)

(هامة - همّة - مهمة - وهم)

ب ضع علامة (✓) أو (X) أمام ما يلي:

()

()

١ تنظيف حديقة المنزل بالنسبة لبا اسم شيء غير عاجل.

٢ باسم لا يستطيع تنظيم وقته جيدًا.

ج أجب: ما أهم عمل لدى باسم؟ وما أقل الأعمال أهمية؟



السؤال الرابع (النص المعلوماتي) اقرأ الفقرة التالية:

« أهم أسباب النجاح في رأيي هو ترتيب الأولويات من الأهم إلى المهم إلى الأقل أهمية، ولكي تستطيع ترتيبها صمّم جدولاً لهذه المهام، تبيّن فيه التوقيت المناسب لأدائها، والمدة التي تحتاجها كل مهمة، وما ينبغي أن تقوم به بنفسك، وما يمكن لغيرك القيام به، إذا فعلت ذلك فستحقق النجاح.»

أ اختر الإجابة الصحيحة مما بين القوسين:

١ معنى (تبيّن): (تؤكد - توضح - تكتشف - تحلل) ٢ مفرد (أولويات): (ولاية - أولوية - أولية - ولاء)

ب ضع علامة (✓) أو (X) أمام العبارة التالية: من الضروري أن نبدأ بالأشياء الأقل أهمية. ()

ج أجب: كيف يحقق الإنسان النجاح في حياته؟

السؤال الخامس (النص الشعري) اقرأ الأبيات التالية، ثم أجب:

قَالُوا: الْمُعَلِّمُ، قُلْتُ: أَفْضَلُ مُرْسَلٍ
هُوَ رَائِدُ الْعِلْمِ الصَّحِيحِ الْأُمْتَلِ
هُوَ رَائِدُ التَّعْلِيمِ مُنْذُ تَنْزَلَتْ
رَبِّي وَعَلَّمَ أُمَّةً أُمِّيَّةً
حَتَّى هَذَاهَا لِلْمَقَامِ الْأَفْضَلِ

أ اختر الإجابة الصحيحة مما بين القوسين:

١ مرادف (رَبِّي): (أنشأ - عظم - بجل - ترك) ٢ مضاد (هداها): (هدمها - أضلّها - حقرها - أذلّها)

٣ «تَنْزَلَتْ آيَاتٌ ﴿أَقْرَأُ﴾ فِي الْكِتَابِ الْمُنَزَّلِ». تعبير (حقيقي - مجازي)

ب أجب: بمّ وصف الشاعر المعلم في البيت الثاني؟

السؤال السادس (القواعد النحوية) اقرأ الفقرة، ثم أجب:

«يربي المعلمون جيل المستقبل، فالعلم والخلق ضروريان لبناء الأجيال.»

أ استخرج من الفقرة ما يلي:

١ فاعلاً: ٢ علامة رفعه: ٣ فاعلاً: ٤ علامة رفعه: ٥ خبراً مثنى: ٦ علامة رفعه:

ب اختر الإجابة الصحيحة مما بين القوسين:

١ كلمة (جيل): (فاعل - مفعول به - خبر) ٢ سأعمل بالنصيحة (الذي - الذين - التي) قالها المعلم.

ج حوّل الجملة للمؤنث، وغير ما يلزم: «أنت معلم ناجح».

السؤال السابع (الخط العربي) اكتب بخط النسخ:

اختلافنا سر تمييزنا .

السؤال الثامن (الإملاء) صوب الأخطاء الإملائية الملونة في الجمل الآتية:

١ هذا الكتاب مفيد يا صديقي. ٢ السحب تملأ السماء.

٣ أستمتع بالدفء أمام المدفأة.



اختبار لطلاب الأزهر 0

السؤال الأول (التعبير) أكمل كتابة الاستقصاء التالي:

« أشكرك على المشاركة في الاستقصاء الخاص بالرحلة المدرسية التي نريد تجهيزها ». ما اسمك؟ ، كم عمرك؟ ، ما نوعك؟ (ذكر - أنثى)

الأسئلة	دائمًا	أحيانًا	ابدأ
هل تحب الذهاب إلى شاطئ البحر؟			
هل تريد رؤية الأماكن الأثرية؟			
هل تحب التجول في الأحياء القديمة؟			

نشكركم على وقتك ، وتأكد أن إجاباتك ستساعد في اختيار رحلات مناسبة وممتعة .

أجب:

١ أقسام الاستقصاء أربعة هي:

٢ المقدمة تتكون من

٣ الخاتمة تحتوي على

السؤال الثاني (القراءة) اقرأ الفقرة التالية من قصة «اكتشف مهاراتك» ثم أجب:

« في الصباح طلب المعلم أن نجتمع ، وأخبرنا بأن كلا منا سيقضي يومه في ممارسة مهاراته التي يحبها ، وأعطانا ورقة بها عشر مهارات ، وطلب من كل واحد أن يحدد المهارة التي يفضل أن يقضي فيها يومه . أخذت الورقة وقد كنت متأرجح الفكر ، فلا أعرف إن كنت أملك أي مهارة من هذه المهارات أم لا ، على عكس أصدقائي ؛ فكل منهم اختار مهارته المفضلة من أول وهلة . »

أ اختر الإجابة الصحيحة مما بين القوسين:

١ معنى (متأرجح): (بطيء - عميق - متردد - واعي)

٢ حدث هذا الحدث في أثناء (الحصة الدراسية - رحلة تخييم - الاستراحة اليومية - الحفل السنوي)

٣ المتحدث لا يعرف (مهاراته - فصله - خيمته - دوره)

ب ضع علامة (✓) أو (X) أمام ما يلي:

١ اجتمع التلاميذ مع المعلم في المساء . ()

٢ سيقضي كل تلميذ يومه في دراسة المادة المفضلة . ()

٣ الأصدقاء حددوا مهاراتهم المفضلة بسرعة . ()



السؤال الثالث

(النص الشعري) اقرأ الأبيات التالية من نص «رسالة معلم»، ثم أجب:

قَمَ لِلْمُعَلِّمِ وَفِيهِ التَّبَجِيلَا كَادَ الْمُعَلِّمُ أَنْ يَكُونَ رَسُولًا
 أَعْلِمْتَ أَشْرَفَ أَوْ أَجَلَّ مِنَ الَّذِي يَبْنِي وَيُنْشِئُ أَنْفُسًا وَعُقُولًا؟
 سُبْحَانَكَ اللَّهُمَّ خَيْرَ مُعَلِّمٍ عَلَّمْتَ بِالْقَلَمِ الْقُرُونَ الْأُولَى

أ أكمل ما يلي:

١) معنى (أجلّ): ٢) قائل البيت هو ■ غرض الأبيات:

ب) اذكر المعنى السياقي لكلمة (القرون) في الأسلوبين الآتيين:

١) في قول الشاعر «علمت بالقلم القرون الأولى»:

٢) في قولنا «قرون الغنم صلبة»:

ج) اذكر من النص ما يدل على:

١) الله (سبحانه) علم الأمم السابقة.

٢) مكانة المعلم تقترب من مكانة الرسول.

٣) أعظم المهن مهنة المعلم.

السؤال الرابع

(القواعد النحوية) اقرأ الفقرة، ثم أجب:

«انتهت المباراة، وتصافح اللاعبان، فاحترم الجماهير الروح الرياضية التي كانت بين اللاعبين، وارتفعت الأصوات بالهتاف تشجع اللاعبين، وفي الختام حمل الكأس لاعب الفريق الأخضر».

أ) استخراج من الفقرة ما يلي:

١) فاعلاً مفرداً: ■ علامة إعرابه: ٢) جمع تكسير: ■ علامة إعرابه:

ب) اختر الإجابة الصحيحة مما بين القوسين:

١) كلمة (اللاعبان): علامة رفعها (الألف - النون - الضمة)

٢) كلمة (الفريق): (اسم - فعل - حرف)

٣) «وفي الختام حمل الكأس لاعب الفريق الأخضر». الكلمة الملونة: (فعل - فاعل - مفعول به)

ج) أعرب:

١) الروح: ٢) الأصوات:

السؤال السابع

(الخط العربي) اكتب بخط النسخ:

العلم سبيل المؤمنين.

(فقرة الإملاء صفحة ١٢)

السؤال الثامن

(الإملاء) اكتب ما يملأ عليك:





فقرات الاستماع

الاختبار (١):



« شاركتُ مع فريقي في إحدى مسابقات الكشافة، وكان شرط الفوز هو أن يعبر كل أعضاء الفريق السور. جمعنا حجارة، ووضعنا بعضها فوق بعض، لكن فشلت المحاولة؛ فقد واجهتنا مشكلة النزول من فوق السور، فحاولنا مرة أخرى، فاقترح أحدنا أن نجمع أغصان الأشجار، وأن نربطها ونصنع منها سلمًا، ثم عبرنا وفاز فريقنا.»

الاختبار (٢):



« أذكر جيدًا حين اشتريتُ حوضًا به خمس سمكات ملونة لأول مرة، ووضعتُ لها طعامًا كثيرًا، فماتت السمكات. فجلستُ حزينًا، قال لي أبي: يا صغيري، هذه هي التجربة الأولى، أنصحك أن تقرأ جيدًا عن تربية الأسماك، ثم حاول مرة أخرى. وفعلًا نفذتُ نصيحة أبي، واليوم سأفتتح محلًا لأبيع فيه أسماك الزينة.»

الاختبار (٣):



« أعدّ التلاميذ مشهدًا مسرحيًا يتضمن حوارًا بين طفل يسأل العالم أينشتاين عدّة أسئلة، جاء فيه: الطفل: كيف أصبحتَ عالمًا كبيرًا؟ أينشتاين: في الحقيقة لم تكن لديّ موهبة، ولكنني كنتُ كثير التساؤل. الطفل: وما فائدة السؤال في رأيك؟ أينشتاين: السؤال هو بداية كل الاكتشافات والاختراعات.»

الاختبار (٤):



« الفشل أحيانًا يكون خطوة للنجاح؛ هذه العبارة تلخص قصة نجاحي، أنا حازم تلميذ بالصف الخامس، كنتُ أحصل على درجة متوسطة في اختبار الرياضيات كل شهر، وكنتُ أقول لِنفسي: لا بأس أنا متوسط، ولكنني في النهاية ناجح، ولم ألتفت إلى نقاط ضعفي، ولم تكن لديّ الإرادة والعزيمة، وذات مرة حصلتُ على تقدير ضعيف، فقررتُ أن أستشير مُعلمي ووالديّ؛ لأعرف سبب ضعفي، وأدركتُ أن السبب هو أنني لم أقم بالتدريبات؛ لذلك كنتُ أنسى كثيرًا، فبدأتُ أتدرب، حتى حصلتُ على أعلى تقدير.»

فقرة الإملاء

اختبار لطلاب الأزهر (٥):

« من يسأل عن سير نجاح الأمم، فالإجابة هي العلم والعمل؛ فبهما يصبح المستحيل ممكنًا، وكُتبت التاريخ مليئة بمئات النماذج التي نشأت على حبّ العلم والعمل؛ فحققت أحلامها، وصارت لنا مثلًا.»



سلاح التلميذ

منذ عام ١٩٦٠



اللغة
العربية

2024-2025

الصف الخامس الابتدائي
الفصل الدراسي الأول
إجابات اختبارات شهر أكتوبر

5

الاختبار ١

السؤال الأول:

- أ) ضع علامة (✓) أو (X): ١ (✓) ٢ (X)
ب) اختر: سُلماً.

السؤال الثالث:

- أ) استخرج: ١ تبجيله. ٢ فطره.
ب) ضع علامة (✓) أو (X): ١ (X) ٢ (X)
ج) أجب: كل تلميذ شارك في المسرحية بالموهبة التي يمتلكها.

السؤال الرابع:

- أ) استخرج: ١ هدايا. ٢ سبيل.
ب) ضع علامة (✓) أو (X): (X)
ج) أجب: يتشابه البشر والنبات بأن كلاً منهما فطره الله على الاختلاف، وهدى كلاً منهما إلى التكامل.

السؤال الخامس:

- أ) اختر: ربّي.
ب) أكمل: وطن يعلو وطن يبني
ج) هات من الأبيات: «بالحب أضاء لنا أرضاً».

السؤال السادس:

- أ) استخرج: ١ الذي. ٢ البشر.
ب) اختر: ١ الضمة. ٢ العاقل.
ج) حوّل: هذان هما التلميذان اللذان في الحفل.

السؤال الثامن:

- صوّب: ١ بيضاء ٢ ذلك ٣ .

الاختبار ٢

السؤال الأول:

- أ) ضع علامة (✓) أو (X): ١ (✓) ٢ (X)
ب) اختر: أسماك الزينة.

السؤال الثالث:

- أ) استخرج: ١ وهلة. ٢ تقتصر.
ب) ضع علامة (✓) أو (X): ١ (✓) ٢ (X)

السؤال الرابع:

- أ) استخرج: ١ فطرنا. ٢ السبيل. ٣ المبين.
ب) ضع علامة (✓) أو (X): (X)
ج) أجب: أهمية الاختلاف بين البشر تتضح في أنه نوع من أنواع التكامل، وأنه السبيل لإعمار الأرض.

السؤال الخامس:

- أ) اختر: يتحدث.
ب) أكمل: إنسان يتحدث معهم
ج) هات من الأبيات: «لبلاء تسكن في القلب».

السؤال السادس:

- أ) استخرج: ١ الذي. ٢ يكتشفها.
ب) اختر: ١ التنوين. ٢ المهارات.
ج) حوّل: هذه مهارات علينا تنميتها.

السؤال الثامن:

- صوّب: ١ ببطء ٢ مرحباً ٣ ؟

الاختبار ٣

السؤال الأول:

- أ) ضع علامة (✓) أو (X): ١ (✓) ٢ (X)
ب) اختر: موهبة.

السؤال الثالث:

- أ) اختر: ١ أتحدث ليلاً. ٢ وضح.
ب) ضع علامة (✓) أو (X): ١ (X) ٢ (✓)
ج) أجب: لأن اختلاف المهارات يساعد على التكامل بين الناس.

السؤال الرابع:

- أ) اختر: ١ متردد. ٢ تتخطى.
ب) ضع علامة (✓) أو (X): (✓)
ج) أجب: أنصح به بأن يرتب مهامه من حيث الأولوية، وأن يحدد المهام التي لا بد أن يقوم بها بنفسه، والمهام التي يمكن لغيره أن يقوم بها بدلاً منه.



السؤال الخامس:

- أ اختر: اترك.
- ب أكمل: بلاده.
- ج هات من الأبيات: «لُقُرُونٍ قَدْ صَنَعَتْ مَجْدًا».

السؤال السادس:

- أ استخراج:
- ب مصر. الضمة.
- ج أعرب: خبر مرفوع، وعلامة رفعه الضمة.

السؤال الثامن:

- أ اختر: ١:
- ب الذي ٢:
- ج هذه ٣:

الاختبار ٤

السؤال الأول:

- أ ضع علامة (✓) أو (X): ١ (✓) ٢ (X)
- ب اختر: عدم القيام بالتدريبات.

السؤال الثالث:

- أ اختر: ١ يترك.
- ب ضع علامة (✓) أو (X): ١ (✓) ٢ (X)
- ج أجب: أهم عمل لدى باسم هو الاستعداد للاختبار، وأقلها أهمية لديه هو تنظيف حديقة المنزل.

السؤال الرابع:

- أ اختر: ١ توضح.
- ب ضع علامة (✓) أو (X): (X)
- ج أجب: كي يستطيع الإنسان تحقيق النجاح في حياته فعليه أولاً ترتيب أولوياته من الأهم إلى المهم إلى الأقل أهمية.

السؤال الخامس:

- أ اختر: ١ أنشأ.
- ب أجب: وصفه بأنه رائد التعليم.
- ج أضلها.
- د حقيقي.

السؤال السادس:

- أ استخراج:
- ب المعلمون. الواو.
- ج ضروريان. الألف.
- د اختر: ١ مفعول به.
- هـ التي.
- و حوّل: أنتِ معلمة ناجحة.

السؤال الثامن:

- أ صوّب: ١ هذا
- ب السماء.
- ج بالدفع.

اختبار لطلاب الأزهر ٥

السؤال الثاني:

- أ اختر: ١ متردد.
- ب رحلة تخييم.
- ج مهاراته.
- د ضع علامة (✓) أو (X): ١ (X) ٢ (X) ٣ (✓)

السؤال الثالث:

- أ أكمل: ١ أعظم.
- ب أحمد شوقي.
- ج توضيح أهمية دور المعلم في حياة طلابه.

ب اذكر المعنى السياقي:

- ١ العصور والأزمنة.
- ٢ عظام بارزة في رأس الغنم تدافع بها عن نفسها.

ج اذكر من النص:

- ١ سبحانك اللهم خير معلم علمت بالقلم القرون الأولى
- ٢ قم للمعلم وفه التبجيلا كاد المعلم أن يكون رسولا
- ٣ أعلمت أشرف أو أجل من الذي يبني وينشئ أنفساً وعقولا؟

السؤال الرابع:

- أ استخراج:
- ب المباراة.
- ج الضمة.
- د الجماهير.
- هـ اختر: ١ الألف.
- و اسم.
- ز مفعول به.

ج أعرب:

- ١ مفعول به منصوب، وعلامة نصبه الفتحة.
- ٢ فاعل مرفوع، وعلامة رفعه الضمة.



سلاح التلميز

منذ عام ١٩٦٠



الرياضيات

2024-2025

الصف الخامس الابتدائي
الفصل الدراسي الأول

اختبارات شهر أكتوبر

5

(5 درجات)

السؤال الأول اختر الإجابة الصحيحة من بين الإجابات المعطاة:

- 1 أي الأعداد التالية تكون فيه قيمة الرقم 2 تساوي 0.002؟
- أ 2.51 ب 1.052 ج 6.251 د 2,645.1
- 2 العامل المشترك لكل الأعداد هو
- أ 0 ب 1 ج 2 د 3
- 3 أكبر عدد من الأعداد العشرية التالية هو
- أ 3.125 ب 2.91 ج 3.04 د 3.9
- 4 (لأقرب جزء من مائة) $9.245 \approx$
- أ 9 ب 9.24 ج 9.25 د 9.3
- 5 المضاعف المشترك للعددين 2 و 3 هو
- أ 12 ب 8 ج 9 د 16

(5 درجات)

السؤال الثاني أكمل ما يلي:

- 6 5.023 تُكتب لفظياً
- 7 إذا كان: $9.8 + x = 15.03$ ، فإن قيمة x تساوي
- 8 العوامل الأولية للعدد 12 هي
- 9 عند قسمة العدد 25.1 على 10 ، فإن قيمة الرقم 5 تتغير من إلى
- 10 5 أجزاء من ألف + 23 جزءاً من مائة = جزء من ألف.

(5 درجات)

السؤال الثالث أجب عما يلي:

- 11 أوجد (ع.م.أ) ، (م.م.أ) للعددين 15 ، 45

12 رتب تصاعدياً:

3.5 ، 31.02 ، 13.5 ، 3.05

الترتيب: ، ، ،



(5 درجات)

السؤال الأول اختر الإجابة الصحيحة من بين الإجابات المعطاة:

1) أي مما يلي يمثل تعبيرًا رياضيًا؟

أ $x + 2.3 = 8.5$ ب $m - 2.61 = 0.95$ ج $8.126 + 9.25$ د $0.2 + 1.2 = 1.4$

2) عند ضرب العدد العشري في 10 ، فإن قيمة العدد

أ تزيد ب تقل ج تتضاعف د لا تتغير

3) المتغير في المعادلة: $45.62 = x - 12.5$ هو

أ 45.62 ب x ج 12.5 د غير ذلك

4) (لأقرب) $6.231 \approx 6.2$

أ جزء من ألف ب جزء من مائة ج عدد صحيح د جزء من عشرة

5) العدد الذي عوامله الأولية 5 ، 2 ، 3 هو

أ 15 ب 30 ج 10 د 11

(5 درجات)

السؤال الثاني أكمل ما يلي:

6) القيمة المكانية للرقم 1 في العدد 2.315 هي

7) العدد 8.5 مضافًا إليه عدد ما يساوي 11.5 يُمثَّل بالمعادلة:

8) ناتج تقدير : $0.912 + 5.32$ باستخدام استراتيجية أعداد لها قيمة مميزة هو

9) مضاعف العدد 3 المحصور بين 31 ، 34 هو

10) $70 + 3 + \frac{5}{10} + \frac{9}{1,000} =$

(5 درجات)

السؤال الثالث أجب عما يلي:

11) اشترى أحمد كتابًا بمبلغ 34.25 جنيه ، وأقلًا بمبلغ 20.75 جنيه. أوجد إجمالي ما دفعه أحمد.

12) أوجد (ع.م.أ) ، (م.م.أ) للعددين 18 ، 24 مستخدمًا تحليل العدد لعوامله الأولية.



(5 درجات)

السؤال الأول اختر الإجابة الصحيحة من بين الإجابات المعطاة:

- 1) $2.76 \square 2.276$
- أ $>$ ب $<$ ج $=$ د غير ذلك
- 2) كل الأعداد التالية أولية ، ما عدا
- أ 7 ب 11 ج 17 د 15
- 3) (لأقرب عدد صحيح) $19.6 \approx$
- أ 19 ب 10 ج 20 د 110
- 4) الجملة الرياضية: $0.51 + x = 3.65$ تمثل
- أ تعبيراً رياضياً ب معادلة ج قيمة مكانية د غير ذلك
- 5) $5.6 \times 1,000 =$
- أ 5,600 ب 0.056 ج 56 د 560

(5 درجات)

السؤال الثاني أكمل ما يلي:

- 6) الكسر الاعتيادي الذي يكافئ 0.12 هو
- 7) ناتج تقدير طرح: $9.214 - 7.02$ باستخدام استراتيجية أول رقم من اليسار هو
- 8) العدد 18 هو مضاعف مشترك للعددين 2 ،
- 9) 4 أجزاء من عشرة = جزءاً من ألف.
- 10) العملية الحسابية المستخدمة لإيجاد قيمة المتغير x في المعادلة: $68.36 - x = 24.05$ هي

(5 درجات)

السؤال الثالث أجب عما يلي:

- 11) استغرقت ريهام 8.5 ساعة في القراءة ، و 2.25 ساعة في ممارسة الرياضة. اكتب المعادلة التي تُعبر عن إجمالي عدد الساعات التي استغرقتها ريهام في القراءة وممارسة الرياضة ، ثم حلّها.
-

12) رتب تنازلياً:

9.08 ، 13.52 ، 6.291 ، 13.5 ، 6.5

الترتيب: ، ، ، ،



(5 درجات)

السؤال الأول اختر الإجابة الصحيحة من بين الإجابات المعطاة:

- 1) جميع الأعداد التالية متساوية ، ما عدا
- أ 0.8 ب 0.80 ج 0.08 د 0.800
- 2) أي عددين مما يلي يكون العامل المشترك الأكبر لهما هو 4 ؟
- أ 2 ، 4 ب 4 ، 8 ج 4 ، 6 د 12 ، 36
- 3) المعادلة التي تُعبر عن طرح 0.8 من عدد ما ويكون الناتج 1.2 هي
- أ $1.2 - x = 0.8$ ب $0.8 + x = 1.2$ ج $x = 1.2 - 0.8$ د $x - 0.8 = 1.2$
- 4) $5.326 = 5 + 0.3 + 0.02 + \dots$
- أ 0.06 ب 0.006 ج 0.6 د 6
- 5) الأعداد: 9 ، 18 ، 27 من مضاعفات العدد
- أ 2 ب 6 ج 9 د 18

(5 درجات)

السؤال الثاني أكمل ما يلي:

- 6) الرقم الموجود في خانة الجزء من ألف في العدد العشري 2.564 هو
- 7) $1,245 \div \dots = 12.45$
- 8) العدد الأولي الذي مجموع عوامله 14 هو
- 9) $2.984 + 54.32 = \dots$
- 10) في النموذج الشريطي: قيمة المجهول n تساوي

10.2	
6.21	n

(5 درجات)

السؤال الثالث أجب عما يلي:

- 11) كوّن أكبر كسر عشري من الأرقام 7 ، 5 ، 9 ، 6 ، ثم قرّبهُ لأقرب رقمين عشريين.

- 12) إذا كان طول محمد 175.25 سم ، وطول سامي 164.32 سم ، فأوجد الفرق بين طوليهما.

(5 درجات)

السؤال الأول اختر الإجابة الصحيحة من بين الإجابات المعطاة:

1 $10.2 + \dots = 17.25$

- أ 7.25 ب 27.45 ج 7.05 د 7.5

2 $\frac{126}{1,000} = \dots$

- أ 0.126 ب 1.26 ج 12.6 د 126

3 أصغر عدد أولي فردي هو

- أ 1 ب 2 ج 3 د 5

4 كم مرة يجب ضرب العدد 10 في نفسه ليساوي 1,000 ؟

- أ مرة واحدة ب مرتين ج 3 مرات د 4 مرات

5 $\dots < 15.7$

- أ 16.3 ب 9.7 ج 15.8 د 15.88

(5 درجات)

السؤال الثاني أكمل ما يلي:

6 $35.206 = 35 + \dots$

7 أول 4 مضاعفات للعدد 7 (غير الصفر) هي

8 $5.7196 \approx \dots$ (لأقرب 0.001)

9 سجل محمود المعادلة: $25.59 + 61.5 = x$ ليُعبّر عن كتلته وكتله أخيه ، فإن x تُعبّر عن

10 العدد المميز للكسر العشري 0.8 هو

(5 درجات)

السؤال الثالث أجب عما يلي:

11 عدنان الأول عوامله الأولية: 2 ، 2 ، 5 ، والثاني عوامله الأولية: 2 ، 2 ، 3 أوجد العددين ، ثم أوجد (ع.م.أ) للعددين.

12 حلّ المعادلة التالية:

$$b - 32.99 = 100.01$$



سلاح التلميز

منذ عام ١٩٦٠



الرياضيات

2024-2025

الصف الخامس الابتدائي
الفصل الدراسي الأول

إجابة اختبارات شهر أكتوبر

5

إجابة اختبار (1)

السؤال الأول

- 1.052 ① 1 ② 3.9 ③ 9.25 ④ 12 ⑤

السؤال الثاني

- ⑥ خمسة ، وثلاثة وعشرون جزءاً من ألف
 ⑦ 5.23 ⑧ 3 ، 2 ، 2
 ⑨ 0.5 ، 5 ⑩ 235

السؤال الثالث

- ⑪ 15 : (ع.م.أ) 45 : (م.م.أ)
 ⑫ الترتيب: 3.05 ، 3.5 ، 13.5 ، 31.02

إجابة اختبار (2)

السؤال الأول

- 8.126 + 9.25 ① ② تزيد ③ x ④ جزء من عشرة ⑤ 30

السؤال الثاني

- ⑥ جزء من مائة ⑦ 8.5 + c = 11.5 ⑧ 6.5
 ⑨ 33 ⑩ 73.509

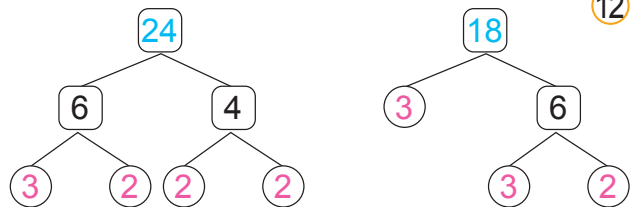
السؤال الثالث

- ⑪ إجمالي ما دفعه أحمد = 55 جنيهاً ؛ لأن: 34.25 + 20.75 = 55

$$18 = 2 \times 3 \times 3$$

$$24 = 2 \times 3 \times 2 \times 2$$

72:م.أ 6:ع.م.أ



إجابة اختبار (3)

السؤال الأول

- ① > ② 15 ③ 20 ④ معادلة ⑤ 5,600

السؤال الثاني

- ⑥ $\frac{12}{100}$ ⑦ 2 ⑧ 9 (توجد إجابات أخرى) ⑨ 400 ⑩ الطرح

السؤال الثالث

- ⑪ المعادلة: $x = 8.5 + 2.25$ الحل: $x = 10.75$

وبالتالي فإن: إجمالي عدد الساعات التي استغرقتها ريهام في القراءة وممارسة الرياضة = 10.75 ساعة.

- ⑫ الترتيب: 6.291 ، 6.5 ، 9.08 ، 13.5 ، 13.52 →

إجابة اختبار (4)

السؤال الأول

- ① 0.08 ② 8 ، 4 ③ $x - 0.8 = 1.2$ ④ 0.006 ⑤ 9

السؤال الثاني

- ⑥ 4 ⑦ 100 ⑧ 13 ⑨ 57.304 ⑩ 3.99

السؤال الثالث

- ⑪ الكسر العشري: 0.9765 التقريب لأقرب رقمين عشريين: 0.98

- ⑫ الفرق بين طوليهما = 10.93 سم ؛ لأن: $175.25 - 164.32 = 10.93$



إجابة اختبار (5)

السؤال الأول

- 7.05 ① 0.126 ② 3 ③ 3 مرات ④ 9.7 ⑤

السؤال الثاني

- 5.720 ⑧ 28 ، 21 ، 14 ، 7 ⑦ 0.206 ⑥

- 1 ⑩ مجموع كتلتيهما ⑨

السؤال الثالث

- العدد الأول: 20 ⑪ العدد الثاني: 12 (ع.م.أ) للعددين: 4

$$b = 100.01 + 32.99 = 133 \text{ ⑫}$$



أشهر وأحب كتب تعليمية ، وأوسعها انتشارًا

Selah El-Telmeez

Since 1960



English
Connect

2024-2025

Fifth Primary
First Term

نماذج اختبارات شهر أكتوبر

5

Test 1

(A) Listening

نصوص الاستماع بملف الإجابات

1 Listen and circle the correct answer from a, b, c or d:

1. Rehab and Mona went to a party yesterday.
a. festival b. costume c. birthday d. celebration
2. Rehab was wearing a dress.
a. white b. red c. blue d. yellow
3. Mona was wearing a dress with a belt.
a. spotted b. colorful c. striped d. pale
4. Mona had white on her hands.
a. sunglasses b. gloves c. sneakers d. shorts

(B) Reading

2 Choose the correct answer from a, b, c or d:

1. If something is, it is very bad to eat or breathe.
a. hot b. toxic c. famous d. good
2. We can buy and sell things at the
a. school b. park c. club d. market
3. They play football on a football
a. pitch b. court c. pool d. farm
4. We need to our suitcases.
a. drink b. eat c. thank d. pack



3 Read and complete the text with the words in the box:

bad – game – swimming – karate – squash

I like sports. My favorite sport is (1) I use rackets to play it. I always play a (2) with my friends on the weekends. I also like sailing, but I'm (3) at it. My brother is good at (4) He wears goggles. He practices it every week.

4 Read the text and answer the questions:

Water pollution is when harmful chemicals go into water bodies like rivers, lakes, and seas. Water pollution can kill fish, birds, and crabs that live in the water. It can also kill birds that eat the fish. Water pollution can cause animals to lose their homes and change their habitats. Dirty water can make children and old people ill. We can stop water pollution. We can save as much water as possible, take shorter showers, avoid running water, and never throw garbage in or near a lake or beach.

(A) Choose the correct answer from a, b, c or d:

- The text says that water pollution is
a. beautiful b. interesting c. dangerous d. helpful
- water can make children and old people ill.
a. Dirty b. Fresh c. Clean d. Salty

(B) Answer the following questions:

- What is water pollution?
.....

- How can we stop water pollution?
.....



(C) Writing

5 Put the words in the correct order to make sentences:

1. oranges, - I - some - please. - would - like

.....

2. Yara - very - is - tennis. - playing - good at

.....

6 Read and write the correct form of the word(s) between brackets:

1. Are there (some) tomatoes?

2. We wear galabeyas to (celebrating) Eid.

7 Punctuate the following:

- Mix the semolina coconut, and melted butter

.....

8 Write a paragraph of about THIRTY (30) words using the following guiding elements:

“A famous sportsperson”

(taekwondo - medals)

.....

.....

.....

.....

.....

GOOD LUCK



Test 2

(A) Listening

نصوص الاستماع بملف الإجابات

1 Listen and circle the correct answer from a, b, c or d:

- Ali's favorite sport is
a. football b. squash c. tennis d. swimming
- Ali plays squash in the club with Ramy every
a. weekend b. Sunday c. Thursday d. month
- Ali and Ramy are both very at playing squash.
a. bad b. nice c. good d. popular
- They use squash to play squash.
a. goggles b. boots c. suits d. rackets

(B) Reading

2 Choose the correct answer from a, b, c or d:

- Fish is It's good for your body.
a. easy b. unhealthy c. healthy d. bad
- I wear a when I do karate.
a. suit b. jacket c. skirt d. hat
- The made me new shoes.
a. farmer b. doctor c. shoemaker d. engineer
- Water is a very dangerous problem.
a. body b. factory c. habitat d. pollution



3 Read and complete the text with the words in the box:

shirt – trousers – blue – sweaters – wear

I'm Amira. I (1) a uniform at school. I really like my school uniform. I wear a long-sleeved white (2) and a blue skirt. My brother's uniform is different from my uniform. He wears a short-sleeved light (3) shirt and dark blue trousers. We both wear black leather shoes. In winter, we wear blue (4)

4 Read the text and answer the questions:

I'm Noha. I'm in grade five. I like healthy food. I help my mom in the kitchen. We eat chicken, beans, and potatoes. My brother likes to eat chocolate. I like chocolate, too, but I don't eat a lot. Chocolate is delicious. On the weekends, we visit our uncle. He grows trees in his garden. He has a lemon tree and a lime tree. We don't have a mango tree. So, my uncle helps me grow a mango tree. It's interesting.

(A) Choose the correct answer from a, b, c or d:

1. Noha helps her in the kitchen.

- a. uncle b. mom c. dad d. aunt

2. Noha's uncle grows in his garden.

- a. beans b. potatoes c. chickens d. trees

(B) Answer the following questions:

3. What does Noha's brother like to eat?

.....

4. Why does Noha's uncle help her grow a mango tree?

.....



(C) Writing

5 Put the words in the correct order to make sentences:

1. sport - at? - What - you - are - bad

.....

2. T-shirt. - pack - I - green - need - my - to

.....

6 Read and write the correct form of the word(s) between brackets:

1. I would like (**any**) apples, please.

2. How about (**buys**) some grapes?

7 Punctuate the following:

- Hana and ola bought new shoes yesterday

.....

8 Write a paragraph of about THIRTY (30) words using the following guiding elements:

“Water pollution”

(chemicals - sick)

.....

.....

.....

.....

.....

GOOD LUCK



Test 3

(A) Listening

نصوص الاستماع بملف الإجابات

1 Listen and circle the correct answer from a, b, c or d:

- Sara likes to go to the with her mom.
a. market b. park c. school d. office
- They buy and fruits.
a. toys b. books c. vegetables d. clothes
- They sometimes buy or chocolate.
a. grapes b. cookies c. onions d. mangoes
- They put everything in the or the fridge.
a. car b. bag c. bowl d. cupboard

(B) Reading

2 Choose the correct answer from a, b, c or d:

- I wear my to play football.
a. boots b. goggles c. suits d. glasses
- A is a box in which we can keep animals.
a. club b. table c. cage d. castle
- The shoemaker was because he worked a lot yesterday.
a. worried b. tired c. scared d. excited
- Handball and tennis are
a. foods b. drinks c. sports d. subjects



3 Read and complete the text with the words in the box:

flag – medal – taekwondo – competitor – born

Our teacher told us about Hedaya Malak yesterday. She is a famous Egyptian (1) player. She is one of the two people who carried the Egyptian (2) at the Tokyo Olympic Games in 2021. She was (3) in April, 1993. She won the bronze (4) at the Rio Olympics in 2016.

4 Read the text and answer the questions:

I'm Dina. My favorite recipe is basbousa. It is easy to make. First, I turn my oven on to get it hot. Then, I mix the semolina, coconut, sugar, and melted butter. Then, I add the yogurt and pour the mixture into a baking dish. I bake the basbousa in the oven for 30 minutes. To make the syrup, I put the honey, water, and lemon juice into a saucepan and boil the mixture for about 10 minutes. Then, I pour the syrup over the basbousa. Basbousa is really delicious.

(A) Choose the correct answer from a, b, c or d:

- The main idea of the text is Dina's favorite
a. recipe b. game c. fruit d. sport
- Dina bakes the basbousa in the oven for minutes.
a. thirty b. twenty c. ten d. forty

(B) Answer the following questions:

- Why does Dina turn her oven on?
.....

- How does Dina make the syrup?
.....



(C) Writing

5 Put the words in the correct order to make sentences:

1. you - carrots, - some - Would - like - Mai?

.....

2. squash - I - and - watching - love - football.

.....

6 Read and write the correct form of the word(s) between brackets:

1. People in Mexico wear hats to (**protected**) their faces from the sun.

2. Lama doesn't have (**some**) oranges.

7 Punctuate the following:

- how about buying some red tomatoes

.....

Write a paragraph of about THIRTY (30) words using the following guiding elements:

8

"My favorite healthy food"

(mango - eat)

.....

.....

.....

.....

.....

GOOD LUCK



Test 4

(A) Listening

نصوص الاستماع بملف الإجابات

1 Listen and circle the correct answer from a, b, c or d:

- Ola had a/an nightmare.
a. nice b. good c. awful d. happy
- The air was black and
a. clean b. toxic c. fresh d. new
- Ola can't swim in the sea because there's too much in it.
a. plastic b. fish c. sand d. water
- There weren't any because people cut down all of them.
a. houses b. clouds c. planets d. trees

(B) Reading

2 Choose the correct answer from a, b, c or d:

- My dad's galabeya is made from
a. metal b. cotton c. plastic d. wood
- Hedaya Malak won the bronze at the Rio Olympics.
a. medal b. ring c. bracelet d. necklace
- means to pick something up quickly.
a. Mix b. Chop c. Buy d. Grab
- I love swimming. I go to the swimming on Fridays.
a. pitch b. pool c. court d. field



3 Read and complete the text with the words in the box:

saucepan – pour – bakes – hand – ingredients

We like baking basbousa. My mother (1) basbousa on my birthday. We buy the (2) from the market. We mix them by (3) Then, we put the mixture in the oven for 30 minutes. We make the syrup. We put the honey, water, and lemon juice into a saucepan and boil the mixture. We (4) the syrup over the basbousa.

4 Read the text and answer the questions:

My school uniform is very special and smart. I really like it. The girls and boys have different uniforms at my school. The girls wear a long, dark blue skirt. They wear a pale green T-shirt. It is a short-sleeved cotton one. They do not wear a tie. The boys wear dark blue trousers and a green T-shirt. They have to wear a tie every day. It is dark blue with light blue stripes on it. In winter, we wear a dark green jacket with pockets because it is cold.

(A) Choose the correct answer from a, b, c or d:

1. This text is about my school

a. uniform

b. color

c. door

d. class

2. The girls wear a long, dark blue

a. T-shirt

b. jacket

c. skirt

d. tie

(B) Answer the following questions:

3. What do the boys wear?

.....

4. Why do they wear a jacket in winter?

.....



(C) Writing

5 Put the words in the correct order to make sentences:

1. at - climbing - Elephants - bad - are - trees.

.....

2. robe. - The - white - galabeya - a long - is

.....

6 Read and write the correct form of the word(s) between brackets:

1. He would like (an) banana.

2. Ola is very good at cooking, but she is (good) at tidying her room.

7 Punctuate the following:

- A sombrero is a traditional mexican hat

.....

Write a paragraph of about THIRTY (30) words using the following guiding elements:

8

“My favorite recipe”

(bake - semolina)

.....

.....

.....

.....

.....

GOOD LUCK



Test 5

(A) Listening

نصوص الاستماع بملف الإجابات

1 Listen and circle the correct answer from a, b, c or d:

- Hana likes
a. baking b. drawing c. cooking d. swimming
- Hana's favorite thing to bake is
a. cake b. basbousa c. cookies d. pies
- Hana mixes everything and pours the mixture into a baking
a. dish b. cup c. bottle d. bag
- Hana bakes it in the
a. stove b. computer c. oven d. phone

(B) Reading

2 Choose the correct answer from a, b, c or d:

- Malak is wearing on her hands.
a. belts b. sneakers c. glasses d. gloves
- I like sitting in the of trees on hot days.
a. shade b. emissions c. sun d. wave
- are gases from cars or factories.
a. Greenhouses b. Shades c. Emissions d. Nightmares
- My uncle fresh eggs.
a. plants b. collects c. goes d. grows



3 Read and complete the text with the words in the box:

sun – cutting – problem – toxic – planting

People in Cairo want to live in clean air and a healthy environment. But the air is black and (1)..... . There's too much traffic. Now we can't see the (2)..... any more because the sky is gray or black. We should solve the (3)..... by using more bikes and (4)..... more trees.

4 Read the text and answer the questions:

Wessam went to the supermarket yesterday. She had a shopping list. She wanted to buy some fruits and vegetables. She bought pineapples, coconuts, carrots, onions, and limes. She couldn't find tomatoes, so she asked the girl who works there to help her. She also bought rice and pasta to make koshari for her parents. She didn't buy much chocolate because it is unhealthy if you eat a lot. She looked for mangoes to make delicious recipes with them. She can make mango juice, fruit salad, and mango cake.

(A) Choose the correct answer from a, b, c or d:

1. Wessam didn't buy much chocolate because it is if you eat a lot.
a. delicious b. healthy c. expensive d. unhealthy
2. The underlined pronoun "them" refers to
a. mangoes b. bananas c. pineapples d. koshari

(B) Answer the following questions:

3. What did Wessam do when she couldn't find tomatoes?
.....

4. Why did Wessam buy rice and pasta?
.....



(C) Writing

5 Put the words in the correct order to make sentences:

1. bread - We - and - need - rice. - to buy

.....

2. doing - I'm - karate. - at - very - good

.....

6 Read and write the correct form of the word(s) between brackets:

1. I packed my suitcase to (**went**) to Alexandria.

2. Mona is bad at (**draw**).

7 Punctuate the following:

- jack saw a very tall beanstalk in the garden

.....

Write a paragraph of about THIRTY (30) words using the following guiding elements:

8

"Your school uniform"

(skirt - trousers)

.....

.....

.....

.....

.....

GOOD LUCK



أشهر وأحب كتب تعليمية، وأوسعها انتشارًا

Selah El-Telmeez

Since 1960



English
Connect

2024-2025

**Fifth Primary
First Term**

إجابات نماذج اختبارات شهر أكتوبر

5

Test 1 Answers

(A) Listening

Listening Script:

Rehab and Mona went to a costume party yesterday. They were so excited. Rehab was wearing a blue dress, but Mona was wearing a spotted dress with a belt. Mona had white gloves on her hands. She also had a crown on her head. They were beautiful.

1 Listen and circle the correct answer from a, b, c or d:

1. (b) 2. (c) 3. (a) 4. (b)

(B) Reading

2 Choose the correct answer from a, b, c or d:

1. (b) 2. (d) 3. (a) 4. (d)

3 Read and complete the text with the words in the box:

1. squash 2. game 3. bad 4. swimming

4 Read the text and answer the questions:

(A) Choose the correct answer from a, b, c or d:

1. (c) 2. (a)

(B) Answer the following questions:

3. Water pollution is when harmful chemicals go into water bodies like rivers, lakes, and seas.
4. We can save as much water as possible, take shorter showers, avoid running water, and never throw garbage in or near a lake or beach.

(C) Writing

5 Put the words in the correct order to make sentences:

1. I would like some oranges, please.
2. Yara is very good at playing tennis.



6 Read and write the correct form of the word(s) between brackets:

1. any

2. celebrate

7 Punctuate the following:

- Mix the semolina, coconut, and melted butter.

Write a paragraph of about THIRTY (30) words using the following guiding elements:

8

- Hedaya Malak is a famous Egyptian taekwondo player. She began to practice taekwondo at the age of seven. She won many prizes and medals. She won two bronze medals at the Olympics.



Test 2 Answers

(A) Listening

Listening Script:

My name is Ali. My favorite sport is squash. I love watching old matches. My favorite squash player is Raneem El Weleily. Every weekend, I play squash in the club with my friend Ramy. We are very good at playing squash. We use squash rackets to play squash.

1 Listen and circle the correct answer from a, b, c or d:

1. (b) 2. (a) 3. (c) 4. (d)

(B) Reading

2 Choose the correct answer from a, b, c or d:

1. (c) 2. (a) 3. (c) 4. (d)

3 Read and complete the text with the words in the box:

1. wear 2. shirt 3. blue 4. sweaters

4 Read the text and answer the questions:

(A) Choose the correct answer from a, b, c or d:

1. (b) 2. (d)

(B) Answer the following questions:

3. Noha's brother likes to eat chocolate.
4. Because they don't have a mango tree.

(C) Writing

5 Put the words in the correct order to make sentences:

1. What sport are you bad at?
2. I need to pack my green T-shirt.



6 Read and write the correct form of the word(s) between brackets:

1. some

2. buying

7 Punctuate the following:

- Hana and Ola bought new shoes yesterday.

Write a paragraph of about THIRTY (30) words using the following guiding elements:

8

- Water pollution is when harmful chemicals go into water bodies. It can kill organisms that live in the water, like fish and crabs. It can also make old people and children sick.



Test 3 Answers

(A) Listening

Listening Script:

Sara likes to go to the market with her mom. They go to the market every Friday. They buy vegetables and fruits. They always buy potatoes, tomatoes, onions, bananas, and apples. They sometimes buy cookies or chocolate. When they come back from the market, they put everything in the cupboard or the fridge.

1 Listen and circle the correct answer from a, b, c or d:

1. (a) 2. (c) 3. (b) 4. (d)

(B) Reading

2 Choose the correct answer from a, b, c or d:

1. (a) 2. (c) 3. (b) 4. (c)

3 Read and complete the text with the words in the box:

1. taekwondo 2. flag 3. born 4. medal

4 Read the text and answer the questions:

(A) Choose the correct answer from a, b, c or d:

1. (a) 2. (a)

(B) Answer the following questions:

3. To get it hot.
4. She puts the honey, water, and lemon juice into a saucepan and boils the mixture for about 10 minutes.

(C) Writing

5 Put the words in the correct order to make sentences:

1. Would you like some carrots, Mai?
2. I love watching squash and football.



6 Read and write the correct form of the word(s) between brackets:

1. protect

2. any

7 Punctuate the following:

- How about buying some red tomatoes?

Write a paragraph of about THIRTY (30) words using the following guiding elements:

8

- My favorite healthy food is **mango**. It's delicious. I always go to my uncle's house because he has a mango tree in his garden. I like to eat fish, too.

الكتاب المدرسي



Test 4 Answers

(A) Listening

Listening Script:

My name is Ola. Yesterday, I had an awful nightmare. The air was black and toxic. I can't go to school because the air is bad. I can't swim in the sea because there's too much plastic in it and it's dirty. There weren't any trees because people cut down all of them.

1 Listen and circle the correct answer from a, b, c or d:

1. (c) 2. (b) 3. (a) 4. (d)

(B) Reading

2 Choose the correct answer from a, b, c or d:

1. (b) 2. (a) 3. (d) 4. (b)

3 Read and complete the text with the words in the box:

1. bakes 2. ingredients 3. hand 4. pour

4 Read the text and answer the questions:

(A) Choose the correct answer from a, b, c or d:

1. (a) 2. (c)

(B) Answer the following questions:

3. The boys wear dark blue trousers and a green T-shirt. They have to wear a tie.
4. They wear a jacket in winter because it's cold.

(C) Writing

5 Put the words in the correct order to make sentences:

1. Elephants are bad at climbing trees.
2. The galabeya is a long white robe.



6 Read and write the correct form of the word(s) between brackets:

1. a

2. bad

7 Punctuate the following:

- A sombrero is a traditional Mexican hat.

Write a paragraph of about THIRTY (30) words using the following guiding elements:

8

- My favorite thing to bake is basbousa. I mix the semolina, coconut, sugar, and melted butter. I add the yogurt and pour the mixture into a baking dish. I bake the basbousa in the oven.



Test 5 Answers

(A) Listening

Listening Script:

I'm Hana. I like baking. My favorite thing to bake is basbousa. It's very easy to make. The ingredients are semolina, yogurt, sugar, melted butter, and baking powder. I weigh out everything. Then, I mix them, pour the mixture into a baking dish, and bake it in the oven.

1 Listen and circle the correct answer from a, b, c or d:

1. (a) 2. (b) 3. (a) 4. (c)

(B) Reading

2 Choose the correct answer from a, b, c or d:

1. (d) 2. (a) 3. (c) 4. (b)

3 Read and complete the text with the words in the box:

1. toxic 2. sun 3. problem 4. planting

4 Read the text and answer the questions:

(A) Choose the correct answer from a, b, c or d:

1. (d) 2. (a)

(B) Answer the following questions:

3. She asked the girl who works there to help her.
4. To make koshari for her parents.

(C) Writing

5 Put the words in the correct order to make sentences:

1. We need to buy bread and rice.
2. I'm very good at doing karate.



6 Read and write the correct form of the word(s) between brackets:

1. go

2. drawing

7 Punctuate the following:

- Jack saw a very tall beanstalk in the garden.

Write a paragraph of about THIRTY (30) words using the following guiding elements:

8

- Girls and boys have different uniforms at my school. The girls wear long green skirts. The boys wear dark blue trousers and a white shirt. Both girls and boys wear white socks.

الكتاب المدرسي



سلاح التمهيد

منذ عام ١٩٦٠



العلوم

2024-2025

الصف الخامس الابتدائي
الفصل الدراسي الأول

اختبارات شهر أكتوبر

5

الاختبار 1

السؤال الأول

أ اختر الإجابة الصحيحة:

- سيقان النباتات التي تنمو تحت سطح الأرض تسمى بـ
أ المستقلة ب المادة ج الدرناات د الخشبية
- يمتص الكلوروفيل الطاقة من ليقوم النبات بعملية البناء الضوئي.
أ الهواء ب التربة ج الماء د ضوء الشمس
- الحيوان الذي يتغذى على حيوانٍ آخر في السلسلة الغذائية يُعرف بـ
أ المفترس ب المنتج ج الفريسة د المحلل
- تعتبر من كائنات المستوى الأخير في سلسلة غذائية في نظام بيئي صحراوي.
أ الجراد ب النباتات ج الصقور د البكتيريا

ب توجد عدة احتياجات لا بد من توافرها لكي يقوم النبات بتكوين غذائه بنفسه. حدّد هذه الاحتياجات.

السؤال الثاني

أ ضع علامة (✓) أو (X) أمام العبارات الآتية:

- تنتقل الطاقة داخل السلاسل الغذائية فقط، ولا تنتقل داخل الشبكات الغذائية. ()
- ينتج سكر الجلوكوز وثاني أكسيد الكربون أثناء قيام النبات بعملية البناء الضوئي. ()
- تنتقل أوعية اللحاء الغذاء من الأوراق إلى جميع أجزاء النبات. ()
- تُطبق بعض الجزر برامج الحفاظ على البيئة لحماية بيئتها البحرية. ()

ب ما أهمية الكائنات المحللة في النظام البيئي؟

السؤال الثالث

أ أكمل العبارات الآتية:

- تنقسم الأوعية الدموية إلى شرايين و و
- يدخل الهواء إلى النبات من خلال الموجودة في أوراق النباتات.
- معظم الحشرات تعتبر من الكائنات

ب اكتب المصطلح العلمي:

- عملية إنتاج نباتات جديدة. (.....)
- زوائد تشبه الشعر توجد على جذور النباتات. (.....)



الاختبار 2

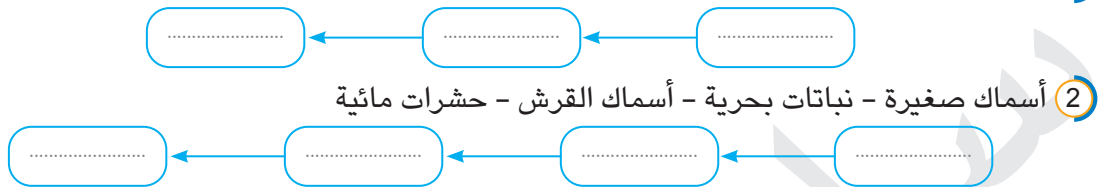
السؤال الأول

أ ضع علامة (✓) أو (X) أمام العبارات الآتية:

- () 1 يؤدي الجفاف إلى حدوث اتزان في النظام البيئي.
 () 2 الحيوانات آكلات اللحوم تمثل المستوى الثالث في السلسلة الغذائية.
 () 3 التربة حاجة أساسية من احتياجات نمو النبات.

ب كوّن سلسلة غذائية من الكائنات الحية الآتية:

1 أرنب - نبات - ثعلب



السؤال الثاني

أ اختر الإجابة الصحيحة:

- 1 يعتبر من الكائنات المستهلكة الأولية.
 أ الثعلب ب الأرنب ج النمر د الأسد
- 2 يهجم النمر على الغزالة ويأكلها؛ لذلك يعتبر النمر من الكائنات
 أ المنتجة ب المفترسة ج المحللة د الفرائس
- 3 أي مما يلي من النواتج الثانوية لعملية البناء الضوئي؟
 أ ثاني أكسيد الكربون ب السكر ج الأكسجين د ضوء الشمس
- 4 جميع ما يلي من وظائف الجذور ما عدا
 أ تثبيت النبات في التربة ب امتصاص الماء من التربة
 ج امتصاص ضوء الشمس د امتصاص العناصر الغذائية من التربة

ب وجد مزارع بذورًا ليست من بذور مزرعته. ما سبب ذلك؟

السؤال الثالث

أ أكمل العبارات الآتية:

- 1 السيقان التي تنمو أفقيًا على سطح التربة وتساعد على تكوين نباتات جديدة هي السيقان
 2 يتكون من كائنات حية وعناصر غير حية.
 3 الحيوانات من الكائنات التغذية.
 4 تتكون الشبكة الغذائية من مجموعة من الغذائية.

ب ماذا يحدث للنبات عند وضعه في مكان مظلم مدة طويلة؟

الاختبار 3

السؤال الأول

أ أكمل العبارات الآتية:

- 1 جزء في النبات مسئول عن تصنيع الغذاء هو
- 2 الحيوانات التي تتغذى على النباتات مباشرة تعتبر من الكائنات
- 3 الزهور هي المسئولة عن في النبات.
- 4 تعبّر عن مسار انتقال الطاقة من كائن حي إلى كائن حي آخر.

ب ما اسم الجهاز الذي يوجد في جسم الإنسان، وتشابهه وظيفته مع نظام النقل في النبات؟

السؤال الثاني

أ اختر الإجابة الصحيحة:

- 1 تتحول الطاقة الضوئية للشمس إلى طاقة أثناء عملية البناء الضوئي.
أ كهربية ب حرارية ج كيميائية د صوتية
 - 2 يحتاج النبات إلى للقيام بعملية البناء الضوئي.
أ السكريات ب ثاني أكسيد الكربون ج الأوكسجين د البروتينات
 - 3 بذور جوز الهند مجوفة من الداخل؛ لذلك فهي تنتشر عن طريق
أ الحيوان ب الماء ج الرياح د الإنسان
 - 4 مساحة من الطبيعة تشمل كائنات حية وعناصر غير حية هو
أ التوازن البيئي ب السلسلة الغذائية ج النظام البيئي د الشبكة الغذائية
- ب الشبكة الغذائية شبكة متصلة بمجرد انتهائها تبدأ من جديد. ما سبب ذلك؟

السؤال الثالث

أ ضع علامة (✓) أو (X) أمام العبارات الآتية:

- 1 يعتبر الثعلب كائناً محلاً؛ لأنه يتغذى على بعض الكائنات الحية. ()
- 2 إذا زاد نوع واحد من الحيوانات المفترسة في الشبكة الغذائية سيؤثر على الشبكة الغذائية. ()
- 3 يقل معدل نمو النبات في الظلام. ()

ب سمكة تتغذى على طحالب، وجبار يتغذى على السمكة، وبطريق يتغذى على الجبار.

كوّن من هذه الجملة سلسلة غذائية.



الاختبار 4

السؤال الأول

أ أكمل العبارات الآتية:

- 1 يحتاج الإنسان إلى المزيد من عند القيام بالأنشطة الحياتية المختلفة.
- 2 عملية بداية نمو البذرة هي
- 3 الأوعية الدموية التي يتجه فيها الدم من أجزاء الجسم إلى القلب هي
- 4 الحيوان الذي يتم اصطياده من قبل حيوانٍ آخر يمثل

ب ما هي أجزاء النبات الأساسية؟

السؤال الثاني

أ اختر الإجابة الصحيحة:

- 1 تعتبر من الكائنات المنتجة للغذاء على كوكب الأرض.
أ النباتات ب الأسماك ج الطيور د الإنسان
- 2 ينتج غاز خلال عملية البناء الضوئي، الذي نستخدمه في التنفس.
أ النيتروجين ب الهيدروجين ج الأكسجين د ثاني أكسيد الكربون
- 3 أيُّ السلاسل الغذائية الآتية تشمل كائناً مُنتِجاً ومُستهلكاً ومُحللاً؟
أ ضفدع - ثعبان - بكتيريا ب عشب - جراد - صقر
ج عشب - ضفدع - ثعبان د عشب - جراد - بكتيريا

ب اكتب المصطلح العلمي:

- 1 الكائنات التي تتغذى على الكائنات المستهلكة الأولية. (.....)
- 2 النظام المسئول عن نقل الماء والعناصر الغذائية في النبات. (.....)

السؤال الثالث

أ ضع علامة (✓) أو (X) أمام العبارات الآتية:

- 1 مجموعة الشبكات الغذائية المتداخلة في النظام البيئي هي السلاسل الغذائية. ()
- 2 يبحث الحيوان عن غذائه لكي ينمو. ()
- 3 من أمثلة الكائنات ذاتية التغذية الكائنات آكلات العشب. ()
- 4 نبات العنب سيقانه متسلقة. ()

ب ماذا يحدث عند اختفاء النباتات من على سطح الأرض؟



الاختبار 5

السؤال الأول

أ أكمل العبارات الآتية:

- 1 إذا طارد أسد غزالة فإن الحيوان الذي يمثل الفريسة هو
- 2 توضح في السلسلة الغذائية اتجاه انتقال الطاقة.
- 3 تعتبر هي الجزء الداعم في النبات.
- 4 تعتبر المصدر الرئيسي للحصول على الطاقة لجميع الكائنات الحية.

ب تم إنشاء مناطق آمنة لحماية الكائنات الحية في البيئة البحرية. بم تسمى هذه المناطق؟

السؤال الثاني

أ اختر الإجابة الصحيحة:

- 1 الكائنات الحية التي تتغذى على الكائنات المنتجة هي الكائنات
أ ذاتية التغذية ب المستهلكة الثانوية ج المحللة د المستهلكة الأولية
 - 2 أوعية تنقل الماء والعناصر الغذائية من الجذور إلى الأوراق للقيام بعملية البناء الضوئي.
أ اللحاء ب الشرايين ج الأوردة د الخشب
 - 3 أجزاء النبات التي تنمو إلى نبات جديد إذا توافرت الظروف المناسبة لها من ماء وهواء وحرارة هي
أ الجذور ب البذور ج الساق د الأوراق
 - 4 عند زيادة أعداد الحيوانات المفترسة في الشبكة الغذائية فإن أعداد الفرائس
أ تقل ب تزداد ج تتضاعف د لا تتأثر
- ب ماذا يحدث عند سقوط أمطار غزيرة في الصحراء؟

السؤال الثالث

أ ضع علامة (✓) أو (X) أمام العبارات الآتية:

- 1 تنتقل الطاقة بين الكائنات الحية عندما يتغذى بعضها على بعض. ()
- 2 التلوث هو تغير سلبي يحدث بسبب إلقاء المخلفات في البيئة الطبيعية. ()
- 3 تبدأ أي سلسلة غذائية بكائن منتج. ()

ب صنّف الكائنات الآتية إلى كائنات منتجة، ومستهلكة، ومحللة:

- 1 البكتيريا:
- 2 الطيور:
- 3 نبات الموز:
- 4 ديدان الأرض:



سلاح التمهيد

منذ عام ١٩٦٠



العلوم

2024-2025

الصف الخامس الابتدائي
الفصل الدراسي الأول

إجابات اختبارات على شهر أكتوبر

5

إجابة الاختبار 1

السؤال الأول:

- أ 1 ج 2 د 3 أ 4

ب الماء - الهواء - ضوء الشمس - مكان للنمو

السؤال الثاني:

- أ 1 خ 2 خ 3 خ 4 ✓

ب 1- تعيد العناصر الغذائية مرة أخرى إلى النظام البيئي.

2- تزيد من خصوبة التربة .

السؤال الثالث:

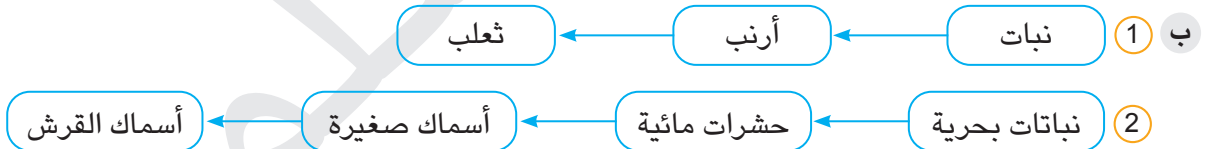
- أ 1 أوردة - شعيرات دموية 2 الثغور 3 المستهلكة الأولية

ب 1 التكاثر في النبات 2 الشعيرات الجذرية

إجابة الاختبار 2

السؤال الأول:

- أ 1 خ 2 ✓ 3 خ



السؤال الثاني:

- أ 1 ب 2 ب 3 ج 4 ج

ب بسبب انتشار البذور بواسطة الرياح أو الماء أو الكائنات الحية.

السؤال الثالث:

- أ 1 المادة 2 النظام البيئي 3 غير ذاتية 4 السلاسل

ب يذبل وتصفّر أوراقه



إجابة الاختبار 3

السؤال الأول:

- أ 1 الأوراق
ب الجهاز الدوري
2 المستهلكة الأولية
3 التكاثر
4 السلسلة الغذائية

السؤال الثاني:

- أ 1 ج
ب لأن الكائنات المحللة تعيد العناصر الغذائية إلى النظام البيئي مرة أخرى.
2 ب
3 ب
4 ج

السؤال الثالث:

- أ 1 X
ب طحالب
2 ✓ سمكة
3 ✓ حبار
4 بطريق

إجابة الاختبار 4

السؤال الأول:

- أ 1 الطاقة
ب الجذور والساق والأوراق
2 الإنبات
3 الأوردة
4 الفريسة

السؤال الثاني:

- أ 1 أ
ب الكائنات المستهلكة الثانوية
2 ج
3 د
4 نظام النقل في النبات

السؤال الثالث:

- أ 1 X
ب لن يتوافر الأكسجين اللازم للتنفس والجلوكوز كمصدر للطاقة؛ فتموت الكائنات الحية.
2 ✓
3 X
4 ✓



إجابة الاختبار 5

السؤال الأول:

- أ 1 الغزالة
ب المحميات البحرية
2 الأسهم
3 الساق
4 الشمس

السؤال الثاني:

- أ 1 د
ب تحدث فيضانات تؤثر سلبًا على الكائنات المنتجة والمستهلكة، فيتضرر النظام البيئي الصحراوي.
2 د
3 ب
4 أ

السؤال الثالث:

- أ 1 ✓
ب 1 كائنات محللة
2 ✓
3 كائنات مستهلكة
4 كائنات محللة
3 ✓
4 كائنات محللة



سلاح التلميز

منذ عام ١٩٦٠



الدراسات الاجتماعية

2024-2025

الصف الخامس الابتدائي
الفصل الدراسي الأول

اختبارات شهر أكتوبر

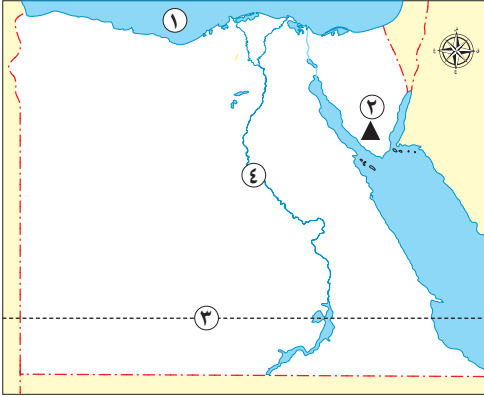
5

الاختبار ١

٥

أمامك خريطة لمصر لاحظها ثم اكتب مدلول الأرقام التالية:

السؤال الأول



- ١ البحر
- ٢ جبل
- ٣ مدار
- ٤ نهر

السؤال الثاني اكتب المقصود بكل عبارة مما يلي:

- ١ الاختلافات والتحولت في الأحوال المناخية مثل تغير درجة الحرارة والأمطار عن المعتاد. (.....)
- ٢ مناطق تقوم الدولة بإنشائها بهدف حماية الحيوانات البرية المهددة بالانقراض. (.....)

السؤال الثالث اكتب نتيجة واحدة ترتبت على:

– فشل محاولة الوحدة الأولى لمصر عام ٤٢٤٢ ق.م.

الاختبار ٢

٥

السؤال الأول اكتب كلمة (صواب) أمام العبارة الصحيحة، وكلمة (خطأ) أمام العبارة غير الصحيحة:

- ١ نشأت الأقاليم في مصر قديماً قبل ظهور القرى والمدن. ()
- ٢ تساعد الأودية الجافة في حل مشكلة السيول. ()
- ٣ تتعامد أشعة الشمس على دائرة الاستواء ثلاث مرات كل عام. ()
- ٤ تقع مصر شمال شرق قارة إفريقيا. ()

السؤال الثاني اكتب تفسيرًا واحدًا لـ:

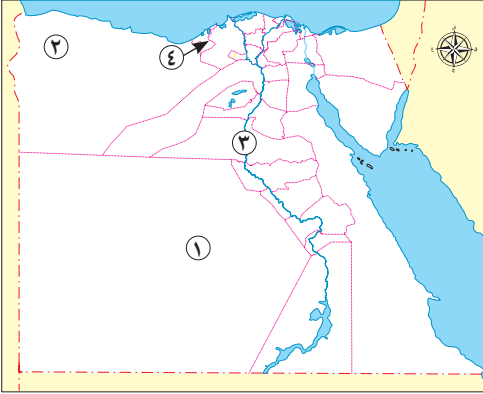
– أهمية النباتات الطبيعية في مصر.



الاختبار ٣

السؤال الأول

لاحظ خريطة مصر التي أمامك، ثم أجب:



- ١ صواب أم خطأ: تتأثر المحافظة رقم (١) بظاهرة نسيم البحر. ()
- ٢ هضبة
- ٣ محافظة
- ٤ تقع المحافظة رقم (٤) في إقليم مناخ

السؤال الثاني

اكتب كلمة (صواب) أمام العبارة الصحيحة، وكلمة (خطأ) أمام العبارة غير الصحيحة:

- ١ خطوط الطول ودوائر العرض هي خطوط حقيقية يمكن رؤيتها. ()
- ٢ حكم الملك مينا مدينة طيبة قبل توحيد البلاد. ()

السؤال الثالث

حدد المختلف مع ذكر السبب:

– (الكافور – النخيل – الجميز – الحلفا – البوص).

الاختبار ٤



السؤال الأول

أكمل العبارات التالية بما يناسبها من كلمات:

- ١ توحدت أقاليم الوجه القبلي وكونت مملكة
- ٢ ترجع بردية إيبيرس إلى عصر الملك
- ٣ يؤدي الارتفاع عن سطح البحر إلى انخفاض درجة
- ٤ يرجع التغير المناخي بشكل رئيسي إلى الأنشطة

السؤال الثاني

بم تفسر:

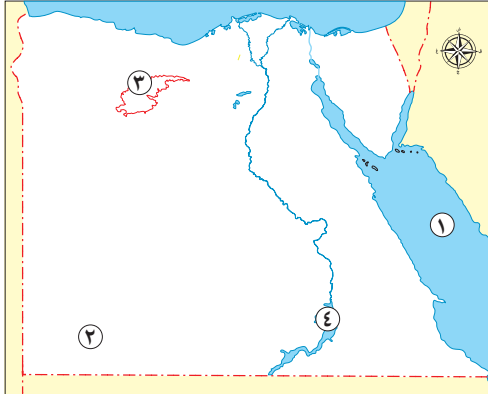
– أهمية دوائر العرض في حياتنا؟



الاختبار ٥

لاحظ خريطة مصر التي أمامك ثم اكتب مدلول الأرقام التالية:

السؤال الأول



- ١ البحر
- ٢ هضبة
- ٣ منخفض
- ٤ بحيرة

السؤال الثاني

اكتب كلمة (صواب) أمام العبارة الصحيحة، وكلمة (خطأ) أمام العبارة غير الصحيحة:

- ١ يُعد الجيش من العوامل البشرية لقيام الحضارة المصرية القديمة. ()
- ٢ تُعد الصحراء الشرقية من أغنى المناطق في مصر بمعدن الذهب. ()

السؤال الثالث

بم تفسر:

– الصحاري المصرية فقيرة في نباتاتها الطبيعية؟

الاختبار ٦

السؤال الأول

اختر الإجابة الصحيحة مما بين القوسين:

- ١ تكونت أقدم إمبراطورية في التاريخ على يد الملك
 - ٢ تنمو أشجار التين والزيتون في
 - ٣ أحد النباتات المائية في مصر
 - ٤ يُمكن حساب فروق التوقيت بين المدن باستخدام
- (خوفو – تحتمس الثالث – مينا – سنوسرت الثالث)
- (الصحاري – الوادي والدلتا – الجبال – الساحل الشمالي)
- (الصبار – الزيتون – البوص – النخيل)
- (خطوط الطول – شبكة الإحداثيات – دوائر العرض – مقياس الرسم)

السؤال الثاني

اكتب نتيجة واحدة ترتيبت على:

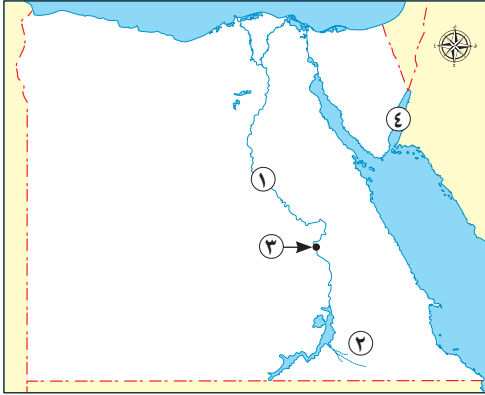
– إزالة الغابات من على سطح الأرض.



الاختبار ٧

أمامك خريطة صماء لمصر لاحظها ثم أجب:

السؤال الأول



- ١ نهر
- ٢ وادي
- ٣ تقع المدينة رقم (٣) في إقليم المناخ
- ٤ خليج

السؤال الثاني

أكمل العبارات التالية بما يناسبها من كلمات:

- ١ سجل الملك مينا انتصاراته على
- ٢ تخصصت بردية هيرست في مجال

السؤال الثالث

ما المقصود بـ:

– الموقع الفلكي؟

الاختبار ٨



السؤال الأول

اختر الإجابة الصحيحة مما بين القوسين:

- ١ يصب وادي العريش في
- (البحر الأحمر – بحيرة ناصر – خليج السويس – البحر المتوسط)
- ٢ دائرة العرض الرئيسية التي تمر في جنوب مصر هي
- (دائرة الاستواء – مدار الجدي – مدار السرطان – القطب الشمالي)
- ٣ تنشط رياح الخماسين بمصر في فصل
- (الشتاء – الربيع – الصيف – الخريف)

السؤال الثاني

أجب عما يلي:

- ١ ما العلاقة بين: موقع مصر الجغرافي – الحضارة المصرية القديمة؟
- ٢ اكتب دليلاً واحداً على: اهتمام مصر بمواجهة التغير المناخي.

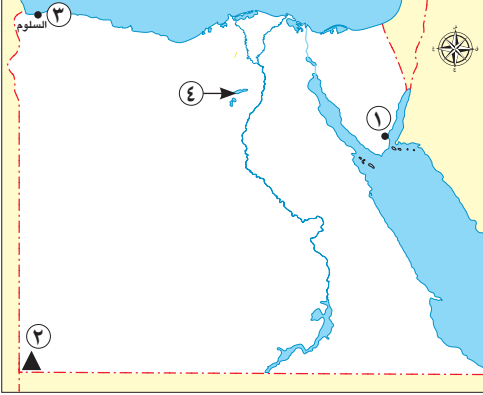


الاختبار ٩



السؤال الأول

لاحظ خريطة مصر ثم أجب:



- ١) تقع المحمية رقم (١) في محافظة
- ٢) يشير رقم (٢) إلى جبل
- ٣) صواب أم خطأ: تقع المدينة رقم (٣) في إقليم البحر المتوسط. ()
- ٤) صوب: يشير رقم (٤) لمنخفض القطارة. (.....)

السؤال الثاني

اختر الإجابة الصحيحة مما بين القوسين:

- ١) يتشابه خط جرينتش ودائرة الاستواء في
 - ٢) تتعامد أشعة الشمس خلال شهر فبراير على
- (الشكل - الحجم - الدرجة - الطول)
- (دائرة الاستواء - خط جرينتش - مدار السرطان - مدار الجدي)

السؤال الثالث

ما العلاقة بين:

- الحركات الانكسارية وجبال البحر الأحمر في مصر؟

الاختبار ١٠



السؤال الأول

اكتب كلمة (صواب) أمام العبارة الصحيحة، وكلمة (خطأ) أمام العبارة غير الصحيحة:

- ١) تنتشر أشجار التين والزيتون في وادي النيل. ()
- ٢) تقترب درجة الحرارة من الصفر المئوي في محافظة المنيا شتاءً. ()
- ٣) أدى التغير المناخي إلى تدهور التربة في مصر. ()
- ٤) بنى المصري القديم منزله من الحجر. ()

السؤال الثاني

أجب عما يلي:

- حدد وجه اختلاف بين: منخفض الفيوم ومنخفض القطارة.



سلاح التلميز

منذ عام ١٩٦٠



الدراسات الاجتماعية

2024-2025

الصف الخامس الابتدائي
الفصل الدراسي الأول

إجابات اختبارات شهر أكتوبر

5

إجابة الاختبار ١

السؤال الأول:

٢ سانت كاترين.

٤ النيل.

١ المتوسط.

٣ السرطان.

السؤال الثاني:

٢ المحميات الطبيعية.

١ التغير المناخي.

السؤال الثالث:

– انقسمت البلاد مرة أخرى إلى مملكتين.

إجابة الاختبار ٢

السؤال الأول:

٢ صواب.

٤ صواب.

١ خطأ.

٣ خطأ.

السؤال الثاني:

– يستخدم بعضها غذاء للحيوانات – تستخدم في صناعة الأدوية والعطور ومستحضرات التجميل – بعض المناطق الغنية بالنباتات الطبيعية تُعد مزارات سياحية.

إجابة الاختبار ٣

السؤال الأول:

٢ مارمريكا.

٤ البحر المتوسط.

١ خطأ.

٣ المنيا.

السؤال الثاني:

٢ صواب.

١ خطأ.

السؤال الثالث:

– النخيل لأنه من النباتات الصحراوية بينما بقية النباتات تنمو في الوادي والدلتا ومنخفض الفيوم.



٤ إجابة الاختبار

- ٢ أمنتب الأول.
- ٤ البشرية.

السؤال الأول:

- ١ الجنوب.
- ٣ الحرارة.

السؤال الثاني:

- تحديد مواقع الأماكن شمالاً وجنوباً - معرفة أحوال المناخ من حيث الحرارة والرياح والأمطار.

٥ إجابة الاختبار

- ٢ الجلف الكبير.
- ٤ ناصر.

السؤال الأول:

- ١ الأحمر.
- ٣ القطارة.

السؤال الثاني:

- ٢ صواب.

- ١ صواب.

السؤال الثالث:

- بسبب ندرة الأمطار وارتفاع درجة الحرارة خاصة في فصل الصيف.

٦ إجابة الاختبار

- ٢ الساحل الشمالي.
- ٤ خطوط الطول.

السؤال الأول:

- ١ تحتس الثالث.
- ٣ البوص.

السؤال الثاني:

- حدوث التغيرات المناخية.

٧ إجابة الاختبار

- ٢ العلاقي.
- ٤ العقبة.

السؤال الأول:

- ١ النيل.
- ٣ الصحراوي.

السؤال الثاني:

- ٢ الطب.

- ١ لوحة نعرمر.

السؤال الثالث:

- موقع المكان بالنسبة لخطوط الطول ودوائر العرض.



إجابة الاختبار ٨

السؤال الأول:

- ١ البحر المتوسط.
٢ مدار السرطان.
٣ الربيع.

السؤال الثاني:

- ١ ساعد على تواصل مصر مع غيرها من الدول وتقدم التجارة مما ساعد على ازدهار الحضارة المصرية القديمة.
٢ سن القوانين للحد من التأثير السلبي للأنشطة البشرية على البيئة - التوسع في استخدام وسائل النقل المستدام ومصادر الطاقة النظيفة - تخزين مياه السيول وتطوير البنية التحتية وصيانتها - إعادة تدوير مياه الصرف وتحلية مياه البحر - نشر الوعي بخطورة تأثير التغير المناخي على الفرد والمجتمع - استضافة مصر لمؤتمر الأمم المتحدة للتغير المناخي (COP 27) في شرم الشيخ في نوفمبر ٢٠٢٢ م.

إجابة الاختبار ٩

السؤال الأول:

- ١ جنوب سيناء.
٢ العوينات.
٣ صواب.
٤ الفيوم.

السؤال الثاني:

- ١ الدرجة.
٢ مدار الجدي.

السؤال الثالث:

- تكونت جبال البحر الأحمر بفعل الحركات الانكسارية التي أصابت الصخور الصلبة، فأدت لارتفاع بعضها وانخفاض البعض الآخر.

إجابة الاختبار ١٠

السؤال الأول:

- ١ خطأ.
٢ صواب.
٣ صواب.
٤ خطأ.

السؤال الثاني:

- يتميز منخفض الفيوم بأن تربته خصبة نتيجة وصول مياه نهر النيل إليه عبر ترعة بحر يوسف، بينما لا تصل مياه النيل إلى منخفض القطارة.



سلاح التلميز

منذ عام ١٩٦٠



المهارات المهنية

2024-2025

الصف الخامس الابتدائي
الفصل الدراسي الأول
نماذج اختبارات شهر أكتوبر

5

الاختبار ١

السؤال الأول ضع علامة (✓) أمام العبارة الصحيحة، وعلامة (X) أمام العبارة غير الصحيحة:

- ١ يساعد سائق الحافلة السائحين على تسجيل بياناتهم داخل الفندق. ()
- ٢ الدخول لبنك المعرفة المصري يكون باشتراك شهري. ()
- ٣ يقوم المعلم بتصويب ومراجعة الأعمال التي يقوم بها التلاميذ. ()
- ٤ يجب على التلاميذ تطبيق ما يتعلمونه بشكل عملي. ()
- ٥ يتكوّن السماد العضوي من قشور الخضراوات والفاكهة. ()

السؤال الثاني اختر الإجابة الصحيحة ممّا يلي:

- ١ الإشراف على جميع العاملين في المدرسة من مهام
أ المرشد السياحي ب الزائرة الصحيّة ج مدير المدرسة د موظف الاستقبال
- ٢ جُمِلَ البحث يجب أن تكون
أ محددة ب عامة ج شاملة د ضعيفة
- ٣ تساعد مهارة الاستماع لوجهات نظر مختلفة.
أ القراءة ب الكتابة ج التنظيم د الحوار
- ٤ صناعة السجّاد (الكليم) وصناعة الخزف من
أ الصناعات الكيماوية ب الحرف اليدوية ج المحاصيل الزراعية د الأدوات الزراعية
- ٥ أمن وسلامة التلاميذ في البيئة التي يتعلّمون فيها يُعتَبَر من
أ حقوقهم ب واجباتهم ج مسؤوليّاتهم د نشاطاتهم

السؤال الثالث أكمل العبارات الآتية بالإجابات الصحيحة:

- ١ المسئول عن إعداد الطعام وتجهيزه داخل الفنادق هو
- ٢ يتعرف العملاء كيفية شراء المنتجات من خلال مهارة
- ٣ تصبح الثمار ناضجة وصالحة للأكل في مرحلة
- ٤ أول خطوة لكتابة مشهد مسرحي هي

السؤال الرابع فكّر ثمّ أجب:

ما مسؤولية التلاميذ تجاه ممتلكات المدرسة؟



الاختبار ٢

السؤال الأول ضع علامة (✓) أمام العبارة الصحيحة، وعلامة (X) أمام العبارة غير الصحيحة:

- ١) الاستماع إلى وجهات نظر الآخرين يساعد في تطوير الأفكار. ()
- ٢) المشاركة في الأنشطة المدرسية أمر غير ضروري لجميع التلاميذ. ()
- ٣) ليس من الضروري الاهتمام بالحديقة وإزالة الحشائش الضارة منها. ()
- ٤) مهمة معلم المدرسة التأكد من نظافة المدرسة والفصول الدراسية. ()
- ٥) عند إجراء البحث لا بُدَّ من تحديد مصادر معلومات موثوقة. ()

السؤال الثاني اختر الإجابة الصحيحة مما يلي:

- ١) سلامة جميع السائحين وتلبية طلباتهم أثناء الرحلة مهمة
 أ عامل الاستقبال ب المرشد السياحي ج طاقم الطائرة د عامل النظافة
- ٢) مهارة الحوار تساعدك في عرض
 أ منتجاتك ب مشروعاتك ج ألعابك د وجهة نظرك
- ٣) وضع قائمة بالحلول لاختيار حل مناسب من طرق حل
 أ الأسئلة ب الاختبارات ج الألغاز د المشكلات
- ٤) تعلم التلاميذ أشياء جديدة هو من
 أ حقوقهم ب واجباتهم ج مسئولياتهم د نشاطاتهم
- ٥) تعمل على تقليل نسبة التلوث في البيئة.
 أ الملاهي ب الصحاري ج الحدائق د الأنهار

السؤال الثالث أكمل العبارات الآتية بالإجابات الصحيحة:

- ١) تشتهر مصر على مستوى العالم بالحرف
- ٢) يجب إضافة لزيادة خصوبة التربة.
- ٣) تُعتبر المدرسة جزءاً مهماً من
- ٤) جُمِلَ البحث يجب أن تكون

السؤال الرابع فكّر ثم أجب:

وضح أهمية وجود موظف الاستقبال داخل المدرسة.



الاختبار ٣

السؤال الأول ضع علامة (✓) أمام العبارة الصحيحة، وعلامة (X) أمام العبارة غير الصحيحة:

- ١) يجب على التلاميذ تطبيق ما يتعلمونه بشكل فعّال. ()
- ٢) يقوم مدير المدرسة بشرح الدروس داخل الفصل. ()
- ٣) تتمُّ زراعة النباتات الجديدة عن طريق استخدام البذور أو العُقل. ()
- ٤) تقسيم المشكلة إلى أجزاء أصغر هي إستراتيجية لحل المشكلات. ()
- ٥) الدخول إلى بنك المعرفة المصري مكلف لجميع المصريين. ()

السؤال الثاني اختر الإجابة الصحيحة ممّا يلي:

- ١) يحتاج الحرفيون إلى معرفة كيفية على الأسعار مع العملاء.
 - أ فرض
 - ب التخمين
 - ج التفاوض
 - د التبرع
- ٢) يستقبل السائحين في الفندق ويساعدهم على تسجيل إقامتهم.
 - أ موظف الفندق
 - ب عامل الخدمة
 - ج طاقم الطائرة
 - د مدير الفندق
- ٣) الاستماع لوجهات النظر المختلفة يساعد على المشكلة.
 - أ تطوير
 - ب تعقيد
 - ج حلّ
 - د دراسة
- ٤) يجب على التلاميذ استخدام أجهزة المدرسة بعد الحصول على إذن من
 - أ الصديق
 - ب الأب
 - ج الأخ
 - د المعلم
- ٥) طريقة ريّ تُستخدم لريّ النباتات باستخدام زجاجة بلاستيكية مثقوبة هي الريّ بـ
 - أ الأحواض
 - ب التنقيط
 - ج الرشّ
 - د الغمر

السؤال الثالث أكمل العبارات الآتية بالإجابات الصحيحة:

- ١) الاعتناء بالكتب داخل مكتبة المدرسة مهمة يقوم بها
- ٢) يتكوّن السماد من قشور الخضراوات والفاكهة.
- ٣) المسئول عن الهبوط بالطائرة بأمان في المطار هو
- ٤) الحرف اليدوية تشمل صناعة السجّاد وصناعة

السؤال الرابع فكّر ثمّ أجب:

- ١) كيف يمكن التحقق من صحّة المعلومات التي توصلت إليها عند إجراء بحثك.



الاختبار ٤

السؤال الأول ضع علامة (✓) أمام العبارة الصحيحة، وعلامة (X) أمام العبارة غير الصحيحة:

- ١ يتكوّن السماد الكيميائي من قشور الخضراوات والفاكهة. ()
- ٢ اتّباع التلاميذ للقواعد المدرسية إحدى مسؤولياتهم تجاه المدرسة. ()
- ٣ يوفر أمين المكتبة المدرسية الطعام للتلاميذ. ()
- ٤ يقوم طاقم شركة الطيران بنقل السياح من بلدهم إلى مصر. ()
- ٥ لا بُدّ من تقديم الأدلة لتأكيد ودعم وجهة النظر حول أي مشكلة. ()

السؤال الثاني اختر الإجابة الصحيحة ممّا يلي:

- ١ المهارة التي يجب فيها الاستماع جيداً لما يُقال لفهم ما يُطلب منك هي مهارة
 أ التواصل ب حل المشكلات ج التفاوض د التعاطف
- ٢ تنظيم الغرف وتزويدها بأدوات النظافة مهمّة موظف
 أ مدير الفندق ب شبّاك التذاكر ج عامل الخدمة د خدمة الغرف
- ٣ إزالة الحشائش الضارة ضرورية بالحدائق.
 أ لهدم ب لتدمير ج للاعتناء د لإزالة
- ٤ فرصة التلاميذ في تعلّم أشياء جديدة تُعتبَر من
 أ مسؤولياتهم ب واجباتهم ج حقوقهم د أحلامهم
- ٥ يُعدّ مصدرًا موثوقًا للمعلومات.
 أ التلفاز ب الراديو ج شبكة الإنترنت د بنك المعرفة

السؤال الثالث أكمل العبارات الآتية بالإجابات الصحيحة:

- ١ تطبيق التلاميذ لما يتعلمونه بشكل عملي يساعدهم في حياتهم
- ٢ عند حل المشكلة يجب عليك التحلّي ب
- ٣ عندما تريد قراءة كتاب أو دورية في المكتبة عليك استخدام
- ٤ سلامة جميع السائحين وتلبية طلباتهم أثناء الرحلة مهمة

السؤال الرابع فكّر ثمّ أجب:

ما الوظيفة التي تقوم بها الزائرة الصحية داخل المدرسة؟

.....



الاختبار ٥

السؤال الأول ضع علامة (✓) أمام العبارة الصحيحة، وعلامة (X) أمام العبارة غير الصحيحة:

- ١ صناعة الخزف من الحرف اليدوية. ()
- ٢ مدير الفندق جزء من العاملين في قطاع السياحة في مصر. ()
- ٣ ليس من الضروري قراءة المصادر عند إعداد البحث. ()
- ٤ يجب تقديم الأدلة لتأكيد وجهة النظر حول أي مشكلة. ()
- ٥ إحدى حقوق التلاميذ الحصول على فرص متكافئة للمشاركة في الأنشطة المدرسية. ()

السؤال الثاني اختر الإجابة الصحيحة مما يلي:

- ١ يتولى الرد على الهاتف والترحيب بالزوار داخل المدرسة.
 - أ موظف الاستقبال
 - ب أمين المكتبة
 - ج مدير المدرسة
 - د الزائرة الصحيّة
- ٢ القدرة على التفاوض حول أسعار المنتجات مهارة يحتاجها
 - أ الأطباء
 - ب المدرسون
 - ج التلاميذ
 - د الحرفيون
- ٣ عند كتابة مشهد في المسرحية لا بُدَّ من اختيار وكتابة وصف عنهم.
 - أ المؤلفين
 - ب عمال الإضاءة
 - ج الشخصيات
 - د المشرفين
- ٤ يحق للتلاميذ التعلّم في بيئة
 - أ خطيرة
 - ب آمنة
 - ج مهددة
 - د ضارة
- ٥ تتم زراعة النبات عن طريق استخدام البذور أو
 - أ الثمار
 - ب الأسمدة
 - ج المبيدات
 - د العقل

السؤال الثالث أكمل العبارات الآتية بالإجابات الصحيحة:

- ١ يعتبر بنك المعرفة المصري أكبر مكتبة في العالم.
- ٢ تحديد ما يمكن وما لا يمكن القيام به داخل المدرسة يُسمّى بـ
- ٣ لزيادة خصوبة التربة يجب إضافة
- ٤ مهارة يستخدمها الحرفيون لتوضيح أهمية منتجاتهم ومميزاتها هي

السؤال الرابع فكّر ثمّ أجب:

ما المهام التي يقوم بها عامل الخدمة داخل الفندق؟



سلاح التلميز

منذ عام ١٩٦٠



المهارات المهنية

2024-2025

الصف الخامس الابتدائي
الفصل الدراسي الأول
إجابات نماذج اختبارات شهر أكتوبر

5

إجابة الاختبار ١

السؤال الأول:

✓ ٥

✓ ٤

✓ ٣

× ٢

× ١

السؤال الثاني:

٥ حقوقهم

٤ الحرف اليدوية

٣ الحوار

٢ محددة

١ مدير المدرسة

السؤال الثالث:

٤ تحديد المشكلة

٣ الحصاد

٢ التواصل

١ الطاهي

السؤال الرابع:

الحفاظ عليها وعدم إتلافها.

إجابة الاختبار ٢

السؤال الأول:

✓ ٥

× ٤

× ٣

× ٢

✓ ١

السؤال الثاني:

٥ الحداثق

٤ حقوقهم

٣ المشكلات

٢ وجهة نظرک

١ طاقم الطائرة

السؤال الثالث:

٤ محددة

٣ المجتمع

٢ الأسمدة

١ اليدوية

السؤال الرابع:

للرد على الهاتف والرسائل الإلكترونية.



إجابة الاختبار ٣

السؤال الأول:

- ١ ✓ ٢ ✗ ٣ ✓ ٤ ✓ ٥ ✗

السؤال الثاني:

- ١ التفاوض ٢ موظف الفندق ٣ حل ٤ المعلم ٥ التنقيط

السؤال الثالث:

- ١ أمين المكتبة ٢ العضوي ٣ الطيار ٤ الخزف

السؤال الرابع:

بالرجوع لمصادر أخرى مختلفة.

إجابة الاختبار ٤

السؤال الأول:

- ١ ✗ ٢ ✓ ٣ ✗ ٤ ✓ ٥ ✓

السؤال الثاني:

- ١ التواصل ٢ خدمة العُرف ٣ للاعتناء ٤ حقوقهم ٥ بنك المعرفة

السؤال الثالث:

- ١ الواقعية ٢ المرونة ٣ فهرس المكتبة ٤ طاقم الطائرة

السؤال الرابع:

الاعتناء بالتلاميذ المرضى.



إجابة الاختبار ٥

السؤال الأول:

✓ ٥

✓ ٤

× ٣

✓ ٢

✓ ١

السؤال الثاني:

٥ العُقل

٤ آمنة

٣ الشخصيات

٢ الحرفيون

١ موظف الاستقبال

السؤال الثالث:

٤ التواصل

٣ السماد

٢ القواعد المدرسية

١ رقمية

السؤال الرابع:

تنظيف الطاولة ورفع الأطباق للمطبخ.



سلاح التمهيد

منذ عام ١٩٦٠



تكنولوجيا
المعلومات
والاتصالات

2024-2025

الصف الخامس الابتدائي
الفصل الدراسي الأول
نماذج اختبارات شهر أكتوبر

5

الاختبار 1

السؤال الأول

ضع علامة (✓) أمام العبارة الصحيحة، وعلامة (X) أمام العبارة غير الصحيحة:

- 1) وحدة قياس سرعة المعالج هي ميجابت في الثانية. ()
- 2) يعتبر الاتصال بين الكمبيوتر والطابعة شبكة (LAN). ()
- 3) ظهرت الشبكة العنكبوتية WWW في تسعينيات القرن الماضي. ()
- 4) عليك الاتصال بمزوّد الخدمة إذا لاحظت أن محرك البحث بطيء. ()
- 5) تستخدم ذاكرة الفلاش لتخزين المعلومات ومشاركتها. ()
- 6) الاتصال من خلال سلك الإيثرنت أفضل من الوصلات اللاسلكية. ()
- 7) يستخدم منفذ الإيثرنت لتوصيل القرص الصلب الخارجي بالكمبيوتر. ()

السؤال الثاني

اختر الإجابة الصحيحة من بين الاختيارات التالية:

- 1) يعتبر مثلاً على إنترنت الأشياء.
أ) الماسح الضوئي ب) التسوق الإلكتروني ج) منفذ الإيثرنت د) مكبر الصوت البلوتوث
- 2) أولى خطوات حل المشكلة هي
أ) جمع البيانات ب) كتابة المشكلة ج) تحديد المشكلة د) ترك المشكلة
- 3) لإنشاء مجلد جديد نختار الأمر ثم نختار الأمر Folder.
أ) Open ب) New ج) Copy د) Paste
- 4) يستخدم في نقل الصوت والصورة من الأجهزة وإليها.
أ) سلك HDMI ب) محرك الأقراص الصلب ج) سلك الإيثرنت د) الراوتر
- 5) تتيح نقاط الوصول إلى شبكة الإنترنت من أي مكان.
أ) LAN ب) الاتصال Hotspots ج) التوصيل Connection د) WWW
- 6) تساعد ضعاف البصر على القراءة بطريقة برايل.
أ) فأرة التحكم ب) الماسح الضوئي ج) قارئ الشاشة د) الأطراف الصناعية
- 7) يستخدم برنامج PowerPoint لإعداد
أ) الفيديوهات ب) التقارير اليومية ج) المعادلات الرياضية د) العروض التقديمية
- 8) يستخدم لإدخال الصور إلى الكمبيوتر.
أ) الماسح الضوئي ب) مكبر الصوت ج) الراوتر د) سلك الإيثرنت



ضع علامة (✓) أمام العبارة الصحيحة، وعلامة (X) أمام العبارة غير الصحيحة:

- 1) الكيلوبايت يساوي 1024 ميجابايت. ()
- 2) يمكن للأفراد تنزيل مقاطع فيديو من خلال شبكة الإنترنت. ()
- 3) يستخدم البريد الإلكتروني لمشاركة المعلومات. ()
- 4) يساعد رمز الاستجابة السريعة التلاميذ في الحصول على المعلومات. ()
- 5) يجب ترك المشكلة إذا لم تستطع حلها. ()
- 6) تُعتبر شبكة الإنترنت من الشبكات المفتوحة. ()
- 7) يفضل تجاهل معايير الأمان عند إعطاء المعلومات الشخصية عبر الإنترنت. ()

اختر الإجابة الصحيحة من بين الاختيارات التالية:

- 1) يمثل الاتصال بين جهاز كمبيوتر وجهاز آخر شبكة
 أ عنكبوتية عالمية ب الإنترنت ج LAN د الإنترنت
- 2) يتم تخزين الملفات ومشاركتها باستخدام
 أ الميكروفون ب ذاكرة فلاش ج الشاشة د البرامج التلفزيونية
- 3) يربط جهاز الكمبيوتر بالراوتر (جهاز التوجيه).
 أ سلك الإيثرنت ب الماسح الضوئي
 ج القرص الصلب د سلك HDM
- 4) تحتاج إلى للاتصال بشبكة الإنترنت.
 أ الفأرة ب الشاشة ج البوابة Gateway د لوحة المفاتيح
- 5) إذا لم تتوصل إلى حل مشكلة في جهازك، يجب عليك
 أ ترك المشكلة ب استبدال الجهاز
 ج عدم استخدام الجهاز د الاستعانة بأحد أفراد الأسرة
- 6) دراسة الحلول المحتملة عند حل المشكلات هي الخطوة
 أ الأولى ب الثانية ج الثالثة د الأخيرة
- 7) يفضل تخزين مقاطع الفيديو في مجلد داخل الكمبيوتر.
 أ New ب Documents ج Pictures د Videos
- 8) وحدة قياس سرعة المعالج هي
 أ ميجابايت ب ميجابايت ج جيجاهيرتز د ميجابايت في الثانية



الاختبار 3

السؤال الأول

ضع علامة (✓) أمام العبارة الصحيحة، وعلامة (X) أمام العبارة غير الصحيحة:

- 1) تربط شبكة البلوتوث الأجهزة المختلفة عبر المدى البعيد. ()
- 2) يُفضل حفظ الصور في مجلد Pictures. ()
- 3) أحد أسباب بقاء الإنترنت هو أن يكون الاتصال اللاسلكي ضعيفاً. ()
- 4) اتصال الأجهزة بالراوتر يكون عن طريق الـ Wi-Fi فقط. ()
- 5) لا تفيد شبكات الكمبيوتر الأشخاص ذوي الهمم. ()
- 6) يجب التحقق من تحديثات البرامج إذا كان لا يوجد اتصال بالإنترنت. ()
- 7) عند حل مشكلة ما يجب تجربة كل الحلول الممكنة إلى أن ينجح أحدها. ()

السؤال الثاني

اختر الإجابة الصحيحة من بين الاختيارات التالية:

- 1) لإنشاء مجلد جديد نختار من قائمة New.

د Document	ج Shortcut	ب Folder	أ File
------------	------------	----------	--------
- 2) كلمة "كمبيوتر" تحتاج إلى بايت لتمثيلها في الذاكرة.

د 7	ج 6	ب 2	أ 1
-----	-----	-----	-----
- 3) تم ظهور في أواخر الثمانينيات.

د الهواتف الذكية	ج الشبكة العنكبوتية	ب خط المشترك الرقمي	أ الهاتف المنزلي
------------------	---------------------	---------------------	------------------
- 4) اتخاذ معايير الأمان قبل شراء أي شيء من الإنترنت يسمى

د إنترنت الأشياء	ج المواطنة الرقمية	ب الخصوصية الرقمية	أ الشبكات
------------------	--------------------	--------------------	-----------
- 5) يجب التأكد من أن جهاز التوجيه متصل إذا كان

ب محرك البحث يعمل ببطء	د جهاز الكمبيوتر بطيئاً	أ لا يوجد اتصال بالإنترنت	ج التحميل بطيئاً
------------------------	-------------------------	---------------------------	------------------
- 6) تستخدم لالتقاط الصور ومقاطع الفيديو.

د الكاميرا الرقمية	ج الشبكة LAN	ب ذاكرة الفلاش	أ الطابعة
--------------------	--------------	----------------	-----------
- 7) تيرابايت (TB) تساوي 1024

د جيجابايت (GB)	ج ميغابايت (MB)	ب كيلوبايت (KB)	أ بت (bit)
-----------------	-----------------	-----------------	------------
- 8) شبكة معمل الكمبيوتر في المدرسة تعتبر شبكة

د معقدة	ج عالمية	ب مغلقة	أ مفتوحة
---------	----------	---------	----------



الاختبار 4

السؤال الأول

ضع علامة (✓) أمام العبارة الصحيحة، وعلامة (X) أمام العبارة غير الصحيحة:

- () 1 يمكن استخدام الإنترنت لحل مشكلة بطء تطبيقات جهاز الكمبيوتر.
- () 2 لا يمكن تنظيم الملفات وحفظها في مجلدات.
- () 3 الإنترنت شبكة تربط أجهزة الكمبيوتر والأشخاص من جميع أنحاء العالم.
- () 4 انتشرت أجهزة الـ Wi-Fi في سبعينيات القرن الماضي.
- () 5 مشكلة عدم القدرة على تخزين الملفات تكون بسبب ضعف سرعة الإنترنت.
- () 6 تستخدم أسلاك HDMI لنقل الصوت والصورة من وإلى الأجهزة بجودة عالية.
- () 7 يفضل وضع الصور في مجلد الجداول الحسابية.

السؤال الثاني

اختر الإجابة الصحيحة من بين الاختيارات التالية:

- 1 أصغر وحدة بيانات تسمى
أ بت (bit) ب كيلوبايت (KB) ج ميجابايت (MB) د جيجابايت (GB)
- 2 اتباع خطوات محددة عند وجود مشكلة تساعد على
أ تعقيد المشكلة ب البعد عن المشكلة ج اكتشاف المشكلة وحلها د تجنب المشكلة
- 3 شراء الأغراض عبر الإنترنت يسمى بـ عبر الإنترنت.
أ القرصنة ب التسوق ج الخصوصية د الاختراق
- 4 تتصل الأجهزة التي تستخدم «إنترنت الأشياء» عن طريق
أ LAN ب Wi-Fi ج ذاكرة الفلاش د سلك الإنترنت
- 5 يجب وضع مناسب لكل ملف أو مجلد.
أ مكان ب عنوان ج حجم د حدود
- 6 وحدة قياس سرعة الإنترنت هي
أ جيجابايت ب ميجابايت ج جيجاهيرتز د ميجابت في الثانية
- 7 يقوم ذوو الهمم بأداء واجباتهم المدرسية عبر الإنترنت عن طريق استخدام
أ الماسح الضوئي ب الفأرة ج قارئ الشاشة د الطابعة
- 8 يفضل استخدام في مشاركة المعلومات.
أ الفيروسات ب شبكات الكمبيوتر ج التصيد الاحتيالي د التطبيقات الخبيثة



الاختبار 5

السؤال الأول

ضع علامة (✓) أمام العبارة الصحيحة، وعلامة (X) أمام العبارة غير الصحيحة:

- 1) شراء الأغراض عبر الإنترنت يسمى بإنترنت الأشياء. ()
- 2) يعمل محرك القرص الصلب الخارجي بشكل أسرع من محرك القرص الثابت. ()
- 3) تستخدم المؤسسات الشبكات المغلقة والمفتوحة لمشاركة المعلومات. ()
- 4) تعد شبكة الإنترنت جزءاً من الشبكة العنكبوتية العالمية (WWW). ()
- 5) اتباع خطوات اكتشاف المشكلات يساعد على حل مشكلات الكمبيوتر. ()
- 6) يمكن تنظيم الملفات الموجودة على جهازك باستخدام المجلدات. ()
- 7) نظام التشغيل يسمح لك بإضافة مجلد فرعي داخل المجلد الرئيسي. ()

السؤال الثاني

اختر الإجابة الصحيحة من بين الاختيارات التالية:

- 1) يربط جهاز الكمبيوتر بمزود خدمة الإنترنت (ISP).
 أ الراوتر ب LAN ج سلك HDMI د المعالج
- 2) تقنية تربط الأجهزة المحمولة اللاسلكية عبر المدى القصير.
 أ الإيثرنت ب إنترنت الأشياء ج LAN د البلوتوث
- 3) أحد أسباب مشكلة عدم القدرة على تخزين الملفات
 أ ضعف خدمة الإنترنت ب انقطاع الاتصال بالإنترنت
 ج عدم وجود مساحة كافية د ضعف سرعة المعالج
- 4) يفضل تخزين المستندات في مجلد داخل الكمبيوتر.
 أ New ب Documents ج Pictures د Images
- 5) الجيجابايت تساوي ميجابايت.
 أ 24 ب 1024 ج 1000 د 2048
- 6) مجموعات من الأشخاص أو الأشياء المترابطة ببعضها تسمى ب
 أ الأفراد ب الاتصال ج الشبكات د الهيئات
- 7) شبكة تتكون من صفحات شبكية أو صفحات ويب ينتقل بينها الأشخاص هي الشبكة
 أ العنكبوتية العالمية ب المحلية ج المغلقة د الخاصة
- 8) تحديد المشكلة هي الخطوة في خطوات حل المشكلة.
 أ الأولى ب الثانية ج الثالثة د الرابعة



سلاح التمهيد

منذ عام ١٩٦٠



تكنولوجيا
المعلومات
والاتصالات

2024-2025

الصف الخامس الابتدائي
الفصل الدراسي الأول
إجابة نماذج اختبارات شهر أكتوبر

5

1 إجابة الاختبار

X 4

✓ 3

✓ 2

X 1

X 7

✓ 6

✓ 5

السؤال الأول

السؤال الثاني

HDMI سلك 4
الماسح الضوئي 8

New 3
العروض التقديمية 7

تحديد المشكلة 2
قارئ الشاشة 6

مكبر الصوت البلوتوث 1
Hotspots الاتصال 5

2 إجابة الاختبار

✓ 4

✓ 3

✓ 2

X 1

X 7

✓ 6

X 5

السؤال الأول

السؤال الثاني

Gateway الدوابة 4
جيجاهايرتز 8

سلك الإيثرنت 3
Videos 7

ذاكرة الفلاش 2
الثالثة 6

LAN 1
الاستعانة بأحد أفراد الأسرة 5

3 إجابة الاختبار

X 4

✓ 3

✓ 2

X 1

✓ 7

X 6

X 5

السؤال الأول

السؤال الثاني

خط المشترك الرقمي 3
الكاميرا الرقمية 6

7 2
لا يوجد اتصال بالإنترنت 5

مغلقة 8

Folder 1
الخصوصية الرقمية 4
جيجابايت (GB) 7



4 إجابة الاختبار

X 4

✓ 3

X 2

X 1

X 7

✓ 6

X 5

السؤال الأول

السؤال الثاني

1 بت (bit)

5 عنوان

2 اكتشاف المشكلة وحلها

6 ميجابت في الثانية

3 التسوق

7 قارئ الشاشة

4 Wi-Fi

8 شبكات الكمبيوتر

5 إجابة الاختبار

X 4

✓ 3

X 2

X 1

✓ 7

✓ 6

✓ 5

السؤال الأول

السؤال الثاني

1 الراوتر

4 Documents

7 العنكبوتية العالمية

2 البلوتوث

5 1024

8 الأولى

3 عدم وجود مساحة كافية

6 الشبكات



سلاح التلميز

منذ عام ١٩٦٠



التربية الدينية الإسلامية

2024-2025

الصف الخامس الابتدائي
الفصل الدراسي الأول
نماذج اختبارات شهر أكتوبر

5

الاختبار ١

أولاً: القرآن الكريم اقرأ الآيات، ثم أجب:

قال (تعالى): ﴿إِنَّ الْأَبْرَارَ لَفِي نَعِيمٍ ﴿١٣﴾ وَإِنَّ الْفُجَّارَ لَفِي حَجِيمٍ ﴿١٤﴾ يَصَلُّونَهَا يَوْمَ الَّذِينَ ﴿١٥﴾ وَمَا هُمْ عَنْهَا بِغَائِبِينَ ﴿١٦﴾

أ) اكتب حتى قوله (تعالى): ﴿وَالأَمْرُ يُؤَمِّدُ لِلَّهِ﴾.

ب) ما معنى ﴿نَعِيمٍ﴾:، ﴿الْفُجَّارَ﴾:

ج) حكم النون في كلمة ﴿عَنَّا﴾: (الإدغام - الإظهار - الإخفاء - الإقلاب)

د) ماذا أعدَّ الله ﷻ لعباده المؤمنين في الآخرة؟

ثانياً: الحديث الشريف اقرأ الحديث، ثم اختر الإجابة الصحيحة:

قال رسول الله ﷺ: «مَا أَطْيَبُكَ مِنْ بَلَدٍ! وَأَحَبُّكَ إِلَيَّ! وَلَوْلَا أَنَّ قَوْمَكَ أَخْرَجُونِي مِنْكَ مَا سَكَنْتُ غَيْرَكَ»

أ) البلد المقصود في الحديث السابق: (المدينة المنورة - قباء - مكة)

ب) نتعلم من الحديث الشريف (حب الوطن - الدعاء على الظالمين - الحرية)

ثالثاً: العقائد أجب عما يلي:

أ) ضع علامة (✓) أمام العبارة الصحيحة، وعلامة (X) أمام العبارة غير الصحيحة:

١) العبادة تشمل حركة الحياة كلها. ()

٢) الصوم من العبادات السرية بين العبد وربه. ()

٣) اسم الله الودود يعني الذي خلق العباد في أحسن صورة. ()

ب) ما مظاهر ود الله ﷻ لنا في الكون؟

رابعاً: السير والشخصيات أجب عما يلي:

أ) اختر الإجابة الصحيحة مما بين القوسين:

١) هاجر المسلمون إلى بعد بيعة العقبة الثانية. (الطائف - المدينة - الحبشة)

٢) نام ﷺ في فراش النبي ﷺ ليلة الهجرة. (علي بن أبي طالب - أبو بكر الصديق - عامر بن فهيرة)

٣) وُلِدَ نبي الله في مصر. (إبراهيم ﷺ - يعقوب ﷺ - موسى ﷺ)

ب) أجب: لماذا أمر فرعون بقتل كل ذكر يُولَد من بني إسرائيل؟



الاختبار ٢

أولاً: القرآن الكريم اقرأ الآيات، ثم أجب:

قال (تعالى): ﴿إِذَا السَّمَاءُ أَنْفَطَرَتْ ۝١ وَإِذَا الْكَوَاكِبُ ۝٢﴾ وَإِذَا ۝٣ فُجِّرَتْ ۝٤ وَإِذَا ۝٥ بُعِثَتْ ۝٦

عَلِمَتْ نَفْسٌ مَّا قَدَّمَتْ وَأَخَّرَتْ ۝٧﴾ .

أ) اكتب الكلمات المحذوفة من الآيات.

ب) ما معنى ﴿أَنْفَطَرَتْ﴾: ، ﴿بُعِثَتْ﴾: ؟

ج) حكم التنوين في ﴿نَفْسٌ مَّا﴾:

د) تتحدث سورة الانفطار عن

(الإدغام بغنة - الإظهار - الإخفاء - الإقلاب)
(قصة موسى ﷺ - يوم القيامة - عبادة الحج)

ثانياً: الحديث الشريف

قال رسول الله ﷺ: «أَحِبُّوا اللَّهَ لِمَا يَغْذُوكُمْ مِنْ نِعَمِهِ» .

أ) ما معنى (يغذوكم)

ب) إلى أي شيء يرشدنا الحديث الشريف؟

ج) كيف تُعبّر عن حُبِّك لله ﷻ؟

ثالثاً: العقائد أجب عما يلي:

أ) ضع علامة (✓) أمام العبارة الصحيحة، وعلامة (X) أمام العبارة غير الصحيحة:

١) السخرية من الآخرين سلوك سيئ يجب تركه. ()

٢) اتباع نظام غذائي صحي يزكي علاقتنا بالناس. ()

٣) العبادة تنظّم حياة الإنسان وتُحقّق له السعادة. ()

ب) لماذا خلق الله ﷻ الإنسان في الكون؟

رابعاً: السير والشخصيات أجب عما يلي:

أ) اختر الإجابة الصحيحة مما بين القوسين:

١) وجدت في موسى ﷺ الابن الذي تمنته. (مريم - آسية - خديجة)

٢) أقام الرسول ﷺ بغار ثور أيام. (ثلاثة - أربعة - خمسة)

٣) كانت أسماء بنت أبي بكر رَضِيَ اللَّهُ عَنْهَا تحمل إلى الغار. (الأخبار - السلاح - الطعام)

ب) أجب: كيف استقبل أهل يثرب الرسول ﷺ وصاحبه؟



الاختبار ٣

أولاً: القرآن الكريم اقرأ الآيات، ثم أجب:

قال (تعالى): ﴿بَتَّأَيُّهَا الْإِنْسَانُ مَا غَرَّكَ رَبِّكَ الْكَرِيمِ ﴿٦﴾ الَّذِي خَلَقَكَ فَسَوَّنَكَ فَعَدَلَكَ ﴿٧﴾ فِي أَيِّ صُورَةٍ مَا شَاءَ رَكَّبَكَ ﴿٨﴾ كَلَّا بَلْ تُكْذِبُونَ

بِالَّذِينَ ﴿١﴾

أ اكتب حتى قوله (تعالى): ﴿يَعْمَلُونَ مَا نَفْعَلُونَ﴾.

ب ما معنى ﴿فَسَوَّنَكَ﴾

ج حكم النون في كلمة ﴿صُورَةٍ مَّا﴾:

د كيف خلق الله ﷻ الإنسان؟

ثانياً: الحديث الشريف اقرأ الحديث الشريف، ثم أجب:

قال رسول الله ﷺ: «وَحَالِقِ النَّاسِ بِ.....».

أ اكتب المحذوف من الحديث الشريف.

ب أكمل: يجب أن تكون معاملتنا فيها الطيب، و المحتاج.

ج كيف يُزَكِّي الإنسان نفسه؟

ثالثاً: العقائد أجب عما يلي:

أ اختر الإجابة الصحيحة مما بين القوسين:

١ من المهام الأساسية للإنسان في الحياة (جمع المال - عمارة الكون - كثرة النوم)

٢ معنى (الودود) (واسع الرحمة - عظيم المغفرة - كثير الود والمحبة)

٣ العبادة تحقق للإنسان السعادة في (الدنيا - الآخرة - هما معا)

ب ما المقصود بالعبادة؟

رابعاً: السير والشخصيات أجب عما يلي:

أ ضع علامة (✓) أمام العبارة الصحيحة، وعلامة (X) أمام العبارة غير الصحيحة:

١ أعدَّ الرسول ﷺ حُطَّةً مُحَكِّمَةً للهجرة إلى المدينة. ()

٢ كان أبو بكر الصديق رَضِيَ اللهُ عَنْهُ يطمع في صحبة الرسول ﷺ. ()

٣ فرح فرعون بموسى عَلَيْهِ السَّلَامُ ورأى فيه الابن الذي تمنَّاهُ. ()

ب أجب: ما الدروس التي نتعلمها من هجرة الرسول ﷺ؟

.....



الاختبار ٤

أولاً: القرآن الكريم اقرأ الآيات، ثم أجب:

قال (تعالى): ﴿إِذَا السَّمَاءُ انْفَطَرَتْ ۝١ وَإِذَا الْكَوَاكِبُ انْتَرَتْ ۝٢ وَإِذَا الْبِحَارُ فُجِرَتْ ۝٣ وَإِذَا الْقُبُورُ بُعِثَتْ ۝٤ عَلِمْتَ نَفْسٌ مَّا قَدَّمَتْ وَأَخَّرَتْ ۝٥ يَا أَيُّهَا الْإِنْسَانُ مَا غَرَّكَ بِرَبِّكَ الْكَرِيمِ ۝٦﴾
 ما معنى ﴿فُجِرَتْ﴾: ، ﴿مَا غَرَّكَ﴾:

- أ) أين نزلت سورة الانفطار؟ وما موضوعها؟
 ب) ما التغيرات التي تحدث في الكون يوم القيامة؟
 ج) اختر: حكم النون في كلمة ﴿انْتَرَتْ﴾: (الإدغام - الإظهار - الإخفاء - الإقلاب)

ثانياً: الحديث الشريف

قال رسول الله ﷺ: «مَا ظَنُّكَ يَا أَبَا بَكْرٍ بِ.....، اللَّهُ.....»
 أ) املاً الفراغات في الحديث الشريف.

ب) ما المناسبة التي قيل فيها هذا الحديث؟

ثالثاً: العقائد أجب عما يلي:

صل كل عبارة بما يناسبها:

تزكي علاقتنا بالكون من حولنا.

١) العبادة هي

يشكر الله ﷻ على جميع نعمه.

٢) اسم الله (تعالى) الودود

طاعة الله في كل ما يحبه ويرضاه.

٣) زراعة الأرض وريها بالماء

يعني الذي يتوود لعباده بالنعم.

٤) يجب على الإنسان أن

رابعاً: السير والشخصيات أجب عما يلي:

أ) اكتب اسم الشخصية أمام كل عبارة:

- ١) كان دليل الرسول ﷺ في الهجرة لخبرته في الطرق. (.....)
 ٢) أوحى إلى الرسول ﷺ بمكر كفار قريش، وقال له: لا تبت في فراشك الليلة. (.....)
 ٣) نبي من أنبياء بني إسرائيل ولد في مصر. (.....)

ب) أجب: لماذا أرسل الله ﷻ الأنبياء والرسل؟



الاختبار ٥

أولاً: القرآن الكريم اقرأ الآيات، ثم أجب:

قال (تعالى): ﴿كَلَّا بَلْ تُكذِّبُونَ بِالَّذِينَ ۙ وَإِنَّ عَلَيْكُمْ

لَعْنَى ۙ وَإِنَّ ۙ لَعْنَى جَحِيمٍ ۙ﴾.

أ) اكتب الكلمات المحذوفة من الآيات.

ب) ما معنى ﴿بِالَّذِينَ﴾:

ج) الكرام الكاتبون مسئولون عن:

د) حكم التنوين في ﴿كِرَامًا كٰتِبِيْنَ﴾:

(الرياح والأمطار - الوحي - كتابة أعمال العباد)

(الإدغام بدون غنة - الإظهار - الإخفاء - الإقلاب)

ثانياً: الحديث الشريف

قال رسول الله ﷺ: «إِذَا أَحَبَّ الرَّجُلُ أَخَاهُ فَ.....»

أ) اكتب المحذوف من الحديث الشريف.

ب) كيف يكون الإنسان ودوداً مع الناس؟

ثالثاً: العقائد

أ) أكمل الجمل الآتية بالكلمة المناسبة (العبادة - الود - النعم - تسخير):

١) من مظاهر ود الله الكون لمصلحة الناس.

٢) هو الفعل الجميل الناتج عن الشعور بالحب.

٣) تشمل كل الأقوال والأفعال الظاهرة والباطنة.

٤) من علامات حب العبد لله شكره على

ب) ما المقصود بالعبادة؟

رابعاً: السير والشخصيات أجب عما يلي:

صل من العمود الأول بما يناسبه في العمود الثاني:

١) أولاد نبي الله يعقوب عليه السلام

المدينة المنورة

٢) كان اسمها يثرب قبل قدوم الرسول صلى الله عليه وسلم إليها

أم موسى عليها السلام

٣) استضافت الرسول صلى الله عليه وسلم وصاحبه في طريقهما للهجرة

بنو إسرائيل

٤) بشرها الله صلى الله عليه وسلم بنجاة ابنها من فرعون

أم معبد



سلاح التلميز

منذ عام ١٩٦٠



التربية الدينية الإسلامية

2024-2025

الصف الخامس الابتدائي
الفصل الدراسي الأول
إجابات نماذج اختبارات شهر أكتوبر

5

إجابة الاختبار ١

- المشركون بالله تعالى.
- أعد الله لهم الجنات التي فيها النعيم الدائم.

ب) حب الوطن.

٣) x

٢) ✓

ب) كل ما حولنا في الكون من النعم هو تودد من الله (تعالى)؛ كالشمس والأرض والأمطار والأسماك... إلخ.

رابعًا: السير والشخصيات

- أ) المدينة.
- ب) لأنه شاع بين بني إسرائيل أن الله (تعالى) سيبعث من نسل إبراهيم عليه السلام نبياً يكون هلاك ملك مصر على يديه.

٣) موسى عليه السلام.

٢) علي بن أبي طالب.

إجابة الاختبار ٢

- فُتِحَتْ وخرج مَنْ فيها من الموتى.
- يوم القيامة.

ج) بشكر نعمته وطاعة أوامره والابتعاد عن كل ما يغضبه.

٣) ✓

٢) x

ب) خلق الله الإنسان ليعرفه ويعبده ويعمر الكون.

ثانيًا: الحديث الشريف

- أ) يعطيكم بكمه
- ب) حب الله ﷻ.

ثالثًا: العقائد

أ) ✓

ب) ✓

أولًا: القرآن الكريم

- أ) أجب بنفسك.
- ب) • متع الجنة التي لا تزول.
- ج) الإظهار.

ثانيًا: الحديث الشريف

أ) مكة.

ثالثًا: العقائد

أ) ✓

ب) ✓



رابعًا: السير والشخصيات

- أ (١) أسية. (٢) ثلاثة. (٣) الطعام.
ب استقبل أهل المدينة الرسول ﷺ وصاحبه بالفرح والسرور والأناشيد.

إجابة الاختبار ٣

أولًا: القرآن الكريم

- أ أجب بنفسك. (ب) جعل أعضائك سليمة سوية.
ج الإدغام بغنة. (د) خلقه في أحسن صورة.

ثانيًا: الحديث الشريف

- أ أجب بنفسك. (ب) القول - مساعدة.
ج بطاعة الله ﷻ والحفاظ على نفسه من الأذى، وألا يقلل من شأنها، ويتحلى بالأخلاق الحميدة.

ثالثًا: العقائد

- أ (١) عمارة الكون. (٢) كثير الود والمحبة. (٣) هما معًا.
ب هي طاعة الله في كل ما يحبه ويرضاه من الأقوال والأفعال الظاهرة والباطنة.

رابعًا: السير والشخصيات

- أ (١) ✓ (٢) ✓ (٣) ✗
ب تتعلم منها الصبر والثقة بالله والتعاون والعمل الجماعي.

إجابة الاختبار ٤

أولًا: القرآن الكريم

- أ • فتحت جوانبها؛ فصارت بحرًا واحدًا. • أي شيء خدعك؟!
ب نزلت في مكة، وموضوعها يصف يوم القيامة وحال الإنسان يوم الحساب.
ج تنشق السماء، وتكف الكواكب عن الدوران، وتنفجر البحار.
د الإخفاء.

ثانيًا: الحديث الشريف

- أ أجب بنفسك.
ب عندما قال أبو بكر رَضِيَ اللَّهُ عَنْهُ للرسول ﷺ في الغار: (لو نظر أحدهم تحت قدميه لرآنا..)



ثالثاً: العقائد

- ١) طاعة الله في كل ما يحبه ويرضاه.
٢) يعني الذي يتوحد لعباده بالنعم.
٣) تزكي علاقتنا بالكون من حولنا.
٤) يشكر الله ﷻ على جميع نعمه.

رابعاً: السير والشخصيات

- أ) عبد الله بن أريقط.
ب) لهداية الناس إلى طريق الله تعالى.
١) جبريل ﷺ .
٢) موسى ﷺ .
٣) ٤)

٥ إجابة الاختبار

أولاً: القرآن الكريم

- أ) أجب بنفسك.
ب) كتابة أعمال العباد.
ب) بالحساب.
د) الإخفاء.

ثانياً: الحديث الشريف

- أ) أجب بنفسك.
ب) بإلقاء السلام والتبسم للناس.
• مساعدة الآخرين.

ثالثاً: العقائد

- أ) تسخير.
ب) الود.
ب) هي طاعة الله في كل ما يحبه ويرضاه من الأقوال والأفعال الظاهرة والباطنة.
١) ٢) ٣) ٤) العبادة. النعم.

رابعاً: السير والشخصيات

- ١) بنو إسرائيل.
٢) المدينة المنورة.
٣) أم معبد.
٤) أم موسى ﷺ .

