

سلاح التلميذ

منذ عام ١٩٦٠



اللغة
العربية

2024-2025

الصف الرابع الابتدائي
الفصل الدراسي الأول

اختبارات شهر أكتوبر

4

الاختبار ١

(نص الاستماع صفحة ١٢)

السؤال الأول (الاستماع) استمع، ثم أجب:

ضع علامة (✓) أمام العبارة الصحيحة، وعلامة (X) أمام العبارة غير الصحيحة:

- ١) تحدث عميد كلية الهندسة إلى الطلاب الجدد. ()
- ٢) يقتصر دور الطبيب على تقديم الدواء للمريض. ()
- ٣) الدكتور مجدي يعقوب قدوة صالحة للأطباء. ()

السؤال الثاني (التعبير الكتابي) اقرأ هذا النص الوصفي، ثم أكمل:

«يوم الخميس الماضي ذهبت أنا وأسرتي إلى النيل، وقضينا رحلة نهريّة ممتعة، حيث ركبنا المركب الشراعي، وهو قارب صغير مصنوع من الخشب، ويوجد أعلاه شراع كبير، ويستخدم المركب الشراعي في التنقل في الأنهار والبحار، ويتميز بخفة الوزن وصغر الحجم، ولكن من عيوبه أنه قد تتلف بعض أجزائه فيتعرض الركاب للغرق، والمركب الشراعي وسيلة رائعة للتنزه والترفيه، وهو يشبه السفينة في قدرتها على التنقل في المياه، ويختلف عنها في الحجم والمساحة، فما أجمل المركب الشراعي!».

- ١) شكله:
- ٢) استخداماته:
- ٣) عيوبه:
- ٤) مميزاته:

السؤال الثالث (النص الأدبي) اقرأ الفقرة التالية:

«حين كنت صغيراً، سألت جدي ماذا تخبئ في صندوقك الخشبي يا جدي؟ أجاب جدي: كنز لا يُقدَّر بثمن يا علي. أسرعت إلى الصندوق، وفتحت غطاءه؛ كي أري ذلك الكنز، لكنني لم أجد سوى حفنة من تراب، وأسرعت إلى جدي وأخبرته بأن اللصوص قد سرقوا الكنز؛ فابتسم جدي قائلاً: لم يسرق اللصوص شيئاً. بدت على وجهي علامات التعجب، وصحت قائلاً: ألم تقل لي يا جدي أنك تملك كنزاً ثميناً؟ ضحك وقال: وهل هناك يا بني شيء في العالم أغلى من تراب الوطن.».

أ) استخراج من الفقرة ما يلي:

- ١) مرادف (ظهرت):
- ٢) مفرد (أحيان):

ب) ضع علامة (✓) أمام العبارة الصحيحة، وعلامة (X) أمام العبارة غير الصحيحة:

- ١) سرق اللصوص الكنز الذي في الصندوق. ()
- ٢) كان الكنز عبارة عن مجوهرات ثمينة. ()
- ج) أجب: ما أغلى شيء في رأي الجد؟

السؤال الرابع (النص المعلوماتي) اقرأ الفقرة التالية:

«من المعروف أن تسلق الجبال يحتاج إلى استعدادات خاصة؛ فيجب أن يربط المتسلقون حبالاً طويلةً متينةً حول أجسامهم، ويعقدونها بعقدة قوية؛ فلا يسقط متسابق إذا ما أفلتت يده في أثناء التسلق؛ وإنما يتدلى ممسكاً بالحبل؛ لذا فهي تعد من الرياضات الخطرة، ويجب الحذر عند ممارستها.».



١ اختر المرادف الصحيح مما بين القوسين:

١ (عقدة): (حلقة - وصلة - قطعة - ربطة)

٢ (يتدلى): (يبعد - ينزل - يقف - يصعد)

ب ضع علامة (✓) أو (X) أمام ما يلي: رياضة تسلق الجبال تحتاج إلى تجهيزات واستعدادات. ()

ج أجب: بماذا وصف الكاتب رياضة تسلق الجبال؟

السؤال الخامس (النص الشعري) اقرأ البيتين التاليين، ثم أجب:

اسْلَمِي يَامِصْرُ دَوْمًا
أَنْتِ لِي نُورُ الْفُؤَادِ
ذِي يَدِي سَلْمًا وَحَرْبًا
نَحْنُ دِرْعُ لِلْبِلَادِ

١ اختر: معنى (ذي): (التي - هذه - الذي - هذا)

ب أكمل: يدعو الشاعر لمصر بـ

ج هات من البيتين: تعبيرًا مجازيًا.

السؤال السادس (القواعد النحوية) اقرأ، ثم أجب:

«كرة اليد رياضة من الرياضات الممتعة، ويتكون كل فريق من ٧ لاعبين، منهم حارس مرمي، ويستخدم هؤلاء اللاعبون الأيدي في تمرير الكرة وتسديدها، ويدير المباراة حكمان، وتنقسم المباراة إلى شوطين، كل شوط ٣٠ دقيقة».

١ استخرج من الفقرة ما يلي:

١ اسمًا: ■ علامته:
٢ جمعًا: ■ نوعه:

ب اختر الإجابة الصحيحة مما بين القوسين:

١ كلمة (يتكون): فعل (ماض - مضارع - أمر)

٢ كلمة (حكمان): (مفرد - مثنى - جمع)

ج حول الجملة الفعلية إلى جملة اسمية: تنقسم المباراة إلى شوطين.

السؤال السابع (الخط العربي) اكتب بخط النسخ:

مصر جنة الله في الأرض.

السؤال الثامن (الإملاء) اختر الإجابة الصحيحة مما بين القوسين:

١ ما أجمل الصدق ■ (! / . / ؟)

٢ القراءة تغذي العقل ■ (. / : / !)

٣ هل فكرت في السفر خارج مصر ■ (! / . / ؟)



الاختبار ٢

(نص الاستماع صفحة ١٢)

السؤال الأول (الاستماع) استمع، ثم أجب:

ضع علامة (✓) أمام العبارة الصحيحة، وعلامة (X) أمام العبارة غير الصحيحة:

- ١) رأى بطل القصة صورة (حسي رع) في المكتبة. ()
- ٢) كان (حسي رع) شخصيةً مهمةً في زمن الملك زوسر. ()
- ٣) (حسي رع) عمل طبيباً للأمراض الجلدية. ()

السؤال الثاني (التعبير الكتابي) اقرأ الفقرة التالية، ثم أجب:

«أخيراً، سأسافر إلى مدينة الأقصر التي حلمت بالذهاب إليها. في البداية أخبرني أبي أنه بعد نجاحي في الفصل الدراسي الأول سيسمح لي بالاشتراك في معسكر لمدينة الأقصر في الأسبوع الأول من إجازة منتصف العام، بعد ذلك أعطاني أبي المبلغ المحدد للاشتراك في المعسكر، وأخيراً تحقق الحلم وذهبت لمدينة الأقصر».

- ١) الحدث:
- ٢) وقت الحدث:
- ٣) مكان الحدث:

السؤال الثالث (النص الأدبي) اقرأ الفقرة التالية:

«التف الأحفاد حول الجد؛ فقال لهم: هل تعرفون كوكب حفني ناصف؟ فقال أحمد: تقصد ملك حفني ناصف يا جدي؟ قال الجد: أقصد كوكب حفني أختها.. قالت سارة: نحن لم نسمع عنها من قبل.. قال الجد: كوكب حفني هي أول طبيبة مصرية، سافرت إلى لندن في منحة دراسية، ودرست الطب هناك، وتعلمت الجراحة من نجيب محفوظ باشا.. قال خالد: سأكتب عنها مقالة؛ لأن الأعلية من زملائي لا يعرفونها».

أ) استخرج من الفقرة ما يلي: ١) معنى (الكثرة): ٢) مضاد (تفرق):

ب) ضع علامة (✓) أمام العبارة الصحيحة، وعلامة (X) أمام العبارة غير الصحيحة:

- ١) حكى الجد عن إنجازات ملك حفني ناصف. ()
- ٢) معظم الأولاد يعرفون كوكب حفني ناصف. ()
- ج) أجب: لماذا سيكتب خالد المقالة؟

السؤال الرابع (النص المعلوماتي) اقرأ الفقرة التالية، ثم أجب:

«من المدهش حقاً أن نكتشف أن لعبة البولينج ابتكار يرجع إلى الحضارة المصرية القديمة، ويؤكد ذلك أن العلماء وجدوا مجموعةً من كرات البولينج في قبر يرجع تاريخه إلى ٣٢٠٠ قبل الميلاد، واكتشفوا غرفةً تحتوي على مجموعة من الممرات والكرات ذات الأحجام المختلفة، فقد كان المصريون القدماء آنذاك يقفون على الممر، ويقومون بدحرجة الكرات في اتجاه فتحة في نهاية المسار».



أ اختر الإجابة الصحيحة مما بين القوسين:

- ١ معنى (ابتكار):
٢ جمع (المسار):
ب ضع علامة (✓) أو (X) أمام ما يلي: عرف المصريون القدماء لعبة البولينج من الأوربيين. ()

ج أجب: ما الدليل على أن لعبة البولينج لعبة مصرية قديمة؟

السؤال الخامس (النص الشعري) اقرأ الأبيات التالية، ثم أجب:

مُضِرُّ التِّي نُجِبُّهَا
الدَّهْرُ قَالِ صَادِقًا
يُحْيِي الْفُؤَادَ قُرْبَهَا
لَنْ تَسْتَكِينَنَّ لِحَظَّةٍ
إِنَّ الْجَمَالَ نَوْبَهَا
يَانِيْلُ نَحْنُ شَعْبُهَا

أ اختر الإجابة الصحيحة مما بين القوسين:

- ١ معنى (الدهر):
٢ «الدَّهْرُ قَالِ صَادِقًا». تعبير
٣ يتحدث الشاعر في الأبيات عن
ب اكتب البيت الذي يدل على المعنى الآتي: يا نيل نحن شعب مصر؛ فلن يخضع وطننا لحظة.

السؤال السادس (القواعد النحوية) اقرأ الفقرة التالية، ثم أجب:

«الصمت حكمة، فلا تكثر من الكلام بدون فائدة، فقد يسقط العاقل في الخطأ إذا أكثر من الكلام.»

- أ استخرج من الفقرة السابقة: ١ فعلًا مضارعًا: ٢ اسمًا مؤنثًا:
ب اختر الإجابة الصحيحة مما بين القوسين:
١ كلمة (حكمة):
٢ كلمة (الكلام) اسم؛ لأنها
ج اجعل العبارة لجمع المذكر السالم: «المعلم محبوب».

السؤال السابع (الخط العربي) اكتب بخط النسخ:

في الصدق النجاة.

السؤال الثامن (الإملاء) اختر الإجابة الصحيحة مما بين القوسين:

- ١ قال الجد ■ الوطن أغلى ما نملك.
٢ متى بدأت ممارسة الرياضة ■
٣ ما أسرع القطار الجديد ■
(! / : / ؟)
(: / ؟ / !)
(؟ / . / !)



الاختبار ٣

(نص الاستماع صفحة ١٢)

السؤال الأول (الاستماع) استمع، ثم أجب:

- أ) ضع علامة (✓) أو (X) أمام ما يلي: العم يعرف الكثير عن تاريخ مصر القديم. ()
- ب) اختر:

- ١) رأى بطل القصة اللوحات في (المتحف - التلفاز - المكتبة - المدرسة)
- ٢) أعجب بطل القصة باعتزاز المصري القديم بأدوات (الخيطة - النحت - الكتابة - الزراعة)

السؤال الثاني (التعبير الكتابي) اقرأ، ثم أجب:

اكتب نصًا وصفيًا عن حقيبتك المدرسية مراعيًا عناصر الوصف: (شكلها - استخداماتها - مميزاتها - عيوبها - رأيك فيها - شيء يشبهها).

.....

.....

.....

السؤال الثالث (النص الأدبي) اقرأ الفقرة التالية:

«أنا ماجد، في مثل هذا اليوم منذ ١٤ عامًا، قررت العودة من هجرتي؛ لإقامة مشروع يعمل به الشباب المصري، فلاقى هذا القرار إعجاب أبي، فقد رباني أبي على حب الوطن، فقد علمني أن لبلدي حقًا عليّ، فقد نشأت وتعلمت في هذا البلد، وكان لا بد من رد الجميل، وأنا الآن أملك مصنعًا كبيرًا يعمل به آلاف العمال، وأرجو أن أنفع وطني.»

- أ) استخرج من الفقرة مرادف ما يلي: ١) نال: ٢) أتمنى:

ب) ضع علامة (✓) أمام العبارة الصحيحة، وعلامة (X) أمام العبارة غير الصحيحة:

- ١) كان هدف ماجد من العودة إلى وطنه هو جمع المال. ()
- ٢) فشل مشروع ماجد الذي أنشأه في وطنه. ()

ج) أجب: لماذا عاد ماجد إلى وطنه؟

السؤال الرابع (النص المعلوماتي) اقرأ الفقرة التالية:

«لكل قصة بداية ونهاية، لكن هذه القصة مختلفة، فقد بدأها المهندس أحمد محمود الشايب عام ١٩٥١م حين حصل على أول براءة اختراع مصرية وعربية في العصر الحديث. لقب بعدها بشيخ المخترعين المصريين، وأسس جمعية المخترعين والمبتكرين المصرية، وظل رئيسًا لها لمدة ١٥ عامًا. وقد سجل خلال حياته ٢٤ اختراعًا، ولاقت اختراعاته استحسان الجميع في المحافل الدولية، وأصبح رمزًا للمبدعين والمبدعات؛ ليستكملوا قصة الإبداع التي لا تنتهي.»



أ اختر الإجابة الصحيحة مما بين القوسين:

١ معنى (براءة اختراع): لصاحب الاختراع. (تحية وتقدير - جائزة ذهبية - اعتراف رسمي - منصب كبير)

٢ مفرد (محافل): (حفلة - محفل - احتفال - حافل)

ب ضع علامة (✓) أو (X) أمام ما يلي: حصل المهندس أحمد الشايب على أول براءة اختراع في مصر. ()

ج أجب: لماذا لُقّب المهندس أحمد الشايب بشيخ المخترعين؟

السؤال الخامس (النص الشعري) اقرأ الأبيات التالية، ثم أجب:

وَلِي وَطَنٌ أَعِيشْ عَلَى هَوَاهُ وَلَنْ أَحْيَا عَلَى أَرْضِ سِوَاهُ
بَنَى التَّارِيخُ أَهْرَامًا وَمَجْدًا وَشَمْسُ الْحُبِّ تَعْلُو فِي سَمَاهُ
جَعَلْتُ فِدَاهُ أَفْقِدَهُ وَعُمْرًا لَهُ أَبْنِي وَأَسْعَى فِي رِضَاهُ

أ استخرج من الأبيات:

١ معنى (قلوبًا): ٢ مفرد (أمجادًا):

٣ كلمة من الأبيات لها نفس نهاية (بناه):

ب تخير: «بَنَى التَّارِيخُ أَهْرَامًا وَمَجْدًا». تعبير (حقيقي - مجازي)

السؤال السادس (القواعد النحوية) اقرأ، ثم أجب:

«الحياة مليئة بنعم الله، خلقَ الله لنا الأرض، وفي أجسامنا عيان نرى بهما، وأذنان نسمع بهما، ولسان نتكلم به، وحولنا بحار وأنهار وأطعمة مختلفة (خضراوات وفواكه)؛ فكن من المحافظين على هذه النعم».

أ استخرج من الفقرة ما يلي:

١ جمع مؤنث سالمًا: ٢ جمع مذكر سالمًا:

ب اختر الإجابة الصحيحة مما بين القوسين:

١ «الحياة مليئة بنعم الله». جملة (اسمية - فعلية)

٢ «في أجسامنا عيان». كلمة (عيان) (جمع تكسير - مفرد - مثنى)

ج حول الجملة من المفرد إلى المثنى: الولد محافظ على البيئة.

السؤال السابع (الخط العربي) اكتب بخط النسخ:

مصر العزيزة لي وطن، وهي الحمى وهي السكن.

السؤال الثامن (الإملاء) ضع كل علامة مما بين القوسين في مكانها المناسب في العبارة التالية (؟-!-:)

نظر المعلم إلى اللوحة، وقال للتلاميذ ما أجمل هذه اللوحة من منكم رسم هذه اللوحة



الاختبار ٤

(نص الاستماع صفحة ١٢)

السؤال الأول (الاستماع) استمع، ثم أجب:

أ اختر الإجابة الصحيحة مما بين القوسين:

- ١ تحلم سارة أن تكون
(معلمة - طبيبة - مهندسة - ممرضة)
- ٢ دار الحوار في
(المذياع - التلفاز - الإذاعة المدرسية - حفل التخرج)
- ب ضع علامة (✓) أو (X) أمام ما يلي: دكتور مجدي يعقوب قدوة لسارة.
()

السؤال الثاني (التعبير الكتابي) اقرأ، ثم أكمل:

«كان يحلم بزيارة المتحف المصري، وقبل نهاية الفصل الدراسي الأول، جمع زملاء المدرسة، وتحدث معهم عن المتحف المصري، وشجعهم على أن يطلبوا من إدارة المدرسة القيام برحلة في إجازة نصف العام إلى القاهرة لزيارة المتحف المصري، وكم كانت فرحته عندما وجد في لوحة الإعلانات إعلاناً عن زيارة إلى المتحف المصري في الأسبوع الأول من إجازة نصف العام. عرف حينها أن تحقيق الأحلام أمر ممكن».

- الحدث:
• زمن الحدث:
• الجملة الختامية:

السؤال الثالث (النص الأدبي) اقرأ الفقرة التالية:

«أنا عمر، وهذا حائط العظماء بغرفتي، أضع عليه صوراً لأهم الشخصيات المصرية في الوقت المعاصر؛ ممن رفعوا راية الوطن ولاقت إسهاماتهم تقدير الجميع، فهذه مثلاً صورة العالم المصري الجليل (أحمد زويل) الذي حصل على جائزة نوبل في الكيمياء، وهذه صورة الأديب المصري (نجيب محفوظ) وهو أول كاتب عربي يحصل على جائزة نوبل، وقد استطاع الإلمام بأدق تفاصيل القاهرة القديمة، وقد بدا ذلك في رواياته وبالأخص الثلاثية، أرجو أن أضع صورتني معهم في المستقبل».

أ استخراج من الفقرة مرادف ما يلي:

- ١ الحالي:
٢ خصوصاً:
- ب ضع علامة (✓) أمام العبارة الصحيحة، وعلامة (X) أمام العبارة غير الصحيحة:
- ١ حصل أحمد زويل على جائزة نوبل في الكيمياء. ()
- ٢ نجيب محفوظ الكاتب العربي الثاني الذي حصل على جائزة نوبل. ()
- ج أجب: ماذا يضع عمر على حائط العظماء بغرفته؟

السؤال الرابع (النص المعلوماتي) اقرأ الفقرة التالية:

«هل تعلم أن الفيلة تهاجر؟ في الحقيقة إن الفيلة تهاجر بحثاً عن الغذاء والماء، تبدأ رحلتها في بداية فصل الصيف بسبب الجفاف، يصل عدد الفيلة في القطيع المهاجر إلى ٥٠٠ فيل، وتقود إناث الفيلة القطيع، وتتولى مهام حماية القطيع، وبالأخص الصغار، ومع انتهاء الصيف تعود الفيلة إلى مواطنها الأصلية، كأنها إنسان تربطه بوطنه علاقة متينة».



أ اختر الإجابة الصحيحة مما بين القوسين:

- ١ معنى (متينة):
٢ مضاد (المهاجر):
ب ضع علامة (✓) أو (X) أمام ما يلي: تبدأ الفيلة رحلة الهجرة في بداية فصل الشتاء. ()
ج أجب: لماذا تهاجر الفيلة؟

السؤال الخامس (النص الشعري) اقرأ الأبيات التالية، ثم أجب:

بِلَادِي بِلَادِي فُوَادِي فِدَاكِ
سَاحِيَا بَعَزٌ مُّجَبًّا لِأَرْضِي
بِرُوجِي وَعُومِرِي أَلْبِي نِدَاكِ
وَلَنْ تَسْتَكِينِي سَاحِمِي حِمَاكِ
وَمَا دُنُقْتُ أَمْنًا بِأَرْضِ سِوَاكِ
وَسَافَرْتُ يَا مِصْرُ شَرْقًا وَعَرْبًا

أ استخرج من الأبيات ما يلي:

- ١ معنى (تضحية لك):
٢ مضاد (تعزي):
٣ كلمة لها نفس نهاية كلمة (نداك):
ب اختر: «وَمَا دُنُقْتُ أَمْنًا»: تعبير (حقيقي - مجازي)

السؤال السادس (القواعد النحوية) اقرأ الفقرة التالية، ثم أجب:

«الفيوم محافظة جميلة، تقع جنوب القاهرة، شوارعها نظيفة وواسعة، وفيها أماكن تحتوي على آثار مصرية قديمة، وأهلها طيبون كرماء، وهم يكرمون ضيوفهم، ويقدمون لزوارهم كل المساعدة، وخاصة السائحين؛ لأنهم ضيوف مصر كلها.»

أ استخرج من الفقرة ما يلي:

- ١ اسمًا:
٢ جمعًا:
٣ نوعه:
ب اختر الإجابة الصحيحة مما بين القوسين:

- ١ كلمة (تقع): فعل
٢ كلمة (محافظة):
ج حول الجملة الفعلية إلى جملة اسمية: أكرم المصري الضيف.

السؤال السابع (الخط العربي) اكتب بخط النسخ:

الابتكار لا يقتصر على الكبار.

السؤال الثامن (الإملاء) صوب الخطأ الإملائي الملون فيما يلي:

- ١ ضببت المنبه. لأستيقظ في السابعة صباحًا. ■
٢ قالت أمي، أحسنت يا آدم. ■
٣ ذهبت إلى محل الملابس! ثم ذهبت إلى محل الأزهار. ■



اختبار طلاب الأزهر الشريف

السؤال الأول

(التعبير) اقرأ النص الوصفي التالي، ثم حلل عناصره:

«انظروا، هذه صورتي وأنا أحمل كرة القدم التي اشتريتها في الشهر الماضي؛ لألعب بها مع أصدقائي، وهي كرة دائرية عليها قطع من الجلد باللونين الأبيض والأسود، وتشبه كرة السلة في الحجم، وما يجعلها مميزه حقاً أن اسمي مكتوب عليها بخيط أحمر بارز، ولكنها ثقيلة الوزن قليلاً؛ لذلك يجب ألا ألعب بها كثيراً؛ حتى لا تؤلم قدمي، ولكنها تعجبني على أي حال، وأرجو أن أستمتع بها مع أصدقائي؛ فرياضة كرة القدم رياضتي المفضلة».

١) الجملة الافتتاحية:

٢) شكل كرة القدم:

٣) من مميزاتهما:

٤) من عيوبها:

السؤال الثاني

(القراءة) اقرأ الفقرة التالية من نص (كرة السرعة):

«كانت طريقة اللعب عن طريق ضرب كرة التنس؛ بحيث تتأرجح وهي متدلّية من الخيط في الاتجاهين وفقاً لقواعد يتم اختيارها، وتتميز هذه اللعبة بإمكانية لعبها بشكل فردي أو زوجي. رغم مكونات اللعبة البسيطة فإن كرة التنس كانت قابلةً للتلّف، كما أن المكونات المعدنية باهظة الثمن؛ ولذلك سعى محمد حسين لطفي إلى تطوير اختراعه من خلال إيجاد كرة خاصة من المطاط؛ كي لا تتمزق بسرعة».

أ) استخرج من الفقرة ما يلي:

١) معنى (الفساد):

٢) مضاد (تثبت):

٣) مفرد (الأثمان):

ب) اختر الإجابة الصحيحة مما بين القوسين:

١) تلعب كرة السرعة بـ (دحرجة - ضرب - إمساك - ركل) الكرة.

٢) كانت كرة (السلة - الريشة - التنس - اليد) هي المستخدمة في رياضة كرة السرعة.

٣) تلعب كرة السرعة بواسطة (لاعب واحد - لاعبين اثنين - فريقين - الأول والثاني).

ج) أجب: ما سبب تطوير محمد حسين لطفي لاختراعه؟



اسْلَمِي يَا مِصْرُ إِنَّنِي الْفِدَا
 نِي يَدِي إِنَّ مَدَّتِ الدُّنْيَا يَدَا
 أَبَدًا لَنْ تَسْتَكِينِي أَبَدًا
 نِي يَدِي إِنَّ مَدَّتِ الدُّنْيَا يَدَا
 وَمَعِي قَلْبِي وَعَزْمِي لِلْجِهَادِ
 وَلِقَلْبِي أَنْتِ بَعْدَ الدِّينِ دِينُ

أ أكمل ما يلي:

١ مرادف (تستكيني): ٢ جمع (الدنيا): ٣ قائل النص هو:

ب اختر الإجابة الصحيحة مما بين القوسين:

١ يتحدث الشاعر عن حب ٢ تأتي منزلة مصر في قلب الشاعر بعد منزلة

(العمل - الوطن - الأبناء - التاريخ) (الدنيا - العلم - الجهاد - الدين)

ج هات من الأبيات ما يلي:

١ تعبيرًا مجازيًا:

٢ كلمتين لهما نفس نهاية (الفدا):

٣ ما يدل على أن مصر لن تخضع أبدًا:

السؤال الرابع (القواعد النحوية) اقرأ، ثم أجب:

«أدرك المصريون منذ القدم أن التعليم والتعلم هما وسيلتان للتقدم والرخاء؛ لذا قاموا ببناء المدارس والجامعات».

أ استخرج من الفقرة ما يلي:

١ جمع مذكر سالمًا: ٢ جمع تكسير:

٣ اسمًا: ٤ اسما مذكرًا:

ب اختر الإجابة الصحيحة مما بين القوسين:

١ كلمة (وسيلتان): (مفرد - جمع - مثنى)

٢ كلمة (الجامعات): جمع (مؤنث سالم - مذكر سالم - تكسير)

ج حول الجملة الآتية لصيغة الجمع، وغير ما يلزم: المعلمة مهتمة بالتلميذ.

السؤال الخامس (الخط) اكتب بخط النسخ:

تتقدم المجتمعات بالعلم والابتكار.

السؤال السادس (الإملاء) صوب الأخطاء الإملائية الملونة في الجمل الآتية:

١ رسمت اللوحة: ثم لونها. ٢ إشتريت حقيبة جديدة. ٣ هي تلميذة متفوقة.





نصوص الاستماع

الاختبار (١)



«في أول يوم دراسي لي في كلية الطب وقف عميد الكلية على المنصة، وقال: (نصيحتي لكم جميعًا -يا أطباء المستقبل- أن تعلموا أن مهنة الطب هي مهنة تخفيف الآلام وحسن التعامل مع المرضى، ولا تقتصر على تقديم الدواء فقط، ولكن تقديم كل مساعدة يحتاجها المريض، ولكم في الدكتور مجدي يعقوب القدوة في حبه لوطنه ومساعدته للمرضى وعطائه لأهله)، ومنذ ذلك الحين قررت أن أكون طبيبًا يرحم المريض قبل أن يعالجه».

الاختبار (٢)



شعرت بألم في أسناني، فذهبت إلى عيادة طبيب الأسنان، وهناك لفت نظري صورة معلقة على الحائط للكاتب المعلم (حسي رع) يجلس جلسته الشهيرة، ويمسك في يده أدوات الكتابة، ويبدو الوقار على ملامحه. لاحظ الطبيب تعجبي فسألني عن السبب، فقلت: إنني متعجب من وجود صورة كاتب في عيادة أسنان! ابتسم الطبيب، وقال: إن (حسي رع) لم يكن كاتبًا فحسب، ولكنه شغل أرقى المناصب في عهد الملك زوسر، ومن بينها منصب كبير أطباء الأسنان. فقلت: الآن فهمت.

الاختبار (٣)



ذهبت مع عمي إلى المتحف المصري، ولفت نظري هناك ثلاث لوحات خشبية لشخصية مصرية قديمة، وحين سألت عمي عنها قال: هذه لوحات الكاتب المعلم (حسي رع) من عهد الملك زوسر، والتي تم اكتشافها في مقبرته بسقارة مع ثلاث لوحات أخرى، وتوضح كل لوحة مرحلة من المراحل العمرية له. وقد راقني اعتزازه بأدوات الكتابة التي يمسكها في لوحاته، وألقابه المكتوبة في تلك اللوحات».

الاختبار (٤)



«استضافت الإذاعة المدرسية اليوم زميلتنا سارة، سألها مقدم الإذاعة: بماذا تحلمين في المستقبل؟ قالت سارة: أحلم أن أصبح أشهر طبيبة متخصصة في جراحات القلب، وأن أخصص وقتًا لكل مدينة مصرية؛ لأقوم بالعمليات الجراحية المجانية لغير القادرين. قال المذيع: ولماذا اخترت هذا المجال؟ فردت سارة وهي متحمسة: أريد أن أكون مثل الطبيب المصري العالمي مجدي يعقوب في تفوقه ووفائه لوطنه».



سلاح التلميذ

منذ عام ١٩٦٠



اللغة
العربية

2024-2025

الصف الرابع الابتدائي
الفصل الدراسي الأول

إجابات اختبارات شهر أكتوبر

4

إجابة الاختبار ٢

السؤال الأول:

ضع علامة (✓) أو (X):

- ١ (X) ٢ (✓) ٣ (X)

السؤال الثاني:

١ السفر إلى مدينة الأقصر.

٢ الأسبوع الأول من إجازة منتصف العام.

٣ مدينة الأقصر.

السؤال الثالث:

أ استخرج: ١ الأغلبية ٢ النف

ب ضع علامة (✓) أو (X):

- ١ (X) ٢ (X)

ج أجب: لأن الأغلبية من زملائه لا يعرفونها.

السؤال الرابع:

أ اختر: ١ اختراع ٢ المسارات

ب ضع علامة (✓) أو (X): (X)

ج أجب: وجود مجموعة من كرات البولينج في قبر يرجع تاريخه

إلى ٣٢٠٠ ق.م، واكتشاف غرفة تحتوي على مجموعة من

الممرات والكرات ذات الأحجام المختلفة.

السؤال الخامس:

أ اختر: ١ الزمن ٢ مجازي ٣ الوطن

ب اكتب:

لَنْ تَسْتَكِينَ لِحَظَّةٍ يَا نَيْلُ نَحْنُ شَعْبُهَا

السؤال السادس:

أ استخرج: ١ تكثر ٢ حكمة

ب أكمل: ١ خبر ٢ سبقت بحرف جر

ج اجعل: المعلمون محبوبون.

السؤال الثامن:

- ١ (:) ٢ (?) ٣ (!)

إجابة الاختبار ١

السؤال الأول:

ضع علامة (✓) أو (X):

- ١ (X) ٢ (X) ٣ (✓)

السؤال الثاني:

١ قارب صغير أعلاه شراع كبير، يشبه السفينة.

٢ يستخدم في التنقل في الأنهار والبحار.

٣ قد تتلف بعض أجزائه، فيتعرض الركاب للغرق.

٤ خفة الوزن وصغر الحجم.

السؤال الثالث:

أ استخرج: ١ بدت

٢ حين

ب ضع علامة (✓) أو (X): (X) ١ (X) ٢ (X)

ج أجب: تراب الوطن

السؤال الرابع:

أ اختر: ١ ربطة

٢ ينزل

ب ضع علامة (✓) أو (X): (✓)

ج أجب: وصفها بالرياضة الخطرة التي يجب الحذر عند ممارستها.

السؤال الخامس:

أ اختر: هذه

ب أكمل: السلامة

ج هات: أنت لي نور الفؤاد.

السؤال السادس:

أ استخرج:

١ اليد ■ علامة: الـ

٢ الرياضات ■ نوعه: جمع مؤنث سالم

ب اختر:

١ مضارع ٢ مثنى

ج المباراة تنقسم إلى شوطين.

السؤال الثامن:

- اختر: ١ (!) ٢ (.) ٣ (?)



إجابة الاختبار ٣

السؤال الأول:

أ) ضع علامة (✓) أو (X): (✓)

ب) اختر: ١ المتحف ٢ الكتابة

السؤال الثالث:

أ) استخرج:

١ لاقى

٢ أرجو

ب) ضع علامة (✓) أو (X):

١ (X)

٢ (X)

ج) أجب: ليرد الجميل لوطنه، بإقامة مشروع يعمل به الشباب المصري.

السؤال الرابع:

أ) اختر: ١ اعتراف رسمي ٢ حفل

ب) ضع علامة (✓) أو (X): (✓)

ج) أجب: لأنه أول من حصل على براءة اختراع مصرية وعربية في العصر الحديث.

السؤال الخامس:

أ) استخرج:

١ أفئدة ٢ مجداً ٣ هواه

ب) تخير: مجازي

السؤال السادس:

أ) استخرج: ١ خضراوات ٢ المحافظين

ب) اختر: ١ اسمية ٢ مثني

ج) حول: الولدان محافظان على البيئة.

السؤال الثامن:

١ (:)

٢ (!)

٣ (?)

إجابة الاختبار ٤

السؤال الأول:

أ) اختر: ١ طبية

٢ الإذاعة المدرسية

ب) ضع علامة (✓) أو (X): (✓)

السؤال الثاني:

١ زيارة المتحف المصري.

٢ الأسبوع الأول من إجازة نصف العام.

٣ عرف حينها أن تحقيق الأحلام أمر ممكن.

السؤال الثالث:

أ) استخرج:

١ المعاصر ٢ بالأخص

ب) ضع علامة (✓) أو (X):

١ (✓)

٢ (X)

ج) أجب: يضع صور أهم الشخصيات المصرية في الوقت المعاصر؛ ممن رفعوا راية الوطن، ولاقت إسهاماتهم تقدير الجميع.

السؤال الرابع:

أ) اختر: ١ قوية

٢ العائد

ب) ضع علامة (✓) أو (X): (X)

ج) أجب: بحثا عن الماء والغذاء.

السؤال الخامس:

أ) استخرج:

١ فداك ٢ تستكيني

٣ فداك / حماك / سواك

ب) اختر: مجازي

السؤال السادس:

أ) استخرج:

١ الفيوم ■ علامته: الـ

٢ آثار ■ نوعه: تكسير

ب) اختر:

١ مضارع ٢ مفرد

ج) حول: المصري أكرم الضيف.

السؤال الثامن:

١ (:)

٢ (:)

٣ (:)



إجابة اختبار طلاب الأزهر الشريف

السؤال أولًا:

- ١ انظروا، هذه صورتي وأنا أحمل كرة القدم التي اشتريتها في الشهر الماضي.
٢ دائرية عليها قطع من الجلد باللونين الأبيض والأسود، وتشبه كرة السلة في الحجم.
٣ اسمه مكتوب عليها.
٤ ثقيلة الوزن قليلاً.

السؤال الثاني:

- أ استخرج:
١ التلف ٢ تتأرجح ٣ الثمن
ب اختر:
١ ضرب ٢ التنس ٣ الأول والثاني
ج أجب: لأن كرة التنس التي كانت مستخدمة في أول الأمر كانت قابلة للتلف، كما أن مكونات اللعبة كانت باهظة الثمن، لذلك سعى إلى تطوير اختراعه من خلال إيجاد كرة خاصة من المطاط لا تتمزق بسرعة.

السؤال الثالث:

- أ أكمل: ١ تخضعي ٢ الدنيا
٣ مصطفى صادق الرافعي
ب اختر: ١ الوطن ٢ الدين
ج هات: ١ إن مدت الدنيا يدا ٢ يدا، غدا
٣ أبدًا لن تستكيني أبداً.

السؤال الرابع:

- أ استخرج:
١ المصريون ٢ المدارس
٣ القدم ٤ الـ
٤ التعليم
ب اختر: ١ مثنى ٢ مؤنث سالم
ج حول: المعلمات مهتمات بالتلاميذ.

السؤال السادس:

- ١ (،) ٢ اشتريت ٣ (.)



سلاح التلميز

منذ عام ١٩٦٠



الرياضيات

2024-2025

الصف الرابع الابتدائي
الفصل الدراسي الأول

اختبارات شهر أكتوبر

4

(5 درجات)

السؤال الأول اختر الإجابة الصحيحة من بين الإجابات المعطاة:

1) المليار أصغر عدد مكون من أرقام.

أ 7 ب 10 ج 9 د 6

2) $5 م + 25 سم =$ سم

أ 525 ب 255 ج 500 د 30

3) من النموذج الشريطي المقابل ، قيمة $x =$

أ 2,000 ب 20,000 ج 34,000 د 3,000

27,000	
x	7,000

4) $4,345 \approx 4,000$ مقرباً لأقرب

أ ألف ب مائة ج عشرة د عشرات ألوف

5) أسبوعان ، و5 أيام = يوماً.

أ 14 ب 29 ج 19 د 12

(5 درجات)

السؤال الثاني أكمل ما يلي:

6) العنصر المحايد الجمعي هو

7) قيمة الرقم 0 في العدد 10,281,543 تساوي

8) $32,581 + 64,219 =$

9) 35,124 بالصيغة اللفظية هي

10) 8,500 جم = كجم ، و جم

(5 درجات)

السؤال الثالث أجب عما يلي:

11) مع أحمد 850,654 جنيهاً ، اشترى سيارة بمبلغ 450,312 جنيهاً. أوجد المبلغ المتبقي مع أحمد.

12) رتب تصاعدياً:

402,564 ، 412,650 ، 42 ألفاً ، 412,654

الترتيب:



(5 درجات)

السؤال الأول اختر الإجابة الصحيحة من بين الإجابات المعطاة:

1) علبة زيت سعتها 3 لترات و 750 ملل ، فإن سعتها بالمليتر = ملل

أ 7,530 ب 753 ج 3,750 د 1,050

2) أي من المعادلات التالية يحقق خاصية الإبدال في الجمع؟

أ $17 + 35 = 35 + 17$ ب $17 + 0 = 17$ ج $8 + 5 = 3 + 10$ د $5 - 2 = 3$ 3) 65 مليوناً 65,000

أ < ب > ج = د غير ذلك

4) $25 : 7 - 30$ دقيقة =

أ 6 : 15 ب 7 : 00 ج 7 : 55 د 6 : 55

5) إذا كان: 5 كجم + $a = 8,000$ جم ، فإن قيمة $a =$

أ 3 جم ب 3,000 جم ج 3,000 كجم د 5 كجم

(5 درجات)

السؤال الثاني أكمل ما يلي:

6) الرقم الموجود في خانة مئات الملايين في العدد 2,356,487,901 هو

7) إذا كانت: $750 = x - 250$ ، فإن قيمة $x =$ 8) (لأقرب ألف) $54,982 \approx$ 9) $25,206 =$ (بالصيغة الممتدة)

10) 5 كم ، و 62 م = م

(5 درجات)

السؤال الثالث أجب عما يلي:

11) باستخدام خواص الجمع أوجد ناتج: $87 + 55 + 13 + 45$

12) مدرسة بها 2,785 تلميذاً ، فإذا كان عدد البنين 1,025 تلميذاً ، فما عدد البنات بالمدرسة؟

(استخدم النموذج الشريطي)



(5 درجات)

السؤال الأول اختر الإجابة الصحيحة من بين الإجابات المعطاة:

1) قيمة الرقم 5 في خانة عشرات الألوف هي

- أ 500 ب 5,000 ج 50,000 د 500,000

2) مع هاجر 8,751 جنيهاً ، صرفت منها 751 جنيهاً. أي نموذج شريطي يُعبر عن المبلغ المتبقي x ؟

- أ

x	8,751
751	x

 ب

751	x
8,751	x

 ج

x	751
8,751	751

 د

8,751	751
x	x

3) ساعتان و 30 دقيقة 145 دقيقة

- أ < ب > ج = د غير ذلك

4) تقريب العدد 1,999 لأقرب مائة هو

- أ 1,900 ب 1,910 ج 1,100 د 2,000

5) الرقم المناسب الذي يجعل جملة المقارنة التالية صحيحة هو

$$801,351 > 80 \square,351$$

- أ 1 ب 2 ج 0 د 3

(5 درجات)

السؤال الثاني أكمل ما يلي:

$$(433 + 362) + \dots = \dots + (362 + 125) \quad 6$$

7) أكبر عدد يمكن تكوينه من الأرقام 9 ، 2 ، 5 ، 8 ، 0 ، 7 ، 6 هو

$$18,451 \text{ جم} = \dots \text{ كجم} ، \text{ و } \dots \text{ جم} \quad 8$$

$$644,235 + 356,780 = \dots \quad 9$$

$$\dots = 2 : 25 + 5 : 15 \quad 10$$

(5 درجات)

السؤال الثالث أجب عما يلي:

11) مع ياسمين 3,460 جنيهاً ، اشترت هدية لأخيها بمبلغ 480 جنيهاً ، واشترت حذاء بمبلغ 1,000 جنيهاً.

كم جنيهاً تبقى مع ياسمين؟

12) رتب الأطوال التالية تنازلياً:

50 متراً ، 15 سم ، 5 كم ، 55 مم

الترتيب: ، ، ، ،



(5 درجات)

السؤال الأول اختر الإجابة الصحيحة من بين الإجابات المعطاة:

- 1) القيمة المكانية للرقم 7 في العدد 21,127,081 هي
 أ ألاف ب ملايين ج مئات د عشرات الألاف
- 2) $784 + 0 = 784$ تُسمى خاصية
 أ الإبدال ب المحاييد الجمعي ج الدمج د غير ذلك
- 3) قيمة الرقم 3 في العدد 243,125 تساوي أمثال قيمته في العدد 241,325
 أ 100 ب 10 ج 1,000 د 10,000
- 4) من الوحدات المناسبة لقياس الكتلة.
 أ المتر ب الكيلوجرام ج اللتر د الدقيقة
- 5) أي من الأعداد التالية يكون تقريبه لأقرب مائة هو 78,200؟
 أ 78,251 ب 78,123 ج 87,153 د 78,203

(5 درجات)

السؤال الثاني أكمل ما يلي:

- 6) العدد: 705 ملايين و 27 ألفًا و 3 بالصورة القياسية هو
- 7) 424 سم = م ، و سم
- 8) إذا كانت: $4,356 - x = 1,523$ ، فإن قيمة $x =$
- 9) المليون هو أصغر عدد مكون من أرقام.
- 10) تنام سلمى 9 ساعات يوميًا ، فإن المدة التي تنامها سلمى بالدقائق =

(5 درجات)

السؤال الثالث أجب عما يلي:

- 11) يشرب أحمد 3,000 ملل من الماء يوميًا ، فكم لترًا يشرب أحمد أسبوعيًا؟

- 12) اشترك محمد ومحمود في مشروع ، ودفع محمد 250,937 جنيهاً ، ودفع محمود 257,125 جنيهاً ، فمن دفع أكثر؟



(5 درجات)

السؤال الأول اختر الإجابة الصحيحة من بين الإجابات المعطاة:

- 1) $714,254,005 > \dots$
- أ 710,254,005 ب 88,254,005 ج 714,154,005 د 714,255,005
- 2) لتحويل 400 سم إلى أمتار
- أ نضرب في 100 ب نقسم على 100 ج نجمع 100 د نطرح 100
- 3) $(6 \times 1,000,000) + (1 \times 100,000) + (7 \times 10,000) + (5 \times 100) + (2 \times 10) = \dots$
- أ 6,170,502 ب 6,017,520 ج 6,170,520 د 6,107,520
- 4) كل مما يأتي من خواص عملية الجمع ، ما عدا
- أ الإبدال ب الدمج ج التقريب د المحايد الجمعي
- 5) المتر من الوحدات المناسبة لقياس
- أ الطول ب الكتلة ج السعة د الوقت

(5 درجات)

السؤال الثاني أكمل ما يلي:

- 6) 140 مائة = ألفاً.
- 7) 7 لترات - 3,000 ملل = ملل
- 8) (لأقرب) $3,541,023 \approx 4,000,000$
- 9) العدد 2,500 يساوي 10 أمثال العدد
- 10) إذا كانت: $5,500 + x = 11,250$ فإن قيمة $x = \dots$

(5 درجات)

السؤال الثالث أجب عما يلي:

- 11) بدأت مريم في مشاهدة الفيلم الساعة 15 : 6 مساءً ؛ حيث استغرق الفيلم ساعة و 20 دقيقة ، فمتى انتهى الفيلم؟

12) رتّب تنازلياً:

73 مليوناً ، 800 ألف ، $9,000,000 + 10,000 + 500$ ، 91 مليوناً و 40 ألفاً

الترتيب: ، ، ،



سلاح التلميز

منذ عام ١٩٦٠



الرياضيات

2024-2025

الصف الرابع الابتدائي
الفصل الدراسي الأول
إجابة اختبارات شهر أكتوبر

4

إجابة اختبار (1)

السؤال الأول

20,000 ③

525 ②

10 ①

19 ⑤

4 ألف ④

السؤال الثاني

96,800 ⑧

0 ⑦

6 الصفر ⑥

8 كجم، و 500 جم ⑩

9 خمسة وثلاثون ألفاً ومائة وأربعة وعشرون ⑨

السؤال الثالث

11 المبلغ المتبقي مع أحمد = 400,342 جنيهاً؛ لأن: $850,654 - 450,312 = 400,342$

12 412,654 ، 412,650 ، 402,564 ، 42 ألفاً ⑫

إجابة اختبار (2)

السؤال الأول

> ③

$17 + 35 = 35 + 17$ ②

3,750 ①

3,000 جم ⑤

6 : 55 ④

السؤال الثاني

55,000 ⑧

1,000 ⑦

3 ⑥

5,062 ⑩ $20,000 + 5,000 + 200 + 6$ ⑨

السؤال الثالث

87 + 13 + 55 + 45 (خاصية الإبدال) ⑪

= (87 + 13) + (55 + 45) (خاصية الدمج)

= 100 + 100

= 200

12 عدد البنات بالمدرسة = 1,760 بنتاً؛

لأن: $2,785 - 1,025 = 1,760$

2,785	
x	1,025



إجابة اختبار (3)

السؤال الأول

3 <

8,751	
x	751

5 0

1 50,000

4 2,000

السؤال الثاني

6 $(433 + 362) + 125 = 433 + (362 + 125)$

8 18 كجم ، و 451 جم

7 9,876,520

10 7 : 40

9 1,001,015

السؤال الثالث

11 المبلغ المتبقى مع ياسمين = 1,980 جنيهاً ؛ لأن: $3,460 - (480 + 1,000)$
 $= 3,460 - 1,480 = 1,980$

12 55 مم ، 15 سم ، 50 متر ، 5 كم

إجابة اختبار (4)

السؤال الأول

3 10

2 المحايد الجمعي

5 78,203

1 ألوف

4 الكيلوجرام

السؤال الثاني

8 2,833

7 4 م ، و 24 سم

10 540 دقيقة

6 705,027,003

9 7

السؤال الثالث

11 مقدار ما يشربه أحمد يومياً باللترات = 3 لترات ؛ لأن: $3,000 \div 1,000 = 3$

مقدار ما يشربه أحمد أسبوعياً = 21 لترًا ؛ لأن: $3 \times 7 = 21$

12 محمود دفع أكثر.



إجابة اختبار (5)

السؤال الأول

6,170,520 ③

نقسم على 100 ②

714,255,005 ①

الطول ⑤

التقريب ④

السؤال الثاني

مليون ⑧

4,000 ⑦

14 ⑥

5,750 ⑩

250 ⑨

السؤال الثالث

⑪ ينتهي الفيلم الساعة 7 : 35 مساءً.

⑫ 800 ألف ، 9,000,000 + 10,000 + 500 ، 73 مليوناً ، 91 مليوناً و 40 ألفاً →



أشهر وأحب كتب تعليمية ، وأوسعها انتشارًا

Selah El-Telmeez

Since 1960



English
Connect

2024-2025

Fourth Primary
First Term

نماذج اختبارات شهر أكتوبر

4

Test 1

(A) Listening

نصوص الاستماع بملف الإجابات

1 Listen and circle the correct answer from a, b, c or d:

1. There are different plant

- a. directions b. gardens c. farms d. habitats

2. Tamarisk and live in the desert.

- a. acacia b. bean plant c. papyrus d. orange tree

3. Lotus flowers and reed need a lot of

- a. air b. water c. desert d. food

4. Lotus flowers and reed grow near and lakes.

- a. mountains b. deserts c. rivers d. oceans

(B) Reading

2 Choose the correct answer from a, b, c or d:

1. Egyptian farmers raise

- a. potatoes b. milk c. lions d. chickens

2. Camels have large, flat so they don't sink in sand.

- a. eyes b. feet c. hands d. noses

3. Tomatoes have inside. We can take them and grow new tomatoes.

- a. flowers b. seeds c. roots d. leaves

4. She is She doesn't lie.

- a. honest b. tall c. beautiful d. important



3 Read and complete the text with the words in the box:

Fishermen – million – grapes – grow – farmers

The land in Damietta governorate is rich in nutrients. The (1) can grow rice, tomatoes, potatoes, (2), and guavas. Cows and goats live in Damietta, too. (3) catch thousands of fish in the sea. About one and a half (4) people live in Damietta.

4 Read the text and answer the questions:

Rhim gazelles look very beautiful. They live in the Sahara Desert, and they walk around looking for grass, leaves, and plants to eat. They have big ears and long horns. Their horns are 20-30 cm long. They have yellow-white coats which protect them from the sun. Like camels, they don't need to drink a lot of water. Rhim gazelles weigh around 20-30 kg and they can live up to 14 years.

(A) Choose the correct answer from a, b, c or d:

1. Rhim gazelles' protect them from the sun.

- a. ears b. horns c. coats d. feet

2. Like, they don't need to drink a lot of water.

- a. horses b. camels c. cats d. spiders

(B) Answer the following questions:

3. What do rhim gazelles eat?

.....

4. How heavy are rhim gazelles?

.....



(C) Writing

5 Read and write the correct form of the word(s) between brackets:

1. A dog is (thin) than an elephant.
2. I don't eat burgers, (and) I eat fruit.
3. He (painted) the house. He painted it again.
4. Hana is the (nice) girl in the classroom.

6 Punctuate the following:

- the bear is stronger than the pelican

7 Write a paragraph of EIGHTEEN (18) words using the following guiding elements:

“Animals in our country”

(crocodiles – controls)

GOOD LUCK



Test 2

(A) Listening

نصوص الاستماع بملف الإجابات

1 Listen and circle the correct answer from a, b, c or d:

- are beautiful, strong animals.
a. Cats b. Pelicans c. Camels d. Foxes
- Camels can people to cross the desert.
a. talk b. wash c. cry d. carry
- We can use camels' fur to make
a. clothes b. tables c. chairs d. bread
- Camels have large, feet.
a. small b. flat c. round d. short

(B) Reading

2 Choose the correct answer from a, b, c or d:

- Spiders and snakes eat
a. foxes b. insects c. cows d. camels
- We grow fruits like in our country.
a. bananas b. rice c. cheese d. wheat
- The emperor lived in a beautiful
a. garden b. school c. farm d. palace
- The sunflower's grows above the soil.
a. seed b. water c. root d. shoot



3 Read and complete the text with the words in the box:

helpful – ugly – crocodiles – control – think

Our teacher says there are lots of animals in Egypt. Sometimes we (1) some animals are dangerous or scary, but they are all (2) Big scary animals like snakes or (3) have an important job to do. They (4) the number of small animals, birds, and insects.

4 Read the text and answer the questions:

My name is Omar. My grandparents lived in the city, but they loved the countryside. They wanted to have a farm so they bought some land. They planted lots of seeds. They grew vegetables and fruits. They used rainwater to water the seeds. They also brought animals. There are many horses, camels, goats, and sheep now. I like to visit them on the weekends. They made the land green and achieved their dream.

(A) Choose the correct answer from a, b, c or d:

1. My grandparents liked the
a. countryside b. city c. town d. sea
2. There are no on the farm.
a. horses b. elephants c. goats d. sheep

(B) Answer the following questions:

3. How did they water the seeds?
.....

4. Summarize the text in one sentence.
.....



(C) Writing

5 Read and write the correct form of the word(s) between brackets:

1. I play basketball (but) I play football in the park.
2. I think roses are the (more) beautiful flowers.
3. Dad is a scientist, (and) Mom is a chef.
4. Camels are slower (that) horses.

6 Punctuate the following:

- how do we grow new tomatoes

7 Write a paragraph of EIGHTEEN (18) words using the following guiding elements:

“Damietta governorate”

- What is it famous for?
- What do fishermen do there?

GOOD LUCK



Test 3

(A) Listening

نصوص الاستماع بملف الإجابات

1 Listen and circle the correct answer from a, b, c or d:

- There are many animals that in our country.
a. live b. sleep c. eat d. swim
- are scary, but they are helpful.
a. Dogs b. Cows c. Rabbits d. Spiders
- Crocodiles do a very job.
a. dangerous b. important c. beautiful d. scary
- They eat insects, birds, and
a. fruits b. vegetables c. lizards d. crops

(B) Reading

2 Choose the correct answer from a, b, c or d:

- Rhim gazelles' yellow-white protect them from the sun.
a. ears b. feet c. horns d. coats
- A/An is someone who is like a king.
a. farmer b. gardener c. emperor d. singer
- Plants that live in the do not need a lot of water.
a. city b. desert c. river d. lake
- Noha loves and vegetables. She is healthy.
a. fruit b. sugar c. fats d. candy



3 Read and complete the text with the words in the box:

soil – leaves – drops – germination – roots

Amira likes to grow tomatoes. She plants a seed and the plant grows. That is called (1) She plants the seed in the (2) She waters the plants every day. The (3) grow under the soil. Then the green (4) start to grow.

4 Read the text and answer the questions:

My name is Ali. I like animals. I'm doing a school project about horses. Horses are amazing and strong animals. Horses have large, beautiful eyes. They are 1.4 – 1.8 m tall. They are faster than camels, but camels are heavier than horses. Horses eat grass and drink fresh water. They can live up to thirty years. Horses can live in the desert, but they need people to look after them.

(A) Choose the correct answer from a, b, c or d:

1. Horses have large, beautiful

a. ears

b. legs

c. eyes

d. arms

2. Camels are than horses.

a. faster

b. thinner

c. shorter

d. heavier

(B) Answer the following questions:

3. What is Ali doing?

.....

4. How long can horses live?

.....



(C) Writing

5 Read and write the correct form of the word(s) between brackets:

1. The crocodile is (dangerous) than the camel.
2. The car is (heavy) than the bike.
3. He wants to play tennis, (and) he can't play it.
4. Our house is not the (small) in the village.

6 Punctuate the following:

- how long is a rhim gazelle's horn

7 Write a paragraph of EIGHTEEN (18) words using the following guiding elements:

"A healthy lifestyle"

(walking - fruits)

GOOD LUCK



Test 4

(A) Listening

نصوص الاستماع بملف الإجابات

1 Listen and circle the correct answer from a, b, c or d:

- The land in Damietta governorate is rich in
a. people b. houses c. nutrients d. fish
- Fishermen thousands of fish in the sea.
a. meet b. catch c. grow d. plant
- Damietta is famous for Domiati
a. mangoes b. pizza c. chickens d. cheese
- Life is in Damietta.
a. sad b. famous c. good d. bad

(B) Reading

2 Choose the correct answer from a, b, c or d:

- Camels are for the desert.
a. small b. noisy c. perfect d. short
- Egyptian produce many things for us to eat.
a. teachers b. farmers c. doctors d. engineers
- Rhim gazelles have long
a. horns b. beaks c. plants d. leaves
- They didn't like the city because of the air and the noise.
a. polluted b. clean c. nice d. good



3 Read and complete the text with the words in the box:

milk – desert – carry – feet – fur

I like camels. They live in the (1)..... . They are beautiful and strong animals. Camels are very useful. They help us (2)..... things and people to cross the desert. Their (3)..... is delicious. We can use their (4)..... to make clothes.

4 Read the text and answer the questions:

Salma, Tamer, and Suzan think they are healthy. Salma does a lot of sports at school. She doesn't eat candy, but she likes fruit. Tamer is in a wheelchair basketball team at school. He practices three times every week. He doesn't drink cola. He drinks a lot of water. Suzan goes walking in the park with her family every weekend. She loves burgers, but she only eats one a week. She always eats salad.

(A) Choose the correct answer from a, b, c or d:

- The main idea of the text is the style.
a. unhealthy b. healthy c. busy d. sad
- Tamer is in a wheelchair team at school.
a. basketball b. football c. tennis d. handball

(B) Answer the following questions:

- What does Salma do to be healthy?
.....

- Where does Suzan go walking every weekend?
.....



(C) Writing

5 Read and write the correct form of the word(s) between brackets:

1. I think the butterfly is the (more) beautiful insect.
2. The horse is shorter (then) the camel.
3. Nader likes tomatoes (but) he likes bananas.
4. I cleaned my room again. I (cleaned) it.

6 Punctuate the following:

- I like oranges apples, and bananas

7 Write a paragraph of EIGHTEEN (18) words using the following guiding elements:

“Tomatoes”

(seeds - plant)

GOOD LUCK



Test 5

(A) Listening

نصوص الاستماع بملف الإجابات

1 Listen and circle the correct answer from a, b, c or d:

- The fennec fox lives in the
a. desert b. forest c. river d. lake
- It is than other foxes.
a. bigger b. taller c. shorter d. smaller
- The fennec fox needs big to hear insects and small animals.
a. eyes b. ears c. feet d. legs
- The fennec fox's thick fur keeps it at night.
a. cold b. hot c. cool d. warm

(B) Reading

2 Choose the correct answer from a, b, c or d:

- Fishermen catch thousands of fish in the
a. desert b. forest c. farm d. sea
- The seed and it starts to grow roots under the soil.
a. germinates b. plants c. cuts d. dies
- The crocodile is huge and
a. short b. small c. dangerous d. beautiful
- Farmers grow and onions.
a. tomatoes b. eggs c. meat d. chickens



3 Read and complete the text with the words in the box:

make – water – practice – busy – cola

I'm in a basketball team at school. We (1) three times every week. I think I'm healthy. I don't drink (2) I drink (3) I don't play video games because I'm very (4) I play basketball and football with my friends in the park.

4 Read the text and answer the questions:

There are a lot of animals, birds, and insects that live in Egypt. Crocodiles are huge and scary. They live in rivers and lakes. Spiders are scary, but they are very helpful. Farmers like spiders because they eat insects. Crocodiles and snakes are dangerous, but they do a very important job. They eat insects, birds, and lizards. This controls the number of these small animals. We need to understand how important these animals are to us.

(A) Choose the correct answer from a, b, c or d:

- Crocodiles live in and lakes.
a. forests b. seas c. rivers d. streets
- Farmers like because they eat insects.
a. snakes b. spiders c. crocodiles d. lizards

(B) Answer the following questions:

- Why are snakes and crocodiles important?
.....

- Summarize the text in one sentence.
.....



(C) Writing

5 Read and write the correct form of the word(s) between brackets:

1. My sister made the cake again. She (made) it.
2. I think that ice cream is (most) delicious than candy.
3. The elephant is the (bigger) animal in the zoo.
4. She likes meat, (and) she doesn't like fish.

6 Punctuate the following:

- John and lucas live on a farm

7 Write a paragraph of EIGHTEEN (18) words using the following guiding elements:

“Foods that grow in Egypt”

(produce - rice)

GOOD LUCK



أشهر وأحب كتب تعليمية، وأوسعها انتشارًا

Selah El-Telmeez

Since 1960



English
Connect

2024-2025

Fourth Primary
First Term

إجابات نماذج اختبارات شهر أكتوبر

4

Test 1 Answers

(A) Listening

Listening Script:

There are different plant habitats. Some plants live in the desert, like tamarisk and acacia. They don't need a lot of water. Other plants like lotus flowers and reed need a lot of water, so they grow near rivers and lakes.

1 Listen and circle the correct answer from a, b, c or d:

1. (d) 2. (a) 3. (b) 4. (c)

(B) Reading

2 Choose the correct answer from a, b, c or d:

1. (d) 2. (b) 3. (b) 4. (a)

3 Read and complete the text with the words in the box:

1. farmers 2. grapes 3. Fishermen 4. million

4 Read the text and answer the questions:

(A) Choose the correct answer from a, b, c or d:

1. (c) 2. (b)

(B) Answer the following questions:

3. They eat grass, leaves, and plants.
4. Rhim gazelles weigh around 20-30 kg.



(C) Writing

5 Read and write the correct form of the word(s) between brackets:

1. thinner

2. but

3. repainted

4. nicest

6 Punctuate the following:

- The bear is stronger than the pelican.

7 Write a paragraph of EIGHTEEN (18) words using the following guiding elements:

- Crocodiles are important. They eat insects, birds, and lizards. This controls the number of these small animals.



Test 2 Answers

(A) Listening

Listening Script:

Camels are beautiful, strong animals. They help us to carry things and people to cross the desert. Their milk is delicious. We can use their fur to make clothes! Camels have large, flat feet so they don't sink in sand.

1 Listen and circle the correct answer from a, b, c or d:

1. (c) 2. (d) 3. (a) 4. (b)

(B) Reading

2 Choose the correct answer from a, b, c or d:

1. (b) 2. (a) 3. (d) 4. (d)

3 Read and complete the text with the words in the box:

1. think 2. helpful 3. crocodiles 4. control

4 Read the text and answer the questions:

(A) Choose the correct answer from a, b, c or d:

1. (a) 2. (b)

(B) Answer the following questions:

3. They used rainwater to water the seeds.
4. Omar's grandparents bought some land and made it green.



(C) Writing

5 Read and write the correct form of the word(s) between brackets:

1. and

2. most

3. but

4. than

6 Punctuate the following:

- How do we grow new tomatoes?

7 Write a paragraph of EIGHTEEN (18) words using the following guiding elements:

- Damietta governorate is famous for its Domiati cheese. Fishermen catch thousands of fish in the sea every day.



Test 3 Answers

(A) Listening

Listening Script:

There are many animals that live in our country. Spiders are scary, but they are helpful. They eat insects. Crocodiles are dangerous, but they do a very important job. They eat insects, birds, and lizards. This controls the number of these small animals.

1 Listen and circle the correct answer from a, b, c or d:

1. (a) 2. (d) 3. (b) 4. (c)

(B) Reading

2 Choose the correct answer from a, b, c or d:

1. (d) 2. (c) 3. (b) 4. (a)

3 Read and complete the text with the words in the box:

1. germination 2. soil 3. roots 4. leaves

4 Read the text and answer the questions:

(A) Choose the correct answer from a, b, c or d:

1. (c) 2. (d)

(B) Answer the following questions:

3. He is doing a school project about horses.
4. They can live up to thirty years.



(C) Writing

5 Read and write the correct form of the word(s) between brackets:

1. more dangerous 2. heavier 3. but 4. smallest

6 Punctuate the following:

- How long is a rhim gazelle's horn?

7 Write a paragraph of EIGHTEEN (18) words using the following guiding elements:

- I'm healthy. I like walking in the park with my mom. My favorite fruits are apples and bananas.



Test 4 Answers

(A) Listening

Listening Script:

The land in Damietta governorate is rich in nutrients. The farmers there can grow rice, tomatoes, potatoes, wheat, lemons, grapes, and guavas. Fishermen can catch thousands of fish in the sea. Damietta is famous for Domiati cheese. Life is good in Damietta.

1 Listen and circle the correct answer from a, b, c or d:

1. (c) 2. (b) 3. (d) 4. (c)

(B) Reading

2 Choose the correct answer from a, b, c or d:

1. (c) 2. (b) 3. (a) 4. (a)

3 Read and complete the text with the words in the box:

1. desert 2. carry 3. milk 4. fur

4 Read the text and answer the questions:

(A) Choose the correct answer from a, b, c or d:

1. (b) 2. (a)

(B) Answer the following questions:

3. Salma does a lot of sports at school. She doesn't eat candy, but she likes fruit.
4. Suzan goes walking in the park every weekend.



(C) Writing

5 Read and write the correct form of the word(s) between brackets:

1. most

2. than

3. and

4. recleaned

6 Punctuate the following:

- I like oranges, apples, and bananas.

7 Write a paragraph of EIGHTEEN (18) words using the following guiding elements:

- Tomatoes have seeds inside. We can take the seeds and grow new tomatoes. We plant a seed and the plant grows.



Test 5 Answers

(A) Listening

Listening Script:

The fennec fox lives in the desert. It is smaller than other foxes. It has big ears. The fennec fox needs big ears to hear insects and small animals. The fennec fox's thick fur keeps it warm at night.

1 Listen and circle the correct answer from a, b, c or d:

1. (a) 2. (d) 3. (b) 4. (d)

(B) Reading

2 Choose the correct answer from a, b, c or d:

1. (d) 2. (a) 3. (c) 4. (a)

3 Read and complete the text with the words in the box:

1. practice 2. cola 3. water 4. busy

4 Read the text and answer the questions:

(A) Choose the correct answer from a, b, c or d:

1. (c) 2. (b)

(B) Answer the following questions:

3. Because they eat insects, birds, and lizards. This controls the number of these small animals.
4. We sometimes think some animals are scary or ugly, but they are all important.



(C) Writing

5 Read and write the correct form of the word(s) between brackets:

1. remade

2. more

3. biggest

4. but

6 Punctuate the following:

- John and Lucas live on a farm.

7 Write a paragraph of EIGHTEEN (18) words using the following guiding elements:

- Egyptian farmers produce many things for us to eat. They grow rice and tomatoes. They also grow fruits.



سلاح التلميز

منذ عام ١٩٦٠



العلوم

2024-2025

الصف الرابع الابتدائي
الفصل الدراسي الأول
اختبارات على شهر أكتوبر

4

الاختبار 1

السؤال الأول

أ اختر الإجابة الصحيحة:

- 1 أ أي مما يلي يعتبر تكيفًا سلوكيًا في شجرة السنط؟
أ الأوراق الصغيرة ب الجذوع الطويلة ج الجذور العميقة د إفراز السم
 - 2 أ تحافظ السحالي الصحراوية على برودة جسمها في الأوقات شديدة الحرارة عن طريق.....
أ البحث عن الظل ب التخفي ج الجري د تناول الطعام
 - 3 أ جميع ما يلي من تكيفات حرباء النمر التركيبية التي تساعدها على البقاء ما عدا.....
أ ذيلها الذي يشبه اليد ب عيونها المميزة ج نفخ جسمها بالهواء د الحراشيف الملونة البراقة
 - 4 أ العضو المسئول عن استكمال الهضم وامتصاص العناصر الغذائية.....
أ الفم ب الأمعاء الغليظة ج المعدة د الأمعاء الدقيقة
- ب اذكر مثالاً لحيوان يتواصل في بيئته عن طريق تحديد الموقع بصدى الصوت.

السؤال الثاني

أ ضع علامة (✓) أو علامة (X) أمام العبارات التالية:

- 1 () تنفس الأسماك عن طريق الخياشيم يعتبر تكيفًا تركيبياً.
 - 2 () تساعد الجذور الطويلة والقوية النباتات في المياه المالحة على الصمود أمام الأمواج.
 - 3 () يُعد المناخ أحد أهم أسباب تكيف الكائنات الحية على مر الزمان.
 - 4 () يتواصل النمى المصري مع أقرانه عن طريق تحديد الموقع بالصدى.
- ب لا تتجمد أقدام البطريق على الرغم من وقوفه فوق الجليد طوال اليوم.

السؤال الثالث

أ أكمل العبارات التالية:

- 1 يستجيب اليربوع للخطر في زمن أقل من ثانية واحدة، ويسمى هذا الوقت ب.....
- 2 تبدأ عملية هضم الطعام في.....
- 3 تستقبل.....المعلومات من البيئة وتحولها إلى إشارات.

ب اكتب المصطلح العلمي:

- 1 (.....) نوع من التكيف يساعد الحيوانات على التسلل إلى الفرائس.
- 2 (.....) ارتداد الضوء عندما يسقط على سطح عاكس.



الاختبار 2

السؤال الأول

أ ضع علامة (✓) أو علامة (X) أمام العبارات التالية:

- () 1) تمتلك البومة حاستي سمع وبصر قويتين لتحديد موقع فريستها في الظلام.
() 2) القمر يعتبر مصدر ضوء لأنه يعكس ضوء الشمس الساقط عليه.
() 3) استنشاق عوادم المصانع لفترة طويلة قد يصيب الرئتين بالتلف.
() 4) مركز التحكم الرئيسي في جسم الإنسان هو المخ.

ب حدّد نوع التكيف: تركيب أم سلوكي؟

1) لهث الثعالب لتخفيف درجة حرارة أجسامها.

2) لون فراء الوشق المصري.

السؤال الثاني

أ اختر الإجابة الصحيحة:

- 1) العضو المشترك بين الجهازين الهضمي والتنفسي هو
أ المريء ب البلعوم ج الرئة د المعدة
- 2) أيُّ مما يلي لا يعتبر من الحيوانات الليلية؟
أ البومة ب الخفاش ج الدولفين د اليربوع
- 3) تساعدنا حاسة على تمييز رائحة العطر.
أ البصر ب الشم ج السمع د التذوق
- 4) يدخل غاز إلى جسم الإنسان أثناء عملية الشهيق.
أ ثاني أكسيد الكربون ب الأكسجين ج الهيدروجين د النيتروجين

ب فسّر: التباين اللوني في قرش الثور.

السؤال الثالث

أ أكمل العبارات التالية:

- 1) يحدث تبادل الغازات في الجهاز
2) يحمل الرسائل من المخ إلى أجزاء الجسم، والعكس.
3) سحب قدمك بسرعة عند تعرضها للوخز يسمى
4) استوحى العلماء فكرة عكاز مساعدة المكفوفين من طريقة تواصل

ب تستطيع حرباء النمر صيد فرانسها وتجنب افتراسها من حيوان آخر في نفس الوقت. ما سبب ذلك؟



الاختبار 3

السؤال الأول

أ أكمل العبارات التالية:

- 1 تربط أعضاء الحس بالمخ.
 - 2 يساعد على دفع الطعام من البلعوم إلى المعدة.
 - 3 الأجسام تسمح بمرور الضوء من خلالها.
 - 4 يتواصل النمل باستخدام حاسة
- ب علل: لا تستطيع الحيوانات التغذي على أوراق شجرة السنط.

السؤال الثاني

أ اختر الإجابة الصحيحة:

- 1 تتميز الأوراق التي على شكل إبر بقدرتها على
أ امتصاص أكبر قدر من ضوء الشمس
ب الصمود أمام الرياح
ج عدم فقد الماء بسهولة
د الصمود أمام الأمواج
 - 2 الجهاز الذي يستقبل المعلومات ويترجمها هو الجهاز
أ الهضمي
ب العصبي
ج التنفسي
د البولي
 - 3 تستخدم الخفافيش حاسة لتحديد موقع الأشياء.
أ البصر
ب الشم
ج السمع
د التذوق
 - 4 تبقى أقدام البطريق دافئة في بيئته شديدة البرودة بسبب
أ الفراء البيضاء
ب الدهون السمكية
ج الريش الكثيف
د الأوعية الدموية
- ب ماذا يحدث إذا اقترب حيوان مفترس من حباء النمر؟

السؤال الثالث

أ ضع علامة (✓) أو علامة (X) أمام العبارات التالية:

- 1 يساعد إزالة الغابات على إعادة النظام البيئي إلى طبيعته الأصلية. ()
- 2 يصب الكبد والبنكرياس العصارات الهاضمة في الأمعاء الغليظة. ()
- 3 يختلف سُمك فراء الحيوانات على حسب حرارة بيئتها. ()

ب اكتب المصطلح العلمي:

- 1 سمة تميز الكائنات الحية تساعد على البقاء على قيد الحياة. (.....)
- 2 عضلة مسئولة عن حركتي الشهيق والزفير. (.....)



الاختبار 4

السؤال الأول

أ أكمل العبارات التالية:

- 1) تجمُّع البطاريق في مجموعات يعتبر تكيفاً
- 2) يُعتبر من أمثلة الأنشطة البشرية التي تؤثر سلباً على البيئة.
- 3) يمتلك الدب القطبي فراءً كثيفة تساعده على التخفي بين الثلوج.
- 4) تعتبر المصدر الرئيسي للضوء على سطح الأرض.

ب ماذا يحدث إذا كان زمن استجابة اليربوع للخطر طويلاً؟

السؤال الثاني

أ اختر الإجابة الصحيحة:

- 1) أيُّ مما يلي يعتبر تكيفاً سلوكياً في الحيوانات؟
أ الأعين الكبيرة ب الأذان الطويلة ج المخالب الحادة د هجرة الطيور
- 2) عندما يرى الشخص شيئاً ما، ما الذي يحمل الرسالة من العين إلى المخ؟
أ الأوردة ب الأعصاب ج العضلات د الغدد
- 3) الجهاز هو المسئول عن هضم الطعام وإمداد الجسم بالعناصر الغذائية اللازمة له.
أ التنفسي ب الهضمي ج الدوري د العصبي
- 4) من طرق التواصل بين الحيوانات
أ الكتابة ب المكالمات الهاتفية ج الأصوات د الرسائل النصية

ب ما هو العضو الذي تتصل مستقبلاته الحسية بالمخ مباشرة؟

السؤال الثالث

أ ضع علامة (✓) أو علامة (X) أمام العبارات التالية:

- 1) من أمثلة الأجسام المعتمدة الجلد والكرتون والماء. ()
- 2) عند عبور الطريق يستخدم الإنسان حاسة اللمس لرؤية إشارات المرور. ()
- 3) يمتلك الدولفين حاسة سمع فائقة. ()
- 4) الأوراق الصغيرة تساعد النباتات على الاحتفاظ بالماء. ()

ب اكتب المصطلح العلمي:

- 1) الوقت الذي يستغرقه الكائن الحي للاستجابة للمؤثرات الخارجية. (.....)
- 2) العملية التي ينقبض فيها الحجاب الحاجز ويتحرك لأسفل. (.....)



الاختبار 5

السؤال الأول

أ أكمل العبارات التالية:

- 1 يمتلك الثعلب القطبي سيقاناً.....تحافظ على درجة حرارة جسمه.
- 2 العضو المسئول عن حاسة التذوق هو
- 3 تنقل.....الإشارات إلى المخ.
- 4 نشر شجرة الكابوك عبير أزهارها يعتبر تكييفاً

ب علل: تتوهج أعين القطط في الظلام.

السؤال الثاني

أ اختر الإجابة الصحيحة:

- 1 عند لمس يدك لشوكة بنبات الصبار فإن العضو المسئول عن إحساسك بالألم هو
أ القلب ب الرئة ج المريء د المخ
- 2 يمتلك الوشق المصري فراءً.....تساعده على التخفي بين الرمال في الصحراء.
أ بيضاء ب سوداء ج حمراء د بُنية
- 3 الحيتان الحدباء تستخدم الأغاني عند.....
أ التنفس ب التخفي عن الأعداء ج التكاثر والتغذية د التدفئة في الشتاء
- 4 عندما يرى الشخص شيئاً ما، ما الذي يحمل الرسالة من العين إلى المخ؟
أ الأوردة ب الأعصاب ج العضلات د الغدد

ب تنشط بعض الحيوانات ليلاً. ما سبب ذلك؟

السؤال الثالث

أ ضع علامة (✓) أو علامة (X) أمام العبارات التالية:

- 1 تعتبر هجرة الطيور تكييفاً تركيبياً. ()
- 2 تمتص أوراق النبات العريضة أقل قدر من ضوء الشمس. ()
- 3 تمتلك البومة وجهاً يشبه الوعاء وريشاً في الرأس لتقوية حاسة السمع. ()
- 4 الجذور الداعمة في الأشجار تعمل على تدعيم واستقرار الأشجار في الأرض. ()

ب ما سبب تغير لون فراء الثعلب القطبي خلال فصول السنة؟



سلاح التلميز

منذ عام ١٩٦٠



العلوم

2024-2025

الصف الرابع الابتدائي
الفصل الدراسي الأول
إجابات اختبارات شهر أكتوبر

4

1 إجابة الاختبار

السؤال الأول:

- أ 1 د
ب الدلفين
- أ 2 أ
ب 3 ج
ج 4 د

السؤال الثاني:

- أ 1 ✓
ب بسبب التفاف الأوعية الدموية حول بعضها؛ مما يساعد على انتقال الحرارة من الدم الدافئ إلى الدم البارد.
- أ 2 ✓
ب 3 ✓
ج 4 ✗

السؤال الثالث:

- أ 1 زمن الاستجابة
ب 1 التخفي
- أ 2 الفم
ب 2 انعكاس الضوء
- أ 3 أعضاء الحس

2 إجابة الاختبار

السؤال الأول:

- أ 1 ✓
ب 1 تكيف سلوكي
- أ 2 ✗
ب 2 تكيف تركيبى
- أ 3 ✓
ب 4 ✓

السؤال الثاني:

- أ 1 ب
ب 1 للتخفي والتسلل إلى الفريسة أثناء الصيد
- أ 2 ج
ب 3 ب
ج 4 ب

السؤال الثالث:

- أ 1 التنفسي
ب 1 لأنها محمية بأشواك حادة وتفرز سمًا يجعل مذاقها سيئًا.
- أ 2 الحبل الشوكي
ب 2 رد الفعل المنعكس
- أ 3 رد الفعل المنعكس
ب 4 الخفافيش
- ب بسبب قدرتها على تحريك كل عين في اتجاه مستقل عن الأخرى، فتبحث بعينٍ عن الحشرات لتصيدها، وتراقب الحيوانات المفترسة بالعين الأخرى.

3 إجابة الاختبار

السؤال الأول:

- أ 1 الأعصاب
ب لأنها محمية بأشواك حادة وتفرز سمًا يجعل مذاقها سيئًا.
- أ 2 المريء
ب 3 الشفافة
- أ 4 الشم



السؤال الثاني:

- أ 1 ج 2 ب 3 ج 4 د

ب تنفخ جسمها بالهواء، وتفتح فمها واسعاً، وتغير ألوان حراشيفها لتبدو شرسة.

السؤال الثالث:

- أ 1 ج 2 ب 3 ج 4 د

ب التكيف 1 الحجاب الحاجز 2

4 إجابة الاختبار

السؤال الأول:

- أ 1 تركيباً 2 تلوث الهواء 3 بيضاء 4 الشمس

ب يتعرض للخطر ولن يستطيع البقاء طويلاً

السؤال الثاني:

- أ 1 د 2 ب 3 ب 4 ج

ب العين

السؤال الثالث:

- أ 1 ج 2 ب 3 ج 4 د

ب زمن الاستجابة 1 عملية الشهيق 2

5 إجابة الاختبار

السؤال الأول:

- أ 1 قصيرة 2 اللسان 3 الأعصاب 4 سلوكياً

ب لوجود غشاء في مؤخرة أعينها، يعمل كمرآة يرد الضوء من خلاله.

السؤال الثاني:

- أ 1 د 2 د 3 ج 4 ب

ب لتجنب الحرارة الشديدة نهاراً وتوفير الطعام ومهاجمة الفرائس.

السؤال الثالث:

- أ 1 ج 2 ب 3 ج 4 د

ب للتخفي وصيد فرائسه في أي فصل من فصول السنة.



سلاح التلميز

منذ عام ١٩٦٠



الدراسات الاجتماعية

2024-2025

الصف الرابع الابتدائي
الفصل الدراسي الأول

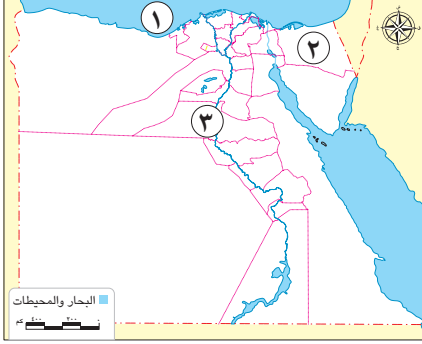
اختبارات شهر أكتوبر

4

الاختبار ١

أمامك خريطة لمصر، لاحظها ثم أجب:

السؤال الأول



جمهورية مصر العربية

١ البحر

٢ صواب أم خطأ: يشير رقم (٢) إلى إحدى محافظات الحدود الصحراوية. ()

٣ محافظة

٤ حدد العنصر المفقود في الخريطة

السؤال الثاني اختر الإجابة الصحيحة مما بين القوسين:

١ «تغطي الصور الفضائية مواقع أكثر من الصور الجوية» تُعد هذه العبارة

(حقيقة - رأياً - ادعاءً - مغالطة)

(القارات - المحافظات - الدول - البحار)

٢ تفصل الحدود الإدارية بين

السؤال الثالث ما المقصود:

- شعار المحافظة؟

الاختبار ٢

السؤال الأول اكتب كلمة (صواب) أمام العبارة الصحيحة وكلمة (خطأ) أمام العبارة غير الصحيحة:

١ الآراء دائماً تكون صحيحة ويجب الأخذ بها. ()

٢ يدل اللون الأسود في علم مصر على السلام. ()

٣ يمكنك استخدام الخريطة أثناء المذاكرة. ()

٤ تُعد قارتنا الإفريقية إحدى قارات العالم القديم. ()

السؤال الثاني بم تفسر:

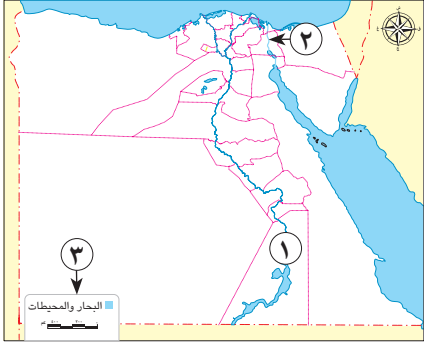
- إنشاء العاصمة الإدارية الجديدة؟



الاختبار ٣

السؤال الأول

أمامك خريطة لمصر، لاحظها ثم اكتب كلمة (صواب) أو (خطأ) أمام كل عبارة مما يلي:



- ١ يشير رقم (١) لإحدى محافظات الوجه البحري. ()
- ٢ ساهم حفر القناة رقم (٢) في تقليص مدة الإبحار بين أوروبا وآسيا. ()
- ٣ يمكن تحديد الاتجاهات الأصلية والفرعية من خلال عنصر الخريطة رقم (٣). ()
- ٤ تُظهر الخريطة المقابلة أجزاء من قارتي آسيا وإفريقيا. ()

السؤال الثاني اختر الإجابة الصحيحة مما بين القوسين:

- ١ تحتفل العاصمة المصرية بعيدها القومي في ٦ يوليو من كل عام بمناسبة
(تأليف النشيد الوطني - ذكرى بناء القاهرة - بناء الجامع الأزهر - تأسيس العاصمة الإدارية)
- ٢ تعبر الصورة التي أمامك عن أحد المصادر الأولية وهي
(وثائق رسمية - مقالات - كتابات مؤرخين - نقوش)



السؤال الثالث ما العلاقة بين كل من:

- علم مصر والقائد صلاح الدين الأيوبي؟

الاختبار ٤

السؤال الأول

أكمل العبارات التالية بما يناسبها من كلمات:

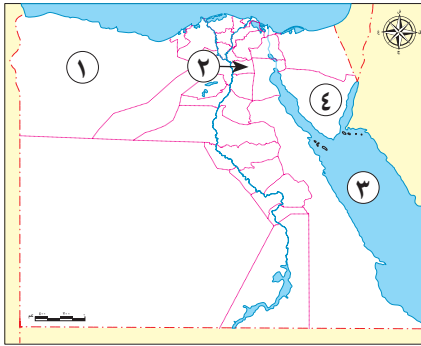
- ١ تُستخدم الأقمار الصناعية في التقاط الصور
٢ حفر المصريون قناة السويس تحت إشراف
٣ أصغر المحافظات المصرية مساحة هي
٤ طريق مائي استخدمه المصريون القدماء للتجارة بين مصر ودول وسط إفريقيا

السؤال الثاني حدد وجه التشابه بين:

- المصادر الأولية والثانوية.



السؤال الأول: لاحظ خريطة مصر، ثم اختر الإجابة الصحيحة مما بين القوسين:



- ١ يشير رقم (١) لإحدى محافظات
 (القناة - الوجه البحري - الوجه القبلي - الحدود الصحراوية)
- ٢ أي من المعالم الأثرية التالية يوجد بالمحافظة رقم (٢)؟
 (الكنيسة المعلقة - أهرامات الجيزة - معبد الكرنك - المسرح الروماني)
- ٣ يشير رقم (٣) إلى
 (نهر النيل - بحيرة ناصر - البحر الأحمر - البحر المتوسط)
- ٤ يشير رقم (٤) إلى محافظة
 (المنوفية - جنوب سيناء - المنيا - الوادي الجديد)

السؤال الثاني: اكتب كلمة (صواب) أمام العبارة الصحيحة وكلمة (خطأ) أمام العبارة غير الصحيحة:

- ١ يساعدنا عنوان الخريطة على معرفة موقع المكان بالنسبة لخطوط الطول ودوائر العرض. ()
- ٢ كل ما تم تدوينه بعد مرور زمن طويل من وقوع الحدث يُعد مصدرًا ثانويًا. ()

السؤال الثالث: ضع دائرة حول الكلمة المختلفة مع ذكر السبب:

- (مقياس الرسم - شعار المحافظة - وردة البوصلة - مفتاح الخريطة)

السؤال الأول: أكمل العبارات التالية بكلمات مناسبة:

- ١ أحد عناصر الخريطة ويساعدنا في فهم رموز وألوان الخريطة
 ٢ لون في علم مصر يدل على مرحلة النضال ودماء شهداء الوطن من أجل الحرية هو
 ٣ تقع مصر في قارة إفريقيا في الركن

السؤال الثاني: قارن بين:

- الحقيقة والرأي (من حيث التعريف، مع ذكر مثال لكل منهما).

الرأي	الحقيقة	وجه المقارنة
.....	التعريف
.....	المثال



الاختبار ٧

لاحظ الخريطة التي أمامك، ثم وضع مدلول الأرقام الموقعة عليها:

السؤال الأول



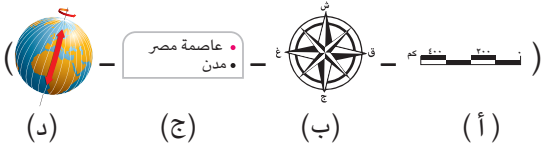
١ قارة

٢ المحيط

٣ قارة

٤ المحيط

السؤال الثاني اختر الإجابة الصحيحة مما بين القوسين:



١ أي من الأشكال التالية يُعبر عن مقياس الرسم؟

٢ مصدر أولي يساعد في الحصول عن معلومات عن حياة المصري القديم هو

(الكتب - المقالات - البرديات - الأبحاث)

السؤال الثالث أجب عما يلي:

- علام تدل الشمس الساطعة في شعار محافظة القاهرة؟

الاختبار ٨

السؤال الأول اكتب كلمة (صواب) أمام العبارة الصحيحة وكلمة (خطأ) أمام العبارة غير الصحيحة:

١ نظرًا لاتساع مساحة مصر، تم تقسيمها إلى عدد من الولايات. ()

٢ يجب علينا تحري دقة المعلومات قبل نشرها. ()

٣ يستخدم الطيار الخريطة في تحديد ملكية الأرض الزراعية. ()

السؤال الثاني أجب عما يلي:

١ اكتب دليلًا واحدًا على: دور نهر النيل في ازدهار مصر منذ القدم.

٢ بم تفسر: يرفرف علم مصر في جميع أنحاء البلاد؟

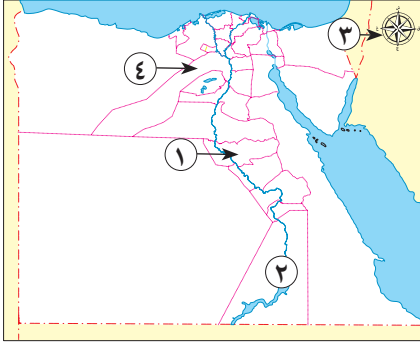




الاختبار ٩

أمامك خريطة مصر، لاحظها ثم صوب ما تحته خط:

السؤال الأول



(.....)

(.....)

(.....)

(.....)

١ يشير رقم (١) لإحدى محافظات الوجه البحري.

٢ يشير رقم (٢) إلى البحر الأحمر.

٣ يشير رقم (٣) إلى مقياس الرسم.

٤ يشير رقم (٤) إلى محافظة القاهرة.

اكتب كلمة (صواب) أمام العبارة الصحيحة وكلمة (خطأ) أمام العبارة غير الصحيحة:

السؤال الثاني

()

١ تتميز الحقيقة بالدقة والموضوعية.

()

٢ تحتفل جميع المحافظات بعيد قومي واحد.

ماذا يحدث إذا:

السؤال الثالث

- كانت مصر إحدى الدول الموجودة بوسط قارة إفريقيا؟



الاختبار ١٠

اكتب ما تشير إليه العبارات التالية:

السؤال الأول

(.....)

١ النسبة بين المسافة على الخريطة وما يقابلها على الطبيعة.

(.....)

٢ قناة أمر بحفرها الملك سنوسرت الثالث لتربط البحر الأحمر بنهر النيل.

(.....)

٣ طريق تجاري قديم يدور حول قارة إفريقيا.

أجب عما يلي:

السؤال الثاني

- اكتب اثنين من: مظاهر احترامك لعلم مصر.



سلاح التلميز

منذ عام ١٩٦٠



الدراسات الاجتماعية

2024-2025

الصف الرابع الابتدائي
الفصل الدراسي الأول

إجابات اختبارات شهر أكتوبر

4

إجابة الاختبار ١

- ٢ صواب.
٤ شبكة خطوط الطول ودوائر العرض.

السؤال الأول:

- ١ المتوسط.
٣ المنيا.

السؤال الثاني:

- ١ حقيقة.

السؤال الثالث:

- راية تتخذها المحافظة رمزاً لها، يعبر عن نشاط سكانها أو جزء من تاريخها.

إجابة الاختبار ٢

- ٢ خطأ.
٤ صواب.

السؤال الأول:

- ١ خطأ.
٣ صواب.

السؤال الثاني:

- لتخفيف الضغط السكاني.

إجابة الاختبار ٣

- ٢ صواب.
٤ صواب.

السؤال الأول:

- ١ خطأ.
٣ خطأ.

السؤال الثاني:

- ١ ذكرى بناء القاهرة.

السؤال الثالث:

- يتوسط علم مصر نسر أصفر ذهبي مأخوذ عن نسر القائد صلاح الدين الأيوبي.

إجابة الاختبار ٤

- ٢ مهندسين فرنسيين.
٤ نهر النيل.

السؤال الأول:

- ١ الفضائية.
٣ دمياط.

السؤال الثاني:

- كلاهما مصادر لتوثيق المعلومات والأحداث.



إجابة الاختبار ٥

السؤال الأول:

- ١ الحدود الصحراوية.
٢ الكنيسة المعلقة.
٣ البحر الأحمر.
٤ جنوب سيناء.

السؤال الثاني:

- ١ خطأ.

- ٢ صواب.

السؤال الثالث:

- شعار المحافظة لأنه ليس من عناصر الخريطة.

إجابة الاختبار ٦

السؤال الأول:

- ١ مفتاح الخريطة.
٢ اللون الأحمر.
٣ الشمالي الشرقي.

السؤال الثاني:

- الحقيقة: معلومات أو أحداث تم إثبات صحتها والتأكد من دقتها سواء بالبحث أو التجربة.
- الرأي: تعبير عما يشعر به أو يفكر فيه شخص ما تجاه موضوع معين.
- المثال: أجب بنفسك.

إجابة الاختبار ٧

السؤال الأول:

- ١ آسيا.
٢ الأطلنطي.
٣ أوروبا.
٤ الهندي.

السؤال الثاني:

- ١ (أ).

- ٢ البريدات.

السؤال الثالث:

- تدل على أن الأزهر الشريف هو منارة الإسلام في العالم.



إجابة الاختبار ٨

السؤال الأول:

- ١ خطأ. ٢ صواب. ٣ خطأ.

السؤال الثاني:

- ١ عاش المصريون على ضفتيه وقاموا بأعمال الزراعة.
٢ لأنه رمز الدولة فيجب أن يُرفع في جميع أنحاء البلاد مثل الوزارات والهيئات والمؤسسات الحكومية والمواقع السياحية وغيرها.

إجابة الاختبار ٩

السؤال الأول:

- ١ القبلي. ٢ بحيرة ناصر. ٣ وردة البوصلة. ٤ الجيزة.

السؤال الثاني:

- ١ صواب. ٢ خطأ.

السؤال الثالث:

– أجب بنفسك.

إجابة الاختبار ١٠

السؤال الأول:

- ١ مقياس الرسم. ٢ قناة سيزوستريس. ٣ طريق رأس الرجاء الصالح.

السؤال الثاني:

– الوقوف باحترام أثناء تحية العلم – المحافظة على العلم ورفعته عاليًا – عدم الكتابة أو الرسم على العلم – عدم لمسه للأرض أو ابتلاله بالماء – عدم تمزيقه أو حرقه.



سلاح التلميز

منذ عام ١٩٦٠



المهارات المهنية

2024-2025

الصف الرابع الابتدائي
الفصل الدراسي الأول
نماذج اختبارات شهر أكتوبر

4

الاختبار ١

السؤال الأول ضع علامة (✓) أمام العبارة الصحيحة، وعلامة (X) أمام العبارة غير الصحيحة:

- ١) يجب دفع مبلغ من المال لاستخدام موقع بنك المعرفة. ()
- ٢) جميع النباتات تتحمل ضوء الشمس المباشر لكي تنمو. ()
- ٣) عند طلب المساعدة من أخي أستخدم عبارة «من فضلك». ()
- ٤) يضاف السماد للنباتات عن طريق التربة فقط. ()
- ٥) يمتلك عامل الكهرباء مهارات الفهم الدقيق لأنظمة المواسير. ()

السؤال الثاني اختر الإجابة الصحيحة مما يلي:

- ١) عند علاج تشققات الخشب يجب الإكثار من لأنه يتقلص عندما يجف.
 - أ) الشمع
 - ب) المعجون
 - ج) الطلاء
 - د) الزيت
- ٢) يقوم بزراعة المحاصيل الزراعية.
 - أ) المحاسب
 - ب) المزارع
 - ج) السباك
 - د) الرسام
- ٣) يُعتبر من حقوق الطفل.
 - أ) التعليم
 - ب) سوء المعاملة
 - ج) الإهمال الصحي
 - د) التعرض للعنف
- ٤) للاعتناء بالنباتات المنزلية يجب توافر جاروف و
 - أ) شاكوش
 - ب) كماشة
 - ج) قلم
 - د) أصيص
- ٥) الترحيب بالزوار في الفنادق إحدى مهام
 - أ) أمين المكتبة
 - ب) طبيب الفندق
 - ج) موظف الاستقبال
 - د) عامل البناء

السؤال الثالث أكمل العبارات الآتية بالإجابات الصحيحة:

- ١) الجزء الذي يحتوي على الموضوعات التي يتناولها الكتاب هو
- ٢) النخيل المروحي من أنواع نباتات
- ٣) يصدر الصرير عند غلق الباب وفتحه نتيجة لتلف
- ٤) يتمتع كل فرد من أفراد الأسرة بدور عن الآخر.

السؤال الرابع فكّر ثم أجب:

ما هي الأسرة النووية؟



الاختبار ٢

السؤال الأول ضع علامة (✓) أمام العبارة الصحيحة، وعلامة (X) أمام العبارة غير الصحيحة:

- ١) عملية الرِّيِّ والتسميد غير ضرورية للنبات. ()
- ٢) نستخدم المسامير لإصلاح تشقُّق الجدران. ()
- ٣) يجب أن يستمع أفراد الأسرة لآراء بعضهم بعضاً. ()
- ٤) يتم تصنيف الكُتب في المكتبات بنظام «ديوي العشري». ()
- ٥) تتميز مصر بوجود الآثار الفرعونية فقط. ()

السؤال الثاني اختر الإجابة الصحيحة ممَّا يلي:

- ١) يستخدم السبَّك بعض القوانين لتساعده على عمله.
 - أ الجاذبية
 - ب الرياضية
 - ج الطبيعة
 - د الكيميائية
- ٢) الغلاف الخارجي يشمل
 - أ الفهرس
 - ب فصول الكتاب
 - ج عنوان الكتاب
 - د أرقام الصفحات
- ٣) للأطفال حقوق منها
 - أ ممارسة الأنشطة
 - ب ترتيب المنزل
 - ج عدم احترام الآخرين
 - د سوء المعاملة
- ٤) نباتات الصبَّار من نباتات الزينة التي تحتاج إلى
 - أ السماد بكثرة
 - ب الإضاءة الخافتة
 - ج الرِّيِّ بكثرة
 - د الإضاءة المباشرة
- ٥) جمع المحاصيل الزراعية إحدى مهام
 - أ المزارعين
 - ب المحاسبين
 - ج الأطباء
 - د الفنانين

السؤال الثالث أكمل العبارات الآتية بالإجابات الصحيحة:

- ١) قدَّم والدك لك هدية لفوزك في بطولة السباحة، ستقول له
- ٢) عند تراحم النباتات تُنقل إلى أصيص في الحجم.
- ٣) تلف مفصلات الأبواب يسبب صدور عند غلق الباب أو فتحه.
- ٤) الزعتر والنعناع من النباتات التي تُستخدم في الطعام.

السؤال الرابع فكِّر ثمَّ أجب:

ورد أن الجزء الأكبر هو المتن، وضح ذلك.



الاختبار ٣

السؤال الأول ضع علامة (✓) أمام العبارة الصحيحة، وعلامة (X) أمام العبارة غير الصحيحة:

- ١ حماية الأطفال من سوء المعاملة يُعتبر حقًا من حقوقهم. ()
- ٢ يحتوي الغلاف الخارجي للكتاب على وصف موجز لما يتناوله الكتاب. ()
- ٣ يستخدم السبّاك مفتاح الربط في عمله. ()
- ٤ مهام الأطباء علاج المرضى والاهتمام بصحة الأفراد. ()
- ٥ أفراد العائلة الأكبر سنًا لا يُعلّمون الصغار شيئًا. ()

السؤال الثاني اختر الإجابة الصحيحة ممّا يلي:

- ١ وصف الأماكن والمعالم السياحية من المهام الخاصة ب.....
 - أ المهندس
 - ب الطبيب البشري
 - ج المعلم
 - د المرشد السياحي
- ٢ يقوم النجار باستخدام..... في العديد من الأشياء.
 - أ القماش
 - ب مواسير الصرف
 - ج أسلاك الكهرباء
 - د الأخشاب
- ٣ شخص يجب عليه معرفة جميع أنواع الكتب داخل المكتبة هو.....
 - أ المزارع
 - ب المحاسب
 - ج أمين المكتبة
 - د الطبيب
- ٤ الجزء الأكبر في الكتاب هو.....
 - أ الغلاف الخارجي
 - ب الفهرس
 - ج قائمة المحتويات
 - د المتن
- ٥ نبات يتم ريه على فترات متباعدة.....
 - أ الريحان
 - ب الفل
 - ج الصبّار
 - د الورد

السؤال الثالث أكمل العبارات الآتية بالإجابات الصحيحة:

- ١ مهنة مدير الفندق من المهن.....
- ٢ يتكاثر نبات الريحان عن طريق.....
- ٣ الأسرة التي تضم الجدّ والجدّة والأعمام تُسمّى بالأسرة.....
- ٤ نباتات غير قادرة على النموّ بشكل رأسي هي.....

السؤال الرابع فكّر ثمّ أجب:

ما الأسباب التي تؤدي لاختلاف الأدوار ومسئوليات بين أفراد الأسرة؟



الاختبار ٤

السؤال الأول ضع علامة (✓) أمام العبارة الصحيحة، وعلامة (X) أمام العبارة غير الصحيحة:

- ١) يجب اختيار حجم الأصيل المناسب للنبات الذي سيُزرع فيه. ()
- ٢) يمكن أن تتغير مسؤولية الفرد الأكبر داخل الأسرة بسبب الظروف الصحيّة. ()
- ٣) مهنة عمّال البناء من المهن غير المهمّة في المجتمع. ()
- ٤) تتميز نباتات الزينة بجمال أشكالها وألوانها وتُستخدم في تجميل البيئّة. ()
- ٥) الاهتمام والاحترام لا يُحقّقان التّرابط الأسري. ()

السؤال الثاني اختر الإجابة الصحيحة ممّا يلي:

- ١) صعوبة قراءة اللوحات الاسترشادية من المشكلات التي تواجه
 أ المعلمين ب الممثلين ج السائحين د المزارعين
- ٢) تُستخدم مادة التشحيم لإصلاح وجعلها لا تصدر صريرًا عند فتحها أو غلقها.
 أ الكراسي ب الأبواب ج الثلجات د الأحواض
- ٣) الأسرة التي تتكوّن من الأب والأم والأخ والأخت تُسمّى الأسرة
 أ النووية ب الكبيرة ج الممتدّة د المتكاملة
- ٤) يساعدك في الحصول على العلاج الصحيح والاهتمام بصحتك.
 أ أمين المكتبة ب الطبيب ج ممثل المسرح د النجار
- ٥) يُعدُّ من النباتات العشبية.
 أ البوتس ب الكزبرة ج الفوجير د الجارونيا

السؤال الثالث أكمل العبارات الآتية بالإجابات الصحيحة:

- ١) تساهم السياحة في توفير للعديد من الشباب.
- ٢) تعمل النباتات على تنقية الهواء من خلال عملية
- ٣) يتم تصنيف الكتب في المكتبات بنظام
- ٤) الأوقات السعيدة التي يستمتع بها أفراد الأسرة مع بعضهم بعضًا تُسمّى

السؤال الرابع فكّر ثمّ أجب:

ما استخدامات ورق الصنفرة؟

.....



الاختبار ٥

السؤال الأول ضع علامة (✓) أمام العبارة الصحيحة، وعلامة (X) أمام العبارة غير الصحيحة:

- ١ تُعتبر الشُّجيرات والتمسُّلقات نباتات زينة. ()
- ٢ المتن هو المقدمة الموجودة في الكتاب. ()
- ٣ لا يوجد قانون يحقُّ للأطفال الحصول على الرعاية الصحيَّة الجيدة. ()
- ٤ المهن الصناعية من المهن المهمَّة في المجتمع. ()
- ٥ يجب أن يستمع أفراد الأسرة لآراء بعضهم بعضًا. ()

السؤال الثاني اختر الإجابة الصحيحة ممَّا يلي:

- ١ اصطحاب السائحين في الأماكن السياحية من مهام
 أ موظف الغرف ب مدير الفندق ج المرشد السياحي د موظف الاستقبال
- ٢ فهرسة الكتب وتنظيمها من المهارات الواجب توافرها في
 أ عامل الكهرباء ب عامل البناء ج الطبيب البيطري د أمين المكتبة
- ٣ يستخدم أجهزة قياس التيار الكهربائي.
 أ الخيَّاط ب المُعلِّم ج عامل الكهرباء د المُمرِّضة
- ٤ يُستخدم لتثبيت مسامير مفصلات الأبواب.
 أ ورق الصنفرة ب المعجون ج المنشار د المفك
- ٥ تقوم النباتات بعملية البناء الضوئي لـ
 أ تلوين الهواء ب تبخير الماء ج تنقية الهواء د تنقية الماء

السؤال الثالث أكمل العبارات الآتية بالإجابات الصحيحة:

- ١ الأسرة هي المكوّن الأساسي لـ
- ٢ تشغيل الآلات الزراعية مهارة يقوم بها
- ٣ صفحة تأتي بعد صفحة الغلاف الخارجي.
- ٤ التكاثر يكون باستخدام جزء من النبات.

السؤال الرابع فكِّر ثمَّ أجب:

وضح أهمية النباتات العشبية.



سلاح التلميز

منذ عام ١٩٦٠



المهارات المهنية

2024-2025

الصف الرابع الابتدائي
الفصل الدراسي الأول
إجابات نماذج اختبارات شهر أكتوبر

4

إجابة الاختبار ١

السؤال الأول:

× ٥

× ٤

✓ ٣

× ٢

× ١

السؤال الثاني:

موظف الاستقبال ٥

أصيص ٤

التعليم ٣

المزارع ٢

المعجون ١

السؤال الثالث:

مختلف ٤

المفصلات ٣

نخيل الزينة ٢

المتن ١

السؤال الرابع:

الأسرة التي تتكون من الأب والأم والأبناء.

إجابة الاختبار ٢

السؤال الأول:

× ٥

✓ ٤

✓ ٣

× ٢

× ١

السؤال الثاني:

المزارعين ٥

الإضاءة المباشرة ٤

ممارسة الأنشطة ٣

عنوان الكتاب ٢

الرياضية ١

السؤال الثالث:

العشبية ٤

صريراً ٣

أكبر ٢

«شكراً» ١

السؤال الرابع:

لأنه يحتوي على الموضوعات التي يتناولها الكتاب.



إجابة الاختبار ٣

السؤال الأول:

× ٥

✓ ٤

✓ ٣

× ٢

✓ ١

السؤال الثاني:

٥ الصبّار

٤ المتن

٣ أمين المكتبة

٢ الأخشاب

١ المرشد السياحي

السؤال الثالث:

٤ المتسلقات

٣ الممتدة

٢ البذور

١ السياحية

السؤال الرابع:

التقدم في السن والظروف الصحيّة.

إجابة الاختبار ٤

السؤال الأول:

× ٥

✓ ٤

× ٣

✓ ٢

✓ ١

السؤال الثاني:

٥ الكزبرة

٤ الطبيب

٣ النووية

٢ الأبواب

١ السائحين

السؤال الثالث:

٤ الاحتفالات

٣ «ديوي العشري»

٢ البناء الضوئي

١ فرص عمل

السؤال الرابع:

تنعيم الأسطح قبل الطلاء.



إجابة الاختبار ٥

السؤال الأول:

✓ ٥

✓ ٤

× ٣

× ٢

✓ ١

السؤال الثاني:

٥ تنقية الهواء

٤ المفك

٣ عامل الكهرباء

٢ أمين المكتبة

١ المرشد السياحي

السؤال الثالث:

٤ الخضري

٣ الغلاف الداخلي

٢ المزارع

١ المجتمع

السؤال الرابع:

تستخدم بعضها في الطعام.



سلاح التمهيد

منذ عام ١٩٦٠



تكنولوجيا
المعلومات
والاتصالات

2024-2025

الصف الرابع الابتدائي
الفصل الدراسي الأول
نماذج اختبارات شهر أكتوبر

4

الاختبار 1

السؤال الأول

ضع علامة (✓) أمام العبارة الصحيحة، وعلامة (X) أمام العبارة غير الصحيحة:

- 1 استخدام أدوات التكنولوجيا الحديثة يوفر الجهد والتكلفة لعلماء الآثار. ()
- 2 تعمل أجهزة الإخراج في الكمبيوتر على معالجة البيانات. ()
- 3 يعتبر ويندوز (Windows) من أشهر أنظمة التشغيل. ()
- 4 تستخدم برمجيات التواصل البديلة لتكبير كل شيء على الشاشة. ()
- 5 يمكن حدوث أعطال أثناء استخدام جهاز الكمبيوتر. ()
- 6 يمكن استخدام الطائرات بدون طيار لتصوير أماكن يصعب الوصول إليها. ()
- 7 تستخدم شاشة العرض في عرض المعلومات الصوتية فقط. ()

السؤال الثاني

اختر الإجابة الصحيحة من بين الاختيارات التالية:

- 1 يعتبر المتصفح جوجل كروم من
أ التطبيقات ب أنظمة التشغيل ج أجهزة الإدخال د الألعاب
- 2 تساعد ضعاف السمع.
أ لوحة المفاتيح ب الطابعة ج سماعات الأذن الطبية د الميكروفونات
- 3 الأمر المسئول عن حل مشكلة توقف الشاشة عن عرض المعلومات
أ Del+Alt+Ctrl ب Alt+Del+Shift ج Del+Tab+Shift د Del+Esc+Shift
- 4 يستخدم جهاز لتحديد مواقع أماكن معينة.
أ الرادار المخترق للأرض ب GPS ج مقياس المغناطيسية د نظام التشغيل
- 5 الجهاز المسئول عن إدخال الأوراق إلى الكمبيوتر هو
أ لوحة المفاتيح ب الشاشة ج الطابعة د الماسح الضوئي
- 6 تعرف وحدة المعالجة المركزية بـ
أ GPS ب GPR ج Word د CPU
- 7 التكنولوجيا التي تساعد ذوي الهمم على القيام بمهامهم هي التكنولوجيا
أ القديمة ب المساعدة ج المتأخرة د السلبية
- 8 يفضل بعد إصلاح وإعادة تركيب الفأرة بالجهاز.
أ إعادة تشغيل الجهاز ب التأكد من توصيلات الكهرباء ج توصيل الشاحن إلى الجهاز د الضغط Del+ Ctrl + Alt



ضع علامة (✓) أمام العبارة الصحيحة، وعلامة (X) أمام العبارة غير الصحيحة:

- 1) يعتبر الميكروفون من أجهزة الإخراج. ()
- 2) البرمجيات من الأجزاء التي يمكن رؤيتها ولمسها في الكمبيوتر. ()
- 3) يمكن لمستخدمي سماعات الأذن الطبية ضبط سماعاتهم من خلال هواتفهم الذكية. ()
- 4) إعادة تشغيل الجهاز قد يساعد على حل بعض المشكلات. ()
- 5) يعتمد السائح على جهاز مقياس المغناطيسية لتحديد المواقع الأثرية المختلفة. ()
- 6) يمكن كتابة بحث للمدرسة باستخدام برنامج معالجة الكلمات (Word). ()
- 7) مركب الكلام يحول الكلمات إلى صوت اصطناعي ليسمعه الآخرون. ()

اختر الإجابة الصحيحة من بين الاختيارات التالية:

- 1) فقد عالم الآثار ألبرت لين ساقه واعتمد في ممارسة مهامه على
 أ الأطراف الصناعية ب اللوحة الأم ج النظارة د سماعات الأذن
- 2) للوصول إلى ملف أو صورة بجهاز الكمبيوتر نستخدم
 أ برنامج Word ب صندوق البحث ج الكاميرا د صندوق الأدوات
- 3) جهاز يُستخدم في الكشف عن المعادن في باطن الأرض هو
 أ مقياس المغناطيسية ب نظام التشغيل ج الرادار المخترق للأرض د مركب الكلام
- 4) يسمح للمكفوفين باستخدام أجهزة الكمبيوتر.
 أ الطرف الصناعي ب نظام التشغيل ج نظام برايل الطرفي د الميكروفون
- 5) تعتبر تطبيقات الألعاب من
 أ أجهزة الإدخال ب أجهزة الإخراج ج أنظمة التشغيل د البرمجيات
- 6) يستطيع ذوو الهمم من ضعف البصر التفاعل مع الكمبيوتر من خلال
 أ برمجيات الكتابة ب آلة التصوير ج برمجيات تكبير الشاشة د المساح الضوئي
- 7) يمكن لحل مشكلة توقف شاشة الكمبيوتر عند عرض المعلومات والبيانات.
 أ استبدال الفأرة ب تغيير الشاشة ج إطفاء الكمبيوتر وإعادة تشغيله د إطفاء الشاشة فقط
- 8) جهاز يستخدم لاكتشاف الأجسام المدفونة تحت الأرض.
 أ الرادار المخترق للأرض ب GPS ج مقياس المغناطيسية د معالجة الكلمات



الاختبار 3

السؤال الأول

ضع علامة (✓) أمام العبارة الصحيحة، وعلامة (X) أمام العبارة غير الصحيحة:

- 1) تعتبر وحدة المعالجة المركزية (CPU) نوعًا من أنواع البرمجيات. ()
- 2) سماعات الأذن الطبية هي إحدى الأجهزة التعويضية لذوي الإعاقة السمعية. ()
- 3) إذا توقفت لوحة المفاتيح عن العمل يجب التأكد من توصيل الكابل باللوحة الأم. ()
- 4) يستخدم نظام GPS للعثور على المعادن تحت الأرض. ()
- 5) يختلف شكل جهاز الكمبيوتر على حسب نوعه وتاريخ صناعته. ()
- 6) نظام التشغيل ليس ضروريًا لتشغيل أي جهاز كمبيوتر. ()
- 7) تساعد الطابعة غير القادرين على الكلام على التحدث. ()

السؤال الثاني

اختر الإجابة الصحيحة من بين الاختيارات التالية:

- 1) حدوث الأعطال في أي جهاز كمبيوتر أمر
 أ غير محتمل ب ممكن ج مستحيل د غير ممكن
- 2) مقياس المغناطيسية يستخدم في
 أ تحديد الأماكن ب العثور على معادن
 ج تصوير الأماكن العالية د العثور على الأجسام المدفونة
- 3) يتم عرض المعلومات البصرية باستخدام
 أ شاشة العرض ب الماسح الضوئي ج مركب الكلام د الطابعة
- 4) يعتبر من التطبيقات.
 أ برنامج العروض التقديمية ب مركب الكلام
 ج وحدة المعالجة المركزية د ويندوز
- 5) تستخدم التكنولوجيا المساعدة في
 أ سرقة البيانات ب القرصنة ج مساعدة الآخرين د نشر الفيروسات
- 6) إذا لم تتمكن من حل بعض المشكلات الخاصة بالكمبيوتر، فعليك ب
 أ ترك المشكلة ب عدم استخدامه ج حذف المستندات د الاستعانة بمعلمك
- 7) جهاز يُستخدم في الكشف عن الآثار في باطن الأرض هو
 أ مقياس المغناطيسية ب نظام التشغيل ج الرادار المخترق للأرض د لوحة المفاتيح
- 8) جهاز إلكتروني وظيفته معالجة وتخزين البيانات هو
 أ الكمبيوتر ب لوحة المفاتيح ج GPS د الفأرة



ضع علامة (✓) أمام العبارة الصحيحة، وعلامة (X) أمام العبارة غير الصحيحة:

- 1) تستخدم برمجيات تكبير الشاشة لتكبير كل شيء على شاشة الكمبيوتر. ()
- 2) عند عدم التمكن من فتح برنامج نقوم بإعادة تشغيل الكمبيوتر. ()
- 3) يعمل جهاز مقياس المغناطيسية مع الأقمار الصناعية لتحديد الأماكن المختلفة. ()
- 4) يستخدم الماسح الضوئي لطباعة الأوراق. ()
- 5) يعتبر برنامج معالج الكلمات (Word) من الأجهزة. ()
- 6) تمكن التكنولوجيا الأشخاص ذوي الهمم من إنجاز مهامهم. ()
- 7) في حالة عدم التمكن من استخدام الفأرة يمكنك استبدالها بأخرى كحل للمشكلة. ()

اختر الإجابة الصحيحة من بين الاختيارات التالية:

- 1) يستخدم جهاز للبحث عن النقود المعدنية.
 - أ) GPS
 - ب) الرادار المخترق للأرض
 - ج) مقياس المغناطيسية
 - د) الأقمار الصناعية
- 2) تمكنك من إخراج المقاطع الصوتية من الكمبيوتر.
 - أ) الفأرة
 - ب) لوحة المفاتيح
 - ج) الطابعة
 - د) مكبرات الصوت
- 3) يرسل البيانات إلى وحدة المعالجة المركزية عند الكتابة في برنامج Word.
 - أ) الماسح الضوئي
 - ب) الميكروفون
 - ج) نظام التشغيل
 - د) مقياس المغناطيسية
- 4) سماعة الأذن الطبية تساعد ضعاف
 - أ) السمع
 - ب) البصر
 - ج) الكلام
 - د) الحركة
- 5) للبحث عن مستند ما في الكمبيوتر نبحث في مجلد
 - أ) Pictures
 - ب) Documents
 - ج) Films
 - د) Games
- 6) يحدد نظام تحديد المواقع العالمي الأماكن بواسطة
 - أ) مقياس المغناطيسية
 - ب) الأقمار الصناعية
 - ج) برمجيات التواصل
 - د) ويندوز
- 7) تعتبر آلة الكاميرا من أجهزة
 - أ) التخزين
 - ب) الإدخال
 - ج) الإخراج
 - د) الكتابة
- 8) تقوم بالتحكم في البيانات ومعالجتها.
 - أ) الطابعة
 - ب) الشاشة
 - ج) وحدة المعالجة المركزية
 - د) لوحة المفاتيح



الاختبار 5

السؤال الأول

ضع علامة (✓) أمام العبارة الصحيحة، وعلامة (X) أمام العبارة غير الصحيحة:

- 1 () إذا لم تُحل مشكلة " عدم فتح التطبيق " يمكنك مسح التطبيق وإعادة تثبيته.
- 2 () تساعد التكنولوجيا المهندسين فقط على عملهم.
- 3 () تحصل على نتائج جيدة من أجهزة الكمبيوتر عند إدخال بيانات جيدة ومفيدة.
- 4 () تعتبر أنظمة التشغيل من البرمجيات.
- 5 () تساعد برمجيات تكبير الشاشة الأشخاص ذوي الهمم على السمع.
- 6 () يستخدم الرادار المخترق للأرض في اكتشاف الأجسام المدفونة تحت الأرض.
- 7 () يتم الضغط على Ctrl +Alt +Del لحل مشكلة توقف الشاشة عن عرض المعلومات.

السؤال الثاني

اختر الإجابة الصحيحة من بين الاختيارات التالية:

- 1 () يستخدم لإدخال الأصوات والموسيقى إلى الكمبيوتر.
 - أ مكبر الصوت
 - ب معالج الأصوات
 - ج الميكروفون
 - د السماعات
- 2 () لا يُعد من البرمجيات.
 - أ ويندوز
 - ب جوجل كروم
 - ج معالج الكلمات
 - د الماسح الضوئي
- 3 () تساعد الأشخاص ذوي الهمم على الحركة.
 - أ سماعات الأذن
 - ب الأطراف الصناعية
 - ج مكبرات الصوت
 - د طريقة برايل
- 4 () يتم توصيل كابل الفأرة بالكمبيوتر عن طريق
 - أ وحدة المعالجة المركزية
 - ب لوحة المفاتيح
 - ج لوحة المفاتيح
 - د اللوحة الأم
- 5 () يستخدم جهاز لاكتشاف الحديد في باطن الأرض.
 - أ الأقمار الصناعية
 - ب الرادار المخترق للأرض
 - ج مقياس المغناطيسية
 - د GPS
- 6 () للكتابة على جهاز الكمبيوتر نحتاج جهاز
 - أ الميكروفون
 - ب الطابعة
 - ج مكبر الصوت
 - د لوحة المفاتيح
- 7 () يستخدم برنامج لكتابة تقرير للمدرسة.
 - أ برمجيات تكبير الشاشة
 - ب ويندوز
 - ج معالج الكلمات
 - د GPS
- 8 () تستخدم برمجيات تكبير الشاشة للأشخاص الذين يعانون من
 - أ ضعف السمع
 - ب الصم
 - ج فقد أحد الأطراف
 - د ضعف البصر



سلاح التمهيد

منذ عام ١٩٦٠



تكنولوجيا
المعلومات
والاتصالات

2024-2025

الصف الرابع الابتدائي
الفصل الدراسي الأول
إجابة نماذج اختبارات شهر أكتوبر

4

1 إجابة الاختبار

السؤال الأول

X 4

✓ 3

X 2

✓ 1

X 7

✓ 6

✓ 5

السؤال الثاني

GPS 4

Del+Alt+Ctrl 3

سماعات الأذن الطبية 2

التطبيقات 1

إعادة تشغيل الجهاز 8

المساعدة 7

CPU 6

الماسح الضوئي 5

2 إجابة الاختبار

السؤال الأول

✓ 4

✓ 3

X 2

X 1

✓ 7

✓ 6

X 5

السؤال الثاني

نظام برايل الطرفي 4

مقياس المغناطيسية 3

صندوق البحث 2

الأطراف الصناعية 1

الرادار المخترق للأرض 8

إطفاء الكمبيوتر وإعادة تشغيله 7

برمجيات تكبير الشاشة 6

البرمجيات 5

3 إجابة الاختبار

السؤال الأول

X 4

✓ 3

✓ 2

X 1

X 7

X 6

✓ 5

السؤال الثاني

شاشة العرض 3

العثور على معادن 2

ممكّن 1

الاستعانة بمعلمك 6

مساعدة الآخرين 5

برنامج العروض التقديمية 4

الكمبيوتر 8

الرادار المخترق للأرض 7



4 إجابة الاختبار

X 4

X 3

✓ 2

✓ 1

✓ 7

✓ 6

X 5

السؤال الأول

السؤال الثاني

3 نظام التشغيل

2 مكبرات الصوت

1 مقياس المغناطيسية

6 الأقمار الصناعية

5 Documents

4 السمع

8 وحدة المعالجة المركزية

7 الإدخال

5 إجابة الاختبار

✓ 4

✓ 3

X 2

✓ 1

✓ 7

✓ 6

X 5

السؤال الأول

السؤال الثاني

3 الأطراف الصناعية

2 الماسح الضوئي

1 الميكروفون

6 لوحة المفاتيح

5 مقياس المغناطيسية

4 اللوحة الأم

8 ضعف البصر

7 معالج الكلمات



سلاح التلميز

منذ عام ١٩٦٠



التربية الدينية الإسلامية

2024-2025

الصف الرابع الابتدائي
الفصل الدراسي الأول
نماذج اختبارات شهر أكتوبر

4

الاختبار ١

أولاً: القرآن الكريم

اقرأ قوله (تعالى)، ثم أجب:

﴿وَالَّذِينَ وَالزَّيْتُونَ﴾ ١ ﴿وَطُورِ سَيْنِينَ﴾ ٢ ﴿وَهَذَا الْبَلَدِ الْأَمِينِ﴾ ٣ ﴿لَقَدْ خَلَقْنَا الْإِنْسَانَ فِي أَحْسَنِ تَقْوِيمٍ﴾ ٤

أ) ضع خطأ تحت الإجابة الصحيحة مما بين القوسين:

(المدينة المنورة - مكة المكرمة - القاهرة)

١) المقصود بـ ﴿الْبَلَدِ الْأَمِينِ﴾:

(مكان - ثواب - صورة)

٢) خلق الله (تعالى) الإنسان في أحسن

(الإظهار - الإدغام - الإخفاء)

٣) حُكْم اللام في كلمة ﴿الْإِنْسَانَ﴾

ب) بِمَ أَقْسَمَ اللَّهُ (تعالى) فِي الْآيَاتِ السَّابِقَةِ؟

ثانياً: الحديث الشريف

اقرأ، ثم أجب:

قال رسول الله ﷺ: «مَا بَعَثَ اللَّهُ إِلَّا رَعَى»، فَقَالَ أَصْحَابُهُ: وَأَنْتَ؟ فَقَالَ: «نَعَمْ، كُنْتُ

أَرْعَاهَا عَلَى قَرَارِيضَ لِأَهْلِ مَكَّةَ».

أ) اكتب المحذوف من الحديث الشريف.

ب) ما المقصود بـ (قراريض)؟

ج) ما المهنة التي عمل بها جميع الأنبياء؟

ثالثاً: العقائد

أجب عما يلي:

أ) ضع علامة (✓) أمام العبارة الصحيحة، وعلامة (X) أمام العبارة غير الصحيحة:

١) خلق الله (تعالى) الإنسان بعد أن هيا له الأرض من نبات وجبال وحيوان. ()

٢) طباع الناس واحدة؛ لأنهم خُلِقُوا من تراب واحد. ()

٣) الكرام الكاتبون يكتبون أفعال الإنسان من خير وشر. ()

ب) بِمَ يَمِيزُ الْإِنْسَانَ الْأَصْوَاتُ؟



أ اختر الإجابة الصحيحة مما بين القوسين:

(المدينة - مكة - يثرب)

١ وُلد سيدنا محمد ﷺ في

(عمه أبو طالب - جده عبد المطلب - حليلة السعدية)

٢ قام برعاية النبي ﷺ بعد وفاة أمه

(ثمود - قريش - عاد)

٣ أرسل هود ﷺ إلى قوم

ب دعوا ابني هذا فوالله إن له لشيئاً) من قائل هذه العبارة؟

مكتبة
التعليم



الاختبار ٢

أولاً: القرآن الكريم اقرأ قوله (تعالى)، ثم أجب:

﴿وَالثِّينِ ١﴾ وَطُورِ سَيْنِينَ ﴿٢﴾ وَهَذَا الْبَلَدِ ﴿٣﴾ لَقَدْ خَلَقْنَا الْإِنْسَانَ فِي أَحْسَنِ تَقْوِيمٍ ﴿٤﴾.

أ اكتب المحذوف من الآيات.

ب اختر: المقصود بـ (طور سينين): جبل الطور بـ (مكة - القدس - سيناء)

ج ضع علامة (✓) أمام العبارة الصحيحة، وعلامة (X) أمام العبارة غير الصحيحة:

١ أقسم الله ﷻ بالتين والزيتون، وهما من الثمار التي تنتشر في بيت المقدس. ()

٢ خلق الله (تعالى) الإنسان في أحسن صورة. ()

ثانياً: الحديث الشريف اقرأ، ثم أجب:

قال رسول الله ﷺ: «إِنَّ اللَّهَ خَلَقَ آدَمَ مِنْ قَبْضَةِ قَبْضِهَا مِنْ جَمِيعِ الْأَرْضِ، فَجَاءَ بَنُو آدَمَ عَلَى قَدْرِ الْأَرْضِ، جَاءَ مِنْهُمْ الْأَحْمَرُ وَالْأَبْيَضُ وَالْأَسْوَدُ وَبَيَّنَّ ذَلِكَ، وَالسَّهْلُ».

أ اكتب المحذوف من الحديث الشريف.

ب ضع علامة (✓) أمام العبارة الصحيحة، وعلامة (X) أمام العبارة غير الصحيحة:

١ تتشابه بصمة العين في كل البشر. ()

٢ لكل إنسان شكل خاص يميزه عن غيره من البشر. ()

ج بَمِ مِيزِ اللَّهِ (تعالى) الْإِنْسَانَ عَنِ سَائِرِ الْمَخْلُوقَاتِ؟

ثالثاً: العقائد اُجب عما يلي:

أ صل من العمود الأول بما يناسبه في العمود الثاني:

مسئول عن إنزال المطر.

١ جبريل عليه السلام

مسئول عن الوحي.

٢ الكرام الكاتبون

يكتبون أفعال الإنسان من خير وشر.

٣ ميكائيل عليه السلام

ب من أي شيء خلق الله (تعالى) الملائكة؟



أ اختر الإجابة الصحيحة مما بين القوسين:

- ١ عبَدَ قوم عاد
(الكواكب - الأصنام - الشمس)
- ٢ تصدعت الكعبة في زمن النبي ﷺ إثر
(عاصفة قوية - زلزال مدمر - سيل شديد)
- ٣ أُطِّقَ على النبي ﷺ قبل البعثة لقب
(الرسول - النذير - الأمين)

ب لماذا كان أهل مكة يحرصون على تنشئة أبنائهم بالبادية في سن مبكرة؟

مصحح التلميذ



الاختبار ٣

أولاً: القرآن الكريم اقرأ قوله (تعالى)، ثم أجب:

﴿وَالَّذِينَ وَالَّذِينَ وَالَّذِينَ وَالَّذِينَ﴾ وَطُورِ سِينِينَ ﴿٢﴾ وَهَذَا ﴿٣﴾ لَقَدْ خَلَقْنَا الْإِنْسَانَ فِي أَحْسَنِ تَقْوِيمٍ ﴿٤﴾ ثُمَّ ﴿٥﴾
إِلَّا الَّذِينَ ءَامَنُوا وَعَمِلُوا الصَّالِحَاتِ فَلَهُمْ أَجْرٌ غَيْرُ مَمْنُونٍ ﴿٦﴾.

أ) اكتب المحذوف من الآيات.

ب) اختر الإجابة الصحيحة مما بين القوسين:

١) نزلت سورة التين على سيدنا محمد ﷺ (قبل الهجرة - بعد الهجرة)

٢) معنى كلمة ﴿غَيْرُ مَمْنُونٍ﴾: غير (مستمر - دائم - مقطوع)

ج) ما جزاء المؤمنين الذين عملوا الصالحات؟

ثانياً: الحديث الشريف اقرأ، ثم أجب:

قال رسول الله ﷺ: «مَا بَعَثَ اللَّهُ نَبِيًّا إِلَّا رَعَى الْغَنَمَ»، فَقَالَ أَصْحَابُهُ: وَأَنْتَ؟ فَقَالَ: «نَعَمْ، كُنْتُ أَرْعَاهَا عَلَى قَرَارِيطٍ لِأَهْلِ.....».

أ) اكتب المحذوف من الحديث الشريف.

ب) ضع علامة (✓) أمام العبارة الصحيحة، وعلامة (X) أمام العبارة غير الصحيحة:

١) عمل النبي ﷺ برعي الغنم. ()

٢) رعي الغنم تدريب على اليقظة والحكمة والصبر. ()

ج) ماذا نتعلم من الحديث الشريف؟

ثالثاً: العقائد أجب عما يلي:

أ) اختر الإجابة الصحيحة مما بين القوسين:

١) للإيمان أركان. (خمسة - ستة - سبعة)

٢) بصمة اليد من إنسان لآخر. (تتشابه - تتكرر - تختلف)

٣) خلق الله (تعالى) الأذنين للإنسان ليميز بهما (الأصوات - الأشكال - الروائح)

ب) مَن المسئول عن عمارة الأرض؟



أ ضع علامة (✓) أمام العبارة الصحيحة، وعلامة (X) أمام العبارة غير الصحيحة:

- ١) أمضى محمد ﷺ مع حليلة أربع سنوات. ()
- ٢) لم يشارك سيدنا محمد ﷺ في ترميم الكعبة بعد تصدعها. ()
- ٣) كان قوم هود عيسى عليه السلام أول من عبدوا الأصنام بعد الطوفان. ()

ب كيف عاقب الله (تعالى) قوم هود عيسى عليه السلام على كفرهم؟

مصحح التلميذ



الاختبار ٤

أولاً: القرآن الكريم اقرأ قوله (تعالى)، ثم أجب:

﴿وَالزَّيْتُونَ﴾ ١ ﴿سِينِينَ﴾ ٢ وَهَذَا الْبَلَدُ ﴿لَقَدْ خَلَقْنَا﴾ ٣ ﴿فِي أَحْسَنِ تَقْوِيمٍ﴾ ٤ ﴿﴾

أ اكتب المحذوف من الآيات.

ب ما اسم الجبل الذي أقسم الله (تعالى) به في الآيات السابقة؟

ج ضع علامة (✓) أمام العبارة الصحيحة، وعلامة (X) أمام العبارة غير الصحيحة:

١ حُكْم اللام في كلمة ﴿الزَّيْتُونَ﴾ الإدغام. ()

٢ التين والزيتون اسمان لمدينتين. ()

ثانياً: الحديث الشريف اقرأ، ثم أجب:

قال رسول الله ﷺ: «إِنَّ اللَّهَ خَلَقَ آدَمَ مِنْ قَبَضَهَا مِنْ جَمِيعِ الْأَرْضِ، فَجَاءَ بَنُو آدَمَ عَلَى قَدْرِ الْأَرْضِ، جَاءَ مِنْهُمْ وَالْأَبْيَضُ وَ وَبَيْنَ ذَلِكَ، وَالسَّهْلُ وَالْحَزْنُ، وَالْحَبِيثُ وَالطَّيِّبُ، وَبَيْنَ ذَلِكَ».

أ اكتب المحذوف من الحديث الشريف.

ب اختر الإجابة الصحيحة مما بين القوسين:

١ ميز الله (تعالى) الإنسان عن سائر المخلوقات بـ (الجسم - العقل والتفكير - الحجم)

٢ خلق الله (تعالى) آدم ﷺ من (نور - نار - طين)

ج في أي شيء يختلف بنو آدم؟

ثالثاً: العقائد أجب عما يلي:

أ ضع علامة (✓) أمام العبارة الصحيحة، وعلامة (X) أمام العبارة غير الصحيحة:

١ من أركان الإيمان صوم رمضان والحج. ()

٢ يستطيع الإنسان عمارة الأرض بغير علم. ()

٣ بالحواس يدرك الإنسان العالم، ويتواصل مع مَنْ حوله. ()

ب اكتب ثلاثة من أركان الإيمان.



أ اختر الإجابة الصحيحة مما بين القوسين:

- ١ سكن قوم عاد في (الأحقاف - مكة - الطائف)
- ٢ أنهى الخلاف بين قريش في وضع الحجر الأسود. (الوليد بن المغيرة - النبي ﷺ - أبو طالب)
- ٣ لم يكفَّ ابن حليمة السعدية عن البكاء بسبب (الجوع - الخوف - المرض)

ب لماذا عمل النبي ﷺ برعي الغنم؟

مكتبة
التعليم



الاختبار 0

أولاً: القرآن الكريم اقرأ قوله (تعالى)، ثم أجب:

﴿وَإِذْ قَالَ رَبُّكَ لِلْمَلَائِكَةِ إِنِّي جَاعِلٌ فِي الْأَرْضِ خَلِيفَةً قَالُوا أَتَجْعَلُ فِيهَا مَنْ يُفْسِدُ فِيهَا وَيَسْفِكُ الدِّمَاءَ وَنَحْنُ نُسَبِّحُ بِحَمْدِكَ وَنُقَدِّسُ لَكَ قَالَ إِنِّي أَعْلَمُ مَا لَا تَعْلَمُونَ ﴿٣٠﴾﴾

أ) ما حكم اللام في كلمة (الأرض)؟

ب) ضع علامة (✓) أمام العبارة الصحيحة، وعلامة (X) أمام العبارة غير الصحيحة:

- ١) خلق الله (تعالى) سيدنا آدم عَلَيْهِ السَّلَامُ وذريته لعبادته سبحانه ولعمارة الأرض. ()
- ٢) بالعلم يتقدم الإنسان وينهض بنفسه ويعمر الأرض. ()
- ج) اكتب من سورة التين من قوله (تعالى): ﴿لَقَدْ خَلَقْنَا الْإِنْسَانَ﴾ إلى قوله: ﴿أَلَيْسَ اللَّهُ بِأَحْكَمَ الْحَاكِمِينَ﴾.

ثانياً: الحديث الشريف اقرأ، ثم أجب:

قال رسول الله صَلَّى اللَّهُ عَلَيْهِ وَسَلَّمَ: «مَا بَعَثَ اللَّهُ نَبِيًّا إِلَّا رَعَى»، فقال أصحابه: وَأَنْتَ؟ فَقَالَ: «نَعَمْ، كُنْتُ أَرْعَاهَا عَلَى قَرَائِطٍ لِأَهْلِ ..».

أ) اكتب المحذوف من الحديث الشريف.

ب) ضع خطأً تحت الإجابة الصحيحة مما بين القوسين:

- ١) المقصود بـ (قراريط): (دراهم - بيوت - بلاد)
- ٢) توفي جد النبي صَلَّى اللَّهُ عَلَيْهِ وَسَلَّمَ وهو في من عمره. (السابعة - الثامنة - التاسعة)
- ج) إلى أي شيء يرشدنا الحديث الشريف؟

ثالثاً: العقائد أجب عما يلي:

أ) ضع علامة (✓) أمام العبارة الصحيحة، وعلامة (X) أمام العبارة غير الصحيحة:

- ١) خلق الله (تعالى) الملائكة بعد خلق آدم عَلَيْهِ السَّلَامُ. ()
- ٢) كلم الله (تعالى) سيدنا محمد صَلَّى اللَّهُ عَلَيْهِ وَسَلَّمَ عند جبل الطور بسيئاء. ()
- ٣) بالعين نرى الأشياء، وندرك مظاهر قدرة الله (تعالى). ()

ب) لماذا يختلف الناس في طباعهم وألوانهم؟



أ رتب الأحداث الآتية من الأقدم إلى الأحدث:

- () نجى الله (تعالى) سيدنا هودًا عليه السلام ومن معه من المؤمنين.
() أرسل الله (تعالى) هودًا عليه السلام إلى قوم عاد.
() أرسل الله (تعالى) ريحًا شديدة إلى قوم عاد.
() رفض قوم عاد دعوة سيدنا هود عليه السلام لعبادة الله تعالى وحده.

ب متى توفيت أم النبي صلى الله عليه وآله وسلم؟

مراجعات التلميذ



سلاح التلميز

منذ عام ١٩٦٠



التربية الدينية الإسلامية

2024-2025

الصف الرابع الابتدائي
الفصل الدراسي الأول

إجابات نماذج اختبارات شهر أكتوبر

4

إجابة الاختبار ١

أولاً: القرآن الكريم

- أ) مكة المكرمة (١) صورة (٢) الإظهار (٣)
ب) أقسم الله (تعالى) بالتين والزيتون، وجبل الطور في سيناء، وبمكة المكرمة.

ثانياً: الحديث الشريف

- أ) نبياً - الغنم (١) دنانير أو دراهم (٢) رعي الغنم (٣)

ثالثاً: العقائد

- أ) (١) ✓ (٢) × (٣) ✓ ب) بالأذن.

رابعاً: السير والشخصيات

- أ) مكة (١) جده عبد المطلب (٢) عاد (٣) عبد المطلب جد النبي ﷺ ب)

إجابة الاختبار ٢

أولاً: القرآن الكريم

- أ) وَالزَّيْتُونِ - الْأَمِينِ (١) سيناء (٢) ✓

ثانياً: الحديث الشريف

- أ) والحزن، والخبيث والطيب، وبين ذلك (١) ب) (١) × (٢) ✓ ج) بالعقل والتفكير

ثالثاً: العقائد

- أ) مسئول عن الوحي. (١) يكتبون أفعال الإنسان من خير وشر. (٢) مسئول عن إنزال المطر. (٣)
ب) من نور

رابعاً: السير والشخصيات

- أ) الأصنام (١) سيل شديد (٢) الأمين (٣)
ب) لينشئوا في بيئة صحية بعيداً عن أمراض الحضر، وليتعلموا الفصاحة والأخلاق العربية الأصيلة.



إجابة الاختبار ٣

أولاً: القرآن الكريم

أ) أَلْبَدْرُ الْأَمِينِ - رَدَدَتْهُ أَسْفَلَ سَفَلَيْنِ ب) قبل الهجرة ٢) مقطوع ج) لهم أجر دائم غير منقطع

ثانياً: الحديث الشريف

أ) مكة ب) ١) ٢) ج) نتعلم من الحديث الشريف تقدير الإسلام للعمل.

ثالثاً: العقائد

أ) ستة ١) ٢) تختلف ٣) الأصوات ب) الإنسان

رابعاً: السير والشخصيات

أ) ١) ٢) ٣) ب) أرسل الله (تعالى) عليهم ريحاً شديدة دمرتهم.

إجابة الاختبار ٤

أولاً: القرآن الكريم

أ) وَاللَّيْنِ - وَطُورٍ - الْأَمِينِ - الْإِنْسَانَ ب) جبل الطور ج) ١) ٢)

ثانياً: الحديث الشريف

أ) قبضة - الأحمر - الأسود ب) ١) العقل والتفكير ٢) طين ج) يختلفون في ألوان بشرتهم فمنهم الأحمر والأبيض والأسود، وفي طباعهم.

ثالثاً: العقائد

أ) ١) ٢) ٣) ب) الإيمان بالله وملائكته وكتبه.

رابعاً: السير والشخصيات

أ) الأحقاف ١) ٢) النبي ﷺ ٣) الجوع ب) ليساعد عمه ويخفف عنه.



إجابة الاختبار ٥

أولاً: القرآن الكريم

✓ ٢

✓ ١ ب

أ الإظهار

ثانياً: الحديث الشريف

٢ الثامنة.

ب ١ دراهم.

أ الغنم - مكة.

ج يرشدنا الحديث الشريف إلى تقدير الإسلام للعمل.

ثالثاً: العقائد

✓ ٣

× ٢

أ ١ ×

ب لأن الله (تعالى) خلقهم من قبضة من تراب الأرض.

رابعاً: السير والشخصيات

أ ١ أرسل الله (تعالى) هودًا عليه السلام إلى قوم عاد.

ب ٢ رفض قوم عاد دعوة سيدنا هود عليه السلام لعبادة الله تعالى وحده.

ب ٣ أرسل الله (تعالى) ريحاً شديدة إلى قوم عاد.

ب ٤ نجى الله (تعالى) سيدنا هودًا عليه السلام ومن معه من المؤمنين.

ب وهو في السادسة من عمره.

