

الأشياء



الدراسات الاجتماعية الصف ٥ الابتدائي

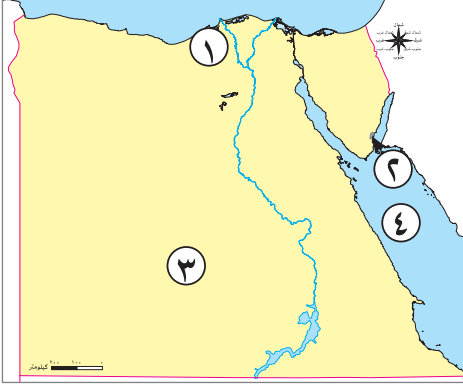
مقترح النماذج الاسترشادية للفصل الدراسي الأول

العام الدراسي 2024-2025

KTABYEG.COM

نموذج (١)

السؤال الأول



(١) أمامك خريطة صماء لمصر، اكتب مدلول الأرقام عليها:

- ١ ميناء
- ٢ محمية
- ٣ الصحراء
- ٤ البحر

(ب) أجب عن الأسئلة الآتية:

١ فسر: المناطق القريبة من البحر المتوسط حرارتها معتدلة عن المناطق الداخلية البعيدة.

٢ دلل على صحة العبارة الآتية: برع المصريون القدماء في مجال الصناعة.

السؤال الثاني

(١) اكتب كلمة (صواب) أمام العبارة الصحيحة، وكلمة (خطأ) أمام العبارة غير الصحيحة:

- ١ يصعب تحديد الأماكن بدون دوائر العرض وخطوط الطول . ()
- ٢ تقوم الصناعة الحديثة في الورش الصغيرة. ()
- ٣ تهب رياح الخماسين في فصل الخريف. ()

(ب) أجب عن الأسئلة الآتية:

١ ما النتائج المترتبة على: استخدام أنظمة للرى مثل الرش والتنقيط؟

٢ ما العلاقة بين: النمو السكاني والموارد؟

السؤال الثالث

(١) اختر الإجابة الصحيحة:

- ١ تستخدم خطوط الطول ودوائر العرض في تحديد..... (الموقع - المناخ - الزمن - الحرارة)
- ٢ من الحيوانات المهددة بالانقراض (الأغنام - الماعز - الإبل - الغزال)

(ب) دلل على صحة العبارات الآتية:

١ الصناعة أساس التنمية الاقتصادية.

.....

٢ جهود الدولة لتنمية الصناعة.

.....

٣ موقع مصر الجغرافي له أهمية تجارية.

.....

السؤال الرابع

(١) أكمل العبارات الآتية:

١ تهب رياح الخماسين على مصر في فصل

٢ أحد أهم الخزانات الجوفية في مصر خزان

٣ يقع منخفض الفيوم جنوب غرب محافظة

(ب) ما المقصود ب...؟

١ الموقع الفلكي.

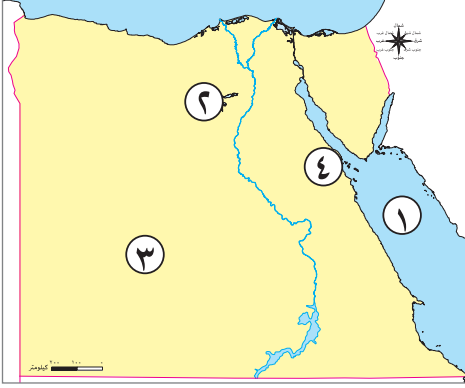
.....

٢ الصناعة.

.....

نموذج (٢)

السؤال الأول



(أ) أمامك خريطة صماء لمصر، اكتب مدلول الأرقام عليها:

- ١ البحر.....
- ٢ منخفض.....
- ٣ منطقة لاستخراج الفوسفات.....
- ٤ محطة لتوليد الكهرباء من الرياح.....

(ب) بم تفسر...؟

- ١ أهمية دوائر العرض.
- ٢ أهمية قناة السويس.

السؤال الثاني

(أ) أكمل العبارات الآتية بكلمات مناسبة:

- ١ تشكلت الدلتا نتيجة التعرية.....
- ٢ من مصادر الطاقة غير المتجددة.....
- ٣ من أشهر الموانئ التجارية في مصر ميناء.....

(ب) ما النتائج المترتبة على...؟

- ١ إنشاء مشروع بركة غليون بمحافظة كفر الشيخ.

- ٢ نزول المصرى القديم إلى وادى النيل.

السؤال الثالث

(أ) اختر الإجابة الصحيحة:

- ١ تقع محمية في شمال سيناء. (وادى الحيتان - جبل علبة - زرانيق - سالوجا)
- ٢ منطقة أبوظرطور بالصحراء الغربية يستخرج منها (الفحم - الفوسفات - البترول - الغاز الطبيعي)

(ب) أجب عن الأسئلة الآتية:

١ قارن بين: استخدام الطاقة الشمسية قديمًا وحديثًا.

الطاقة الشمسية حديثًا	الطاقة الشمسية قديمًا
.....
.....

٢ دلل على صحة العبارة الآتية: تمتلك مصر العديد من المطارات الدولية.

.....

السؤال الرابع

(أ) اكتب كلمة (صواب) أمام العبارة الصحيحة، وكلمة (خطأ) أمام العبارة غير الصحيحة:

- ١ تعد الأرض الزراعية من الموارد النادرة التي يجب الحفاظ عليها. ()
- ٢ البيع والشراء بين مصر ودول أوروبا يعد تجارة داخلية. ()
- ٣ تقسم دائرة الاستواء الأرض إلى نصفين شرقي وغربي. ()

(ب) ما العلاقة بين...؟

١ مصادر الطاقة ووسائل النقل.

.....

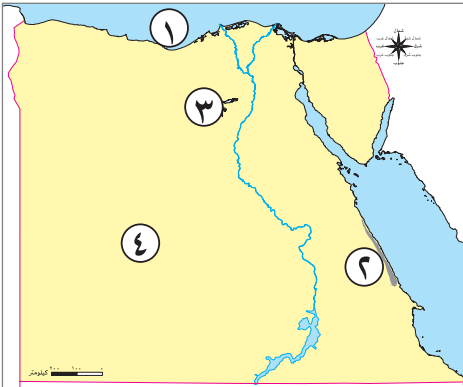
٢ الصناعة والبيئة.

.....

نموذج (٣)

السؤال الأول

(١) أمامك خريطة صماء لمصر، اكتب مدلول الأرقام عليها:



- ١ البحر.....
- ٢ سلاسل جبال.....
- ٣ بحيرة مالحة.....
- ٤ منطقة استخراج الفوسفات.....

(ب) بم تفسر..؟

١ اهتمام المصرى القديم بتربية الحيوانات.

٢ تكون الجليد فوق قمة سانت كاترين.

السؤال الثانى

(١) أكمل العبارات الآتية:

- ١ محطة جبل الزيت بالبحر الأحمر أكبر محطة لتوليد الكهرباء من
- ٢ تؤثر التغيرات المناخية على صحة الإنسان وظهور مرض
- ٣ أنشأ المصرى القديم المقاييس على النيل لتحديد

(ب) ما المقصود بـ:

١ التغير المناخى.

٢ رياح الخماسين.

السؤال الثالث

(١) اكتب المصطلح الذى تشير اليه كل عبارة مما يلى:

- ١ الموقع بالنسبة إلى خطوط الطول ودوائر العرض. (.....)
- ٢ النباتات التى تنمو تلقائياً دون تدخل الإنسان فى زراعتها. (.....)

(ب) أجب عن الأسئلة الآتية:

١ قارن بين مملكة الشمال ومملكة الجنوب من حيث العاصمة ولون التاج:

وجه المقارنة	مملكة الشمال	مملكة الجنوب
العاصمة
لون التاج

٢ دلل على صحة العبارة الآتية: يوجد في مصر تنوع بيولوجي.

السؤال الرابع

(١) اختر الإجابة الصحيحة مما بين القوسين:

- ١ من أنظمة الري الحديثة الري ب..... (الرش - الحياض - الدائم - الفيضان)
- ٢ الخانكة توجد بها مدينة صناعية متخصصة في صناعة..... (المنسوجات - الخيامية - الدواء - الفخار)
- ٣ تخصصت بردية «إيبرس» في مجال..... (الطب - الصناعة - التجاره - العمارة)

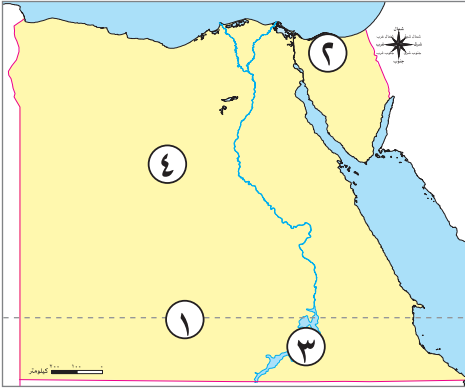
(ب) ما النتائج المترتبة على...؟

١ إنشاء بنك مركزي في كل دولة.

٢ ارتفاع واردات مصر عن صادراتها.

نموذج (٤)

السؤال الأول



(١) أمامك خريطة صماء لمصر، اكتب مدلول الأرقام عليها:

- ١ مدار.....
- ٢ محمية.....
- ٣ بحيرة.....
- ٤ منطقة استخراج الحديد.....

(ب) بم تفسر...؟

١ أهمية خطوط الطول في حياتنا.

٢ تميز منخفض الفيوم عن باقي المنخفضات المصرية.

السؤال الثاني

(١) أكمل العبارات الآتية بما يناسبها من كلمات:

- ١ تتميز الصحراء الشرقية بوجود هضبة.....
- ٢ أول مواسم الزراعة عند المصريين القدماء هو موسم.....
- ٣ استخدم المصري القديم الرمال البيضاء في صناعة.....

(ب) اذكر نتيجة واحدة لـ:

١ زيادة واردات مصر على صادراتها.

٢ تعامد الشمس على دائرة الاستواء مرتين في العام.

السؤال الثالث

(١) اكتب كلمة (صواب) أمام العبارة الصحيحة، وكلمة (خطأ) أمام العبارة غير الصحيحة:

- ١ تتعامد الشمس على مدار الجدى في فصل الشتاء. ()
- ٢ يعد الفهد المصرى أحد الحيوانات المهددة بالانقراض. ()

(ب) أجب عن الأسئلة الآتية:

١ ما النتائج المترتبة على: اكتشاف المصري القديم للمعادن؟

.....

٢ اذكر مثالا ل: المدن الصناعية المتخصصة التي توجد في مصر.

.....

٣ اكتب (صواب) أو (خطأ) مع ذكر السبب: تعد مياه البحار والمحيطات من الموارد النادرة.

.....

السؤال الرابع

(١) اختر الإجابة الصحيحة مما بين القوسين:

١ تفيد دوائر العرض في معرفة..... (الوقت - المناخ - التضاريس - اليوم)

٢ عاش المصري القديم في بداية حياته فوق..... (الجبال - التلال - الهضاب - السهول)

٣ أحد الأنشطة الصناعية التي تسبب تغيير المناخ..... (الملابس - البطاريات - الأحذية - الأسمت)

(ب) أجب عن الأسئلة الآتية:

١ اكتب اثنين: من العوامل الطبيعية التي ساعدت في قيام الحضارة المصرية القديمة.

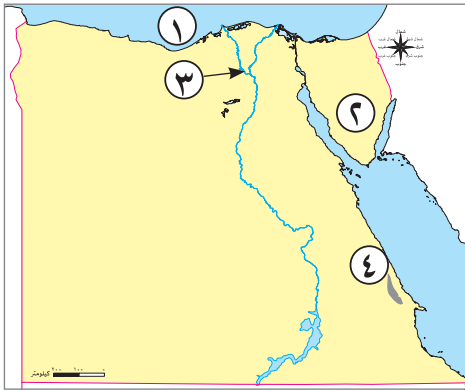
.....

٢ ما المقصود ب: السد؟

.....

نموذج (هـ)

السؤال الأول



(١) أمامك خريطة صماء لمصر، اكتب مدلول الأرقام الموضحة عليها:

- ١ يشير رقم (١) على الخريطة إلى البحر
- ٢ يشير رقم (٢) على الخريطة إلى هضبة
- ٣ يشير رقم (٣) على الخريطة إلى فرع
- ٤ يشير رقم (٤) على الخريطة إلى منجم يستخرج منه معدن الذهب

(ب) اكتب نتيجة واحدة ترتبت على:

١ هبوب رياح الخماسين على مصر في فصل الربيع.

.....

٢ اعتماد المصريين القدماء على رى الحياض.

.....

السؤال الثاني

(١) أكمل العبارات الآتية:

- ١ نزل المصري القديم إلى وادى النيل بسبب حلول
- ٢ الاختلافات والتحولت في أحوال المناخ تسمى
- ٣ واحدة من أكبر محطات تحلية مياه البحر في العالم هي محطة

(ب) قارن بين أساليب الري القديمة وأساليب الري الحديثة.

أساليب الري الحديثة	أساليب الري القديمة
.....
.....

السؤال الثالث

(١) اكتب كلمة (صواب) أمام العبارة الصحيحة، وكلمة (خطأ) أمام العبارة غير الصحيحة:

- ١ يحل فصل الشتاء في مصر عندما تتعامد الشمس على مدار السرطان. ()
- ٢ يساعد الهيدروجين الأخضر على: تقليل انبعاث الكربون الملوث للهواء. ()

(ب) أجب عن الأسئلة التالية:

١ اكتب (صواب) أو (خطأ) مع ذكر السبب: الاعتماد على مصادر الطاقة المتجددة يقلل من خطر التغير المناخي.

٢ اشرح: جهود الدولة لتنمية الصناعة المصرية.

٣ اقترح طرقاً لاستثمار الأودية الجافة المنتشرة في الصحراء الشرقية.

السؤال الرابع

(١) صوب ما تحته خط:

١ الموقع الفلكي هو موقع المكان بالنسبة لليابس والماء.

٢ الانفجار البركاني من العوامل البشرية المسببة للتغير المناخي.

٣ تتعامد الشمس على مدار السرطان في فصل الشتاء.

(ب) اذكر عملاً واحداً لكل من:

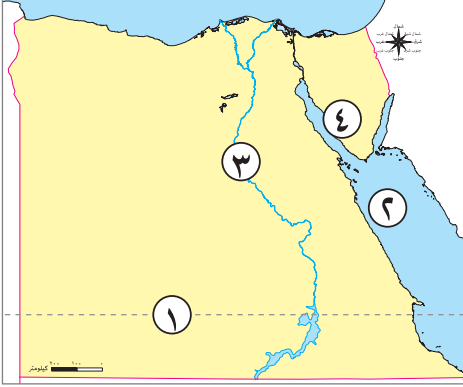
١ جمال عبد الناصر.

٢ تحتس الثالث.

نموذج (٦)

السؤال الأول

(١) اكتب مدلول الأرقام على الخريطة:



- ١ دائرة عرض رئيسية
- ٢ البحر
- ٣ مورد للمياه العذبة
- ٤ منطقه يستخرج منها خام المنجنيز

(ب) بم تفسر...؟

١ تسمية عصر الدولة القديمة بعصر بناء الأهرام.

٢ توفير الكهرباء النظيفة بدون انبعاث الكربون.

السؤال الثاني

(١) اختر الإجابة الصحيحة مما بين القوسين:

- ١ استخدام المصري القديم لصناعة الزجاج. (الطمي - الرمال - البلاستيك - الأخشاب)
- ٢ معدن يستخدم فى صناعة قضبان القطارات (الحديد - الفوسفات - المنجنيز - الفحم)
- ٣ تبادل سلعة بسلعة أخرى يسمى (الشراء - البيع - المقايضة - الادخار)

(ب) ما النتائج المترتبة على...؟

١ اتصال نهر النيل بمنخفض الفيوم.

٢ إنشاء البنك المركزى المصرى.

السؤال الثالث

(١) اكتب ما تشير إليه العبارات الآتية:

- ١ حاكم مدينة طيبة واستطاع توحيد البلاد عام ٣٢٠٠ ق.م. (.....)
- ٢ تبادل السلع والخدمات بدون استخدام النقود. (.....)

(ب) أجب عن الأسئلة الآتية:

١ قارن بين: دائرة الاستواء وخط جرينتش.

خط جرينتش	دائرة الاستواء
.....
.....

٢ حدد أوجه الاختلاف بين سد اللاهون والسد العالى.

.....

السؤال الرابع

(١) أكمل العبارات الآتية:

- ١ أحد مشروعات الري قديماً
- ٢ أكبر المحافظات المصرية إنتاجاً للأسماك هي
- ٣ يوجد مشروع الفيروز السمكى فى محافظة

(ب) ما المقصود بـ...؟

١ الدلتا.

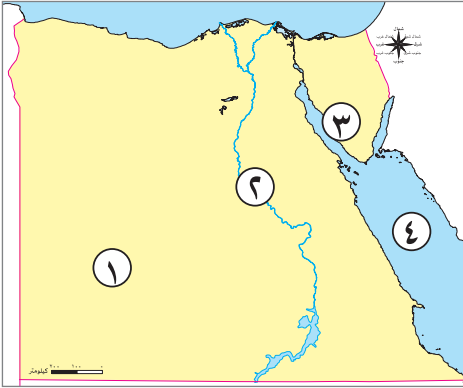
.....

٢ الصناعة.

.....

نموذج (٧)

السؤال الأول



(١) أمامك خريطة صماء لمصر، اكتب ما تدل عليه الأرقام الآتية:

- ١ أكبر وحدة تضاريسية
- ٢ أحد موارد المياه العذبة
- ٣ منطقة استخراج المنجنيز
- ٤ أحد مصائد الأسماك

(ب) ما النتائج المترتبة على...؟

١ اكتشاف المصرى القديم النار.

٢ ارتفاع منسوب مياه البحر.

السؤال الثانى

(١) أكمل العبارات الآتية:

- ١ النقود السلعية عند الإغريق كانت
- ٢ ترجع بردية «هيرست» إلى عصر الملك
- ٣ أحد نماذج الموارد النادرة

(ب) وضع:

١ دور أمنمحات الثالث فى تنظيم الري فى مصر قديماً.

٢ جهود الدولة لتنمية الثروة الحيوانية والسمكية فى مصر.

السؤال الثالث

(١) صوب ما تحته خط :

١ تقع هضبة الجلف الكبير فى الصحراء الشرقية.

٢ يوجد وادى العلاقى فى شبه جزيرة سيناء.

(ب) أجب عن الأسئلة الآتية:

١ قارن بين خطوط الطول ودوائر العرض من حيث الأهمية.

دوائر العرض	خطوط الطول
.....
.....

٢ بم تفسر... أهمية المياه العذبة؟

السؤال الرابع

(١) اختر الإجابة الصحيحة:

- ١ أقل مصادر الطاقة غير المتجددة تلويناً للبيئة (البتروول - الفحم - الغاز الطبيعي - الشمس)
- ٢ انتصر الملك تحتمس الثالث في معركة مجدو على حاكم (النوبة - قادش - بونت - الهكسوس)
- ٣ تبادل ثمار الطماطم ببعض حبوب القمح يسمى (بيعاً - شراء - استثماراً - مقايضة)

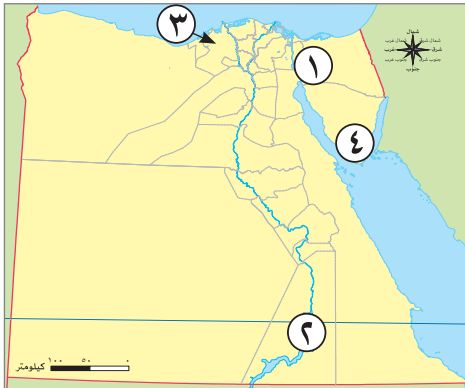
(ب) ما المقصود ب...؟

١ الأودية الجافة.

٢ الموارد النادرة.

نموذج (٨)

السؤال الأول



(١) أمامك خريطة لمصر، اكتب مدلول الأرقام التي عليها:

- ١ منجم لاستخراج الفحم
- ٢ إحدى مصائد المياه العذبة
- ٣ أولى محافظات مصر في الإنتاج الحيواني
- ٤ الجبل

(ب) اكتب تفسيراً واحداً لكل عبارة من العبارات التالية:

١ قيام الحضارة المصرية القديمة .

٢ الأهمية الاقتصادية لمصادر الطاقة في مصر .

السؤال الثاني

(١) اختر الإجابة الصحيحة:

- ١ الملك الذي كون أقدم إمبراطورية في التاريخ
- ٢ إحدى محطات توليد الكهرباء من الرياح محطة
- ٣ معدن استخدم قديماً وحديثاً في صناعة الحلوى

(ب) ما النتائج المترتبة على...؟

١ رسم دوائر العرض على الكرة الأرضية .

٢ إنشاء بنك مركزي في كل دولة .

السؤال الثالث

(١) أكمل العبارات التالية بما يناسبها من كلمات:

- ١ معدن يدخل في صناعة الصلب
- ٢ استخدم المصري القديم الأحجار في صناعة
- ٣ تُعد من مصادر الطاقة غير المتجددة وصديقة للبيئة

(ب) أجب عن الأسئلة الآتية:

١ قارن بين إقليم مناخ البحر المتوسط والإقليم المناخى الصحراوى الحارفى مصر من حيث الخصائص المناخية.

وجه المقارنة	إقليم البحر المتوسط	الإقليم الصحراوى الحار
الخصائص
المناخية

٢ ماذا يحدث إذا: كان موقع مدينة أسوان على البحر المتوسط؟

.....

السؤال الرابع

(١) اكتب كلمة (صواب) أمام العبارة الصحيحة، وكلمة (خطأ) أمام العبارة غير الصحيحة:

()

١ يستخدم المصريون حالياً نظام رى الحياض.

()

٢ هضبه العباددة توجد بالصحراء الشرقية.

()

٣ استخدم المصريون القدماء الحمير كوسيلة للنقل.

(ب) ما المقصود ب...؟

١ الخزان الجوفى.

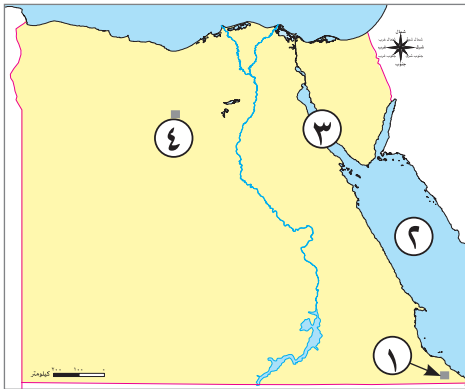
.....

٢ الهيدروجين الأخضر.

.....

نموذج (٩)

السؤال الأول



(أ) لاحظ الخريطة، ثم اكتب مدلول الأرقام الموقعة عليها:

- ١ محمية
- ٢ البحر
- ٣ أكثر المناطق إنتاجًا للبتروك
- ٤ منطقة لاستخراج الحديد

(ب) بم تفسر...؟

١ أهمية وجود جيش وحكومة موحدة فى مصر القديمة.

٢ تعاقب فصول السنة الأربعة.

السؤال الثانى

(أ) اختر الإجابة الصحيحة مما بين القوسين:

- ١ كلما زاد الدخل زادت قدرة الدولة على
(استهلاك الموارد - توفير الخدمات - ترشيد الاستهلاك - زيادة الادخال)
- ٢ برع المصرى القديم فى صناعة الزجاج من
(الرمال السوداء - الرمال البيضاء - طمى النيل - ورق البردى)
- ٣ منتج كانت مصر تصدره قديمًا والآن تستورده، هو
(المعادن - الآلات - البلاستيك - الحبوب)

(ب) ما النتائج المترتبة على...؟

١ سقوط الأمطار على منطقة الساحل الشمالى لمصر.

٢ شق المصريين القدماء ترعة بحريوسف.

السؤال الثالث

(١) اكتب ما تشير إليه العبارات الآتية:

- ١ رئيس مصرى تم فى عهده إنشاء السد العالى. (.....)
- ٢ مبادلة سلعة بسلعة أخرى دون استخدام النقود. (.....)

(ب) أجب عن الأسئلة الآتية:

١ اذكر عملاً واحداً ل: الملك مينا.

٢ ما مقترحاتك لمواجهة تأثيرات التغير المناخي؟

٣ اكتب كلمة (صواب) أو (خطأ) مع ذكر السبب: أكبر مصايد الإنتاج السمكى فى مصر المزارع السمكية.

السؤال الرابع

(١) اكتب كلمة (صواب) أمام العبارة الصحيحة، وكلمة (خطأ) أمام العبارة غير الصحيحة:

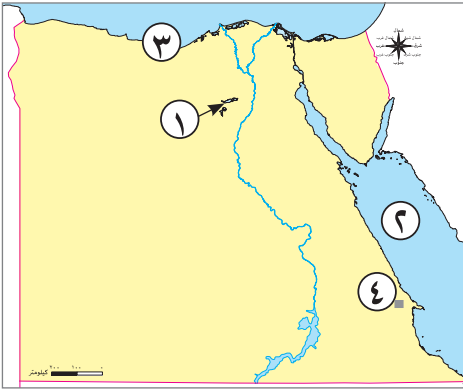
- ١ الصناعة تعنى عملية استخراج المعادن من باطن الأرض أو بالقرب من سطح الأرض. ()
- ٢ السد العالى تم إنشاؤه فى عهد الرئيس الراحل جمال عبد الناصر. ()
- ٣ الميزان التجارى يكون فى حالة عجز عندما تصدر منتجات إلى الخارج أكثر من الاستيراد. ()

(ب) قارن بين: التعدين والصناعة من حيث المفهوم.

الصناعة	التعدين
.....
.....

نموذج (١٠)

السؤال الأول



(أ) أمامك خريطة صماء لمصر، حدد عليها ما يلي :

- ١ منخفض
- ٢ البحر
- ٣ إقليم مناخى
- ٤ منجم لاستخراج الذهب

(ب) اكتب نتيجة واحدة لـ :

١ أهمية الثروة السمكية فى مصر.

٢ ظهور الآلات الحديثة بالنسبة للصناعة.

السؤال الثانى

(أ) اكتب كلمة (صواب) أمام العبارة الصحيحة، وكلمة (خطأ) أمام العبارة غير الصحيحة :

- ١ إزالة الغابات من العوامل الطبيعية لحدوث التغير المناخي. ()
- ٢ تتصدر الأغنام المركز الأول من حيث عدد رءوس الحيوانات فى مصر. ()
- ٣ تعتمد الصناعة فى الورش الصغيرة على العمل اليدوى. ()

(ب) دلل على صحة وأهمية العبارات الآتية :

١ السد العالى سد مائى على نهر النيل.

٢ للمياه المالحة أهمية كبيرة.

السؤال الثالث

(أ) صوب الكلمات التى تحتها خط :

- ١ تم استخدام الرمال البيضاء قديماً فى صناعة الخزف .
- ٢ بلاد بونت قديماً تسمى حالياً العراق .

(ب) أجب عن الأسئلة الآتية:

١ اذكر مشروعين: من المشروعات الجديدة التي تقوم بها الدولة في مجال استصلاح الأراضي الصحراوية.

.....

٢ بم تفسر: تنوع النباتات الطبيعية في مصر؟

.....

٣ ما المقصود...؟ حركات انكسارية.

.....

السؤال الرابع

(١) اختر الإجابة الصحيحة مما بين القوسين:

١ عاش المصري القديم في بداية حياته فوق (الجبـال - الهضاب - التلال - السهول)

٢ من الأخطار التي تتعرض لها الحيوانات البرية في مصر.....

(السيول - ردم الآبار - الصيد الجائر - زحف الرمال)

٣ تقع معظم مساحة مصر ضمن الإقليم (الاستوائي - المداري - الموسمي - الصحراوي)

(ب) قارن بين: الموقع الجغرافي والموقع الفلكي.

الموقع الفلكي	الموقع الجغرافي
.....
.....