

بنك أسئلة

الصف
السادس
الابتدائي
٢٠٢٤

التميز

أ/ محمود سعيد



بنك أسئلة المتميز

الدراسات الاجتماعية

علي مقررات فبراير

اعداد

د / اسلام عطية أ / محي الدين سمير

6

الصف
السادس

نسخة
مجانية

ملحق الإجابات
بالداخل



El.Motamyez.School

يمكنكم الحصول على المذكرات والاختبارات من خلال مسح رمز ال QR Code أو من خلال صفحة "التميز - أ/ محمود سعيد".
يرجى مراعاة حق

www.KitaboSunnat.com



بنك أسئلة التميز علي مقررات فبراير

اختر الاجابة الصحيحة

السؤال الأول

- ١ من الدول التي تنتمي لدول حوض النيل والقرن الإفريقي دولة
 أ ليبيا ب اليمن ج مصر د الأردن
- ٢ تتوقف المشكلة السكانية على العلاقة بين عدد السكان و
 أ الوفيات ب الموارد ج المواليد د الهجرات
- ٣ من الدول التي لديها نقص في السكان وفائض في الموارد دولة
 أ مصر ب السودان ج سوريا د الكويت
- ٤ يندر سكان الوطن العربي في عدة مناطق منها
 أ مرتفعات لبنان ب صحراء الربع الخالي ج وادي النيل د بلاد الشام
- ٥ تعاني دولتي من مشكلة الزيادة السكانية ومحدودية الموارد.
 أ مصر والأردن ب قطر والكويت ج سوريا والبحرين د مصر والعراق
- ٦ يتركز السكان فوق مرتفعات لبنان بسبب
 أ اعتدال المناخ ب انتشار الرعي ج انخفاض الدخل د السهول الساحلية
- ٧ يرتفع معدل نمو السكان في الوطن العربي بسبب
 أ جودة التعليم ب انتشار الأمن ج تحسين الرعاية الصحية د زيادة معدل الوفيات
- ٨ أقل الدول العربية من حيث عدد السكان تقع في المحيط
 أ الأطلنطي ب القطبي ج الهادي د الهندي
- ٩ تعاني دولتا سوريا والأردن من مشكلة في قلة
 أ الموارد ب السكان ج المواليد د الوفيات
- ١٠ يتركز سكان الوطن العربي في السهول الفيضية في دولتي و
 أ مصر والأردن ب سوريا والكويت ج مصر والعراق د قطر والبحرين
- ١١ يحتل الوطن العربي المرتبة عالمياً من حيث عدد السكان.
 أ الأولى ب الثانية ج الرابعة عشر د الرابعة
- ١٢ تعد دولة هي رابع الدول العربية من حيث عدد السكان.
 أ العراق ب المغرب ج سوريا د مصر
- ١٣ من المناطق التي تركز بها السكان بالوطن العربي
 أ الصحراء الغربية ب صحراء الربع الخالي ج سواحل شمال إفريقيا د الصحراء الكبرى



- تختلف معدلات الكثافة السكانية بين الدول العربية بسبب عاملي
- ١٤ (أ) التضاريس وعدد السكان (ب) عدد السكان والمساحة (ج) الموقع والمساحة (د) المناخ وعدد السكان
- يعيش أكثر من نصف سكان الوطن العربي في
- ١٥ (أ) الجناح الإفريقي (ب) ساحل البحر الأحمر (ج) ساحل البحر المتوسط (د) الجناح الآسيوي
- من الدول العربية الحضرية بالكامل دولة
- ١٦ (أ) تونس (ب) الجزائر (ج) المغرب (د) قطر
- تزداد نسبة الأمية عن 40% من السكان في دولة
- ١٧ (أ) سوريا (ب) جزر القمر (ج) لبنان (د) فلسطين
- تزيد نسبة الذكور عن الإناث في دولة
- ١٨ (أ) المغرب (ب) تونس (ج) الكويت (د) العراق
- يتسم الهرم السكاني للوطن العربي بالقاعدة
- ١٩ (أ) الضيقة (ب) الأفقية (ج) العريضة (د) الرأسية
- ينتمي ثلثي سكان الوطن العربي إلى
- ٢٠ (أ) الصحاري (ب) الريف (ج) المرتفعات (د) الحضر
- ضعف التحاق التلاميذ بالتعليم الابتدائي في سوريا يرجع لأسباب
- ٢١ (أ) حربية (ب) صحية (ج) تاريخية (د) بيئية
- من الدول التي تعاني من ارتفاع نسبة البطالة هي
- ٢٢ (أ) الإمارات (ب) عمان (ج) جيبوتي (د) قطر
- ترتفع معدلات الأمية في دولتي
- ٢٣ (أ) العراق والسودان (ب) جزر القمر وموريتانيا (ج) تونس والجزائر (د) مصر وسوريا
- الدولة التي تنخفض بها نسبة المتعلمين بسبب الفقر
- ٢٤ (أ) الصومال (ب) تونس (ج) مصر (د) المغرب
- تقع مسؤولية الإنتاج الاقتصادي على فئة
- ٢٥ (أ) 0 - 4 سنين (ب) 4 - 14 سنة (ج) 15 - 64 سنة (د) 65 سنة فأكثر
- ترتفع نسبة سكان الحضر بالوطن العربي نتيجة ارتفاع معدلات
- ٢٦ (أ) المواليد (ب) الهجرة (ج) الوفيات (د) الأمية
- من أقل دول الوطن العربي في معدلات التعليم
- ٢٧ (أ) السعودية (ب) جيبوتي (ج) الإمارات (د) قطر
- تتجه الهجرة في الوطن العربي إلى بعض دول الخليج العربي ومنها
- ٢٨ (أ) سوريا (ب) تونس (ج) المغرب (د) البحرين
- يهاجر سكان دول شرق
- ٢٩ (أ) أوروبا (ب) آسيا (ج) إفريقيا (د) أستراليا



- ٣٠ في الخمسينيات من القرن الماضي بدأت دول في استقبال الهجرات الخارجية للعمل بها.
- أ. القرن الإفريقي ب. المغرب العربي ج. الخليج العربي د. الهلال الخصيب
- ٣١ يدل موقف خالد بن الوليد مع أهل بلاد الشام علي
- أ. حرية الاعتقاد ب. احترام العمل ج. محاربة الفساد د. تقدير المرأة
- ٣٢ منع المرأة من الميراث
- أ. قمع الغير ب. الإخاء والصدق ج. عدم حرية الاعتقاد د. منع المرأة من الميراث
- ٣٣ ينتمي لأفراد الطبقة الخاصة في المجتمع في عصر الدول الإسلامية.
- أ. أصحاب الأملاك ب. العلماء ج. رؤساء الحرف د. قاد الجند
- ٣٤ استخدمت الدول العربية التراث الثقافي العربي وسيلة لـ
- أ. تنشيط التجارة ب. تطوير التعليم ج. تنشيط السياحة د. دعم الإنتاج الزراعي
- ٣٥ ضمت الطبقة الوسطى في الهرم الاجتماعي بالدولة الإسلامية
- أ. الوزراء ب. صغار العمال ج. أصحاب الأملاك د. التجار
- ٣٦ عملت السيدة سمراء الأسيدي في
- أ. التمريض ب. الزراعة ج. صناعة الفخار د. مراقبة الأسواق
- ٣٧ ينتمي للطبقة العليا في المجتمع في عصر الدولة الإسلامية.
- أ. الوزراء ب. كبار الأدباء ج. التجار د. العلماء
- ٣٨ ظهر احترام الإسلام لأصحاب العقائد الأخرى عندما فتح الخليفة عمر بن الخطاب
- أ. مكة ب. الطائف ج. بيت المقدس د. يثرب
- ٣٩ أعطت الدول الإسلامية اهتماماً كبيراً بالأدباء والعلماء فجعلتهم إحدى فئات الطبقة
- أ. الوسطى ب. العليا ج. الخاصة د. العامة
- ٤٠ يمثل الخليفة قمة الطبقة
- أ. الوسطى ب. العليا ج. العامة د. الخاصة
- ٤١ كانت السيدة تمرض الجرحى في الغزوات.
- أ. رفيدة الأسمية ب. سمراء الأسيدي ج. الشفاء العدوية د. أسماء بنت أبي بكر
- ٤٢ كانت السيدة الشفاء العدوية تعمل في مراقبة الأسواق في عهد الخليفة
- أ. أبو بكر الصديق ب. عمر بن الخطاب ج. عثمان بن عفان د. علي بن أبي طالب
- ٤٣ ساعدت المرأة في دعم اقتصاد الدولة الإسلامية من خلال مشاركتها في
- أ. ترميض الجرحي ب. الزراعة والصناعة ج. الحروب والغزوات د. كتابات الفقه والآداب



- أول من أسلمت من النساء كانت السيدة
 (أ) أسماء بنت أبي بكر (ب) خديجة بنت خويلد (ج) سمراء الأسيدي (د) رفيدة الأسملية
- من صور الاهتمام بحقوق المرأة في العصر الحديث
 (أ) وأد البنات (ب) منحها الحق في الميراث (ج) الحق في إدارة أموالها (د) تولى بعض المناصب القيادية
- يعيش ربع سكان الوطن العربي في دولة
 (أ) قطر (ب) الأردن (ج) لبنان (د) مصر
- اختارت المنظمة العربية للتربية والثقافة والعلوم مدينة عام 2009م لتكون عاصمة الثقافة العربية
 (أ) القاهرة (ب) أسوان (ج) القدس (د) الأقصر
- بلغ الوطن العربي المرتبة من حيث عدد السكان.
 (أ) الأولى (ب) الثانية (ج) الثالثة (د) الرابعة
- تم اختيار مدينة عاصمة للثقافة العربية عام 1996م.
 (أ) القدس (ب) الأقصر (ج) عمان (د) القاهرة
- تمثل فئة حوالي 32.5% من سكان الوطن العربي.
 (أ) كبار السن (ب) قوة العمل (ج) صغار السن (د) الشيوخ

ضع علامة صح أو خطأ أمام العبارات التالية

السؤال الثاني

- () 1. يتركز السكان في السهول الفيضية والساحلية بالوطن العربي.
- () 2. يزيد السكان في الجناح العربي الآسيوي عن الجناح العربي الإفريقي.
- () 3. الهجرة الخارجية لدول المغرب من أسباب النمو السكاني بالوطن العربي.
- () 4. يتركز السكان في مناطق الصناعة والتعدين بالوطن العربي.
- () 5. أقامت مصر المؤتمر العالمي للصحة والسكان والتنمية 2023م في العاصمة الإدارية الجديدة.
- () 6. معدل النمو السكاني بالوطن العربي مرتفع مقارنة بالمعدل العالمي.
- () 7. تعاني مصر وسوريا من قلة السكان وزيادة الموارد.
- () 8. يندر السكان في مناطق الصحراء الكبرى بالجناح العربي الآسيوي.
- () 9. تعد دولة جزر القمر أقل الدول العربية سكاناً في الجناح العربي الآسيوي.
- () 10. تختلف الكثافة السكانية في الوطن العربي من دولة إلى أخرى.
- () 11. زيادة عدد السكان خلال فترة زمنية نتيجة للمواليد والوفيات والهجرة يعرف بالكثافة السكانية.
- () 12. قدر عدد سكان الوطن العربي عام 2000 بنحو 278.5 مليون نسمة.
- () 13. من العوامل المؤثرة في توزيع سكان الوطن العربي موارد المياه العذبة والتربة الخصبة.



- () ١٤ تختلف المشكلة السكانية في مصر عن المشكلة السكانية في الإمارات.
- () ١٥ يعيش نحو 61% من سكان الوطن العربي في دول الجناح الآسيوي.
- () ١٦ تدل القاعدة العريضة للهرم السكاني على ارتفاع نسبة فئة سن العمل.
- () ١٧ تعد دولتا الكويت وقطر من الدول الحضرية بالكامل.
- () ١٨ يؤثر المستوى الصحي للسكان على اقتصاد الدولة.
- () ١٩ تؤدي هجرة السكان إلى الحضر إلى ارتفاع معدلات البطالة بالمدن.
- () ٢٠ تحتاج الفئة العمرية من 65 سنة فأكثر إلى إعالة ورعاية في الوطن العربي.
- () ٢١ سجلت دولتي الأردن وفلسطين أعلى معدلات بطالة في الجناح العربي الإفريقي.
- () ٢٢ تنخفض نسبة الذكور عن الإناث في السعودية في فئة سن العمل.
- () ٢٣ معظم الدول العربية اتحت فرصة التعليم للجميع من الذكور والإناث.
- () ٢٤ تنخفض نسبة المقيدون بالتعليم الابتدائي في سوريا والسودان بسبب الحروب والفقر.
- () ٢٥ نسبة سكان الحضر في الوطن العربي أعلى من المستوى العالمي.
- () ٢٦ سجل أعلى متوسط عمر متوقع في الوطن العربي بدولة البحرين.
- () ٢٧ يعيش أكثر من نصف سكان الوطن العربي في الريف.
- () ٢٨ تقسيم السكان إلى ذكور وإناث يعرف بالتركيب العمري.
- () ٢٩ أدنى متوسط عمر متوقع في الوطن العربي سجلته دولة الصومال.
- () ٣٠ تزيد نسبة الامية في دولتي موريتانيا وجزر القمر عن النسبة العامة للوطن العربي.
- () ٣١ ينقسم الهرم السكاني إلى أربع فئات عمرية.
- () ٣٢ تحتاج فئة كبار السن إلى رعاية صحية و تعليمية.
- () ٣٣ تزيد نسبة الذكور في بعض دول الخليج العربي بسبب الزيادة الطبيعية.
- () ٣٤ تولت السيدة ربيعة الأسلمية الإشراف على الأسواق ومراقبة التجار والعمال.
- () ٣٥ تزخر الدول العربية بالتراث الثقافي العربي.
- () ٣٦ استعان الخليفة عمر بن الخطاب بالنساء في تنظيم أمور الدولة.
- () ٣٧ فتح خالد بن الوليد بيت المقدس وعفا عن أهله.
- () ٣٨ يهدف اليوم العربي للتراث الثقافي العربي إلى التشجيع على الإبداع من أجل تحقيق التنمية المستدامة.
- () ٣٩ يتنمى الوزراء إلى الطبقة الوسطى من المجتمع في عصر الدولة الإسلامية.
- () ٤٠ منظمة المرأة العربية هي منظمة تابعة لهيئة الأمم المتحدة.
- () ٤١ اقتصر العمل بالفقه والطب على الرجال في عصر الدولة الإسلامية.
- () ٤٢ ساد العدل والتعاون في المجتمع العربي قبل ظهور الإسلام.
- () ٤٣ يسعى المجلس القومي للمرأة إلى دعم حقوق المرأة المصرية.
- () ٤٤ ينتمى العلماء إلى الطبقة العامة في عصر الدولة الإسلامية.



- () منع الإسلام حق المرأة في الميراث وتملك الأموال. ٤٥
- () يمثل رأس الهرم الاجتماعي في الدولة الإسلامية العلماء والتجار وكبار الأدباء. ٤٦
- () أشرفت السيدة سمراء الأُسدية على تمريض الجرحى في الغزوات. ٤٧
- () يمثل التراث الثقافي العربي مصدراً لتنشيط السياحة العربية. ٤٨
- () انتشرت عادة تهجير البنات عند العرب قبل الإسلام. ٤٩
- () ضمت الطبقة العليا في المجتمع الإسلامي رؤساء الحرف. ٥٠
- () تعد مناطق التعدين والصناعة من المناطق التي يقل تركيز السكان بها. ٥١
- () ساعدت الهجرة الدولية على ارتفاع نسبة الذكور في الحضر. ٥٢
- () تعد دولة الإمارات من الدول الحضرية بالكامل. ٥٣
- () تعرف المنظمة العربية للتربية والعلوم والثقافة باسم اليونسكو ٥٤

اكمل العبارات التالية بالاجابة المناسبة مما بين القوسين

السؤال الثالث

١

- (صحراء الربع الخالي - ربع - الفيضية - للسكان - الرابعة - الثانية - المساحة - السكان)
يوافق يوم 11 من يوليو من كل عام الاحتفال باليوم العالمي لـ ١
- تعاني بعض الدول العربي من زيادة في الموارد وقلة في السكان مثل دولتي البحرين . ٢
- تختلف الكثافة السكانية من دولة لأخرى تبعاً لعدد السكان و..... ٣
- يتركز السكان في الوطن العربي في السهول والساحلية . ٤
- يمثل سكان مصر نحو سكان الوطن العربي. ٥
- يحتل الوطن العربي المرتبة عالمياً من حيث عدد السكان. ٦
- يندر السكان في المناطق الصحراوية في الوطن العربي مثل في الجناح العربي الآسيوي ٧

٢

- (قطر - ثلاث - المدن - البطالة - كبار السن - الهرم السكاني - صغار السن - جزر القمر - خمسة)
يوضح التركيب العمري والتركيب النوعي للسكان. ١
- سجلت دولة أعلى متوسط متوقع في الوطن العربي. ٢
- يرتبط ارتفاع معدلات البطالة في الوطن العربي بالهجرة إلى ٣
- تسجل كل من فلسطين والأردن أعلى معدلات الوطن العربي. ٤
- أعلى الدول العربية في معدل الأمية موريتانيا و ٥
- الفئة العاملة بالوطن العربي تعول كلاً من و ٦
- يقسم الهرم السكاني للوطن العربي إلى فئات رئيسية. ٧



٣

- (وأد - المرأة العربية - الألكسو - العليا - السيدة خديجة - أسماء بنت أبي بكر - الوسطي - الأسواق)
 المنظمة التي تختار عاصمة السياحة العربية هي منظمة ١
 ساندت الرسول (صلى الله عليه وسلم) بمالها وجهدها لنشرة الدعوة الإسلامية..... ٢
 ينتمي قادة الجند في عصر الدولة الإسلامية للطبقة ٣
 تولت السيدة الشفاء العدوية الإشراف على في عهد الخليفة عمر بن الخطاب. ٤
 اختار الرسول السيدة لتساعده في الهجرة من مكة إلى يثرب. ٥
 منظمة تعمل على نشر الوعي بقضايا المرأة العربية هي منظمة ٦
 حرم الإسلام عادة البنات. ٧

اكتب ما تشير إليه العبارات التالية

السؤال الرابع

- ١ نسبة الزيادة في السكان خلال فترة زمنية نتيجة للمواليد والوفيات والهجرة. ()
 ٢ نسبة المواليد إلى إجمالي السكان في عام معين. ()
 ٣ نسبة الوفيات إلى إجمالي السكان في عام معين. ()
 ٤ النسبة بين عدد السكان والمساحة الكلية. ()
 ٥ دولة تحتل المرتبة الأولى عربياً من حيث عدد السكان. ()
 ٦ رسم بياني يوضح خصائص السكان من حيث التركيب النوعي والتركيب العمري ()
 ٧ من أدوات جمع البيانات الإحصائية حول عدد السكان وتوزيعهم وتركيبهم. ()
 ٨ منطقة صحراوية نادرة السكان في الجناح العربي الإفريقي. ()
 ٩ أقل الدول العربية من حيث عدد السكان. ()
 ١٠ إحدى فئات الهرم السكاني وتحتاج إلى رعاية صحية وتعليمية. ()
 ١١ فئة تحتل قمة الهرم السكاني للوطن العربي. ()
 ١٢ طبقة اجتماعية ينتمي إليها العلماء في عصر الدولة الإسلامية. ()
 ١٣ منظمة تابعة لجامعة الدول العربية تهتم بشئون المرأة العربية. ()
 ١٤ مؤسسة مصرية تسعى إلى دعم حقوق المرأة المصرية. ()
 ١٥ مدينة أعطى عمر بن الخطاب أهلها الأمان لأنفسهم وأموالهم وكنائسهم. ()
 ١٦ عادة جاهلية اتبعها الهرب قبل الإسلام تعد إحدى صور التمييز العنصري ضد المرأة. ()
 ١٧ عملت بالتمريض لتقديم الرعاية الطبية للمرضى والجرحى في الغزوات. ()



- () ١٨ القائد المسلم الذي فتح بلاد الشام وعقد مع أهلها صلحاً أكد فيه ألا تهدم كنيسة
- () ١٩ كانت تحمل الطعام والشراب للرسول أثناء هجرته من مكة إلى المدينة.
- () ٢٠ كلف السيدة سمراء الأسيدي بالإشراف على الأسواق ومراقبة التجار والعمال.
- () ٢١ كان إذا بعث جيشاً أو سرية أوصاهم بالرفق والتسامح والرحمة بالنساء والضعفاء.
- () ٢٢ أعطى أهل بيت المقدس الأمان على أنفسهم وأموالهم وكنائسهم.
- () ٢٣ عقد صلحاً مع أهل الشام ألا تهدم كنائسهم.
- () ٢٤ يمثل رأس الهرم الاجتماعي في الطبقة العليا في الدولة الإسلامية.
- () ٢٥ المنظمة العربية للتربية والعلوم والثقافة.
- () ٢٦ الفئة العمرية التي تبلغ نسبتها نحو 63% من جملة السكان.
- () ٢٧ تقسيم السكان على حسب العمر.
- () ٢٨ تقسيم السكان حسب نوعهم إلى ذكور وإناث.
- () ٢٩ أقل دولة عربية من حيث عدد السكان.
- () ٣٠ رابع دولة عربية من حيث عدد السكان.

اجب عن الاسئلة الآتية

السؤال الخامس

- ١ بم تفسر ارتفاع معدل نمو السكان في الوطن العربي ؟
.....
- ٢ فسر : تركيز السكان على السهول الساحلية في بلاد الشام ؟
.....
- ٣ بم تفسر : ارتفاع نسبة الذكور عن الإناث في بعض الدول العربية ؟
.....
- ٤ ما النتائج المترتبة على : ارتفاع معدلات الهجرة من الريف إلى المدن في الوطن العربي ؟
.....
- ٥ ما النتائج المترتبة على : قلة السكان وزيادة الموارد في بعض الدول العربية ؟
.....
- ٦ ما النتائج المترتبة على : توفير الخدمات الصحية في الوطن العربي ؟
.....
- ٧ برهن على صحة العبارة التالية : تختلف الكثافة السكانية في الوطن العربي من دولة لأخرى
.....



٨ بم تفسر وجود مشكلة سكانية في مصر وسوريا.

.....
 ٩ دلل على صحة العبارة التالية : دور المرأة البارز في الدولة الإسلامية.

.....
 ١٠ ما النتائج المترتبة على : وجود نقص في عدد السكان في دولتي الإمارات والبحرين.

.....
 ١١ اثبت صحة العبارة التالية : تأخذ المشكلة السكانية في الوطن العربي وجهين مختلفين.

.....
 ١٢ ماذا يحدث إذا حدث توازن بين عدد سكان الوطن العربي وموارده.

.....
 ١٣ دلل على صحة العبارة التالية : تبذل الدول العربية جهوداً عديدة لمواجهة المشكلات السكانية.

.....
 ١٤ ما العلاقة بين : سكان الوطن العربي - السهول الساحلية لبلاد الشام.

.....
 ١٥ دلل على صحة العبارة التالية : تعد مصر أولى الدول العربية من حيث عدد السكان.

.....
 ١٦ ما المخاطر التي تواجه الأسرة العربية في الوطن العربي ؟

.....
 ١٧ بم تفسر الهرم السكاني للوطن العربي ذو قاعدة عريضة ؟

.....
 ١٨ ما النتائج المترتبة على : هجرة سكان دول شرق آسيا وإفريقيا إلى دول الخليج العربي ؟

.....
 ١٩ وضح جهود الدول العربية لمواجهة زيادة هجرة السكان إلى المدن .

.....
 ٢٠ دلل على ارتفاع نسبة الأمية في موريتانيا وجزر القمر عن باقي الدول العربية.

.....
 ٢١ دلل على صحة العبارة التالية : يتشابه الهرم السكاني للوطن العربي مع الهرم السكاني لمصر ؟

.....
 ٢٢ بم تفسر وجود مشكلة الأمية في الوطن العربي ؟

.....



٣٣ بم تفسر الفئة التي تتوسط الهرم السكاني هي الفئة المنتجة.

.....

٣٤ دلل : تعددت طبقات المجتمع الإسلامي في عصر الدولة الإسلامية.

.....

٣٥ دلل على صحة العبارة التالية : كفل الإسلام للمرأة جميع حقوقها

.....

٣٦ ماذا يحدث إذا لم يتم إنشاء منظمة المرأة العربية ؟

.....

٣٧ قارن بين مكانة المرأة في المجتمع العربي قبل ظهور الإسلام وبعده.

.....

٣٨ ما العلاقة بين المرأة وجامعة الدول العربية ؟

.....

٣٩ بم تفسر : الاحتفال بيوم 27 فبراير من كل عام باليوم العربي للتراث الثقافي العربي ؟

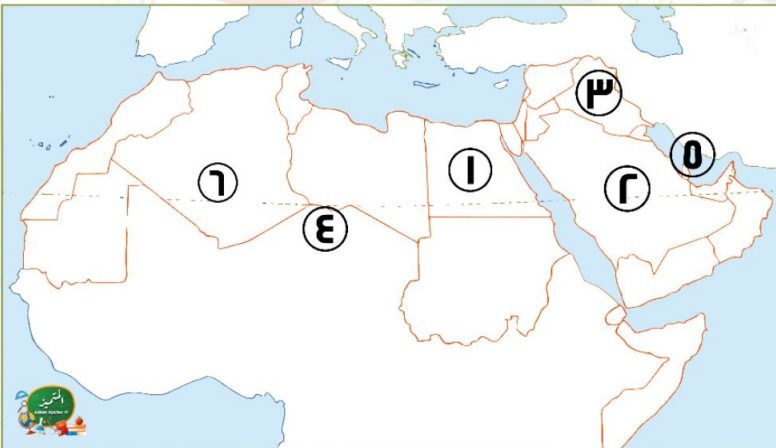
.....

٤٠ بم تفسر : للتراث الثقافي العربي أهمية اقتصادية كبرى للدول العربية .

.....

السؤال السادس لاحظ الخريطة ثم أجب

١



١ دولة تعاني من قلة الموارد وزيادة عدد السكان

.....

٢ دولة مستقبلها للهجرات الخارجية

.....

٣ رابع الدول العربية من حيث عدد السكان

.....

٤ منطقة يندر بها تركيز السكان

.....

٥ الخليج

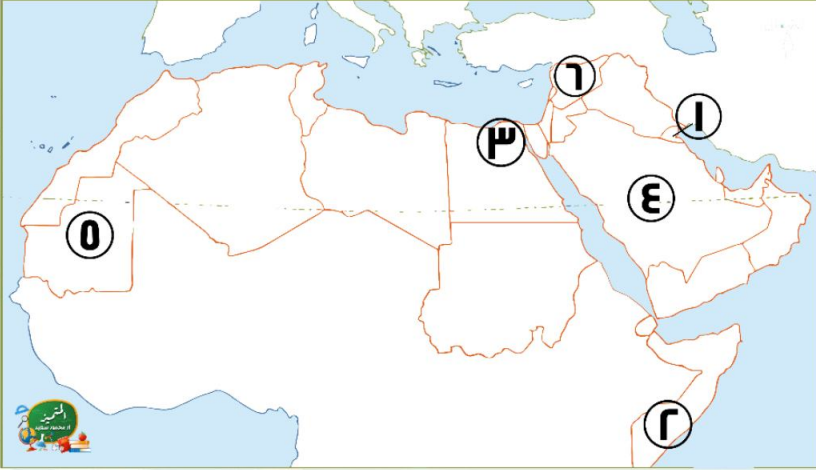
.....

٦ ثالث الدول العربية من حيث عدد السكان

.....

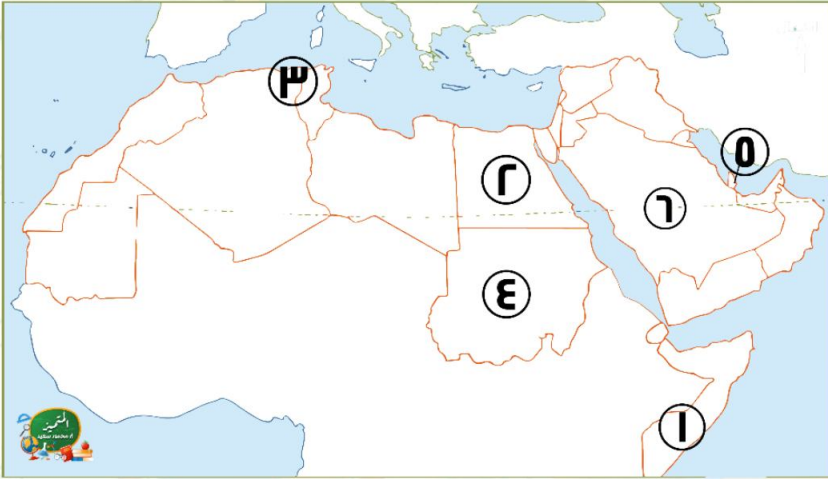


٢



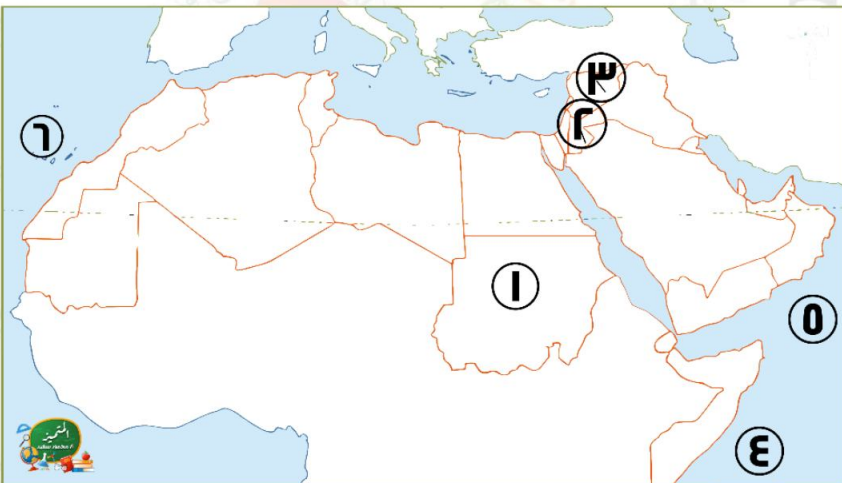
- ١ دولة حضرية.....
- ٢ أقل الدول العربية في متوسط العمر المتوقع.....
- ٣ منطقة تركيز سكاني بمصر.....
- ٤ منطقة يندر بها تركيز السكان.....
- ٥ دولة تزيد بها معدلات الأمية.....
- ٦ دولة يزيد بها عدد السكان عن الموارد المتاحة.....

٣



- ١ دولة تسجل أعلى معدلات البطالة.....
- ٢ أعلى الدول العربية سكاناً.....
- ٣ سهول.....
- ٤ دولة تقل بها نسبة المقيدين بالتعليم الابتدائي.....
- ٥ دولة تعاني من قلة السكان وزيادة الموارد.....
- ٦ دولة تزيد بها معدل الذكور عن الإناث.....

٤



- ١ ثاني الدول العربية سكاناً.....
- ٢ دولة سجلت أعلى معدلات البطالة في 2021م.....
- ٣ إحدى دول مجموعة الهلال الخصيب.....
- ٤ أقل الدول العربية سكاناً.....
- ٥ البحر.....
- ٦ المحيط.....

انتهت الأسئلة مع أطيب الامنيات بالنجاح



بنك اسئلة

الصف
السادس
الابتدائي
٢٠٢٤

التميز

أ / محمود سعيد



الاجابات النموذجية لبنك الاسئلة

الدراسات الاجتماعية

علي مقررات فبراير

اعداد

د / اسلام عطية أ / محي الدين سمير



El.Motamez.School

يمكنكم الحصول على المذكرات والاختبارات من خلال مسح رمز ال QR Code او من خلال صفحة "التميز - أ / محمود سعيد". يرجى مراعاة حق النشر

www.motamez.com



بنك أسئلة المتميز علي مقررات فبراير

اختر الاجابة الصحيحة

السؤال الأول

- ١ من الدول التي تنتمي لدول حوض النيل والقرن الإفريقي دولة
 (أ) ليبيا (ب) اليمن (ج) مصر (د) الأردن
- ٢ تتوقف المشكلة السكانية على العلاقة بين عدد السكان و
 (أ) الوفيات (ب) الموارد (ج) المواليد (د) الهجرات
- ٣ من الدول التي لديها نقص في السكان وفائض في الموارد دولة
 (أ) مصر (ب) السودان (ج) سوريا (د) الكويت
- ٤ يندر سكان الوطن العربي في عدة مناطق منها
 (أ) مرتفعات لبنان (ب) صحراء الربع الخالي (ج) وادي النيل (د) بلاد الشام
- ٥ تعاني دولتي من مشكلة الزيادة السكانية ومحدودية الموارد.
 (أ) مصر والأردن (ب) قطر والكويت (ج) سوريا والبحرين (د) مصر والعراق
- ٦ يتركز السكان فوق مرتفعات لبنان بسبب
 (أ) اعتدال المناخ (ب) انتشار الرعي (ج) انخفاض الدخل (د) السهول الساحلية
- ٧ يرتفع معدل نمو السكان في الوطن العربي بسبب
 (أ) جودة التعليم (ب) انتشار الأمن (ج) تحسين الرعاية الصحية (د) زيادة معدل الوفيات
- ٨ أقل الدول العربية من حيث عدد السكان تقع في المحيط
 (أ) الأطلنطي (ب) القطبي (ج) الهادي (د) الهندي
- ٩ تعاني دولتا سوريا والأردن من مشكلة في قلة
 (أ) الموارد (ب) السكان (ج) المواليد (د) الوفيات
- ١٠ يتركز سكان الوطن العربي في السهول الفيضية في دولتي و
 (أ) مصر والأردن (ب) سوريا والكويت (ج) مصر والعراق (د) قطر والبحرين
- ١١ يحتل الوطن العربي المرتبة عالمياً من حيث عدد السكان.
 (أ) الأولى (ب) الثانية (ج) الرابعة عشر (د) الرابعة
- ١٢ تعد دولة هي رابع الدول العربية من حيث عدد السكان.
 (أ) العراق (ب) المغرب (ج) سوريا (د) مصر
- ١٣ من المناطق التي تركز بها السكان بالوطن العربي
 (أ) الصحراء الغربية (ب) صحراء الربع الخالي (ج) سواحل شمال إفريقيا (د) الصحراء الكبرى



- تختلف معدلات الكثافة السكانية بين الدول العربية بسبب عاملي
- ١٤ (أ) التضاريس وعدد السكان (ب) عدد السكان والمساحة (ج) الموقع والمساحة (د) المناخ وعدد السكان
- يعيش أكثر من نصف سكان الوطن العربي في
- ١٥ (أ) الجناح الإفريقي (ب) ساحل البحر الأحمر (ج) ساحل البحر المتوسط (د) الجناح الآسيوي
- من الدول العربية الحضرية بالكامل دولة
- ١٦ (أ) تونس (ب) الجزائر (ج) المغرب (د) قطر
- تزداد نسبة الأمية عن 40% من السكان في دولة
- ١٧ (أ) سوريا (ب) جزر القمر (ج) لبنان (د) فلسطين
- تزيد نسبة الذكور عن الإناث في دولة
- ١٨ (أ) المغرب (ب) تونس (ج) الكويت (د) العراق
- يتسم الهرم السكاني للوطن العربي بالقاعدة
- ١٩ (أ) الضيقة (ب) الأفقية (ج) العريضة (د) الرأسية
- ينتمي ثلثي سكان الوطن العربي إلى
- ٢٠ (أ) الصحاري (ب) الريف (ج) المرتفعات (د) الحضر
- ضعف التحاق التلاميذ بالتعليم الابتدائي في سوريا يرجع لأسباب
- ٢١ (أ) حربية (ب) صحية (ج) تاريخية (د) بيئية
- من الدول التي تعاني من ارتفاع نسبة البطالة هي
- ٢٢ (أ) الإمارات (ب) عمان (ج) جيبوتي (د) قطر
- ترتفع معدلات الأمية في دولتي
- ٢٣ (أ) العراق والسودان (ب) جزر القمر وموريتانيا (ج) تونس والجزائر (د) مصر وسوريا
- الدولة التي تنخفض بها نسبة المتعلمين بسبب الفقر
- ٢٤ (أ) الصومال (ب) تونس (ج) مصر (د) المغرب
- تقع مسؤولية الإنتاج الاقتصادي على فئة
- ٢٥ (أ) 0 - 4 سنين (ب) 4 - 14 سنة (ج) 15 - 64 سنة (د) 65 سنة فأكثر
- ترتفع نسبة سكان الحضر بالوطن العربي نتيجة ارتفاع معدلات
- ٢٦ (أ) المواليد (ب) الهجرة (ج) الوفيات (د) الأمية
- من أقل دول الوطن العربي في معدلات التعليم
- ٢٧ (أ) السعودية (ب) جيبوتي (ج) الإمارات (د) قطر
- تتجه الهجرة في الوطن العربي إلى بعض دول الخليج العربي ومنها
- ٢٨ (أ) سوريا (ب) تونس (ج) المغرب (د) البحرين
- يهاجر سكان دول شرق
- ٢٩ (أ) أوروبا (ب) آسيا (ج) إفريقيا (د) أستراليا



- في الخمسينيات من القرن الماضي بدأت دول في استقبال الهجرات الخارجية للعمل بها.
- ٣٠ أ القرن الإفريقي ب المغرب العربي ج الخليج العربي د الهلال الخصيب
- يدل موقف خالد بن الوليد مع أهل بلاد الشام علي
- ٣١ أ حرية الاعتقاد ب احترام العمل ج محاربة الفساد د تقدير المرأة
- من القيم التي قامت عليها الحضارة الإسلامية
- ٣٢ أ منع المرأة من الميراث ب قمع الغير ج الإخاء والصدق د عدم حرية الاعتقاد
- ينتمي لأفراد الطبقة الخاصة في المجتمع في عصر الدول الإسلامية.
- ٣٣ أ أصحاب الأملاك ب العلماء ج رؤساء الحرف د قاد الجند
- استخدمت الدول العربية التراث الثقافي العربي وسيلة لـ
- ٣٤ أ تنشيط التجارة ب تطوير التعليم ج تنشيط السياحة د دعم الإنتاج الزراعي
- ضمت الطبقة الوسطى في الهرم الاجتماعي بالدولة الإسلامية
- ٣٥ أ الوزراء ب صغار العمال ج أصحاب الأملاك د التجار
- عملت السيدة سمراء الأسيدي في
- ٣٦ أ التمريض ب الزراعة ج صناعة الفخار د مراقبة الأسواق
- ينتمي للطبقة العليا في المجتمع في عصر الدولة الإسلامية.
- ٣٧ أ الوزراء ب كبار الأدباء ج التجار د العلماء
- ظهر احترام الإسلام لأصحاب العقائد الأخرى عندما فتح الخليفة عمر بن الخطاب
- ٣٨ أ مكة ب الطائف ج بيت المقدس د يثرب
- أعطت الدول الإسلامية اهتماماً كبيراً بالأدباء والعلماء فجعلتهم إحدى فئات الطبقة
- ٣٩ أ الوسطى ب العليا ج الخاصة د العامة
- يمثل الخليفة قمة الطبقة
- ٤٠ أ الوسطى ب العليا ج العامة د الخاصة
- كانت السيدة تمرض الجرحى في الغزوات.
- ٤١ أ رفيدة الأسملية ب سمراء الأسيدي ج الشفاء العدوية د أسماء بنت أبي بكر
- كانت السيدة الشفاء العدوية تعمل في مراقبة الأسواق في عهد الخليفة
- ٤٢ أ أبو بكر الصديق ب عمر بن الخطاب ج عثمان بن عفان د على بن أبي طالب
- ساعدت المرأة في دعم اقتصاد الدولة الإسلامية من خلال مشاركتها في
- ٤٣ أ تمريض الجرحي ب الزراعة والصناعة ج الحروب والغزوات د كتابات الفقه والآداب



- ٤٤ أول من أسلمت من النساء كانت السيدة
 أ أسماء بنت أبي بكر ب خديجة بنت خويلد ج سمراء الأسيدي د ربيعة الأسيدي
- ٤٥ من صور الاهتمام بحقوق المرأة في العصر الحديث
 أ وأ البنات ب منحها الحق في الميراث ج الحق في إدارة أموالها د تولي بعض المناصب القيادية
- ٤٦ يعيش ربع سكان الوطن العربي في دولة
 أ قطر ب الأردن ج لبنان د مصر
- ٤٧ اختارت المنظمة العربية للتربية والثقافة والعلوم مدينة عام 2009م لتكون عاصمة الثقافة العربية
 أ القاهرة ب أسوان ج القدس د الأقصر
- ٤٨ بلغ الوطن العربي المرتبة من حيث عدد السكان.
 أ الأولى ب الثانية ج الثالثة د الرابعة
- ٤٩ تم اختيار مدينة عاصمة للثقافة العربية عام 1996م.
 أ القدس ب الأقصر ج عمان د القاهرة
- ٥٠ تمثل فئة حوالي 32.5% من سكان الوطن العربي.
 أ كبار السن ب قوة العمل ج صغار السن د الشيوخ

ضع علامة صح أو خطأ أمام العبارات التالية

السؤال الثاني

- ١ يتركز السكان في السهول الفيضية والساحلية بالوطن العربي. ✓
- ٢ يزيد السكان في الجناح العربي الآسيوي عن الجناح العربي الإفريقي. ✗
- ٣ الهجرة الخارجية لدول المغرب من أسباب النمو السكاني بالوطن العربي. ✗
- ٤ يتركز السكان في مناطق الصناعة والتعدين بالوطن العربي. ✓
- ٥ أقامت مصر المؤتمر العالمي للصحة والسكان والتنمية 2023م في العاصمة الإدارية الجديدة. ✓
- ٦ معدل النمو السكاني بالوطن العربي مرتفع مقارنة بالمعدل العالمي. ✓
- ٧ تعاني مصر وسوريا من قلة السكان وزيادة الموارد. ✗
- ٨ ينذر السكان في مناطق الصحراء الكبرى بالجناح العربي الآسيوي. ✗
- ٩ تعد دولة جزر القمر أقل الدول العربية سكاناً في الجناح العربي الآسيوي. ✗
- ١٠ تختلف الكثافة السكانية في الوطن العربي من دولة إلى أخرى. ✓
- ١١ زيادة عدد السكان خلال فترة زمنية نتيجة للمواليد والوفيات والهجرة يعرف بالكثافة السكانية. ✗
- ١٢ قدر عدد سكان الوطن العربي عام 2000 بنحو 278.5 مليون نسمة. ✓
- ١٣ من العوامل المؤثرة في توزيع سكان الوطن العربي موارد المياه العذبة والتربة الخصبة. ✓



- 14 تختلف المشكلة السكانية في مصر عن المشكلة السكانية في الإمارات.
- 15 يعيش نحو 61% من سكان الوطن العربي في دول الجناح الآسيوي.
- 16 تدل القاعدة العريضة للهرم السكاني على ارتفاع نسبة فئة سن العمل.
- 17 تعد دولتا الكويت وقطر من الدول الحضرية بالكامل.
- 18 يؤثر المستوى الصحي للسكان على اقتصاد الدولة.
- 19 تؤدي هجرة السكان إلى الحضر إلى ارتفاع معدلات البطالة بالمدن.
- 20 تحتاج الفئة العمرية من 65 سنة فأكثر إلى إعالة ورعاية في الوطن العربي.
- 21 سجلت دولتي الأردن وفلسطين أعلى معدلات بطالة في الجناح العربي الإفريقي.
- 22 تنخفض نسبة الذكور عن الإناث في السعودية في فئة سن العمل.
- 23 معظم الدول العربية اتحات فرصة التعليم للجميع من الذكور والإناث.
- 24 تنخفض نسبة المقيدون بالتعليم الابتدائي في سوريا والسودان بسبب الحروب والفقير
- 25 نسبة سكان الحضر في الوطن العربي أعلى من المستوى العالمي.
- 26 سجل أعلى متوسط عمر متوقع في الوطن العربي بدولة البحرين.
- 27 يعيش أكثر من نصف سكان الوطن العربي في الريف.
- 28 تقسيم السكان إلى ذكور وإناث يعرف بالتركيب العمري.
- 29 أدنى متوسط عمر متوقع في الوطن العربي سجلته دولة الصومال.
- 30 تزيد نسبة الامية في دولتي موريتانيا وجزر القمر عن النسبة العامة للوطن العربي.
- 31 ينقسم الهرم السكاني إلى أربع فئات عمرية.
- 32 تحتاج فئة كبار السن إلى رعاية صحية و تعليمية.
- 33 تزيد نسبة الذكور في بعض دول الخليج العربي بسبب الزيادة الطبيعية.
- 34 تولت السيدة ربيعة الأسلمية الإشراف على الأسواق ومراقبة التجار والعمال.
- 35 تزخر الدول العربية بالتراث الثقافي العربي.
- 36 استعان الخليفة عمر بن الخطاب بالنساء في تنظيم أمور الدولة.
- 37 فتح خالد بن الوليد بيت المقدس وعفا عن أهله.
- 38 يهدف اليوم العربي للتراث الثقافي العربي إلى التشجيع على الإبداع من أجل تحقيق التنمية المستدامة.
- 39 يتنمى الوزراء إلى الطبقة الوسطى من المجتمع في عصر الدولة الإسلامية.
- 40 منظمة المرأة العربية هي منظمة تابعة لهيئة الأمم المتحدة.
- 41 اقتصر العمل بالفقه والطب على الرجال في عصر الدولة الإسلامية.
- 42 ساد العدل والتعاون في المجتمع العربي قبل ظهور الإسلام.
- 43 يسعى المجلس القومي للمرأة إلى دعم حقوق المرأة المصرية.
- 44 ينتمى العلماء إلى الطبقة العامة في عصر الدولة الإسلامية.





- ٤٥ منع الإسلام حق المرأة في الميراث وتملك الأموال.
- ٤٦ يمثل رأس الهرم الاجتماعي في الدولة الإسلامية العلماء والتجار وكبار الأدباء.
- ٤٧ أشرفت السيدة سمراء الأُسدية على ترميض الجرحى في الغزوات.
- ٤٨ يمثل التراث الثقافي العربي مصدراً لتنشيط السياحة العربية.
- ٤٩ انتشرت عادة تهجير البنات عند العرب قبل الإسلام.
- ٥٠ ضمت الطبقة العليا في المجتمع الإسلامي رؤساء الحرف.
- ٥١ تعد مناطق التعدين والصناعة من المناطق التي يقل تركيز السكان بها.
- ٥٢ ساعدت الهجرة الدولية على ارتفاع نسبة الذكور في الحضر.
- ٥٣ تعد دولة الإمارات من الدول الحضرية بالكامل.
- ٥٤ تعرف المنظمة العربية للتربية والعلوم والثقافة باسم اليونسكو

اكمل العبارات التالية بالاجابة المناسبة مما بين القوسين

السؤال الثالث

١

- (صحراء الربع الخالي - ربع - الفيضية - للسكان - الرابعة - الثانية - المساحة - السكان)
- ١ يوافق يوم 11 من يوليو من كل عام الاحتفال باليوم العالمي لـ السكان
- ٢ تعاني بعض الدول العربي من زيادة في الموارد وقلة في السكان مثل دولتي ... قطر البحرين .
- ٣ تختلف الكثافة السكانية من دولة لأخرى تبعاً لعدد السكان و..... المساحة
- ٤ يتركز السكان في الوطن العربي في السهول ... الفيضية و الساحلية .
- ٥ يمثل سكان مصر نحو ربع سكان الوطن العربي.
- ٦ يحتل الوطن العربي المرتبة ... الرابعة ... عالمياً من حيث عدد السكان.
- ٧ يندر السكان في المناطق الصحراوية في الوطن العربي مثل ... صحراء الربع الخالي .. في الجناح العربي الآسيوي

٢

- (قطر - ثلاث - المدن - البطالة - كبار السن - الهرم السكاني - صغار السن - جزر القمر - خمسة)
- ١ يوضح الهرم السكاني التركيب العمري والتركيب النوعي للسكان.
- ٢ سجلت دولة ... قطر ... أعلى متوسط متوقع في الوطن العربي.
- ٣ يرتبط ارتفاع معدلات البطالة في الوطن العربي بالهجرة إلى المدن
- ٤ تسجل كل من فلسطين والأردن أعلى معدلات ... البطالة ... الوطن العربي.
- ٥ أعلى الدول العربية في معدل الأمية موريتانيا و جزر القمر
- ٦ الفئة العاملة بالوطن العربي تعول كلاً من كبار السن و صغار السن
- ٧ يقسم الهرم السكاني للوطن العربي إلى ثلاث فئات رئيسية.



٣

(وأد - المرأة العربية - الألكسو - العليا - السيدة خديجة - أسماء بنت أبي بكر - الوسطي - الأسواق)

- ١ المنظمة التي تختار عاصمة السياحة العربية هي منظمة الألكسو
- ٢ ساندت الرسول (صلى الله عليه وسلم) بمالها وجهدها لنشرة الدعوة الإسلامية.... السيدة خديجة
- ٣ ينتمي قادة الجند في عصر الدولة الإسلامية للطبقة العليا.....
- ٤ تولت السيدة الشفاء العدوية الإشراف على الأسواق في عهد الخليفة عمر بن الخطاب.
- ٥ اختار الرسول السيدة ... أسماء بنت أبي بكر لتساعده في الهجرة من مكة إلى يثرب.
- ٦ منظمة تعمل على نشر الوعي بقضايا المرأة العربية هي منظمة المرأة العربية.....
- ٧ حرم الإسلام عادة وأد البنات.

اكتب ما تشير إليه العبارات التالية

السؤال الرابع

معدل النمو السكاني

معد المواليد

معدل الوفيات

الكثافة السكانية

مصر

الهرم السكاني

التعداد السكاني

الصحراء الكبرى

جزر القمر

فئة صغار السن

فئة كبار السن

الطبقة الخاصة

منظمة المرأة العربية

المجلس القومي لحقوق المرأة

بيت المقدس

وأد البنات

رفيدة الأسلمية

عمرو بن العاص

أسماء بنت أبي بكر

عمر بن الخطاب

- ١ نسبة الزيادة في السكان خلال فترة زمنية نتيجة للمواليد والوفيات والهجرة.
- ٢ نسبة المواليد إلى إجمالي السكان في عام معين.
- ٣ نسبة الوفيات إلى إجمالي السكان في عام معين.
- ٤ النسبة بين عدد السكان والمساحة الكلية.
- ٥ دولة تحتل المرتبة الأولى عربياً من حيث عدد السكان.
- ٦ رسم بياني يوضح خصائص السكان من حيث التركيب النوعي والتركيب العمري من أدوات جمع البيانات الإحصائية حول عدد السكان وتوزيعهم وتركيبهم.
- ٧ منطقة صحراوية نادرة السكان في الجناح العربي الإفريقي.
- ٨ أقل الدول العربية من حيث عدد السكان.
- ٩ إحدى فئات الهرم السكاني وتحتاج إلى رعاية صحية وتعليمية.
- ١٠ فئة تحتل قمة الهرم السكاني للوطن العربي.
- ١٢ طبقة اجتماعية ينتمي إليها العلماء في عصر الدولة الإسلامية.
- ١٣ منظمة تابعة لجامعة الدول العربية تهتم بشئون المرأة العربية.
- ١٤ مؤسسة مصرية تسعى إلى دعم حقوق المرأة المصرية.
- ١٥ مدينة أعطى عمر بن الخطاب أهلها الأمان لأنفسهم وأموالهم وكنائسهم.
- ١٦ عادة جاهلية اتبعها الهرب قبل الإسلام تعد إحدى صور التمييز العنصري ضد المرأة.
- ١٧ عملت بالتمريض لتقديم الرعاية الطبية للمرضى والجرحى في الغزوات.
- ١٨ القائد المسلم الذي فتح بلاد الشام وعقد مع أهلها صلحاً أكد فيه ألا تهدم كنيسة كانت تحمل الطعام والشراب للرسول أثناء هجرته من مكة إلى المدينة.
- ٢٠ كلف السيدة سمراء الأسيدي بالإشراف على الأسواق ومراقبة التجار والعمال.



الرسول صلى الله عليه

وسلم

عمر بن الخطاب

خالد بن الوليد

الخلافة

الألكسو

فئة سن العمل

التركيب العمري

التركيب النوعي

جزر القمر

العراق

٢١ كان إذا بعث جيشاً أو سرية أوصاهم بالرفق والتسامح والرحمة بالنساء والضعفاء.

٢٢ أعطى أهل بيت المقدس الأمان على أنفسهم وأموالهم وكنائسهم.

٢٣ عقد صلحاً مع أهل الشام ألا تهدم كنائسهم.

٢٤ يمثل رأس الهرم الاجتماعي في الطبقة العليا في الدولة الإسلامية.

٢٥ المنظمة العربية للتربية والعلوم والثقافة.

٢٦ الفئة العمرية التي تبلغ نسبتها نحو 63% من جملة السكان.

٢٧ تقسيم السكان على حسب العمر.

٢٨ تقسيم السكان حسب نوعهم إلى ذكور وإناث.

٢٩ أقل دولة عربية من حيث عدد السكان.

٣٠ رابع دولة عربية من حيث عدد السكان.

اجب عن الاسئلة الاتية

السؤال الخامس

١ بم تفسر ارتفاع معدل نمو السكان في الوطن العربي ؟

بسبب تحسن المستوى الصحي والمستوى المعيشي في الدول العربية - ارتفاع معدلات المواليد وانخفاض معدلات الوفيات - الهجرة الخارجية وخاصة إلى دول الخليج العربي.

٢ فسر : تركز السكان على السهول الساحلية في بلاد الشام ؟

بسبب اعتدال المناخ

٣ بم تفسر : ارتفاع نسبة الذكور عن الإناث في بعض الدول العربية ؟

بسبب هجرة الذكور بحثاً عن فرص عمل

٤ ما النتائج المترتبة على : ارتفاع معدلات الهجرة من الريف إلى المدن في الوطن العربي ؟

زيادة نسبة سكان الحضر - ازدحام المدن والضغط على الخدمات العامة - انتشار العشوائيات - ارتفاع مستويات التلوث - ارتفاع معدلات البطالة.

٥ ما النتائج المترتبة على : قلة السكان وزيادة الموارد في بعض الدول العربية ؟

ترتب على ذلك حدوث المشكلة السكانية.

٦ ما النتائج المترتبة على : توفير الخدمات الصحية في الوطن العربي ؟

أدى ذلك إلى : انخفاض وفيات الأطفال - تحسين مستوى صحة المرأة العربية - ارتفاع متوسط العمر المتوقع للمواطن العربي من 64 عام إلى 72 عام.

٧ برهن على صحة العبارة التالية : تختلف الكثافة السكانية في الوطن العربي من دولة لأخرى

حيث تختلف على حسب مساحة كل دولة وعدد سكانها.

٨ بم تفسر وجود مشكلة سكانية في مصر وسوريا.

بسبب أن عدد السكان أكبر من الموارد المتاحة



- ٩ دلت على صحة العبارة التالية : دور المرأة البارز في الدولة الإسلامية.
- ١٠ السيدة خديجة أول من أسلمت من النساء وساهمت بأموالها وشاركت بأرائها في نشر الدعوة الإسلامية – السيدة أسماء بنت أبي بكر الصديق ساهمت في نجاح خطة الرسول من مكة إلى المدينة. ما النتائج المترتبة على : وجود نقص في عدد السكان في دولتي الإمارات والبحرين.
- ١١ حدوث مشكلة سكانية واستقبال عدد من الوافدين لاستثمارها في الموارد اثبت صحة العبارة التالية : تأخذ المشكلة السكانية في الوطن العربي وجهين مختلفين.
- ١٢ حيث توجد دول لديها زيادة سكانية وموارد محدودة ودول أخرى يقل فيها عدد السكان وتزيد فيها الموارد ماذا يحدث إذا حدث توازن بين عدد سكان الوطن العربي وموارده.
- ١٣ لم تحدث مشكلة سكانية بالوطن العربي دلت على صحة العبارة التالية : تبذل الدول العربية جهوداً عديدة لمواجهة المشكلات السكانية.
- ١٤ الدول التي تعاني من زيادة سكانية ومحدودية الموارد تتجه إلى وضع برامج تنموية لمواجهة هذه المشكلة – والدول التي تعاني من قلة السكان وزيادة في الموارد تجعلها تستقبل أعداداً من الوافدين لاستثمارها مواردها. ما العلاقة بين : سكان الوطن العربي – السهول الساحلية لبلاد الشام.
- ١٥ تعد سواحل الشام من مناطق تركيز السكان لاعتدال مناخها ووفرة المياه العذبة بها. دلت على صحة العبارة التالية : تعد مصر أولى الدول العربية من حيث عدد السكان.
- ١٦ حيث بلغ عدد سكانها نحو 106 مليون نسمة وفق تقديرات 2023م وهو ما يمثل ربع سكان الوطن العربي ما المخاطر التي تواجه الأسرة العربية في الوطن العربي ؟
- ١٧ تواجه مخاطر الحمل والولادة للأم والطفل – والمخاطر التي تهدد الشباب مثل الأمية والبطالة بم تفسر الهرم السكاني للوطن العربي ذو قاعدة عريضة ؟
- ١٨ بسبب ارتفاع نسبة صغار السن التي بلغت نحو 32.5 % من جملة سكان الوطن العربي. ما النتائج المترتبة على : هجرة سكان دول شرق آسيا وإفريقيا إلى دول الخليج العربي ؟
- ١٩ زيادة عدد السكان الذكور في سن العمل بدول الخليج العربي وضح جهود الدول العربية لمواجهة زيادة هجرة السكان إلى المدن .
- ٢٠ زيادة التنمية الشاملة – إنشاء مدن جديدة – تطوير البنية التحتية الحضارية دلت على ارتفاع نسبة الأمية في موريتانيا وجزر القمر عن باقي الدول العربية.
- ٢١ بلغ معدل الأمية في دول الوطن العربي نحو 25% عام 2020م، ولكنه يزيد عن 40% في باقي موريتانيا و جزر القمر. دلت على صحة العبارة التالية : يتشابه الهرم السكاني للوطن العربي مع الهرم السكاني لمصر ؟
- ٢٢ حيث أن كلا من الهرمين ذو قاعدة عريضة بم تفسر وجود مشكلة الأمية في الوطن العربي ؟
- ٢٣ بسبب عدم قيد كل الأطفال بالتعليم الابتدائي بالإضافة إلى التسرب من التعليم بم تفسر الفئة التي تتوسط الهرم السكاني هي الفئة المنتجة.
- لأنها الفئة التي تعول كبار السن وصغار السن.



٢٤ دلل : تعددت طبقات المجتمع الإسلامي في عصر الدولة الإسلامية.

حيث يوجد عدة طبقات :

الطبقة العليا : تضم الخلفاء والأمراء والوزراء وقادة الجند.

الطبقة الخاصة : تضم العلماء والتجار وكبار الأدباء.

الطبقة الوسطى : تضم أصحاب الأملاك ورؤساء الحرف وكبار العمال.

الطبقة العامة : تضم باقى أبناء المجتمع من صغار العمال والتجار والمزارعين.

٢٥ دلل على صحة العبارة التالية : كفل الإسلام للمرأة جميع حقوقها

أعطى الإسلام الحق للمرأة في : الميراث و التملك و إدارة أموالها - الإشراف علي مختلف شئونها- أوصى بالتعامل معها بالمودة و الرحمة.

٢٦ ماذا يحدث إذا لم يتم إنشاء منظمة المرأة العربية ؟

عدم نشر الوعي بقضايا المرأة العربية في مختلف المجالات و عدم تعزيز التعاون العربي المشترك في مجال تحسين وضع المرأة و تدعيم دورها في المجتمع.

٢٧ قارن بين مكانة المرأة في المجتمع العربي قبل ظهور الإسلام وبعده.

قبل الإسلام لم يكن للمرأة الحق في الميراث أو التملك كمان انتشرت عادة وأد البنات - : لكن عندما ظهر الإسلام حرم هذه الأفعال وأصبح لها الحق في الميراث والتملك وغيره ...

٢٨ ما العلاقة بين المرأة وجامعة الدول العربية ؟

أسست جامعة الدول العربية منظمة المرأة العربية التي تهتم بحقوق المرأة العربية و تنشر الوعي بقضاياها.

٢٩ بم تفسر : الاحتفال بيوم 27 فبراير من كل عام باليوم العربي للتراث الثقافي العربي ؟

للتوعية بأهمية التراث الثقافي العربي ودوره في بناء الحضارة. - التشجيع على الإبداع من أجل تحقيق التنمية المستدامة. - تحقيق التواصل بين الأجيال.

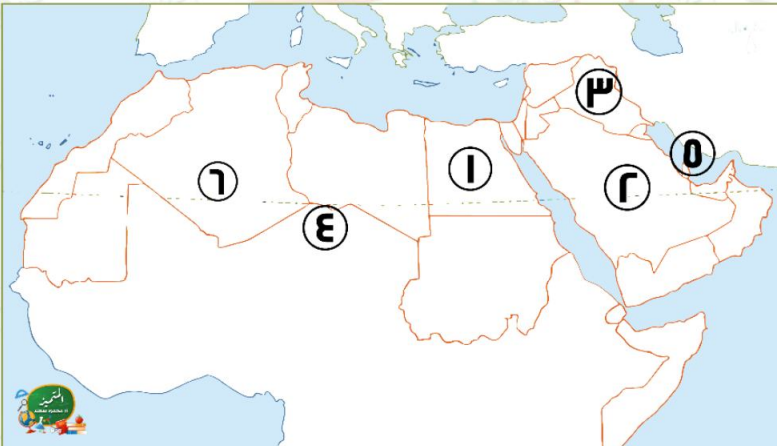
٣٠ بم تفسر : للتراث الثقافي العربي أهمية اقتصادية كبرى للدول العربية .

لأنه مصدر لتنشيط السياحة

لاحظ الخريطة ثم أجب

السؤال السادس

١



١ دولة تعاني من قلة الموارد وزيادة عدد السكان

..... مصر

٢ دولة مستقبله للهجرات الخارجية

..... السعودية

٣ رابع الدول العربية من حيث عدد السكان

..... العراق

٤ منطقة يندر بها تركيز السكان

..... الصحراء الكبرى

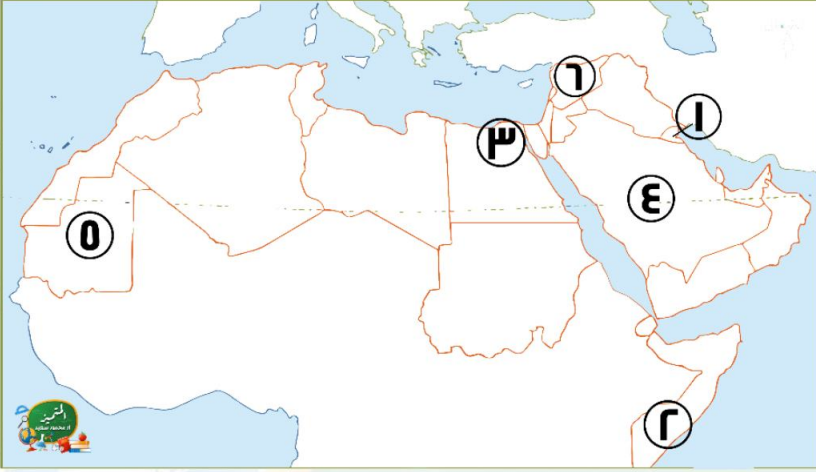
٥ الخليج

٦ ثالث الدول العربية من حيث عدد السكان

... الجزائر

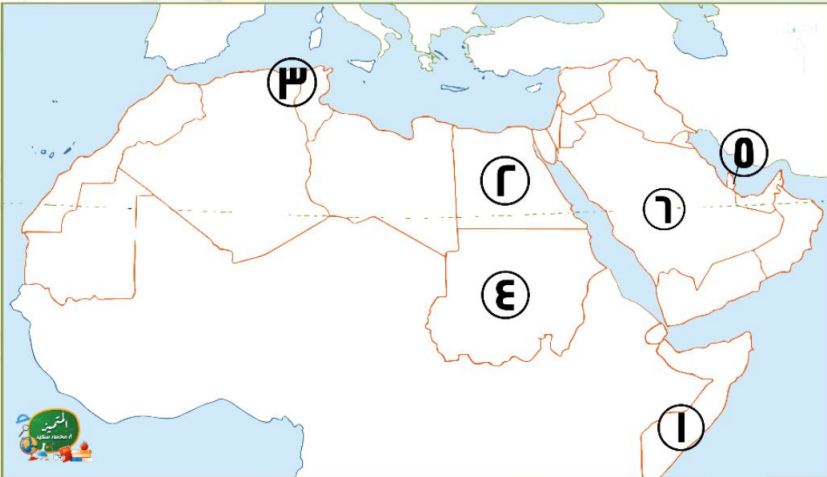


٢



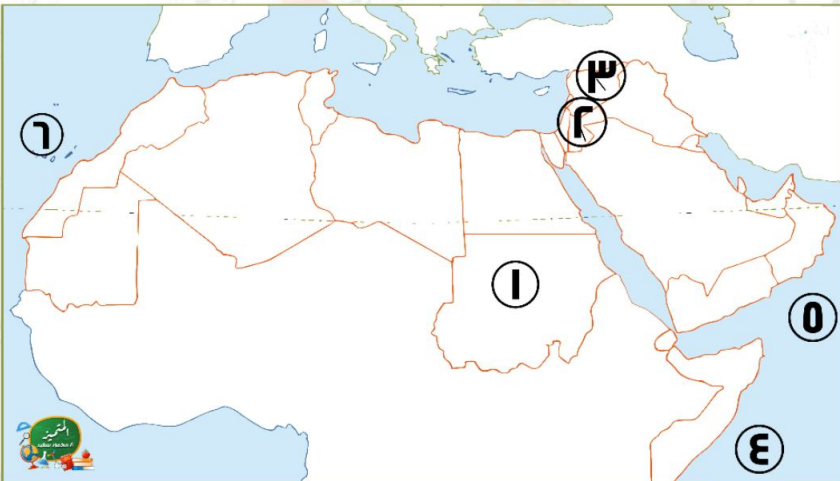
- ١ دولة حضرية..... الكويت
- ٢ أقل الدول العربية في متوسط العمر المتوقع الصومال
- ٣ منطقة تركز سكاني بمصر الدلتا.....
- ٤ منطقة ينذر بها تركيز السكان صحراء الربع الخالي.....
- ٥ دولة تزيد بها معدلات الأمية موريتانيا.....
- ٦ دولة يزيد بها عدد السكان عن الموارد المتاحة ... سوريا.....

٣



- ١ دولة تسجل أعلى معدلات البطالة الصومال
- ٢ أعلى الدول العربية سكاناً مصر
- ٣ سهول ساحلية.....
- ٤ دولة تقلل بها نسبة المقيدون بالتعليم الابتدائي السودان.....
- ٥ دولة تعاني من قلة السكان وزيادة الموارد قطر.....
- ٦ دولة تزيد بها معدل الذكور عن الإناث ... السعودية.....

٤



- ١ ثاني الدول العربية سكاناً السودان
- ٢ دولة سجلت أعلى معدلات البطالة 2021م الأردن
- ٣ إحدى دول مجموعة الهلال الخصيب سوريا.....
- ٤ أقل الدول العربية سكاناً جزر القمر.....
- ٥ البحر العربي.....
- ٦ المحيط ... الاطلنطي.....

انتهت الأسئلة مع أطيب الامنيات بالنجاح

