



وزارة التربية والتعليم
الإدارة المركزية لتطوير المناهج
مكتب مستشار الرياضيات

برعاية معالي وزير التربية والتعليم

السيد الأسناذ / محمد عبد اللطيف

ونوجيهات مساعد الوزير لشئون تطوير المناهج التعليمية
والمشرف علي الإدارة المركزية لتطوير المناهج

د / أكرم حسن

إشراف علمي
مستشار الرياضيات

أ / منال عرزول

إداءات و تقييمات لمنهج الرياضيات

للفص الثاني الابتدائي

للعام الدراسي 2024 / 2025

لجنة الإعداد

أ / فردوس محي

لجنة المراجعة

أ / إسلام يسري

أ / محمد مغيرة

الصف الثاني – الفصل الدراسي الثاني – الأسبوع الأول – (الأداء الصفّي)

أجب على الأسئلة التالية:

(١) اكتب قيمة الورقة النقدية مقابل صورتها:

القيمة	الورقة النقدية
.....	

(٢) اكتب المبلغ الذي يتكون من العملات النقدية الموضحة ثم حوّل الورقة النقدية التي تساويه:

المبلغ	العملات النقدية
.....	
(٢)	
(١)	

(٣) استخدم أوراق النقدية لتكوين فئات نقدية لإجمالي المبلغ الموضح. ارسم فئات الأوراق النقدية التي استخدمتها لشراء الشيء المقابل:



(٤) قارن بين العملات باستخدام ($<$ أو $>$ أو $=$):



(٥) حوِّط حول الإجابة الصحيحة:



(ج) ٥٠ جنيهًا




(ب) ١٠ جنيهات

(٢) ٥ جنيهات

(١) اكتب قيمة الورقة النقدية مقابل صورتها:

القيمة	الورقة النقدية
<p>.....</p>	

(٢) اكتب المبلغ الذي يتكون من العملات النقدية الموضحة ثم حوّل الورقة النقدية التي تساويه:

المبلغ	العملات النقدية
<p>.....</p> <p>(أ)</p>  <p>(ب)</p> 	

(٣) استخدم أوراقك النقدية لتكوين فئات نقدية لإجمالي المبلغ الموضح. ارسم فئات الأوراق النقدية التي استخدمتها لشراء الشيء المقابل:



(٤) قارن بين العملات باستخدام ($<$ أو $>$ أو $=$):



(٥) حوِّط حول الإجابة الصحيحة:



(ج) ١٠٠ جنيهاً

(ب) ١٠ جنيهاً

(د) ٢٠٠ جنيهاً