



وزارة التربية والتعليم
الإدارة المركزية لتطوير المناهج
مكتب مستشار الرياضيات

برعاية معالي وزير التربية والتعليم

السيد الأسناذ / محمد عبد اللطيف

ونوجيهات مساعد الوزير لشئون تطوير المناهج التعليمية
والمشرف علي الإدارة المركزية لتطوير المناهج

د / أكرم حسن

إشراف علمي
مستشار الرياضيات

أ / منال عزقول

إدعاءات ونقييمات لمنهج الرياضيات

للصف الثاني الابتدائي
للعام الدراسي 2024 / 2025
إعداد

أ / فردوس محي

مراجعة

أ / إسلام يسري

أ / عماد حسن عمر

ترجمة

أ / صباح عبد الواحد

مراجعة الترجمة



أ / محمود سليمان نظيم

الصف الثاني – الفصل الدراسي الثاني – الأسبوع الأول – (الأداء الصفي)

1- Write the amount of each banknote:

Banknote	The amount
	<p>.....</p>

2- Write the amount of the following banknotes, then circle the banknote witch equal that:

Banknotse	The amount
	<p>.....</p> <p>A </p> <p>B </p>

3- Draw the combination of banknotes you used to buy the item:



4- Compare with using ($>$, $<$ or $=$):



5- circle the correct answer :



A 50 L.E




B 5 L.E

C 10 L.E

6- Write the amount of each banknote:

Banknote	The amount
	<p>.....</p>

7- Write the amount of the following banknotes, then circle the banknote witch equal that:

Banknotse	The amount
	<p>.....</p> <p>A</p>  <p>B</p> 

8- Draw the combination of banknotes you used to buy the item:



9- Compare with using ($>$, $<$ or $=$):





10 - circle the correct answer :



A 200 L.E

B 10 L.E

C 100L.E

