



وزارة التربية والتعليم  
الإدارة المركزية لتطوير المناهج  
مكتب مستشار الرياضيات

برعاية معالي وزير التربية والتعليم

السيد الأسناذ / محمد عبد اللطيف

ونوجيهات مساعد الوزير لشئون تطوير المناهج التعليمية  
والمشرف علي الإدارة المركزية لتطوير المناهج

د / أكرم حسن

إشراف علمي  
مستشار الرياضيات

أ / منال عزقول

إدعاءات ونقييمات لمنهج الرياضيات

للفص الثاني الابتدائي  
للعام الدراسي 2024 / 2025  
إعداد

أ / فردوس محي

مراجعة

أ / إسلام يسري

أ / عماد حسن عمر

ترجمة

أ / صباح عبد الواحد

مراجعة الترجمة




أ / محمود سليمان نظيم

**الصف الثاني – الفصل الدراسي الثاني – الأسبوع الأول – (الأداء المنزلي)**

**1- Write the amount of each banknote:**

Banknote	The amount
	<p>.....</p>

**2- Write the amount of the following banknotes, then circle the banknote witch equal that:**

Banknotse	The amount
	<p>.....</p> <p><b>A</b></p>  <p><b>B</b></p> 

**3- Draw the combination of banknotes you used to buy the item:**

<p><b>Video game</b> <b>724 L.E</b></p> 	
---	--

**4- Compare with using ( $>$ ,  $<$  or  $=$ ):**



**5- circle the correct answer :**



**A 45 L.E**

**B 50 L.E**


**C 15 L.E**




**6- Write the amount of each banknote:**

Banknote	The amount
	<p>.....</p>

**7- Write the amount of the following banknotes, then circle the banknote witch equal that:**

Banknotse	The amount
	<p>.....</p> <p><b>A</b></p>  <p><b>B</b></p> 

**8- Draw the combination of banknotes you used to buy the item:**

<p>A toy 45 L.E</p> 	
---	--

**9- Compare with using ( $>$ ,  $<$  or  $=$ ):**



**10 - circle the correct answer :**



**A 10 L.E**

**B 20 L.E**

**C 15 L.E**