



وزارة التربية والتعليم
الإدارة المركزية لتطوير المناهج
مكتب مستشار الرياضيات

برعاية معالي وزير التربية والتعليم

السيد الأسناذ / محمد عبد اللطيف

ونوجيهات مساعد الوزير لشئون تطوير المناهج التعليمية
والمشرف علي الإدارة المركزية لتطوير المناهج

د / أكرم حسن

إشراف علمي

مستشار الرياضيات

أ / منال عرزول

إدعاءات ونقييمات لمنهج الرياضيات

للسف الأول الابتدائي

للعام الدراسي 2024 / 2025

إعداد

أ / صباح عبد الواحد

مراجعة

أ / محمد مغيرة

أ / إسلام يسري

الرياضيات - الصف الأول - الأسبوع الثاني - (أداء صفى) - ترم ٢

١- أين القطة ؟ أختار الاجابة الصحيحة .



أعلى الكرسي	أسفل الكرسي
-------------	-------------

استهوية منظر القرية

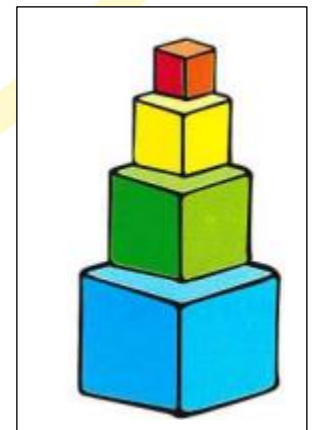
٢- أين القطة ؟ أختار الاجابة الصحيحة .



داخل الصندوق	خارج الصندوق
--------------	--------------

٣- أكمل :

الصندوق أعلى الصندوق الازرق .
الصندوق أسفل الصندوق الأصفر .




٤- أستخدم الصورة في حل ما يأتي :

..... على شمال أشرف .
..... على يمين أشرف






٥- وصل .

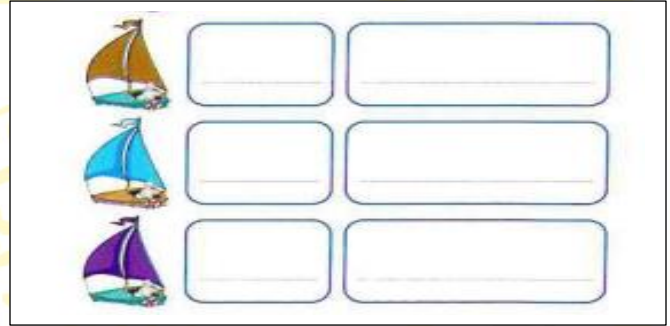



الثاني الرابع الاول الثالث الخامس

٦- حوط العنصر الذى يطابق الترتيب المعطى ، ابدأ بالصف :

الثالث	→	
السادس	→	
الخامس	→	


٧- أكمل بكتابة الترتيب :



٨- أكمل :

• أول ، ، ثالث ، رابع ، ، ، ، ،

٩- ضع (< أو > أو =) .



١٠- أختار الإجابة الصحيحة.

