



وزارة التربية والتعليم
الإدارة المركزية لتطوير المناهج
مكتب مستشار الرياضيات

برعاية معالي وزير التربية والتعليم

السيد الأسناذ / محمد عبد اللطيف

ونوجيهات مساعد الوزير لشئون تطوير المناهج التعليمية
والمشرف علي الإدارة المركزية لتطوير المناهج

د / أكرم حسن

إشراف علمي

مستشار الرياضيات

أ / منال عرزول

إدعاءات ونقييمات لمنهج الرياضيات

للسف الأول الابتدائي

للعام الدراسي 2024 / 2025

إعداد

أ / صباح عبد الواحد



مراجعة

أ / محمد مغيرة



أ / إسلام يسري

الرياضيات - الصف الأول - الأسبوع الأول - (أداء منزلي) - ترم ٢


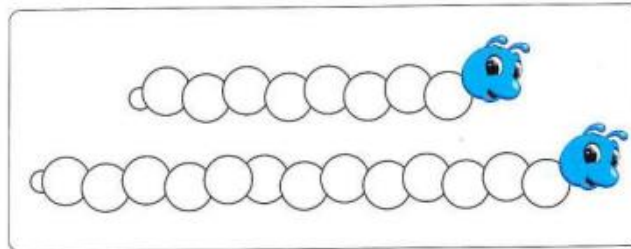
١- ضع دائرة حول الشيء الأطول:




٢- ضع دائرة حول الشيء الأقصر:




٣- لون الأقصر باللون الأخضر والاطول باللون الأحمر:



٤- ضع دائرة حول الأشياء التي لها نفس الطول :



٥- رتب من الاقصر الى الاطول:



٦- رتب من الاطول الى الاقصر:

ج				
---	--	--	--	--



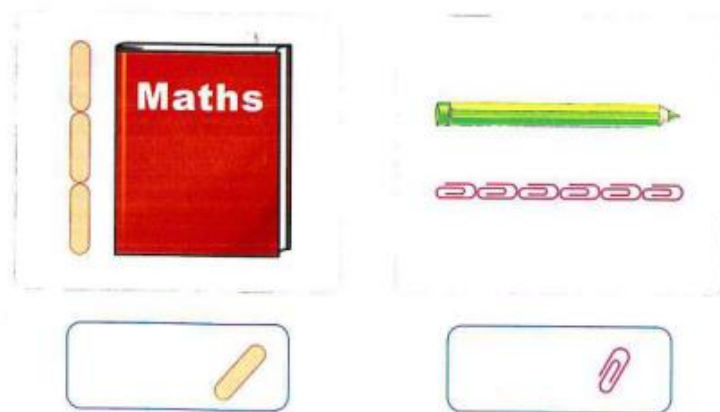
٧- من هو ؟

• من هو الأطول ؟ * من هو الأقصر ؟

• من هو أقصر من نادى ؟ * من هو أطول من هانى ؟



٨- أوجد قياس طول الأشياء التالية :



٩- أوجد قياس طول الأشياء التالية :

	
 <p>الطول هو</p>	 <p>الطول هو</p>

١٠- أوجد قياس طول الأشياء التالية :

