



وزارة التربية والتعليم  
الإدارة المركزية لتطوير المناهج  
مكتب مستشار الرياضيات

**برعاية معالي وزير التربية والتعليم**

**السيد الأسناذ / محمد عبد اللطيف**

ونوجيهات مساعد الوزير لشئون تطوير المناهج التعليمية  
والمشرف علي الإدارة المركزية لتطوير المناهج

**د / أكرم حسن**

إشراف علمي  
مستشار الرياضيات

**أ / منال عرزول**

**إداءات و تقييمات لمنهج الرياضيات**

للفص الأول الابتدائي

للعام الدراسي 2024 / 2025

إعداد

**أ / صباح عبد الواحد**

مراجعة

**أ / محمد مغيرة**

**أ / إسلام يسري**

الرياضيات - الصف الأول — الاسبوع الثاني- ( أداء منزلي)- ترم ٢

١- أين القطة ؟ أختار الاجابة الصحيحة .



خلف المنزل	أمام المنزل
------------	-------------

٢- أين القطة ؟ أختار الاجابة الصحيحة .



فوق الصندوق	تحت الصندوق
-------------	-------------

٣- استخدم الصورة وأكتب (✓) أمام العبارة الصحيحة و (x) أمام العبارة الخاطئة.



( )



على يسار



( )



على يمين

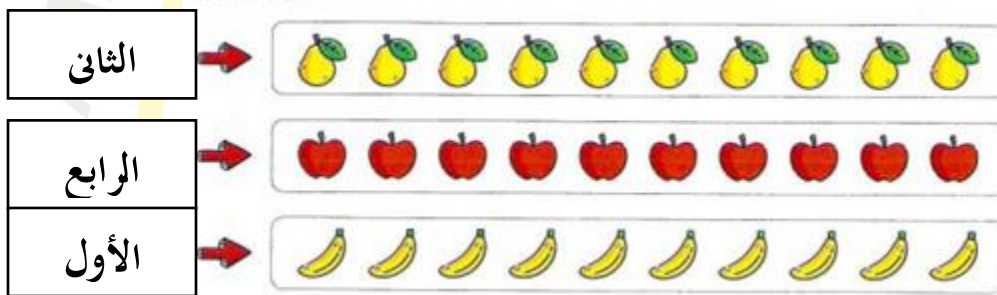


٤ - وصل .

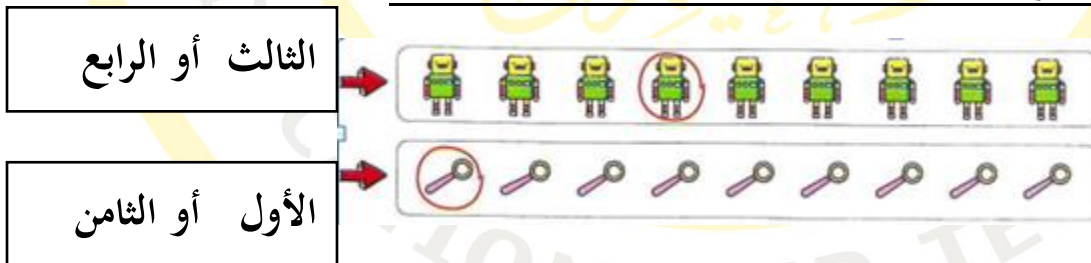


الثاني      الأول      الرابع      الخامس      الثالث

٥- حوِّط العنصر الذي يطابق الترتيب المعطى ، ابدأ بالصف :




٦- حوِّط الكلمة التي تناسب مع ترتيب الصورة المحاطة بدائرة ، ابدأ بالصف .




٧- أكمل :

• أول ، ..... ، ثالث ، رابع ، ..... ، ..... ، ..... ، ..... ، ..... ، .....

٨- أكتب قيمة الأوراق المالية التالية :



٩- ضع (< ، > أو =) .



١٠- أختار الاجابة الصحيحة .

