



وزارة التربية والتعليم
الإدارة المركزية لتطوير المناهج
مكتب مستشار الرياضيات

برعاية معالي وزير التربية والتعليم

السيد الأسناذ / محمد عبد اللطيف

ونوجيهات مساعد الوزير لشئون تطوير المناهج التعليمية
والمشرف علي الإدارة المركزية لتطوير المناهج

د / أكرم حسن

إشراف علمي
مستشار الرياضيات

أ / منال عزقول

إدعاءات ونقييمات لمنهج الرياضيات

للفص الأول الابتدائي
للعام الدراسي 2024 / 2025
إعداد

أ / صباح عبد الواحد
مراجعة

أ / فردوس محي

أ / إسلام يسري

ترجمة

أ / صباح عبد الواحد
مراجعة الترجمة

أ / محمود سليمان نظيم



الرياضيات - الصف الأول — الاسبوع الثاني- (أداء صفى)- ترم 2

-1

Where is the cat ? Choose the correct answer.



Above the chair | Below the chair

2-


Where is the cat ? Choose the correct answer.



Outside the box | Inside the box


3- Complete:

- _____ cube is above blue cube.
- _____ cube is below yellow cube.

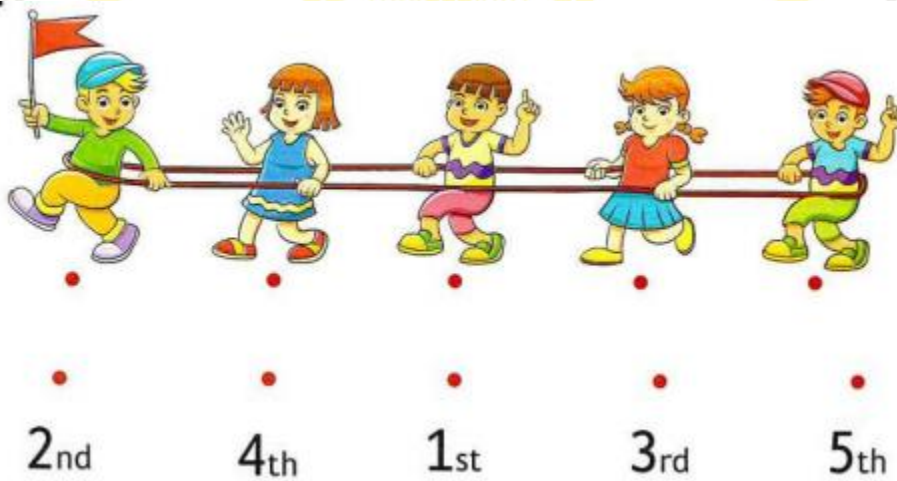


4- Use the picture to answer the following:

- is on the left of Ashraf.
- is on the right of Ashraf.



5- Connect:

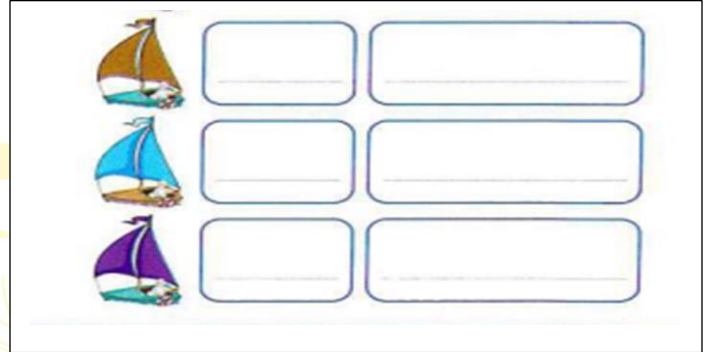



6-

Circle the item which matches the given position, start from the arrow.

- Third →
- Sixth →
- Fifth →


7- Complete:



8- Complete:

○ First, _____, third, fourth, _____, _____, _____, _____

9- Put (> or < or =):



10- Choose the correct answer:



=