



وزارة التربية والتعليم
الإدارة المركزية لتطوير المناهج
مكتب مستشار الرياضيات

برعاية معالي وزير التربية والتعليم

السيد الأسناذ / محمد عبد اللطيف

ونوجيهات مساعد الوزير لشئون تطوير المناهج التعليمية
والمشرف علي الإدارة المركزية لتطوير المناهج

د / أكرم حسن

إشراف علمي
مستشار الرياضيات

أ / منال عزقول

إدعاءات ونقييمات لمنهج الرياضيات

للفص الأول الابتدائي
للعام الدراسي 2024 / 2025
إعداد

أ / صباح عبد الواحد
مراجعة

أ / فردوس محي



أ / إسلام يسري

ترجمة



أ / صباح عبد الواحد
مراجعة الترجمة
أ / محمود سليمان نظيم

الرياضيات - الصف الأول — الاسبوع الأول- (أداء منزلي)- ترم 2


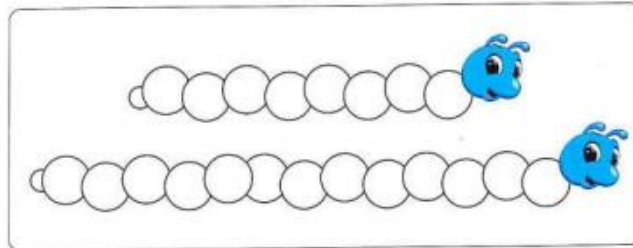
1-Circle the object that is longer:




2- Color the object that is shorter:




3- Color the shorter in green and the longer in red :



4- Circle the two object that have the same length:



5- Arrange from the shortest to the tallest:




6- Arrange from the shortest to the tallest:

D

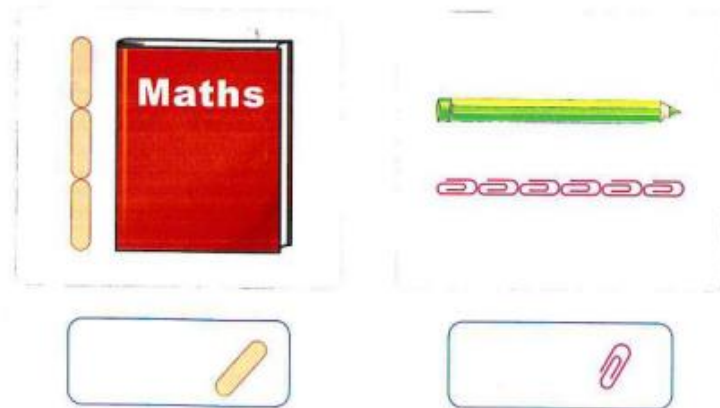


7- Who is:





- Who is the tallest ?
- Who is the shortest ?
- Who is shorter than Nady ?
- Who is taller than Hany ?




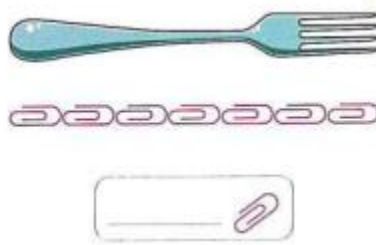
8- Measure the lengths of each object:



9- Measure the lengths of each object:

	
The length is _____ 	The length is _____ 

10- Measure the lengths of each object:

	
---	--