



أشهر وأحب كتب تعليمية ، وأوسعها انتشاراً

سلاح التلميز

منذ عام ١٩٦٠



2025

4

الصف الرابع الابتدائي
الفصل الدراسي الثاني



الدراسات الاجتماعية

ملحق الاختبارات النهائية الإضافية وإجاباتها
طبقاً لأحدث مواصفة للورقة الامتحانية

نماذج الامتحانات النهائية

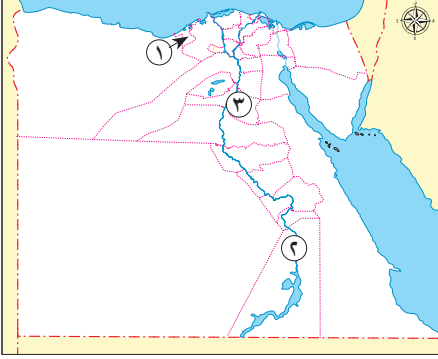
على الفصل الدراسي الثاني

معدلة طبقاً لأحدث مواصفات الورقة الامتحانية للمرحلة الابتدائية في مادة الدراسات الاجتماعية ٢٠٢٥م

٣٠

نموذج الامتحان الأول

السؤال الأول أ) لاحظ خريطة مصر المقابلة، ثم أجب:



- ١) إحدى محافظات الحضر.....
- ٢) محافظة بها متحف النوبة.....
- ٣) صواب أم خطأ: يشير رقم (٣) إلى محافظة بها مجمع الأديان. ()

ب بم تفسر...؟

- ١) تُعد محافظة القاهرة أعلى محافظات مصر سكاناً.
- ٢) تعرّض معبدي أبو سمبل للغرق.

السؤال الثاني أ) اختر الإجابة الصحيحة مما بين القوسين:

- ١) الأثر الذي يعود لعهد الاحتلال الروماني لمصر..... (طريق الكباش - المتحف القومي للحضارة - حصن بابليون - مسجد أحمد بن طولون)
- ٢) أرخص وسائل النقل ويفضل استخدامه في نقل البضائع ثقيلة الوزن..... (النقل المائي - النقل البري - النقل الجوي - مترو الأنفاق)

ب ما النتائج المترتبة على ما يلي...؟

- ١) مشكلة الأمية بالنسبة للفرد والمجتمع.....
- ٢) الالتزام بقواعد وآداب المرور.....

السؤال الثالث أ) أكمل العبارات التالية بما يناسبها من كلمات:

- ١) رؤساء الإدارات في مصر قديماً يمثلهم حالياً.....
- ٢) يقع تمثال أبو الهول في محافظة.....
- ٣) يمكن استخراج شهادة ميلاد إلكترونية من خلال موقع.....

ب قارن بين كل مما يلي:

- ١) مهام رئيس الجمهورية، ومهام المحافظ.
- ٢) مشروع مترو الأنفاق ومشروع القطر الكهربائي السريع من حيث المدن التي يربطها كل منهما.

السؤال الرابع أ) صوب ما تحته خط فيما يلي:

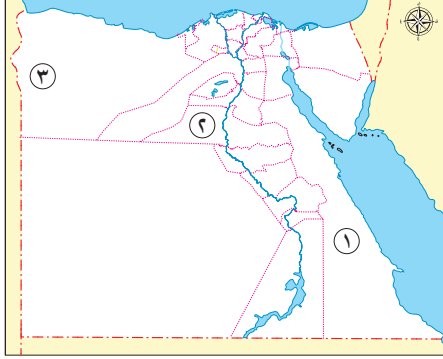
- يتم تنفيذ عمليات ترميم المناطق الأثرية بواسطة السياح. (.....)

ب دلل على صحة العبارات التالية:

- ١) حرص الدولة على حل مشكلات البدو.....
- ٢) اهتمام مصر بتنمية السياحة.....
- ٣) تبذل الدولة جهوداً كبيرة لتنظيم حركة المرور.....



نموذج الامتحان الثاني



السؤال الأول أ لاحظ خريطة مصر المقابلة، ثم أجب:

- ١ محافظة تقل بها نسبة الأمية
- ٢ صواب أم خطأ: يشير رقم (٢) إلى إحدى محافظات الحضر. ()
- ٣ واحة

ب ما النتائج المترتبة على...؟

- ١ زيادة عدد السائحين الوافدين إلى مصر.
- ٢ اهتمام الدولة بتطوير الموانئ البحرية.

السؤال الثاني أ اكتب كلمة (صواب) أمام العبارة الصحيحة، وكلمة (خطأ) أمام العبارة غير الصحيحة:

- ١ يُعد المعبد اليهودي من الأماكن الأثرية في منطقة مجمع الأديان. ()
- ٢ علامة الاتجاه الإجباري للمشاة هي علامة مرور تحذيرية. ()

ب بم تفسر...؟

- ١ تم بناء أهرامات الجيزة على هضبة مرتفعة غرب النيل
- ٢ أهمية العربات الحربية في مصر قديماً

السؤال الثالث أ اختر الإجابة الصحيحة مما بين القوسين:

- ١ أيُّ من المحافظات التالية تتميز بارتفاع مستوى المعيشة؟
(السويس - المنيا - سوهاج - أسوان)
- ٢ الجهاز المركزي للتعبئة العامة والإحصاء هيئة تابعة بشكل مباشر إلى
- ٣ أرسلت الملكة حتشبسوت رحلات تجارية لجلب البخور من بلاد

ب دُل على صحة ما يلي:

- ١ ساهمت اليونسكو في إنقاذ بعض الآثار المصرية
- ٢ نشطت التجارة في عهد الملك خوفو

السؤال الرابع أ أكمل العبارة التالية بما يناسبها:

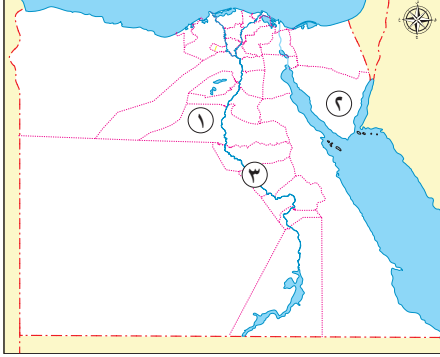
- عدم القدرة على القراءة أو الكتابة تسمى

ب ما العلاقة بين...؟

- ١ الأمية - فرص العمل
- ٢ الثورة الصناعية - وسائل النقل
- ٣ قائمة التراث العالمي لليونسكو - الدخل القومي للدول

نموذج الامتحان الثالث

٣٠



السؤال الأول

أ لاحظ خريطة مصر المقابلة، ثم أجب:

- ١ صواب أم خطأ: يشير رقم (١) إلى مدينة بها متحف هيئة السكك الحديدية . ()
- ٢ محافظة ينخفض بها عدد السكان
- ٣ يشتهر سكان المنطقة رقم (٣) بالعزف على آلة

ب قارن بين كل من:

- ١ التراث الطبيعي والتراث الثقافي من حيث التعريف.
- ٢ عادات وتقاليد كل من: بدو سيناء وبدو سيوة.

السؤال الثاني

أ أكمل ما يلي:

- ١ تم العثور على مراكب الملك خوفو في منطقة
- ٢ يُصنّف حضور مؤتمر المناخ بمدينة شرم الشيخ ضمن سياحة

ب بم تفسر...؟

- ١ أهمية وسائل الاتصال في عصور ما قبل التاريخ
- ٢ أهمية التعداد السكاني

السؤال الثالث

أ صوب ما تحته خط فيما يلي:

- ١ الإشراف على تنفيذ الخطة العامة للدولة من مهام المحاكم. (.....)
- ٢ تقع منطقة «أبو مينا» بجوار مدينة العلمين الجديدة. (.....)
- ٣ البضائع سريعة التلف تُنقل بشكل أفضل من خلال النقل النهرى. (.....)

ب دلل على صحة ما يلي:

- ١ يتشابه دور الوزير في مصر قديمًا مع دور رئيس الوزراء حاليًا
- ٢ اهتمام الدولة بالتراث الثقافي في صعيد مصر

السؤال الرابع

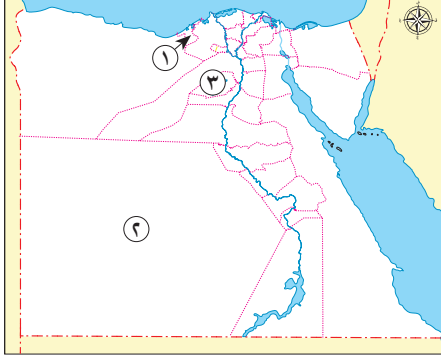
أ اختر الإجابة الصحيحة مما بين القوسين:

- يُشار إلى السلوكيات التي يجب تجنبها أثناء القيادة بعلامات (الإرشاد - التحذير - المنع - السرعة)

ب ما النتائج المترتبة على...؟

- ١ تنوع أنماط السكان في مصر
- ٢ وجود العديد من العيون الكبريتية في مصر
- ٣ الاستخدام السيئ للإنترنت

نموذج الامتحان الرابع



السؤال الأول

أ لاحظ خريطة مصر المقابلة، ثم أجب:

- ١ صواب أم خطأ: يشتهر سكان المحافظة رقم (١) بإنشاد السيرة الهلالية. ()
- ٢ محافظة تقل بها نسبة الأمية
- ٣ محافظة بها منطقة وادي الحيطان

ب أجب عما يلي:

- ١ دُلّ: نشأ فن التخطيط منذ عصر المصريين القدماء.
- ٢ فسر: أهمية السكك الحديدية في مصر.

السؤال الثاني

أ اكتب كلمة (صواب) أمام العبارة الصحيحة، وكلمة (خطأ) أمام العبارة غير الصحيحة:

- ١ كان لكل إقليم في مصر قديمًا حاكم يُعَيِّنُه الملك. ()
- ٢ ساهمت منظمة اليونسكو في إنقاذ معبد الدير البحري. ()

ب ما المقصود بكل مما يلي...؟

- ١ البعث والخلود
- ٢ علامات المرور الإلزامية

السؤال الثالث

أ صوب ما تحته خط فيما يلي:

- ١ العالم العربي الذي حاول الطيران قديمًا هو الحسن بن الهيثم.
- ٢ إحدى أبرز المدن التراثية في العالم مدينة شرم الشيخ.
- ٣ شاركت مصر في مؤتمر النقل المستدام بدولة الأرجنتين.

ب ما النتائج المترتبة على...؟

- ١ تنوع الأماكن السياحية والمواقع الأثرية في بلدنا
- ٢ الاستخدام الجيد لشبكة الإنترنت

السؤال الرابع

أ اختر الإجابة الصحيحة مما بين القوسين:

- مصدر الطاقة الذي استُخدم في أول سيارة دخلت مصر هو
- (البنزين - الكهرباء - البخار - السولار)

ب أجب عما يلي:

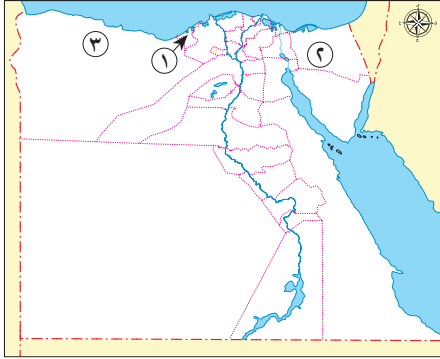
- ١ دُلّ: تتعدد طرق اختيار أعضاء مجلس النواب
- ٢ ما العلاقة بين: علامات المرور- حوادث الطريق؟
- ٣ اكتب مقترحاتك لتنمية السياحة في محافظتك



نموذج الامتحان الخامس

السؤال الأول

أ لاحظ خريطة مصر المقابلة، ثم أجب:



- ١ اختر: تنتشر السياحة الثقافية في المحافظة رقم (١) لوجود
- (منطقة الأهرامات - دار الأوبرا - شارع المعز - مكتبة الإسكندرية)
- ٢ صواب أم خطأ: يشير رقم (٢) إلى محافظة مزدهمة بالسكان. ()
- ٣ يشير رقم (٣) إلى محافظة

ب دلل على صحة ما يلي:

- ١ تختلف الخصائص التعليمية بين سكان الحضر والريف.
- ٢ تأثرت تصميم برج القاهرة بالحضارة المصرية القديمة.

السؤال الثاني

أ أكمل ما يلي:

- ١ يوجد متحف السيرة الهلالية في محافظة
- ٢ يقع ميناء سفاجا على البحر

ب أجب عما يلي:

- ١ ما العلاقة بين: بنك مصر - النقل الجوي؟
- ٢ ما مقترحاتك للقضاء على الأمية؟

السؤال الثالث

أ اكتب كلمة (صواب) أمام العبارة الصحيحة، وكلمة (خطأ) أمام العبارة غير الصحيحة:

- ١ يتولى رئيس الجمهورية منصبه عن طريق الانتخاب. ()
- ٢ إنشاء المزيد من الكباري يؤدي إلى زيادة الضغط المروري. ()
- ٣ يقع دير سانت كاترين عند سفح جبل العوينات. ()

ب ما النتائج المترتبة على...؟

- ١ اهتمام الملك بشئون الأقاليم في مصر قديماً
- ٢ بناء السد العالي بالنسبة لآثار النوبة

السؤال الرابع

أ اختر الإجابة الصحيحة مما بين القوسين:

- تنتشر سباقات الهجن بين سكان

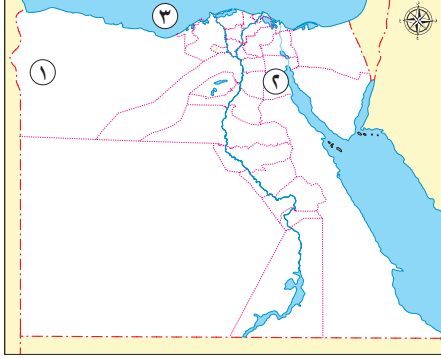
(صعيد مصر - سيناء - النوبة - مدن القناة)

ب بم تفسر...؟

- ١ تزايد أعداد سكان مصر باستمرار
- ٢ أهمية مشروع المونوريل المعلق
- ٣ تجنب استخدام ضوء (فلاش) الكاميرا بجانب القطع الأثرية

نموذج الامتحان السادس

السؤال الأول أ) لاحظ خريطة مصر المقابلة، ثم اكتب مدلول الأرقام التي عليها:



١) واحة

٢) محافظة حضرية

٣) البحر

ب بم تفسر...؟

١) تسمية الكنيسة المعلقة بهذا الاسم.

٢) يحتفل العالم يوم ١٨ أبريل من كل عام بيوم التراث العالمي.

السؤال الثاني أ) اكتب كلمة (صواب) أمام العبارة الصحيحة، وكلمة (خطأ) أمام العبارة غير الصحيحة:

١) يشتهر بدو سيناء بالأغاني المرتبطة بألة السمسامية. ()

٢) يمثل أعضاء مجلس النواب جميع فئات المجتمع المصري. ()

ب أجب عما يلي:

١) وضح المقصود بعلامات المرور الأرضية مع ذكر مثال عليها.

٢) ما النتائج المترتبة على: رحلات الملكة حتشبسوت إلى بلاد بونت؟

السؤال الثالث أ) أكمل العبارات التالية بما يناسبها من كلمات:

١) ترتفع نسبة الأمية بين الإناث أكثر من

٢) دخلت العربات الحربية إلى مصر مع غزو

٣) الملك الذي أمر بنحت تمثال أبو الهول هو

ب أجب عما يلي:

١) وضح شروط اليونسكو لاختيار مواقع التراث العالمي.

٢) ماذا يحدث إذا لم تهتم مصر بالتراث الثقافي؟

السؤال الرابع أ) اختر الإجابة الصحيحة مما بين القوسين:

- إحدى مبادرات الدولة لحل مشكلات سكان الريف هي

(حياة كريمة - اتحضر للأخضر - مستقبلنا رقمي - قادرون باختلاف)

ب دلل على صحة ما يلي:

١) تعددت محاولات الإنسان للتنقل عبر الجو

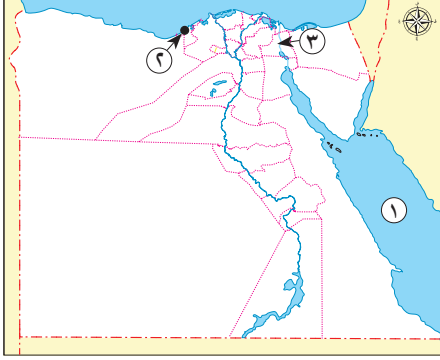
٢) تبذل مصر جهودًا كبيرة من أجل التحوّل الرقمي

٣) اهتمام مصر بسياحة المهرجانات والمؤتمرات

نموذج الامتحان السابع

٣٠

السؤال الأول أ) لاحظ خريطة مصر المقابلة، ثم اكتب مدلول الأرقام التي عليها:



- ١ البحر
- ٢ ميناء
- ٣ قناة

ب حدد كلاً من:

- ١ مهام الحكومة المصرية.
- ٢ جهود مصر لتحقيق الحياة الكريمة لكل مصري.

السؤال الثاني أ) اختر الإجابة الصحيحة مما بين القوسين:

- ١ منظمة تعاونت مع مصر لإنقاذ معبدي أبو سمبل من الغرق
(اليونيسيف - اليونيسكو - الفاو - الأوبك)
- ٢ يحتفل سكان واحة سيوة بحصاد التمور والزيتون في عيد
(الزراعة - الصناعة - التجارة - السياحة)

ب دلل على صحة ما يلي:

- ١ تُعد مصر من أقدم الدول التي وضعت نظاماً للحكم
- ٢ تدعم مصر السياحة المستدامة

السؤال الثالث أ) اكتب كلمة (صواب) أمام العبارة الصحيحة، وكلمة (خطأ) أمام العبارة غير الصحيحة:

- ١ يساعد الاهتمام بالتراث الثقافي على زيادة عدد السائحين في مصر. ()
- ٢ السلطة القضائية هي المسؤولة عن وضع القوانين في الدولة. ()
- ٣ دخلت السيارات إلى مصر في عهد الخديو إسماعيل. ()

ب حدد المقصود بكل عبارة مما يلي:

- ١ أحد ملوك الأسرة الرابعة وتولى الحكم بعد الملك سنفرو. (.....)
- ٢ الجهاز المسئول عن إجراء التعدادات السكانية في مصر كل عشر سنوات. (.....)

السؤال الرابع أ) صوب ما تحته خط فيما يلي:

- كتب المصريون القدماء على الورق المصنوع من الكتان. (.....)

ب ما النتائج المترتبة على...؟

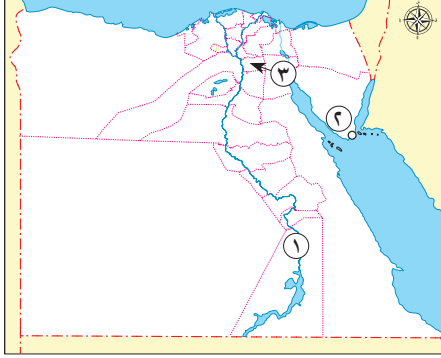
- ١ اعتقاد المصريين القدماء في البعث والخلود
- ٢ انخفاض تكلفة النقل المائي مقارنةً بوسائل النقل الأخرى
- ٣ إنشاء الدولة موقع بوابة مصر الرقمية



نموذج الامتحان الثامن

السؤال الأول

أ لاحظ خريطة مصر المقابلة، ثم اكتب مدلول الأرقام التي عليها:



- ١ محافظة تعرضت بعض آثارها للغرق
- ٢ اختارتها اليونسكو أفضل مدينة سلام على مستوى العالم
- ٣ أكبر المدن التراثية في العالم

ب بم تفسر...؟

- ١ أهمية سباقات الهجن.
- ٢ إقبال السياح على زيارة مدينة دهب.

السؤال الثاني

أ اكتب كلمة (صواب) أمام العبارة الصحيحة، وكلمة (خطأ) أمام العبارة غير الصحيحة:

- ١ أسس بنك القاهرة أول شركة طيران في مصر. ()
- ٢ يجب اتباع قواعد النظافة والأمان عند زيارة المناطق الأثرية. ()

ب ما المقصود بكل مما يلي...؟

- ١ الساعة السكانية
- ٢ الأمية الهجائية

السؤال الثالث

أ أكمل العبارات التالية بما يناسبها من كلمات:

- ١ النشاط الاقتصادي الذي يُعد المصدر الأول للعملات الأجنبية في مصر هو
- ٢ ينقسم النقل المائي إلى نقل بحري ونقل
- ٣ بُني الهرم الأكبر في عهد الملك

ب ما العلاقة بين...؟

- ١ مجلس الشيوخ - السلطة التشريعية
- ٢ الفيضان - موقع الأهرامات

السؤال الرابع

أ اختر الإجابة الصحيحة مما بين القوسين:

- تم مد أول خط هاتفي في مصر بين القاهرة و.....
(الجيزة - المنوفية - الإسكندرية - الدقهلية)

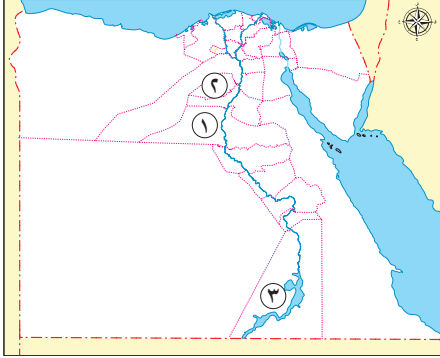
ب أجب عما يلي:

- ١ وضح جهود الدولة لتنظيم حركة المرور
- ٢ حدد عيوب النقل الجوي
- ٣ قارن بين الحكومة ومجلس النواب من حيث مهام كل منهما.



نموذج الامتحان التاسع

السؤال الأول أ) لاحظ خريطة مصر المقابلة، ثم اكتب مدلول الأرقام التي عليها:



- ① محافظة ترتفع بها نسبة الأمية
- ② محافظة بها منطقة تراث طبيعي
- ③ محافظة يوجد بها متحف للتراث النوبي

ب ما النتائج المترتبة على ...؟

- ① هجرة سكان الريف إلى المدن.
- ② تعدد الآثار والمباني التاريخية في مدينة القاهرة.

السؤال الثاني أ) اكتب كلمة (صواب) أمام العبارة الصحيحة، وكلمة (خطأ) أمام العبارة غير الصحيحة:

- ① جميع سكان مصريتحدثون نفس اللهجة ويتبعون نفس التقاليد. ()
- ② تم بناء جامع عمرو بن العاص في عهد الخليفة عمر بن الخطاب (رضي الله عنه). ()

ب أجب عما يلي:

- ① اشرح دور منظمة اليونسكو في الحفاظ على التراث الثقافي في مصر.
- ② حدد استخدامات الدواب عند المصريين القدماء.

السؤال الثالث أ) اختر الإجابة الصحيحة مما بين القوسين:

- ① قيامك بزيارة المتاحف تُعد سياحة
(علاجية - ثقافية - مؤتمرات - ترفيهية)
- ② إحدى أقدم محاولات الطيران قام بها
(جابر بن حيان - الحسن بن الهيثم - عباس بن فرناس - ابن سينا)
- ③ مدينة تشتهر بوجود الشعاب المرجانية الملونة والجبال الشاهقة
(مرسى مطروح - القاهرة - شرم الشيخ - الجيزة)

ب بم تفسر أهمية كل من ...؟

- ① مشروع مترو الأنفاق في مصر.
- ② علامات المرور الضوئية.

السؤال الرابع أ) أكمل العبارة التالية بما يناسبها:

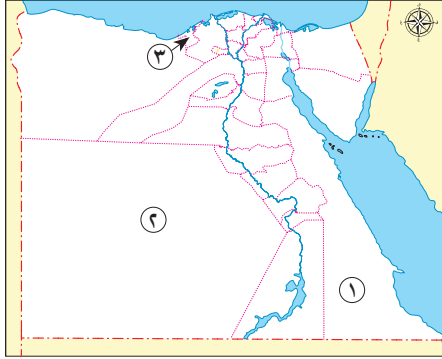
يُعد الدخان من وسائل التواصل التي استخدمها الإنسان في عصور.....

ب أجب عما يلي:

- ① وضع: يُعد بناء الهرم الأكبر نقلة حضارية في تاريخ مصر.
- ② دليل: اهتمام الملكة حتشبسوت بمجال العمارة.
- ③ ماذا يحدث إذا انخفض معدل الإنجاب في الريف المصري؟

نموذج الامتحان العاشر

السؤال الأول أ لاحظ خريطة مصر المقابلة، ثم اكتب مدلول الأرقام التي عليها:



- ١ الصحراء
٢ محافظة
٣ مدينة

ب ما المقصود ب...؟

- ١ التعداد السكاني .
٢ عصور ما قبل التاريخ .

السؤال الثاني أ اختر الإجابة الصحيحة مما بين القوسين:

- ١ ثاني أعلى محافظات مصر من حيث الأمية محافظة
(المنيا - البحر الأحمر - بني سويف - القاهرة)
٢ دير سانت كاترين يقع في محافظة
(شمال سيناء - جنوب سيناء - البحر الأحمر - الوادي الجديد)

ب أجب عما يلي:

- ١ صوّب: يشتهر أهل الصعيد بالعزف على آلة السسمية.
(.....)
٢ فسّر سبب تنوع التراث الثقافي في مصر.

السؤال الثالث أ اكتب كلمة (صواب) أمام العبارة الصحيحة، وكلمة (خطأ) أمام العبارة غير الصحيحة:

- ١ تُعد البطالة إحدى المشكلات الاجتماعية التي تُعيق خطط التنمية في مصر. ()
٢ منصب رؤساء الإدارات في مصر قديمًا يقابله منصب المحافظ حاليًا. ()
٣ تعاني منطقة أبو سميل من خطر تآكل التربة. ()

ب حدد المختلف فيما يلي مع ذكر السبب:

- ١ ذهب - شرم الشيخ - مرسى مطروح - الغردقة
٢ محمية رأس محمد - الأهرامات وأبو الهول - محمية الغابة المتحجرة - الصحراء البيضاء

السؤال الرابع أ أكمل العبارة التالية بما يناسبها:

- قامت الدولة بتطوير مسار العائلة المقدسة في حي

ب أجب عما يلي :

- ١ دلل على وجود مطارات دولية في مصر
٢ اكتب اثنين من آداب استخدام وسائل النقل
٣ حدد أوجه التشابه والاختلاف بين دير سانت كاترين - منطقة أبو مينا



إجابة الامتحان الثاني

السؤال الأول:

- ١ ا محافظة البحر الأحمر.
٢ خطأ. ٣ سيوة.
ب ١ دعم السياحة للاقتصاد المصري - توفير العملات الأجنبية - توفير فرص عمل للشباب.
٢ تقليل زمن انتظار السفن خارج الميناء - زيادة كمية البضائع المتداولة - زيادة مساحات التخزين داخل الميناء مما يساعد على تنشيط حركة التجارة.

السؤال الثاني:

- ١ ا صواب. ٢ خطأ.
ب ١ لتكون بعيدة عن الفيضان.
٢ استخدمها المصريون القدماء في أغراض عديدة، مثل السفر والصيد.

السؤال الثالث:

- ١ ا السويس. ٢ رئاسة الجمهورية.
٣ بونت.
ب ١ ساهمت اليونسكو في إنقاذ آثار النوبة مثل معبدي أبو سمبل ومعبد إيزيس ونقلهم إلى موقعهم الحالي بعد تعرضهم للغرق بعد بناء السد العالي.
٢ حيث أرسل الملك خوفو بعثات إلى مناجم سيناء بهدف الحصول على الفيروز والنحاس، وقد ترك اسمه منقوشاً في هذه المناجم.

السؤال الرابع:

- ١ ا الهجائية.
ب ١ تؤدي الأمية إلى التقليل من فرص الحصول على عمل؛ ممّا يؤدي إلى انتشار البطالة والفقر.
٢ نتج عن الثورة الصناعية اختراع الماكينات وتطور صناعة وسائل النقل التي منها السيارات التي تعمل بالبخار.
٣ تساعد قائمة التراث العالمي لليونسكو على زيادة معرفة المواطنين بالمواقع التراثية، كما تشجّع الشعوب على زيارة هذه المواقع ممّا يساعد في زيادة الدخل القومي للدول.

إجابة الامتحان الثالث

السؤال الأول:

- ١ ا خطأ. ٢ جنوب سيناء. ٣ الربابة.
ب ١ التراث الطبيعي: المواقع الطبيعية الجميلة ذات القيمة العالمية والتي لم يتدخل الإنسان في صنعها أو التأثير عليها.
التراث الثقافي: كل ما تركه لنا الأجداد من أماكن تاريخية وأثرية وفنون شعبية وصناعات حرفية وقيم وتقاليد اجتماعية.

نماذج الإجابات الاسترشادية

إجابة الامتحان الأول

السؤال الأول:

- ١ ا الإسكندرية. ٢ أسوان. ٣ خطأ.
ب ١ لأنها عاصمة البلاد.
٢ بسبب بناء السد العالي.

السؤال الثاني:

- ١ ا حصن بابليون. ٢ النقل المائي.
ب ١ تؤدي الأمية إلى انتشار الجهل والخرافات بين الناس، وتقلل من فرص الحصول على عمل، ممّا يؤدي إلى انتشار البطالة والفقر. كما تؤثر سلباً في برامج التنمية المستدامة في المجتمعات وتؤدي إلى تدني اقتصادها القومي.
٢ يقلل من الحوادث ويحافظ على أرواح الناس.

السؤال الثالث:

- ١ ا الوزراء. ٢ الجزيرة.
٣ بوابة مصر الرقمية.
ب ١ مهام رئيس الجمهورية: مسئول عن أمن الوطن - يمثل مصر محلياً ودولياً - رعاية مصالح الشعب.
مهام المحافظ: مسئول عن إدارة شؤون المحافظة - حفظ الأمن والنظام فيها - يشرف على تنفيذ المشروعات التنموية في المحافظة - يوفر فرص عمل لأبناء المحافظة - متابعة جودة المرافق والخدمات العامة في المحافظة.
٢ مشروع مترو الأنفاق: يربط بين القاهرة والجزيرة وشبرا الخيمة.
مشروع القطار الكهربائي السريع: يربط بين مدينة العين السخنة ومدينة العلمين الجديدة مروراً بالعاصمة الإدارية الجديدة.

السؤال الرابع:

- ١ ا المتخصصين.
ب ١ تبذل الدولة جهوداً لاستقرار البدو وتحسين مستوى معيشتهم من خلال بناء المساكن، وتوفير فرص العمل في مجالي الزراعة والتعدين.
٢ من خلال إنشاء وتطوير المنشآت السياحية، مثل: القرى السياحية، والفنادق - صيانة المناطق الأثرية وترميمها - تطوير وسائل النقل والمواصلات - استخدام الأساليب التكنولوجية في التسويق السياحي.
٣ إصدار قانون المرور - وضع كاميرات على الطرق ومُلصقات إلكترونية جديدة على كل سيارة وذلك لمعرفة مدى الالتزام بقواعد المرور وحصر أماكن الكثافات المرورية والتعامل معها.

② سرعة الحصول على المعلومات والتواصل مع الزملاء والمعلمين لمناقشة الموضوعات العلمية والدراسية والبحث عن فرص عمل مناسبة، والعمل عن بُعد في مجالات متعددة، مثل التسويق الإلكتروني وغيره من الوظائف والترفيه والتسلية.

السؤال الرابع:

- ١ البخار.
- ٢ حيث يتم انتخاب ٩٥٪ من النواب، وباقي الأعضاء يختارهم رئيس الجمهورية.
- ٣ الالتزام بعلامات المرور يقلل من حوادث الطريق.
- ٤ أجب بنفسك.

إجابة الامتحان الخامس

السؤال الأول:

- ١ مكتبة الإسكندرية.
- ٢ خطأ.
- ٣ مطروح.
- ٤ حيث تنخفض نسبة الأمية بين سكان الحضر بسبب انتشار المدارس وارتفاع مستوى المعيشة، بينما ترتفع نسبة الأمية بين سكان الريف.
- ٥ حيث جاء تصميم برج القاهرة على شكل زهرة اللوتس المصرية التي تُعد رمزاً من رموز الحضارة المصرية القديمة.

السؤال الثاني:

- ١ قنا.
- ٢ قنا.
- ٣ الأحمر.
- ٤ تُعد شركة مصر للطيران إحدى المؤسسات التابعة لبنك مصر.
- ٥ أجب بنفسك.

السؤال الثالث:

- ١ صواب.
- ٢ خطأ.
- ٣ خطأ.
- ٤ كان الملك يُعين حاكمًا لكل إقليم، ومن مهامه الاهتمام بشئون الإقليم والمحافظة على أمنه والإشراف على تنفيذ المشروعات في الإقليم.
- ٥ تعرضت الآثار الموجودة في المنطقة لخطر الغرق.

السؤال الرابع:

- ١ سيناء.
- ٢ بسبب ارتفاع عدد الموالي.
- ٣ ربط العديد من المدن المصرية ببعضها بالإضافة لربطها بمترو الأنفاق.
- ٤ لما له من تأثير سلبي على الأثر.

② عادات وتقاليد بدو سيناء: إكرام الضيف وارتداء السكّان الزي التقليدي أثناء الاحتفال بالمناسبات الاجتماعية مثل الاحتفال بعودة المسافر والزواج وغيرها، وحفلات السامر التي تتضمن الرقص والغناء.

عادات وتقاليد بدو سيوة: ارتداء السكّان الملابس المحلية أثناء الاحتفال بعيد حصاد التمور والزيتون، وترديد الأغاني التراثية وإقامة موائد الطعام لكل سكان الواحة.

السؤال الثاني:

- ١ الأهرامات.
- ٢ المؤتمرات والمهرجانات.
- ٣ لإرسال الإشارات إلى الآخرين بهدف تحذيرهم من خطر ما، أو الإعلان عن مكان ذلك الخطر.
- ٤ تحديد الخدمات التي يحتاجها السكّان في الحاضر والمستقبل.

السؤال الثالث:

- ١ الحكومة.
- ٢ برج العرب.
- ٣ الجوي.
- ٤ أجب بنفسك.
- ٥ أنشأت الدولة متحف السيرة الهلالية في محافظة قنا.

السؤال الرابع:

- ١ المنع.
- ٢ يساعد تنوع أنماط سكان مصرفي تحقيق التكامل بين السكان وتبادل المنتجات، والتنمية في جميع المجالات الاقتصادية.
- ٣ وجود السياحة العلاجية في مصر.
- ٤ التأثير السلبي على الدراسة - التباعد بين أفراد الأسرة - إهمال ممارسة الهوايات المفيدة.

إجابة الامتحان الرابع

السؤال الأول:

- ١ خطأ.
- ٢ الوادي الجديد.
- ٣ الفيوم.
- ٤ حيث يوجد على حائط معبد الكرنك في محافظة الأقصر لوحة منقوشة تمثل الإله حورس وهو يُعلم الملك أمنحتب الثالث التحطيب.
- ٥ تُستخدم في نقل الركاب والبضائع.

السؤال الثاني:

- ١ صواب.
- ٢ خطأ.
- ٣ العودة إلى الحياة مرة أخرى بعد الموت وعيش حياة أبدية لا موت بعدها.

٤ علامات الاتجاه الإلزامي الذي يجب أن تسير فيه السيارة أو الطريق الإجباري لسير المشاة أو الدراجات أو الحيوانات.

السؤال الثالث:

- ١ عباس بن فرناس.
- ٢ القاهرة التاريخية.
- ٣ الصين.
- ٤ أجب بنفسك.



إجابة الامتحان السادس

السؤال الأول:

- ١ أ سيوة. ٢ السويس. ٣ المتوسط.
- ب لأنها بُنيت على الأبراج الجنوبية من حصن بابليون وترتفع
عدّة أمتار عن سطح الأرض.
- ٢ لتوعية كلّ دول وشعوب العالم بضرورة حماية التراث الطبيعي
والثقافي.

السؤال الثاني:

- ١ أ خطأ. ٢ صواب.
- ب هي خطوط مرسومة على الأرض توضح مسار تحرك السيارة
على الطريق، مثل الخط الأصفر المتصل الذي يفصل حركة مرور
السيارات في الاتجاهين المتضادين.
- ٢ عادت محمّلة إلى مصر بكمّيات كبيرة من الأخشاب والبخور
والأبنوس والعاج والجلود والأحجار الكريمة وأعداد
كبيرة من الحيوانات المفترسة.

السؤال الثالث:

- ١ أ الذكور. ٢ الهكسوس. ٣ خفرع.
- ب ١ أن يضمّن مناطق طبيعية فائقة الجمال لا مثيل لها، أو يعكس
مراحل مهمة من التطور عبر العصور، وأن يمثّل نموذجًا للإبداع
البشري.
- ٢ أجب بنفسك.

السؤال الرابع:

- ١ حياة كريمة.
- ب ١ كانت هناك بعض المحاولات للطيران، مثل محاولة
«عباس بن فرناس» الذي استخدم جناحين للطيران تقليدًا
لحركة الطيور حتى نجح الأخوان رايت في الطيران الحقيقي.
- ٢ حيث تعمل على توفير الخدمات الإلكترونية للمواطنين مثل
استخراج الأوراق الرسمية كشهادة الميلاد والرقم القومي
وجواز السفر من خلال موقع بوابة مصر الرقمية، وأيضًا
مكافحة الجرائم الإلكترونية من خلال وزارة الداخلية.
- ٣ حيث استضافت مصر الكثير من المؤتمرات العالمية، مثل
مؤتمر النقل الذكي للشرق الأوسط وإفريقيا، ومؤتمر المناخ
في مدينة شرم الشيخ. كما تُقام عدّة مهرجانات مثل مهرجان
الإسماعيلية للفنون الشعبية ومهرجان الموسيقى العربية.

إجابة الامتحان السابع

السؤال الأول:

- ١ أ الأحمر. ٢ الإسكندرية. ٣ السويس.
- ب ١ تعاون رئيس الجمهورية في إدارة شئون الدولة - تشترك مع
رئيس الجمهورية في وضع الخطة العامة للدولة والإشراف
على تنفيذها - إعداد الموازنة العامة للدولة.
- ٢ وذلك بتشييد المدارس والمستشفيات، وإقامة العديد من
المشروعات.

السؤال الثاني:

- ١ أ اليونسكو. ٢ السياحة.
- ب ١ حيث أسس المصريون القدماء دولة قوية لها نظام حكم ثابت
حقّق القوة والرخاء لمصر، وكان على رأس نظام الحكم الملك
وكان يعاونه في إدارة شئون البلاد الوزير وكان يعاون الوزير عدد
من كبار الموظفين هم رؤساء الإدارات.
- ٢ حيث تحرص على ترشيد استهلاك الطاقة والمياه في
المنشآت السياحية والتعامل الآمن مع المخلفات
والاعتماد على الطاقة النظيفة، والمشاركة في مبادرات
دولية لحماية الشّعب المرجانية والحياة البحرية.

السؤال الثالث:

- ١ أ صواب. ٢ خطأ. ٣ خطأ.
- ب ١ خوفو. ٢ الجهاز المركزي للتعبئة العامة والإحصاء.

السؤال الرابع:

- ١ أ البردي.
- ب ١ بنى المصريون القدماء الأهرامات الثلاثة «خوفو - خفرع
- منكاورع»، وكان يتمّ دفن الملك وكلّ الأشياء التي سوف
يحتاج إليها بعد البعث في حجرة داخل الهرم.
- ٢ يُستخدم في نقل البضائع كبيرة الحجم وثقيلة الوزن.
- ٣ أجب بنفسك.

إجابة الامتحان الثامن

السؤال الأول:

- ١ أ أسوان. ٢ شرم الشيخ. ٣ القاهرة.
- ب ١ تُسهّم في تنشيط السياحة حيث يحضرها العديد من الوفود
العربية للمشاركة في السباق.
- ٢ للتمتّع بالمناظر الخلّابة والشّعب المرجانية في البحر الأحمر.

السؤال الثاني:

- ١ أ خطأ. ٢ صواب.
- ب ١ شاشة توجد أعلى مبنى الجهاز المركزي للتعبئة العامة والإحصاء
تظهر تقديرات أعداد السكان.
- ٢ تعني عدم قدرة الفرد على القراءة أو الكتابة.

السؤال الثالث:

- ١ أ السياحة. ٢ نهري. ٣ خوفو.
- ب ١ يعد جزءًا من السلطة التشريعية، ويُؤخذ رأيه في معاهدات
الصلح ومشروعات القوانين والاقترحات الخاصّة بتعديل موادّ
الدستور.

- ١ ٢ عملية حصر شامل للسكان لتحديد الخدمات التي يحتاجها السكان في الحاضر والمستقبل.
٢ عصور ما قبل معرفة المصري القديم للكتابة.

السؤال الثاني:

- ١ ٢ بني سويف. ٢ جنوب سيناء.
١ ٢ الريابة.
٢ لأن كل منطقة في مصر لديها تراث ثقافي مختلف مثل سكان سيوة، وكذلك أهل النوبة وسكان مدن القناة وصعيد مصر.

السؤال الثالث:

- ١ ٢ صواب. ٢ خطأ. ٣ خطأ.
١ ٢ مرسى مطروح، لأنها تطل على البحر المتوسط، بينما باقي المدن تطل على البحر الأحمر.
٢ الأهرامات وأبو الهول تُعد تراثاً ثقافياً، بينما باقي المواقع تمثل تراثاً طبيعياً.

السؤال الرابع:

- ١ ٢ المطرية.
١ ٢ مطار القاهرة الدولي، ومطار برج العرب في الإسكندرية، ومطار أسوان.
٢ عدم استخدام المقاعد المخصصة لكبار السن أو المرضى أو النساء الحوامل وذوي الاحتياجات الخاصة وعدم جلوس الأطفال في المقاعد الأمامية للسيارة أو إخراج أجسادهم من النوافذ، وعدم الكتابة على وسائل النقل، وعدم إلقاء الحجارة على القطارات أثناء سيرها.
٣ **التشابه:** كلاهما من المواقع المصرية المدرجة على قائمة التراث العالمي لليونسكو.
الاختلاف: يقع دير سانت كاترين في محافظة جنوب سيناء، بينما تقع منطقة أبو مينا في محافظة الإسكندرية.

- ٢ بنيت الأهرامات على هضبة مرتفعة غرب نهر النيل لتكون بعيدة عن الفيضان.

السؤال الرابع:

- ١ ٢ الإسكندرية.
١ ٢ إصدار قانون المرور ووضع كاميرات على الطرق ومُلصقات إلكترونية جديدة على كل سيارة، لمعرفة مدى الالتزام بقواعد المرور وحصر أماكن الكثافات المرورية والتعامل معها.
٢ تكلفة استخدامه مرتفعة مقارنة بالوسائل الأخرى.
٣ أجب بنفسك.

إجابة الامتحان التاسع

السؤال الأول:

- ١ ٢ المنيا. ٢ الفيوم. ٣ أسوان.
١ ٢ ظهور العشوائيات وزيادة الضغط على الخدمات في المدن.
٢ أصبحت من أهم وأكبر المدن التراثية في العالم.

السؤال الثاني:

- ١ ٢ خطأ. ٢ صواب.
١ ٢ تعاونت اليونسكو مع مصر لإنقاذ آثار معبد أبي سمبل، وكذلك إحياء مكتبة الإسكندرية وإنشاء المتحف القومي للحضارة المصرية في القاهرة وغيرها من الأماكن الأثرية.
٢ استخدمها المصريون القدماء في التنقل وحمل الأشياء.

السؤال الثالث:

- ١ ٢ ثقافية. ٢ عباس بن فرناس.
٣ شرم الشيخ.
١ ٢ يربط بين ثلاث مدن مصرية هي (القاهرة والجيزة وشبرا الخيمة في القليوبية).
٢ تساعد في تنظيم حركة مرور السيارات، وتنظيم عبور المشاة.

السؤال الرابع:

- ١ ٢ ما قبل التاريخ.
١ ٢ لما يمتاز به من إتقان في هندسته ودقة في تخطيطه.
٢ إنشاء معبد حتشبسوت الذي اشتهر بمعبد الدير البحري في الأقصر.
٣ أجب بنفسك.

إجابة الامتحان العاشر

السؤال الأول:

- ١ ٢ الشرقية. ٢ الوادي الجديد. ٣ الإسكندرية.



الدراسات الاجتماعية

الصف الرابع الابتدائي
الفصل الدراسي الثاني

4
2025

دلوقتي من خلال الـ [QR] كود تقدر تتصور مع شخصيات سلاح التلميذ لَمَّا تختار رمز الكاميرا وكمان ممكن تنزل التطبيق وتستمع بتجربة تعليمية فريدة.



حمّل تطبيق
سلاح التلميذ



شرح مبسط لدروس المنهج باستخدام الخرائط والصور والمخططات.

ملخص للمراجعة في نهاية كل درس.

تدريبات وأنشطة الكتاب المدرسي المقرر وإجاباتها النموذجية.

تدريبات سلاح التلميذ وتدريبات من امتحانات المحافظات على كل درس.

بنك أسئلة على كل وحدة.

اختبارات تراكمية بعد كل درس ووحدة.

المهام الأدائية.

أطلس الخرائط والأشكال.

مراجعة ليلة الامتحان على شكل سؤال وجواب.

مجموعة مختارة من اختبارات الإدارات التعليمية للمحافظات المختلفة.

ملحق داخلي للإجابات النموذجية.



أصدر هذه السلسلة منذ عام ١٩٦٠
الأساتذة: حمدي مصطفى



selaheltalmeez
010 20 400 700



ملحق الاختبارات النهائية الإضافية وإجاباتها
طبقاً لأحدث مواصفة للورقة الامتحانية